

**ECONOMICS STATISTICS**  
**(DAECO31)**  
**(BA - ECONOMICS III)**



**ACHARYA NAGARJUNA UNIVERSITY**

**CENTRE FOR DISTANCE EDUCATION**

**NAGARJUNA NAGAR,**

**GUNTUR**

**ANDHRA PRADESH**

## విషయసూచిక

పాఠం పేరు	పేజీ నెం.
1. గణాంకశాస్త్ర నిర్వచనాలు, పరిధి	1 - 14
2. గణాంక విచారణ - యోజన - దత్తాంశ సేకరణ - ఎడిటింగ్, యదార్థత, సమానీకరణ	1 - 34
3. వర్గీకరణ - శ్రేణీకరణ	1 - 13
4. పట్టికరణ - పానఃపున్య పట్టి	1 - 17
5. చిత్రపటాల ద్వారా దత్తాంశ సమర్పణ	1 - 26
6. రేఖాపటాలు	1 - 33
7. కేంద్రస్థానపు కొలతలు	1 - 96
8. విస్తరణమానాలు	1 - 58
9. వైషమ్యము - కుకుదత్వము	1 - 25
10. సహసంబంధము	1 - 27
11. ప్రతిగమనం	1 - 23
12. సూచీసంఖ్యలు	1 - 40
13. కాలశ్రేణుల విశ్లేషణ	1 - 30
14. జాతీయాదాయ గణాంకాలు - జనాభా గణాంకాలు - వ్యవసాయగణాంకాలు	1 - 57
15. పారిశ్రామిక గణాంకాలు, ధరల గణాంకాలు	1 - 33
16. కేంద్ర గణాంక వ్యవస్థ, నేషనల్ శాంపిల్ సర్వే వ్యవస్థ, ఇండియన్ స్టాటిస్టికల్ ఇనిస్టిట్యూట్	1 - 7

**పాఠ్యం శ క్రమం**

- 1.0 అక్ష్యాలు
- 1.1 విషయ పరిచయం
- 1.2 గణాంక శాస్త్రార్థం
- 1.3 గణాంక శాస్త్ర నిర్వచనాలు
- 1.4 గణాంకశాస్త్ర లక్షణాలు
- 1.5 గణాంకశాస్త్ర విధులు
- 1.6 గణాంకశాస్త్ర ప్రాముఖ్యత - ఇతర శాస్త్రాలతో సంబంధం
- 1.7 గణాంకశాస్త్ర పరిమితులు
- 1.8 ఆర్థిక కార్యకలాపాలు కొలవటంలో గణాంకశాస్త్ర పాత్ర
- 1.9 సారాంశం
- 1.10 ముఖ్య పదాలు
- 1.11 నమూనా ప్రశ్నలు
- 1.12 చదువదగిన గ్రంథాలు

**1.0 అక్ష్యాలు**

ఈ విభాగంలో ఆర్థిక గణాంక శాస్త్ర నిర్వచనాలు, పరిధి, ప్రాధాన్యతలు వివరించడం జరిగింది. ఈ భాగాన్ని పూర్తిగా చదివేసరికి ఈ క్రింది పాఠ్యాంశాలను అవగాహన చేసుకొనవచ్చు.

- \* ఆర్థిక గణాంక శాస్త్ర పరిచయం
- \* గణాంకశాస్త్ర నిర్వచనాలు, పరిధి
- \* ఆర్థిక గణాంక శాస్త్రానికి ఇతర శాస్త్రాలతో గల సంబంధం
- \* గణాంకశాస్త్ర పరిమితులు

**1.1 విషయ పరిచయం**

చాలా కాలము వరకు గణాంక శాస్త్ర ఉపయోగం, ఆ శాస్త్ర అవసరం కేవలం రాజులకు, ప్రభుత్వాలకు, ప్రజా సమస్యలకు సంబంధించిన పరిశీలనకు మాత్రమే పరిమితము అయి వుండేది. కాలక్రమేణా దీని ప్రాధాన్యత పెరుగుతూ వచ్చింది. గణాంక శాస్త్ర ప్రాధాన్యతను క్రీస్తు జననాన్ని పరిశీలిస్తే మనకు తెలుస్తుంది. మేరి మాతా, జోసెఫ్ లు తమను జనాభా సంఖ్యలో నమోదు చేసుకోవడం

కోసం జరూసలెంకు వచ్చుట ద్వారా క్రీస్తు జన్మించినట్లు మనకు తెలుస్తున్నది. యుద్ధాల లేదా శాంతి సమయములలో తమ తమ రాజ్యాలలో ఆహార ధాన్యాలు, సైన్య సమీకరణ ఏ విధంగా వుండాలి తెలుసుకొనేందుకు రాజులు గణాంకాలపై ఆధారపడేవారు. అయితే కాలక్రమేణా మానవుని దైనందిన వ్యవహారాలలో కూడా ఈ గణాంక శాస్త్రం చోటు చేసుకుంటున్నది.

## 1.2 గణాంక శాస్త్రార్థం

గణాంక శాస్త్రాన్ని ఆంగ్లంలో Statistics అని పిలుస్తారు. ఈ పదం స్టాటిస్ (Statis) లేదా స్టాటస్ (Status) అనే లాటిన్ పదము నుంచి, స్టాటో (Stato) లేదా స్టాటిస్టా (Statisto) అనే ఇటాలియన్ పదం నుంచి, స్టాటిస్టిక్ (Stastic) అనే జర్మన్ పదం నుంచి ఉద్భవించిందిని భావించటం జరుగుతుంది. ఈ పదాలన్నిటి అర్థం 'రాజ్యం' లేదా 'రాష్ట్రం'. రాజులు తమ రాజ్య పరిపాలన కోసం ఈ శాస్త్రాన్ని ఉపయోగించేవారు. ఈ శాస్త్రాన్ని మొట్టమొదట రాజులే అధికంగా ఉపయోగించేవారు కాబట్టి దీనిని రాజుల శాస్త్రముగా కూడా పరిగణించేవారు. కాలక్రమేణా గణాంక శాస్త్రాన్ని లేదా గణాంక పద్ధతులను అన్ని రంగాలలోను శాఖలలోను ఉపయోగిస్తున్నారు.

గణాంక శాస్త్రానికి మూడు మూలాలు వున్నట్లుగా చెప్పవచ్చు. అవి : 1. ప్రభుత్వ రికార్డులు 2. గణిత శాస్త్రం 3. రాజకీయ శాస్త్రం. ఆధునిక కాలములో గణాంక శాస్త్ర అభివృద్ధికి ప్రధానంగా రెండు కారకాలు చెప్పవచ్చు. ఎ. గణాంకాలకు డిమాండు, బి. గణాంకాల సేకరణకు అయ్యే వ్యయం తగ్గడం. ఈ రెంటిని గూర్చి క్లుప్తంగా తెలుసుకుందాం.

- ఎ. గణాంక శాస్త్రానికి డిమాండు పెరగడం : ఆధునిక కాలములో వర్తక, వాణిజ్య, పారిశ్రామిక, సాంకేతిక, రాజకీయ రంగాలలో జరిగే అనేక రకాల మార్పులు వస్తున్నాయి. వీటిని కొలిచేటందుకు సాధనంగా గణాంక శాస్త్రాన్ని ఉపయోగించటం జరుగుతుంది. అందుచేత గణాంక శాస్త్ర పరిశోధకుల, విశ్లేషకులకు ఆవశ్యకత పెరిగింది. ఫలితంగా గణాంక శాస్త్రం యొక్క డిమాండు కూడా విస్తరించటం జరిగింది.
- బి. గణాంకాల సేకరణకు అయ్యే వ్యయం తగ్గడం : ఆధునిక కాలములో గణాంకాల సేకరణ వ్యయం తగ్గుతోంది. ప్రతీచయన పద్ధతులను అవలంబించటం, గణన యంత్రాలు, కంప్యూటర్ల వాడుక పెరగడం, గణాంకాల సేకరణ విశ్లేషణ, వివరణలు త్వరితంగా చేసే పద్ధతులు అనే కారణాల వల్ల అతి తక్కువ వ్యయంతో, తక్కువ కాల వ్యవధిలో గణాంక సేకరణ చేసే వీలు అయ్యింది. అందుచేత వివిధ రంగాల్లోని సమస్యల పరిష్కారానికి గణాంక శాస్త్రాన్ని అధికంగా ఉపయోగించటం జరుగుతోంది.

గణాంక శాస్త్రార్థము గమనిస్తే క్రమక్రమంగా మరింత విస్తృతిని పొందింది. రాజ్యాంగ నిర్వహణ కోసమే కాక, ఏ విషయ సంబంధంగా దత్తాంశ సేకరణను నిర్వహించినా, గణాంక శాస్త్ర పరిధిలోకి అది చేరుతుంది.

ఈనాడు గణాంక శాస్త్రము అనే పదము రెండు అర్థాలతో ఉపయోగంలో వుంది. ఏకవచన ప్రయోగంలో దీని అర్థం గణాంక పద్ధతి లేదా పద్ధతుల సముదాయం. బహువచనంగా దీని అర్థము గణాంకాలతో కూడిన సంఖ్య దత్తాంశము (Numerical data). ఏకవచనంగా ప్రయోగించినప్పుడు స్టాటిస్టిక్స్ అంటే పరిమాణాత్మక దత్తాంశ సేకరణ, వర్గీకరణ, సమర్పణ, విశ్లేషణ, వివరణ విపులీకరణ అని అర్థము. గణాంక పద్ధతుల పరిధి చాలా విశాలమైనది. ఇది గణాంకాలను సేకరించి అందరికీ సులభంగా బోధపడేటట్లు గణాంకాలను సూక్ష్మీకరిస్తుంది.

బహువచన ప్రయోగంలో స్టాటిస్టిక్స్ అంటే సంఖ్య దత్తాంశమని అర్థము. సాధారణంగా ఎవరు ఏ విషయాన్ని వర్ణించడానికైనా గణాంకాలను ఉపయోగిస్తారు. ఉదాహరణకు ఆంధ్రప్రదేశ్ లో 1995వ సంవత్సరంలో 50,000 మోటారు ప్రమాదాలు సంభవించాయనుకొందాము. ఈ సంఖ్యలే గణాంకాలు. ఈ విధంగా గణాంకాలంటే ఒక విషయం మీద సేకరించిన అంకెల వర్ణన.

పైన చెప్పిన ఉదాహరణలో స్టాటిస్టిక్స్ అన్న పదాన్ని బహువచన ప్రయోగంలో ఉపయోగించినాము. కేవలం అంకెలు గణాంకాలు కావు. గణాంకాలు ఏదో ఒక విషయాన్ని వివరించవలె, గణాంకశాస్త్రాన్ని అధ్యయనం చేసేటప్పుడు స్టాటిస్టిక్స్ అనే పదాన్ని రెండు అర్థాలలోను ఉపయోగిస్తాము.

### 1.3 గణాంకశాస్త్ర నిర్వచనాలు

ప్రతి శాస్త్రానికి ఒక నిర్వచనం అవసరం. అట్లా నిర్వచనం ఇవ్వడం వల్ల ఆ శాస్త్ర సరిహద్దులు స్పష్టమవుతాయి, పరిధిని అర్థం చేసుకోవచ్చు. అన్ని శాస్త్రాలకు వలె గణాంక శాస్త్రానికి కూడా గ్రంథకర్తలు వివిధ సమయాలలో అనేక నిర్వచనాలివ్వడం జరిగింది. కొంత మంది ఏకవచన ప్రయోగంలో గణాంక శాస్త్రమంటే “గణాంక పద్ధతుల శాస్త్రంగా” నిర్వచించగా మరికొంత మంది బహువచన ప్రయోగంలో గణాంక దత్తాంశంగా నిర్వచించారు. దాదాపు వందకు పైగా నిర్వచనాలున్నప్పటికీని వాటిలో కొన్ని ముఖ్య నిర్వచనాలను పరిశీలిద్దాం.

#### 1.3.1 సంఖ్యా దత్తాంశం అర్థంలో నిర్వచనాలు :

ఎ) ఎ.ఎల్. బౌలీ (Bowley) : బౌలీ అనే శాస్త్రవేత్త “ఏ విచారణలోనైనా ఒకదానికొకటి పరస్పరం సంబంధం కలిగి వుండునట్లు సంఖ్యాత్మకంగా చెప్పబడిన యదాద్ధాలే గణాంకాలని” నిర్వచించడం జరిగింది.

వీరి అభిప్రాయంలో విచారణలో గల అన్ని అంశాలు సంఖ్యాత్మకంగా ఒకదానికొకటి సంబంధం కలిగి ఉండాలి. అన్ని గణాంకాలు సంఖ్యాత్మక విషయాలే. కాని సంఖ్యాత్మక విషయాలన్ని గణాంకాలు కావు. ఈ నిర్వచనం ప్రకారం దత్తాంశాన్ని సేకరించడం, వాస్తవ విషయాలను అంకెలలో చెప్పడం, సంఖ్యాత్మకమైన వాస్తవాలను పరస్పర సంబంధం ఉండేటట్లు చెప్పడం అనే మూడు లక్షణాలను మాత్రమే వెలియజేస్తున్నది. గణాంకశాస్త్రం యొక్క ఇతర లక్షణాలను ఈ నిర్వచనం విస్మరించడం చేత సంపూర్ణమైన నిర్వచనం కాదని భావించడం జరిగింది.

బి) యూల్ మరియు కెండల్ (Yule & Kendall) : వీరి అభిప్రాయంలో “బహు కారణాల వల్ల ప్రభావితం కాబడే పరిమాణాత్మక దత్తాంశాన్ని గణాంకాలు” అని అంటారు. ఈ నిర్వచనం ప్రకారం గణాంకాలు పరిమాణాత్మక దత్తాంశాలు. ఇవి బహు కారణాల వల్ల ప్రభావితం అవుతూ ఉంటాయి. ఈ కారణాలు ఒకదానితోనొకటి సంబంధం కలిగి ఉండటంతోపాటు ఒకదానిపై ఒకటి ఆధారపడి ఉంటాయి. అయితే ఈ నిర్వచనం కూడా గణాంక శాస్త్రానికున్న ఇతర లక్షణాలను వెల్లడిచేయనందున సమగ్రమైన నిర్వచనంగా భావించబడలేదు.

సి) వెబ్స్టర్ (Webster) : వెబ్స్టర్ నిర్వచనం ప్రకారం “దేశ ప్రజల స్థితిగతులకు సంబంధించిన వర్గీకృత వాస్తవాలు, ముఖ్యంగా అంకెలలోను, పట్టీలలోను లేదా ఏ ఇతర వర్గీకృత రూపంలోనైనా తెలియజేయడానికి వీలైన వాస్తవాలే గణాంకాలు”.

ఈ నిర్వచనం ప్రకారం దేశ ప్రజల స్థితిగతులను మాత్రమే అధ్యయనం చేయడానికి గణాంకశాస్త్రం పరిమితమవుతుందని, పట్టీలలోను, అంకెలలోను లేదా వర్గీకృతమైన మరో రూపంలో తెలియజేస్తేనే గణాంకాలనబడతాయి. అయితే ఈ నిర్వచనం కూడా పరిపూర్ణమైనదిగా భావించబడుట లేదు.

డి) హోరేస్ సెక్రిస్ట్ (Horace Secrist) : గణాంక శాస్త్రానికి హోరేస్ సెక్రిస్ట్ అనే గణాంకశాస్త్రవేత్త ఒక సమగ్ర, సంతృప్తి కరమైన, ఆమోదకరమైన నిర్వచనాన్నిచ్చారు. ఈయన అభిప్రాయంలో ‘పూర్వ నిర్ధారిత ఉద్దేశం కోసం ఒక క్రమపద్ధతిలో సేకరించినవి, బహుకారణాల వల్ల ప్రభావితం అయ్యేవి. సాధ్యమైనంత యదాద్ధాలను అనుసరించి అంచనా వేయబడి,

సంఖ్యాపూర్వకంగా ప్రస్తుతం అవుతాయో అవి ఒకదానికొకటి సంబంధం కలిగి వుండి, పోల్చడానికి అనువుగా వున్నట్టి సగటు సత్యాలను గణాంకాలంటారు.

ఈ నిర్వచనం ఎంతో సమగ్రమైనది. ఎందుకంటే గణాంక శాస్త్రము అనడానికి ఉండవలసిన లక్షణాలన్నింటినీ పేర్కొనడం జరిగింది.

**1.3.2 గణాంక పద్ధతుల భావనలో నిర్వచనాలు :** ఏకవచన ప్రయోగంలో గణాంకశాస్త్రం అంటే దత్తాంశ సేకరణ, సమర్పణ, విశ్లేషణ, వివరణలకు సంబంధించిన గణాంక పద్ధతులని అర్థం. ఈ భావనతోనే కొంత మంది గణాంకశాస్త్రవేత్తలు గణాంకశాస్త్రాన్ని నిర్వచించారు. వాటిని పరిశీలిద్దాం.

- ఎ) **ఎ.ఎల్. బౌలీ (A.L. Bowely) :** “గణాంకశాస్త్రం అంటే అంకెలను సేకరించి లెక్కలు రాసే శాస్త్రం” అని ఒక చోట, మరో సందర్భంలో “గణాంకశాస్త్రం సగటులకు సంబంధించిన శాస్త్రం” అన్నాడు. వాస్తవానికి వ్యక్తులకు, వస్తువులకు సంబంధించిన వివరాలు సేకరించడం గణాంక శాస్త్రం ముఖ్యవిధులలో ఒకటి. పెద్ద పరిమాణంలోని దత్తాంశ లక్షణాలను సులభంగా గ్రహించడానికి వర్గీకరణ, పట్టికరణ, విశ్లేషణ, వివరణ వంటి ఇతర గణాంక పద్ధతులవసరం అవుతాయి. వీటిని గూర్చి నిర్వచనంలో పేర్కొనలేదు. అంతేగాక దత్తాంశ లక్షణాలను కుదించి చెప్పడానికి ‘సగటు’ లెక్కించడం అవసరమైనప్పటికీని దత్తాంశంలోని అంశాల విస్తరణ ఏ విధంగా ఉందో సగటు తెలియజేయును. దీనిని తెలుసుకొనుటకు విస్తరణమానాలు అవసరమవుతాయి. రెండు చలనరాశుల మధ్య సంబంధం తెలుసుకోవాలంటే సహసంబంధ గుణకం అవసరం. అందుచేత ఈ నిర్వచనం గణాంకశాస్త్ర పరిధిని పూర్తిగా తెలియజేయనందున సమగ్రమైనదిగా భావించుట లేదు.
- బి) **క్రాక్స్టన్, కౌడెన్ (Croxtan & Cowden) :** వీరి అభిప్రాయంలో “పరిమాణాత్మక దత్తాంశంను సేకరించడానికి, సమర్పించడానికి, విశ్లేషణ చేయడానికి, విపులీకరణ చేయడానికి ఉపయోగపడే శాస్త్రమే గణాంక శాస్త్రం”. ఈ నిర్వచనంలో గణాంక పద్ధతులైన దత్తాంశ సేకరణ, దత్తాంశ సమర్పణ, దత్తాంశ విశ్లేషణ, దత్తాంశ వివరణ వంటి నాలుగు పద్ధతులను పేర్కొనడం చేత ఈ నిర్వచనం సమగ్రమైందని చెప్పవచ్చు.
- సి) **బోడింగ్టన్ (Bodington) :** ‘అంచనాలకు, సంభావ్యతలకు సంబంధించిన శాస్త్రమే గణాంకశాస్త్రం’ అని బోడింగ్టన్ నిర్వచించాడు. పెద్ద పరిమాణంలోని దత్తాంశాన్ని సేకరించడంలో గల పరిమితులను అధిగమించడానికి అంచనాలను, సంభావ్యతలను ఉపయోగించుకోవడం జరుగుతుంది. ఉదాహరణ : వ్యాపారస్తులు భూత, వర్తమాన వ్యాపార తీరుతెన్నులను బట్టి భవిష్యత్తును గూర్చి సరియైన అంచనాలతో వ్యాపారం చేస్తాడు. అట్లాగా ప్రయాణికుల రద్దీని దృష్టిలో పెట్టుకొని రైల్వే డిపార్టుమెంటు వారు అదనపు రైళ్ళను ఏర్పాటు చేస్తారు. అయితే ఈ నిర్వచనం అంచనాలకు, సంభావ్యతలకు ప్రాధాన్యతను ఇచ్చి వర్గీకరణ, విశ్లేషణ వంటి ఇతర గణాంక పద్ధతులను గూర్చి తెలియజేయలేదు.
- డి) **సెలిగ్మన్ (Seligman) :** “ఏ విచారణలోనైనా సమస్యను అవగాహన చేసుకొనుటకు సంఖ్యాదత్తాంశాన్ని సేకరించడం, వర్గీకరించడం, సమర్పించడం, తారతమ్యతను పోల్చి, వివరించడానికి సంబంధించిన శాస్త్రీయ పద్ధతులను గూర్చి తెలిపేదే గణాంకశాస్త్రం’ ఈ నిర్వచనం సులభంగాను, చిన్నదిగాను, విపులీకరణగాను ఉంది. బృహత్ పరిమాణంలో ఉన్న దత్తాంశాన్ని సులభంగా అర్థం చేసుకోవడానికి, దానిని వర్గీకరించడం, పట్టిలు, చిత్రపటాలు, రేఖాచిత్రాల రూపంలో సమర్పించడం చేయవలెను. అంతేగాక దత్తాంశ పూర్తి లక్షణాలు తెలుసుకోవడానికి విస్తరణ కొలతలు, సగటు కొలతలు, వైషమ్య కొలతలు మొదలైన విశ్లేషణా పద్ధతులనుపయోగించాలి. ఆ తర్వాత విపులీకరణ ప్రాతిపదికగా విధానాలను రూపొందించాలి. ఈ గణాంక పద్ధతులన్నింటి ప్రాముఖ్యతను తెలియజేయడం వల్ల ఈ నిర్వచనం ఎంతో సమగ్రమైందిగా భావించబడుచున్నది.

## 1.4 గణాంకశాస్త్ర అక్షణాలు

సేక్రిస్ట్ నిర్వచనాన్ని జాగ్రత్తగా పరిశీలిస్తే గణాంకశాస్త్ర లక్షణాలను సమగ్రంగా తెలుసుకోవచ్చు. అవి :

- 1) గణాంకాలు సమిష్టి విషయాలను పరిశీలిస్తుంది : గణాంక శాస్త్రం ఎప్పుడు సాంఖ్యపరమైన, సమిష్టి విషయాలను లేదా సగటు సత్యాలను గూర్చి పరిశీలిస్తుంది. వ్యక్తిగతమైన లేదా ఒకే అంశానికి సంబంధించిన విషయాలను, నిజాలను వివరించదు.

ఉదా : ఒక వ్యక్తి ఆదాయము, ఒక సంస్థ లాభము మొదలైనవి పరిగణనలోనికి తీసుకోదు. కాని కొందరు వ్యక్తుల సగటు ఆదాయము, ఒక సంస్థ సగటు లాభము మొదలైనవి మాత్రమే పరిగణనలోనికి తీసుకుంటుంది. అవే గణాంకాలు.

- 2) గణాంకాలు అంకెలలో చెప్పడానికి వీలుగా వుండాలి : సేకరించిన సమాచారాన్ని అంకెల రూపములో చెప్పడానికి ఉపక్రమిస్తేనే వాటిని గణాంకాలు అంటారు. గుణాత్మకంగా ఉన్నప్పుడు వాటిని గణాంకాలు అనరు. గుణాత్మకమైన అంశాలను అనగా అందచందాలు, మంచి చెడ్డలను గూర్చి గణాంకశాస్త్రం వివరించలేదు. పరిమాణాత్మక విలువలను పోల్చిచెప్పినప్పుడే అవి గణాంకాలు అవుతాయి.

ఉదా : భారతదేశములో జనాభా అధికము అనిగాని, ఈ నెలలో ఎండలు ఎక్కువ అని చెప్పినప్పుడుగాని అవి గణాంకాలు కానేరవు.

- 3) గణాంకాలు అనేక కారణాల వల్ల ప్రభావితం అవుతాయి.

ఏ విషయాలను గణాంకాలుగా పరిగణిస్తామో అవి వివిధ కారణాల చేత ప్రభావితం కావాలి. ప్రతి కారణాన్ని విడగొట్టి దాని ప్రభావం ఎంత మాత్రము ప్రతి అంశము మీద వుంటుందో చెప్పటానికి వీలుపడదు. అందువల్ల అన్ని కారణాల ప్రభావాన్ని సమిష్టిగా తీసుకోవాలి. గణాంకాలు మార్పులకు అనేక అంశాలు కారణం.

- 4) గణాంకాలు ఒక పద్ధతి ప్రకారము సేకరించినవి ఏర్పాటు చేసి విశ్లేషించాలి.

విషయ సేకరణను దత్తాంశ సేకరణ అంటారు. ఈ దత్తాంశాన్ని సేకరించడానికి ఒక నియమబద్ధమైన ప్రణాళికను తయారు చేసుకుని దానిననుసరించి దత్తాంశ సేకరణ చేయాలి. సేకరించిన దత్తాంశాన్ని, తగిన విధంగా విశ్లేషించి మలిచినట్లైతే అవి గణాంకాలు అవుతాయి. హడావుడిగాను, అనాలోచితంగాను విషయ సేకరణ జరిగితే వాటి ద్వారా సరియైన నిర్ణయాలు రాక కొన్ని సమయాలలో అసాయకర పరిస్థితులకు దారి తీస్తుంది.

- 5) గణాంకాలను పూర్వ నిర్ధారిత లక్ష్యంతో సేకరించి వుండాలి.

గణాంకాల సేకరణ ఏ ప్రయోజనం కొరకు, ఏ ఉద్దేశ్యంతో చేస్తున్నారో ముందుగానే నిర్ణయించుకోవాలి. లేనప్పుడు అటువంటి దత్తాంశ సేకరణ నిరుపయోగమవుతుంది. ముందుగా నిర్ణయించిన లక్ష్యాల కోసం దత్తాంశ సేకరణ ఎలా ఉండాలి, దాని తరువాత ఏ విషయాల కోసం ఈ విషయాన్ని ఎక్కడ ఎప్పుడు సేకరించాలో కూడా తెలిసి వుండాలి.

- 6) గణాంకాలను సాధ్యమైనంత వరకు యదార్థతనుసరించి సేకరించాలి.

విషయ యదార్థత పరిమాణం గణన చేసే సమాచారంపై ఆధారపడి వుంటుంది. అన్ని విచారణల్లోనూ ఒకే విధమైన యదార్థత వుండనవసరం లేదు. ఉదాహరణకు బొగ్గు తూకం యదార్థత కిలోలలో వుండగా, బంగారం

తూకం యదార్థత మిల్లీ గ్రాములలో వుంటుంది. ఏదైనా ఒక విచారణకు సంబంధించిన గణాంకాలను సేకరించడానికి రెండు పద్ధతులను అవలంబిస్తాము. 1. పూర్తి లెక్కింపు చెయ్యడం, 2. ఊహించి అంచనా కట్టడం.

ప్రతి అంశాన్ని లెక్కలోనికి తీసుకుని దత్తాంశాన్ని సేకరిస్తే దానిని లెక్కింపు పద్ధతి అంటారు. ఆ విధంగా కాకుండా ఒక సంఘటనకు సంబంధించిన విలువలను గూర్చి ఊహించడాన్ని అంచనా పద్ధతి అంటారు. మొదటి పద్ధతిలో యదార్థత అధికంగా వుంటుంది. అయితే పరిశోధన స్థాయిని బట్టి స్వభావాన్ని బట్టి నిర్ణయించడం జరుగుతుంది. కొన్ని సమయాలలో పూర్తి లెక్కింపు సాధ్యపడదు. అట్టి సమయాలలో యదార్థతకు దగ్గరగా వుండే అంచనాలు వేయడం జరుగుతుంది.

ఉదా : ఒక సభకు విచ్చేసిన జన సమూహాన్ని లెక్కించడం సాధ్యమయ్యే విషయం కాదు. అట్టి పరిస్థితులలో ఆ సమూహాన్ని అంచనా వేయడమే సరియైన పద్ధతి.

7) గణాంకాలు ఒకదానికొకటి సంబంధం కలిగి పోల్చేందుకు అనుగుణంగా వుండాలి.

గణాంకాలు రెండు లేదా అంతకంటే ఎక్కువగా వుండే విషయాలను పోల్చడానికి వీలుగా వుండాలి. ఇవి కాలానుగుణంగా గాని ప్రాంతీయతను అనుసరించిగాని ఉన్నట్లైతే సులువుగా పోల్చవచ్చు. వివిధ కాలాలలో ఏర్పడే విషయాలను, లేదా ఒకే సంఘటన వివిధ ప్రాంతాలలో సంభవించినట్లైతే వాటిని పోల్చవచ్చు.

ఉదా : ఒక సంవత్సరములోని వివిధ కాలాలలో వుండే ఉష్ణోగ్రత.

పై లక్షణాలు లేని ఏ దత్తాంశాన్ని గణాంకాలుగా చెప్పలేము. అందువలనే గణాంకాలన్ని సంఖ్యా వాస్తవాలేగాని సంఖ్యా వాస్తవాలన్నీ గణాంకాలు కాజాలవు.

1.4.1 గణాంక పద్ధతులు (Statistical Methods) : సమస్యకు సంబంధించిన సంఖ్యా దత్తాంశాన్ని సేకరించడం, వర్గీకరించడం, సమర్పించి, విశ్లేషించడం, వివరణ చేసే పద్ధతులనే గణాంక పద్ధతులంటారు. వాటిని క్లుప్తంగా పరిశీలిద్దాం.

1. దత్తాంశ సేకరణ : దత్తాంశాన్ని సేకరించడం గణాంక విచారణలో ప్రథమ దశ. దీనికిగాను ముందుగానే గణాంక శోధకుడు పరిశోధనా ఉద్దేశాన్ని, దత్తాంశ వనరులను, సేకరణ పద్ధతులను అవసరమైన యదార్థాతను గూర్చి ఒక ప్రణాళికను సిద్ధం చేసుకున్న తరువాత ఒక పద్ధతి ప్రకారం దత్తాంశ సేకరణ జరపవలెను. దత్తాంశ సేకరణలో గణాంక శోధకుడు అత్యంత జాగ్రత్త వహించవలె. దత్తాంశ సేకరణ లోపభూయిష్టంగా ఉంటే ఫలితాలు విశ్వసనీయంగా ఉండవు. అవసరమైన వ్యయప్రయాసలకు లోనుకాకుండా కావలసిన దత్తాంశాన్ని ముద్రిత మూలాల నుంచి గాని అముద్రిత మూలాల నుంచి గాని సేకరించవచ్చు.
2. వ్యవస్థీకరణ : ముద్రిత మూలాల నుండి లభించే దత్తాంశం రెడిమేడ్ వస్తువులాంటిది. సాధారణంగా ఈ దత్తాంశం వ్యవస్థీకరించబడి ఉంటుంది. కాని సర్వే ద్వారా సేకరించబడే దత్తాంశం సాధారణంగా వ్యవస్థీకరించబడి ఉండదు. అందుచేత అట్టి దత్తాంశాన్ని ఎడిట్ చేయడం జరుగుతుంది. ఈ సందర్భంలో అవసరమైన విషయాలను తీసుకోవడం, అవసరం లేని విషయాలను వదలివేయవచ్చు. ఆ తర్వాత కొన్ని సాధారణ లక్షణాలను దృష్టిలో నుంచుకొని దత్తాంశాన్ని వర్గీకరించవలెను. వర్గీకృత విషయాలను స్పష్టపరుచుట, వాటిని పంక్తులలోను, దొంతులలోను అమర్చవలెను.
3. సమర్పణ : వర్గీకరించబడిన దత్తాంశాన్ని తగ్గురితిలో సమర్పించవలె. దత్తాంశ సమర్పణకు పట్టీలు, చిత్రపటాలు, రేఖాచిత్రాలు వంటి వాటిని ఉపయోగిస్తారు. చిత్రపటాలు రేఖాచిత్రాలు ఆకర్షణీయంగా ఉండి చూపరులకు కనువిందు చేస్తాయి. చదువరులు దత్తాంశ మూల విషయాన్ని సులభంగా గ్రహించగలరు.



4. విశ్లేషణ : వివిధ చలరాశుల మధ్య సంబంధాన్ని కల్పించడమే విశ్లేషణ ఉద్దేశం. దత్తాంశ విశ్లేషణ చేయుటకుగాను సగటు కొలతలను, విస్తరణ కొలతలను, వైషమ్యపు కొలతలను సహసంబంధం, వంటి వివిధ గణాంక ప్రక్రియలను, పద్ధతులను ఉపయోగిస్తారు.
5. వివరణ : విశ్లేషించబడిన దత్తాంశాన్ని విపులీకరించి చెప్పడం, నిష్పక్షపాతంగా, హేతుబద్ధంగా నిర్ణయాలు తీసుకోవడం, వివరణగా చెప్పడం జరుగుతుంది. అయితే దత్తాంశాన్ని వివరించి చెప్పడం అంత సులభమైంది కాదు. గణాంక శోధకునికి అత్యంత నైపుణ్యం, అనుభవం అవసరం. వివరణ సరిగా లేకపోతే తప్పుడు నిర్ణయాలు తీసుకోవడమేగాక గణాంక శోధన ప్రధాన ఉద్దేశాన్ని భంగపరచినట్లు కాగలదు.

పై వివరణ కాబట్టి తెలిసేదేమిటంటే కేవలం దత్తాంశ సేకరణ గాని, గణాంక పద్ధతులుగాని, నిరూపయోగం. సముచిత నిర్ణయాలు తీసుకోవడానికి సేకరించబడిన దత్తాంశాన్ని తగిన విధంగా వర్గీకరించి, విశ్లేషించవలసి వుంటుంది. కాబట్టి గణాంక దత్తాంశం, గణాంక పద్ధతుల వలన విడివిడిగా ఎట్టి ప్రయోజనం లేదు. ఈ రెండూ ఒకదానికొకటి పూరకాలు.

### 1.5 గణాంకశాస్త్ర విధులు

పరిమాణాత్మక దత్తాంశాన్ని విశ్లేషణ చేయడం ద్వారా అశాస్త్రీయ, అపరిపూర్ణ విధానాలకు స్పష్టి పలికి శాస్త్రీయమైన నిర్ణయాలను తీసుకొనడానికి గణాంకశాస్త్రము సహాయపడుతుంది. అందువల్లనే ఈ శాస్త్ర ప్రాముఖ్యత క్రమక్రమంగా పెరుగుతోంది. గణాంక శాస్త్రం కొన్ని ముఖ్యమైన విధులు నిర్వహించటం చేస్తోంది. ఈ విధులను బట్టి ఈ శాస్త్ర ప్రాధాన్యత స్పష్టమవుతుంది. ఈ శాస్త్ర విధులను వివరించటం జరిగింది.

- 1) ఒక నిశ్చిత రూపములో విషయాలను సమర్పించటం : అస్పష్టముగా, సంఖ్యాపూర్వకంగా వున్న దత్తాంశాన్ని సంక్షిప్తమైన నిశ్చితమైన రూపములో సమర్పించటమే గణాంక శాస్త్ర ప్రధాన విధి. ఈ విధంగా సమర్పణ చేయటం వల్ల చదివే వారికి ఎటువంటి అసౌకర్యం వుండదు. సులువుగా విషయాలను అర్థం చేసుకొనడానికి అవకాశం వుంటుంది.  
ఉదా : మన దేశ జనాభా 1961లో 43 కోట్లని, 1991లో 87 కోట్లని చెబితే జనాభా పెరుగుదల అధికంగా వున్నదని పాఠకులకు అవగాహన ఏర్పడుతుంది.
- 2) జటిలంగా వున్న దత్తాంశాన్ని సూక్ష్మీకరించడం : అంకెల రూపములో జటిలంగా వున్న దత్తాంశాన్ని ఖచ్చితంగా లేదా స్పష్టంగా పొందు పరచడమే కాకుండా సూక్ష్మీకరించి చిన్న అంకెలుగా కాని, శాతాలుగా కాని తెలియజెప్పడం అవసరం. జటిలంగా వున్న దత్తాంశాన్ని సూక్ష్మీకరణ ద్వారా అసంగీత తొలగించి సులువుగా అవగాహన అయ్యే విధంగా రూపొందించటం మరో గణాంకశాస్త్ర విధి. దత్తాంశాన్ని సంక్షిప్తపరచడానికి సగటులు నిష్పత్తులు, విచారణా గుణకాలు మొదలగు వాటిని ఉపయోగిస్తారు.
- 3) అంచనా వేయటంలో తోడ్పడుతుంది : గణాంక శాస్త్రం గడిచిన కాలానికి సంబంధించిన దత్తాంశాన్ని విశ్లేషించడమే కాకుండా భవిష్యత్తులో ఆ దత్తాంశాన్ని అంచనా వేయటానికి లేదా ఊహించటానికి లేదా జోస్యం చెప్పటానికి సహాయపడుతుంది. వివిధ ప్రణాళికలు అమలు పరచడానికి కావలసిన సహాయ సహకారాలను అందిస్తుంది. ఈ విధంగా భవిష్యత్తును అంచనా వేయటం ఈ శాస్త్ర మరో విధి. భవిష్యత్తు సంఘటనలను అంచనా వేయడానికి కాలశ్రేణులు, ప్రతిగమన విశ్లేషణ, బహిర్వేషం వంటి గణాంక పద్ధతులు చాలా ఉపయోగపడతాయి.

- 4) విధాన నిర్ణయాలను రూపకల్పన చేయడానికి వీలుకల్పించడం : దేశాభివృద్ధికి ప్రభుత్వం చేపట్టే ప్రణాళికలను రూపొందించడానికి వీలు కలిగిస్తుంది. సామాజిక, ఆర్థిక, వ్యాపార రంగాల్లో విధానాలు ఏ విధంగా వుండాలి, సామాజిక రక్షణ ఏ విధంగా వుండాలి గణాంకశాస్త్రం తెల్పుతుంది. అంతేకాక క్రొత్త విధానాలను రూపొందించడంలోను ఆచరణలో వున్న విధానాల పనితీరును సమీక్షించడంలోను గణాంక పద్ధతులు ఉపయోగపడును.
- 5) పోల్చిచూడటానికి అవసరమైన పరిస్థితులను కల్పించటం : గణాంకశాస్త్రములో పరిమాణాత్మక విషయాలను పోల్చిచూస్తేనేగాని అర్థవంతమైన సమాచారం లభించదు. వివిధ సమాచారాలను పోల్చడానికి అవసరమైన పరికరాలను లేదా పద్ధతులను గణాంకశాస్త్రం సమకూరుస్తుంది. ఆచార్య బౌలే అభిప్రాయం ప్రకారం “వివిధ అంశాల సాపేక్ష ప్రాముఖ్యతను గూర్చి అధ్యయనం చేయడమే గణాంక శాస్త్ర ముఖ్య విధి”. దత్తాంశాన్ని పోల్చడానికి గణాంకశాస్త్రంలో సగటులు, శాతాలు, నిష్పత్తులు గుణకాలు చిత్రపటాలు వంటి వాటిని ఉపయోగిస్తారు.
- 6) సంఖ్యాత్మకమైన కొలత ఇవ్వడం : గుణాత్మక అంశాలను కొలవలేము. కొన్ని సందర్భాల్లో వాటిని పరిశీలించవలసి వస్తే ఆ చలంకము కొలవడానికి తగిన ఉపకరణాలను మరియు పద్ధతులను గణాంక శాస్త్రము సమకూరుస్తుంది. ఈ పద్ధతుల సహాయంతో గుణాత్మక దత్తాంశాన్ని కూడా సంఖ్యామానంతో చెప్పవచ్చు. ఉదా: అందాల పోటీలలో వివిధ అంశాలకు మార్కులను వేయడం, విద్యార్థులకు వచ్చిన మార్కులను బట్టి విద్యార్థుల తెలివితేటలను నిర్ణయించడం.
- 7) పరికల్పనను తయారుచేసి, పరిరక్షించడంలో సహాయం చేయడం : పరికల్పనను రూపొందించి పరిశీలించడమే కాకుండా కొత్త సిద్ధాంతాన్ని కనుగొనడానికి కూడా గణాంక పద్ధతులు ఉపయోగపడతాయి. వివిధ విజ్ఞాన సిద్ధాంతాలలోని నిర్దిష్టతను పరిశీలించేందుకు గణాంక పద్ధతులు ఉపయోగపడతాయి.

## 1.6 గణాంకశాస్త్ర ప్రాముఖ్యత

నాడు రాజులశాస్త్రంగాను (Science of Kings), రాజకీయ గణితశాస్త్రం (Political Arithmetic)గా పిలవబడ గణాంకశాస్త్రం నేడు సామాన్య మానవశాస్త్రంగా అభివృద్ధి చెందింది. వివిధ రంగాలలో ఉత్పన్నమగుచున్న సమస్యలను పరిష్కరించే శక్తి ఈ శాస్త్రానికి ఉండడం వలన ఈ శాస్త్రం దినదినాభివృద్ధి చెందుచున్నది. గణాంకశాస్త్రంలో దత్తాంశ సేకరణ, విశ్లేషణ వంటి గణాంకపద్ధతులు కాల, ధన వ్యయాలతో కూడినవి. అందుచేత త్వరగా ఫలితాలను రాబట్టుటకు ఆధునిక కాలంలో కంప్యూటర్లనుపయోగిస్తున్నారు. ఈ కారణంగా గణాంకశాస్త్ర ప్రాముఖ్యత బాగా పెరిగింది. ప్రపంచంలో వెలుగులోకి వస్తున్న వివిధ శాస్త్రాల అభివృద్ధికి శాస్త్రవేత్తలు గణాంకశాస్త్రాన్ని ఉపయోగించుచున్నారు. వివిధ రంగాలలో గణాంకశాస్త్ర ప్రాముఖ్యతను గూర్చి తెలుసుకుందాం.

**గణాంకశాస్త్రం - వ్యాపార రంగం :** ఆధునిక వ్యాపార, పారిశ్రామిక సంస్థలను సమర్థవంతంగా నిర్వహించడానికి గణాంకాలు ఈ క్రింది విధంగా ఉపయోగపడతాయి.

**వ్యాపార స్థానం నిర్ణయించడం :** పారిశ్రామికవేత్తలు పరిశ్రమలను ఏర్పాటు చేసే సందర్భంలో అనేక అంశాలపై కీలకమైన నిర్ణయాలు చేయవలసి వుంటుంది. వాటిలో ముఖ్యమైనది పరిశ్రమ స్థల నిర్ణయం. ముడి పదార్థాల లభ్యత, శ్రామికుల లభ్యత, రవాణా సదుపాయాలు, ప్రభుత్వం అందజేసే ప్రోత్సాహాలు వంటి అనేక అంశాలకు సంబంధించిన దత్తాంశాన్ని సేకరించి, వ్యవస్థీకరించి, విశ్లేషణ జరిపిన తర్వాత నిర్ణయాలు చేస్తారు. వివిధ అంశాలకు సంబంధించిన గణాంకాల ఆధారంతో చేసిన నిర్ణయాలు సహేతుకంగా ఉండటమేగాక సంస్థ పురోగాభివృద్ధికి తోడ్పడతాయి. ఈ దత్తాంశ వివరాలు తెలియకపోతే సంస్థ స్థాపనకు సంబంధించిన నిర్ణయాలు చేయడం వ్యవస్థాపరులకు అసాధ్యమవుతుంది.

**సంస్థ పరిమాణ నిర్ణయంలో తోడ్పాటు :** వ్యవస్థాపకుడు తాను ప్రారంభించబోవు సంస్థ పరిమాణం నిర్ణయించడం మరో జటిలమైన సమస్య. ఈ సమస్యను పరిష్కరించడానికి గణాంకాలు ఎంతగానో ఉపయోగపడును. గణాంక పద్ధతుల ద్వారా ఊహించిన ఉత్పత్తి స్థాయిలలో సంస్థ యొక్క ఆదాయ, వ్యయాలను విశ్లేషణ చేసి సంస్థకు తగిన పరిమాణం నిర్ణయిస్తారు. సంస్థ పరిమాణం నిర్ణయించడంలో పొరపాట్లు జరిగితే సంస్థ మనుగడకే ముప్పువాటిల్లుతుంది. అందుచేత అభిలషణీయ పరిమాణాన్ని నిర్ణయించుకోవడం వల్ల సంస్థ అనేక రకాల ఆదాలను పొందగలుగుతుంది.

**ఉత్పత్తి ప్రణాళిక తయారీలో తోడ్పాటు :** సమర్థవంతమైన వ్యాపార నిర్వహణకు ఉత్పత్తి ప్రణాళిక అద్దం పడుతుంది. ఉత్పత్తి ప్రణాళికలో లోటుపాట్లు జరిగితే సంస్థ వివిధ స్థాయిలలో భారీగా నష్టపోవలసి వుంటుంది. ఖచ్చితమైన అమ్మకాల అంచనాలు ఉత్పత్తి ప్రణాళికను క్రమబద్ధం చేయడానికి దోహదం చేస్తాయి. అంతేగాక ఉత్పత్తి ప్రణాళిక ముడిపదార్థాల నియంత్రణకు కూడా సహాయపడుతుంది. ఉత్పత్తి ప్రణాళికను బట్టి సంస్థలు కావలసిన ముడిపదార్థాలను సరైన ధరలకు సేకరించి నిల్వ ఉంచగలుగుతాయి. ఉత్పత్తి ప్రణాళిక తయారీలోను, సరుకుల నిల్వల నియంత్రణలోను తగిన నిర్ణయాలు చేయడానికి గణాంకాలు ఎంతగానో ఉపయోగపడతాయి.

**సరైన మార్కెటింగ్ నిర్ణయాలు తీసుకోవడానికి :** వస్తువు తయారీ చేయడం ఎంత ముఖ్యమో, ఆ వస్తువుకు తగిన మార్కెట్ కలుగజేయడం కూడా అంతే ముఖ్యం. వస్తువులు తయారు చేయబోవు ముందు వ్యవస్థాపకులు మార్కెట్ పరిశోధన చేసి డిమాండ్ ను అంచనా వేయవలసి వుంటుంది. వినియోగదార్ల అభిప్రాయాలను తెలుసుకోవడానికి వినియోగదార్లు సర్వే చేయవలసి వుంటుంది. వ్యాపారచక్రాల కారణంగా డిమాండులో వచ్చే మార్పులను తెలుసుకొనడానికి కాలశ్రేణుల విశ్లేషణను విశేషంగా వినియోగిస్తున్నారు. తమ వస్తువుకు మార్కెట్ మందగించినప్పుడు వినియోగదార్లకు బహుమతులివ్వడం వంటి ప్రోత్సాహకాలు ఇవ్వడం వల్ల వాటి ప్రభావం ఎట్లా ఉంటుందో గణాంక పద్ధతుల ద్వారా విశ్లేషించవచ్చు. సంస్థ యొక్క భవిష్యత్ ఆర్థిక పరిస్థితులను అంచనా వేయడానికి ప్రతిగమన, బహిర్నివేశ (Regression and Extrapolation) పద్ధతులు ఎంతో అమూల్యమైనవి.

**నాణ్యతా నియంత్రణలో తోడ్పాటు :** వస్తువుల నాణ్యతను కాపాడుకోవలసిన బాధ్యత ఉత్పత్తిదార్లపై ఉంటుంది. ఆధునిక వ్యాపార ప్రపంచంలో సంస్థల మధ్య ఉన్న పోటీని తట్టుకొని నిలబడాలంటే అత్యంత నాణ్యత గల వస్తువులను సరసమైన ధరలకు వినియోగదార్లకు అందించవలసి వుంటుంది. అందుచేత సంస్థలు గణాంక నాణ్యత నియంత్రణా విభాగాలను (Statistical Quality Control) ఏర్పరచి ఉత్పత్తుల గుణాన్ని నియంత్రించడం ద్వారా వ్యవస్థాపకులు నాణ్యమైన వస్తువులను, సేవలను సముచితమైన ధరలకు వినియోగదార్లకు అందించడానికి ప్రయత్నిస్తున్నారు.

**సిబ్బంది పాలనలో తోడ్పాటు :** వ్యాపార సంస్థలకు ఒక ఉద్యోగి ఎంతవరకు ఉపయోగపడతాడనేది అతని పనిచేసే సామర్థ్యాన్ని బట్టి, పని పట్ల అతని ఆసక్తి ఉండేదాన్ని బట్టి వుంటుంది. ఈ విషయాలను పరీక్షించడంలో గణాంక పద్ధతులు బాగా ఉపకరిస్తాయి. ఉద్యోగుల మానసిక ప్రవృత్తులను, పనితీరును అధ్యయనం చేయడానికి గణాంక పద్ధతుల సహాయం తీసుకుంటున్నారు. అసమర్థులను తీసివేయడం, ప్రామాణిక ఉత్పత్తి స్థాయిని వేరుకోలేకపోవుటకు గల కారణాలను అన్వేషించడం, నివారణ చర్యలు తీసుకోవడానికి సమర్థవంతంగా పనిచేసే వారికి ప్రోత్సాహకాలు ఇవ్వడానికి సంబంధించిన నిర్ణయాలను గణాంక పద్ధతుల ద్వారా చేయవీలవుతుంది.

**ఆడిటింగ్ లో సహాయం :** వ్యాపార సంస్థల ఆర్థిక పరిస్థితులను తెలుసుకోడానికి లాభనష్టాల ఖాతా, ఆస్తి, అప్పుల పట్టికను తయారుచేస్తారు. అంశాల స్వభావాన్ని బట్టి వివిధ ఖర్చులను, ఆదాయాలను విభజించి ఒక క్రమపద్ధతిలో అమరుస్తారు. సంస్థలను లాభసాటిగా నిర్వహించుటకు ఆడిటర్లు గతంలోని రికార్డులలో గల సమాచారాన్ని సేకరించి నివేదిక తయారుచేసి సిఫార్సు చేస్తారు. అంతేగాక సంస్థలు తయారుచేసిన అకౌంటింగ్ దత్తంశపు విశ్వాసాన్ని కాపాడుటకు ఆడిట్ నిర్వహించడం జరుగుతుంది. ఈ కార్యక్రమాలన్నీ గణాంకాల సహాయంతోనే నిర్వహించబడతాయి.

శాస్త్ర పరిశోధనలో గణాంకశాస్త్ర ప్రాముఖ్యత : నేటి ఆధునికయుగంలో అనేక శాస్త్రాలలో పరిశోధనలు నిర్వీర్యంగా జరుగుచున్నాయి. సరైన పరిశోధనా ఫలితాలు సాధించడానికి గణాంక పద్ధతుల సహాయం తప్పనిసరి అవుతుంది. వ్యవసాయ, వైద్యం, జీవశాస్త్రం, భౌతిక, రసాయనిక, ఖగోళ, మానసిక, సాంఘిక శాస్త్రాలలో సైతం పరిశోధనలు జరిపే వారికి గణాంకశాస్త్రం ఎంతో ఉపయోగపడుతుంది.

గణాంకశాస్త్రం - అర్థశాస్త్రం : గణాంకశాస్త్ర ప్రాముఖ్యత అర్థశాస్త్రంలో ఎక్కువగా వుంది. ఆర్థిక సమస్యలను అధ్యయనం చేసి పరిష్కార మార్గాలు సూచించడానికి గణాంక పద్ధతులు ఎంతగానో ఉపయోగపడుచున్నాయి. జాతీయాదాయం, తలసరి ఆదాయాలను అంచనా వేయడానికి, ఆర్థిక సిద్ధాంతాలను రూపొందించడానికి గణాంకాలు అవసరం ఎంతో ఉంది. అందుచేతనే అర్థశాస్త్రానికి గణాంకాలు పునాది వంటివి చెప్పవచ్చు. ఆచార్య మార్షల్ 'గణాంకాలు గడ్డిపోచల వంటివి. వాటిని ఆధారంగా చేసుకొని అర్థశాస్త్రవేత్త తనకు ఉపయోగపడే "ఆర్థిక సూత్రాలు" అనే ఇటుకలను తయారు చేస్తాడని' పేర్కొన్నాడు. ఈయన దృష్టిలో గణాంకాలు గడ్డిపోచల వలే ఉన్నను, అవి ఆర్థిక సిద్ధాంతాల నిర్మాణానికి ఎంతగానో దోహదపడతాయన్నమాట.

ప్రణాళికల తయారీ, అమలులోగల గణాంకశాస్త్ర ప్రాముఖ్యత : ఇది ప్రణాళికాయుగం. ప్రపంచంలోని చాలా దేశాలలో ప్రణాళికలు జరిపి తక్కువ కాలంలోనే ప్రజల జీవన ప్రమాణాన్ని పెంచడానికి ప్రయత్నాలు జరుగుతున్నాయి. ప్రణాళికలు సక్రమంగా రూపొందించడానికి గణాంకాలు ఎంతో అవసరం. దేశంలోని సహజవనరులను, మానవవనరులను, ద్రవ్య వనరులను అంచనా వేయడానికి, వివిధ రంగాల ప్రాధాన్యతలను నిర్ణయించి, ఆయా రంగాలకు కేటాయింపులు చేయడానికి గణాంకాలు తోడ్పడతాయి. అంతేగాక ప్రణాళిక అమలు జరిపిన తర్వాత ప్రణాళికా ఫలితాలను సమీక్షించడానికి గణాంక పద్ధతులను ఉపయోగించుట తప్పనిసరి.

బ్యాంకర్లకు, స్టాక్ బ్రోకర్లకు గణాంకాల ఉపయోగం : ఆర్థిక వ్యవస్థలో ఏర్పడే ఒడుదుడుకులను వ్యాపారచక్రాలంటారు. బ్యాంకరు వ్యాపారచక్రాలను గణాంక పద్ధతుల ద్వారా పరిశీలించి విజృంభణ, మాంద్యాలను ఊహించి, దానికనుగుణంగా ద్రవ్యస్థాయి నిర్ణయిస్తాడు. బ్యాంకులు ఎప్పుడు ద్రవ్యత్వత (liquidity)ని కల్గి ఉండాలి. ఖాతాదారు అడిగిన వెంటనే నగదు చెల్లించే శక్తిని బ్యాంకు కల్గిఉండటాన్నే ద్రవ్యత్వత అంటారు. ద్రవ్యత్వత లేకపోతే బ్యాంకు ప్రతిష్ఠను కోల్పోతుంది. అట్లాని అవసరాన్ని మించి నగదు ఉంచుకుంటే బ్యాంకు నష్టపోతుంది. కాబట్టి అభివృద్ధిపై నెలసరి స్థాయిలో నగదు నిల్వలు ఉంచుకోవడానికి గణాంకశాస్త్రం ఉపయోగపడుతుంది. బ్రోకర్లకు, స్పెక్యులేటర్లకు, పెట్టుబడిదార్లకు కూడా గణాంకాలు ఆయువుపట్టు. వివిధ కంపెనీల వాటాల ధరలు ఎట్లా ఉంటుందో గణాంకాల ద్వారా అధ్యయనం చేసి వాటాలలో పెట్టుబడులను పెడతారు.

ప్రభుత్వ నిర్వహణలో గణాంకశాస్త్ర ప్రాముఖ్యత : గణాంకశాస్త్రం వాస్తవంగా ప్రభుత్వ, లేదా రాజ్య పరిపాలనా అవసరాల నుండి ఏర్పడిందని చెప్పవచ్చు. దేశ స్థితిగతులను, ప్రజాసమస్యలను తెలుసుకొని వాటికి పరిష్కారమార్గాలు కనుగొనడంలో ప్రభుత్వాలకు గణాంకాలు ఎంతగానో ఉపయోగపడుచున్నాయి. అందుచేతనే ప్రతి ప్రభుత్వ శాఖలో కూడా తప్పనిసరిగా గణాంకా విభాగాన్ని ఏర్పాటు చేయడం జరిగింది. పన్నుల విధానాలు రూపొందించడానికి, వివిధ సంక్షేమ కార్యకలాపాలు అమలుపరచడానికి గణాంకాలు ఎంతో అమూల్యమైనవి. శాంతిభద్రతలను సమీక్షించడానికి నేరాలు, ప్రమాదాలకు సంబంధించిన గణాంకాలు సేకరిస్తారు. ప్రభుత్వం రూపొందించిన వివిధ సాంఘిక, ఆర్థిక పథకాల జయాపజయాలను అధ్యయనం చేయడం గణాంకశాస్త్రం ద్వారానే జరుగుతుంది. అందుచేతనే "సక్రమ రాజ్యపాలనకు గణాంకాలు పునదివంటివి" చెప్పవచ్చు.

ఇతర రంగాలలో గణాంకశాస్త్ర ఉపయోగం : పైన వివరించిన రంగాలలోనే కాకుండా రవాణాసంస్థలు, భీమా సంస్థల సామర్థ్యాలను నిర్ణయించడానికి కూడా గణాంకాలు ఉపయోగపడతాయి. ఉదాహరణకు ఆర్డీసీ సంస్థ వారు ప్రతి బస్సుకు ఒక గణాంక నివేదికను తయారుచేస్తారు. దీనితో సంస్థలో ఆదాయ, వ్యయాలను తెలియజేస్తారు. ఈ వివరాలను బట్టి లాభసాటి కాని రూట్లలో బస్సులు తగ్గించడం, లేదా నిలుపుదల చేయడం చేస్తారు. అట్లాగే భీమా కంపెనీలు వివిధ వయో వర్గాల మరణాల శాతాన్ని అంచనా వేయడం ద్వారా వివిధ ప్రమేయాలను ఆయా పాలసీలపై నిర్ణయించడం జరుగుతుంది. ఈ విధంగా ఆయా సందర్భాలలో రవాణా, భీమాసంస్థలు గణాంకాలను ఉపయోగించి ప్రయోజనం పొందుచున్నారు.

## 1.7 గణాంకశాస్త్ర పరిమితులు

గణాంకశాస్త్రం వివిధ శాస్త్రాలతో సంబంధం కలిగి వుంది. ఈ శాస్త్రానికి అనేక ఉపయోగములు వున్నప్పటికీ కొన్ని పరిమితులు కూడా వున్నాయి. అవి :

- 1) గణాంకశాస్త్రం సమిష్టి విషయాలనే తప్ప వ్యక్తిగత విషయాలను గూర్చి పరిగణించదు మరియు వివరించదు. దీని ఉపయోగము సామూహిక విషయాలు లేదా సమస్యలకు మాత్రమే పరిమితమై వుంటుంది.
- 2) గణాంకాలు లేదా గణాంక పద్ధతులు ఫలితాలు కావు. ఇవి ఫలితాలను సాధించటానికి ఉపయోగపడే సాధనాలు మాత్రమే. సమస్యలను అధ్యయనం చేసి దాని ద్వారా విషయాలను రుజువు పరచడానికి గణాంకాలు ఉపయోగపడతాయి.
- 3) గణాంకాలను దుర్వినియోగ పరచటానికి అవకాశం వుంది. అసంపూర్తిగాను, పక్షపాత నిర్ణయాలతోను, అవగాహన లోపంతో గణాంకాలను గణకుడు ఉపయోగిస్తే, ఈ శాస్త్రం దుర్వినియోగమవుతుంది. దీన్ని దృష్టిలో వుంచుకొనే W.I. King అనే శాస్త్రవేత్త “గణాంకాలు మట్టి ముద్ద వంటివి. వాటినుపయోగించి దైవాన్నిగాని, దెయ్యాన్ని గాని సృష్టించవచ్చు” వ్యాఖ్యను చేశాడు. కావున గణాంకాలు సక్రమంగా ఉపయోగించకపోతే ప్రమాదకర ఫలితాలు వస్తాయి. ప్రఖ్యాత గణాంకశాస్త్రవేత్త అయిన బౌలీ ఒక సందర్భంలో “గణాంకశాస్త్రం ఒక పనిముట్టు. ఇది అసంపూర్ణమైంది కావచ్చు. కాని దాని ఉపయోగం, లోపం తెలియని వాళ్ళు వలన అది చాలా ప్రమాదకరంగా పరిణమిస్తుందని” తెలియజేశాడు.
- 4) గణాంకశాస్త్రం విచక్షణ, చాకచక్యంతో అన్వయించాలి. నిర్దిష్ట లక్ష్యం లేనట్లయితే సేకరించిన దత్తాంశం సరియైన ఫలితాన్ని ఇవ్వదు.
- 5) గణాంక శాస్త్రం పరిమాణాత్మక అంశాలను మాత్రమే పరిగణనలోనికి తీసుకుంటాయి. గుణాత్మక విషయాలు పరిశీలించదు. ఒకవేళ గుణాత్మక విషయాలను అధ్యయనం చేయడానికి కూడా వాటికి పరిమాణాత్మక విలువలను అపొందించి మాత్రమే అధ్యయనం చేయవలసి వుంటుంది. ఉదాహరణకు విద్యార్థుల తెలివితేటలను పరీక్షలలో వారికి వచ్చిన మార్కులను బట్టి కొంతవరకు అంచనా వేయవచ్చు.
- 6) గణాంకాలు పూర్తి వాస్తవాలు కాదు. రమారమి యదార్థాలు ఈ శాస్త్రంలో రూపొందించబడిన సిద్ధాంతాలు భౌతికశాస్త్రాలలో వలే ఖచ్చితంగా ఉండవు. అవసరమైన యదార్థతయే తప్ప సంపూర్ణ యదార్థత ఈ శాస్త్రంలో యదార్థత వుండదు. ఈ శాస్త్రం చాలా వరకు సంభావ్యత సిద్ధాంతం మీద ఆధారపడి వుంటుంది. కావున యదార్థత కలిగి వుండవచ్చు లేదా ఉండకపోవచ్చు. ఉదాహరణకు ఒక నాణెం ఎగురవేసినపుడు బొమ్మ లేదా బొరుసు పడే అవకాశాలు సమానంగా ఉంటాయి. ఒక నాణెంను 10 సార్లు ఎగురవేస్తే బొమ్మ బొరుసు సమానంగా పడదు. కాని 1000సార్లు ఎగురవేస్తే బొమ్మ, బొరుసు సమానంగా పడే అవకాశాలు ఎక్కువగా ఉంటాయి.
- 7) గణాంకాలు విచారించే విషయానికి సంబంధించిన పూర్తి సమాచారాన్ని తెలియజేయలేవు. అనేక సందర్భాలలో విషయ అవగాహనకు కావలసిన సమాచారం గణాంకాల ద్వారా ఉండడం సాధ్యం కాదు. ఉదాహరణకు A, B అనే ఇద్దరు వ్యాపారస్తులు గత 3 సంవత్సరములలో సగటును 10,000 రూపాయల లాభం సంపాదించే వ్యాపారంలో సమాన సామర్థ్యం గల వారని చెప్పలేము. ఎందుకంటే వారి పెట్టుబడులలోను లేదా అమ్మకాల టర్నోవరులోను బేధాలు ఉండవచ్చు. ఈ సమాచారం తెలియకపోతే తప్పుడు నిర్ణయాలు చేసే అవకాశం వుంటుంది.

- 8) గణకుడు నిపుణుడు కానప్పుడు, పక్షపాత వైఖరి అవలంబించటం వంటి పరిస్థితుల వల్ల గణాంకశాస్త్రంపై నమ్మకం పోతోంది. సరియైన వాఖ్యలు వివరణ లేనప్పుడు, గణాంకాలు ప్రజలలో అపనమ్మకాన్ని సృష్టిస్తాయి. డిస్రీలీ అనే ఆర్థికవేత్త గణాంకాలను అపహాస్యం చేస్తూ ఈ విధంగా వివరించాడు. “ప్రపంచంలోని అబద్ధలు మూడు రకాలు ఒకటి అబద్ధాలు, రెండు పచ్చి అబద్ధాలు, మూడు గణాంకాలు. దీన్నిబట్టి పరిశీలిస్తే గణాంకాలను నమ్మకకంకాని అబద్ధాలుగా చెప్పవచ్చు. అంతేకాక అనుభవం లేని వారి చేతిలో గణాంకాలు చాలా ప్రమాదకరమైన సాధనాలు.
- ఎ) గణాంక ఫలితాలను విశ్లేషించేటప్పుడు ఆ గణాంక పద్ధతులను, విశ్లేషణ సాధనాలను గూర్చి పూర్తిగా తెలుసుకోవాలి. లేకపోతే వాటి వ్యాఖ్యానాలు తప్పుదోవ పట్టిస్తాయి.
- బి) గణాంక పరిశోధకుడు నిపుణుడై యుండి నిష్పక్షపాతంగా మెలగాలి. ప్రతిచయనాల ఎంపికలో కూడా పక్షపాతం లేకుండా వుండాలి.
- సి) కొన్ని సందర్భాల్లో గణాంక పద్ధతులను సగటుల ఆధారంగా పరిశీలించినప్పుడు సాధారణ విషయాలకు అనుసరిస్తే అవి అసత్యంగా వుంటాయి.
- డి) ప్రతిచయనాలు అవసరమైన సంఖ్యలో లభ్యంకాకపోతే ఫలితాలు పూర్తి దత్తాంశాన్ని ప్రతిబింబించవు. అందువల్ల ఫలితాలు తప్పుగా వుండవచ్చు.

గణాంకశాస్త్రం లోని పరిమితుల వల్ల ప్రజలలో కొద్దిమేర అపనమ్మకం వున్నా శాస్త్రీయ అధ్యయనానికి గణాంకాలు ఎంతగానో ఉపయోగపడతాయి. ఈ శాస్త్రం పట్ల విశ్వాసం పెరగాలంటే గణకులు దత్తాంశ స్వభావాన్ని బట్టి గణాంక పద్ధతులను పాటించి సక్రమంగా విశ్లేషణ చేయాలి. నిపుణులు సరియైన అవగాహనతో గణాంక పద్ధతులను ఉపయోగించటం వల్ల, ఆధునిక కాలంలో గణాంకశాస్త్ర ప్రాముఖ్యం విపరీతంగా పెరిగింది.

### 1.8 ఆర్థిక కార్యకలాపాలను కొలవటంలో గణాంకశాస్త్ర పాత్ర

గణాంకశాస్త్రానికి, అర్థశాస్త్రానికి గల పరస్పర సంబంధాన్ని విలియం పెట్టీ అనే శాస్త్రవేత్త 17వ శతాబ్ది చివర్లో వివరించారు. అయితే గణాంకశాస్త్ర సూత్రాల ప్రాతిపదికగా ఆర్థిక సిద్ధాంతాలను రూపొందించటం, ఆర్థిక విధానాలను రూపకల్పన చేయటానికి చాలా కాలం తీసుకుంది. ఎందుకంటే ఆ కాలంలో నిగమన విధానంపై ఆధారపడి సిద్ధాంత రూపకల్పన జరిగేది.. తరువాత క్రమక్రమంగా గణాంకశాస్త్ర ప్రాతిపదికపై ఆధారపడి సిద్ధాంతాలను రూపొందించటం జరిగింది. గణాంకశాస్త్ర ప్రాతిపదికపై ఆధారపడి సిద్ధాంతాలను రూపొందించిన ముఖ్యమైన ఆర్థిక శాస్త్రవేత్తగా జె.యస్. మిల్స్ చెప్పవచ్చు. ఆ తరువాత జీవాన్స్, ఆల్ఫ్రెడ్ మార్షల్, పారిటో, కీన్స్ మొదలైన అనేక మంది శాస్త్రవేత్తలు గణాంక పద్ధతులపై ఆధారపడి ఆర్థిక సూత్రాలను, ఆర్థిక విధానాలను రూపొందించడం జరిగింది. నేడు గణాంక శాస్త్ర ప్రాధాన్యతపై రెండో అభిప్రాయమే కన్పించదు.

గణాంక సమాచారం, గణాంక విశ్లేషణ పద్ధతులు సకల ఆర్థిక సమస్యల పరిష్కారంలో ఎంతో ఉపకరిస్తున్నట్లు మనం గమనించవచ్చు. ఉత్పత్తి, వినియోగం, పంపిణీ, జాతీయాదాయం, జాతీయ సంపద, వేతనాలు, ధరలు, పాదుపు, వ్యయం, పెట్టుబడి, నిరుద్యోగం, పేదరికం లాంటి ఆర్థిక సమస్యల పరిమాణాల్లో మార్పులను కనుగొనేందుకు, తదనుగుణంగా సిద్ధాంతాలను రూపొందించేందుకు కావలసిన ఉపకరణాలను గణాంకశాస్త్రమే అందిస్తుంది. ఆర్థిక కార్యకలాపాల్లోని మార్పులు కొలిచేందుకు (ఉదా॥ ద్రవ్యోల్బణం, ద్రవ్య సప్లయ్, ద్రవ్య డిమాండ్ etc.) ఉపయోగించే సూచీ సంఖ్యలు గణాంకశాస్త్రము అందించిన పనిముట్లే. స్థూల ఆర్థిక చలాంకాలైన జాతీయాదాయం, పెట్టుబడి, పాదుపు మొదలైనవి గణాంకాల ప్రాతిపదికగా జాతీయాదాయ లెక్కలలో రూపొందించటంతోపాటు, దేశాభివృద్ధికి సంబంధించి ప్రణాళికా రూపకల్పన, అమలుకు దోహదపడుతుంది. గణాంకశాస్త్రంలోని ఆధునిక గణాంక పద్ధతులను వ్యయఫలాలు, ఉత్పత్తి ఫలాలు, వినియోగఫలాలు మొదలైన వాటితోపాటు ఉపయోగించడం జరుగుతుంది.

కాలశ్రేణులు, సూచీ సంఖ్యలు, భవిష్యత్తును అంచనా వేసే పద్ధతులు (Forecasting Techniques), డిమాండు విశ్లేషణ మొదలైనవి ఆర్థికశాస్త్రంలో ఉపయోగించే అతిముఖ్యమైన గణాంక పద్ధతులు. ఉదాహరణకు కాలశ్రేణుల విశ్లేషణను ఆర్థికశాస్త్రంలోని ధరలు, ఉత్పత్తి, వినియోగం, ద్రవ్య చలామణి, బ్యాంకు డిపాజిట్లు మొదలైన అనేక విషయాల్లో ఉపయోగించి మెరుగైన ఫలితాలను రాబట్టడం జరుగుతోంది. ధరలు, ద్రవ్యోల్బణం, పారిశ్రామిక ఉత్పత్తులు, మొదలైన అనేక అంశాలలో మార్పులను కనుగొనేందుకు సూచీ సంఖ్యలు ఉపయోగపడుతున్నాయి. డిమాండు విశ్లేషణలో భవిష్యత్తును అంచనా వేసే పద్ధతులు (Forecasting Techniques) ఉపయోగపడుచున్నాయి.

ఈ విధంగా గణాంకశాస్త్ర ఆవశ్యకత అర్థశాస్త్రానికి ఎంతో వుంది. దేశప్రగతిని కొలవటంలో, దేశ ప్రగతి కొలిచే కొలమానాలు రూపొందించుటలో సిద్ధాంతాల రూపకల్పనలో గణాంక శాస్త్ర ప్రాముఖ్యం ఎంతో వుంది. రాసురాసు అర్థశాస్త్రమునకు, గణిత మరియు గణాంక శాస్త్రాలకు మధ్య గల సంబంధం త్వరితగతినీ పెంపొందడం ఫలితంగా Econometrics అనే నూతన శాస్త్ర ఆవిర్భావానికి దోహదం చేసింది. ఆర్థికపరమైన గణాంకాల ఖచ్చితత్వము, వాస్తవికత మీద ఆర్థిక శాస్త్రం రూపొందించే ఫలితాలు ఆధారపడి వుంటాయి. ఫలితాలు యొక్క విశ్వసనీయత గణాంకాల విశ్వసనీయత మీదనే ఆధారపడి వుంటుంది.

## 1.9 సారాంశం

గణాంకశాస్త్రాన్ని మొట్టమొదట రాజుల శాస్త్రము, రాజ్యాంగ శాస్త్రము, రాజకీయ అర్థశాస్త్రముగా పిలిచేవారు. ఈ శాస్త్రాన్ని గణాంకశాస్త్రంగా ఉపయోగించిన శాస్త్రవేత్త అచన్ వాల్. గణాంకశాస్త్రము అనే పదాన్ని ఏకవచన మరియు బహువచన రూపంలో ఉపయోగిస్తాము. ఏకవచన ప్రయోగంలో గణాంకశాస్త్రము అనగా గణాంక పద్ధతుల సముదాయం, బహువచన ప్రయోగంలో గణాంకశాస్త్రం అంటే సాంఖ్యిక దత్తాంశం. అనేక మంది శాస్త్రవేత్తలు గణాంకశాస్త్రాన్ని నిర్వచించే ప్రయత్నం చేశారు. అందులో గణాంకశాస్త్ర లక్షణాలను అన్నింటినీ చొప్పిస్తూ సమగ్ర నిర్వచనాన్ని ఇచ్చిన శాస్త్రవేత్త హారేస్ సేక్రీస్ట్.

ఏదైనా సత్యానికి సంబంధించిన సమాచారాన్ని సేకరించి, సూక్ష్మీకరించి, విశ్లేషించి, వివరించి, భవిష్యత్తుకు సంబంధించిన జోస్యాన్ని తెలుపుతూ, విధానాలను రూపకల్పన చేయటం గణాంక శాస్త్రం యొక్క విధి. మొట్టమొదట గణాంకశాస్త్రాన్ని రాజులు ఉపయోగించినా, కాలగమనంలో దీని పరిధి విస్తరిస్తూ నేడు సాధారణ మానవుని దైనందిన జీవనంలో భాగంగా రూపొందింది. ఈ శాస్త్రంతో సంబంధం లేని శాస్త్రాలు దాదాపుగా లేవనే చెప్పాలి. గణాంకశాస్త్ర ప్రయోజనం, ప్రాముఖ్యతలు క్రమక్రమంగా పెరుగుచున్ననూ, పరిమితులు కూడా లేకపోలేదు. గణాంకశాస్త్రం ఒక వాడియైన పనిముట్టు. ఈ శాస్త్రాన్ని ఉపయోగించే గణకుడు నిపుణుడు, నిష్పాక్షికత కలవాడు కానట్లయితే, గణాంకశాస్త్రము వల్ల ప్రయోజనాలకన్నా నష్టాలే ఎక్కువవుతాయి. కావున ఈ శాస్త్ర ప్రయోజనం దీనిని ఉపయోగించే శాస్త్రవేత్త వైపుణ్యంపై ఆధారపడి వుంది. ఈ పాఠ్యభాగంలో మనం గణాంకశాస్త్ర నిర్వచనాలు మరియు పరిధిని గురించి తెలుసుకున్నాం. వచ్చే పాఠ్యభాగంలో మనం దత్తాంశ సేకరణను గూర్చి తెలుసుకుందాం.

## 1.10 ముఖ్యపదాలు

1. దత్తాంశం : అంకెలలో సమాచారం
2. గుణాత్మక సమాచారం : అంకెలలో కొలవలేని సమాచారం. ఉదా || మంచితనం, అందం మొదలైనవి.
3. ప్రతిచయనాలు : ప్రాతినిధ్యం వహించే కొన్ని అంశాలు. ప్రతిచయనాల పర్యాయపదం శాంపిల్స్.
4. జనాభా : గణాంకశాస్త్రములో పరిశీలన చేసే అంశాలనన్నింటినీ 'జనాభా' అనే పదంతో పిలుస్తాము.

### 1.11 నమూనా ప్రశ్నలు

#### I. వ్యాసరూప ప్రశ్నలు

1. గణాంకశాస్త్ర పురోగతిని తెల్పండి?
2. గణాంకశాస్త్రాన్ని నిర్వచించి ఇతర శాస్త్రాలతో సంబంధాన్ని తెలుపండి ?
3. గణాంకశాస్త్రం అంచనాలకు సంభావ్యతలకు సంబంధించిన శాస్త్రం - చర్చించండి.
4. గణాంకాలు మట్టిముద్ద వంటివి. వాటి నుండి దైవాన్ని గాని, దెయ్యాన్ని గాని సృష్టించవచ్చు - వివరించండి?

#### II. సంక్షిప్త ప్రశ్నలు

5. ఏకవచన, బహువచన ప్రయోగాల్లో గణాంకశాస్త్రం.
6. గణాంకశాస్త్ర ప్రయోజనాలు
7. గణాంకశాస్త్ర పరిమితులు

### 1.12 చదువదగిన గ్రంథాలు

- |                                    |   |                                       |
|------------------------------------|---|---------------------------------------|
| 1. B.N. Elhance                    | : | Fundamentals of Statistics            |
| 2. S.P. Gupta                      | : | Statistical Methods                   |
| 3. C.B. Gupta                      | : | An Introduction to Statistical Method |
| 4. S.C. Gupta                      | : | Fundamentals of Statistics.           |
| 5. M.C. Shukla and<br>S.S. Gulshan | : | Statistics - Theory and Practice      |



పాఠం - 2

**గణాంక విచారణ - యోజన - దత్తాంశ సేకరణ - ఎడిటింగ్,  
యదార్థత, సమానీకరణ**

**పాఠ్యాంశ నిర్మాణక్రమం**

- 2.0 అక్ష్యాలు
- 2.1 విషయపరిచయం
- 2.2 గణాంక విచారణ
- 2.3 యోజన దశ
  - 2.3.1 గణాంక విచారణ అక్ష్యం - పరిధి
  - 2.3.2 గణాంక ప్రమాణాల నిర్ణయం
  - 2.3.3 గణాంక సేకరణ మూలాలు
  - 2.3.4 గణాంక విచారణ పద్ధతులు
  - 2.3.5 యదార్థతా పరిమితి
- 2.4 దత్తాంశ సేకరణ
  - 2.4.1 ప్రాథమిక దత్తాంశ సేకరణ పద్ధతులు
  - 2.4.2 ద్వితీయ లేక గౌణ దత్తాంశం - సేకరణ మూలాలు
- 2.5 గణాంక విచారణ పద్ధతులు
- 2.6 ప్రతిచయన పద్ధతులు
- 2.7 ప్రతిచయన సూత్రాలు
- 2.8 ఎడిటింగ్, యదార్థత, సమానీకరణ, దోషాలు
  - 2.8.1 ఎడిటింగ్
  - 2.8.2 యదార్థత
  - 2.8.3 సమానీకరణ
  - 2.8.4 దోషాలు
- 2.9 సారాంశం
- 2.10 ముఖ్యపదాలు
- 2.11 నమూనా ప్రశ్నలు
- 2.12 చదువదగిన గ్రంథాలు

## 2.0 లక్ష్యాలు

ఈ పాఠ్య భాగం చదివిన తరువాత మీరు ఈ క్రింది విషయాలను తెలుసుకోగలరు.

- \* గణాంక సేకరణ అంటే ఏమిటి?
- \* గణాంక విచారణ లక్ష్యము, పరిధిని గురించి తెలుసుకోవడం
- \* గణాంక ప్రమాణాలను తెలుసుకోవడం
- \* గణాంక విచారణ పద్ధతులను తెలుసుకోవడం
- \* దత్తాంశ సేకరణ, సేకరణ పద్ధతులను తెలుసుకోవడం
- \* జనాభా పద్ధతి, ప్రతిచయన పద్ధతులను గూర్చి తెలుసుకోవడం
- \* ప్రతిచయన పద్ధతులను గూర్చి తెలుసుకోవడం

## 2.1 విషయపరిచయం

సత్యాన్వేషణ మానవ నైజము. సత్యాన్వేషణలో భాగంగా ప్రపంచంలోని అన్ని దేశాల్లో వివిధ రంగాల్లో ఉదాహరణకు రాజకీయ, ఆర్థిక వైజ్ఞానిక రంగాల్లో గణాంక విచారణలు కొనసాగుచున్నాయి. సత్యాన్వేషణ కోసం ఒక శాస్త్రీయ పద్ధతిలో జరిపే శోధన లేదా పరిశోధనను గణాంక విచారణ అంటారు. గణాంక పద్ధతుల ద్వారా సత్యాన్ని లేదా విషయాన్ని గురించి తెలుసుకోవటాన్నే గణాంక విచారణ అని కూడా చెప్పవచ్చు.

గణాంక విచారణ ఒక శాస్త్రీయ పద్ధతిలో జరిపవలసిన ప్రక్రియ. ఈ పద్ధతి ఐదు దశల ద్వారా జరుగుతుంది. అందులో మొదటి దశ యోజన లేదా ప్రాథమిక ఆలోచన దశ. రెండో దశ దత్తాంశ సేకరణ, మూడో దశ ఎడిటింగ్, యదార్థత, సమానీకరణ. నాలుగో దశ పట్టికలు, రేఖా పటాలు, చిత్ర పటాల ద్వారా దత్తాంశాన్ని సమర్పించడం. ఆఖరి దశ గణాంక విశ్లేషణ మరియు విపులీకరణ. ఈ అధ్యాయంలో మనం యోజన, దత్తాంశ సేకరణ, ఎడిటింగ్, యదార్థత, సమానీకరణ అనే మూడు దశలను గూర్చి తెలుసుకుందాం.

## 2.2 గణాంక విచారణ

సత్యాన్వేషణ మానవ స్వభావము. సత్యాన్వేషణ కోసం శాస్త్రీయ పద్ధతిలో జరిపే శోధన లేదా పరిశోధనను గణాంక విచారణ అంటారు. గణాంక విచారణ ఐదు దశల్లో జరుగుతోంది. అవి - 1. యోజన, 2. దత్తాంశ సేకరణ, 3. ఎడిటింగ్, యదార్థత, సమానీకరణ, 4. సమర్పణ, 5. విశ్లేషణ, విపులీకరణలు. ఈ వివిధ దశలలో గణాంక విచారణలు కొనసాగాలి. మొదటి దశ యోజన అంటే ప్రాథమిక ఆలోచన దశ. ఈ దశలో విచారణోద్దేశము, పరిధి, విచారణ పద్ధతులు, గణాంక మూలాలు, యదార్థతా స్థితి మొదలైనవి నిర్ణయించుకోవాలి. యోజన తరువాత దశ దత్తాంశ సేకరణ. దత్తాంశం లభ్యమయ్యే మూలాలు రెండు రకాలు. అవి ప్రాథమిక దత్తాంశం, ద్వితీయ దత్తాంశం. ఈ మూలాల ద్వారా దత్తాంశాన్ని సేకరించే ప్రక్రియ రెండో దశలో జరుగుతుంది. దత్తాంశ సేకరణ ద్వారా సేకరించిన దత్తాంశం బృహత్ పరిమాణంలోను, జఠిలంగాను, వివిధ దోషాలను కలిగి ఉంటుంది. కావున ఈ విధమైన దత్తాంశాన్ని సరళంగా, దోష రహితంగా, యదార్థంగా, సంపూర్ణంగా సంకల్పితాన్ని మూడో దశలో చేయటం జరుగుతోంది. ఈ మూడో దశలోనే ఎడిటింగ్, యదార్థత, సమానీకరణ అంటారు. మూడోదశ దాటిన తరువాత సమర్పణ అనేది నాల్గవ దశ సమర్పణ. ఈ దశలో దత్తాంశాన్ని వర్గీకరించి, పట్టికరించటం ద్వారా సులభతరం చేసి పట్టికలు, రేఖా చిత్ర పటాల ద్వారా సమర్పణ

చేయటం జరుగుతుంది. గణాంక విచారణలో ఆఖరి దశ విశ్లేషణ, విపులీకరణ. ఈ దశలో గణాంక సమాచారాన్ని వివిధ విశ్లేషణ ప్రమాణాల ద్వారా అంటే సగటులు, విస్తరణ మానాలు, సహ సంబంధం, అంతర్వివేకం లాంటి విశ్లేషణ పద్ధతుల ద్వారా విశ్లేషించి, విపులీకరించటం జరుగుతోంది. ఈ విధంగా గణాంక విచారణ కొనసాగుతుంది.

### 2.3 యోజన దశ

గణాంక విచారణలో మొదటి దశ యోజన. యోజన లేదా ప్రణాళిక దశ నాలుగు గోడల మధ్య జరిగే ప్రక్రియ. దీనినే ప్రాథమిక ఆలోచన దశ అంటారు. ఈ దశలో గణాంక విచారణకు పూర్వం గణాంక శోధకుడు విచారణకు తగిన ప్రణాళికను రూపొందిస్తాడు.

యోజన దశలో గణాంక శోధకుడు దత్తాంశ సేకరణకు సంబంధించి అనేక చర్యలు తీసుకుంటాడు. ప్రణాళిక సక్రమంగా రూపొందించుకుంటే అనేక సమస్యలు తొలగి, మంచి ఫలితాలు వస్తాయి. కాలం, ధనం వృధాకాదు. కావున తగు జాగ్రత్తలను వహించి యోజన రూపొందించుకోవాలి. ఈ దశలో గణాంక విచారణకు అవసరమైన అనేక విషయాలకు సంబంధించి ఆలోచన చేసి, తగు ప్రణాళికను రూపొందించుకోవాలి. అందుకోసం కింద సూచించిన విషయాల పై తగు జాగ్రత్తలు తీసుకొని, నిర్ణయాలను తీసుకోవాలి.

**2.3.1 గణాంక విచారణ లక్ష్యం - పరిధి (Objectives and Scope of the Enquiry):-** గణాంక సేకరణకు ముందు పరిశోధనా లక్ష్యము - పరిధిని నిర్ణయించవలెను. లక్ష్య నిర్ణయము ఖచ్చితంగా వుంటే గణాంక విచారణలో సేకరించవలసిన గణాంకాల స్వభావము, సేకరణ పద్ధతిని నిర్ణయించటం సులువుగా సాధ్యపడును. సమస్యకు సంబంధించిన సమాచారాన్ని మాత్రమే సేకరించుటకు వీలుపడును. వనరులు దుబారా కాకుండా నిరుపయోగమైన సమాచార సేకరణను తొలగించుకొనవచ్చును. అవసరాన్ని బట్టి విశ్లేషణా పరిధి, గణాంక సేకరణ ప్రాంతమును పరిమితి చేయవచ్చును. పరిధి విస్తరించినదైనచో sample method వినియోగించవలసి యుండును. పరిమితి పరిధి కలిగి యున్నచో జనాభా పద్ధతి (census method) వినియోగించవచ్చును. గణాంక పరిశోధనకు అందుబాటులో గల వనరులు - డబ్బు, సిబ్బంది, కాలము తదితర అంశాలు ఆధారంగా పరిశోధనకు వినియోగించవలసిన పద్ధతిని ఎన్నుకొనవలెను.

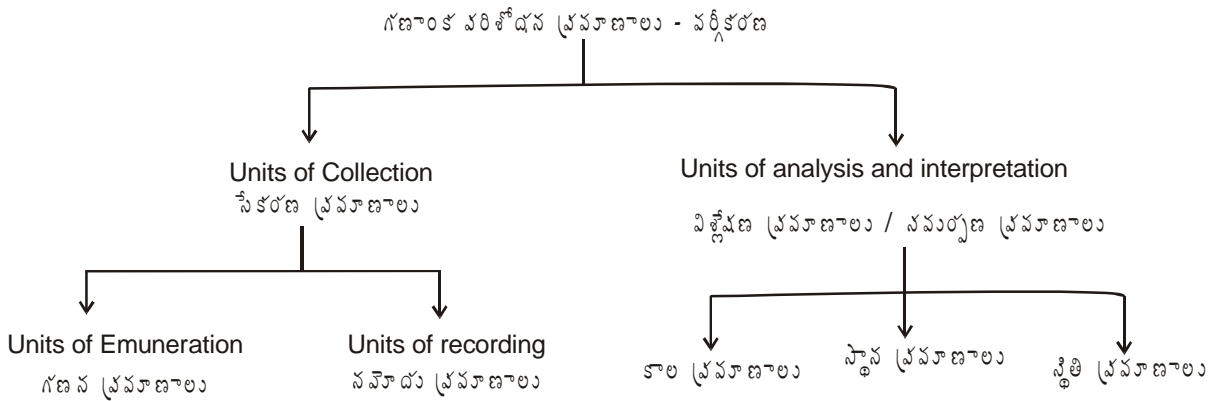
**2.3.2 గణాంక ప్రమాణాల నిర్ణయం (Statistical Units to be Used):-** సమస్య పరిష్కారానికి అనువైన గణాంకాల సేకరణకు సృష్టమైన గణాంక ప్రమాణాలను నిర్ణయించుకొనవలెను. ఉదా॥ సామాజిక ఆర్థిక అంశాలకు సంబంధించిన పరిశోధనలకు వ్యక్తి, కుటుంబము, గృహము లేక ఒక మండలము (ప్రాంతం) ప్రమాణంగా గ్రహించబడును. గణాంక విషయమే గణాంక ప్రమాణ ఎన్నికకు మార్గమవుతుంది. గణాంక సమాచారాన్ని కొలవటానికి, మార్పులను అంచనావేయటానికి ఇవి ఉపయోగపడతాయి. సాంప్రదాయకంగా భౌతిక ప్రమాణాలైన మీటరు, లీటరు, గంటలు, రోజులు, వారాలు ప్రమాణాలుగా గ్రహింపబడును. పరిశోధన నిర్వహణకు తగిన సృష్టమైన ప్రమాణాలను ఎన్నిక చేసుకొనవలెను.

గణాంక యూనిట్లు : 1. స్పష్టంగా, 2. నిర్దుష్టముగా, 3. స్థిరత్వమును కలిగి, 4. పరిశోధనకు తగినదిగా, 5. ఏకత్వమును కలిగి యుండవలెను.

**గణాంక ప్రమాణ ఎంపికలో - పరిగణించవలసిన అంశాలు :-**

1. గణాంక ప్రమాణము విచారణ తగినదిగా ఉండవలె.
2. సులభంగా అర్థమయ్యేటట్లుగా ఉండవలెను.
3. నిర్దుష్టమైనదిగా ఉండవలెను.

4. నిర్వచించబడిన ప్రమాణాన్ని స్థిరంగా గ్రహించవలె (మార్చరాదు).
5. గణాంక ప్రమాణము ప్రామాణికమైనదై పోల్చుటకునునైనదిగా యుండవలెను.
6. గణాంక ప్రమాణ నిర్వచనము నిర్ణీతంగా, స్వయం బోధితంగా, స్వయం వ్యక్తంగా నుండవలెను.
7. క్లుప్తంగా, స్పష్టముగా యుండవలె ప్రాతినిద్యపు లక్షణం కలిగి యుండవలెను.
8. గణాంక ప్రమాణాలలో తారతమ్య శక్తి, సజాతీయత సమానత్వం, సంపూర్ణత్వం, నిశ్చలత, నిర్దుష్టత, ప్రాతినిద్యము, నిష్పాక్షికత ఉండవలెను.



**గణాంక సేకరణ ప్రమాణాలు :-** దత్తాంశాన్ని సేకరించేందుకు ఉపయోగించే ప్రమాణాలను గణాంక సేకరణ ప్రమాణాలుగా చెప్పవచ్చు. ఈ విధంగా ఉపయోగించే ప్రమాణాలను రెండు ఉపవర్గాలుగా విభజించవచ్చును. అవి గణన ప్రమాణాలు, నమోదు ప్రమాణాలుగా చెప్పవచ్చు.

**(ఎ) గణన ప్రమాణాలు :** అవి గణన ప్రమాణాలు, గణాంక సేకరణ లక్ష్యాన్ని దృష్టి యందుంచుకుని గణాంక సేకరణ, గణన ప్రమాణాన్ని నిర్ణయించుకొనవలె. భౌతిక ప్రమాణాలైన టన్ను, పౌండు, మీటరు, గంట, సం॥ మొదలగునవి స్పష్టమైన సాంప్రదాయక ప్రమాణాలు. కాని ఉదాహరణకు జీవన వ్యయ సూచి నిర్మాణంలో ప్రమాణాన్ని నిర్ణయించుటకు స్పష్టంగా దానిని నిర్వచించవలెను. గృహము అనే దానిని ప్రమాణంగా తీసుకుంటే అందు రక్త సంబంధికులు / అక్కడ భోజనము చేయువారు / రేషన్ కార్డులో ఉన్నవారు అనేది స్పష్టంగా నిర్వచించవలెను. తద్వార గణాంకాల సేకరణలో అవసరమైనవి మాత్రమే స్వీకరించబడి అవసరంలేనివి తొలగిపోవును.

**(బి) నమోదు ప్రమాణాలు :-** గణాంకాల నమోదులో ఉపయోగింపబడు కిలోగ్రాములు, క్వీంటాళ్ళు, టన్నులు - (ఆహార పదార్థాలకు సంబంధించినవి) వస్త్రములకు సంబంధించి మీటర్లు ధరలను రూపాయలలో నమోదు చేయుదురు.

**నమోదుకు సంబంధించిన యూనిట్లు :**

1. సామ్యమైనవి లేక ఒక అంశానికి మాత్రమే సంబంధించినవి. ఇవి సాంప్రదాయక ప్రమాణాలు. మీటరు, రూపాయ, టన్ను, కిలోగ్రాము, పౌండు, వస్త్రబేళ్లు, గంట, వారము, సం॥ మొదలైనవి. ఇవి సాంప్రదాయంగా వినియోగించేవి కనుక నిర్వచించడం సులభము. కాని వినియోగించేటపుడు తగిన జాగ్రత్తలు తీసుకొనవలెను.

2. మిశ్రమమైనవి కావచ్చును. సామాన్య ప్రమాణాలకు విశ్లేషణము చేర్చినపుడు అవి మిశ్రమ యూనిట్లుగా ఏర్పడును. ఉదా॥ నిపుణుడైన శ్రామికుడు, ఉద్యోగము గల వ్యక్తి, టన్ను - కిలో మీటరు, కిలోవట్ - అవర్ (గంట), మానవ - గంటలు, చిల్లర ధరలు, నెలసరి వేతనము, పాసింజర్ కిలోమీటరు, ఈ ప్రమాణాలు పరిమిత పరిధి కలిగి నిర్వచించడం జటిలమగును. అందువలన వీనిని స్పష్టంగా తగిన విధంగా నిర్వచించవలెను.

**విశ్లేషణ - అణువర్తిత / సమర్పణ ప్రమాణాలు :**

- (ఎ) విశ్లేషణా ప్రమాణాలను విపులీకరణ ప్రమాణాలు అని కూడా వ్యవహరింతురు. ఇవి : అనుపాతము - నిష్పత్తి, రేటు, శాతము, విచలన గుణకము, విస్తరణ మొ॥వి. గణన ప్రమాణాలుగా కాక స్వతంత్రమైన శుద్ధ సంఖ్యలుగా యుండి శ్రేణులను పోల్చుటకు తోడ్పడును.
- (బి) అనువర్తిత / సమర్పణ ప్రమాణాలు : ఈ ప్రమాణాలను మూడు రకాలుగా చెప్పవచ్చు : కాల ప్రమాణాలు, స్థాన ప్రమాణాలు, స్థితి ప్రమాణాలు, దత్తాంశ ఫలితాలను సమర్పించుటకు ఉపయోగిస్తారు.

**2.3.3 దత్తాంశ సేకరణ మూలాలు :** గణాంక విచారణలో యోజన దశ తొలిమెట్టు. ఆ తరువాత గణాంక విచారణకు అవసరమైన దత్తాంశాన్ని సేకరించవలె. ఫలితాలు సేకరించిన దత్తాంశంపై ఆధారపడి వుంటాయి. అందువల్ల తగు జాగ్రత్తలతో దత్తాంశాన్ని సేకరించవలసి వుంటుంది. విచారణ పద్ధతి జనాభా పద్ధతి అయినా లేదా ప్రతిచయన పద్ధతి అయినా దత్తాంశ సేకరణ అతి ముఖ్యమైన ప్రక్రియ. గణాంక విచారణ కోసం సేకరించే దత్తాంశం రెండు రకాలుగా చెప్పవచ్చు.

అవి : 1. ప్రాథమిక దత్తాంశము, 2. ద్వితీయ / గౌణ దత్తాంశము

1. **ప్రాథమిక దత్తాంశము :** ఒక వ్యక్తి లేదా సంస్థ లేదా ప్రభుత్వం గణాంక విచారణ కోసం మొట్టమొదటగా సేకరించిన దత్తాంశాన్ని ప్రాథమిక దత్తాంశం అంటారు. ఈ విధమైన సమాచారం గతంలో సేకరించి వుండరు. పరిశోధనలో గల సమస్య పరిష్కారానికి సంబంధించి (స్వంతగా) తొలిసారి గణాంకాలను సేకరించడము. ప్రాథమిక దత్తాంశ సేకరణకు ముందు, దత్తాంశ సేకరణ లక్ష్యము, పరిధి దృష్టియందుంచుకొని వివిధ పదాలు, గణన యూనిట్లను నిర్వచించవలె.
2. **ద్వితీయ దత్తాంశము :** ఒక వ్యక్తి లేదా సంస్థ లేదా ప్రభుత్వ సంస్థ లోగడ సేకరించి, విచారణ జరిపి, విశ్లేషించిన సమాచారాన్ని ప్రస్తుత గణాంక విచారణలో ఉపయోగిస్తే దాన్ని ద్వితీయ లేదా గౌణ దత్తాంశం అంటారు. వీటిని గురించి ఈ పాఠం 2.4లో వివరంగా తెలుసుకుందాం.

**2.3.4 గణాంక విచారణ పద్ధతులు (Method of Data Collection -Type of enquiry) :** యోజన దశలో నిర్ణయించుకోవలసిన మరొకటి ఏ విధమైన గణాంక విచారణ పద్ధతిని చేపట్టాలి. విచారణ లక్ష్యము, పరిధి, ఆర్థిక వనరులు, కాలము సాధించవలసిన ఖచితత్వం ఆధారంగా విచారణా పద్ధతిని ఎంచుకొనవలెను. ప్రాథమిక దత్తాంశం సేకరణలో గణాంక ప్రమాణాలను జాగ్రత్తగా నిర్ణయించవలెను. ద్వితీయ దత్తాంశమునకు యీ సమస్యరాదు.

**గణాంక విచారణ పద్ధతులు :** గణాంక విచారణ పద్ధతులు వివిధ రకాలు. విచారణ ఉద్దేశం, ఉద్దేశ పరిధి, విచారణకు సంబంధించిన అంశాల పరిమాణం మొదలైన వాటిపై ఆధారపడి గణాంక విచారణ పద్ధతులను వివిధ రకాలుగా చెప్పటం జరుగుతుంది. వీటిని గూర్చి ప్రస్తుతం తెలుసుకుందాం.

1. **జనాభా విచారణ, ప్రతిచయన విచారణ :** విచారణకు సంబంధించిన (అన్ని యూనిట్లను) అందరిని పరిగణనలోనికి తీసుకొని గణాంక శోధన జరుపబడును. దీనిని జనాభా విచారణ లేక సెన్సెస్ పద్ధతి అందురు. ఉదాహరణకు

హైదరాబాద్ నివాసుల వినియోగ పద్ధతికి సంబంధించిన విచారణలో హైదరాబాదులోని ప్రతి కుటుంబ పెద్దను కలిసి వివరాలు సేకరించబడును.

విచారణకు సంబంధించి ప్రాతినిధ్యం వహించే కొన్ని యూనిట్లను మాత్రమే గణనలోనికి తీసుకొని విచారణ జరిపే పద్ధతిని ప్రతిచయన పద్ధతి అంటారు. సమస్యకు సంబంధించి ప్రాతినిధ్యము గలిగిన కొన్ని యూనిట్లను కుటుంబాలకు గణాంకాలు సేకరింపబడును. గణాంక విచారణలో ప్రతిచయన పద్ధతినే ఎక్కువగా ఉపయోగించడం జరుగుతూ ఉంది.

పై రెండు పద్ధతులలో అంటే జనాభా పద్ధతి, ప్రతిచయన పద్ధతులలో ఏ పద్ధతి ఉపయోగించాలి అనేది (ఎ) వనరుల లభ్యత, (బి) కాల పరిమితి, (సి) యదార్థ పరిమితి, (డి) సమస్యల స్వభావం మొదలైన అంశాలను ప్రాతిపదికగా తీసుకొని నిర్ణయించడం జరుగుతుంది.

2. **ప్రాచారిక, పునర్విచారణలు :** ఒక సమస్య పై మొట్టమొదటిగా చేసిన విచారణ ప్రాచారిక లేక ప్రాథమిక విచారణ అందురు. ప్రాథమిక విచారణలో దత్తాంశము సేకరించుటకు ప్రణాళిక అవసరము. అంతేకాకుండా మొదటిసారిగా సేకరించడం కావున అనేక కష్టనష్టాలు ఎదుర్కోవలసి వుంటుంది. ప్రాథమిక విచారణను విడవకుండా, ఆచరణలో యింకా ఆ విచారణ కొనసాగిస్తే దానిని పునర్విచారణ అంటారు. ప్రాథమిక విచారణలోని ప్రణాళికనే వినియోగించబడడం వల్ల క్రొత్త ప్రణాళిక దీనికి అవసరం ఉండదు. కాని కాలరీత్యా కొన్ని మార్పులు చేసుకొనవచ్చును. ఫలితంగా దత్తాంశ తారతమ్య పరిశీలనలో సమస్యలేర్పడును. అందువలన పునర్విచారణలో సాధ్యమైనంత వరకు గణాంక స్రమాణాలు, వాడిన పదాల నిర్వచనాలు మార్చరాదు. ప్రాచారిక విచారణతో పోల్చితే పునర్విచారణ సులువు. త్వరితంగా, తక్కువ వ్యయంతో విచారణ జరుపవచ్చు.
3. **ప్రత్యక్ష, పరోక్ష విచారణలు :-** పరిమాణాత్మక దత్తాంశము ప్రాతిపదికగా గణాంక విచారణ జరిపితే దానిని ప్రత్యక్ష విచారణ అంటాము. ఎందుకంటే పరిమాణాత్మక సమాచారం ప్రత్యక్షంగా కొలవవచ్చు. ఉదా॥ ఎత్తు, బరువు, ఆదాయం. దత్తాంశాన్ని ప్రత్యక్షంగా అంటే పరిమాణాత్మకంగా కొలవటానికి అవకాశం లేని గుణాత్మకమైన విషయాలను విచారణ జరిపే పద్ధతిని పరోక్ష విచారణ అంటాము. ఉదా॥ తెలివితేటలు, నిజాయితీ. వీటిని కొలవటానికి కొలమానాలు లేవు. అందుచేత కొన్ని ఇతర అంశాలను ప్రాతిపదికగా తీసుకొని విచారణ చేయడం జరుగుతుంది. పరోక్షంగా విచారణలో కొలవడానికి వీలుగల కొన్ని సహజ విషయాలు గైకొనవలెను. అవి : గుణాత్మకంగా ఉన్న విషయాలు ప్రతిబింబించవలెను. ఉదా॥ ఒక వర్గపు విద్యార్థుల తెలివితేటలు అనే గుణం పరోక్షంగా వారి పరీక్ష మార్కుల ఆధారంగా దత్తాంశ సేకరణ జరుపవచ్చును.
4. **బహిరంగ, రహస్య విచారణలు :** విచారణ ఫలితాలను ప్రజలకు వెల్లడిచేస్తే దానిని బహిరంగ విచారణ అంటారు. బహిరంగ విచారణ యందు విచారణా ఫలితాలు ప్రచురింపబడును. దేశంలోని ప్రజలకు అందజేయుదురు. ఫలితాలను గోప్యంగా ఉంచరు. ఉదా॥ ప్రభుత్వం, కొన్ని ప్రభుత్వ సంస్థలు యీ విచారణలు నిర్వహిస్తాయి. రహస్య విచారణలో ఫలితాలు బహిరంగ పరచకుండా, ప్రజలకు తెలియకుండా రహస్యంగా ఉంచెదరు. ప్రైవేటు ఉత్పత్తిదార్ల సంఘాలు, యాజమాన్య సంఘాలు మొదలైనవి ఈ విధమైన విచారణలు నిర్వహిస్తాయి. ప్రైవేటు సంస్థలు తమ స్వప్రయోజనాలను ఆశించి ఎక్కువగా రహస్య విచారణలు చేస్తూ వుంటాయి.
5. **విస్తృత, పరిమిత విచారణలు :** విచారణలో ఒక సమస్యకు సంబంధించిన అన్ని అంశాల పై దత్తాంశమును సేకరించడం విస్తృత విచారణ అందురు. ఉదా॥ జనాభా లెక్కలు. అంటే విచారణ విస్తృత స్థాయిలో కొనసాగుతుంది. ఇందుకు

భిన్నంగా విచారణలో ఒక సమస్యకు సంబంధించిన కొన్ని ముఖ్యాంశాల పైనే దత్తాంశాన్ని సేకరిస్తే, పరిమిత విచారణ అంటారు. ఉదా॥ ఒక తరగతిలోని విద్యార్థుల తెలివి తేటలు తెలుసుకొనుటకు కొన్ని అంశాల పైనే (మార్కులు) దత్తాంశము సేకరింతురు.

6. **క్రమ, తదర్థ విచారణలు :** ఒక నిర్దిష్ట కాలంలో, ఒక విషయాన్ని గురించి క్రమ పద్ధతిలో దఫాలుగా గణాంక విచారణ చేస్తే క్రమ విచారణ అంటారు. ఉదా॥ ప్రజల జీవన వ్యయ సూచిక తెలుసుకొనుటకు ప్రభుత్వం నిర్వహించు విచారణలు. ఈ విచారణలో అవసరమైన అన్ని అంశాల పై దత్తాంశ సేకరణ జరుగును.

ఒక విషయాన్ని గూర్చి విచారణను అవసరమైనపుడే చేసినట్లయితే తదర్థ విచారణ అందురు. ఈ విచారణ యందు కొన్ని అంశాల పై మాత్రమే దత్తాంశ సేకరణ జరుగును. ఒకసారి విచారణ జరిపిన తరువాత మళ్ళీ ఈ విధమైన విచారణ మళ్ళీ జరగవలసిన అవశ్యకత వుండదు. ఉదా॥ 2005 మార్చిలో బి.కాం విద్యార్థుల ఉత్తీర్ణత తెలుసుకోవడం. ఇది తాత్కాలికమైనది.

**2.3.5 యదార్థతా పరిమితి (Degree of Accuracy):** సంపూర్ణ యదార్థత ఎల్లప్పుడు అవసరం వుండదు. కొన్ని సందర్భాల్లో సంపూర్ణ యదార్థత అవసరం కూడా ఉండదు. గణాంక శోధకుడు దత్తాంశములో పరమ యదార్థత చేకూర్చడం సాధ్యము కాదు. అందువలన కావలసినంత లేక న్యాయంగా యుండవలసిన యదార్థత సాధించుటకు ప్రయత్నించవలెను. గణాంక సేకరణకు పూర్వము తగిన యదార్థతలు నిర్ణయించి, దానితోబాటు సంభావ్య దోషపు హద్దులను కూడా నిర్ణయించవలెను. యదార్థత సాధనలో గణాంక విచారణ వ్యయాన్ని కూడా పరిగణించవలెను.

## 2.4 దత్తాంశ సేకరణ (Collection of Data)

క్రమబద్ధమైన పద్ధతిలో గణాంక సేకరణ చేస్తే శ్రేష్ఠమైన గణాంకాలు లభించును. జనాభా పద్ధతిలో సమస్యకు సంబంధించిన చిన్న అంశాల పై గణాంకాలు సేకరించబడును. కాని ఇది క్లిష్టతరమైనది. ప్రతిచయన పద్ధతిలో ప్రాతినిద్యత కల్గిన కొన్ని ముఖ్యాంశాల పైనే దత్తాంశం సేకరించడం జరుగుతుంది. గణాంక విచారణకు సేకరించే దత్తాంశాన్ని రెండు రకాలుగా అనగా ఆంతరంగిక, బహిరంగ దత్తాంశాలుగా చెప్పవచ్చు.

- (ఎ) **ఆంతరంగిక దత్తాంశము :** ఒక వ్యాపార సంస్థ తన పుస్తకాల నుండి సేకరించే దత్తాంశము. ఈ దత్తాంశాన్ని ఆ సంస్థ తన యాజమాన్యానికే వినియోగించుకొనును. తన విక్రయం, ఎగుమతులు, ఉత్పత్తి కొనుగోళ్ళ సమాచారం ఆధారంగా వ్యాపారాభివృద్ధికి తగిన విధానాలు, చర్యలు రూపొందించుకొనును.
- (బి) **బహిరంగ దత్తాంశము :** ఇతర సంస్థలు వ్రాసుకున్న కొన్ని పుస్తకాల నుండి గ్రహించిన దత్తాంశము. ఈ దత్తాంశం వినియోగించడం వలన సంస్థలు తమ ఉనికిని కోల్పోవును.

బహిరంగ దత్తాంశాన్ని రెండు రకాలుగా సేకరింపవచ్చు. 1. ప్రాథమిక దత్తాంశము, 2. ద్వితీయ దత్తాంశము. ఏదైనా విచారణ కోసం మొట్టమొదటిగా సేకరించిన దత్తాంశమును ప్రాథమిక దత్తాంశము అంటారు.

గతంలో ఇతరులు సేకరించి ఉపయోగించిన దత్తాంశాన్ని గణాంక విచారణలో స్వీకరించిన దానిని ద్వితీయ లేక గౌణ దత్తాంశమందురు.

**2.4.1 ప్రాథమిక దత్తాంశ సేకరణ పద్ధతులు :** ఒక వ్యక్తి లేదా సంస్థ లేదా ప్రభుత్వము ఏదైనా ఒక విచారణ కోసం మొట్టమొదటిగా సేకరించిన దత్తాంశాన్ని ప్రాథమిక దత్తాంశం అంటారు. ఈ విధమైన సమాచారాన్ని బహుశా లోగడ సేకరించి ఉండదు. గణాంక

శోధకుడు తనకు తానే గణాంక విచారణ కోసం సంకల్పించినట్లయితే అతడు ప్రాథమిక దత్తాంశం కోసం వెళ్ళాలి. గణాంక విచారణకు ప్రాథమిక దత్తాంశం చాలా ఉపయోగకరమైనది. కాని ముడి వస్తువులాంటిది. ప్రాథమిక దత్తాంశాన్ని సేకరించేందుకు అనేక పద్ధతులు వున్నాయి. వాటిని గూర్చి ఇప్పుడు తెలుసుకుందాం.

1. ప్రత్యక్ష వ్యక్తిగత శోధన (Direct Personal Investigation) :- గణాంక శోధకుడు స్వయంగా సమస్యను పరిశీలించి, ఓర్పుగా, జాగ్రత్తగా వివరాలను అందజేయు వారితో కలసి మెలసి తిరిగి ముఖాముఖంగా దత్తాంశమును సేకరించును. అందువలన యీ విచారణా పద్ధతి సంపూర్ణమైనదిగా యుండును. ఫలితాలు ఖచ్చితంగా ఉండును. వ్యక్తిగత శోధనలో గణాంక శోధకుడు ప్రాంతీయ వివరాలు సమాచారము, ఆచారాలతో పరిచయము కలిగి ఉంటే దత్తాంశము సేకరించడం సులభము.

**ప్రయోజనాలు**

1. ఈ పద్ధతి యందు అసలు దత్తాంశము గ్రహించే వీలు కలదు. 2. ఒక సమస్య పై వాస్తవికత ఏర్పడును. 3. ఖచ్చితమైన దత్తాంశము సేకరించ వీలుపడును. 4. సేకరణలో ఏకరూపకత యుండును. 5. గణాంక శోధకుడు స్వయంగా సేకరించడం వలన మానసిక తృప్తి పొందగలడు. 6. సంపూర్ణ శోధనలకు యిది మంచి పద్ధతి.

**లోపములు**

1. ఈ పద్ధతిలో సేకరింపబడిన దత్తాంశమునకు పరిమితమైన విలువ మాత్రమే యుండును. 2. దత్తాంశ సేకరణకు ఎక్కువ కాలము వృధా యగును. 3. దత్తాంశ సేకరణకు ధన వ్యయము కూడా అధికము. 4. విస్తృత విచారణకు యీ పద్ధతి వినియోగింపరు. 5. గణాంక శోధనకు పాక్షిక దృక్పథం ప్రదర్శిస్తే సరియైన ఫలితాలు సాధింపలేము.

2. పరోక్ష మాఖిక శోధన (Indirect Oral Investigation) :- సమాచారము అందచేయు వారు తగిన వివరాలు తెల్పుటకు అంగీకరించకపోవడం, అయిష్టత ప్రదర్శించడం, గణాంక శోధన విస్తృతమైనదిగా యుండుట వల్ల ప్రత్యక్ష శోధన సాధ్యపడకపోవడం, సమాచారం లిఖించే మూలాలు లేకపోవడం, ఒకవేళ లభించినా అవి నమ్మకమైనవి కాకపోవడం తదితర కారణాల వలన పరోక్ష మాఖిక శోధన నిర్వహించవలసిన పరిస్థితి యేర్పడును. ఉదా॥ పొగత్రాగడం, త్రాగుడు. జూదమాడటం మొదలగు అలవాట్లు గలవారి నుండి వాస్తవ సమాచారము సేకరించడం సాధ్యపడదు. పై అలవాట్లు గల వారి వ్యక్తిగత స్నేహితులు, బంధువులు, ఇరుగుపొరుగు వారి నుండి ప్రత్యక్షంగా లేక పరోక్షంగా సరియైన సమాచారము సేకరింపవచ్చును. వారిని సాక్షులు అందురు. ఈ పద్ధతిలో వివరాల సేకరణ ఎన్యూవరైటర్ల (సమాచార సంగ్రహము) ద్వారా నిర్వహింపవచ్చును. సమస్యకు సంబంధించిన చిన్న ప్రశ్నావళి రూపొందించి సమాచారం అందచేయు సాక్షులను అడిగి వారి జవాబులను నమోదు చేసుకొందురు. ప్రభుత్వం నియమించు ఎంక్వైరీ కమిటీలు, కమిషన్లు యీ పద్ధతిని వినియోగించును.

**ప్రయోజనాలు :**

1. ఎన్యూమరేటర్లు తమ తెలివితేటలు, శక్తియుక్తులు ఉపయోగించి సాక్షుల నుండి తగిన సమాచారమును రాబట్టుదురు. 2. ప్రత్యక్ష వ్యక్తిగత శోధన కంటే తక్కువ వ్యయము, తక్కువ కాలములో సమాచారము సేకరింపవచ్చును. 3. పరిశీలనలో గల సమస్య పై నిపుణుల సలహాలు గైకొని సార్థకమైన, సమర్థవంతమైన సమాచార సేకరణ నిర్వహింపవచ్చును మొదలైన ప్రయోజనాలు కలవు.



## లోపములు

1. సాక్షులతో వ్యక్తిగత సంబంధం లేకపోవడం, ప్రత్యక్ష పర్యవేక్షణ లేకపోవడం వలన శోధకుడు ఎన్యూమరేటర్లు సమర్పించే సమాచారము పైన ఆధారపడవలసి వచ్చును. ఎన్యూమరేటర్ల తెలివితేటలు, వైపుణ్యాలు, దూరదృష్టి, సమర్థత, నిజాయితీ, నిస్పక్షపాతాల పై యీ పద్ధతి యొక్క సార్థకత ఆధారపడును. అందువలన సుశిక్షితులు, తగిన వారిని మాత్రమే ఎన్యూమరేటర్లగా గ్రహించవలె. తద్వారా లోపాలను పరిమితి చేయవచ్చును.
2. సేకరింపబడిన దత్తాంశము ఆధారముగా నిర్ణయాలు గైకొనబడడం వలన సాక్షులను ఎన్నుకొనునపుడు వారి లక్షణాలు, స్వభావము పరిశీలించి తగిన వారిని ఎన్నుకొనవలెను. వారు నమ్మకస్తులు, పక్షపాత రహితులుగా నుండవలెను. పరిసోధనలో ఎక్కువ మంది సాక్షుల నుండి సమాచారము రాబట్టవలెను. సాక్షులు పరిశోధనలో గల సమస్యకు సంబంధించిన పరిజ్ఞానము గలవారై యుండవలెను. వారి ఆశావాద, నిరాశావాద స్వభావానికి కొంత మినహాయింపు కల్పించవలెను.
3. విలేఖరుల ద్వారా సమాచార సేకరణ : గణాంక పరిశోధకుడు గణాంక విచారణ పై వివిధ ప్రాంతాల నుండి విలేఖరుల ద్వారా సమాచారము సేకరించును. వీరు వారి వారి పద్ధతులలో వివిధ ప్రాంతాల నుండి సమాచారము సేకరింతురు. గణాంక విచారణ పరిధి విస్తృతమై దత్తాంశములో పూర్తి ఖచ్చితత్వం అవసరం లేనపుడు ఈ పద్ధతి ఉపయోగింతురు. ఈ పద్ధతిలో స్థానిక విలేఖరులను కూడా నియమింతురు. తమను నియమించిన సంస్థకు భోగట్టా సరఫరా చేయుదురు.

## ప్రయోజనము

ఈ పద్ధతిలో దత్తాంశము, సులభంగా త్వరితంగా, తక్కువ ఖర్చుతో సేకరింపవచ్చును.

## లోపాలు

ఈ పద్ధతి ద్వారా సేకరింపబడిన సమాచార ఫలితాలు స్థూల విలువలు గాను, ఉరమరగాను (రమారమి) ఉంటాయి. సమాచారం పక్షపాతంతో కూడి యుండవచ్చును. వార్తా పత్రికలు, మాస పత్రికలు దత్తాంశ సేకరణకు విలేఖరులను నియమించుదురు. ప్రభుత్వం కూడా స్థానిక ఉద్యోగుల ద్వారా వ్యవసాయ పంటల అంచనాలు సేకరించును. ప్రభుత్వం ఈ పద్ధతిని రిజిస్ట్రేన్ విధానం ద్వారా జనన, మరణ, అనారోగ్య వివరాలు సేకరించుటకు గ్రామ సర్పంచ్, M.R.O., వైద్యశాలలను వినియోగించును.

4. షెడ్యూళ్ళు (Schedules): వ్యక్తులు, సంస్థలు, ప్రభుత్వము విచారణా సమస్యకు సంబంధించిన వివరాల సేకరణకు కొన్ని ప్రశ్నలు పొందుపరచిన ఒక నమూనా తయారు చేయుదురు. వీనిని షెడ్యూళ్ళు అందురు. దీనిని తరిఫీదు పొందిన గణకులు, సమాచారము యిచ్చే వారిని కలుసుకుని, ప్రశ్నించి వారిచ్చే సమాధానాలకు స్వయంగా షెడ్యూళ్ళతో పూరించెదరు. జనాభా గణనలో భారత ప్రభుత్వం ఈ పద్ధతిని వినియోగించెను.

## ప్రయోజనాలు

ఈ పద్ధతి యందు గణకులు సమాచారము ఇచ్చేవారిని స్వయంగా కలసి సమాచారము సేకరించడము వల్ల ప్రతిస్పందన ప్రోత్సాహకంగా యుండును. గణకులు స్వయంగా సమాచారము రాబట్టడం వలన ఫలితాలకు ఖచ్చితత్వం ఉంటుంది. ఈ పద్ధతిలో నిరక్షరాసుల నుండి కూడ సమాచారము రాబట్టవచ్చును. షెడ్యూలులో ఉన్న ప్రశ్నలు మాత్రమే అడగవలెను. కనుక పక్షపాతముండదు. విచారణలో జవాబు రాకపోవడం అనే లోపం ఉండదు.

## లోపాలు

ఈ పద్ధతి చాలా ధన వ్యయముతో కూడిన పని. సేకరణకు ఎక్కువ కాలం వెచ్చించవలసి యుండును. ఈ పద్ధతి ప్రయోజనం గణకుల వైపుణ్యము, తెలివితేటలు, విద్య, శిక్షణల పై ఆధారపడి యుండును. గణకులకు విచారణ

ముఖ్యోద్దేశము తెలిసి యుండవలెను. వారికి సమాచారము రాబట్ట గల ఇంటర్వ్యూ చేయగల నేర్పు, అనుభవము యుండవలెను. సోధకులు మంచి గణకులను ఎన్నుకొనవలెను. సాధారణంగా విస్తృత విచారణకు యీ పద్ధతి వినియోగింతురు.

5. ప్రశ్నావళి : గణాంక పరిశోధకుడు గణాంక విచారణలోని విషయానికి సంబంధించిన పూర్తి సమాచారమును రాబట్టుటకు అనువైన ప్రశ్నల జాబితాను రూపొందించును. దీనినే ప్రశ్నావళి లేదా షెడ్యూలని అందురు. ఈ రెండింటి మధ్య విషయపరంగా భేదము లేనప్పటికి వానిని నిండే విధానములో భేదముండును. గణకులు భోగట్టా యిచ్చే వారిని ముఖాముఖిగా ప్రశ్నించి సమాధానాలు రాబట్టి షెడ్యూళ్ళను నింపెదరు. కాని ప్రశ్నావళి భోగట్టా యిచ్చే వారికి సోష్టు ద్వారాగాని, మరొక విధంగా కాని పంపించి, వాటిని నింపి తిరిగి పంపవలసినదిగా అర్థిస్తారు. అందువలన ప్రశ్నావళిని భోగట్టా యిచ్చేవారే నింపెదరు. కొన్నిసార్లు ప్రశ్నావళి నింపడంలో సహాయపడుటకు గణకులను కూడ పంపడం జరుగవచ్చును.

ప్రశ్నావళిని భోగట్టా యిచ్చే వారికి పంపునపుడు విచారణోద్దేశాన్ని వారికి తెల్పుచు వారి సహకారాన్ని అర్థిస్తూ, నింపిన ప్రశ్నావళిని ఒక నిర్ణీత కాలంలో తిరిగి పంపవలసినదిగా ప్రార్థిస్తూ వారిచ్చిన భోగట్టా రహస్యంగా ఉంచుతామని హామీ యిస్తూ ఒక ఉత్తరం వ్రాసి ప్రశ్నావళికి జతపరచి పంపవలె. నింపిన ప్రశ్నావళి తిరిగి పంపుటకు తగినవన్ని తపాల బిళ్ళలంటించిన కవరును కూడ పంపడం మంచిది.

**ప్రయోజనాలు**

1. భోగట్టా యిచ్చేవారు సకాలంలో నింపిన ప్రశ్నావళిని తిరిగి పంపితే గణాంక సమాచార సేకరణలో కాలము, ద్రవ్యము, శ్రమ ఆదాయగును. 2. విస్తృత పరిధిలో గణాంక సేకరణకు ఉపయోగపడును. 3. సమాచారము యిచ్చే వ్యక్తులే ప్రశ్నావళిని నింపడం వలన గణాంక శోధకులు లేక గణకుల వలన యేర్పడే సాక్షికతకు విలువ వుండదు.

**లోపములు**

1. ప్రశ్నావళిని నింపేవారు విద్యావంతులు కానిచో సమాచారము రాబట్టడం సాధ్యపడదు. విద్యావంతులైన వారు నిర్లక్ష్యంగా, ఉదాసీనంగా నింపినా ఉపయోగముండదు. 2. ప్రశ్నావళి నింపే వారు వాస్తవాలు తెలుపకుండా తప్పుడు సమాచారము పంపే పరిస్థితి కలదు. 3. కొందరు తమ వ్యక్తిగత కారణాల వలన ఆదాయము, ఆస్తి, అలవాట్లు, స్వంత దస్తూరితో నింపుటకు సంసిద్ధత చూపరు. 4. ప్రశ్నావళి ద్వారా అనుబంధ ప్రశ్నలకు సమాచారము రాబట్టడం సాధ్యపడదు.

ప్రశ్నావళి పద్ధతిని మెరుగుపరచుటకు ప్రశ్నావళిలోని ప్రశ్నలు సూటిగ, తక్కువగనుండవలెను. ప్రశ్నావళిని త్రిప్పి పంపుటకు తగినన్ని తపాలా బిళ్ళలను కవరు కంటించిపంపవలెను. అవసరమనుకున్న దాని కంటే ఎక్కువ మందికి ప్రశ్నావళులను పంపవలెను. ప్రశ్నావళి జాగ్రత్తగా, యుక్తితో తయారు చేయవలెను. ప్రశ్నావళి తయారు చేయడంలో తొందరపాటు పనికిరాదు. ప్రశ్నలు తయారు చేయు వారికి విచారణ గురించి పూర్తి జ్ఞానముండవలెను. ప్రశ్నావళి తయారు చేయడం ఒక కళ. ప్రశ్నావళిని తొలి అధ్యయనానికి ఉపయోగిస్తారు. తరువాత దాని ఫలితాలు అనేక రకాలుగా ఉపయోగింతురు.

**ప్రశ్నావళి తయారీలో గమనించవలసిన ముఖ్యాంశాలు**

1. ప్రశ్నావళి విచారణను గురించిన పూర్తి పరిజ్ఞానంతో జాగ్రత్తగా తయారు చేయవలెను.
2. భోగట్టా యిచ్చే వారిపై ఎక్కువ శ్రమ, బాధ్యత ఉండకుండా చూడవలెను. (వారి ఓర్పును పరీక్షించరాదు) సందిగ్ధ ప్రశ్నలు వేయరాదు. గనుక ప్రశ్నావళి సంక్షిప్తంగా లేక చిన్నదిగా ఉండవలెను.
3. ప్రశ్నావళిలో విచారణోద్దేశము, ధ్యేయము సమగ్రంగా ప్రతిబింబించవలెను.

4. ఉద్రిక్తమైన ప్రశ్నలు వేయరాదు.
5. సాధ్యమైనంత వరకు ప్రశ్నలకు జవాబులు అవును/కాదు అని చెప్పకలిగే విధంగా ఉండవలెను. సులభంగా బోధపడవలెను.
6. వేరువేరు భావాలకులోనైన ప్రశ్నలు వేరువేరుగా అడుగవలెను.
7. ప్రశ్నావలీ సంక్షిప్తంగా, సమగ్రంగా, చూడముచ్చటగా యుండవలెను.
8. ప్రశ్నలకిచ్చిన జవాబులు సులభంగా పట్టికరించుటకు వీలుగా యుండవలెను.
9. ప్రశ్నలు స్పష్టంగా యుండవలెను.
10. ప్రశ్నలు తక్కువగా ఉండవలెను.
11. జవాబులిచ్చే వ్యక్తి యొక్క రహస్య భోగట్టాలు అడుగరాదు.
12. ప్రశ్నలు క్రమ పద్ధతిలో హేతుబద్ధంగా యుండవలెను.
13. జవాబులను సన్నిహితం చేసి సత్యాన్ని నిరూపించే విధంగా యుండవలెను.
14. జవాబులిచ్చే వారి సహకారాన్ని ఆర్థించవలెను.
15. జవాబులిచ్చుటకు ప్రత్యేక శిక్షణావస్యకత కల్పించరాదు.
16. బహుళ ఎంపిక ప్రశ్నలు తయారు చేయవలెను.

#### ప్రశ్నావళి సంఖ్య - 1

వ్యాపార పరిపాలనా విభాగము

బిర్లా ఇన్స్టిట్యూట్ ఆఫ్ సైన్స్ అండ్ టెక్నాలజీ

ప్రియమైన అమ్మా / అయ్యా !

ఢిల్లీ నగరంలోని సూపర్ బజార్లలో వస్తు కొనుగోలుకై వెళ్ళు మిమ్ము మీ అభిప్రాయం, సూపర్ బజార్లకు వెళ్ళే చాలా మంది అభిప్రాయం తెలుపుతుందని భావించి, యిష్టా యిష్టాలు తెలుసుకోవడంలో మీ సహాయాన్ని అర్థిస్తున్నాం. ఈ విచారణ, వినియోగదారులకు మరింత కొనుగోలు సౌకర్యాన్ని అందజేస్తుందని మా నమ్మకం. అందుకని దయచేసి మేము పంపే యీ ప్రశ్నావళిని పూరించి పోస్టు ద్వారా తిరిగి పంపగోరుచున్నాము. తప్పాలా బిళ్ళలంటించి, మా చిరునామా వ్రాసిన కవరు దీనితో జతపరచడమైనది.

మీరు యిచ్చే సమాచారం (భోగట్టా) రహస్యంగా ఉంచుతామని హామీ యిస్తున్నాము.

కృతజ్ఞతలతో.....

విశ్వాసపాత్రుడు

సూపర్ బజార్

ప్రశ్నావళి - వినియోగదారుల అభిప్రాయాలు

వోట్ - నిర్దేశించిన స్థలంలో గుర్తు (4) ఉంచాలి.

## A. సాధారణ ప్రశ్నలు

పేరు :

చిరునామ :

వృత్తి : వయస్సు

సేవ  స్త్రీ  పురుషుడు వ్యాపారము  వివాహ స్థితి ఇతరాలు  వివాహితలు  అవివాహితులు 

కుటుంబములోని సభ్యుల సంఖ్య నెలసరి ఆదాయం

1 నుండి 3  100 నుండి 500 3 నుండి 6  500 నుండి 1000 6కు పైన  1000 నుండి 2000 2000 పైన 

## B. నెలకు ఎన్ని పర్యాయాలు సూపర్ బజార్ కు వెళ్తారు ?

1 - 5 5 - 10 10కి పైగా 

## C. వస్తువులు కొనేందుకు ప్రత్యేకంగా వారంలో ఒకరోజు యిష్టపడతారా ?

అవును  కాదు 

అవును అన్నట్లైతే ఏ రోజు

ఆది  సోమ  మంగళ  బుధ  గురు శుక్ర  శని 

## D. మీరు రోజు కొనే వస్తువులు సూపర్ బజార్ నుండి కొంటారా ?

అవును  కాదు 

## E. సూపర్ బజార్ మిమ్ము నాకర్పించుటకు కారణం ?

1. సరసమైన ధరలు అవును  కాదు

2. నమ్మకమైన ధరలు అవును  కాదు

3. బేరమాడే అవసరం లేకపోవడం అవును  కాదు

F. మీ అభిప్రాయంలో సూపర్బజార్ సరసమైన లాభాన్ని మాత్రమే తీసుకుంటుంది.

అవును  కాదు

G. సూపర్బజారు వెళ్ళుటకు కారణాలు

1. అన్ని వస్తువులు ఒకే చోటు దొరకడం అవును  కాదు

2. వస్తువు అక్కడ దొరుకుతుందని నమ్మకం అవును  కాదు

3. ఎంచుకునేందుకు చాలా వస్తువులు లభించును అవును  కాదు

4. వస్తు సప్లయి తగ్గినపుడు కూడా వస్తువు లభించును అవును  కాదు

5. నాణ్యత గల వస్తు లభ్యత అవును  కాదు

6. వస్తు నాణ్యతపై నమ్మకం అవును  కాదు

7. వస్తువుల కొనుగోలుపై వెచ్చించు కాలం అవును  కాదు

H. సూపర్బజారులో వస్తు అమ్మకందారులు ఏ విధంగా వున్నారని భావిస్తారు? ఒక్క జవాబుకు మాత్రమే (4) గుర్తు వుంచాలి.

ఎ) శ్రద్ధ గలవారు  శ్రద్ధలేని వారు

బి) అణుకువగలవారు  అమర్యాదగా ప్రవర్తించువారు

సి) సహకరించువారు  సహకరించనివారు

డి) సమర్థవంతులు  అసమర్థులు

H<sub>1</sub>. సూపర్బజారుకు వెళ్ళినపుడు అల్పాహారశాలకు వెళ్తారా ?

అవును  కాదు

H<sub>2</sub>. అక్కడ వాహనాలు నిలిపే స్థలం వుండాలని భావిస్తారా ?

అవును  కాదు

H<sub>3</sub>. మీకు కావలసిన వస్తువు కొనడానికి ఏమైనా యిబ్బంది నెదుర్కొనుచున్నారా ?

అవును  కాదు

I. మీరు సూపర్ బజారుకు వెళ్ళుటకు కారణం

1. మీ యింటికి దగ్గర అవును  కాదు

2. మీ యింటికి వెళ్ళే దారిలో వున్నది అవును  కాదు

3. ఊరికి మధ్యలో వున్నది అవును  కాదు

J. సూపర్ బజారులో మీరు వాటాదారులా ?

అవును  కాదు

J<sub>1</sub>. వాటాదార్లకు తగ్గింపు మిమ్మునాకర్షిస్తుందా ?

అవును  కాదు

J<sub>2</sub>. స్త్రీలను అమ్మకందారులుగా నియమించడం మీరు యిష్టపడతారా ?

అవును  కాదు

J<sub>3</sub>. సూపర్ బజారులో వస్తువుల ప్యాకింగ్ సంతృప్తికరంగా వున్నదా ?

అవును  కాదు

J<sub>4</sub>. సూపర్ బజారుకు వెళ్ళుటకు యిష్టపడే కారణాలు వరుస క్రమంలో మొదటి మూడు పేర్కొనండి.

(జవాబులు నిర్ణయించిన స్థలంలో అంకెలు వేయండి).

నాణ్యత

ఒకచోట అన్ని వస్తువులు దొరుకును

ధర

సేవ

ప్రదేశం	<input type="text"/>
కాలం పొదుపు	<input type="text"/>
వాటాదారుడవడం వలన	<input type="text"/>

6. టెలిఫోన్ విచారణలు : ఒక వ్యాపార సంస్థ తన వస్తువులను గురించి సర్వే జరపతలచినపుడు, మొదట ఆ వస్తువుల వినియోగదారుల జాబితాను తయారుచేసి, దాని ప్రకారం టెలిఫోను ద్వారా ప్రతి వ్యక్తి నుండి సమాచారము సేకరింపవచ్చును. అమెరికన్ ప్రకటన, టెలివిజన్ సంస్థలు యీ పద్ధతిని విస్తృతంగా వినియోగించును. ఈ పద్ధతి భారీ విచారణకు పనికిరాదు. తక్కువ ఆదాయ వర్గాలను కలుసుకోలేము. పూర్తి సమాచారము లభిస్తుందనే నమ్మకం లేదు. ఈ మధ్య కాలంలో ఎలక్ట్రానిక్ మీడియా విస్తరించిన నేపథ్యంలో గణాంక సమాచారాన్ని 'ఈ' మెయిల్, ఎస్యంఎస్ మొదలైన అనేక సాధనాల ద్వారా సేకరించే అవకాశం పెరిగింది.

2.4.2 ద్వితీయ లేక గౌణ దత్తాంశము - సేకరణ మూలాలు : ప్రభుత్వము, లేక వ్యక్తి, లేదా ప్రైవేటు సంస్థ లేదా ప్రభుత్వము యిది వరకే సేకరించి, విశ్లేషించిన దత్తాంశాన్ని, గణాంక విచారణలో ఉపయోగించిన దత్తాంశాన్ని మళ్ళీ గణాంక విచారణలో ఉపయోగిస్తే దానిని ద్వితీయ లేక గౌణ దత్తాంశమందురు.

ద్వితీయ దత్తాంశము సేకరింపబడిన మూలాలను ద్వితీయ మూలాలందురు. చాలా అధ్యయనాలలో, విచారణకు సంబంధించిన అనేక విషయాలను గూర్చిన సమాచారాన్ని మొదటిసారిగా సేకరించడం ఆచరణ సాధ్యము కాకపోవచ్చును. అట్టి పరిస్థితులలో అనేక మూలాల నుండి ద్వితీయ దత్తాంశమును స్వీకరింపవచ్చును.

ద్వితీయ దత్తాంశమూలాలు - వర్గీకరణ

ద్వితీయ లేదా గౌణ దత్తాంశం రెండు రకాలుగా లభ్యమవుతుంది. I. ముద్రితాలు, II. అముద్రితాలు. అచ్చు వేయబడిన దత్తాంశాన్ని ముద్రితాలని, వ్రాత పత్రుల్లో వున్న దత్తాంశాన్ని అముద్రితాలని అంటాము.

I ముద్రితాలు : ప్రభుత్వ, ప్రభుత్వేతర సంస్థలు, అంతర్జాతీయ సంస్థలు వ్యాపారము, వాణిజ్యము, శ్రామికులు, ధరలు, వినియోగము, ఉత్పత్తి, పరిశ్రమలు, వ్యవసాయము, ఆదాయము, ఆరోగ్యము, జనాభా, విదేశీ మారకము, సామాజిక - ఆర్థిక అంశాలకు సంబంధించిన దత్తాంశమును గణాంక రిపోర్టులుగా కాలవ్యవధులలో (నెల, త్రైమాసిక, వార్షిక) ప్రచురించుచుందురు.

యీ విధమైన ప్రచురణలు ప్రధానమైన ద్వితీయశ్రేణి దత్తాంశముగా తోడ్పడును.

(ఎ) అధికారిక ప్రచురణలు, రిపోర్టులు : అంతర్జాతీయ ద్రవ్య సంస్థ, అంతర్జాతీయ విత్త కార్పొరేషన్, ఐక్యరాజ్య సమితి, ప్రపంచబ్యాంకు, అంతర్జాతీయ కార్మిక సంస్థ మొదలగు వారి ప్రచురణలు. కేంద్ర, రాష్ట్ర, స్థానిక ప్రభుత్వాల అధికారిక ప్రచురణలు. ఉదా : మహాలనోబిస్ కమిటీ రిపోర్టులు, రిజర్వుబ్యాంకు బులెటిన్ మొదలైనవి జాబితాలోకి వస్తాయి.

(బి) పాక్షిక ప్రభుత్వ సంస్థల ప్రచురణలు : స్థానిక సంస్థల, జిల్లా సంస్థల, మునిసిపాలిటీల ప్రచురణలు ఈ కోవలోకి వస్తాయి.

(సి) ప్రైవేటు ప్రచురణలు : (i) ఇండియన్ ఛాంబర్ ఆఫ్ కామర్స్, ఇనిస్టిట్యూట్ ఆఫ్ ఛార్టర్డ్ అకౌంటెన్సీ మొదలగు వ్యాపార, వృత్తి సంస్థల ప్రచురణలు (ii) కామర్స్, క్యాపిటల్, ఇండియన్ ఫైనాన్స్ వంటి వ్యాపార, వాణిజ్య, ఆర్థిక పత్రికలు (iii) జాయింట్ స్టాక్ పరిశ్రమల వార్షిక నివేదికలు, (iv) పరిశోధనా సంస్థల, పరిశోధనా మేధావుల, విశ్వవిద్యాలయాల ప్రచురణలు, ఈ ప్రచురణలు, నివేదికలు ఒక నిర్ణీత కాలానికి అంటే వారానికి, నెలకు, సంవత్సరానికి క్రమబద్ధమైనవి లేదా తదర్థమైనవి కావచ్చును.

**II. అముద్రితాలు (Unpublished Sources) :** సాంఘిక పరిశోధకులు, విద్యావేత్తలు, కొన్ని సంస్థలు సేకరించిన దత్తాంశము ధన భారము వలన ప్రచురణ కాకపోవచ్చును. అటువంటి దత్తాంశమును తయారుచేసిన వారి నుండి రాతప్రతిని అభ్యర్థన మీద గ్రహింపవచ్చును. గౌణ దత్తాంశము పరిశోధనకు గ్రహించునపుడు పరిశీలించవలసిన (లక్షణాలు) అంశాలు: (ఎ) గౌణాంకాలు నమ్మదగిన, ఆధారపడదగినవిగా వుండవలెను. (బి) గణాంకాలు సరియైన మూలాల నుండి, సరియైన పద్ధతుల ద్వారా, పాక్షికత లేకుండా సేకరించినవై యుండవలె. (సి) ఖచ్చితమైనది, విచారణోద్దేశానికనువైనవిగా యుండవలె. (డి) సేకరించిన దత్తాంశము చాలినంతగా యుండవలె. ప్రస్తుత విచారణకు, కాలానికి సంబంధించినదైయుండవలె. ద్విదత్తాంశము ఉద్దేశం, స్వభావం, పరిమితుల గురించి తెలుసుకొనకుండా, ద్వితీయ దత్తాంశంగా విచారణలో ఎప్పుడూ ఉపయోగించరాదు. గత విచారణ పరిధి, ప్రమాణము, ఉద్దేశము, యదార్థతాస్థితి మొదలైన విషయాలన్నింటిలో ఏరూపత ఉన్నప్పుడు మాత్రమే ద్వితీయ దత్తాంశాన్ని ఉపయోగించాలి. లేనిచో సత్యలితాలు రావు.

## 2.5 గణాంక విచారణ పద్ధతులు

గణాంక విచారణ జరిపే పద్ధతులు వివిధ రకాలని అందులో జనాభా పద్ధతి, ప్రతిచయన పద్ధతి గురించి సంక్షిప్తంగా తెలుసుకున్నాం. గణాంక విచారణకు సంబంధించిన అన్ని అంశాలపై ప్రాతిపదికగా దర్యాప్తు చేస్తే జనాభా పద్ధతి అని అంటాము. ఆ విధంగాకాక గణాంక విచారణకు సంబంధించిన అంశాల్లో ప్రాతినిధ్యం వహించే కొన్ని అంశాల ప్రాతిపదికగా గణాంక విచారణ కొనసాగిస్తే ప్రతిచయన లేదా ప్రతిరూప గ్రహణ పద్ధతి అంటాము. ఈ పద్ధతులను గురించి విపులంగా తెలుసుకుందాం.

**A జనాభా దర్యాప్తు పద్ధతి :** విచారణకు సంబంధించిన అన్ని అంశాల ప్రాతిపదికగా తీసుకొని విచారణ జరిపిస్తే దీనిని జనాభా పద్ధతి లేదా పూర్తి సెన్సస్ పద్ధతి అంటాము. ఈ పద్ధతి ద్వారా గణాంకాలు సేకరిస్తే ఒక వర్గానికి సంబంధించి అన్ని విషయాలు పూర్తిగా తెలుస్తాయి.

### ప్రయోజనాలు

ఈ పద్ధతి వల్ల (1) విచారణా ఫలితాలు సంపూర్ణంగా వుంటాయి. (2) వ్యక్తిగత పాక్షికతకు అవకాశము తక్కువ. (3) ఇందులో చేసిన నిర్ణయాలకు సంపూర్ణత వల్ల వచ్చే బలం చేకూరును.

### లోపాలు

ఈ విచారణ వలన : (1) దత్తాంశము సేకరించుటకు ఎక్కువ కాలం పడుతుంది. (2) దత్తాంశము సేకరించడంలో అనేక కష్టాలకు గురి అవుతాము. (3) దత్తాంశ సేకరణ వ్యయం అధికము. (4) ఇందులో అనేకమంది వ్యక్తుల సేవలను పొందవలె. తుదకు ఫలితాలు కచ్చితంగా వుంటాయో లేదో చెప్పలేము. (5) ఈ పద్ధతి అన్ని వేళాల సాధ్యపడదు. (6) దత్తాంశ సేకరణలో తర్ఫీదు పొందిన గణకులు లభించడం కష్టము.



**B. ప్రతిచయన విచారణ పద్ధతి (Sampling) :** ఒక సమూహము లేదా వర్గములోని కొన్ని అంశాల గణాంక పరిశోధనకు ఎంపిక చేస్తే దానిని ప్రతిచయనము అందురు. ఇటువంటి అంశాల నుండి సేకరించిన దత్తాంశాన్ని ప్రాతినిధ్యపు దత్తాంశము అందురు. అంటే ప్రాతినిధ్యం వహించే అంశాలపై ఆధారపడి విశ్లేషణ జరిపి ఫలితాలను జనాభాకు వర్తింపజేయడం జరుగుతుంది. ఇక గణాంక విచారణ మొత్తం వర్గానికి చేయవలెనా? లేదా ఒక వర్గంలోని కొన్ని అంశాలను సేకరించి చేయవలెనా? అనే సమస్య యేర్పడును. మొత్తం వర్గాన్ని జనాభా అని, ఒక వర్గం నుండి సేకరించిన కొన్ని అంశాలను ప్రతిచయనాలని(Sampling) అందురు. ప్రతిచయన పద్ధతిలో విశ్వాసాన్నంతా పరిగణించి కొన్ని యూనిట్లను మాత్రమే పరిశీలించి విశ్వాన్నంతటికీ వర్తించే విధంగా నిర్ణయాలు చేయుదురు. జనాభాలో ఉపభాగం ప్రతిచయనము. డాక్టరు రక్తపరీక్ష కొంత రక్తం శాంపిల్ గా గ్రహించును. ప్రతిచయన పద్ధతిలో మూడు అంశాలు యిమిడియుండును. (1) ప్రతిచయనాన్ని ఎన్నుకోవడం. (2) సమాచారాన్ని సేకరించడం. (3) జనాభాకు వర్తించే విధంగా నిర్ణయాలు చేయడం. యివి ఒక దానితోనొకటి ముడిపడి ఒక దానినొకటి ప్రభావితం చేయును.

ప్రతిచయన పద్ధతి కచ్చితమైన, విశ్వాసనీయమైన ఫలితాలు యివ్వాలంటే దానిని శాస్త్రీయంగా రూపొందించి సక్రమంగా నిర్వహించవలెను. మంచి ప్రతిచయనము నెన్నుకోవలెను. మంచి ప్రతిచయనమునకు ఈ క్రింది లక్షణాలుండవలెను.

- (1) ప్రతిచయనము ఏ జనాభా నుండి గ్రహించబడినదో ఆ జనాభాకు ప్రాతినిధ్యము వహించవలెను.
- (2) జనాభాలోని అంశాలు స్వతంత్రంగా వుండి ప్రతి అంశము ప్రతిచయనంగా తీసుకునే అవకాశము కలిగియుండవలె.
- (3) వ్యక్తిగత పక్షపాతానికి తావివ్వరాదు.
- (4) ప్రతిచయనాలుగా గ్రహించబడే అంశాలు జనాభాలోని అన్ని అంశాలతో ఏకరూపకత కలిగియుండవలెను.
- (5) ప్రతిచయనము తగినంత పెద్ద పరిమాణములో సేకరించవలెను. అప్పుడే ఫలితాలలో ఖచ్చితత్వం హెచ్చుస్థాయిలో సాధింపవచ్చును. ప్రతిచయన దోషాన్ని అంచనా వేయవచ్చును.
- (6) సులభంగా సేకరించడానికి వీలయ్యే అంశాలను ప్రతిచయనాలుగా తీసుకొనరాదు.

ప్రతిచయన పద్ధతి వల్ల ప్రయోజనాలు

- (1) తక్కువ కాలవ్యవధి, తక్కువ ఖర్చు, తక్కువ శ్రమతో కొద్ది మంది గణకులతో ఎక్కువ దత్తాంశాన్ని సేకరింపవచ్చును.
- (2) గణాంకశోధన, నిర్వహణ శాస్త్రీయ పద్ధతులలో జరుగును, కనుక ఫలితాలు కూడా కావలసిన మేరకు ఖచ్చితంగా వస్తాయి.
- (3) సరియైన ప్రతిచయనాన్ని ఎన్నుకొన్నచో జనాభా పద్ధతికన్నా ప్రతిచయన పద్ధతే ఉపయోగంగా వుండును.
- (4) అసలు కొన్ని విచారణలలో ప్రతిచయన పద్ధతి అనివార్యము.

ప్రతిచయన పద్ధతి వల్ల లోపాలు

జనాభాకు ప్రాతినిధ్యం వహించని అంశాలను ఎన్నుకోవడం, గణకులలో పాక్షికత స్వభావం, గణాంక శోధన నిర్వహణ అశాస్త్రీయంగా జరిగినచో ఖచ్చితమైన ఫలితాలు సాధింపలేము.

## 2.6 ప్రతిచయన పద్ధతులు (Methods of Sampling)

ప్రతిచయనాలను ఎన్నుకునే పద్ధతులను స్థూలంగా రెండుగా చెప్పవచ్చు. అవి యాదృచ్ఛిక, అయాదృచ్ఛిక ప్రతిచయన పద్ధతులు. అదృష్టం మీద ఆధారపడి ప్రతిచయనాలు తీసుకునే పద్ధతిని యాదృచ్ఛిక ప్రతిచయన పద్ధతి అని, గణాంక శోధకుని ఇష్టంపై ఆధారపడి ప్రతిచయనాలు తీసుకునే పద్ధతిని అయాదృచ్ఛిక ప్రతిచయన పద్ధతి అంటారు.

I. యాదృచ్ఛిక ప్రతిచయన పద్ధతి (Random Sampling) : ఈ పద్ధతిలో ప్రతిచయనాన్ని యాదృచ్ఛిక పద్ధతిలో ఎన్నుకొందురు. యాదృచ్ఛిక ప్రతిచయనాన్ని అదృష్ట ప్రతిచయనము (Chance sampling) అని సంభావ్యతా ప్రతిచయనము (Random sampling) అని కూడా వ్యవహరింతురు. జనాభాలోని ప్రతి అంశానికి ప్రతిచయనంగా ఎన్నుకోబడేందుకు సమాన అవకాశమిస్తూ, యాదృచ్ఛికంగా యెన్నుకోబడిన ప్రతిచయనాన్ని యాదృచ్ఛిక ప్రతిచయనమందురు. ఈ పద్ధతిలో జనాభాలోని ప్రతి అంశానికి ప్రతిచయనమయ్యే అవకాశముండును. అయితే యే అంశము ఎన్నుకోబడుతుంది అనేది కేవలము ధైవికము. ఈ పద్ధతిలో ప్రతిచయనాలను అదృష్టవశాత్తుగా ఎన్నుకొందురు. అనగా లాటరీ పద్ధతిలాగా ఎన్నుకొందురు. అదృష్టము మాత్రమే ఏ అంశము ప్రతిచయనంలో చేర్చాలో నిర్ణయించును. ఎన్నుకోబోయే ప్రతిచయనాలను గురించి గణాంక శోధకునకు ముందుగా తెలియదు.

ఏ యే అంశాలను ప్రతిచయనాలుగా ఎన్నుకుంటారో చెప్పడం ఎవరికి సాధ్యం కాదు. అందువల్ల ప్రతి అంశానికి ప్రతిచయనం అయ్యే అవకాశముంది. అందువలన దీనిని అదృష్ట ప్రతిచయనం అంటారు.

ఈ అదృష్టపు ఎన్నిక పద్ధతి సంభావ్యత సిద్ధాంతాన్ని ఉపయోగించుకొనుటకు వీలు కల్పించుచున్నది. ప్రతిచయన సిద్ధాంతానికి మూలాధారము సంభావ్యతా సిద్ధాంతము. సంభావ్యతా సిద్ధాంతము ప్రకారం ఒక సంఘటన జరగడానికి గాని, జరగకపోవడానికి గాని సమాన అవకాశాలున్నవి. కాబట్టి ఒక అంశము ప్రతిచయనంగా ఎన్నుకొనబడడానికి, ఎన్నుకోబడక పోవడానికి సమాన అవకాశాలున్నవి. అందువలన యాదృచ్ఛిక ప్రతిచయనాన్ని సంభావ్యతా ప్రతిచయనమని కూడా వ్యవహరింతురు.

ప్రతిచయనము మొత్తం జనాభాకు ప్రతినీధి. ప్రతిచయనాన్ని యాదృచ్ఛిక (At Random) ఎన్నుకొన్నట్లయితే, ప్రతిచయన పరిమాణము సరిపడినంత పెద్దదిగా వున్నట్లయితే అట్టి ప్రతిచయనము జనాభాలోని అన్ని అంశాలకు ప్రాతినిధ్యము వహించును. అందువలన యాదృచ్ఛిక ప్రతిచయనాన్ని ప్రాతినిధ్యపు ప్రతిచయనము అని కూడా పిలుస్తారు. ప్రతిచయన ఎన్నికలలో యాదృచ్ఛికత లేకుంటే పాక్షికత చోటు చేసుకుని అది ఆ ప్రాతినిధ్యపు ప్రతిచయనముగా వచ్చును. ప్రతిచయనాలు తీసుకునే పరిమాణంపై ఆధారపడి యాదృచ్ఛిక ప్రతిచయనాలను రెండుగా అంటే 1. అపరిమిత యాదృచ్ఛిక ప్రతిచయనము (Unrestricted Random Sampling), 2. పరిమిత యాదృచ్ఛిక ప్రతిచయనము (Restricted Random Sampling) ప్రతిచయనాలు వీలైనంత ఎక్కువ తీసుకుంటే అపరిమిత యాదృచ్ఛిక అని, పరిమితంగా తీసుకుంటే పరిమిత యాదృచ్ఛిక ప్రతిచయన పద్ధతి అంటాము. అపరిమిత పద్ధతి జనాభా పద్ధతి వైపుకు వెళుతుంది. సాధారణంగా పరిమిత యాదృచ్ఛిక ప్రతిచయన పద్ధతియే బహుళ ఉపయోగంలో వుంది.

1. యాదృచ్ఛిక ప్రతిచయన ఎంపిక: ప్రతిచయన ఎంపిక పూర్తిగా యాదృచ్ఛికంగా జరుగును. ప్రతిచయన ఎంపికలో లాటరీ పద్ధతి లేదా యాదృచ్ఛిక సంఖ్యా పట్టి ద్వారా ప్రతిచయనం ఎన్నుకోబడును.

(ఎ) లాటరీ పద్ధతి : ఈ పద్ధతిలో జనాభాలోని అన్ని అంశాల నంబర్లుగాని, పేర్లుగాని చిన్న చిన్న కాగితపు చిట్టీల మీదగాని లేదా చిన్న చిన్న అట్టముక్కల మీదగాని వ్రాస్తారు. కాగితపు చిట్టీలయితే వానిని మడవవలెను. తరువాత వానిని డబ్బాలో వేసి బాగా కలుపవలెను. వీటిని ఎప్పటికప్పుడు బాగా కలుపుతూ ప్రతిచయన పరిమాణానికి కావలసినన్ని చిట్టీలను లేదా కార్డులను కళ్ళకు గంతలు కట్టబడిన వ్యక్తి చేత తీయించవలెను. బయటకు తీసిన చిట్టీలలోని అంశాలు ప్రతిచయనాలు. ఉపయోగించబడిన కాగితపు చిట్టీలు లేక అట్టముక్కలు, పరిమాణము, ఆకారములలో

ఒకే విధంగా వుండవలెను. లేనిచో పాక్షికతకు అవకాశముండును. ఉదాహరణకు 3000 మంది విద్యార్థులకు సంబంధించిన ప్రతిచయనము 3000 చిట్టిలలో వారి పేర్లు లేక సంబర్లు వేసి దాని నుండి చిట్టిలను తీసి ప్రతిచయనము ఎన్నుకోవచ్చును.

(బి) యాదృచ్ఛిక సంఖ్యాపట్టిలు : జనాభా ఎక్కువగా నున్నప్పుడు లాటరీ పద్ధతికి ప్రత్యామ్నాయంగా యాదృచ్ఛిక సంఖ్యాపట్టి పద్ధతిలో యాదృచ్ఛిక ప్రతిచయనాన్ని ఎన్నుకొనవచ్చును. ఇందులో 1. టిప్పెట్ అనే గ్రంథకర్త తయారుచేసిన యాదృచ్ఛిక సంఖ్యల పట్టి. 2. ఫిషర్, యెట్స్ సంఖ్యలు 3. కెండాల్, బాబింగ్టన్ సంఖ్యలు 4. ర్యాండ్ కార్పొరేషన్ సంఖ్యలు - మొదలైనవి కలవు. వీటిలో టిప్పెట్ సంఖ్యలు బాగా ప్రాచూర్యంలో వున్నవి.

టిప్పెట్, జనాభా లెక్కల నుండి తీసుకున్న 41,600 అంకెలను 10,400, నాలుగు అంకెలు చేసి పట్టి తయారుచేసెను.

ఈ క్రింది 40 అంశాలను ఉదాహరణకు యిచ్చితిమి.

2952	6641	3992	7972	7669	5911	3171	5624
4167	9524	1545	1356	7203	5356	1300	2693
2370	7483	0408	2762	3563	1089	6919	7691
0560	5246	1112	6107	6008	8126	4233	8776
2754	9143	1405	9025	7002	6111	8816	6446

ఈ సంఖ్యలు అస్తవ్యస్తంగా కనిపించినా, వాటి యాదృచ్ఛికత అనేక పరీక్షల ద్వారాను, ఆచారణ రూపంలోను నిరూపించబడింది. ఈ పట్టిని ఉపయోగించే పద్ధతిని ఉదాహరణ పూర్వకంగా తెలుసుకుందాం. లోగడ ఉదాహరణలో 3000 మంది విద్యార్థులలో 300 మందిని ఎన్నుకొనుటకు, మొదట ఈ అంశాలకు 0001 నుండి 3000 వరకు సంబర్లు వ్రాయవలెను. తరువాత టిప్పెట్ పట్టిలోని ఏదో ఒక పేజీ చూచి అందులో 3000కు లోపున్న సంఖ్యల నుండి 300 సంఖ్యలు తీసుకొనవలె. ఈ సంఖ్యలే ప్రతిచయనాలు.

యాదృచ్ఛిక ప్రతిచయనము తీసుకునే పద్ధతులు (**Restricted Random Sampling**) : జనాభాలోని అన్ని వర్గాలకు ప్రాతినిధ్యం కల్పించుటకు యాదృచ్ఛికతను పరిమితం చేయవచ్చును. అన్ని వర్గాలకు ప్రాతినిధ్యం కల్పించే విధంగా జనాభాను అమర్చి, వివిధ వర్గాల నుండి యాదృచ్ఛికంగా ప్రతిచయనం ఎన్నుకొనవచ్చును. అందువలన ఎక్కువ ఖచ్చితత్వం సాధించే అవకాశం కలదు. ఈ విధమైన ప్రతిచయన ఎన్నికకు మూడు ప్రధాన పద్ధతులు కలవు.

1) స్థిర యాదృచ్ఛిక ప్రతిచయనము (**Stratified Random Sampling**) : ఈ పద్ధతిలో మొత్తం జనాభాను ఒక లక్షణం లేక లక్షణాల ఆధారంగా కొన్ని వర్గాలు లేక గుంపులుగా విభజింతురు. జనాభాను సాధ్యమైనంత సజాతీయ వర్గాలుగా విభజింతురు. ప్రతి వర్గం నుంచి యాదృచ్ఛిక పద్ధతిని ప్రతిచయనాన్ని ఎన్నుకొందురు. ప్రతిచయనాన్ని వర్గాల పరిమాణాల నిష్పత్తిలో ఎన్నుకుంటే దానిని అనుపాతస్థిర యాదృచ్ఛిక ప్రతిచయనం (**Proportionate stratified random sampled**) అందురు. వర్గాల పరిమాణంతో నిమిత్తం లేకుండా అన్ని వర్గాల నుండి సమానంగా గాని, ఎక్కువ తక్కువగా కాని ప్రతిచయనాన్ని ఎన్నుకుంటే దానిని అనుపాత సహితం కాని స్థిర యాదృచ్ఛిక (**Disproportionate stratified random sampling**) ప్రతిచయనము అనవచ్చును.

ఉదా : ఒక కాలేజీలోని విద్యార్థులు 1000. వీరు తరగతుల వారీగా క్రింది విధంగా వున్నారు.

తరగతులు	B.A.	B.Com.	B.Sc.	మొత్తం
విద్యార్థులు	100	500	400	1000
అనుపాత ప్రతిచయనం 10%	10	50	40	100

ఈ పద్ధతిలో అన్ని వర్గాలకు ప్రాతినిధ్యం వుండడం వలన ఖచ్చితత్వం ఎక్కువగా వుండును. ఏకపక్ష సంభవనీయత తగ్గును.

2. **గుచ్ఛ యాదృచ్ఛిక ప్రతిచయనం (Clustered Random Sampling) :** ఈ పద్ధతిలో జనాభాను కొన్ని గుంపులు లేదా గుచ్ఛాలుగా (Groups)గా విభజింతురు. విభిన్న లక్షణాలు గలిగిన అంశాలను గుచ్ఛం అంటారు. ప్రతి గుచ్ఛంలోని జనాభాలో విజాతీయత ఉండేటట్లు వర్గీకరించెదరు. గుచ్ఛాల మధ్య వ్యత్యాసం సాధ్యమైనంత తక్కువగా వుండవలె. అప్పుడు గుచ్ఛాలన్ని ఒకే విధంగా వుంటాయి. గుచ్ఛాలలో ఒకటిగాని లేక కొన్నిగాని యాదృచ్ఛిక పద్ధతిని ప్రతిచయనంగా తీసుకుని అధ్యయనం చేయుదురు. ఉదా : క్రికెట్ ఆటగాళ్ళు (జనాభా) జట్లుగా యేర్పరచి, అన్ని జట్లలో ఓపెనింగ్ బ్యాట్స్ మన్, మిడిల్ ఆర్డర్, వివిధ రకాల బౌలర్లు, ఆల్ రౌండర్లు ఏర్పరచి, వాని నుండి ఒకటి లేక ఎక్కువ జట్లు ప్రతిచయనాలుగా గైకొందురు. ఆచరణలో గుచ్ఛాలను కాలం ప్రాతిపదికగా, ప్రాంతాలవారీగా కూడా తీసుకొనవచ్చును. ప్రాంతీయ ప్రాతిపదికపై జరిగే గుచ్ఛ ప్రతిచయనాన్ని విస్తీర్ణ ప్రతిచయనమందురు. గుచ్ఛ ప్రతిచయనాలను అనేక దశల ద్వారా తీసుకున్న యొడల దానిని బహుళదశ ప్రతిచయనమందురు. ఈ పద్ధతిలో ఖచ్చితత్వం కూడా తక్కువగా వుండును కాని ఖచ్చితత్వం కూడా తక్కువగా వుండును.

3. **క్రమ ప్రతిచయనం (Systematic Sampling) :** ఈ పద్ధతిలో జనాభాను ఆకారాది క్రమంలోగాని, భౌగోళికక్రమంలోగాని అమర్చవలె. ప్రతిచయన కాల మధ్య అంతరము నిర్ణయించవలెను. ప్రతిచయన పరిమాణం పై ఆధారపడివుండును.

$$\text{ప్రతిచయనాల మధ్య అంతరం} = \frac{\text{జనాభా పరిమాణం}}{\text{ప్రతిచయన పరిమాణం}}$$

ప్రతిచయనాల ఎంపిక మొదలు పెట్టడం, యాదృచ్ఛిక పద్ధతి ప్రకారం తెలుసుకోవలెను.

ఉదా : ఒక కాలేజీలోని 100 మంది వాణిజ్యశాస్త్ర విద్యార్థులలో 10 మందిని ప్రతిచయనంగా ఎన్నుకొనవలెననుకొనిన మొదట వారి పేర్లను ఆకారాది క్రమంలోగాని, లేక తరగతి క్రమసంఖ్య క్రమంలోగాని మొత్తం 100 మంది జాబితాను తయారుచేయవలెను.

$$\text{ప్రతిచయనాల మధ్య దూరం} = \frac{100}{10} = 10$$

అనగా ప్రతి 10వ విద్యార్థిని ప్రతిచయనంగా ఎన్నుకొనవలెను. కాని ఏ విద్యార్థి అనేది ఈ దశవరకు తెలియదు. ప్రతి విద్యార్థి ప్రతిచయనంలో చేరే అవకాశం వుంది. ఇప్పుడు ప్రతిచయన ఎన్నిక ఎక్కడ మొదలుపెట్టవలెనో నిర్ణయించవలెను.

ప్రతిచయనాల మధ్య అంతరం 10 కాబట్టి, మొదటి 10లోపల ఎక్కడైనా ప్రారంభించవచ్చును. కాని అది యాదృచ్ఛిక పద్ధతిపై జరగాలి. లాటరీ వేస్తే ఆరవ విద్యార్థి వచ్చాడనుకుందాము. అప్పుడు ఏ యే విద్యార్థి ఎన్నుకోబడ్డాడో తెలియును. అంటే 6, 16, 26, 36, 46, 56, 66, 76, 86, 96... విద్యార్థులు ప్రతిచయనాలు. ఈ పద్ధతి సులువైనది. ఫలితాలు కూడా ఖచ్చితంగా వుంటాయి. కాని అమర్చేటప్పుడు జాగ్రత్త వహించాలి. నిష్పాక్షికత అవసరం.

యాదృచ్ఛిక ప్రతిచయన పద్ధతి - ప్రయోజనాలు - పరిమితులు :

ఈ పద్ధతి వల్ల : 1. వ్యక్తిగత సాక్షికతకు తావులేదు, 2. యాదృచ్ఛిక ప్రతిచయనము మొత్తం జనాభాకు మంచి ప్రాతినిధ్యము వహించును. 3. గణాంక శోధకుడు తన అంచనాలలో గల యదార్థత నిర్ణయించుకొనగలడు.

దీని వల్ల పరిమితులు కూడా లేకపోలేదు. అవి :

1. ఈ పద్ధతిలో మొత్తం అన్ని అంశాలకు జాబితా తయారుచేయవలె. శోధకునకు అంశాలన్నీ తెలియకపోయినచో యీ పద్ధతి వినియోగించడం సాధ్యపడదు. 2. అన్ని అంశాలకు కాగితపు చిట్టీలు తయారుచేయడంతో కాల, ధన వ్యయాలతో కూడియుండును. 3. ప్రతిచయన పరిమాణం పరిమిత యాదృచ్ఛిక ప్రతిచయనం కంటే పెద్దగా తీసుకొనవలె. లేని యొడల గణాంక విశ్వసనీయత తగ్గును. 4. ఈ పద్ధతిలో ప్రతిచయనాలకు అనేకమంది ప్రజల నుండి సుదూర ప్రాంతాల నుండి సేకరించడం హెచ్చు వ్యయంతో కూడియుండును.

**II. అయాదృచ్ఛిక ప్రతిచయనము (Non-Random Sampling) :** ఈ పద్ధతిని ఉద్దేశ పూర్వక ప్రతిచయనము (Purposive Sampling), బుద్ధిపూర్వక ప్రతిచయనము (Deliberate Sampling), నిర్ణయ ప్రతిచయనము (Judgement Sampling) అని కూడా వ్యవహరింతురు. ఈ పద్ధతిలో గణాంక శోధకుడు విచారణలోని అంశాలకు ప్రాతినిధ్యం వహించే పనిని ఎన్నుకొనును. ఇందు ప్రతిచయనాల ఎంపిక మూడు విధాలుగా జరుగును.

1. నిర్ణయ ప్రతిచయనము (Judgement Sampling) : ఇది బాగా తెలిసియున్న ప్రతిచయనాలన గణకుడు తీసుకునే పద్ధతి. తీసుకున్న ప్రతిచయనాలు జనాభాలోని అంశాలకు ప్రాతినిధ్యం వహిస్తాయో లేదో అని విచారణోద్దేశానికి, ధ్యేయానికి తగినట్లు వున్నాయో లేదో అని యుక్త యుక్తవిచక్షణతో నిర్ణయించి సరిపోతాయి అని భావించిన తరువాత శోధకుడు వీటిని ఎంచుకొంటాడు. ప్రతిచయనాలుగా ఎంపిక చేసే అంశాలను గణాంకశోధకుడు తీసుకుంటాడు. కనుక ఈ పద్ధతిని నిర్ణయ ప్రతిచయనమని అంటారు. శోధకుని విచక్షణ ప్రతిచయన ఎన్నిక గురించి తుది నిర్ణయం చేయును.
2. కోటా ప్రతిచయనము (Quota Sampling) : ఈ పద్ధతిలో గణాంక శోధకుడు జనాభాను కొన్ని వర్గాలుగా విభజించి ఒక్కొక్క వర్గంలో ఎన్ని అంశాల నుండి సమాచారము సేకరింపవలెనో నిర్ణయించి, ఆ తరువాత - ఉపకోటాలను నిర్ణయింతురు. ఈ ఉపకోటాల మొత్తము మొత్తం కోటాకు అంటే మొత్తం ప్రతిచయన పరిమాణానికి సమానము. తనకిచ్చిన కోటాను పూర్తిచేయుటకు ఆయా వర్గాల క్రిందకు వచ్చే యే అంశాలవైనా ప్రతిచయనాలుగా తీసుకునే స్వేచ్ఛ శోధకునకు వుండును. ఈ పద్ధతిని మార్కెట్ సర్వే, ప్రజాభిప్రాయసేకరణ సర్వేలకు ఉపయోగింతురు.

ఉదా : ఆకాశవాణి కార్యక్రమాలపై 500 మంది నుండి అభిప్రాయసేకరణకు 5గురు శోధకులను నియమించి ఒక్కొక్కరు 100 మంది నుండి అభిప్రాయాలు సేకరించవలెనని కోటా నిర్ణయించవచ్చును. ప్రతిశోధకుని కోటాలో 50 మంది మగవారు, 50 మంది ఆడవారు వుండాలని, అందులో ఉద్యోగులు, నిరుద్యోగులు, అల్పదాయ, మధ్యదాయ, అధికదాయ వర్గాల వారుండాలని, 15సం॥లలోపువారు, 15 - 50 సం॥ల మధ్య వయస్కులు, 50 సం॥లపై బడ్డవారు వుండాలని, ఒక్కొక్క ఉపవర్గానికి కోటా నిర్ణయించవచ్చును. ఉపవర్గాలకోటా శోధకుని మొత్తం కోటాకు సమానము. ఆయా వర్గాల కోటాకు మించకుండా శోధకుడు వ్యక్తులను ఎన్నుకొని అభిప్రాయాలను సేకరించవలెను.

3. సౌలభ్యప్రతిచయనము (Convenience Sampling) : ఈ పద్ధతిలో శోధకుడు ఏ అంశాల నుండి సమాచారము తయారుగా అందుబాటులో వున్నదో ఆ అంశాలను ప్రతిచయనాలుగా గ్రహించును. లేదా అతనికి వీలుగా, సౌలభ్యంగా వున్న అంశాలను ప్రతిచయనాలుగా తీసుకుని సమాచారాన్ని సేకరించును. కాని యిది అంత మంచి పద్ధతి కాదు.

**అయాదృచ్ఛిక ప్రతిచయన పద్ధతి - ప్రయోజనాలు :** ఈ పద్ధతి వల్ల వివిధ ప్రయోజనాలున్నాయి. అవి : 1. ఈ పద్ధతిలో ప్రాముఖ్యము గల అన్ని అంశాలను నిర్ణయించి ప్రతిచయనంగా తీసుకోవచ్చును. 2. జనాభాలో అన్ని అంశాలు తెలియనవుడు తెలిసిన అంశాలనే వివిధ వర్గాలుగా విభజించి అన్ని వర్గాలకు ప్రాతినిధ్యము కల్పిస్తూ ప్రతిచయనము ఎన్నుకొనవచ్చును. 3. ఈ పద్ధతిలో ద్రవ్యము, కాలము ఆదాయమగును.

**లోపాలు :** ఈ పద్ధతిలో 1. గణాంక శోధకుని వ్యక్తిగత పక్షపాత బుద్ధి ఎన్నుకున్న ప్రతిచయనాలపై ప్రభావం చూపును. 2. ఖచ్చితమైన ఫలితాలు రాబట్టలేము. గణాంక విచారణ పరిధి విస్తృతమైతే ఈ పద్ధతిలో ప్రతిచయనాన్ని ఎన్నుకోవడం కష్టము. 3. గణాంక శోధకుని సమర్థతపై, నిజాయితీపై, నిశిత పరిశీలనా బుద్ధిపై ఫలితాలు ఆధారపడును మొదలైన లోపాలున్నాయి.

ఏ పద్ధతి వినియోగించవలెననే విషయము, విచారణా స్వభావము అందుబాటులో గల వనరులు, కాలము, కావలసిన యదార్థత మొదలగు అంశాలపై ఆధారపడియుండును.

**విస్తృత ప్రతిచయనము (Extensive Sampling) :** ప్రతిచయనాలు వీలైనంత ఎక్కువ తీసుకున్నట్లయితే విస్తృత ప్రతిచయన పద్ధతి అంటారు. ఈ పద్ధతిలో దత్తాంశాన్ని సాధ్యమైనంత ఎక్కువ అంశాల నుండి సేకరించవలెను. నిజానికి జనాభాలో అన్ని అంశాలు యిమిడియుండవు. అందువలన యిది కూడా ఒక ప్రతిచయన పద్ధతే. ఫలితాలలో యదార్థత హెచ్చుగానుండును.

## 2.7 ప్రతిచయన సూత్రాలు (Principles Sampling)

ప్రతిచయన పద్ధతులకు ప్రాతిపదికలైన సంభావ్యతా సూత్రము, గణాంక క్రమ సూత్రం, బృహత్ సంఖ్యా జడత్వ గణాంక సూత్రాలను గురించి సంక్షిప్తంగా తెలుసుకుందాం.

**1. సంభావ్యతా సూత్రము (Theory of Probability) :** యాదృచ్ఛిక ప్రతిచయన పద్ధతి సంభావ్యతా సూత్రం ఆధారంగా ప్రతిపాదించబడింది. సంభావ్యత అనే భావన గణితశాస్త్ర భావన. అందువల్ల గణాంక సంభావ్యతా సూత్రము గణిత సంభావ్యతా సూత్రము నుండి గ్రహించబడినదని గుర్తింపవచ్చును.

యాదృచ్ఛికంగా కొన్ని అంశాలను పెద్ద సమూహమునుండి ఎన్నుకుంటే, ఆ ఎన్నుకున్న అంశాలకు పెద్ద సమూహములోగల అంశాల తాలూకు లక్షణాలుంటాయని సంభావ్యత సూత్రము తెలియజేయుచున్నది (కింగ్). ఉదా : ఒక నాణాన్ని చాలాసార్లు ఎగురవేస్తే సగంసార్లు బొమ్మపడడానికి, సగంసార్లు బొరుసు పడడానికి అవకాశాలున్నాయి.

ఒక సంఘటన 'a' సార్లు జరిగినపుడు, 'b' సార్లు జరగనపుడు

$$\left. \begin{aligned} \text{జరిగే అవకాశాలు} &= \frac{a}{a+b} \\ \text{జరగని అవకాశాలు} &= \frac{b}{a+b} \end{aligned} \right\} \text{సూత్రాల ద్వారా లెక్కింపవచ్చును}$$

అందువల్ల సంభావ్యతా సూత్రరీత్యా, జనాభా నుండి సాధ్యమైనన్ని హెచ్చు అంశాలను యాదృచ్ఛికంగా తీసుకున్న అంశాలకు జనాభా మొత్తానికి వున్న లక్షణాలన్నీ వుండే అవకాశాలున్నాయి.

**2. గణాంక క్రమ సూత్రము (Law of Statistical Regularity) :** మొత్తం జనాభా నుండి చాలా అవసరమైనంత పెద్ద ప్రమాణము

గల ప్రతిచయనము తీసుకుంటే, సగటున ఆ ప్రతిచయనము తప్పక జనాభాలో గల అన్ని లక్షణాలను సూచించును. దీనినే గణాంక క్రమసూత్రమందురు. గణాంక క్రమసూత్రము సంభావ్యతా సూత్రమునకు ఉపసూత్రము. ఉదా॥ ఒక పెట్టెలో 500 తెల్ల బంతులు, 2000 ఎర్ర బంతులు వున్నాయనుకొందాము. ఆ సమూహము నుండి ఒక వ్యక్తి, 250 బంతులు (యాదృచ్ఛిక ప్రతిచయనంగా) తీసినాడని అనుకొనిన, బహుశా యాదృచ్ఛిక ప్రతిచయనంలో 50 తెల్లబంతులు, 200 ఎర్రబంతులు బయటకు వచ్చే అవకాశాలున్నాయి.

దీనిని వివర్యంగా (Converse) త్రిప్పి చెబితే 250 బంతులు, యాదృచ్ఛికంగా సమూహము నుండి బయటకు తీస్తే, 50 తెల్లబంతులు, 200 ఎర్రబంతులు బయటకు వస్తే సమూహంలోగల అంటే పెట్టెలో 2500 బంతులలో 50 తెల్లబంతులు, 200 ఎర్రబంతులు వుండి వుంటాయనుకొనవచ్చును. సంభావ్యతా సూత్రాన్ని త్రిప్పిచెబితే గణాంక క్రమసూత్రమగును.

### గణాంక క్రమసూత్రము : పరిమితులు

(ఎ) మొత్తం జనాభా నుండి ఎన్నుకొనే అంశాలు యాదృచ్ఛికంగా ఎన్నుకోవలెను.

(బి) ఎన్నుకొనే ప్రతిచయనాలు అవసరమైనంత ఎక్కువగా యుండవలెను. ఇలా చేయడం వలన సంభావ్యతా దోషాలు తొలగిపోవును.

3. **బృహత్ సంఖ్యా జడత్వ సూత్రము (Law of Inertia of Large Numbers) :** గణాంక క్రమసూత్రానికి యిది ఉపసూత్రము. ప్రతిచయనము పెద్దదైన కొద్దీ యదార్థత ఎక్కువగా వుండును. ఉదా॥కు ఒక నాణాన్ని 10 సార్లు ఎగురవేస్తే ఆరు సార్లు బొమ్మ, నాలుగుసార్లు బొరుసు పడవచ్చు. మరో 10 సార్లు ఎగురవేస్తే, నాలుగుసార్లు బొమ్మ, ఆరుసార్లు బొరుసు పడవచ్చును.

ఇలాంటి ప్రయోగాలు ఎక్కువసార్లు చేస్తే ఒక అపక్రమం మరొకదానిని రద్దుచేస్తుంది. ఈ విధంగా పెద్ద అంకెల సముదాయానికి జడత్వం లేదా స్థిరత్వం ఎక్కువగా వుండును. పెద్ద అంకెలలో అధిక మార్పులుండవు. ఒకవేళ వున్నా క్రమానుగతంగా మెల్లగా జరుగును. స్వల్ప కాలంలో జరిగే క్రమరహితమైన మార్పులు దీర్ఘకాలంలో పెద్ద అంకెలు నిర్లక్ష్యం చేస్తాయి. అందువలన జనాభా నుండి గణాంక విచారణలో దత్తాంశ సేకరణ తరువాత మూడోదశ ఎడిటింగ్, యదార్థత, సమానీకరణ, రెండోదశలో సేకరించిన దత్తాంశం, బృహత్ పరిమాణంలో జరిలంగా, అనేక దోషాలను కలిగి వుంటుంది. ఈ విధంగా వున్న దత్తాంశాన్ని సులువుగా అవగాహన అయ్యే విధంగా కుదించటం, అనవసర విషయాలను పరిహారించటం, లోపరహితంగా తీర్చిదిద్దే దశే ఈ మూడోదశ. ఈ దశలో చేపట్టే బాధ్యతలను గురించి ఇప్పుడు తెలుసుకుందాం.

## 2.8 ఎడిటింగ్, యదార్థత, సమానీకరణ, దోషాలు

సేకరించిన సమాచారాన్ని విచారణకు అనుగుణంగా చేసేందుకుగాను ఎడిటింగ్, యదార్థత, సమానీకరణ, దోషాలను పరిహారించడం వంటి చర్యలను తీసుకోవలసి వుంటుంది.

**2.8.1 ఎడిటింగ్ (Editing) :** మూడోదశలో మొదట దత్తాంశాన్ని దోషరహితంగా, యదార్థంగా, సంపూర్ణంగా ఎడిట్ (కూర్పు) చేయవలెను. సేకరించిన దత్తాంశాన్ని జాగ్రత్తగా పరిశీలించే పద్ధతినే ఎడిట్ చేయడమంటాము. ఎడిటింగ్ యొక్క ముఖ్యోద్దేశాలు పరిశీలించే పద్ధతినే ఎడిట్ చేయడమంటాము. ఎడిటింగ్ యొక్క ముఖ్యోద్దేశాలు (1) దత్తాంశంలో సంపూర్ణత చేకూర్చడం (Completeness). (2) దత్తాంశానికి కావలసినంత యదార్థత చేకూర్చడం. (3) దత్తాంశంలో అనుగుణ్యత వుండేటట్లు చేయడం. దత్తాంశాన్ని విచారణకు తగినదిగా వుండేటట్లు చేయడం.

ఎడిటింగ్‌లో దత్తాంశంలోని అవసరమైన కొన్ని ముఖ్య విషయాలను ఆమోదించి (Accept) గ్రహించటం జరుగుతుంది. ఒకవేళ దత్తాంశంలోని పనికిరాని, సందర్భరహితమైన విషయాలను తీసుకోకుండా నిరాకరించ (Reject) వచ్చును. ముడి దత్తాంశాన్ని ఎడిట్ చేయకుండా ముందంజ వేస్తే తప్పు నిర్ణయాలు వచ్చే అవకాశాలున్నాయి. అందువల్ల ఎడిట్ చేయవలెను. సేకరించిన గణాంకాలలో సాధారణంగా అనేక అసందర్భమైనటువంటి (Unwarranted), అవసరమైనటువంటి (Unnecessary) అయిన దోషాలుంటాయి. దత్తాంశము సేకరించిన వారు గణాంకాలను అనేక తావుల నుంచి సేకరిస్తారు. గణాంకశోధనలో పూర్తి కచ్చితత్వము సాధించడం కష్టము. గణాంక శాస్త్రాధ్యయనంలో పూర్తి కచ్చితాన్ని సాధించలేకపోవడమనే లోటు సాధారణంగా వుంది. దత్తాంశము సేకరించేవారు సేకరించడంలో అనేక కష్టాలకు గురి అవుతారు. ప్రశ్నావళి నింపేటప్పుడు జాగ్రత్తగా నింపకపోవడం జరగవచ్చును. గణాంకశోధకులు పాక్షికబుద్ధితో మెలిగే అవకాశాలున్నాయి. అందువల్ల అతడు సేకరించిన దత్తాంశంలో అనేక దోషాలుండవచ్చును. అందువల్ల సేకరించిన దత్తాంశాన్ని జాగ్రత్తగా ఎడిట్ చేసి, విచారణకు సరిపడేటట్లు దత్తాంశాన్ని తగురితిలో మార్చవలెను. అంతేగాని దత్తాంశాన్ని పూర్తిగా పాడుచేయరాదు. కొన్ని షెడ్యూళ్ళు తప్పుగా వుంటే వాటిని వదిలివేయవచ్చును. కాని ఈ వదిలివేయడం కూడా జాగ్రత్తగా చేయవలెను. కొన్ని విచారణలలో కొన్ని షెడ్యూళ్ళను వదిలినా సాధారణ నిర్ణయాలు దెబ్బతినవు. కాని కొన్ని విచారణలలో అట్లా చేస్తే అసలు సమస్య తాలూకు స్వరూపము పూర్తిగా మారుతుంది. దత్తాంశంలో పూర్తి యధార్థత సాధించడం కష్టము, అంత అవసరం కూడా కాదేమో! దత్తాంశంలో యధార్థతను, సమానీకరణానికి దోషాలకు ఎంతవరకు తావివ్వడమనేది గణాంక విశ్లేషణలో ముఖ్యంగా పరిశీలించవలెను.

**2.8.2 యధార్థత (Accuracy) :** గణాంకశాస్త్రము, సంభావ్యతలను, అంచనాలను చదివే శాస్త్రము. గణితశాస్త్రంలో సంపాదించగల పూర్తి యధార్థత ఇందులో సంపాదించడానికి వీలుపడదు. ఖచ్చిత స్వభావం గల విజ్ఞాన శాస్త్రాలలో పూర్తి యధార్థత సాధించవచ్చును. కాని సాంఘిక శాస్త్రాలలోను, మానవుని చేష్టలను గురించి చదివే శాస్త్రాలలోను పూర్తి యధార్థత సాధించడం కష్టమువుతుంది. పరిశోధకునిలో గల కొన్ని గుణాలవల్లను, అతడు కొలతలకు వాడే పరికరాలలో గల దోషాల వల్లను సేకరించిన దత్తాంశపు యధార్థత దెబ్బతింటుంది. మానవుని చేష్టలు ఎప్పటికప్పుడు మారుతూ వుంటాయి. మానవుని చేష్టలకు సంబంధించిన విషయాలపై ప్రయోగాలు చేయడం, పరిశీలన చేయడం చాలా కష్టంగా వుంటుంది. విషయ సేకరణకు గణాంక శోధకుడు, ఆ విషయానికి సంబంధించిన మొత్తం జనాభాను గ్రహిస్తాడు. అప్పుడప్పుడు అంచనాల ద్వారా సేకరిస్తాడు. అందుచేత పూర్తి యధార్థత అసాధ్యమైనప్పటికీ కావలసినంత యధార్థత (ఉండవలసినంత యధార్థత - Reasonable accuracy) ఆధునిక గణాంక పద్ధతుల ద్వారా సాధించవచ్చును. అందువల్ల సాధ్యమైనంత ఎక్కువ యధార్థత అనే పదమే సాపేక్షికమైనది. ఇది గణాంక విచారణ ఉద్దేశంపై ఆధారపడి వుంటుంది. నిజానికి చెప్పవలెనుకంటే పూర్తి యధార్థత గణాంకశాస్త్రంలో జేసే భారీ విచారణలకు అక్కరలేదు. ఈ విషయాన్ని గురించి బౌలీ అన్న దేమిటంటే ప్రస్తుతము మనకున్న విజ్ఞాన పరిస్థితులలో, మనం గణన చేసే గణాంకపు కొలతల, నిర్ణయాలు, పూర్తి దత్తాంశము సాధ్యపడనందువల్ల సరిఅయిన లాఘవంతో (Precision) చేయలేము. గణాంకశాస్త్రంలోని కొలతలలో కొంతవరకు దోషాలకు తావివ్వవలెను. ఏ విషయాన్నైనా పూర్తి యధార్థతో వర్ణించడం కష్టము. నిజానికి గణాంకశాస్త్రము దోషాలు వుండి యధార్థంగా అసంపూర్ణంగా వుండే ప్రపంచంలోని విషయాలను తెలుసుకోవడానికి పనికివస్తుంది. ఏదైనా విషయం గురించి తెలుసుకోవడానికి పూర్తి యధార్థత అవసరం లేదని మనము గమనించినాము కదా, ఉదాహరణకు, భూమికి, చంద్రునికి గల దూరము సెంటీమీటర్లలో అంచనా వేయడంలో అర్థం లేదు. ఎందుకంటే ఈ దూరము అనేక లక్షల కిలోమీటర్లలో వుంటుంది. అట్లాగే బియ్యం వ్యాపారస్తుడు బియ్యం బరువును గ్రాములలో తూచడు. క్వింటాళ్ళలో తూచే వస్తువుల దగ్గర కిలోగ్రాముల బరువు తూస్తే చాలు. నిజానికి అనేక విషయాలలో కచ్చితమైన కొలత అవసరము. అసలు విలువను అంచనా వేస్తే చాలు. ఈ అంచనాలో సాధ్యమైనంత యధార్థత వుంటే మనము సంతృప్తి పడవచ్చును.

అయితే సాధ్యమైనంత యధార్థత అంటే ఏమిటి ? ఈ ప్రశ్నకు సరియైన సమాధానము చెప్పడం కష్టము. ఈ పదాన్ని



నిర్వచించడం కూడా కష్టము. అందువల్ల యథార్థత అనేది దత్తాంశం గుణంపైనా, గణాంక విచారణ ఉద్దేశంపైనా ఆధారపడుతుంది. కొన్ని విషయాలలో కచ్చితత్వపు సంప్రదాయక ప్రమాణాలు (Conventional Standards of Accuracy) వుంటాయి. వీటిని గణాంక శోధకుడు ఆధారంగా తీసుకొని నిర్ణయాలు చేయవచ్చును. ఉదాహరణకు, హెచ్చుదూరాన్ని దగ్గర కిలోమీటర్లలో కొలిస్తే చాలు. అందువల్ల గణాంకశాస్త్రంలో పూర్తి యథార్థత అవసరం లేదు. సాపేక్ష యథార్థత వుంటే చాలు. సాపేక్ష యథార్థత (Relative accuracy) ఎట్లా సాధించినామో ఈ క్రింది ఉదాహరణ ద్వారా తెలుసుకోవచ్చు. దత్తాంశ సమర్పణలో సాపేక్ష యథార్థతా పరిమితి ఎట్లా సాధించినామో పేర్కొనవలె. ఒక రాష్ట్రంలో పత్తి ఉత్పత్తి 45,000 టన్నులు (వెయ్యికి సవరించడం జరిగింది) అనుకొందాము. ఈ దత్తాంశంలోని యథార్థతా పరిమితిని కింద సవరించిన రీతులలో పేర్కొనవచ్చు. (ఎ) పత్తి ఉత్పత్తి 45,000 టన్నులు (వేలలో దగ్గరి పూర్ణాంకానికి సవరించడం జరిగింది) (బి) పత్తి ఉత్పత్తి 500 టన్నులు మించకుండా కలిపిగాని, తీసివేసిగాని 45,000 టన్నులు (45000 + 500) (సి) పత్తి ఉత్పత్తి 44,501 నుంచి 45,000 టన్నుల మధ్య వుంటుంది. (డి) పత్తి ఉత్పత్తి 45,000 టన్నులు (2 శాతానికి సరిపోతుంది).

**2.8.3 సమానీకరణము (Approximation) :** గణాంకశాస్త్రాన్ని నిర్వచించేటప్పుడు బోడింగ్‌టన్ “అంచనాలు కట్టి సంభావ్యతలను చదివే శాస్త్రమే గణాంకశాస్త్ర”మని చెప్పినాడు. అట్లాగే బౌలీ కూడా “గణాంక శాస్త్రము సరాసరి సత్యాలనే చెబుతుంది. ఈ సత్యాలను ఉండవలసిన యథార్థతా పరిమితిని బట్టి అంచనావేసి చెబుతారు” అని చెప్పినాడు. ఈ రెండు నిర్వచనాలను బట్టి మనకు తెలిసిందేమిటంటే సేకరించిన దత్తాంశము వెంటనే ఉపయోగపడేస్థితిలో వుండదు. అటు వంటి దత్తాంశం నుంచి నిర్ణయాలు తీసుకోవడం మంచిది కాదు. అందువలన దత్తాంశగణాంకాలకు సమీకరణము అవసరము. సమీకరణము దత్తాంశ సేకరణ దశలో గాని, సమర్పణ దశలో గాని, దత్తాంశ విశ్లేషణ దశలో గాని చేయవచ్చును. ఏ పరిస్థితులలో కచ్చితమైన గణన సాధ్యపడదో ఆ పరిస్థితులలో సమీకరణము చాలా సహాయకారి. సమీకరణమంటే సేకరించిన అంకెలను దగ్గర పూర్ణాంకానికి సవరించడం (Round off) సేకరించిన పెద్ద పెద్ద అంకెలను సులభం చేసి ఉపయోగించడానికి, విశ్లేషించడానికి, కావలసినంత యథార్థత సంపాదించడానికి దగ్గర పూర్ణాంకానికి సవరిస్తే బాగుంటుంది. పెద్ద అంకెలు చూసిన వెంటనే తబ్బిబ్బు కల్గిస్తాయి. చూడటానికి, గ్రహించడానికి కూడా బాగుండవు. అప్పుడప్పుడు అసలు అంకెలు లభ్యమైనప్పటికీ వాటిని గణాంక విశ్లేషణ చేయడానికి వీలుగా దగ్గర పూర్ణాంకానికి సవరించడం మంచిది. కొన్ని కొన్ని విషయాలలో అసలు (Original) అంకెలు అనవసరము. అందువల్ల అంచనా వేసిన అంకెలు అంటే సమీకరణం చేసిన అంకెలు లక్ష్యసాధనకు సరిపడతాయి. ఉదాహరణకు, మనదేశంలో 1971లో జనాభా 54,73,68,926 అని అనుకొందాము. ఈ అంకెలు తబ్బిబ్బుగా వుంటాయి. గణాంక విశ్లేషణ కూడా సులభంగా వీలుపడవు. అటువంటప్పుడు జనాభా 55 కోట్లు అని దగ్గర పూర్ణాంకంలోనికి సవరించి చెబితే చాలు. లభ్యమైన దత్తాంశాన్ని సమీకరణం చేయడానికి రెండు ముఖ్యోద్దేశాలున్నాయి. (1) దత్తాంశాన్ని సరిగ్గా బోధపరచుకోవడానికి సమీకరణం చేసిన అంకెలు వీలుకలిగిస్తాయి. బోధపరచుకొనేటప్పుడు కలిగే తబ్బిబ్బు తొలగించవచ్చును. (2) సమానీకరణపు అంకెలు దత్తాంశాన్ని తారతమ్య వివేచన చేయడానికి వీలుకలిగిస్తాయి. బోధన పరచుకొనేటప్పుడు కలిగే తబ్బిబ్బు తొలగించవచ్చు. (3) సమానీకరణపు అంకెలు దత్తాంశాన్ని తారతమ్య వివేచన చేయడానికి వీలుకలిగిస్తాయి.

**సమానీకరణ పద్ధతులు :** అంకెలను సమానీకరణం చేసే ముందు ఎంతవరకు యథార్థత కావాలనే విషయాన్ని ఏ స్థానమునకు (ఉదా : వందలు, వేలు) సవరించవలెనో గుర్తించవలెను. వాడుకలో వున్నటువంటి, అందరూ అంగీకరించినటువంటి కొన్ని సమీకరణ పద్ధతులు కింద ఇచ్చినాము. వాటిని పరిశీలిద్దాము.

1. కొన్ని చివర అంకెలను తొలగించి దగ్గర పూర్ణాంకానికి సవరించడం : ఈ పద్ధతిలో సమీకరణం చేస్తున్న భాగాన్ని పూర్తిగా వదలివేయడం జరుగుతుంది. ఉదాహరణకు 98,421 అనే సంఖ్యను వేలకు సమానీకరణం చేస్తే 98,000 అవుతుంది. అట్లాగే 69,965 అనే సంఖ్య 69,000 అవుతుంది. ఈ పద్ధతిలో సమానీకరణము చేసిన విలువ అసలు అంకె విలువ కంటే తక్కువగా వుంటుంది. ఈ సూత్రాన్ననుసరిస్తే 2185 అనే సంఖ్య పూర్ణాంకానికి సరిపెట్టితే 21 అవుతుంది. 16.01 అనే సంఖ్య 16 అవుతుంది.

ఈ క్రింద ఇచ్చిన ఉదాహరణ పరిశీలిద్దాము. 76,250 అనే సంఖ్య కూడా 76,000గాను, 76922 అనే సంఖ్య 76000గాను గణన చేయవచ్చు. కాని ఆ రెండు సంఖ్యల విలువలు ఒకటి కావు. వాటి విలువలలో చాలా తేడా వుంది. ఇటువంటి తేడాలు ఈ పద్ధతిలో వదలివేయడం జరుగుతుంది. ఈ పద్ధతి వల్ల దత్తాంశానికి అధోభివృత్తి (Downward Bias) ఏర్పడుతుంది. అంటే దత్తాంశ విలువలు అసలు విలువలకన్నా తగ్గుతాయి.

2. అసలు అంకెను తరువాత హెచ్చు అంకెకు సవరించడం (Round Off) : ఉదాహరణకు, 76,250 అనే సంఖ్య 77,000గాను, 76,922 అనే సంఖ్య కూడా 77,000గాను సమానీకరణం చేస్తారు. ఈ పద్ధతిలో దత్తాంశానికి ఊర్ధ్వాభివృత్తి (Upward Bias) అనే లోపము ఏర్పడుతుంది. అంటే దత్తాంశం విలువలు అసలు విలువల కన్నా హెచ్చవుతాయి. ఈ సూత్రాన్ని అనుసరించి 21.85 అనే సంఖ్య 22గాను, 16.01 అనే సంఖ్య 17గాను మారతాయి.
3. అసలు అంకెకు దగ్గరగా వున్న అంకెతో సమానీకరణం చేయడం : ఈ పద్ధతిలో అసలు అంకె స్థానంలో దగ్గరి పూర్ణాంకం వ్రాస్తారు. ఈ పద్ధతిలో 76,250 అనే సంఖ్య 76,000గాను, 76,922 అనే సంఖ్య 77,000గాను తీసుకుంటాము. ఈ పద్ధతి చాలా హెచ్చువాడుకలో వున్నది. ఈ పద్ధతిలో నిస్పృహితులైన అంచనాలు వస్తాయి. అందువల్ల దీనినే వాడతారు. ఈ సూత్రాన్ని అనుసరించి 21.85 అనే సంఖ్య 22గాను 16.01 అనే సంఖ్య 16గాను మారతాయి. ఈ సూత్రాన్నే శాతాలకు, నిష్పత్తులకు ఉపయోగించవచ్చు. ఉదాహరణకు, 63.9% అనేదానిని 64%గాను, 62.2% అనేదానిని 62%గాను పరిగణించవచ్చు. అట్లాగే  $\frac{3}{4}$  అనే భిన్నము 1గాను,  $1\frac{1}{4}$  అనేది కూడా 1 గాను, చెప్పవచ్చు.

ఈ పద్ధతిలో సూత్రమేమంటే సవరిస్తున్న భాగము పూర్ణాంకంలో (ఉదా : దగ్గరి వెయ్యికి సవరిస్తున్నప్పుడు 1000 పూర్ణాంకము) సగంకంటే ఎక్కువ వున్నట్లయితే విడిచిపెట్టుతున్న భాగానికి ముందున్న అంకెకు ఒకటి కలుపవలె. 76,992ను ఈ పద్ధతిలో సమానీకరణం చేస్తే 77,000 అవుతుంది. సమానీకరణం చేస్తున్న భాగము పూర్ణాంకంలో సగం కంటే తక్కువ వున్నట్లయితే ఆ భాగాన్ని విడిచిపెట్టవలె (ignore it) ఉదా : 76,250 అనే సంఖ్య 76,000 అవుతుంది. ఒకవేళ సమానీకరణం చేస్తున్న సంఖ్య పూర్ణాంకంలో సగానికి సరిగ్గా సమానమైతే, అట్లాంటప్పుడు విడిచిపెట్టుతున్న అంకెకు ముందున్న అంకెకు ఒకటి కలుపవలె లేదా ఆ భాగాన్ని వ్రాయకుండా విడిచిపెట్టవలె. కాని అట్లాంటి అంకెలు చాలా ఉన్నప్పుడు సగం సందర్భాలలో ఆ భాగాన్ని విడిచిపెట్టి ఊరుకోవడం చేయవచ్చు. ఇట్లాంటి సందర్భాలలో ఆ భాగాన్ని విడిచిపెట్టి ఊరుకోవడం చేయవచ్చు. ఇట్లాంటి సందర్భాలలో ఆచరణీయమైన పద్ధతి ఏమిటంటే, సమానీకరణం చేస్తే సరి సంఖ్య (Even number) వచ్చేటట్లయితే వదలివేస్తున్న భాగానికి ముందున్న అంకెకు ఒకటి కలుపవలె లేదా సమీకరణం చేస్తే బేసి సంఖ్య (Odd number) వచ్చేటట్లయితే, సమానీకరణం చేస్తున్న భాగాన్ని విడిచిపెట్టవలె. ఉదాహరణకు 5.5ను సమానీకరణం చేస్తే 6 (సరిసంఖ్య) వస్తుంది. కాబట్టి సవరించవలె. 4.5ను సమానీకరణం చేస్తే 5(బేసి సంఖ్య) వస్తుంది. కాబట్టి సవరించకుండా ఆ భాగాన్ని విడిచిపెట్టవలెను. అంటే అది 4 (సరిసంఖ్య) అవుతుంది. ఇందులోని కిటుకు ఏమంటే సమీకరణం వల్ల సరిసంఖ్యలు రావాలి. మరొక ఉదాహరణ : 235ను సమానీకరణం చేస్తే 240 అవుతుంది. 325ను సవరిస్తే 320 అవుతుంది.

4. అంకెలను ఒక దశాంశ స్థానానికి గాని, రెండు దశాంశ స్థానాలకుగాని, సమానీకరణం చేస్తే సరి అయిన నిష్పాక్షికమైన అంచనాలు వస్తాయి.

ఉదాహరణ - (1) ఒక దశాంశ స్థానానికి సవరించడం.

అసలు సంఖ్య	సవరించిన సంఖ్య
105.876	105.9
104.218	104.2

(2) అసలు సంఖ్య	సవరించిన సంఖ్య
105.876	105.88
104.218	104.22

గమనిక :

- (1) అంకెలను కలపడంలోగాని, తీసివేయడంలోగాని సమానీకరణ చేయవలెనంటే అసలు అంకెలను సమానీకరణము చేయకూడదు. కలిపిన తరువాత వచ్చిన మొత్తం సంఖ్యను, తీసిన తరువాత వచ్చిన సంఖ్యను సమానీకరణం చేయవలె.
- (2) సమానీకరణం చేసిన అంకెను, అది అసలు సంఖ్య కాదని, సమానీకరణ చేసిన తర్వాత వచ్చిన సంఖ్య అని తెలిసేటట్టు వ్రాయవలె. ఉదా : కచ్చితమైన అసలు విలువ 8 అయితే దానిని 8గా వ్రాయవచ్చు. కాని 8కి అటు ఇటుగా వున్న సంఖ్యలను 8కి సవరించి వున్నట్లయితే అప్పుడు దానిని 8.0 అని వ్రాయవలె. కాబట్టి సమానీకరణం చేసిన సంఖ్య తరువాత సున్నా వున్నట్లయితే దానిని తప్పకుండా వ్రాయాలి.
- (3) సమానీకరణం చేసిన అంకెలు వ్రాస్తున్నప్పుడు సమానీకరణం చేసిన పద్ధతిని, ఎంతవరకు సవరించినది - ఉదా : పదుల వరకా, వందల వరకా, లేదా వేల వరకా, - కూడా వ్రాయాలి.

**2.8.4 దోషాలు (Errors) :** గణాంక శాస్త్రంలో దోషము (Error), తప్పు (Mistake) అనే రెండు పదాలకు అర్థంలో తేడా గ్రహించవలె. సాధారణంగా నిత్యం వాడుకలో దోషము, తప్పు అనే రెండు పదాలు ఒకే అర్థంలో వాడుతున్నారు. కాని, గణాంకశాస్త్రంలో దోషమంటే తప్పన్న భావాము కాదు. గణితంలో గణనలు చేసేటప్పుడు వస్తాయి తప్పులు. దోషమంటే ఒక విషయం తాలూకు అసలు విలువలకు, అంచనా చేసిన విలువకు వుండే భేదము. గణాంకశాస్త్రంలో పూర్తి యధార్థత వీలుపడదని, అందువల్ల కావలసినంత యధార్థత చాలునని లోగడ ఈ అధ్యయంలోనే చదివి వున్నాము. కావలసినంత యధార్థత కోసం సమానీకరణం చేసిన విలువలనే వాడతాము. ఈ సమానీకరణం చేసిన విలువకు అసలు విలువకు గల భేదము దోషమనిపించుకుంటుంది. ఉదాహరణకు, ఒక క్లాసులోని బాలుర వయస్సు సగటు గణన చేసినప్పుడు ఒక బాలుని వయస్సు 14 సంవత్సరాలకు బదులు 41 అని పొరపాటున వ్రాసి, గణించి వుండవచ్చు. ఈ పొరపాటునే తప్పు అంటాము. ఇంకో విచారణలో అనకాపల్లి కాలేజీ ఉపాధ్యాయుల సరాసరి నెలసరి కుటుంబ ఖర్చు తెలుసుకోదలచినామనకొందాము. ఈ ఉపాధ్యాయుల జీతాలలో చాలా హెచ్చు వ్యత్యాసాలనుకుందాము. అటువంటప్పుడు యాదృచ్ఛిక ప్రతిచయన పద్ధతిని ఉపయోగించి సరాసరి కడితే దోషము సంభవిస్తుంది. ఎందుకంటే ఈ విచారణలో స్థిర యాదృచ్ఛిక ప్రతిచయన పద్ధతిని వాడితే సరైన ఫలితము వస్తుంది. కాబట్టి ఒక ప్రతిచయన పద్ధతికి బదులు ఇంకో ప్రతిచయనపద్ధతి వాడితే దోషాలు వస్తాయి. ఇటువంటి దోషాలను గూర్చి గణాంకశాస్త్రంలో ఇప్పుడు ఇక్కడ అధ్యయనం చేస్తాము. దోషాలు అనేక కారణాల వల్ల వస్తాయి. ఉదాహరణకు ఎత్తు, బరువు, దూరము మొదలైన చలరాశులను (Variables) కొలవడంలో, అంకగణితపు కచ్చితము సాధ్యపడదు. కొలతకు ఉపయోగించే పరికరాలు కూడా పూర్తి కచ్చితతాన్ని చెప్పలేవు. ఉదాహరణకు ఒక వ్యక్తి ఎత్తు సెంటీమీటర్లలో కొలుస్తాము. సాధారణంగా మిల్లీ మీటర్లలో కొలవడం జరగదు. కొలత పరికరంలో కూడా మిల్లీమీటర్లు గుర్తించి ఉండకపోవచ్చు. కాబట్టి తీసుకున్న కొలతకు, అసలు కొలతకు కొంత తేడా వుండకతప్పదు. దీనినే దోషమంటారు. గణాంకశాస్త్రంలో వచ్చే దోషాల మూలాలు (Sources of Errors) పరిశీలిద్దాము. దోషాలు అనేక కారణాల వల్ల సంభవిస్తాయి. ఈ కింద కొన్ని ముఖ్యమైనవి ఇవ్వడం జరిగింది.

- (a) మూలగత దోషాలు (Errors of Origin) : ఒక వ్యక్తి ఎత్తు కొలవలేని దోషము ఇటువంటిదే. షెడ్యూళ్ళను, ప్రశ్నావళులను నింపేటప్పుడు భోగట్టా తెలిసిన వారు ఏదో కారణం వల్ల సరైన జవాబులు ఇవ్వకపోవచ్చు. గణాంకశోధకుని

అప్రయోజకత్వము (Incompetence) వల్లనూ, తగని గణాంక ప్రమాణము ఎన్నుకోవడంలోనూ ఇటువంటి దోషాలు వస్తాయి.

- (b) **అపర్యాప్త దోషాలు (Erros of Inadequacy) :** ఈ దోషాలు ప్రతిచయనం తక్కువ పరిమాణంలో తీసుకోవడం వల్ల సంభవిస్తాయి. వీటిని ప్రతిచయన దోషాలంటారు. ఒక ప్రతిచయన విచారణ చేసేటప్పుడు ప్రతిచయనం వల్ల కలిగే ఫలితాలు మొత్తం జనాభాకు ప్రాతినిధ్యము వహించవలెనంటే తీసుకొన్న ప్రతిచయనం తగినంత పరిమాణంలో వుండవలె. చాలా తక్కువ ప్రమాణం గల ప్రతిచయనము ఎన్నుకుంటే ఫలితాలలో దోషాలుంటాయి.
- (c) **అభిసంధాన దోషాలు (Errors of Manipulation) :** ఈ దోషాలు, గణనలు చేయడంలోను, లెక్కించడంలోను, అంశాలను కొలవడంలోను, వర్ణించడంలోను, అంశాలను వర్గీకృతం చేయడంలోను, దత్తాంశము సమానీకరణం చేయడంలోను, గణకులు చేసిన తప్పుల వల్లను సంభవిస్తాయి. ఇటువంటి దోషాలు తెలియకుండానే దొర్లుతాయి. పైన వివరించిన మూడు దోషాల మూలాల నుంచి దోషాలకు గల కారణాలెన్నో చెప్పవచ్చు.
- (a) **దత్తాంశ తారతమ్యత :** తారతమ్యతకు వీలుపడని దత్తాంశాన్ని తారతమ్యము చేస్తే దోషాలు వస్తాయి. లేదా సరైన తారతమ్యత చేయకపోయినా దోషాలు వస్తాయి. విజాతీయ దత్తాంశం నుంచి గ్రహించిన నిర్ణయాలు ఎప్పుడు వికృతార్థాలిస్తాయి. ఉదాహరణకు, దేశంలో చదువుకొనేవారి సంఖ్య హెచ్చవుతున్నది. ఆసుపత్రులలో పిచ్చి వారి సంఖ్య పెరుగుతున్నది. ఈ రెండు దత్తాంశాలలో సజాతీయత లేదు. ఇటువంటి విజాతీయ దత్తాంశము తీసుకొని ఎట్లాంటి నిర్ణయము చేసినా బాగుండదు. బెర్ టిలియాన్ మహాశయుడు, “ఏ కారణాల వల్ల సంభవించిన ఫలితాలను ఆ కారణాలతోనే పోల్చవలె”నని చెప్పినాడు (Always compare effects to the causes producing them).
- (b) **ప్రాతినిధ్యము వహించని దత్తాంశము :** గ్రహించిన దత్తాంశ మొత్తము సమిష్టి జనాభాకు ప్రాతినిధ్యము వహించవలె. అసంపూర్ణ దత్తాంశము ఎప్పుడూ తప్పు నిర్ణయాలకు దారి తీస్తుంది.
- (c) **షాక్షికత :** అన్నిటికంటే ఈ షాక్షికత దృష్టి వల్ల హేత్వాభాస నిర్ణయాలు వస్తాయి. వ్యక్తిగత షాక్షిక బుద్ధి మొత్తం విచారణ అంతటినీ భంగపరుస్తుంది. ఉదాహరణకు, ఆడవారు వారి వయస్సును ఎప్పుడూ అసలు వయస్సుకంటే తక్కువగానే చెబుతారు. అట్లాగే బట్టల వర్తకుడు బట్టను కొలవడంలో మీటరు స్కేలునుపయోగించి, చాకచక్యంగా మీటరుకంటే కొద్ది తక్కువ బట్టనే కొలుస్తాడు. ఇటువంటి విషయాలను గణాంక శోధకుడు గుర్తించకపోతే దోషాలు వస్తాయి. గణాంక శోధకుడు కూడా నిష్పాక్షికంగా వుండవలెను.
- (d) **నిర్వచనంలో మార్పులు :** గణాంక దత్తాంశ సేకరణలో కొన్ని భావనల (concepts) పదాలను జాగ్రత్తగా ప్రయోగించవలెను. గణాంక ప్రమాణాన్ని జాగ్రత్తగా నిర్వచించవలె. ఆ నిర్వచనమే విచారణ దశలన్నిటిలో వాడవలె. నిర్వచనంలో ఏ మాత్రం చిన్న మార్పు జరిగినా అనేక దోషాలు వస్తాయి. ఉదాహరణకు, ‘ధర’ అనే పదాన్ని విచారణ ఉద్దేశం ప్రకారం నిర్వచించవలెను. టోకు ధర, చిల్లర ధర, ఉత్పత్తి ధర అని నిర్ణయించవలెను.
- (e) **విపులీకరణ దోషాలు :** దత్తాంశాన్ని విపులీకరించడంలో దోషాలు సంభవిస్తాయి. ఈ దోషాలనే గణాంక హేత్వాభాసాలంటారని రెండో అధ్యాయంలో గమనించినాము. ఇక్కడ ఉదాహరణకు పూర్వకంగా మరికొన్ని హేత్వాభాస దోషాలు గమనిద్దాము : (1) గణిత శాస్త్రము పరీక్ష బాగా వ్రాసిన విద్యార్థి గణాంకశాస్త్ర పరీక్షలో కూడా బాగా వ్రాస్తాడు అని అనుకోవడం తప్పు. తప్పు నిర్ణయాలు, తద్వారా దోషాలు సాదృశ్యాల వల్ల, సాహచర్య ధర్మాల వల్ల సంభవిస్తాయి. (2) శాతాలు, సగటులను వాడటంలో దోషాలు దొర్లుతాయి. ఒక కళాశాలలో పది మంది విద్యార్థులున్న ఒక వర్గాన్ని తీసుకుందాము. ఈ వర్గంలో ఒక చదరంగపు ఆటగాడున్నాడనుకొందాము. దీనిని బట్టి కళాశాలలో 10% విద్యార్థులు

చదరంగపు ఆటగాళ్ళని చెప్పడం దోషము. (3) తర్క విరుద్ధ తర్క దోషాలు - ఉదాహరణకు, 90% జనాభా తాగుడు వల్ల 100 సంవత్సరాల వయస్సు రాకుండా చనిపోతున్నారు. అందువల్ల తాగుడు మంచిది కాదు. దాని వల్ల ఆయుఃప్రమాణము తగ్గుతుంది. ఈ తర్కము సరియైనది కాదేమో. ఎందుకంటే తాగినవారు కూడా, తాగకుండా పాలు, ఫలాలు తీసుకొన్నవారితోపాటు చనిపోతున్నారు. 100 సంవత్సరాల వయస్సు రాకుండా సాధారణంగా చాలా మంది చనిపోతారు. 100 సంవత్సరాల ఆయుఃప్రమాణము చాలా దీర్ఘమైనది. (4) కొన్ని విషయాలు గమనించకపోవడం - ఉదాహరణకు, విద్యార్థులు ఎక్కువ మంది మధ్యాహ్నపు సినిమా (మ్యూటీ) చూస్తారన్నా నిర్ణయము చేసినారనుకొందాము. ఇది హేత్వాభాస నిర్ణయమే. దీనికిగల కారణాలనేకాలుంటాయి. బహుశా ముఖ్య కారణం ఏమిటంటే రాత్రి సినిమా చూస్తే తల్లిదండ్రులు దెబ్బబాడతారు. కాబట్టి తల్లిదండ్రులకు తెలియకుండా మధ్యాహ్న సమయంలో (బడి వేళలలో) మ్యూటీసీలు విద్యార్థులు చూడవచ్చును. కాబట్టి కారణాలు తెలియకుండా చేసిన నిర్ణయాలకు దోషాలవుతాయి. (5) పూర్తి దత్తాంశము లేనప్పుడు చేసిన నిర్ణయాలు దోషాలు, ఉదాహరణకు, సాధారణ మానవుడు రోజుకు ఒక సిగరెట్టు పెట్టెలో గల 10 సిగరెట్లు కాలుస్తాడనుకొందాము. ఒక పట్టణ జనాభా 50,000, అందువల్ల ఆ పట్టణంలో రోజుకు 5,00,000 సిగరెట్లు చెల్లుబడి అవుతున్నాయన్నా నిర్ణయము దోషము. ఎందుకంటే - సాధారణ మానవుని నిర్వచించి నిర్ణయించడం కష్టము. అదీకాక మొత్తం 50,000 జనాభాలో స్త్రీలు, పిల్లలు సిగరెట్లు కాల్చనివారు కొంత మంది వుంటారు కదా.

(f) ఇతర కారణాలు : సేకరించిన దత్తాంశము విచారణకు తగినప్పుడు తప్పయిన కొలతలు వాడినప్పుడు తప్పుడు నిర్ణయాలు వస్తాయి. ఇవీ గణాంక దోషాలే. సేకరించిన దత్తాంశ విస్తరణ సమంగా లేనప్పుడు, తప్పుదారిని పట్టించే చిత్రపటాలు, రేఖాచిత్రాలు ఉపయోగించడం వల్ల ఇంకా ఇటువంటి తదితర కారణాల వల్ల సాంకేతిక దోషాలు సంభవిస్తాయి. ఈ దోషాలు తప్పుడు నమ్మకాలకు దారితీస్తాయి. తరువాత అనేక కారణాల వల్ల వచ్చే ఫలితాలను ప్రత్యేకించవలెను. ఫలితాలను వేరుచేయకుండా నిర్ణయాలు పారపాటున చేస్తే దోషాలు వస్తాయి.

దోషాలలో రకాలు : గణాంకశాస్త్రంలోని దోషాలను రెండు భాగాలుగా విభజించవచ్చు (1). ప్రతిచయన దోషాలు (Sampling Errors), (2) అప్రతిచయన దోషాలు (Non-Sampling Errors).

1) ప్రతిచయన దోషాలు : కొన్ని అంశాల (ప్రతిచయనము) పరిశీలన ఆధారంగా, పూర్తి జనాభాకు సంబంధించిన నిర్ణయాలు తీసుకోవడం మూలంగా తలవెత్తే దోషాలను ప్రతిచయన దోషాలుంటారు. జనాభా దర్యాప్తు విచారణలో అన్నీ అంశాలను పరిశీలిస్తాము కాబట్టి అట్లాంటి విచారణలో ప్రతిచయన దోషాలుండవు. అయినప్పటికీ, జనాభా దర్యాప్తు పద్ధతిలో దోషాలుండవని కాదు. వుంటాయి. వాటిని ప్రతిచయన దోషాలుంటారు. దత్తాంశ సేకరణ, ప్రోసెసింగ్ (అంటే కోడింగ్ (Coding)). వర్గీకరణ, పట్టికరణ, దశలలో తల ఎత్తే దోషాలను అప్రతిచయన దోషాలుంటారు. ప్రతిచయన దర్యాప్తు పద్ధతి ద్వారా దత్తాంశాన్ని సేకరించినా తర్వాత ప్రోసెసింగ్ దశలు ఒకటే కాబట్టి ఈ దత్తాంశంలో, ప్రతిచయన, అప్రతిచయన దోషాలు రెండూ వున్నాయి. పూర్తి జనాభా దర్యాప్తు పద్ధతిలో ప్రతిచయనం ప్రసక్తి లేదు కాబట్టి, అందులో అప్రతిచయన దోషాలుంటాయి. ప్రతిచయన దోషాలు ప్రతిచయన విధానంలో వస్తాయి. కాని అప్రతిచయన దోషాలు యోజనదశ మొదలుకొని ఏ దశలోనైనా రావచ్చు. భారీ విచారణలు చేసేటప్పుడు ప్రతిచయన పద్ధతులను వాడతాము. అంటే మొత్తం జనాభాలో కొన్ని అంశాలనే ప్రతినిధులుగా తీసుకొని వాటిపై దత్తాంశము సేకరిస్తాము. అంటే ప్రతిచయన పద్ధతిలో అన్నీ అంశాలు తీసుకోము. కాబట్టి ప్రతిచయనము తీసుకోవడమే ఒక దోషము. సరైన ప్రతిచయనము తీసుకోకపోతే ఈ దోషము మరింత హెచ్చుతుంది. గణాంకశోధనలో ప్రతిచయన దోషాలు, పాక్షిక దోషాలు, తప్పులు అని మూడు రకాలైన దోషాలు కన్పిస్తాయి. అందులో పాక్షిక దోషాలు తప్పులు అనేవి వుండకూడదు. వాటిని రాకుండా అరికట్టవలె. కాని ప్రతిచయన దోషాలన్నవి ప్రతిచయన పద్ధతి నవలంబించడంతోనే మొదలవుతాయి. ప్రతిచయన పద్ధతిలో దోషాలు

తప్పక వుంటాయి. కాబట్టి ప్రతిచయన పద్ధతిపై వచ్చిన ఫలితాలను విపులీకరణ చేసేటప్పుడు ఈ దోషాలను గుర్తించవలె.

ప్రతిచయనము చాలా జాగ్రత్తగా నిర్ణయించి ఎన్నుకొన్నప్పటికీ ఆ ప్రతిచయనం నుంచి వచ్చిన ఫలితాలు ఏ వర్గం నుంచి ప్రతిచయనం చేసి తీసుకొన్నామో ఆ వర్గానికి ప్రాతినిధ్యం వహించకపోవచ్చు. ప్రతిచయనాలు సాధారణంగా ఖచ్చితంగా వుండకపోవచ్చు. దీనివల్ల ప్రతిచయన దోషాలు వస్తాయి. ఈ దోషాలను రెండు రకాలుగా చెప్తారు.

- (a) **పాక్షిక దోషాలు (Biased Errors)** - ప్రతిచయనము ఎన్నుకోవడంలో, అంచనాలు కట్టడంలోను గల పాక్షికత్వం వల్ల సంభవించే దోషాలను పాక్షిక దోషాలంటారు. ఉదాహరణకు, ఒక గణాంక విచారణలో యాదృచ్ఛిక ప్రతిచయన పద్ధతి వాడవలసినచోట బుద్ధి పూర్వక ప్రతిచయన పద్ధతి వాడితే వచ్చిన ఫలితాలలో కొంత పాక్షికదోషము వుంటుంది.
- (b) **నిష్పాక్షిక దోషాలు (Unbiased Errors)** - ఒక గణాంక విచారణలో మొత్తం జనాభాలో ప్రతిచయనంగా ఎన్నుకొన్న అంశానికి తేడాలుండవచ్చు. అటువంటి ప్రతిచయన విచారణలో దోషాలుండవచ్చు. ఇట్లాంటి దోషాలను నిష్పాక్షిక దోషాలంటారు.

ప్రతిచయన దోషము పాక్షికతవల్లనూ, యాదృచ్ఛిక ప్రతిచయనపు ఎన్నికలవల్లనూ సంభవిస్తుంది. పాక్షిక దోషము జనాభా నుంచి హెచ్చు ప్రతిచయనాలు తీసుకొన్నప్పటికీ తగ్గదు సరికదా మరింత హెచ్చుతుంది. అందువల్ల పాక్షిక దోషాన్ని సంచిత దోషము (Cumulative Error) లేదా సరిపెట్టడానికి వీలులేని దోషము (Non compensating error) అంటారు. యాదృచ్ఛిక ప్రతిచయన దోషమంటే నిష్పాక్షిక దోషము, ఎక్కువ ప్రతిచయనాలు తీసుకోవడంలో తగ్గుతుంది. ఇటువంటి దోషాన్ని అసంచిత దోషము (Non-Cumulative Error) లేదా సరిపెట్టడానికి వీలుకలిగే దోషము (Compensating error) అంటారు.

గణాంక విచారణలో సంభవించే పాక్షికత్వానికి కొన్ని కారణాలున్నాయి. అవి ఏమిటంటే (ఎ) ప్రతిచయనము ఎన్నుకొనే పద్ధతి సరైనది కాకపోవడం. (బి) విషయ సేకరణ లోపము వుండటం. (సి) తుది గణాంక విశ్లేషణ చేయడంలో లోపముండడం.

- (ఎ) ప్రతిచయనం తప్పుగా ఎన్నుకోవడం వల్ల పాక్షికత్వము అనేక రకాలుగా సంభవిస్తుంది. (1) మొత్తం జనాభా నుంచి ప్రాతినిధ్యం వహించే ప్రతిచయనాన్ని బుద్ధిపూర్వకంగా ఎన్నుకోవడం. (2) తెలిసి కాని, తెలియకగాని యాదృచ్ఛిక ప్రతిచయన రూపంలో ఎన్నుకోవడం పాక్షికత్వం. (3) యాదృచ్ఛిక ప్రతిచయనంలోని అంశాలను ప్రతిస్థాపితం (Substitute) చేయడం వల్ల సంభవించే పాక్షికత్వము. ఉదాహరణకు ఒక విచారణలో ఒక గ్రామంలో గల ప్రతి 20వ ఇంటి యజమానిని ప్రతిచయనాలుగా తీసుకుందామని నిర్ణయించి 20వ ఇంటి యజమానిని ఎన్నుకొంటే వస్తాయి. ఎందుకంటే 20వ ఇంటి యజమానికి 21వ ఇంటి యజమానికి తేడాలుంటాయి. అంటే ప్రతిచయనాలుగా ఎన్నుకొనే అంశాలను నిర్ణయించిన తరువాత మార్పులు జరగకూడదు. (4) ప్రతిచయనంలో చేర్చవలసిన అంశాలన్నిటిని తీసుకోనప్పుడు అంశాలను ప్రతిస్థాపన చేయదలచుకోనప్పటికీ పాక్షికత్వము సంభవిస్తుంది. ఇటువంటి లోపం పోస్టుద్వారా పంపిన ప్రశ్నావళి విషయంలో జరుగుతుంది. ఎందుకంటే కొన్ని ప్రశ్నావళులను పూర్తిగా నింపకుండానే కొందరు పంపుతారు. అదే కాకుండా భోగట్టా తెలిసినవారు ఇచ్చిన భోగట్టాలలో పాక్షికత్వముండవచ్చును. (5) వ్యక్తికత్వము సంభవించవచ్చును. ఉదాహరణకు నీవు మంచి విద్యార్థివా అనే ప్రశ్నకు ప్రతి విద్యార్థి తాను మంచి విద్యార్థిననే చెబుతాడు.
- (బి) దత్తాంశ సేకరణలో పాక్షికత్వము : అంశాల కొలతలలో (జనాభా దర్శాస్తు పద్ధతిలోగాని, ప్రతిచయన పద్ధతిలోగాని) స్థిరంగా వచ్చే దోషం వల్ల పాక్షికత్వము ఏర్పడుతుంది. ఈ దోషము ప్రతిచయన విచారణలో మరింత ఎక్కువ. జనాభాను తప్పుగా నిర్వహించడంలోను, తగినంత విషయము సేకరించకపోవడంలోను, జనాభాను తప్పుగా నిర్ణయం

చేయడంలోను పాక్షికత్వము ఏర్పడే అవకాశాలున్నాయి. అసంపూర్ణ ప్రశ్నావళి తర్ఫీదు లేని గణకుడు జవాబులిచ్చేవాని జ్ఞాపకంలో వైఫల్యం మొదలైనవాటి వల్ల పాక్షిక పరిశీలన సంభవిస్తాయి. దత్తాంశ సేకరణలోని పాక్షికత సేకరణ విధానంలో లోపాల వల్ల, జవాబులు తప్పుగా ఎడిట్ చేయడం వల్ల, జవాబులను తప్పుగా అనువాదం చేయడం వల్ల సంభవిస్తుంది.

- (సి) గణాంక విశ్లేషణలో పాక్షికత్వము : సేకరించిన దత్తాంశాన్ని తప్పు విశ్లేషణ పద్ధతుల ద్వారా పరిశీలిస్తే దోషాలు వస్తాయి. పాక్షిక అంచనాల దోషము సరైన విశ్లేషణ నవలంబిస్తే తగ్గుతాయి.

పాక్షికత్వము సంభవించే అవకాశాలున్నప్పుడు సరైన నిర్ణయాలు తీసుకోలేము. అందువల్ల ఎటువంటి విచారణ చేసినా పాక్షికత్వము సంభవించే మూలాలను తొలగించవలెను. అందుకు కావలసినది, ప్రతిచయనము ఎన్నుకొనే పద్ధతిలో పాక్షికత్వానికి తావులేకపోవడం. అంటే, ప్రతిచయనాలను తెలియకుండా పూర్తి యాదృచ్ఛిక పద్ధతిపై ఎన్నుకోవలెను. అప్పుడప్పుడు క్రమపద్ధతిన కూడా, పాక్షికత్వము సంభవించకుండా ప్రతిచయనాలు తీసుకోవచ్చును.

1. ప్రతిచయన దోషాలు తగ్గించే విధానాలు : పాక్షిక దోషము తగ్గించిన తరువాత యాదృచ్ఛిక ప్రతిచయన దోషాలు తగ్గించడం గురించి ఆలోచన జరగవలెను. ప్రతిచయన దోషాలు సాధ్యమైనంత తక్కువగా వుంటే కావలసిన యధార్థత చేకూరుతుంది. ప్రతిచయన యధార్థతను హెచ్చు చేయడానికి ప్రతిచయనపు పరిమాణాన్ని హెచ్చించవలెను. యధార్థత ప్రతిచయనంలో తీసుకున్న గణాంక ప్రమాణాల మీద ఆధారపడుతుంది. అదేకాకుండా ప్రతిచయన దోషానికి దోహదం చేసే ప్రమాణాల మీద ఆధారపడుతుంది. అదేకాకుండా ప్రతిచయన దోషానికి దోహదం చేసే ప్రమాణ చలనత్వపు రేటు (Variability per unit) మీద కూడా ఆ యధార్థత ఆధారపడుతుంది. అందువల్ల స్థిర యాదృచ్ఛిక ప్రతిచయన దోషాలు తగ్గి, కావలసినంత యధార్థత చేకూరుతుంది.
2. అప్రతిచయన దోషాలు : ప్రతిచయన దోషాలు కానివన్నీ అప్రతిచయన దోషాలంటారు. ఈ దోషాలు అన్ని రకాలయిన పరిగణనల (Enumerations)లోను వస్తాయి. (ఎ) పాక్షికత్వము(Inherent). (బి) విచారణకు తగిన గణాంక ప్రాణము వాడడం. (సి) అంశాలను కొలిచే పనిముట్టులలో లోపము. (డి) తర్ఫీదు పొందిన శోధకులు, గణకులు విచారణలు చేయడం (ఇ) సేకరించిన దత్తాంశపు గణాంకాలను సమానీకరణం చేయడం. ఈ దోషాలన్నీ ప్రతిచయన పద్ధతి నెన్నుకోకుండా, జరిపిన విచారణలోని దోషాలు. సాధ్యమైనంత వరకు ఈ దోషాలు జరగకుండా చూడవలె.

**దోషమానము (Measurement of Error) :** దోషాలను కొలిస్తే అవి రెండు రకాలుగా వుంటాయి.

1. పరమ దోషము (Absolute Error) : అసలు విలువకు, అంచనా విలువకు వున్న భేదాన్ని పరమ దోషమంటారు.

Absolute Error = Actual Value - Estimated Value.

Absolute Error = పరమదోషము, Actual Value = అసలు విలువ, Estimated Value = అంచనా విలువ

సాంకేతికంగా A.E. = A - E.

ఉదాహరణకు, ఒక రోజు ఒక కాలేజీలో 2,500 విద్యార్థులు హాజరయినారు. కాని 2,400 విద్యార్థులు వచ్చినారని అంచనా వేయడం జరిగింది. అప్పుడు, A.E. = 2500 - 2,400 = + 100

కాని అంచనా వేసిన సంఖ్య 2,600 అయితే, A.E. = 2,500 - 2,600 = - 100

పరమ దోషము ధనాత్మకం (Positive)గాను, లేదా ఋణాత్మకం (Negative)గాను ఉండవచ్చు. E కంటే A పెద్ద సంఖ్య అయితే ( $A > E$ ) దోషము ధనాత్మక పరమదోష (Positive Absolute Error)మవుతుంది. E కంటే A చిన్న సంఖ్య అయితే ( $A < E$ ), దోషము ఋణాత్మక పరమదోష (Negative Absolute Error) మవుతుంది.

2. సాపేక్ష దోషము (Relative Error) : రెండు దత్తాంశాల మధ్య గల తారతమ్యాన్ని తెలుసుకోవడానికి పరమదోషము పనికిరాదు. తారతమ్యాలను తెలుసుకోవడానికి సాపేక్ష దోషాన్ని సంగణన (Compute) చేయవలె. పరమదోషానికి అంచనా విలువకు గల నిష్పత్తిని సాపేక్ష దోషమంటారు.

$$\text{Relative Error} = \frac{\text{Actual value} - \text{Estimated value}}{\text{Estimated value}}$$

Relative Error = సాపేక్ష దోషము, Actual Value = అసలు విలువ, Estimated Value = అంచనా విలువ.

$$\text{సాంకేతికంగా R.E.} = \frac{A - E}{E}$$

పరమదోషము ధనాత్మకంగాను, ఋణాత్మకంగాను వున్నట్లే సాపేక్ష దోషం కూడా ధనాత్మకంగా ఋణాత్మకంగాను వుంటుంది. పై ఉదాహరణను సరించి -

$$(a) \text{ R.E.} = \frac{2500 - 2400}{2400} = \frac{100}{2400} = \frac{1}{24} = +0.042$$

ఇది ధనాత్మక సాపేక్ష దోషము (Positive Relative Error)

$$(b) \text{ R.E.} = \frac{2500 - 2600}{2600} = \frac{-100}{2600} = -\frac{1}{26} = -0.038$$

ఇది ఋణాత్మక సాపేక్ష దోషము (Negative Relative Error).

సాపేక్ష దోషాన్ని శాతంలో చెబితే శాతపుదోషము (Percentage Error) అవుతుంది. దీని ప్రకారంపై (a), (b)ల విలువలు శాతంలోకి మార్చవలెను.

$$(a) +0.042 \times 100 = +4.2\% \text{ దోషము}$$

$$(b) -0.038 \times 100 = -3.8\% \text{ దోషము.}$$

## 2.9 సారాంశం

సత్యాన్వేషణ కోసం శాస్త్రీయ పద్ధతిలో జరిపే శోధన లేదా పరిశోధనను గణాంక విచారణ అంటారు. గణాంక విచారణ ఐదు దశల్లో జరుగుతుంది. మొదటి దశ అయిన యోజనలో విచారణ ఉద్దేశం, పరిధి, దత్తాంశ మూలాలు, గణాంక విచారణ పద్ధతులు, గణాంక ప్రమాణము, యదార్థతా పరిమితిని నిర్ణయించుకోవలసి వుంటుంది. రెండో దశను దత్తాంశ సేకరణ అంటారు. దత్తాంశ సేకరణ పద్ధతులు రెండు రకాలు. అవి జనాభా పద్ధతి, ప్రతిచయన పద్ధతి. విచారణలోని అన్ని అంశాలను ప్రాతిపదికగా చేసుకొని గణాంక విచారణ జరిపితే జనాభా పద్ధతిని, ప్రాతినిధ్యం వహించే కొన్ని అంశాలపై ఆధారపడి గణాంక విచారణ జరపడాన్ని ప్రతిచయన పద్ధతి అంటారు. సేకరించే దత్తాంశం రెండు రకాలుగా వుంటుంది. అవి : అంతరంగిక, బహిరంగ దత్తాంశాలు.



బహిరంగ దత్తాంశం రెండు విధాలు. అంటే ప్రాథమిక, ద్వితీయ దత్తాంశాలుగా వుంటుంది. ప్రాథమిక దత్తాంశం అంటే మొట్టమొదటగా సేకరించిన దత్తాంశం. ద్వితీయ లేదా గౌణ దత్తాంశం అంటే ఒకసారి ఉపయోగించిన దత్తాంశాన్ని మరలా ఉపయోగించడం. ద్వితీయ దత్తాంశాన్ని ఉపయోగించేటప్పుడు తగు జాగ్రత్తలను తీసుకోవలసి వుంటుంది. ఈ విధంగా సేకరించిన దత్తాంశాన్ని మూడోదశలో ఎడిటింగ్, యదార్థత, సమానీకరణ చేయవలసి వుంటుంది. ఆ తరువాత నాల్గో దశలోనికి వెళ్ళవలసి వుంటుంది. ఈ దశలో వర్గీకరణ, శ్రేణీకరించిన దత్తాంశాన్ని పట్టికల ద్వారా, రేఖా చిత్రపటాల ద్వారా సమర్పణ చేయవలసి వుంటుంది.

## 2.10 ముఖ్యపదాలు

1. ప్రాథమిక దత్తాంశం. మొట్టమొదటిగా సేకరించిన దత్తాంశం.
2. ప్రతి రూపగ్రహణ పద్ధతి : ప్రతిచయన పద్ధతినే ప్రతి రూపగ్రహణ పద్ధతి అంటారు. జనాభాకు ప్రాతినిధ్యం వహించే కొన్ని అంశాలను విచారించటం.
3. ప్రశ్నావళి : గణాంక సమాచారాన్ని సేకరించేందుకు ఉపయోగించే ప్రశ్నల సముదాయం. దీనిని ఎవరైనా సరే నింపవచ్చును.
4. యాదృచ్ఛిక ప్రతిచయనాలు : లాటరీ పద్ధతిపై సేకరించే లేదా అదృష్ట ప్రతిచయనాలు.
5. షెడ్యూళ్ళు : షెడ్యూలు కూడా ప్రశ్నల సముదాయమే కాని ఈ ప్రశ్నలకు సమాధానం నింపేందుకు కొంత శిక్షణ అవసరం. సాధారణ వ్యక్తులు ఈ ప్రశ్నావళిని నింపలేరు. అందుకే వీటిని శిక్షణ పొందిన గణకులు నింపుతారు.

## 2.11 నమూనా ప్రశ్నలు

### I. వ్యాసరూప ప్రశ్నలు

1. గణాంక విచారణ అనగానేమి ? అందులోని వివిధ దశలను వివరింపుము.
2. ప్రాథమిక ద్వితీయ దత్తాంశాల మధ్య తేడాలు తెల్పుము.
3. ప్రాథమిక దత్తాంశ సేకరణ పద్ధతులు వివరించండి.
4. ద్వితీయ దత్తాంశమనగానేమి ? మూలాలను తెల్పుము.
5. గణాంక ప్రమాణాలనగానేమి ? వానికుండవలసిన లక్షణాలను తెల్పుము.
6. షెడ్యూలనగానేమి ? దానిని ఎలా పూరించవలె?
7. ప్రశ్నావళి అనగానేమి ? మంచి ప్రశ్నావళికుండవలసిన లక్షణాలెవ్వీ ?
8. సూపర్ బజార్ కు సంబంధించి వివరాల సేకరణకు ప్రశ్నావళి నమూనా ప్రతిపాదించుము.
9. జనాభా, ప్రతిచయన పద్ధతుల మధ్య విచక్షణ చేయండి? వివిధ ప్రతిచయన పద్ధతులను తెల్పుము.
10. ఎడిటింగ్, సమానీకరణ, యదార్థతను గూర్చి ఒక వ్యాసం వ్రాయుము.
11. గణాంక విచారణలో సంభవించే దోషాలను పేర్కొనండి ? ఆ దోషాలు సంభవించే కారణాలు తెల్పుండి.

## II. సంక్షిప్త ప్రశ్నలు :

12. జనాభా పద్ధతి, ప్రతిచయన పద్ధతి
13. ప్రశ్నావళి, షెడ్యూలు
14. మంచి ప్రతిచయన లక్షణాలు
15. ప్రత్యేక పరోక్ష విచారణలు
16. గణాంక ప్రమాణ లక్షణాలు
17. పరమ, సాపేక్ష దోషాలు
18. ద్వితీయ దత్తాంశ సేకరణలో తీసుకోవలసిన జాగ్రత్తలు
19. గణాంక క్రమసూత్రం
20. బృహత్ సంఖ్యా జడత్వ సూత్రం

## 2.12 చదువదగిన గ్రంథాలు

1. B.N. Elhance : Fundamental of Statistics
2. S.P. Gupta : Statistical Methods
3. C.B. Gupta : An Introduction to Statistical Methods
4. S.C. Gupta : Fundamentals of Statistics
5. M.C. Shukla & S.S. Gulshan : Statistics - Theory and Practice

పాఠ్యంశ నిర్మాణ క్రమం

- 3.0 అక్ష్యాలు
- 3.1 విషయపరిచయం
- 3.2 వర్గీకరణ
  - 3.2.1 వర్గీకరణ - ఉద్దేశాలు
  - 3.2.2 వర్గీకరణ - లక్షణాలు
  - 3.2.3 వర్గీకరణ - రకాలు
- 3.3 శ్రేణీకరణ
  - 3.3.1 సాధారణ లక్షణాల ఆధారంగా శ్రేణీకరణ
  - 3.3.2 పరిమాణాత్మక అంశాల ఆధారంగా శ్రేణీకరణ
- 3.4 సారాంశం
- 3.5 ముఖ్య పదాలు
- 3.6 నమూనా ప్రశ్నలు
- 3.7 చదువదగిన గ్రంథాలు

3.0 అక్ష్యాలు

ఈ పాఠ్యాంశం పూర్తయ్యేసరికి మీరు క్రింది విషయాలు అవగాహన చేసుకుంటారు.

- \* వర్గీకరణ అంటే ఏమిటి ? వర్గీకరణ ఉద్దేశాలు మరియు వర్గీకరించేటప్పుడు గమనించవలసిన నియమాలు.
- \* వర్గీకరణలోని రకాలు
- \* శ్రేణీకరణ అంటే ఏమిటి ? వివిధ రకాలైన శ్రేణీకరణలు

3.1 విషయపరిచయం

గణాంక శోధనలో సేకరింపబడిన గణాంకాలను లేదా అంకెలలో సమాచారాన్ని ముడి దత్తాంశముగా వ్యవహరిస్తారు. ఈ దత్తాంశం అధిక పరిమాణంలో వుండి, అర్థం చేసుకొనుటకు అనుకూలంగా వుండదు. ఈ విధమైన సమాచారాన్ని అవగాహన అయ్యేట్లు చేయటానికి వివిధ చర్యలను తీసుకోవలసి వుంటుంది. సేకరించిన దత్తాంశ లక్షణాలను గ్రహించి, సరిపోల్చుటకనువుగా రూపొందించి, ఫలితాలను సాధించుటకు, గణాంక విశ్లేషణ కొనసాగించుటకనువుగా సమాచారాన్ని రూపొందించవలసి వుంటుంది. ఆ తరువాత దత్తాంశాన్ని సమర్పణ చేయవలసి వుంటుంది. దత్తాంశమును సమర్పించే పద్ధతులను స్థూలంగా రెండు రకాలుగా వర్గీకరింపవచ్చును.

- (1) పట్టికరణ (Tabulation)
- (2) రేఖా చిత్రపటాలు (Diagramatic and Graphic Presentation)

ఈ విధంగా సమర్పణ చేసే ముందుగా దత్తాంశాన్ని వర్గీకరణ, శ్రేణీకరణ జరపవలసి వుంటుంది.

### 3.2 వర్గీకరణ (Classification)

దత్తాంశాన్ని పట్టికరించి, విశ్లేషణకనువుగా రూపొందించుటకు వర్గీకరణ అవసరము. పట్టికరణ చేసే ప్రక్రియలో మొదటి దశ వర్గీకరణ. వర్గీకరణ అనగా దత్తాంశములో గల అంశాలను వాటి గుణగణాలను బట్టి వివిధ తరగతులుగా అమర్చడం. గుణగణాలు ఆధారంగా ఒక లక్షణం కలవారిని ఒక తరగతిగాను, అందుకు భిన్నమైన వారు వేరొక వర్గంగాను ఏర్పరిచెదరు.

F.C. Mills అనే శాస్త్రవేత్త వర్గీకరణను ఈ విధంగా వివరించాడు. “గణాంక శాస్త్రజ్ఞుడు ప్రప్రథమంగా చేయవలసిన పని ఏమనగా అసంఖ్యాకమైన అంకెలను, వాటి ప్రాముఖ్యం కోల్పోకుండా, ముందుగా నిర్ణయించిన ఉద్దేశానికనుగుణంగా, సారూప్య దత్తాంశాలను పోల్చుటకు వీలుగా, తరువాత గణాంక పరిగణనకు ఉపయోగపడే మాదిరిగా దత్తాంశాన్ని వ్యవస్థీకరించడం” వర్గీకరణ సార్టింగ్ లాంటిది. సార్టర్ వివిధ ప్రదేశాలకు చేరవలసిన ఉత్తరాలను వివిధ అరల్లో వేసిన విధంగా వివిధ లక్షణాలను బట్టి వివిధ తరగతులుగా విభజించటమే వర్గీకరణ.

#### 3.2.1 వర్గీకరణ - ఉద్దేశాలు

- (1) పెద్ద పరిమాణములో గల దత్తాంశాన్ని సంక్షిప్తం చేయడం, పోలిక వున్న అంశాలను వర్గాలుగా యేర్పరచడం.
- (2) దత్తాంశానికి గల సంక్షిప్త గుణము తొలగించి, బోధపరచుకోవడానికి సులభం చేయడం.
- (3) అనవసరమైన వివరాలను పరిహరించడం
- (4) సమరూపాలను, అసమరూపాలను వాటికి గల గుణగణాలను బట్టి వేరు చేయడం
- (5) దత్తాంశాన్ని చూసి అవగతం చేసుకోవడానికి వీలు కలిగించడం
- (6) వాస్తవాలను గుర్తించుటకు, సరిపోల్చుటకు వీలు కల్పించడం
- (7) చలరాసుల మధ్య సంబంధాన్ని యేర్పరచడం
- (8) దత్తాంశాన్ని పట్టికరించుటకు వీలు కల్పించడం
- (9) దత్తాంశములో గల చాలా ముఖ్య విషయాలను ప్రత్యేకంగా గుర్తించుటకు వీలు కల్పించడం.

3.2.2 వర్గీకరణ - లక్షణాలు : వర్గీకరణ కింది లక్షణాలను కలిగి వున్నట్లయితే విశ్లేషణకు ఎంతో ఉపకరించడం జరుగుతుంది.

- (1) సమగ్రంగా వుండడం : దత్తాంశములోని అన్ని అంశాలను, దేనిని వదలిపెట్టకుండా వర్గీకృతం చేయవలె. సమగ్రంగా, సంపూర్ణంగా చేసిన వర్గీకరణలో సందిగ్ధతకు తావు వుండదు.
- (2) పరస్పరం ప్రత్యేకంగా వుండడం : ఒకే అంశాన్ని ఒకే తరగతిలో అమర్చవలెను. ఏర్పరచిన తరగతులు కూడా పరస్పరాతిక్రమము (overlap) కారాదు. తరగతులు నిర్దిష్టంగా వుండవలెను.

- (3) **నిశ్చలత :** వర్గీకరణ ఒక సూత్రాన్ని ఆధారంగా చేయవలెను. అదే సూత్రాన్ని చివరి వరకు పాటించవలెను. వర్గీకరణలో నిశ్చలత చాలా అవసరము.
- (4) **అనుగుణ్యత :** మారుతూ వుండే పరిస్థితులకు అనుగుణంగా వుండేట్లు వర్గీకరణ విధానం వుండవలెను. వర్గీకరణ పద్ధతులు దత్తాంశములో క్రమానుగతంగా కలిగే మార్పులకు, పరిస్థితులకు, షరతులకు, అనుగుణ్యతకు తగిన విధంగా వుండాలి.

**3.2.3 వర్గీకరణ - రకాలు (Types of Classification) :** వర్గీకరణ కింది వాటి ప్రాతిపదికగా తయారుచేయడం జరుగుతుంది. అవి: (i) ప్రాంతము (ii) కాలము (iii) గుణము (iv) లక్షణాలు / పరిమాణం. వీటిపై ఆధారపడి రూపొందించే వర్గీకరణను కూడా నాలుగు రకాలుగా చెప్పవచ్చు. అవి : (i) భౌగోళిక వర్గీకరణ, (ii) కాలక్రమ వర్గీకరణ (iii) గుణాలను బట్టి వర్గీకరణ (iv) పరిమాణాత్మక వర్గీకరణ. వీటిని గూర్చి సంక్షిప్తంగా తెలుసుకుందాం.

- (i) **భౌగోళిక వర్గీకరణ :** భౌగోళిక ప్రాంతాల ఆధారంగా ఉదా॥ నగరాలు, ప్రాంతాలు, రాష్ట్రాలు, దేశాలు, మొదలైన వాటిపై ఆధారపడి దత్తాంశాన్ని వివిధ తరగతులు లేదా వర్గాలుగా విభజిస్తే దానిని భౌగోళిక వర్గీకరణ అంటారు.

#### వివిధ రాష్ట్రాల్లో ధాన్య ఉత్పత్తి

రాష్ట్రం పేరు	పండిన ధాన్యము (లక్షల టన్నులలో)
ఆంధ్రప్రదేశ్	1000
ఉత్తరప్రదేశ్	600
బీహార్	300
తమిళనాడు	400
మొత్తం	2300

భౌగోళిక వర్గీకరణ అక్షర క్రమంలోగాని, పరిమాణం ఆధారంగా గాని రూపొందించవచ్చు.

- (ii) **కాలక్రమ వర్గీకరణ :** వివిధ కాలాల (వారాలు, నెలలు, సం॥లు వగైరా) ప్రాతిపదికగా జరిపే వర్గీకరణను కాలక్రమ వర్గీకరణ అంటారు. ఉదా॥ ఒక పారిశ్రామిక సంస్థ వివిధ కాలాలలో సాధించిన ఉత్పత్తి, వ్యాపార సంస్థ లాభాలు, ఒక దేశంలో వివిధ కాలాలలో గల జనాభా మొదలైనవి.

1978-83 సం॥లలో  $x$  దేశంలో వ్యవసాయ ఉత్పత్తులు (లక్షల టన్నుల్లో)

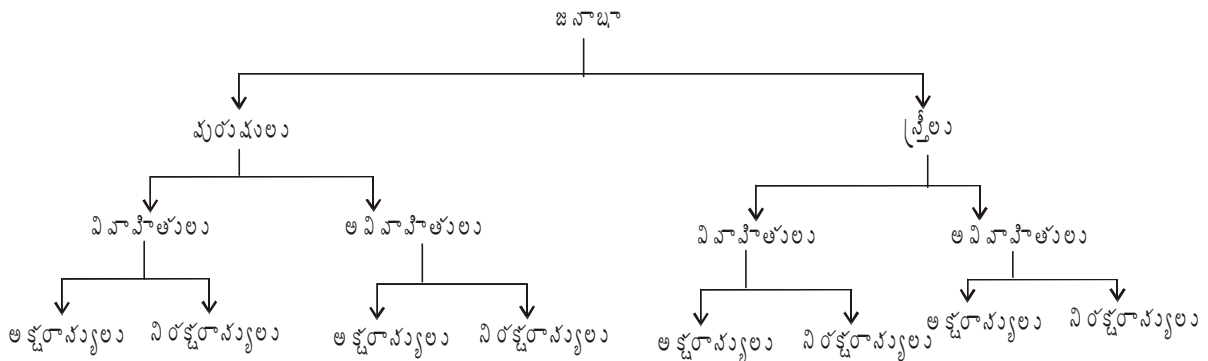
సంవత్సరములు	ఉత్పత్తి లక్షల (టన్నుల్లో)
1978	120
1979	118
1980	128
1981	150
1982	142
1983	200

(iii) గుణాలను బట్టి వర్గీకరణ : భౌతిక లేక స్వాభావిక లక్షణాలను లేక గుణాలను బట్టి జరిపే వర్గీకరణను గుణాత్మక వర్గీకరణ అంటారు. ఈ వర్గీకరణలో సరిపోలిన గుణాలు, సరిపోలని గుణాలతో వేరు చేయడం జరుగును. ఒకే లక్షణం గల అంశాలను ఒక తరగతి లేదా ఒక వర్గంగా పొందుపరుస్తారు. ఉదా : దత్తాంశాన్ని లింగభేదము, అక్షరాస్యత, మతము మొ॥ గుణాల ద్వారా వర్గీకరించటం. గుణాత్మక వర్గీకరణ రెండు రకాలు : (ఎ) సాధారణ వర్గీకరణ, (బి) బహుళ వర్గీకరణ

(ఎ) సాధారణ వర్గీకరణ (Simple Classification) : ఈ వర్గీకరణలో ఒకే గుణాన్ని గూర్చి అధ్యయనము చేయుదురు. ఉదాహరణకు లింగభేదము లేక అక్షరాస్యత అనే ఒకే గుణం అధ్యయనం చేయడం వల్ల దత్తాంశము రెండు వర్గాలుగా యేర్పడును. ఒకటి ఆ గుణము కలది కాగా రెండోది ఆ గుణము లేనిదిగాను విభజింపబడును (స్త్రీ/పురుషుడు). కనుక దీనిని ద్వివిధ వర్గీకరణ (Dichotomous classification) అని కూడా అంటారు.



(బి) బహుళ వర్గీకరణ (Manifold Classification) : ఇందులో ఒక ముఖ్యగుణం, దాని ఉపగుణాలను బట్టి అనేక తరగతులు, ఉపతరగతులుగా యేర్పాటు చేస్తారు. ఉదాహరణకు : లింగభేదమును బట్టి జనాభాను, స్త్రీలు, పురుషులని రెండు వర్గాలు. వినాహ స్థితి బట్టి వినాహితులు, అవినాహితులని 4 వర్గాలు అక్షరాస్యతను బట్టి అక్షరాస్యులు, నిరక్షరాస్యులని 8 వర్గాలుగా విభజింపబడును. ఈ విభజనను కింది విధంగా ఉంటుంది.



(iv) పరిమాణాత్మక వర్గీకరణ (Classification According to Class Intervals) : ఏ దత్తాంశాన్ని సూటిగా అంకెలలో వివరించి, వర్ణించి చెప్పడానికి సాధ్యమవుతుందో అటువంటి దత్తాంశాన్ని పరిమాణాత్మక దత్తాంశం అంటారు. ఈ సమాచారాన్ని వివిధ తరగతులుగా వర్గీకరిస్తే పరిమాణాత్మక వర్గీకరణ అందురు. ఎత్తు, బరువు, ఉత్పత్తి, ఎగుమతులు, లాభాలు మొదలగు అంశాలకు సంబంధించిన దత్తాంశం సంఖ్య రూపములో వుండును. వాటి విలువలను ఖచ్చితమైన సంఖ్య రూపంలో చెబుతారు. పరిమాణాత్మక సమాచారాన్ని తరగతి అంతరాలుగా వర్గీకరించడం జరుగుతుంది. కావున దీనిని పరిమాణాత్మక లేదా తరగతి అంతరాల ద్వారా వర్గీకరణ అని కూడా అంటారు.

ఉదాహరణ : నాగార్జున విశ్వవిద్యాలయంలో యమ్.కామ్ (M.Com.) విద్యార్థుల వయస్సు వివరాలు.

వయస్సు(సం॥లలో) (తరగతి అంతరము)	విద్యార్థులు (పాఠశాల పుస్తకము)
21 - 23	20
23 - 25	45
25 - 27	20
27 - 29	12
29 - 31	3
మొత్తము	100

పై వర్గీకరణ పట్టి నుండి రెండు విషయాలు తెలుసుకోవలెను. (1) చలరాశి (variable) వయస్సు, (2) పాఠశాల పుస్తకము (frequency) ఒక్కొక్క తరగతిలో లభ్యమయ్యే విద్యార్థుల సంఖ్య లేదా ఒక్కొక్క తరగతి అంతరంలో లభ్యమయ్యే అంశాలు ఆ తరగతి పాఠశాల పుస్తకమును సూచించును. ఒక్కొక్క తరగతిలో ఎంత మంది వున్నారో చూపించే పట్టికను పాఠశాల పుస్తక విభజన పట్టి (frequency distribution table) అందురు. పై పట్టిలో తక్కువ వయస్సు 21 సంవత్సరాలు, ఎక్కువ వయస్సు 31 సంవత్సరాలు, తరగతులు ఐదు. ఒక్కొక్క తరగతిలో ప్రారంభ విలువలు 21, 23, 25, 27, 29. వీటిని ఆ తరగతి తాలూకు దిగువ అవధులు అందురు.

ఒక్కొక్క తరగతిలో యిచ్చిన చివరి విలువలు 23, 25, 27, 29, 31. అవి ఆయా తరగతుల తాలూకు ఎగువ అవధులు (upper limits) అందురు. ప్రతి తరగతి అంతరంలో ఎగువ అవధికి, దిగువ అవధికి వున్న బేదాన్ని తరగతి పరిమాణము (Magnitude of the class interval) అంటారు.

ఈ ఉదాహరణలో తరగతి అవధి పరిమాణము  $2(23-21)$ . ఈ పరిమాణము అన్ని తరగతి అంతరాలలో సమానంగా వుంటే సమాన తరగతి అంతరాలు అంటారు. సమాన తరగతి పరిమాణము గల పాఠశాల పుస్తక విభజనములో తరగతుల నిర్ణయానికి దిగువ సూత్రం తోడ్పడును.

$$\text{తరగతులు} = \frac{\text{అత్యధిక విలువ} - \text{అత్యల్ప విలువ}}{\text{తరగతి పరిమాణము}} = \frac{31-21}{2} = \frac{10}{2} = 5$$

**సంచిత పాఠశాల పుస్తకము (Cumulative Frequency) :** ఒక్కొక్క తరగతి అంతరములోని పాఠశాల పుస్తకము మరో తరగతి పాఠశాల పుస్తకముతో సంచితము చేస్తే అట్లాంటి పాఠశాల పుస్తకముని సంచిత పాఠశాల పుస్తకముంటారు. సంచితం అంటే కలుపగా వచ్చేది అని అర్థం. పాఠశాల పుస్తకమును పై నుంచి సంచితం చేస్తే దానిని ఆరోహణ సంచిత పాఠశాల పుస్తకముని, క్రింద నుంచి చేస్తే అవరోహణ సంచిత పాఠశాల పుస్తకముని అంటారు. కింది ఉదాహరణ సంచిత పాఠశాల పుస్తకమును తెలుపుతుంది.

ఉదా :	వయస్సు (సం॥లలో)	విద్యార్థుల సంఖ్య (f)	సంచిత పాఠశాల పుస్తకము	
			ఆరోహణ (cf)	అవరోహణ (cf)
	21 - 23	20	20	100
	23 - 25	45	65	80
	25 - 27	20	85	35

27 - 29	12	97	15
29 - 31	3	100	3
మొత్తం	100		

తరగతి అంతరాలుగా వర్గీకరణ - గుర్తించవలసిన అంశాలు

(1) తరగతుల నిర్ణయము : శ్రేణులలోని అంశాల సంఖ్య, దత్తాంశపు గుణము, దత్తాంశ విభజన స్వరూపము, ఆశించిన కచ్చితత్వము. ఉపయోగించే గణాంక పద్ధతులు దృష్టియందుంచుకొని దత్తాంశాన్ని ఎన్ని తరగతులుగా విభజింపవలెననేది మొదట నిర్ణయించుకొనవలెను. శ్రేణులలో అంశాలు ఎక్కువగా వుంటే ఎక్కువ తరగతులుగా విభజింపవచ్చు. ఒక్కొక్క తరగతిలో ఎక్కువ పానఃపున్యాలు వుంటే, ఆ తరగతులలో పానఃపున్యాలు గుమికూడినట్లగును. అంతేకాక కావలసిన పూర్తి సమాచారము సొందలేము. శ్రేణులలో అంశాలు తక్కువగా వుంటే ఎక్కువ తరగతులుగా విభజింపరాదు. అలా చేస్తే కొన్ని తరగతులలో పానఃపున్యము వుండకపోవచ్చును. మరికొన్ని తరగతులలో మరీ తక్కువ పానఃపున్యం వుండవచ్చును. అందువలన శ్రేణులలోని అంశాలను బట్టి తరగతులను నిర్ణయించాలి. క్రాక్నటన్ అండ్ క్రౌడన్ మహాశయులు చెప్పినట్లు సాధారణంగా 6 తరగతులకు తక్కువ లేకుండా 16 తరగతులకు ఎక్కువ కాకుండా తరగతులను నిర్ణయించుకుంటే బాగుంటుంది.

(2) తరగతి పరిమాణ నిర్ణయం : తరగతి అంతర నిర్ణయము శ్రేణిలో గల అత్యధిక, అత్యల్ప విలువల భేదం, శ్రేణిని ఎన్ని తరగతులుగా విభజించాలనే నిర్ణయంపై ఆధారపడును. తరగతి పరిమాణ నిర్ణయంలో దత్తాంశం తాలూకు ముఖ్య లక్షణాలను అలక్ష్యం చేయరాదు. సాధారణంగా తరగతి అంతరం సరిసంఖ్యలో వుంటే 2, 4, 6, 8... బాగుంటుంది. తరగతుల అంతరం అన్ని తరగతులకు సమానంగా వుండడం మంచిది. తరగతి అంతర నిర్ణయానికి దిగువ సూత్రం ఉపయోగించవచ్చును.

$$\text{తరగతి అంతరం} = \frac{\text{వ్యాప్తి}}{\text{తరగతుల సంఖ్య}}$$

$$\text{వ్యాప్తి} = \text{దత్తాంశములోని అత్యధిక విలువ} - \text{అత్యల్ప విలువ}$$

తరగతి అంతర పరిమాణ నిర్ణయానికి (Stranges) స్పర్జన్ దిగువ సూత్రాన్ని ప్రతిపాదించెను. ఈ సూత్రము తరగతుల సంఖ్య ఉజ్జాయింపుగా నిర్ణయించుటకు మాత్రమే ఉపయోగపడును.

$$\text{తరగతి అంతర పరిమాణము (c)} = \frac{\text{వ్యాప్తి}}{1 + 3.222 \log N} = \frac{H - L}{1 + 3.222 \log N}$$

$$\text{వ్యాప్తి} = H - L \quad H = \text{అత్యధిక విలువ, } L = \text{అత్యల్ప విలువ}$$

(3) తరగతి అంతరాల రూపం : తరగతి అంతరాలు వివిధ రూపాలలో వుంటాయి. కొన్ని సందర్భాలలో పానఃపున్య విభజన రూపం కూడా భిన్నంగా వుండవచ్చు. ఈ వివిధ రూపాల్లో వున్న తరగతి అంతరాలను లేదా పానఃపున్య విభజనాలను గూర్చి తెలుసుకుందాం.

(ఎ) మినహాయింపు రూపం లేదా సమగ్ర రూపము : ఈ పద్ధతిలో ఒక తరగతి యొక్క ఎగువ అవధి తరువాత తరగతి యొక్క దిగువ అవధిగా వుండును. ఈ రూపంలో ప్రతి తరగతిలోనూ ఎగువ అవధి ఆ తరగతిలో వుండదు. దిగువ తరగతిలో వుంటుంది. అంటే కింది ఉదాహరణలో 20 అనే విలువ 15-20లో వుండదు. 20-25లో వుంటుంది. ప్రతి తరగతిలోనూ ఆ తరగతి ఎగువ అవధి మినహాయించబడుతుంది. కావున దీనిని మినహాయింపు రూపం అంటారు.



మార్కులు (C.I.)	విద్యార్థులు ( $f$ )
15 - 20	8
20 - 25	12
25 - 30	20
30 - 35	5
35 - 40	5
మొత్తం	50

(బి) విలీన రూపం లేదా అసమగ్రరూపం : ఈ రూపంలో ఒక తరగతి ఎగువ అవధి తరువాత తరగతి దిగువ అవధిగా వుండదు. ఈ రెండింటికి ఖచ్చితమైన వ్యత్యాసం వుంటుంది. ప్రతి తరగతిలోని ఎగువ, దిగువ అవధులు ఆ తరగతిలోనే విలీనమై వుంటాయి. కావున దీనిని విలీన రూపం అంటారు.

మార్కులు (CI)	విద్యార్థులు ( $f$ )
15 - 19	8
20 - 24	12
25 - 29	20
30 - 34	5
35 - 39	5
మొత్తం	50

సి) కంటే ఎక్కువ రూపము : తరగతి అవధులలో దిగువ అవధిని ప్రాతిపదికగా తీసుకొని విభజనాన్ని అందుకు అనుగుణంగా వ్రాస్తే 'కంటే ఎక్కువ' రూపములో వస్తుంది. కంటే ఎక్కువ రూపంలో తరగతి అంతరాలను మార్చితే దానికి అనురూపంగా సంచిత పౌనఃపున్యము (అవరోహణ) వ్రాయవలసి వస్తుంది. ఈ రూపంలో సంచిత పౌనఃపున్యం క్రమక్రమంగా తగ్గుతూపోతుంది.

ఉదాహరణ :

రోజువారీ వేతనం (రూ॥లలో)	కార్మికుల సంఖ్య (అవరోహణ సంచిత పౌనఃపున్యము)
50 కంటే ఎక్కువ	100
75 కంటే ఎక్కువ	80
100 కంటే ఎక్కువ	65
125 కంటే ఎక్కువ	35
150 కంటే ఎక్కువ	20
175 కంటే ఎక్కువ	5

డి) కంటే తక్కువ రూపము : తరగతి అవధులలో ఎగువ అవధిని ప్రాతిపదికగా తీసుకుని ఉపయోగించి విభజనాన్ని

అందుకు అనుగుణంగా మార్చి వ్రాస్తే “కంటే తక్కువ” రూపము వస్తుంది. ఈ విధంగా మార్చినందున వచ్చే సంచిత పానః పున్యం క్రమక్రమంగా పెరుగుతుంది. కావున దీనిని ఆరోహణ సంచిత పానఃపున్యం అంటారు.

రోజువారి వేతనం (రూ॥లలో)	కార్మికుల సంఖ్య (అవరోహణ సంచిత పానఃపున్యము)
75 కంటే తక్కువ	20
100 కంటే తక్కువ	35
125 కంటే తక్కువ	65
150 కంటే తక్కువ	80
175 కంటే తక్కువ	95
200 కంటే తక్కువ	100

(ఇ) మధ్య విలువలు ఆధారంగా : కొన్ని సందర్భాల్లో పానఃపున్య విభజనలో తరగతి అంతరాల స్థానే మధ్య విలువలను తీసుకొనే విభజనాన్ని రూపొందించవచ్చు. ఇలాంటి విభజనం కింది విధంగా వుంటుంది.

మధ్యవిలువలు	పానఃపున్యము
5	20
15	15
25	30
35	15
45	15
55	5
మొత్తం	100

పై పట్టికను బట్టి గమనిస్తే మధ్య విలువలుగా మార్చక పూర్వము ఆ తరగతులు 0-10, 10-20, 20-30, 30-40, 40-50, 50-60గా వుండి వుంటాయి.

(యఫ్) వివృత అవధులున్న తరగతి అంతరాలు : కొన్ని తరగతులలో, వివృతాంతము (open end) తరగతి అంతరాలు లేదా వివృత అవధులున్న తరగతి అంతరాల రూపంలో కొన్నిసార్లు యివ్వబడును. అంటే ప్రారంభ తరగతికి దిగువ అవధి, చివరి తరగతికి ఎగువ అవధులు వుండవు.

తరగతి అంతరము (CI)	పానఃపున్యము (f)
75 లోపు	20
75 - 100	15
100 - 125	30
125 - 150	15

150 - 175	15
175 పైన	5
మొత్తం	100

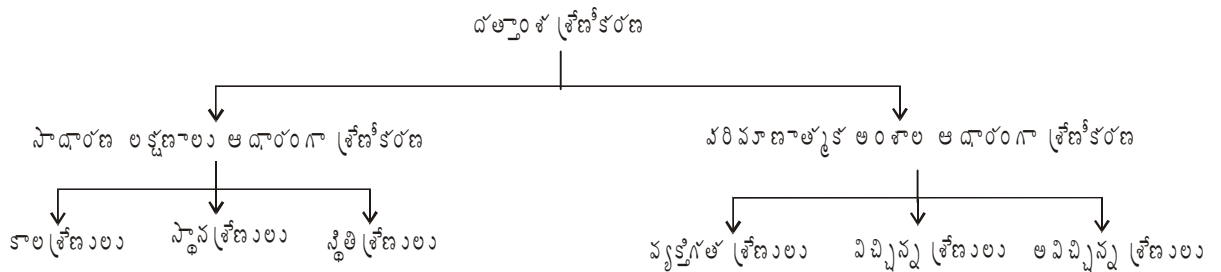
పై విధంగా వ్రాయడం వల్ల 75కి లోపు అంటే 50 నుండి 75 అని 175 ఆ పైన 175-200 అని స్పష్టంగా చెప్పలేము.

(జి) అసమాన తరగతి అంతరాలు : అప్పుడప్పుడు అసమాన తరగతి అంతరాలలో దత్తాంశము యివ్వబడును. అవి సమగ్రలో వుండవచ్చు, అసమగ్రలో వుండవచ్చు. వివృత అవధుల్లోనైనా వుండవచ్చు, సమగ్రలో వున్న ఒక విభాజనాన్ని కింద ఇవ్వడం జరిగింది.

తరగతి అంతరము (CI)	పాసఃపున్యము
0 - 20	10
20 - 35	15
35 - 45	30
45 - 60	10
60 - 80	5
80 - 90	3
90 - 100	2
మొత్తం	75

**3.4.3 శ్రేణీకరణ (Seriation) :** వర్గీకరించిన దత్తాంశాన్ని ఒక క్రమ పద్ధతిలో అమర్చటాన్నే శ్రేణీకరణ అంటారు. హెరెస్ సెక్రిప్ట్ ప్రకారం కోనార్ శ్రేణీకరణ అంటే “అంశాలను లేక అంశాలకు సంబంధించిన లక్షణాలను ఒక క్రమపద్ధతిలో అమర్చడం”. కోనార్ మహాశయుని ప్రకారం “ఒక చలరాశిలోని అంశాలను కొలవలగలిగిన వ్యత్యాసాన్ని, దానికి అనుబంధంగా వున్న మరొక చలరాశిలోని అంశాలను కొలవలగలిగిన వ్యత్యాసాన్ని ఒకదాని ప్రక్కన ఒకటి అమర్చితే వచ్చే రూపమే శ్రేణీకరణ”.

కాలము, స్థానము, స్థితులను బట్టి దత్తాంశ శ్రేణీకరణ జరిగినట్లయితే దానిని సాధారణ లక్షణాల ఆధారంగా శ్రేణీకరణ అంటారు. పరిమాణాత్మక లేదా అంకెలలో ఉన్న సమాచారాన్ని వ్యక్తిగత, విచ్ఛిన్న, అవిచ్ఛిన్న శ్రేణులని శ్రేణీకరించడం జరుగుతుంది.



**3.3.1 సాధారణ లక్షణాల ఆధారంగా శ్రేణీకరణ :** దత్తాంశము యొక్క సాధారణ లక్షణాలపై ఆధారపడి శ్రేణులను మూడు రకాలుగా వివరించవచ్చు. అవి : 1. కాలశ్రేణులు, 2. స్థాన శ్రేణులు, 3. స్థితి శ్రేణులు. ఈ మూడు విధాలైన శ్రేణీకరణలను గురించి తెలుసుకుందాం.

1. కాలశ్రేణులు : దత్తాంశాన్ని కాలక్రమ వరుసతో ఏర్పాటు చేయడం లేదా అమర్చడాన్ని కాలశ్రేణులు అంటారు. ఈ కాల ప్రమాణం ఒక సంవత్సరం లేదా ఒక నెల లేదా ఒక వారం మొదలైన విధంగా వుండవచ్చు. కాలానుగుణంగా అమర్చడం ఆరోహణలో లేదా అవరోహణ చేయవచ్చు. ఉదా : ఒక సంవత్సరం 1994 నుండి 2003 వరకు ఉత్పత్తి ఏ విధంగా వున్నదో ఈ శ్రేణీకరణ సూచిస్తుంది.

సం॥రము	ఉత్పత్తి (మెట్రిక్ టన్నులలో)
1994	22
1995	27
1996	34
1997	42
1998	53
1999	40
2000	56
2001	62
2002	71
2003	79

ఈ విధంగా దత్తాంశాన్ని కాలానుగుణంగా ఏర్పాటు చేయడం వల్ల గడచిన కాలంలోని దత్తాంశ చలనాన్ని(ఉత్పత్తి ప్రవృత్తిని) అర్థం చేసుకోవచ్చు. వివిధ కాలాల మధ్య తులనాత్మక అధ్యయనానికి వీలు కలుగుతుంది.

2. స్థాన శ్రేణులు : సేకరించిన సమాచారాన్ని భౌగోళిక స్థలాల లేదా స్థానాల ప్రాతిపదికగా అమర్చటాన్నే భౌగోళిక శ్రేణులు లేదా స్థాన శ్రేణులు అంటారు. ఈ శ్రేణులలో దత్తాంశాన్ని పరిమాణ క్రమంలోగాని, అక్షరాది క్రమములోగాని, ఏర్పాటు చేస్తారు. ఉదా : 1991లో కొన్ని పట్టణాలలో జనాభా ఈ క్రింది విధంగా వున్నది.

పట్టణం	జనాభా (కోట్లలో)
A	234
B	721
C	745
D	827
E	1309

3. స్థితి శ్రేణులు : ఏదో ఒక షరతును లేదా స్థితిని ఆధారంగా తీసుకుని దత్తాంశాన్ని ఒక క్రమపద్ధతిలో అమర్చితే దానిని స్థితి శ్రేణులు అంటారు. ఇక్కడ స్థితి అనగా ఒక నిర్ణీత చలాంకము. అవి ఉత్పత్తి గాని, మార్కులు గాని, బరువు, ఎత్తు మొదలైనవి ఏదైనా కావచ్చు. స్థితి శ్రేణులను ఆరోహణ లేదా అవరోహణ క్రమంలో శ్రేణీకరించడం జరుగుతుంది.

ఉదా : 1990, 91లో ఆంధ్రప్రదేశ్ లోని పంటల ఉత్పత్తి.

పంట	ఉత్పత్తి (టన్నులలో)
వరి	7011
జొన్న	1082
చెరకు	1042
మొక్కజొన్న	725

**3.3.2 పరిమాణాత్మక అంశాల ఆధారంగా శ్రేణీకరణ :** సేకరించి, వర్గీకరించిన పరిమాణాత్మక లేదా అంకెలలో వున్న వ్యక్తిగతంగా కాని, సమూహాలుగా కాని, వాటి అనురూప సంఖ్యను పక్క పక్కనే చూపడం జరుగుతుంది. అంకెలలో వున్న సమాచారాన్ని మూడు విధాలుగా శ్రేణీకరించడం జరుగుతుంది. అవి ఏమనగా : 1. వ్యక్తిగత శ్రేణులు, 2. విచ్ఛిన్న శ్రేణులు, 3. అవిచ్ఛిన్న శ్రేణులు. వీటిని గూరించి ప్రస్తుతం తెలుసుకుందాం. సమూహాలుగా లేదా వర్గాలుగా విభజించి చూపే గణాంక పట్టికను పానఃపున్య విభాజనం లేదా పానఃపున్య పట్టిక అంటారు. విచ్ఛిన్న, అవిచ్ఛిన్న పానఃపున్య పట్టి రూపాలే. పానఃపున్య విభాజనకు ఈ లక్షణాలు వుంటాయి. 1. ఇది ఒక గణాంక పట్టిక, 2. ఈ పట్టికలో వివిధ చలరాశుల సమతులను చూపుతారు, 3. ఆ విలువల సమతులను వాటి అవసరతను బట్టి బట్టి ఏర్పాటు చేస్తారు, 4. ఇవి వ్యక్తిగత విలువలుగా గాని, సమూహాలుగా (తరగతి అంతరాలు) గాని ఏర్పాటు చేస్తారు.

**1. వ్యక్తిగత శ్రేణులు :** ఈ శ్రేణులలో వ్యక్తిగత అంశాలను ఒకదాని తరువాత ఒకటి జాబితాలో అమర్చడం జరుగుతుంది. అంశాలను వరుస క్రమంలో లేదా పేర్లకనుగుణంగా కాని అమర్చటం జరుగుతుంది.

ఉదాహరణ : ఒక తరగతిలో గల 30 మంది విద్యార్థులకు గణాంక శాస్త్రంలో వచ్చిన మార్కులు

66	80	90	70	60	64	78	93	98	71	68	72	62	83	61
94	96	97	81	86	44	35	79	77	85	59	50	89	57	55

పైన సూచించిన విలువలను ఆరోహణ క్రమములోగాని, అవరోహణ క్రమములోగాని ఏర్పరచవచ్చు. ఆరోహణ క్రమములో అతి తక్కువ విలువగల అంశాన్ని ముందుగాను తరువాత ఎక్కువ విలువ గలిగిన అంశాలను వరుసగా అమరుస్తూ ఒక క్రమములో రాస్తారు. అవరోహణ క్రమములో అతి ఎక్కువ విలువగల అంశాన్ని ముందుగా రాసి దాని కంటే తక్కువ విలువగల అంశాలను వరుసగా ఏర్పరుస్తారు.

ఆరోహణ క్రమంలో అమరిక :

35	44	50	55	57	59	60	61	62	64	66	68	70	71	72
77	78	79	80	81	83	85	86	89	90	93	94	96	97	98

అవరోహణ క్రమంలో అమరిక :

98	97	96	94	93	90	89	86	85	83	81	80	79	78	77
72	71	70	68	66	64	62	61	60	59	57	55	50	44	35

ఈ శ్రేణులలో దత్తాంశాన్ని ఏర్పాటు చేయడం చాలా సులభం. కాని ఇది దత్తాంశ వివరణకు అంతగా తోడ్పడదు. దీని ప్రయోజనం పరిమితంగా వుంటుంది. అయితే వర్గీకరణ ముఖ్య సూత్రాలైన తారతమ్యత సూక్ష్మీకరణకు ఇది పనికిరాదు.

2. విచ్ఛిన్న శ్రేణులు : దీనిలో ఒక చలరాశిలోని వివిధ విలువలను, ఆ విలువలు ఎన్నిసార్లు లభ్యమయ్యాయో చూపడం జరుగుతుంది. వివిధ వర్గాల చలరాశుల విలువల మధ్య నిర్దిష్టమైన తేడా వుంటుంది. అంశాల లభ్యతను పానఃపున్యం అంటారు. ప్రాఫెసర్ ఆచార్య బోడింగ్టన్ అభిప్రాయంలో దత్తాంశాన్ని అమర్చడంలో అంశాలకి మధ్య ఖచ్చితమైన ఖాళీ వుండేటట్టు ఏర్పరచితే దానిని విచ్ఛిన్న శ్రేణులు అంటారు. దీనిలోని అంశాలను ఒక క్రమపద్ధతిలో అమర్చి దానికి ఎదురుగా ఆయా అంశాలకు సంబంధించిన పానఃపున్యాలను రాస్తారు.

ఉదాహరణకు :

కుటుంబములోని పిల్లల సంఖ్య (చలరాశి)	కుటుంబాల సంఖ్య(పానఃపున్యం)
0	10
1	20
2	60
3	30
4	08
5	02

కొన్ని సమాచారాలను విచ్ఛిన్న రూపంలో చూపటం. ఉదా॥ పిల్లల కుటుంబ సభ్యులు etc. అనివార్యం అవుతుంది.

3. అవిచ్ఛిన్న శ్రేణులు : దీనిలో అంశాల విలువ రెండు అవధుల మధ్య వుంటుంది. అంశాలను తరగతి అంతరాలుగా లేదా వర్గాలుగా విభజించి అమర్చడం జరుగుతోంది. ఈ శ్రేణులలో చలరాశి విలువలు రెండు అవధుల మధ్య సూచించడం జరుగుతుంది. దీనిని తరగతి అంతరము అంటారు. అవిచ్ఛిన్న శ్రేణులలో తరగతి అంతరాలు విభాజనంలో ప్రారంభ విలువల నుండి చివరి విలువ వరకు కొనసాగుతాయి. అవిచ్ఛిన్న శ్రేణులకు ఒక ఉదాహరణను గమనిద్దాం.

మార్కులు (CI)	విద్యార్థుల సంఖ్య (f)
0 - 20	10
20 - 40	25
40 - 60	30
60 - 80	15
80 - 100	07

### 3.4 సారాంశం

సత్యాన్వేషణ కోసం ఒక శాస్త్రీయ పద్ధతిలో జరిపే శోధన లేదా పరిశోధనయే గణాంక విచారణ అంటారు. గణాంక విచారణ నాల్గవ దశలో జరిగే ప్రక్రియలలో మొదటిది వర్గీకరణ. సేకరించిన సమాచారాన్ని ఎడిటింగ్, సమానీకరణ, దోషరహితంగా చేసిన తరువాత వర్గీకరణ చేయడం జరుగుతుంది. సమ, అసమ లక్షణాలపై ఆధారపడి దత్తాంశాన్ని కొన్ని తరగతులుగా లేదా వర్గాలుగా విభజించడాన్నే వర్గీకరణ అంటారు. వర్గీకరణ నాలుగు రకాలుగా అంటే భౌగోళిక వర్గీకరణ, కాలక్రమ వర్గీకరణ, గుణాత్మక వర్గీకరణ మరియు పరిమాణాత్మక వర్గీకరణలుగా చెప్పవచ్చు. వర్గీకరించిన దత్తాంశాన్ని ఒక క్రమపద్ధతిలో అమర్చడాన్నే శ్రేణీకరణ అంటారు. ఒక విధంగా శ్రేణీకరణను కాలశ్రేణులు, స్థాన శ్రేణులు, స్థితి శ్రేణులుగా చెప్పవచ్చు. మరో విధంగా వ్యక్తిగత శ్రేణులు,

విచ్ఛిన్న శ్రేణులు, అవిచ్ఛిన్న శ్రేణులుగా చెప్పవచ్చు. గణాంక విశ్లేషణలో వర్గీకరణ - ప్రేరణీకరణ చేసేటప్పుడు తీసుకునే జాగ్రత్తల వల్ల మంచి ఫలితాలు వస్తాయి. తరువాత పాఠంలో మనం పట్టికరణను గూర్చి తెలుసుకుందాం.

### 3.5 ముఖ్యపదాలు

1. వర్గీకరణ : తుల్యాంశాలపై ఆధారపడి దత్తాంశాన్ని వివిధ తరగతులుగా అమర్చడం.
2. అవిచ్ఛిన్న శ్రేణులు : అంశాల విలువ అవిచ్ఛిన్నంగా లేదా రెండు అవధుల మధ్య వుండేటట్లు అమర్చిన శ్రేణులు.
3. సమగ్రరూపం : తరగతి అంతరాల్లో పై తరగతి ఎగువ అవధి, కింది తరగతి యొక్క దిగువ అవధి సమానంగా వుండేటట్లు రూపొందించిన తరగతి అంతరాల రూపాన్నే సమగ్రరూపం అంటారు.

### 3.6 నమూనా ప్రశ్నలు

1. వర్గీకరణ ఉద్దేశ్యాలు ఏమి ? వివిధ వర్గీకరణ పద్ధతులు వివరించండి.
2. ప్రేరణీకరణను నిర్వచించి వివిధ రకాల శ్రేణులను గూర్చి తెలపండి.
3. మినహాయింపు విలీన పద్ధతులలో తరగతి అవధులు ఏ విధంగా వుంటాయి.

#### సంక్షిప్త ప్రశ్నలు

4. గుణాత్మక వర్గీకరణ
5. తరగతి అంతరాలు
6. అవిచ్ఛిన్న శ్రేణులు

### 3.12 చదువదగిన గ్రంథాలు

1. B.N. Elhance : Fundamentals of Statistics
2. S.P. Gupta : Statistical Methods
3. C.B. Gupta : An Introduction to Statistical Methods
4. S.C. Gupta : Fundamentals of Statistics.
5. M.C. Shukla and S.S. Gulshan : Statistics - Theory and Practice

## పట్టికరణ - పానఃపున్య పట్టి

### పాఠ్యంశ నిర్మాణ క్రమం

- 4.0 అక్ష్యాలు
- 4.1 విషయపరిచయం
- 4.2 దత్తాంశ సమర్పణ
- 4.3 పట్టికరణ
  - 4.3.1 వర్గీకరణ, పట్టికరణ మధ్య తేడాలు
  - 4.3.2 పట్టికరణ - ముఖ్యోద్దేశాలు
  - 4.3.3 పట్టికరణ - దశలు
  - 4.3.4 పట్టిలోని భాగాలు
  - 4.3.5 పట్టికరణ - సూత్రాలు
  - 4.3.6 పట్టికరణ - ప్రయోజనాలు
  - 4.3.7 పట్టిలు - రకాలు
  - 4.3.8 పానఃపున్య పట్టి తయారుచేసే పద్ధతి
- 4.4 గణాంక వ్యుత్పన్నాలు
  - 4.4.1 వివిధ వ్యుత్పన్నాలు
  - 4.4.2 గణాంక వ్యుత్పన్నాల వల్ల ప్రయోజనాలు
- 4.5 సారాంశం
- 4.6 ముఖ్య పదాలు
- 4.7 నమూనా ప్రశ్నలు
- 4.8 చదువదగిన గ్రంథాలు

### 4.0 అక్ష్యాలు

ఈ పాఠ్యభాగం చదివిన తరువాత మీరు ఈ క్రింది అంశాలు తెలుసుకోగలరు.

- \* పట్టికరణ అంటే ఏమిటి - పట్టికరణలో పాటించవలసిన సూత్రాలు
- \* పట్టికరణలో రకాలు
- \* వివిధ రకాలైన పట్టికలు రూపొందించే విధానం
- \* పానఃపున్య పట్టి రూపొందించే విధానం



### 4.1 విషయ పరిచయం

గణాంక విచారణ ఐదు దశల్లో జరుగుతుందని, అందులో మొదటి మూడు దశలను గూర్చి గత పాఠాలలో మనం తెలుసుకున్నాం. నాలుగో దశలోకి వర్గీకరణ, శ్రేణీకరణ, పట్టికరణ, రేఖాచిత్ర పటాల ద్వారా సమర్పణలు వస్తాయి. గత పాఠంలో వర్గీకరణ, శ్రేణీకరణలను గూర్చి చదువుకున్నాం. సమర్పణ అంటే దత్తాంశాన్ని ప్రజలకు వెల్లడి చేయడం, దత్తాంశాన్ని సమర్పించే పద్ధతులను, అందులో పట్టికరణను గూర్చి ఈ పాఠంలో మనం తెలుసుకోబోతున్నాం.

### 4.2 దత్తాంశ సమర్పణ(Presentation of Data)

సేకరించిన దత్తాంశాన్ని వర్గీకరించిన తరువాత తారతమ్య వివేచనకు, తరువాత చేయవలసిన విశ్లేషణలకు సరిపోయే విధంగా దానిని సమర్పించవలసిన అవసరముంది. సాధారణంగా దత్తాంశాన్ని క్రింది పద్ధతులలో సమర్పిస్తారు.

1. పాఠ్యరూపము (Textual Statement Form)
2. పట్టిక రూపము (Tabular Form)
3. చిత్ర పటాలు, రేఖా చిత్రాల రూపము (Diagrammatic and Graphic form)

1. **పాఠ్యరూపము :** ఈ పద్ధతిలో దత్తాంశాన్ని పేరాల రూపములో (Paragraph) సమర్పిస్తారు. ఉదాహరణకు భారతదేశ జనాభా లెక్కల దత్తాంశాన్ని పాఠ్యరూపములో సమర్పిస్తే...

“1951 సం॥ జనాభా లెక్కల ప్రకారం భారతదేశ జనాభా 35.7 కోట్లు. వారిలో వ్యవసాయ రంగంలో 24.9 కోట్లు, మిగిలిన వ్యవసాయేతర రంగంలో నిమగ్నులైయున్నారు. మొత్తం జనాభాలో 29.5 కోట్లు గ్రామీణ భారతంలోను 6.2 కోట్లు పట్టణ ప్రాంతాలలో నివసిస్తున్నారు” అనే విధంగా సమర్పణ చేయడం జరుగుతుంది.

ఈ పద్ధతి సంఖ్యా దత్తాంశాన్ని సమర్పించుటకు అంత అనువైనది కాదు. సంఖ్యల అర్థాన్ని ప్రాముఖ్యాన్ని గ్రహించుటకు పాఠ్యభాగాన్ని పదే పదే పఠించవలసి వుంటుంది. తారతమ్య పరిశీలన శ్రమతో కూడిన పని విపులీకరణ ఎక్కువయ్యేకొద్దీ, ఆసక్తి కూడా తగ్గును. ఎక్కువ విషయాలపై తారతమ్య పరిశీలన చేయవలసి వచ్చినపుడు ఈ పద్ధతి అంతగా ఉపయోగపడదు. పేరాల వారిగా విషయాన్ని చర్చిస్తున్నప్పుడు పట్టికనుగాని, చిత్రపటాన్ని గాని, రేఖా చిత్రాన్ని గాని సందర్భానుసారంగా వినియోగించు కొనవచ్చును. అవసరాన్ని బట్టి ఏ ఒక్క పద్ధతిని గాని లేదా అన్ని పద్ధతులనైనా ఉపయోగించుకోవచ్చును.

### 4.3 పట్టికరణ (Tabulation)

వర్గీకరణ చేసిన దత్తాంశాన్ని నిలువు గళ్ళలోను (columns), అడ్డగళ్ళలోను (Rows) సరియైన పద్ధతిలో అమర్చితే దానిని పట్టికరణ అందురు. పట్టిలోని అడ్డగళ్ళను క్షితిజ పంక్తులు (Horizontal lines), నిలువు గళ్ళను ఊర్ధ్వ పంక్తులు (Vertical lines) అందురు. దత్తాంశ పాఠ్యరూపం విభజన అమరికలను పాఠ్యరూపం పట్టికరణ అందురు. దత్తాంశ సేకరణకు, సరియైన ఫలితాలు వెలిబుచ్చుటకు మధ్య జరిగే ప్రక్రియయే పట్టికరణ అని బొలి అంటారు. ఒక సమస్యకు సంబంధించిన పరిమాణాత్మక దత్తాంశాన్ని క్రమరూపంలో జాబితా వ్రాసి, దత్తాంశంలోని గణాంకాలను, ఊర్ధ్వ క్షితిజ పంక్తులలో అమర్చి, తగిన శీర్షిక పెట్టి, దత్తాంశమూలం చెప్పి, బోధపడేటట్లు వ్రాస్తే, గణాంక పట్టికరణ అంటారని బెటర్ చెప్పాడు.

పట్టి అంటే అసలు దత్తాంశాన్ని సంగ్రహం చేసిన సంక్షిప్తి (Summary) అని అర్థము. పట్టికరణలో సాధ్యమైనంతవరకు ఎక్కువ భోగట్టా యివ్వడం, ప్రాముఖ్యము లేని అంకెలు, పనికిరాని అంకాలు వదలడం జరుగుతుంది.

**4.3.1 వర్గీకరణ - పట్టికరణ మధ్య తేడాలు :** వర్గీకరణ, పట్టికరణ వేరు వేరు పద్ధతులు కావు. ఈ రెండు ప్రక్రియలు ఒకదాని తరువాత ఒకటి జరుగుతాయి. పట్టికరణకు ప్రథమ సోపానము వర్గీకరణ. వర్గీకరణ చేసిన దత్తాంశాన్ని పట్టికరణ చేయటం జరుగుతుంది లేదా వర్గీకరించిన దత్తాంశానికి శాశ్వత రూపాన్నిచ్చటమే పట్టికరణగా చెప్పవచ్చు.

వర్గీకరణలో దత్తాంశాన్ని సాదృశ్యం, సాదృశ్యం లేని అంశాలుగా విభజించి, వివిధ తరగతులుగా, ఉపతరగతులుగా యేర్పాటు చేయటం జరుగుతుంది. తరువాత నిలువుగళ్ళు, అడ్డగళ్ళలో అమర్చడం జరుగుతుంది. అందువల్ల పట్టికరణ అనేది వర్గీకరణకు యాంత్రిక విధిగా పరిగణింపవచ్చు (Mechanical function). అంటే వర్గీకరణ గణాంక విశ్లేషణకు ఉపయోగపడే విధానము అయితే పట్టికరణ ఆ దత్తాంశాన్ని సముచిత రూపంలో సమర్పించే విధానము.

#### 4.3.2 పట్టికరణ - ముఖ్యోద్దేశాలు

1. క్లిష్ట దత్తాంశాన్ని సులభం చేయడం : దత్తాంశానికి సంబంధించి ఉత్పన్నమయ్యే ప్రశ్నలన్నింటికి సమాధానాలు స్థూలంగా చూపడమే పట్టికరణ ముఖ్యోద్దేశము. దత్తాంశాన్ని పట్టికరణ చేయడం ద్వారా పనికిరాని విషయాలు తొలగిపోతాయి. దత్తాంశాన్ని సరియైన పద్ధతిలో నిలుపుగళ్ళు, అడ్డగళ్ళలో చూపడం వలన అధ్యయనం చేసే వారికి పట్టికలో గల అంశాలన్నీ సులభంగా అతి స్వల్ప సమయంలో అవగాహన అవుతాయి.
2. తారతమ్యతను సులభంగా ఎత్తిచూపడం : పట్టి అనేక అంశాలను అడ్డంగా, నిలువుగా వున్న గళ్ళలో చూపటం వల్ల వాటి మధ్య బాంధవ్యం, తారతమ్యం సులభంగా అధ్యయనం చేయడానికి వీలవుతుంది.
3. దత్తాంశానికి సవిస్తారమైన సమాసత చేకూర్చడం : ఒక పట్టికి నంబరు, శీర్షిక యివ్వడం వల్ల పట్టిని సులభంగా గుర్తింపవచ్చును. ఒక నంబరు గల పట్టిలోని దత్తాంశాన్ని ద్విత్వీయ దత్తాంశంగా సేకరించడానికి, విపులీకరించడానికి ఉపయోగింపవచ్చు.
4. అమరికలు తెల్పడం : పట్టికరణ వల్ల చలరాసుల మధ్య సంబంధము, నడవడిక ప్రవృత్తిని గుణించి విశ్లేషణ చేయవచ్చును. వివిధ దత్తాంశములలో వున్న అమరికలను వాక్య రూపములో కంటే పట్టిల నుండి సులభంగా గ్రహించవచ్చును. పట్టిలు దత్తాంశ వాస్తవ లక్షణాలు వెల్లడి చేసి వాటి ప్రాముఖ్యతను తెల్పుతాయి.
5. గణాంక ప్రక్రియలకు వీలు కల్పించడం : పట్టికరించిన దత్తాంశము నుండి గణాంక పద్ధతులైన సగటులు, విస్తరణ, వైషమ్యము, సహసంబంధము, ప్రతిగమనము, ప్రవృత్తి గణన మొదలైన వాటిని గణన చేయుటకు వీలుపడును. విలువలను పోల్చడం, తారతమ్యాలు తేల్చడమే గాక సరియైన అనుమతులను (inference) పొందవచ్చును.

#### 4.3.3 పట్టికరణ-దశలు

దత్తాంశాన్ని పట్టికరించడం ముఖ్యంగా మూడు దశల్లో కొనసాగుతుంది. ఈ దశలలో

1. షెడ్యూళ్ళ నుండి అంశాలను సేకరించి కాగితపుముక్కలు (slips) లేదా క్రియాత్మక పత్రాలు (working sheets) మీద ఎక్కిస్తారు. ఈ భోగట్టా అనుకరణ చేయడానికి కార్డులు లేదా గణపత్రాలు (Tally sheets) ఉపయోగిస్తారు. ఈ పనిని యంత్ర సహాయంతో గూడా చేయవచ్చు.
2. తరువాత దశలో క్రియాత్మక పత్రాలను పూర్తి చేసి ఉపయోగిస్తున్న సారాలపై ఫలితాలను ఎక్కిస్తారు.
3. ఆఖరి దశలో తుది పట్టికలను తయారు చేయుదురు. ఈ దశలలో దత్తాంశంలో పనికిరాని, అవసరం లేని అంకెలను వదలివేయడం జరుగుతుంది.

పై పట్టిలో గణ చిహ్నాలు నాలుగు గీతల చొప్పున గీసి ఆ నాల్గింటిని కలుపుతూ కర్ణంగా ఐదవ గీత గీయడం జరిగినది. ఈ పద్ధతిని ఐదు గీతలు గీయడం అని గాని, నాలుగు గీతలు గీసి ఐదవ గీత గీయడం అని గాని అంటారు. పాఠాభ్యాసాలు పెద్దనైతే 10 గీతలు గీయవచ్చు. అంశాలను లెక్కించుటకు చుక్కలను కూడా గణచిహ్నాలుగా వాడతారు. చుక్కలతో తయారు చేసిన పట్టిని చుక్కల చిత్రము (spot diagram) అంటారు.

**4.3.4 పట్టిలోని భాగాలు :** పట్టిలో ఎన్ని భాగాలుండవలెననే సమస్య దత్తాంశాన్ని బట్టి నిర్ణయింపబడును. కాని మంచి పట్టికి ఈ క్రింద యిచ్చిన ముఖ్యాంశములుండవలెను.

- (ఎ) పట్టి నంబరు : ప్రతి పట్టికి ఒక నంబరు కేటాయించవలెను. నంబరును బట్టి పట్టిని సులభంగా గుర్తింపవచ్చును. పట్టి నంబరు గుర్తించుటకు అనేక రకాల పద్ధతులు వాడుకలో కలవు. పై భాగములో మధ్యగా శీర్షికల మీదను, లేదా పై భాగములో శీర్షిక పక్కన లేక పట్టి దిగువ ఎడమ చేతి ప్రక్కన పట్టి నంబరు గుర్తిస్తారు. కాని పై భాగములో మధ్యగా శీర్షిక మీద పట్టి నంబరు యివ్వడం మంచి పద్ధతి.
- (బి) పట్టి పేరు : ప్రతి పట్టికి సరియైన పేరు యివ్వవలెను. పట్టి పేరు, పట్టిలో గల విషయాలను క్లుప్తంగా వర్ణించేటట్లు ఉండవలె. పట్టి పేరు సాధ్యమైనంతవరకు యీ క్రింది విషయాలను వివరించవలెను.

- (1) ఎటువంటి దత్తాంశము పట్టిలో చూపబడినది ?
- (2) దత్తాంశము ఏ కాలానికి చెందినది ?
- (3) దత్తాంశము ఎక్కడ నుంచి గ్రహించబడినది ?

పట్టి పేరు స్పష్టంగాను, క్లుప్తంగాను, వెంటనే బోధపడే విధంగాను ఉండవలెను. పట్టికి దీర్ఘమైన పేరు పెట్టరాదు. కాని స్పష్టంగా యుండడానికి అప్పుడప్పుడు దీర్ఘమైన పేర్లు వాడవచ్చు. పేరులోని ప్రతి పదానికి ఒకే అర్థము వుండవలెను. పేరు వాక్య రూపములో కాక వివిధ పదాలలో దత్తాంశాన్ని వ్యక్త పరచేటట్లుంటే బాగుంటుంది. పేరు ప్రాముఖ్యంగా వుండవలెను. ప్రాముఖ్యానికి వివిధ రంగులు వాడవచ్చు. పేరు పెద్ద అక్షరములతో ముద్రిస్తే (Bold print) పట్టిలో గల యితర అక్షరాలతో వేరు చేయవచ్చును.

(సి) శీర్షిక (Caption) : పట్టికి కుడివైపున నిలువు గీతలపై వ్రాసిన పదాలను (Captions) శీర్షికలంటారు. నిలువుగీత గడిలో ఏమున్నదీ దాని శీర్షిక చెబుతుంది. ఒక పట్టిలో ఒకటి గాని అంతకంటే ఎక్కువగాని ఉపశీర్షికలుండవచ్చును. శీర్షిక పదాన్ని స్పష్టంగా నిర్వచించి నిలువుగీత గడి మధ్యలో వ్రాసి చూపవలె. వివిధ నిలువుగీతల గళ్ళలో గల గణాంక ప్రమాణాలు వేరు వేరుగా వుంటే ఆ గణాంక ప్రమాణాలను కూడా శీర్షికలలో చూపవలె. పట్టి పేరు కంటే శీర్షికలు చిన్నవిగా వుండవలెను. శీర్షికను ఆంగ్లములో బాక్స్ హెడ్ (Box head) అంటారు.

(డి) స్టబ్స్ (Stubs) : పట్టికి ఎడమవైపున వ్రాసిన పదాలను స్టబ్స్ అంటారు. స్టబ్స్ క్షితిజ రేఖల గళ్ళలో గల పదాలను వర్ణిస్తాయి. స్టబ్స్ వరుసలను సూచిస్తాయి. క్షితిజ రేఖల మధ్యలో గల గణాంకాల గురించి చెబుతాయి. స్టబ్స్ సాధారణంగా శీర్షికల కంటే పెద్దవైనను (దీర్ఘమైనవి) సాధ్యమైనంత వరకు చిన్నవి(Narrow) చేసి వ్రాయాలి.

(ఇ) అంశాల భాగము యిచ్చే భాగము (Body) : ఈ భాగములో పూర్తి సంఖ్యా దత్తాంశముండును. ఇది పట్టిలోని ముఖ్య భాగము. దత్తాంశాన్ని వాటి ప్రాముఖ్యత తెల్పే విధంగా వ్రాయవలెను. ఈ క్రింద తెల్పినట్లు దత్తాంశాన్ని అమర్చవచ్చును. (1) అక్షర క్రమం (2) భౌగోళిక క్రమం (3) కాలాత్మక క్రమం (4) సాంప్రదాయిక క్రమం (5) వర్తమాన క్రమం (6) ఆరోహణ లేదా అవరోహణ క్రమం. ఇందులో సమర్పణ చేసిన దత్తాంశాన్ని శీర్షికలు, స్టబ్స్, గళ్ళలో అమర్చెదరు.

(ఎఫ్) ముఖ్య గమనిక (Head Note) : ఇది పట్టికలో గల అన్ని విభాగాలను గురించి బోధపరిచే వాక్యము. పట్టిలో గల విషయాలను సంగ్రహంగా సూచిస్తుంది. సాధారణంగా పట్టి పేరు క్రింద, కుండలీకరణాలలో వుంటుంది. పట్టి పేరులో గాని, శీర్షికలోగాని, స్టబ్స్ లో గాని చెప్పని విషయాలు యిందులో వుంటాయి. ఉదాహరణకు గణన ప్రమాణాన్ని ముఖ్య గమనికలో “వేలలో”, “లక్షలలో” అని లేదా టన్నులో, రూపాయలలో అని వివరిస్తాయి.

(జి) పాదసూచిక (Foot Note) : ఇది ఒక పదంలోగాని, చిన్న వాక్యరూపంలోగాని వుంటుంది. పట్టిలో ఒక నిర్దిష్ట విషయాన్ని గురించిగాని, లేదా పట్టిలో మినహాయించిన విషయాలను గూర్చిగాని చెబుతుంది. దీనిని పట్టి దిగువ భాగంలో వ్రాస్తారు. పాద సూచికను దిగువతెల్పిన సందర్భాలలో వ్రాస్తారు.

(1) దత్తాంశములో ఆస్థిరత్వమున్నప్పుడు

(2) దత్తాంశములో సంధిగ్రత వున్నప్పుడు

(3) ప్రత్యేక పరిస్థితుల వల్ల దత్తాంశము ప్రభావితమైనప్పుడు. ఉదా॥ కార్మిక సమ్మె కాలము, ప్యాక్షరీ మూసివేత కాలము, అగ్ని ప్రమాదాలు మొదలైనవి.

(హెచ్) దత్తాంశములము (Source) : పట్టిలో చూపిన దత్తాంశము ఏ మూలాధారాల నుండి సేకరించారో తెలియచేయాలి. దత్తాంశములం పూర్తి వివరణ యిందులో యివ్వాలి. పట్టిలో చూపే దత్తాంశం ద్వితీయ దత్తాంశ కోవకు చెందినదైతే దానినెక్కడ నుండి గ్రహించారో, మూలం పేజి, నంబరు, గ్రంథకర్తపేరు, సంవత్సరము, సంపుటి సంఖ్య, సంచిక సంఖ్య మొదలైన వానిని తెలుపవలెను. అట్లా చెప్పడం వలన ద్వితీయ దత్తాంశాన్ని వాడే వ్యక్తి అవసరమైతే ప్రాథమిక దత్తాంశాన్ని సులభంగా కనుక్కోగలడు.

(ఐ) పట్టి తయారుచేసే వారు : పట్టిని ఎవరు తయారు చేశారో వారి వివరాలు కూడా పట్టి కింద తెల్పాలి.

నమూనా పట్టి

పట్టి నంబరు

పట్టి పేరు

ముఖ్య గమనికలు

(Table Number)

(Head Notes)

స్టబ్స్ వివరాలు అర Stub Box	శీర్షికలు (Captions)			
	X శీర్షిక		Y శీర్షిక	
స్టబ్స్ వివరాలు	1	2	1	2
స్టబ్ A				
స్టబ్ B	అంశాలనిచ్చే భోగట్టా			
స్టబ్ C	Body			
స్టబ్ D				
మొత్తము				

పాద సూచిక

మూలము

పట్టి తయారు చేసినవారి సంతకం

(Foot Note)

(Source)

**4.3.5 పట్టికరణ సూత్రాలు :** దత్తాంశాన్ని పట్టికరణ చేయడానికి నిర్ణయించిన సూత్రాలంటూ ఏమీ లేవు. దత్తాంశ స్వభావము, గణాంక విచారణ పరిధి ముఖ్యోద్దేశాన్ని దృష్టి యందుంచుకొని పట్టికలను తయారుచేయవలెను. మంచి పట్టి తయారు చేయడమనేది ఒక కళ. పట్టిని తయారుచేయడానికి ప్రయోగాత్మక అనుభవం, తెలివితేటలు అవసరం. పట్టికరణలో సాధారణ తెలివి తేటలకు తోడు అనుభవము ప్రధాన ఉపాధ్యాయుడు లాంటిది అని బౌలి చెప్పినాడు.

పట్టికరించేటప్పుడు కింద సూచించిన సూత్రాలను పాటించినట్లయితే పట్టిక ద్వారా మంచి ఫలితాలు లభ్యమవుతాయి. చూడటానికి ఇంపుగా, ఆకర్షణీయంగా కూడా వుంటుంది.

- 1) పేజీ పరిమాణానికి సరిపోయేటట్లు పట్టి వ్రాయవలెను. పట్టికి సరియైన అమరిక యివ్వడానికి ఒక్కొక్కప్పుడు పట్టి రూపాన్ని మార్చవలసిన అవసరం కలుగవచ్చు. అందువలన ముందొక చిత్తు పట్టి తయారుచేయవలెను. తరువాత ఎటువంటి పట్టి తయారు చేయవలెనో తుది నిర్ణయము చేయవలెను. పాదసూచికలు వ్రాయడానికి తగినంత స్థలం కూడా వుంచవలెను.
- 2) పట్టిలో శీర్షికలను, ప్లబ్స్ ను సరియైన పద్ధతిలో అమర్చవలెను. అలా చేయడం వలన పట్టిలో గల ముఖ్య విషయాలు సులభంగా గమనింపవచ్చు. అయితే పట్టిలో అంశాలను ఎలా పేర్చవలెననే విషయము దత్తాంశ గుణముపై ఆధారపడియుండును. దత్తాంశాన్ని పట్టిలో అమర్చడానికి వాడుకలో వున్న కొన్ని పద్ధతులు ఈ క్రింద యివ్వబడినవి.
  - ఎ) ఆక్షరాది క్రమము : ఇందులో దత్తాంశాన్ని అక్షర క్రమంలో అమరుస్తారు. ఈ పద్ధతి చాలా సాధారణంగా వాడుకలో యున్నది. రిఫరెన్స్ పట్టి తయారు చేయనుపుడు ఆక్షరాది క్రమపద్ధతి వాడతారు.
  - బి) కాలక్రమానుసార పద్ధతి : ఇందులో దత్తాంశాన్ని కాలరీత్యా అమరుస్తారు. చారిత్రాత్మక దత్తాంశాన్ని ఈ పద్ధతిలో సమర్పిస్తారు.
  - సి) భౌగోళిక పద్ధతి : ఇందులో దత్తాంశాన్ని ప్రదేశరీత్యా పట్టిలో అమరుస్తారు. దేశాలు, రాష్ట్రాలు, నగరాలు మొదలైన భౌగోళిక స్థలాలకు ప్రాముఖ్యాన్నిచ్చి దత్తాంశాన్ని అమరుస్తారు.
  - డి) గుణాత్మక పద్ధతి : గుణాత్మక దత్తాంశ అమరికలో సాంప్రదాయకంగా పురుషులు, స్త్రీలని, హిందువులు, ముస్లిములు, క్రైస్తవులని కొన్ని గుణాలను తీసుకొని దత్తాంశము వేరుచేసి పట్టిలో వ్రాస్తారు.
  - ఇ) పరిమాణాత్మక పద్ధతి : అంశం తాలూకు పరిమాణాన్ని బట్టి దత్తాంశాన్ని అమర్చడం. ఎక్కువ సంఖ్యలో గల దత్తాంశాన్ని ముందు అమర్చి తరువాత తక్కువ సంఖ్యలో గల దత్తాంశాన్ని అమరుస్తారు(అవరోహణ పద్ధతిలో) లేదా తక్కువ సంఖ్య గల దత్తాంశాన్ని ముందు అమర్చి తరువాత ఎక్కువ సంఖ్యలో గల దత్తాంశాన్ని అమరుస్తారు (ఆరోహణ పద్ధతి).
- 3) దత్తాంశ గణన ప్రమాణము స్పష్టంగా నిర్వచించి పట్టిలో పేర్కొనవలెను. ఉదా : వ్యక్తిగత రాబడులు రూపాయలలో బరువు కిలోగ్రాములలోను యివ్వవలెను.
- 4) అంకెలను దగ్గర సున్నాకు సవరించవలె. అలా చేయడం వలన పనికిరాని విషయాలు, తబ్బిబ్బు కలిగించే అంకెలు వదలివేయవచ్చు. కాని అంకెలను దగ్గర సున్నాకు సవరించిన విషయాన్ని పాదసూచికలో చెప్పవలెను. ఉదాహరణకు ఒక విచారణలోని దత్తాంశ సంఖ్యలను దగ్గర రూపాయలలో యిచ్చి పైసలను వదలివేయవలెను. ఇట్లా చేస్తే గణనలు కూడా సులభమగును.

- 5) కొన్ని అంకెలను గురించి నొక్కి చెప్పవలెనంటే ఆ అంకెలను పెట్టే ఆకారంలో గాని, వృత్తాకారంలోగాని, దట్టమైన పంక్తుల మధ్యగాని వ్రాయవలెను.
- 6) పట్టిని మరీ ఎక్కువ విషయాలతో నింపకూడదు. ఒక్కొక్కప్పుడు దత్తాంశములో ఎక్కువ విషయాలుంటే ఒక్కొక్క విషయానికి ఒక్కొక్క పట్టి తయారుచేస్తే బాగుంటుంది.
- 7) దత్తాంశం వర్గీకరణ చేసిన తరువాత అవసరమైతే ఒక చిల్లర వరుస (Miscellaneous column) కూడా కల్పించవలె.
- 8) పట్టిలో అమర్చిన విషయాలు క్రమ రూపంలో వుండవలెను. దగ్గర సంబంధమున్న అంశాలను ఒకే శీర్షికలోగాని, స్టబ్లో గాని లేదా దగ్గర దగ్గరలోగాని అమర్చవలెను. ఉత్పన్నము చేసిన అంకెలను, అంటే మొత్తాలు, సగటుల శాతాలను వాటికి సంబంధించిన మూల అంకెల దగ్గరగా అమర్చవలెను. ఉత్పన్నాలను రాబట్టడం అవసరము.
- 9) ఊర్ధ్వ పంక్తులను, క్షితిజ పంక్తులను (నిలువు గీతలు, అడ్డగీతలు) గుర్తు పట్టడానికి నంబర్లు యివ్వవలె. సాధారణంగా ఊర్ధ్వ పంక్తులకు శీర్షికలతోబాటు నంబర్లు కూడా యిస్తే గుర్తించడం సులభము.
- 10) కొన్ని అంశాలను గురించి దత్తాంశము సేకరించలేనపుడు లేదా అంచనా వేసిన దత్తాంశము యిచ్చినపుడు, ఆ విషయము పాద సూచికలో వ్రాయవలెను.
- 11) పట్టిలను వ్రాయడానికి ఒక గీత రూలింగ్ను (Single line ruling) ఉపయోగిస్తారు. అప్పుడప్పుడు రెండు గీతల రూలింగ్ (Double line ruling) కూడా వాడతారు. ముఖ్యమైన భాగాలను విడదీసి చూపడానికి దట్టమైన గీతలు ఉపయోగిస్తారు. పట్టి ప్రక్కల ఖాళీ స్థలం వుంచుతారు. అంటే పట్టిలను మూసివేయరు.
- 12) దత్తాంశములోని ప్రతి అంశము పట్టిలో ఖచ్చితంగా మరువకుండా వ్రాయవలెను. మొత్తాలను, గణనలను, జాగ్రత్తగా, తప్పలేకుండా చేయవలెను. యదార్థత దెబ్బతినకుండా పట్టిలపై పర్యవేక్షణయిండవలె.
- 13) పట్టికరణకు హెచ్చు వ్యయం కాకూడదు. పట్టిలోని అంశాలన్ని ఒక్కసారి చూచేసరికి పూర్తిగా కనుపించేటట్లు పట్టి పరిమాణము వుండవలెను.
- 14) అంకెలు లేని చోట (-) ద్వారా గాని (లేదు) అని గాని సూచించాలి.
- 15) మొదలైనవి, వగైరా, అనే సంక్షిప్త పదాలు వాడరాదు. డిటో లేదా దానికి సంబంధించిన గుర్తులు (ii) వాడడం మంచిది కాదు. అంకెలు, మాటలు ఎన్నిసార్లు వచ్చినా వ్రాయడం మంచిది.
- 16) ప్రతి పట్టికి తగిన పేరు వ్రాయాలి. పట్టిక పేరులోను శీర్షికలోను సంకేతాలను వాడరాదు. సంవత్సరానికి (సం) రూపాయలకు (రూ॥లు) అని వాడరాదు. సమగ్రంగా చెప్పుకోవలెనంటే పట్టి సామాన్యంగాను, సమగ్రంగాను తారతమ్యతకు వీలు పడే విధంగాను వుండవలెను.

4.3.6 పట్టికరణ - ప్రయోజనాలు : పట్టికరణ చేసినందువలన వివిధ రకాలైన ప్రయోజనాలు చేకూరతాయి. అవి :

1. పట్టికరణ వలన ఫలితాలను సులభంగా గ్రహించవచ్చు.
2. తక్కువ కాలంలో ఎక్కువ విషయాలను గ్రహించవచ్చు.
3. భారీ దత్తాంశాన్ని క్లుప్తంగా పట్టిలలో అమర్చవచ్చు.

4. పట్టిల ద్వారా వివిధ అంశాల మధ్య గల తారతమ్యాన్ని తెలుసుకొనవచ్చును.
5. పట్టిలో దత్తాంశాన్ని ఒక క్రమ పద్ధతిలో అమర్చడం వల్లనూ, అంశాలకు వర్గాలుగా, ఉపవర్గాలుగా విభజించడం వల్ల ఈ విషయాలను సులువుగా జ్ఞాపకముంచుకొనవచ్చును.
6. ఫలితాలను కనుగొనుటకు గణనలు సులభంగా చేయవచ్చును.

**4.3.7 పట్టిలు - రకాలు :** ఒక పద్ధతిలో పట్టికలను సాధారణ పట్టిలు, సారాంశపు పట్టిలని రెండు విధాలుగా వర్గీకరించవచ్చు.

1. **సాధారణ పట్టిలు :** దత్తాంశానికి సంబంధించిన పూర్తి పట్టిలలో సమాచారాన్నంతటినీ చూపే పట్టిలను సాధారణ పట్టిలు అంటారు. ఇందులోని భోగట్టాను సాధారణ వాడుకకు అవసరమైనపుడు త్రిప్పి చూడడానికి (reference) ఉపయోగిస్తారు. అందువల్లనే వీటిని రిఫరెన్స్ పట్టిలని కూడా అందురు. ఒక విచారణ గురించి పూర్తి భోగట్టాలు ఉండడం వలన భోగట్టాలనిచ్చే ఖజనాగా ఇవి పనిచేస్తాయి. అందువల్ల వీనిని రిపోజిటరీ(Repository) పట్టిలని కూడా అందురు. ప్రభుత్వం దత్తాంశ సేకరణ చేసి ప్రచురించే పట్టిలన్నీ యిటువంటివే. ఉదా : జనాభా లెక్కలు, పారిశ్రామిక గణాంకాలు, వ్యవసాయం, ఎగుమతులు, దిగుమతులు మొదలైనవి స్టాటిస్టికల్ ఆబ్స్ట్రాక్ట్ (Statistical Abstract) నందు ప్రచురించబడును.
2. **సారాంశపు పట్టిలు (Summary Tables) :** వీనినే ప్రత్యేక భోగట్టాలనిచ్చే పట్టిలు (Special Purpose Tables), వ్యుత్పన్న పట్టిలు (Derivative Tables), విపులీకరణ పట్టిలు (Interpretative Tables) అనికూడా అందురు. ఈ పట్టిలను సాధారణ పద్ధతులు ఆధారంగా తయారుచేస్తారు. కాబట్టి వీనిని వ్యుత్పన్న పట్టిలంటారు. నిర్ణీత విషయాన్ని గురించి చెప్పడానికి ప్రభుత్వ జనాభా లెక్కల (సాధారణ పట్టిల) నుంచి కావాలసిన భోగట్టా సేకరించి ప్రత్యేక పట్టిలు తయారుచేయుదురు. గణాంక శాస్త్రంలో మనము ఎక్కువగా వాడే పట్టిలన్నీ యిటువంటివే. ఈ పట్టిలు సాధారణ పట్టికంటే చిన్నవిగా వుంటాయి. ఇందులో సమాచారం కొన్ని ముఖ్య విషయాలకు సంబంధించి చెప్పడం జరుగుతుంది.

పట్టిలను మరొక పద్ధతిలో రెండుగా విభజించవచ్చు. వీటిని గురించి ఇప్పుడు తెలుసుకుందాం.

1. **సామాన్య పట్టిలు :** వీటిని మొదటి శ్రేణి పట్టిలు, లేక ఏకమార్గ పట్టిలు అంటారు. ఇందులో దత్తాంశము యొక్క ఒక గుణాన్నే వర్ణిస్తారు. కాబట్టి వీనిని ఏక మార్గ పట్టిలు (One way tables) అంటారు. ఉదాహరణకు 50 మంది విద్యార్థులకు గణాంక శాస్త్రంలో వచ్చిన మార్కులు.

**100 మంది విద్యార్థుల మార్కులు**

మార్కులు (తరగతి అంతరాలు)	విద్యార్థులు (పాఠాభ్యాసము)
20 - 30	10
30 - 40	30
40 - 50	32
50 - 60	20
60 - 70	8
మొత్తము	100

పై పట్టిలో ఒక్క లక్షణం (మార్కులు) వున్న దత్తాంశం చూపబడినది. దీనిని “సరళపట్టి” అని కూడా అంటారు. ఈ పట్టికలో పరిమిత దత్తాంశ భోగట్టాను మాత్రమే చూపడానికి వీలగును.

2. సంకీర్ణ పట్టిలు : ఇందులో దత్తాంశం తాలూకు రెండు గాని అంతకంటే ఎక్కువగాని గుణాలను గురించి చెప్పబడును. వాడుకలో యిటువంటి పట్టిలు ఎక్కువగా కన్పిస్తాయి. ఇందులో దత్తాంశం తాలూకు ఎక్కువ వివరాలు యివ్వబడును. దత్తాంశం తాలూకు రెండు గుణాలనే పేర్కొన్న పట్టిలను ద్విమార్గ పట్టిలని (Two Way Tables), లేదా రెండవ శ్రేణి పట్టిలని కూడా అందురు. అదే విధంగా దత్తాంశం తాలూకు మూడు గుణాలను పేర్కొన్న పట్టిలను త్రిమార్గ పట్టిలు (Three Way Tables) అని, లేదా మూడవ శ్రేణి పట్టిలని కూడా అందురు. నాలుగు కాని అంతకంటే ఎక్కువ గుణాలను గాని పేర్కొన్న పట్టిలను బహువిధ పట్టిలు (Manifold tables) అని, లేదా ఉన్నతశ్రేణి పట్టిలని (Higher Order) కూడా అంటారు.

ద్విమార్గ పట్టి : గుంటూరు జాబ్మిల్లు ఉద్యోగుల సంఖ్య, వారి ఆదాయము, లింగబేధము సూచించే పట్టి.

ఆదాయము (రూపాయలలో)	పనివారి సంఖ్య		
	పురుషులు	స్త్రీలు	మొత్తము
500 - 1000	100	20	120
1000 - 1500	150	30	180
1500 - 2000	200	20	220
2000 - 2500	50	10	60
	500	80	580

ఈ పట్టిలో దత్తాంశానికి సంబంధించిన రెండు లక్షణాలను మాత్రమే ఆదాయం, లింగ బేధము చూపడం జరిగినది.



**అమర్ల పట్టణం**  
(పయస్సు, లింగభేదం, ఉద్యోగస్థాయి సూచించే పట్టి)

పయస్సు (సంవత్సరాలలో)	ఉద్యోగస్థాయి										మొత్తం
	సూపర్వైజర్లు					అసిస్టెంట్లు					
	పు	స్త్రీ	మొత్తం	పు	స్త్రీ	మొత్తం	పు	స్త్రీ	మొత్తం	పు	
25 లోపు	15	2	17	20	8	28	40	10	50	95	
25 - 35	3	-	3	15	4	19	25	8	33	55	
35 - 45	5	1	6	10	2	12	20	2	22	40	
45 - 55	2	2	4	5	1	6	30	-	30	40	
55 - ఆ పైన	5	-	5	-	-	-	5	-	5	10	
<b>మొత్తం</b>	<b>30</b>	<b>5</b>	<b>35</b>	<b>50</b>	<b>15</b>	<b>65</b>	<b>120</b>	<b>20</b>	<b>140</b>	<b>240</b>	

జనాభా నిరీక్షణ  
 వయస్సు, లింగభేదం, ఉద్యోగస్థాయి, మతం ప్రకారం ఒక బ్యాంకులో పనిచేయుచున్న ఉద్యోగుల వివరాలు

వయస్సు (వంశాన్ని)	ఉద్యోగస్థాయి												మొత్తం		
	నాన్-వర్కెయింగ్		అసైన్డ్		గువర్నమెంట్		అటానమస్		అటానమస్		మొత్తం		పు	స్త్రీ	మొత్తం
	పు	స్త్రీ	పు	స్త్రీ	పు	స్త్రీ	పు	స్త్రీ	పు	స్త్రీ	పు	స్త్రీ			
25 లోపు	5	2	-	-	10	5	15	1	-	1	16	7	23		
25 - 35	6	-	3	1	6	4	10	3	3	6	18	8	26		
35 - 45	2	1	2	-	8	3	11	2	1	3	14	5	19		
45 - 55	1	1	2	1	4	3	7	2	1	3	9	6	15		
55 - అపై	1	1	1	-	2	1	2	2	-	2	6	1	7		
<b>మొత్తం</b>	<b>15</b>	<b>5</b>	<b>8</b>	<b>2</b>	<b>30</b>	<b>15</b>	<b>45</b>	<b>10</b>	<b>5</b>	<b>15</b>	<b>63</b>	<b>27</b>	<b>90</b>		
25 లోపు	-	-	1	-	-	-	-	-	-	-	1	-	1		
25 - 35	-	-	2	-	1	-	1	-	-	-	3	-	3		
35 - 45	1	-	-	-	-	-	-	-	-	-	1	-	1		
45 - 55	-	-	-	1	1	-	1	1	-	1	2	1	3		
55 పై	1	-	-	-	-	-	-	1	-	1	2	0	3		
<b>మొత్తం</b>	<b>2</b>	<b>-</b>	<b>3</b>	<b>1</b>	<b>2</b>	<b>-</b>	<b>2</b>	<b>4</b>	<b>-</b>	<b>2</b>	<b>9</b>	<b>1</b>	<b>10</b>		

నాన్-వర్కెయింగ్  
 గువర్నమెంట్

మరో ఉదాహరణ :

చెన్నై - ముంబాయి రేవులలో ఎగుమతులు - దిగుమతులు - తేడా చూపే ఖాళీ పట్టి

వర్తక స్వభావం	చెన్నై		ముంబాయి	
	సరుకుల బరువు	విలువ కోట్ల రూపాయలలో	సరుకుల బరువు (టన్నులలో)	విలువ రూపాయలలో
స్వదేశం	ఎగుమతులు			
	దిగుమతులు			
	తేడా			
విదేశం	ఎగుమతులు			
	దిగుమతులు			
	తేడా			

4.3.8 పానఃపున్య పట్టి తయారు చేసే పద్ధతి : గణ చిహ్నములనుపయోగించి పట్టి తయారు చేయడం చూపటం జరిగింది. ఉదాహరణకు 30 మంది విద్యార్థులకు వచ్చిన మార్కులు. దీనిని మినహాయింపు రూపంలో చూపటం జరిగింది.

20, 25, 40, 50, 30, 25, 60, 75, 78, 60, 25, 28, 36, 40, 42, 64, 72, 76, 75, 50, 22, 25, 44, 52, 58, 60, 62, 60, 24, 36.

ఈ సమాచారాన్ని గణ చిహ్నాల రూపంలో గుర్తించడం జరుగుతుంది.

పానఃపున్య పట్టి

తరగతి అంతరాలు	గణ చిహ్నములు	పానఃపున్యము
20 - 30	/// III	8
30 - 40	III	3
40 - 50	IIII	4
50 - 60	IIII	4
60 - 70	/// I	6
70 - 80	///	5
	మొత్తము	N=30

పై పట్టిలో గణ చిహ్నాలు నాలుగు గీతల చొప్పున గీసి ఆ నాల్గింటిని కలుపుతూ కర్ణంగా ఐదవ గీత గీయడం జరిగినది. ఈ పద్ధతిని ఐదు గీతలు గీయడం అని గాని, నాలుగు గీతలు గీసి ఐదవ గీత గీయడం అని గాని అంటారు. పానఃపున్యాలు పెద్దవైతే 10 గీతలు గీయవచ్చు. అంశాలను లెక్కించుటకు చుక్కలను కూడా గణచిహ్నాలుగా వాడతారు. చుక్కలతో తయారు చేసిన పట్టిని చుక్కల చిత్రము (spot diagram) అంటారు.

#### 4.4 గణాంక వ్యుత్పన్నాలు (Statistical Derivatives)

సేకరించిన దత్తాంశాన్ని వివిధ దశల్లో ఎడిటింగ్, వర్గీకరణ, పట్టికరణ చేయటం జరుగుతుంది. పట్టికరణ చేసిన దత్తాంశాన్ని అనుకొన్నంత సులభంగా గ్రహించలేము. ఎందుకంటే పట్టిలో చాలా అంకెలు వుంటాయి. పట్టిలో వున్న అంకెల నుంచి వెంటనే సూటిగా నిర్ణయాలు తీసుకోలేము. అంతేకాక పట్టిలో వున్న అంకెల ద్వారా అంశాలను వెంటనే తారతమ్యము చేయుట కష్టము. కాబట్టి దత్తాంశాన్ని ఇంకా సంగ్రహపరచవలె. దత్తాంశాన్ని సంక్షిప్తంగా మార్చడానికి నిష్పత్తులు, శాతాలు, రేటులు మొదలైన వ్యుత్పన్నాలను వాడతారు.

నిష్పత్తులు, శాతాలు ఇంకా సగటులు పట్టిలోని అసలు అంకెల నుంచి గణన చేసి రాబట్టుతారు. కాబట్టి వీటిని గణాంక వ్యుత్పన్నాలు అంటారు. గణాంక వ్యుత్పన్నము ఒక పరిమాణము. అంశాలు రెండు కాని అంతకంటే ఎక్కువ కాని ఒక పద్ధతిలో మిళితం చేస్తే ఒక పరిమాణం వస్తుంది. ఈ పరిమాణాన్నే గణాంక వ్యుత్పన్నమంటారు. గణాంక వ్యుత్పన్నాల గణనము (Calculation) వల్ల వచ్చినవేగాక లెక్కపెట్టడం వల్ల (Counting) లేదా గణన (Enumeration) చేయడం వల్ల వచ్చినవి కావు.

గణాంక వ్యుత్పన్నాలు రెండు రకాలు. సామాన్య (Simple) వ్యుత్పన్నాలు, సంక్లిష్ట (Complex) వ్యుత్పన్నాలు. నిష్పత్తులు, శాతాలు, రేట్లు గుణకాలు మొదలైనవి సామాన్య వ్యుత్పన్నాలు. వీటిని గణన చేయడం సులభము. సగటులు, విస్తరణ, వైషమ్యాలు మొదలైనవి సంక్లిష్ట వ్యుత్పన్నాలు. ఇవి అనేక గణనలు చేసిన తరువాత వచ్చే ఫలితాలు.

సామాన్య వ్యుత్పన్నాలు రెండు రకాలు. అవి నిర్దేశాంక వ్యుత్పన్నాలు (Coordinative Derivatives), అధీన వ్యుత్పన్నాలు (Subordinate Derivatives) ఒక సంవత్సరము లోని వివిధ అంశాలను ఒకదానితో నొకటి నిష్పత్తులు లేదా శాతాల ద్వారా తారతమ్యము చేస్తే వచ్చిన వ్యుత్పన్నాలను నిర్దేశాంక వ్యుత్పన్నాలంటారు. ఉదాహరణకు అక్షరాస్యులకు, నిరక్షరాస్యులకు ఉన్న నిష్పత్తి ఇటువంటిది. అట్లాకాకుండా సమిష్టిలోని అంశాలను సమిష్టిలోనే తారతమ్యం చేస్తే వచ్చిన వ్యుత్పన్నాలను అధీన వ్యుత్పన్నాలంటారు. ఉదాహరణకు, మొత్తం జనాభాలో అక్షరాస్యుల శాతము ఇటువంటిది.

##### 4.4.1 వివిధ వ్యుత్పన్నాలు

వివిధ రకాలైన గణాంక వ్యుత్పన్నాలు అంటే ఏమిటి. వాటి గణనను గూర్చి క్లుప్తంగా తెలుసుకుందాం.

1. నిష్పత్తులు : నిష్పత్తి అనేది సామాన్య గణాంక వ్యుత్పన్నాలలో ఒకటి. నిష్పత్తిలో రెండు అంశాలను తారతమ్యము చేయవచ్చును. ఉదాహరణకు, భారతీయుని వ్యక్తిగత రాబడిని, అమెరికా దేశస్తుని వ్యక్తిగత రాబడితో సరిపోల్చుదామనుకొందాము. భారతీయుని రాబడి రూ. 450లు, అమెరికా దేశస్తుని రాబడి రూ. 16,200లు అనుకొందాము. ఈ రెండు రాబడులకు నిష్పత్తి  $450 : 1620$ ; లేదా  $1 : 36$ . ఈ నిష్పత్తి అంటే  $1 : 36$  అనేది అమెరికా దేశస్తుని రాబడి, భారతీయుని రాబడి కంటే 36 రెట్లు ఎక్కువని తెలుపుతుంది. అంశాలను సరిపోల్చడానికి చాలా మంది నిష్పత్తులనే వాడతారు. ఉదాహరణకు, 1930 సంవత్సరం కంటే 1970 సంవత్సరపు ధరలు పది రెట్లు పెరిగినవని సాధారణ మానవుడు కూడా అంటూనే వున్నాడు.
2. శాతాలు : రెండు అంశాల మధ్య గల సంబంధాన్ని శాతాల ద్వారా తెలుసుకోవడం చాలా సులభం. ఎందుకంటే, రెండింటి మధ్య గల తారతమ్యాల ఎక్కువ తక్కువలు ఒక వందలో సరిపోల్చి చెప్పవచ్చును. ఇందులో వంద అంకెను ప్రామాణికంగా తీసుకొంటారు. ఈ ప్రామాణికమైన అంకె కంటే వున్న హెచ్చుతగ్గులు 100 సంఖ్యలలో గణన చేస్తారు. ఉదాహరణకు, మనదేశంలో 1960లో సిమెంటు ఉత్పత్తి 8 మిలియన్ టన్నులు అనుకొందాము. 1970లో ఉత్పత్తి 12 మిలియన్ టన్నులు అనుకుందాము. ఉత్పత్తి పెరుగుదల 4 మిలియన్ టన్నులు. 1960 లోని

ఉత్పత్తిని ప్రామాణికంగా తీసుకుందాము. దానిని బట్టి సిమెంటు ఉత్పత్తి 1970లో 50 శాతం పెరిగినదని తెలుస్తున్నది.  $\left(\frac{4}{8} \times 100 = 50\%\right)$  శాతాలను వివిధ కాలాలలో గల సాపేక్షిక మార్పులను సరిపోల్చడానికి కూడా ఉపయోగిస్తారు.

3. రేట్లు : జననాలు, మరణాలు మొదలైనవి ఒక వెయ్యి పరిమాణంలో సరిపోలుస్తారు. ఇందులో వెయ్యిని ప్రామాణికంగా తీసుకుంటారు. ఉదాహరణకు, మనదేశంలో జననాల రేటు వెయ్యికి 40 అంటారు. అంటే వెయ్యిమంది జనాభాకు 40 మంది శిశువులు జన్మించినారన్నమాట. అట్లాగే మరణాల రేటు కూడా ప్రతి వెయ్యిమందికి లెక్కిస్తారు. రేట్లను ఎక్కువగా ప్రాణిగణాంకాలు విశ్లేషణలో ఉపయోగిస్తారు.
4. గుణకము : విస్తరణ, వైషమ్యము, సహ సంబంధములలో గుణకాలను కనుగొనడం జరుగుతుంది. ఈ అధ్యాయాలలో ముందు సవిస్తరంగా వీటిగురించి చదువుతాము. సామాన్యంగా గుణకముంటే ఏమిటో తెలుసుకోవడానికి ఒక ఉదాహరణ తీసుకొందాము. జననాల రేటు వెయ్యికి 40 అనుకొంటే అప్పుడు గుణకము 0.04 అవుతుంది.  $\left(\frac{40}{1000}\right)$  గుణకాన్ని మొత్తం జనాభాతో గుణిస్తే దేశంలోని మొత్తం జననాలు తెలుస్తాయి.

**4.4.2 గణాంక వ్యుత్పన్నాల వల్ల ప్రయోజనాలు :** గణాంకశాస్త్ర అధ్యయనంలో గణాంక వ్యుత్పన్నాలు వాడితే దత్తాంశం తారతమ్యం సులభంగా బోధపడుతుంది. గణాంక వ్యుత్పన్నాలు రెండు విధులను నిర్వర్తిస్తాయి. (ఎ) తారతమ్యత - గణాంక వ్యుత్పన్నాలను గణన చేయడంలో ముఖ్యోద్దేశమేమంటే రెండు అంశాలను తారతమ్యం చేయడమే. ఉదాహరణకు, ఆంధ్ర విశ్వవిద్యాలయంలో X, Y అనే కళాశాలలో బి.కాం. చదివే విద్యార్థుల సంఖ్య 500, 600 అనుకొందాము. అందులో ఉత్తీర్ణులైనవారు 400, 420 అనుకొందాము. ఎవరైనా ఉత్తీర్ణుల సంఖ్య, తారతమ్యం చేస్తే Y కాలేజీ ఫలితము బాగుందంటారు. ఎందుకంటే Y కాలేజీలో 400 మంది ఉత్తీర్ణులైతే X కాలేజీలో 420 మంది ఉత్తీర్ణులయ్యారు. కాని ఫలితాలను శాతాలతో సరిపోలిస్తే X కళాశాల శాతము  $80\left(\frac{400}{500} \times 100\right)$ , Y కళాశాల శాతము,  $70\left(\frac{420}{600} \times 100\right)$  అందువల్ల శాతాలనే గణాంక వ్యుత్పన్నాల ద్వారా తారతమ్యము చేస్తే X కళాశాల Y కళాశాల కంటే మెరుగైనదని చెప్పవచ్చు. (బి) తెలియని అంశము ప్రమాణము కనుక్కోవడం : ఉదాహరణకు, పి.యు.సి. పరీక్షకు, X కళాశాల నుంచి ఎంత మంది హాజరైనారో తెలుసుకొందాము. కాని ఉత్తీర్ణులైనవారి శాతం, ఉత్తీర్ణులైన విద్యార్థుల సంఖ్య మనకు తెలిసినదనుకొందాము. దీనిని బట్టి ఎంత మంది విద్యార్థులు హాజరైనారో తెలుసుకోవడం సులభము. ఇట్లా తెలుసుకోవడానికి గణాంక వ్యుత్పన్నాలు వాడతాము. ఉత్తీర్ణత శాతము 60, ఉత్తీర్ణులైనవారి సంఖ్య 480 అనుకొందాము. అప్పుడు పరీక్షకు హాజరైన విద్యార్థుల సంఖ్య 800 అని తెలుస్తుంది  $\left(\frac{100}{60} \times 480\right)$ .

గణాంక దత్తాంశాన్ని సంక్షిప్తంగా వర్ణించడానికి, దత్తాంశంలో సంక్షిప్తతను తొలగించి సులభంగా అర్థమయ్యేటట్లు చెయ్యడానికి, సంక్షిప్తంగా వున్న దత్తాంశాన్ని విశ్లేషించి, తారతమ్యతను పోల్చుకోవడానికి, సరియైన నిర్ణయాలు తీసుకోవడానికి, నిష్పత్తులు, శాతాలు, రేట్లు, గుణకాలు, సగటులు, విస్తరణ మొదలగు గణాంక వ్యుత్పన్నాలు చాలా ఉపయోగపడతాయి. వ్యాపార సంస్థలలో నిర్వాహకులు సరియైన నిర్ణయాలు తీసుకోవడానికి సంస్థకు సంబంధించిన ఆర్థిక దత్తాంశాన్ని (Financial data), ఉత్పత్తి, అమ్మకాలు, సరుకుల నిల్వ మొదలైన భౌతిక దత్తాంశాన్ని (Physical data). విశ్లేషించడం అవసరము. ఇలా విశ్లేషించడానికి నిష్పత్తులు (ఉదా : Accounting ratios) శాతాలు (Seasonal relatives, Price relatives), గుణకాలు చాలా ఉపయోగపడతాయి. అయితే ఇవి ఎంత ఉపయోగకారులో సరిగ్గా ఉపయోగించుకోలేని వారి చేతిలో అంత ప్రమాదకరమైనవి కూడా. అందులో ముఖ్యంగా శాతాలు చాలా ప్రమాదకరమైనవి.

**4.5 సారాంశం**

గణాంక విచారణలోని నాల్గవ దశలో పట్టికరణ, శ్రేణీకరణ, సమర్పణలు ఇమిడి వున్నాయి. సేకరించిన సమాచారాన్ని

మూడో దశలో ఎడిటింగ్, సమానీకరణ, దోషరహితంగా చేసినా సమాచారం మాత్రం జరిలంగాను, బృహత్ పరిమాణంలో వుంటుంది. ఈ విధమైన దత్తాంశాన్ని సులభంగా గ్రహించేందుకు, విశ్లేషించేందుకు అనుగుణంగా రూపొందించేందుకు వర్గీకరించటం, ఆ తరువాత శ్రేణీకరించడం జరుగుతుంది. వర్గీకరించి, శ్రేణీకరించిన సమాచారాన్ని శాశ్వత రూపంలో అమర్చి పరిశీలన కోసం ప్రజలకు వెల్లడి చేయడాన్నే సమర్పణ అంటారు. సమర్పణ సాధారణంగా మూడు విధాలుగా వుంటుంది. అవి పాఠ్య రూపం, పట్టిల రూపం, చిత్ర పటాలు మరియు రేఖా చిత్రాల రూపం. సమర్పణ పద్ధతుల్లో ఒక పద్ధతి పట్టిల రూపంలో సమర్పించడం. వర్గీకరించి శ్రేణీకరించిన సమాచారాన్ని నిలుపు, అడ్డగళ్ళలో అమర్చి శాశ్వత రూపాన్ని ఇవ్వడాన్నే పట్టికరణ అంటారు. పట్టికలు సాధారణ, ప్రత్యేక భోగట్టానిచ్చే పట్టిలుగా వర్గీకరించవచ్చు. మరో విధంగా సామాన్య పట్టిలు, సంకీర్ణ పట్టిలని రెండు రకాలుగా వర్గీకరించవచ్చు. ఈ విధంగా పట్టికల రూపంలో సమర్పించిన దత్తాంశం సాధారణ మానవునికి సులభంగా బోధపడదు. పట్టిలోని అంకెలు చూపరులకు కుతూహలము కల్పించకపోగా, సులువుగా సందేశాన్ని కూడా అందించలేదు. అందుచేతనే దత్తాంశాన్ని మరో రెండు పద్ధతుల ద్వారా కూడా సమర్పించవచ్చు, అవి : చిత్ర పటాలు, రేఖా పటాలు. ఈ చిత్ర పటాలు, రేఖా పటాలను గూర్చి రాబోయే పాఠాల్లో చదువుకుండాము.

#### 4.6 ముఖ్య పదాలు

1. గణాంక వ్యుత్పన్నాలు : రెండు లేదా అంతకన్నా ఎక్కువ అంశాలను లేదా విలువలను మిశ్రమం చెయ్యడం ద్వారా వచ్చే పరిమాణం. ఉదా : శాతం, నిష్పత్తి.
2. పట్టిక : దత్తాంశాన్ని నిలుపు, అడ్డగళ్ళలో అమర్చి శాశ్వత రూపాన్ని ఇవ్వడం.
3. రిఫరెన్స్ పట్టి : దీన్నే సాధారణ పట్టి అని అంటారు. విచారణకు సంబంధించి అన్ని విషయాలను చూపే పట్టి.
4. బహువిధ పట్టి : నాలుగు లేదా అంతకంటే ఎక్కువ గణాలపై ఆధారపడి రూపొందించిన పట్టిలు.

#### 4.7 నమూనా ప్రశ్నలు

##### I. వ్యాసరూప ప్రశ్నలు

1. పట్టికరణను నిర్వచించి, దాని ప్రాముఖ్యమును తెల్పుము.
2. పట్టికరణ ముఖ్యోద్దేశాలు తెల్పి, దశలను వివరించండి.
3. పట్టిలో వుండవలసిన ముఖ్య భాగాలెవ్వి ? ఈ భాగాలతో ఒక నమూనా పట్టి వ్రాసి చూపండి.
4. పట్టికరణ సూత్రాలను తెల్పుము.
5. వర్గీకరణకు, పట్టికరణకు తేడాలను తెల్పి, దత్తాంశాన్ని పట్టికరించునపుడు తీసుకోవలసిన జాగ్రత్తలెవ్వి ?
6. సాధారణ పట్టిలు, ప్రత్యేక భోగట్టానిచ్చే పట్టిల గురించి సోదాహరణముగా వివరింపుము.
7. మంచి పట్టికి ఉండవలసిన లక్షణాలను తెల్పుము.
8. వర్గీకరణ పట్టి, ద్విమార్గ, త్రిమార్గ, బహుళ పట్టిల తారతమ్యాలను సోదాహరణంగా విశదీకరింపుము.
9. పట్టికరణ ప్రయోజనాలను తెల్పుము.
10. తరగతి అంతరము 10గా తీసుకొని క్రింది దత్తాంశాన్ని పట్టికరణ చేయండి.

30, 45, 55, 65, 60, 90, 115, 85, 95, 110, 95, 65, 75, 85, 125, 110, 87, 65, 100, 15, 65, 60, 75, 95, 130, 95, 125, 115, 65, 70, 95, 85, 65, 60, 80, 85, 75, 95, 55, 45, 35, 45, 40, 85, 135, 140, 95, 65, 45, 35, 115, 90, 80, 125, 130, 85, 90, 100, 95, 85, 85, 120, 115, 40, 35, 125, 35, 105, 75, 45.

11. క్రింద యిచ్చిన మార్కులను పానఃపున్య పట్టికలో అమర్చండి. దిగువ తరగతి అంతరాన్ని (lowest) 10 - 20గా తీసుకోండి.

31, 81, 58, 81, 85, 75, 61, 70, 84, 81, 87, 67, 65, 62, 62, 61, 59, 58, 57, 75, 72, 84, 91, 87, 76, 43, 83, 40, 73, 88, 73, 43, 76, 95, 73, 65, 77, 72, 72, 29, 48, 85, 42, 80, 75, 85, 57, 64, 70, 95, 57, 74, 50, 78, 49, 55, 64, 92, 73, 73, 96, 69, 57, 27, 78, 80, 36, 70, 85, 47, 69, 63, 53, 91, 33, 69, 30.

12. క్రింద యిచ్చిన పరిశీలనతో ఆరోహణ క్రమంలో 100 - 110 తరగతి అంతరంలో మొదలిడి (Exclusive) మినహాయింపు పద్ధతిలో పానఃపున్య పట్టి తయారు చేయండి. (నెల రాబడి రూపాయిలలో).

125, 108, 117, 126, 110, 132, 136, 130, 149, 155, 120, 130, 136, 138, 125, 111, 119, 125, 140, 148, 147, 137, 145, 150, 135, 137, 132, 165, 154

13. గణ చిహ్నాలలో కింద ఇచ్చిన క్రికెట్ ఆటగాళ్ళ స్కోరులను తరగతి అంతరము 10గా తీసుకొని పానఃపున్య విభాజన పట్టి వ్రాయండి.

75, 130, 135, 90, 118, 92, 80, 42, 96, 147, 98, 94, 115, 109, 154, 109, 111, 117, 120, 91, 124, 101, 97, 98, 126, 95, 109, 109, 94, 110, 82, 96, 1, 9, 92, 99, 1, 4, 104, 169, 107, 93, 109, 83, 117, 98, 77, 133, 87, 145, 91.

14. కింద ఇచ్చిన పరిశీలనలతో ఆరోహణ క్రమంలో 100 - 110 తరగతి అంతరము మొదలిడి (Exclusive పద్ధతిలో) పానఃపున్య విభాజన పట్టి తయారుచేయండి. (నెల రాబడి రూపాయిలలో).

125, 108, 112, 126, 110, 132, 136, 130, 149, 155, 20, 130, 136, 138, 125, 111, 119, 125, 140, 148, 147, 137, 145, 150, 147, 135, 137, 132, 165, 154.

15. క్రింది విద్యార్థులకు గణాంకశాస్త్ర పరీక్షలో 100కు వచ్చిన మార్కులను 10 తరగతి అంతరంగా నిర్ణయించి వర్గీకృతము చేయండి.

57, 44, 8, 75, 0, 18, 45, 14, 0, 4, 64, 66, 72, 51, 69, 34, 56, 22, 34, 8, 58, 83, 20, 70, 57, 28, 22, 38, 5, 45, 51, 88, 93, 64, 36, 34, 37, 58, 32, 64, 30, 80, 73, 24, 46, 48, 0, 16, 85, 96, 56, 20, 64, 50, 63, 47, 4, 32, 10, 78, 48, 55, 52, 68, 8, 53, 50, 0, 35, 28, 54, 38, 33, 20, 54, 52, 48, 84, 50, 94, 90, 38, 84, 30, 58, 20, 0, 99, 42, 79, 33, 38, 60, 61, 36, 10, 34, 2, 80

16. అవరోహణ క్రమంలో (అసమగ్రరూపం లేదా Inclusive పద్ధతిలో) కింది దత్తాంశాన్ని 3 తరగతి అంతరంగా నిర్ణయించుకొని పానఃపున్య పట్టి తయారుచేయండి.

15, 17, 23, 19, 15, 14, 13, 16, 17, 15, 12, 18, 21, 15, 20, 12, 19, 17, 16, 14, 15, 13, 22, 20, 22, 27, 21, 19, 19, 16, 18, 11, 18, 10.

17. ఒక తరగతిలో విద్యార్థుల బరువులు ఈ విధంగా వున్నాయి. ఈ దత్తాంశాన్ని 59 - 69 తక్కువ (Lowest) తరగతి అంతరంగా తీసుకొని పానఃపున్య విభాజనము చేయండి (ప్రాన్లలో).
- 76, 73, 93, 107, 102, 76, 78, 69, 96, 72, 80, 88, 96, 109, 03, 84, 84, 60, 91, 75, 91, 92, 102, 91, 101, 90, 77, 105, 90, 86, 113, 101, 114, 72, 77, 118, 95, 63, 99, 82, 100, 06, 87, 89, 92, 107, 111, 76, 83, 86, 106, 107, 62, 94, 73, 108, 115, 85, 98, 93, 109, 97, 75, 98, 67, 83, 104, 88, 92, 88.
18. క్రింది వివరాలతో ఒక పట్టి తయారుచేయండి.
- (ఎ) స్త్రీ / పురుషుడు (బి) మూడుస్థాయిలు - సూపర్వైజర్లు అసిస్టెంటులు, గుమస్తాలు (సి) సంవత్సరాలు 19, 8, 1943; (డి) వయస్సు - 18 సంవత్సరాలు అంతకు తక్కువగా, 18 సంవత్సరాలపైన 55 సంవత్సరాలకులోపు, 55 సంవత్సరాలకు పైగా.
19. క్రింది దత్తాంశంతో ఖాళీ పట్టి తయారుచేయండి, ఒక విశ్వవిద్యాలయంలోని విద్యార్థులను గురించిన అంశాలు (ఎ) స్త్రీ / పురుషుడు; (బి) ఎం.ఎ, ఎమ్మెస్సీ, ఎంకాం., లా (సి) సంవత్సరాలు 1951, 1956, 1961, 1969; (డి) వయస్సులు 15 సంవత్సరాలలోపు, 15 - 19, 19 - 21, 21 పైన
20. బొంబాయి, కలకత్తా, మద్రాసు, విశాఖపట్టణం రేవులలో ఎగుమతులు, దిగుమతులు 1960, 1961, 1962, 1963, 1964 సంవత్సరాలలో చూపే ఖాళీ పట్టి తయారుచేయండి. పట్టిలో ఎగుమతి, దిగుమతి విలువలు రూపాయలలో, ప్రతి సంవత్సరము వర్తకపు నిల్వను చూపండి.
21. గణాంక వ్యుత్పన్నాన్ని నిర్వచించి, గణాంక విశ్లేషణలో దాని ఉపయోగము పేర్కొనండి.

## II. సంక్షిప్త ప్రశ్నలు :

22. వర్గీకరణ ఉద్దేశాలు
23. తరగతి అంతరాల ద్వారా వర్గీకరణ
24. విచ్ఛిన్న శ్రేణులు
25. అవిచ్ఛిన్న శ్రేణులు
26. గణాంక వ్యుత్పన్నాలు
27. సంక్షిప్త పట్టిలు
28. పట్టిలవల్ల ప్రయోజనాలు

## 4.8 చదువదగిన గ్రంథాలు

- |                               |   |  |
|-------------------------------|---|--|
| 1. B.N. Elhance               | : | Fundamentals of Statistics             |
| 2. S.P. Gupta                 | : | Statistical Methods                    |
| 3. C.B. Gupta                 | : | An Introduction to Statistical Methods |
| 4. S.C. Gupta                 | : | Fundamentals of Statistics             |
| 5. M.C. Shukla & S.S. Gulshan | : | Statistics - Theory and Practice       |



**పాఠ్యంశ నిర్మాణక్రమం**

- 5.0 లక్ష్యాలు
- 5.1 విషయపరిచయం
- 5.2 చిత్రపటాలు
  - 5.2.1 చిత్రపటాల ప్రాముఖ్యత
  - 5.2.2 పరిమితులు
  - 5.2.3 చిత్రపటాల నిర్మాణం - సూత్రాలు
- 5.3 చిత్రపటాల్లోని రకాలు
  - 5.3.1 ఏక పరిమాణ చిత్రాలు
  - 5.3.2 ద్విపరిమాణ చిత్రాలు
  - 5.3.3 త్రిపరిమాణ చిత్రాలు
  - 5.3.4 పిక్చోగ్రాములు
  - 5.3.5 కార్టోగ్రాములు
- 5.4 సారాంశం
- 5.5 ముఖ్య పదాలు
- 5.6 నమూనా ప్రశ్నలు
- 5.7 చదువదగిన గ్రంథాలు

**5.0 లక్ష్యాలు**

ఈ పాఠ్యభాగం చదివిన తరువాత మీరు క్రింది విషయాలను తెలుసుకోగలరు మరియు వివిధ చిత్రాలను రూపొందించగలరు.

- \* సమర్పణలో చిత్రపటాల ఆవశ్యకత
- \* చిత్రపటాల వల్ల ప్రయోజనాలు
- \* వివిధ రకాలైన చిత్రపటాలను నిర్మించి విధానాన్ని తెలుసుకోవటం
- \* ఏకపరిమాణ, ద్విపరిమాణ, త్రిపరిమాణాలను, వలయ చిత్రాలు, పిక్చోగ్రాములు, కార్టో గ్రాములను రూపొందించే విధానం తెలుసుకోవడం.

**5.1 విషయపరిచయం**

గణాంక విచారణ ఐదు దశల్లో జరుగుతుంది. యోజన, దత్తాంశ సేకరణ, ఎడిటింగ్ - యదార్థత - సమానీకరణ,

సమర్పణ, విశ్లేషణ మరియు విపులీకరణ. గణాంక విచారణలో నాల్గవ దశ సమర్పణ. దత్తాంశ సమర్పణ వివిధ రూపాల్లో జరుగుతుంది. పట్టికల ద్వారా సమర్పణ చేసే విధానాన్ని నాల్గవ పాఠంలో తెలుసుకున్నాం. ఈ పాఠంలో మనం చిత్రపటాల ద్వారా సమర్పణను గూర్చి తెలుసుకుందాం. పట్టికలలో సమర్పణ చేసినట్లయితే దత్తాంశం సాధారణ మానవునికి (Layman) బోధపడదు. పట్టికల్లో వున్న సమాచారం చూపరులను తబ్బుబ్బి కలుగచేయటమేకాక చూడాలనే కుతూహలాన్ని కలిగించదు. గణాంక ఫలితాలను ఆకర్షణీయంగా నమ్మకంగా సమర్పణ చేయటానికి రేఖా చిత్ర పటాలు చాలా ఉపయోగపడతాయి. ఇవి కంటికి ఇంపుగా వుంటాయి. చిత్ర పటాలను గూర్చి మనం ఈ పాఠంలో తెలుసుకుంటాం. తరువాత పాఠంలో రేఖాపటాలను గురించి వివరించడం జరిగింది.

## 5.2 చిత్రపటాలు

ఏదేని సమస్యను అవగాహన చేసుకునేందుకు దత్తాంశాన్ని సేకరించినపుడు, దానిని సంక్షిప్తపరిచి, క్రమపద్ధతిలో సమర్పణ చేయడానికి వర్గీకరణ, పట్టికీకరణ వంటి ప్రక్రియలు ఎంతగానో ఉపయోగపడతాయి. అయితే ఈ రెండు ప్రక్రియలు సాధారణ వ్యక్తి సులువుగా అవగాహన చేసుకునేందుకు అంతగా ఉపయోగపడవు. అంకెలనేవి విసుగుపట్టించేవిగా వుండి సాధారణ మానవునికి గాబరా పరుస్తాయి. గణాంక సూత్రాలతో పరిచయంలేని వ్యక్తులు ఈ గణాంకాలను అవగాహన చేసుకొని ఒక అభిప్రాయానికి రాలేరు. అలాంటి పరిస్థితులలో చిత్ర పటాలు ఎంతగానో ఉపయోగపడతాయి.

పట్టికల రూపంలో వుండే అంకెలను పరిశీలించడం అనేది కంటికి, మనస్సుకు అలసట మరియు చికాకును కల్పిస్తాయి. వాటిని గుర్తించుకోవడం, సరిపోల్చడం అనేది చాలా కష్టమైన విషయం. ఎన్ని మాటలు చెప్పినా, ఎంత వివరణ ఇచ్చినా, ఎంత సమయాన్ని వెచ్చించినా అర్థంకాని గణాంక విషయాలను చిత్రపటాల ద్వారా సులువుగా అవగాహన కల్పించవచ్చు. చిత్రపటాల ద్వారా సమర్పిస్తే చూసిన వారికి నయనానందకరంగా వుండడమేగాక, మనస్సుపై చెరగని ముద్రవేసి చాలా కాలం వరకు గుర్తుంటాయి. ఉదాహరణకు ప్రపంచంలోని వివిధ దేశాల జనాభా ఎంత వున్నదో చెబితే సాధారణ మానవునికి అర్థం కాకపోవచ్చు. కాని బార్ చిత్రాల రూపంలో చెబితే “బార్” పటాల ఎత్తును బట్టి ఏ దేశంలో జనాభా ఎక్కువ వున్నదో సులభంగా తెలుసుకోవచ్చు.

అంకెల ప్రభావాన్ని గూర్చి ఎ.యల్. బౌలీ వివరిస్తూ అంకెల జాబితా పాడుగుపెరిగే కొద్దీ అది స్పష్టత కోల్పోతుంది. పది అంకెలు గల శ్రేణిని బహుశా అతి సులభంగా అర్థం చేసుకోవచ్చు. కాని వరుసగా వంద సంవత్సరాలకు సంబంధించిన అంకెల జాబితాను చూస్తే మనకు ఏమీ బోధపడదు. అడవిలోని వృక్షాలన్నింటినీ చూసినంత మాత్రాన వాటిలో వున్న కలప లక్షణాలను గురించి మనకు ఏమీ తెలుస్తుంది” అని అంటాడు. దీనిని బట్టి తెలిసేదేమిటంటే అంకెల సంఖ్య పెరిగేకొద్దీ దానిని అవగాహన చేసుకొను శక్తి తగ్గుతుంది. అందుచేతనే ఆధునిక యుగంలో పారిశ్రామిక, వాణిజ్య, సాంఘికంగాలలో చిత్రపటాలను, రేఖా చిత్రాలను విరివిగా ఉపయోగిస్తున్నారు.

**5.2.1 చిత్రపటాల ప్రాముఖ్యత :** సేకరించిన దత్తాంశాన్ని సమర్పించడానికి తెల్లకాగితం పై పటాలను లేదా చిత్రాల రూపంలో నిర్మించడాన్ని చిత్రపటాల ద్వారా సమర్పణ అంటారు. గణాంక ఫలితాలను ఆకర్షణీయంగా, నమ్మదగినవిగా సమర్పణ చేయడానికి చిత్రపటాలు ఎంతగానో ఉపయోగపడతాయి. చిత్ర పటాలను నిర్ణీతమైన సూత్రాల ప్రకారం నిర్మించినట్లయితే అవి దత్తాంశ ఫలితాలను స్పష్టంగా హృదయానికి హత్తుకొనేలా చూపిస్తాయి. దత్తాంశ మూల విషయాన్ని చదవరులు సులభంగా అర్థం చేసుకోవడానికి వీలుంటుంది. చిత్రపటాల ప్రాముఖ్యతను క్రింది విధంగా చెప్పవచ్చు.

1. **ఆకర్షణీయంగా వుంటాయి :** అంకెలలో వున్న విషయాలను చదువరులు కొన్ని సందర్భాలలో చూడకుండా వదిలి వేస్తారు. కాని చిత్రపటాలు ఆకర్షణీయంగా, నయనానందకరంగా వుండడం వలన వాటిని అదే చదువరులు తప్పక చూస్తారు.

2. జ్ఞాపకశక్తిని పెంపొందిస్తాయి : అంకెలతో కూడుకొని వున్న విషయాలను గుర్తుంచుకోవడం ఎంతో కష్టం. కాని చిత్రపటాల ద్వారా దత్తాంశాన్ని సమర్పిస్తే అవి చూడగానే మనస్సుపై చెరగని ముద్రవేసి, చాలా కాలం గుర్తుంటాయి.
3. సరిపోల్చడం తేలిక : దత్తాంశ తారతమ్య వివేచనకు చిత్రపటాలు ఎంతో ఉపయోగపడతాయి. వివిధ సంవత్సరాలకు సంబంధించిన జనాభా లేదా వివిధ ప్రదేశాలలో పండే పంటల వివరాలు, వర్షపాతం వంటి విషయాలను సరిపోల్చడం ద్వారా దత్తాంశ ప్రాధాన్యతను సులభంగా అర్థం చేసుకోవచ్చు. ఈ ఉద్దేశ్యంతోనే చిత్రపటాల ద్వారా వ్యాపార, పారిశ్రామిక, పరిపాలనా రంగాలలో దత్తాంశాన్ని సమర్పిస్తున్నారు.
4. సులభంగా అర్థం చేసుకోవచ్చు : పెద్ద అంకెలతో కూడిన, క్లిష్టమైన దత్తాంశాన్ని అర్థం చేసుకోవడం కష్టమైన పని. అటువంటి దత్తాంశాన్ని సులభంగా అర్థం చేసుకోవాలంటే వీటిని చిత్రపటాల ద్వారా సమర్పణ చేయడం మంచిది. అవి కంటికి ఇంపుగా వుండడమేగాక దత్తాంశ మూల విషయం సులభంగా అవగాహన అవుతుంది. అందుకే “పదివేల పదాల కంటే ఒక చిత్రం ఎంతో విలువైనది” అంటారు.
5. విపులీకరణకు పట్టెకాలాన్ని, శ్రమను తగ్గిస్తాయి : వర్గీకరణ, పట్టికీకరణ వంటి గణాంక పద్ధతుల ద్వారా సమర్పించే సంఖ్యా వివరాలను అధ్యయనం చేయడానికి ఎక్కువ సమయం పడుతుంది. మెదడుకు ఎక్కువ శ్రమ పెట్టవలసి వుంటుంది. గాని చిత్రపటాల ద్వారా సమర్పించే దత్తాంశాన్ని అర్థం చేసుకోవడానికి ఎక్కువ సమయం, శ్రమ అవసరం లేదు.
6. అందరికీ అందుబాటు : గణాంకశాస్త్ర పరిజ్ఞానం వున్న వారు మాత్రమే పట్టికలోని అంకెలను అవగాహన చేసుకోగలరు. కాని నిర్దిష్ట సూత్రాల ప్రకారం సరిగా రూపొందించిన చిత్రపటాలను నిరక్షరాస్యులు కూడా సులభంగా అవగాహన చేసుకోగలరు. చిత్రపటాల ద్వారా దత్తాంశ పోకడలను అందరూ గ్రహించగల సౌలభ్యత వుండటమే వాటి ప్రాధాన్యతను చెప్పవచ్చు.
7. ఎక్కువ విషయాలను తెల్పుతాయి : చిత్రపటాల ద్వారా ఎక్కువ సమాచారాన్ని కూడా సమర్పించవచ్చు. ఉదాహరణకు వివిధ దేశాల జనాభా, స్త్రీ, పురుష నిష్పత్తి, వయస్సులను బట్టి వారి వర్గీకరణ వంటి వివరాలను తెలియజేయవచ్చు. తద్వారా మనము దత్తాంశ ప్రవృత్తిని సులభంగా అర్థం చేసుకోవచ్చు.

**5.2.2 పరిమితులు :** క్లిష్టమైన దత్తాంశాన్ని సమర్పించడానికి చిత్రపటాలు ఎంతగానో ఉపయోగపడతాయి. అయితే ఇన్ని సుగుణాలు ఉన్నప్పటికీ కొన్ని పరిమితులు కూడా వీటికి లేకపోలేదు.

1. చిత్రపటాలు సమస్యకు సంబంధించిన దత్తాంశాన్ని సులభంగా సమర్పించినప్పటికీ, విషయ విశదీకరణలో వర్గీకరణ, పట్టికీకరణ వంటి గణాంక ప్రక్రియలకు ప్రత్యామ్నాయం కాజాలవు.
2. చిత్రపటాలు దత్తాంశం యొక్క ఉజ్జాయింపు విలువనే తెల్పుతాయి. నిశిత విశ్లేషణకు పనికిరావు.
3. అతి పెద్దపరిమాణంలోను, అతి స్వల్ప తేడాలతో కూడిన గణాంక వివరాలను సమర్పించడానికి చిత్రపటాలు అనుకూలంగా వుండవు. అంటే అతి పెద్ద, అతి చిన్న తేడాలను చిత్రపటాలు చూపలేవు.
4. చదువరులకు పరిమిత సమాచారాన్ని మాత్రమే తెలియజేస్తాయి.
5. దత్తాంశాన్ని క్లుప్తీకరించి సమర్పించడానికి మాత్రమే చిత్రపటాలు ఉపయోగపడతాయి. దత్తాంశాన్ని సరిపోల్చనవసరంలేని సందర్భాలలో వీటి ఉపయోగం అంతగా వుండదు.

6. కొన్ని చిత్రపటాలు నిపుణులకు మాత్రమే ఉపయోగపడతాయి. సామాన్యులు వాటిని అర్థం చేసుకోలేరు. ఉదా : త్రిపరిమాణ చిత్రాలు.

5.2.3 చిత్రపటాల నిర్మాణం - సూత్రాలు : చిత్రపటాల నిర్మాణంలో ఈ క్రింది సూత్రాలను పాటించవలె.

1. శీర్షిక : దత్తాంశసారాన్ని తెలియజేసే విధంగా ప్రతి చిత్రానికి సరియైన శీర్షిక నివ్వవలె. శీర్షిక స్పష్టంగా వుండాలి. శీర్షికను చిత్రపటం ఎగువనగాని, దిగువనగాని వ్రాయాలి.
2. పాదపు, వెడల్పుల అనుపాతం : చిత్రపటం ఆకర్షణీయంగా వుండాలంటే పాదపు, వెడల్పులు సరియైన అనుపాతంలో వుండాలి. చిత్రం యొక్క పాదపు వెడల్పులకు నిర్దిష్టమైన సూత్రాలంటూ లేనప్పటికీని 'లాజ్' అనే గణాంక శాస్త్రవేత్త అభిప్రాయంలో వెడల్పు 1కి పాదపువైపు 1.414 నిష్పత్తి వుండేటట్లు చూడాలి.
3. స్కేలు నిర్ణయం : చిత్రపట నిర్మాణానికి స్కేలు నిర్ణయం జాగ్రత్తగా చేయవలె. విలువలను చూపే స్కేలు 2, 5, 10 గుణిజాలలో వాడితే మంచిది. 1, 3, 7, 9 వంటి సంఖ్యలను ఉపయోగించరాదు. 1 యూనిట్ ఎంత పరిమాణానికి సమానమనేది స్పష్టంగా తెలియజేయాలి. ఉదా : 1 సెం.మీ. 10 మంది విద్యార్థులకు సమానమని గాని, 1 సెం.మీ. 10 మె. టన్నులకు సమానమని స్పష్టీకరించవలె.
4. పాదసూచిక : చిత్ర పటంలోని ముఖ్య విషయాలను తెలియజేయడానికి చిత్రం క్రింది భాగంలో పాదసూచికను ఇవ్వాలి. దీనివలన ఎటువంటి అస్పష్టత లేకుండా చిత్రపటంలోని దత్తాంశాన్ని సులభంగా అర్థం చేసుకోవడానికి వీలుంటుంది.
5. సూచిక : చిత్రపటంలో వాడిన రంగులు, గీతలు వంటి వాటిని గూర్చి చిత్రం క్రింది భాగంలోని కొద్ది ప్రదేశంలో సూచిని తెలియజేయవలె.
6. శుభ్రత : చిత్రపటాలను గీసేటప్పుడు సాధ్యమైనంత శుభ్రతను పాటించవలె. అప్పుడు మాత్రమే అవి చదువరుల దృష్టిని ఆకర్షించగలవు. అంతేగాక చిత్రపటంలోని వివిధ విషయాలను పూర్తిగా అర్థం చేసుకోగల వీలుంటుంది.
7. సామాన్యత : చిత్రాలు సాధ్యమైనంతవరకు అందరికీ బోధపడే విధంగా సులభంగా వుండాలి. ఒకే చిత్రంలో ఎక్కువ సమాచారాన్ని చొప్పించడం కంటే అనేక సాధారణ చిత్రాలను వాడటం మంచిది.
8. పాదుపు : చిత్రపటాల నిర్మాణానికి ఉపయోగించే కాలం శ్రమ, ధనవ్యయం తక్కువగా వుండాలి. చిత్రపటం ఉపయోగానికి, ఆ చిత్రనిర్మాణానికి వెచ్చించే వ్యయం తగు అనుపాతంలో వుండాలి.
9. కళాత్మక దృక్పథం : చిత్రపటాలు శాస్త్రీయంగా, కళాత్మకంగా, ఆకర్షణభరితంగా వుండాలి. శాస్త్రీయంగా వుండి కళాత్మకంగా లేకపోతే చూపరులను ఆకర్షించలేవు. అట్లాగే ఆకర్షణీయంగా వుండి శాస్త్రీయంగా లేకపోతే అవి చదువరుల విశ్వాసాన్ని కోల్పోతాయి.

### 5.3 చిత్రపటాల్లోని రకాలు

చిత్రపటాలను దిగువ పేర్కొన్న విధంగా వర్గీకరించవచ్చును.

1. ఏకపరిమాణ చిత్రాలు (One-Dimensional Diagrams)
2. ద్విపరిమాణ చిత్రాలు (Two-Dimensional Diagrams)

3. త్రిపరిమాణ చిత్రాలు (Three-Dimensional Diagrams)
4. పిక్టోగ్రామ్స్ (Pictograms)
5. కార్టోగ్రామ్స్ (Cartograms)

**5.3.1 ఏకపరిమాణ చిత్రాలు (బారు పటాలు) :** ఏకపరిమాణ చిత్రాలను బారు పటాలని కూడా అంటారు. బార్ లేదా కమ్మీ అంటే ఒక దట్టమైన గీత. బార్ పాడవుల ద్వారా దత్తాంశాలను పోల్చడం జరుగుతుంది. బార్ పటాలలో బార్ పాడవు అంశాల పరిమాణాన్ని చూపుతుంది. కాని బార్ వెడల్పులను మాత్రం చిత్రాలు ఆకర్షణీయంగా వుండడానికి మాత్రమే చూపుతారు. బార్ల వెడల్పులకు కొలత పరిమాణంతో ఎటువంటి సంబంధం వుండదు. ఈ రకమైన చిత్ర పటాలకు ఎటువంటి కష్టం లేకుండా గీయవచ్చు. సామాన్యులకు సైతం సులభంగా అర్థమవుతాయి. బార్లను గీయడంలో ఈ క్రింది జాగ్రత్తలు తీసుకోవాలి.

1. బార్ పటాల పాడవు, వెడల్పులు సమానంగా వుండాలి.
2. ఒక బార్ కు, మరో బారుకు మధ్య ఖచ్చితమైన ఖాళీ వదల వలెను.
3. బార్లను నిలువుగా గాని, అడ్డంగా గాని నిర్మించవచ్చు. అయితే అంశాలను సరిపోల్చడానికి, నిలువుగా బార్లను నిర్మించడం అనుకూలంగా వుంటుంది.
4. దత్తాంశంలోని ప్రతి అంశానికి ఒక బారు నిర్మించి, బారు పై భాగమున దాని విలువను చూపవలెను. దీని వలన వివిధ అంశాలను సరిపోల్చడం సులభం అవుతుంది.
5. బార్లను ఆరోహణ క్రమంలోగాని, అవరోహణ క్రమంలోగాని నిర్మించవచ్చు. కాలశ్రేణులయినట్లయితే లెక్కలో ఎలా వుంటే అట్లాగే చూపవలెను.

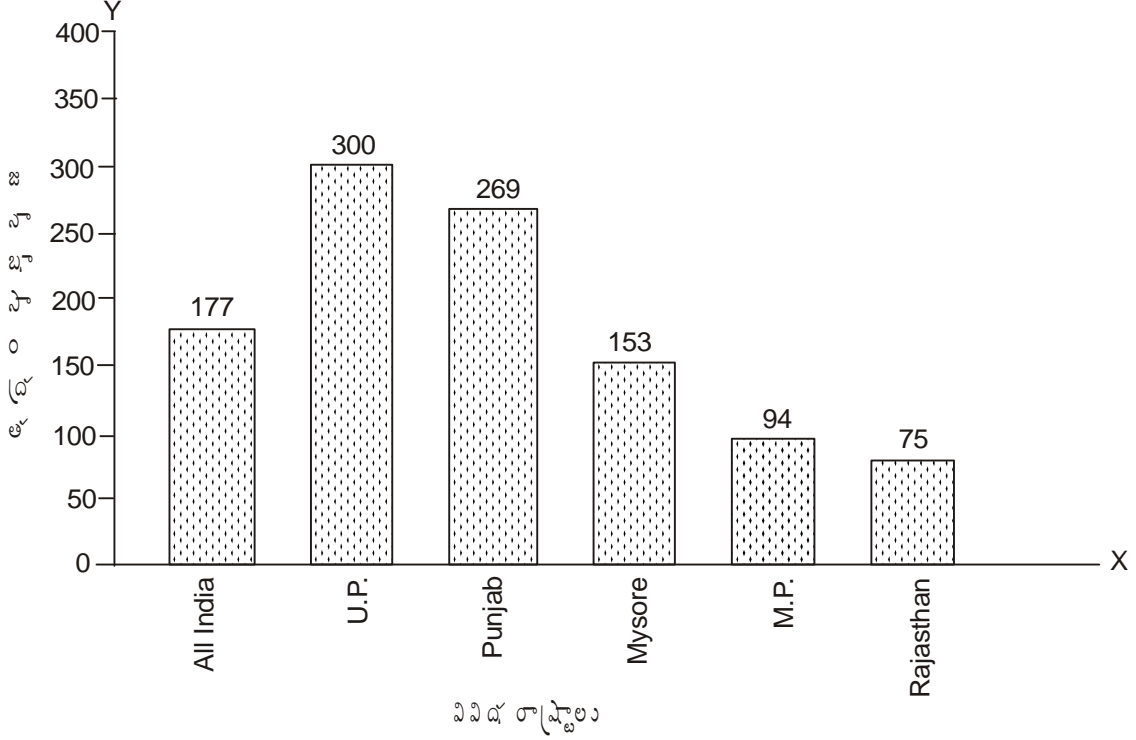
**బారు పటాల రకాలు :** బారు పటాలు వివిధ రకాలుగా వుంటాయి. దత్తాంశ స్వభావము, వున్న అంశాలు మొదలైన వాటి ప్రాతిపదికగా ఏ బారు పటము ఏ విధమైన దత్తాంశానికి అనుగుణమో ఆ విధమైన పటాలను నిర్మించవలసి వుంటుంది.

1. సాధారణ బారు పటాలు (Simple Bar Diagrams)
  2. బహుళ బారు పటాలు (Multiple Bar Diagrams)
  3. ఉపవిభాజిత బారు పటాలు (Sub-Divided Bar Diagrams)
  4. విచలన బారు పటాలు (Deviation Bar Diagrams)
  5. శాతపు బారు పటాలు (Percentage Bar Diagrams)
1. **సాధారణ బారు పటాలు (Simple Bar Diagrams) :** ఒకే చలరాశి విలువను అధ్యయనం చేసి తారతమ్యతను పోల్చి చూపడానికి సాధారణ బారు పటాలు ఉపయోగపడతాయి. ఇచ్చిన చలరాశి విలువపై ఆధారపడి బార్ల ఎత్తు మారుతుంది. కాలశ్రేణి దత్తాంశాన్ని ఇచ్చినట్లయితే దత్తాంశానికి సంబంధించిన విలువలను వాటి కాలక్రమరీతిలో బార్ల నిర్మాణం జరగవలె. బార్ల వెడల్పులు మాత్రం సమానంగా వుంటాయి. ఈ విధమైన బార్లను నిర్మించడం ఎంతో తేలిక. అర్థం చేసుకోవడం కూడా చాలా సులభం. అయితే దీని ఉపయోగం ఒకే అంశానికి సంబంధించిన దత్తాంశాన్ని సమర్పించడానికి మాత్రమే పరిమితమవుతుంది.

వివిధ రాష్ట్రాల జన సాంద్రత వివరాలు (1971) ఈ బారు పటంలో చూపబడినది.

పటం నెం. 1

వివిధ రాష్ట్రాలలో జనసాంద్రత

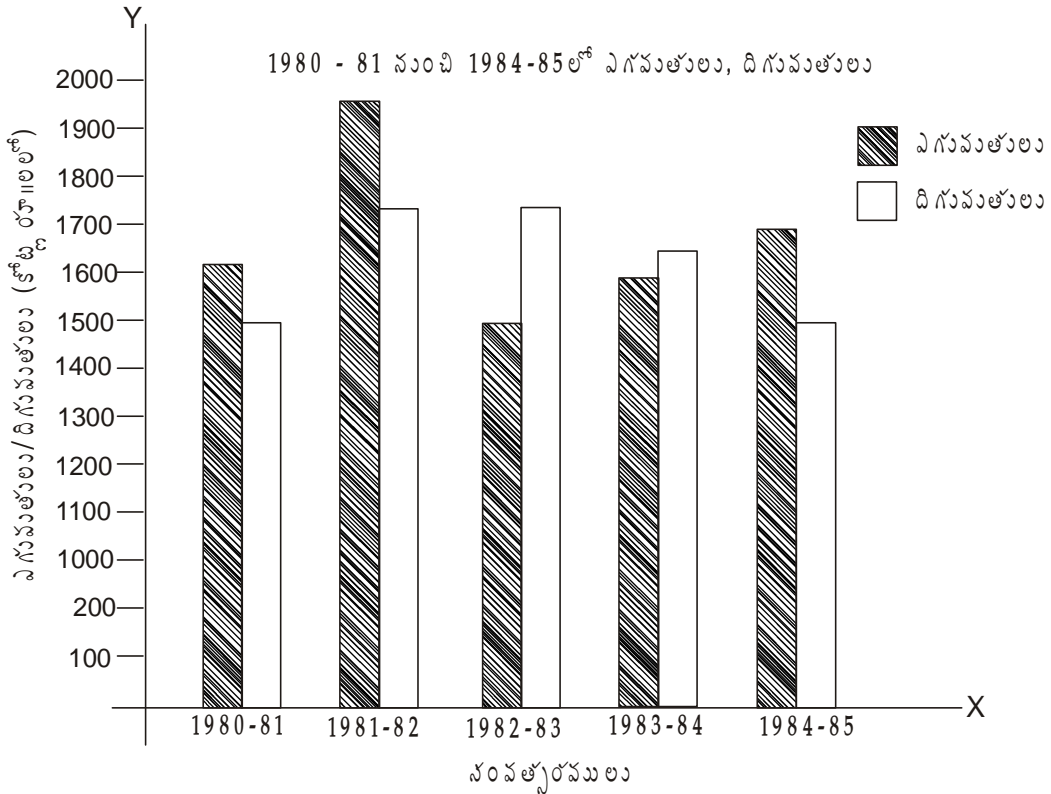


- బహుళ బారు పటాలు :** అంతర సంబంధం వున్న రెండు లేక అంతకంటే ఎక్కువ అంశాల దత్తాంశపు తేడాను చూపడానికి బహుళబారు పటాలను వాడతారు. బహుళ బారుపటాలను సాధారణ బారు పటాలవలె నిర్మిస్తారు. నిర్దిష్టమైన ఖాళీని వదిలి వివిధ సంవత్సరాలకు సంబంధించిన బార్లను నిర్మించవలె. ఇట్లా నిర్మించడం వలన ఒకటి కంటే ఎక్కువ అంశాలు కాలానుగుణంగా ఎలాంటి మార్పుకు లోనయినవనే స్పష్టంగా బోధపడును. ఉదా : అనేక సంవత్సరాల ఎగుమతి, దిగుమతి విలువలు, జనన, మరణాలు, స్త్రీలు, పురుషుల వివరాలకు సంబంధించిన దత్తాంశాన్ని చూపడానికి బహుళ బారుపటాలు అనుకూలంగా వుంటాయి.

ఉదాహరణ : కింది సమాచారాన్ని బహుళ బార్ పటంలో చూపండి.

సం॥	ఎగుమతులు (కోట్ల రూపాయల్లో)	దిగుమతులు (కోట్లరూపాయల్లో)
1980 - 81	1610	1500
1981 - 82	1955	1750
1983 - 84	1600	1650
1984 - 85	1700	1600

పటము నం. 2



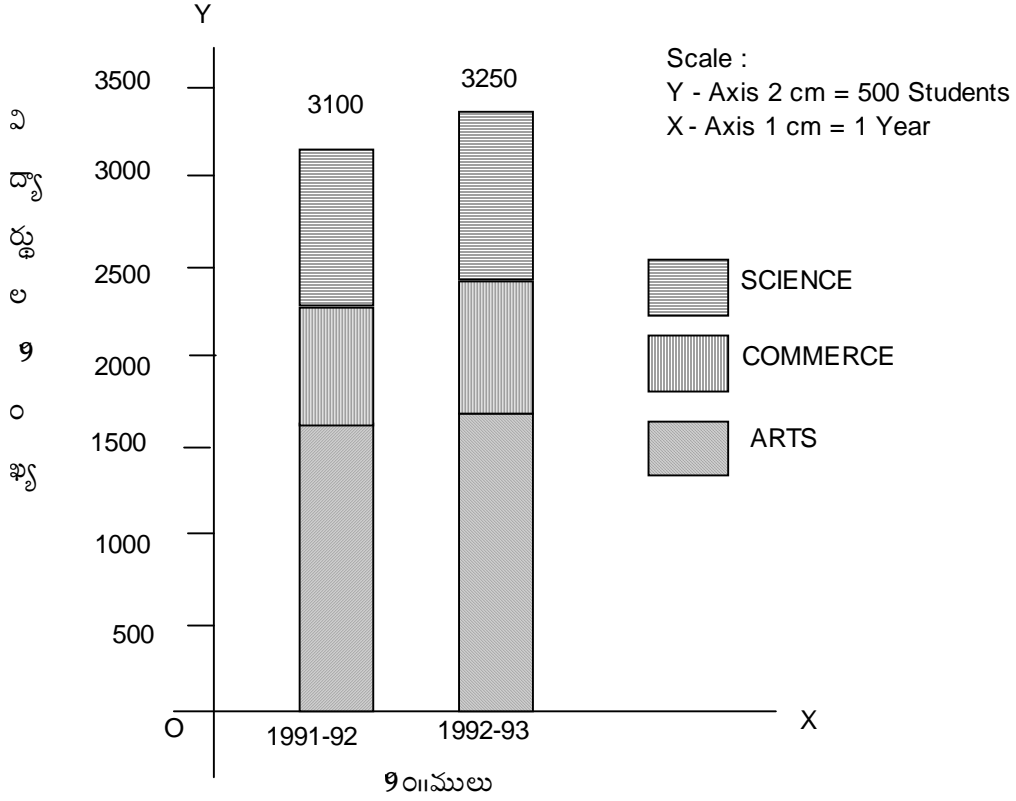
3. ఉప విభజిత భారు పటాలు : ఒకే దత్తాంశమందలి వివిధ భాగాలను చూపడానికి, వివిధ భాగాల మొత్తం చూపడానికి ఉపవిభజితభారు పటాలు ఉపయోగిస్తారు. ఇచ్చిన దత్తాంశం మొత్తానికి సంబంధించిన విలువను బార్ ఎత్తుతో సూచించి ఆ విలువ ఏర్పడుటకు దోహదం చేసిన వివిధ అంశాల ప్రాతిపదికగా బార్ పటాన్ని విభజిస్తారు. ఒక్కొక్క విభాగానికి ఒక్కొక్క రంగు గాని, గుర్తులను గాని ఉపయోగించవలె. అయితే బార్ను విభజించడంలో ఒక క్రమపద్ధతిని పాటించవలె. ఉపవిభజిత భారు పటంలో 10 లేదా 12 అంశాల వరకు చూపించవచ్చు. అంతకుమించితే రూపొందించడం, అవగాహన చేసుకోవడం కష్టమవుతుంది.

ఉదా|| : కింది కళాశాల విద్యార్థుల సంఖ్యను ఉపవిభజిత బార్ పటంలో చూపండి.

సం॥ము	సైన్సు	కామర్స్	ఆర్ట్స్
1991	800	750	1950
1992	850	825	1575

పటమునం. 3

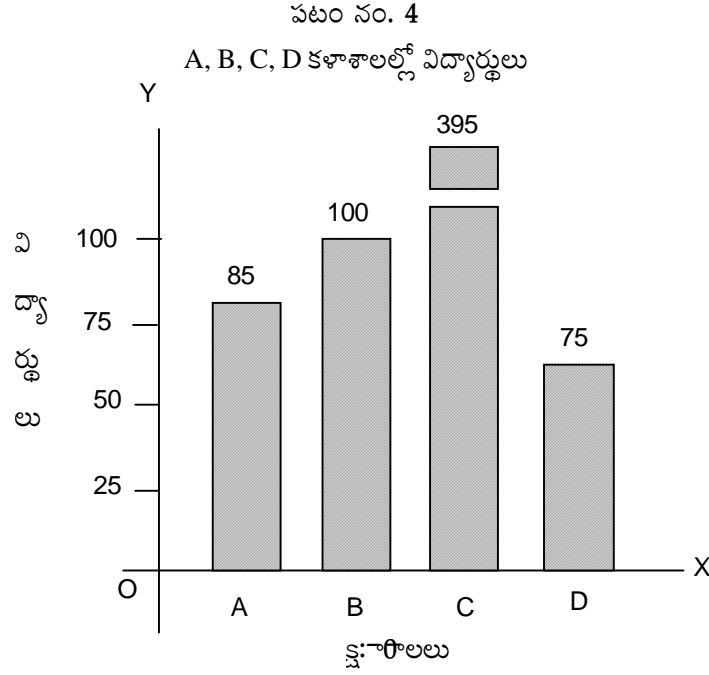
1991-92, 1992-93 సం॥లలో కళాశాలలోని విద్యార్థులు



4. విచ్ఛిన్న బారు పటాలు (Broken Bars) : ఇవ్వబడిన శ్రేణిలోని విలువలు కొన్ని అతి ఎక్కువగాను, మరికొన్ని విలువలు అతి తక్కువగాను వున్నప్పుడు వాటిని బారు పటాలు గీస్తే కొన్ని బార్ల ఎత్తు చాలా ఎక్కువగాను, మరికొన్నింటి ఎత్తు చాలా తక్కువగాను వుంటుంది. ఇటువంటి బార్లను ఒకే చిత్రపటంలో చూపితే కంటికి ఇంపుగా వుండదు. అందుచేత దత్తాంశంలోని విలువలను పోల్చి చూడవలెనన్నప్పుడు విచ్ఛిన్న బారు పటాల రూపంలో చూపవలసి వుంటుంది. ఇచ్చిన విలువల ప్రకారం బారు పటాన్ని నిర్మించి, చాలా ఎక్కువ ఎత్తుగా వుండవచ్చునని భావించిన బార్లని విచ్ఛిన్నం చేసి, అట్లా విచ్ఛిన్నం చేసిన బార్ పైన చిన్న బార్ నమర్చుతారు. అన్ని బార్లపైన అవి ప్రాతినిధ్యం వహిస్తున్న విలువలను గుర్తిస్తారు. ఈ విధంగా బార్లను విచ్ఛిన్నం చేయడం వల్లనే వీటిని విచ్ఛిన్న బార్లు అంటారు. దిగువ ఒక పట్టణంలోని 4 కారేజిల్లోని విద్యార్థులను తగిన చిత్ర పటం ద్వారా వేసి చూపబడినది.

కళాశాల :	A	B	C	D
విద్యార్థుల సంఖ్య :	85	100	395	75





- (5) శాతపు బారు పటాలు (Percentage Bar Diagrams) : బారు పొడవును 100 యూనిట్లుగా విభజించిన బారు పటాలను శాతపు బారు పటాలంటారు. దత్తాంశంలోని సాపేక్ష మార్పులను సులభంగా గమనించడానికి ఈ విధమైన బారు చిత్రాలు ఉపయోగపడతాయి. గణితపరమైన లెక్కలు వేయవలసిన సందర్భాలలో ఈ విధమైన చిత్రాలు నిర్మిస్తారు. ఇవ్వబడిన దత్తాంశంలోని ప్రతి విలువ మొత్తం బారు విలువలో ఎంత శాతంగా వున్నదో కనుగొనవలెను. వంద యూనిట్లుగా నిర్మించబడిన బార్ను ఆ శ్రేణిలోని ఆయా అంశాల అనుసాతంలో విభజించవలెను.

ఉదాహరణ : దిగువ రెండు కుటుంబాల ఆదాయము మరియు ఖర్చు అంచనాలను దీర్ఘచతురస్రాల రూపములో వివరించి చూపడమైనది.

	కుటుంబము A	కుటుంబము B
మొత్తం ఆదాయం	4000	6000
ఖర్చు : ఆహారంపై	2200	3000
వస్త్రములపై	720	720
వెలుతురు + ఇంధనాలపై	200	300
అద్దె కొరకు	480	600
విద్యారోగ్యాలకై	320	600
ఇతర అంశాలకై	280	480
మొత్తం :	4200	5700

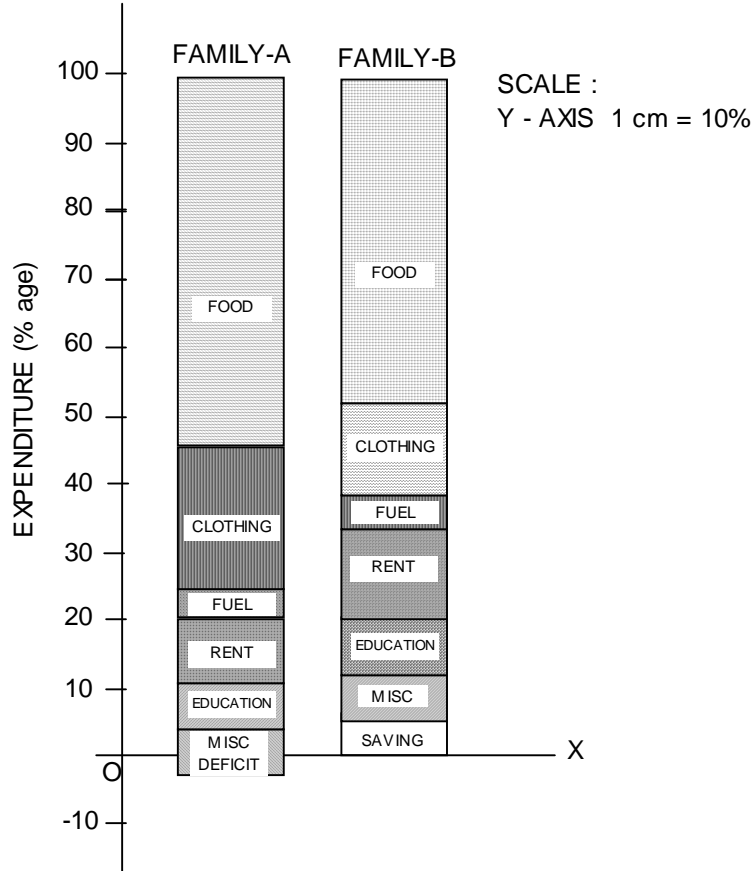
గమనిక : కుటుంబం A యొక్క మొత్తం ఖర్చు ఆదాయాన్ని మించి వున్నది. అందువల్ల 'A' కొరకు దీర్ఘ చతురస్రం 105 శాతంగా వేయాలి. అదనపు 5% ఆధార రేఖ క్రింది వైపు చూపవలెను.

జవాబు : దీర్ఘచతురస్రాల తయారీ కొరకు శాతముల గణన.

వ్యయాంశాలు	A కుటుంబము		B కుటుంబము	
	ఆదాయం (రూ॥లలో)	శాతం	ఆదాయం	శాతం (రూ॥లలో)
మొత్తం ఆదాయం	4,000	100	6,000	100
ఆహారం	2200	55%	300	50%
వస్త్రములు	720	18%	720	12%
ఇంధనం + వెలుతురు	200	5%	300	5%
అద్దె	480	12%	600	10%
విద్య + ఆరోగ్యం	320	8%	600	10%
ఇతరములు	280	7%	480	8%
మొత్తం ఖర్చు	4200	105%	5700	95%

పటం నం. 5

A, B కుటుంబాల ఆదాయ వ్యయాలు



**5.3.2 ద్విపరిమాణ చిత్రాలు (Two - Dimensional Diagrams) :** ఏకపరిమాణ చిత్రాలలో బార్ల పొడవులను మాత్రమే లెక్కిలోకి తీసుకొనడం జరుగుతుంది. వెడల్పులు మాత్రం ఒకే విధంగా వుంటాయి. కాని ద్విపరిమాణ చిత్రాలలో బార్ల పొడవు మాత్రమేగాక, వెడల్పులకు కూడా ప్రాధాన్యత వుంటుంది. ఈ విధమైన చిత్రపటాలు గీసేటప్పుడు ప్రధానంగా రెండు విషయాలను పాటించాలి. వెడల్పులు సమానంగా వున్నప్పుడు చిత్రం యొక్క పొడవు మారాలి. పొడవులు సమానంగా వున్నప్పుడు వెడల్పులు మారాలి. అంశం మొత్తం విలువ చిత్రపటం వైశాల్యానికి సమానం. అందుచేతనే ద్విపరిమాణ చిత్రాలను 'విస్తీర్ణ పటాల'ని అంటారు. ద్విపరిమాణ చిత్రాలలో సర్వ సాధారణంగా ఉపయోగించబడే చిత్రపటాలను మూడు తరగతులుగా విభజించవచ్చు.

(1) దీర్ఘచతురస్రాలు (Rectangles)

(2) చతురస్రాలు (Squares)

(3) వృత్తాలు (Circles)

(1) **దీర్ఘచతురస్రాలు (Rectangles) :** దీర్ఘచతురస్రాలను ద్విపరిమాణ చిత్రాలంటారు. కారణమేమంటే ఈ చిత్రపటాలు విస్తీర్ణ సూత్ర ప్రాతిపదికపై ఆధారపడి వుంటాయి. ఏకపరిమాణ బార్ల చిత్రాలలో బార్ల పొడవులను మాత్రమే పరిగణనలోకి తీసుకుంటారు. కాని దీర్ఘచతురస్రాలలో పొడవు, వెడల్పులు రెండింటి ప్రాధాన్యత నివ్వడం జరుగుతుంది. దీనివలన రెండు లేదా అంతకంటే ఎక్కువ విలువలను, అందులోని వివిధ విభాగాలను పోల్చిచూడడం ద్వారా ఒక ఖచ్చితమైన అభిప్రాయాన్ని సాధించడానికి వీలుంటుంది.

దీర్ఘచతురస్రాలను రెండు విధాలుగా నిర్మించవచ్చు. 1. ఇవ్వబడిన విలువల మొత్తానికి బార్ను నిర్మించి శ్రేణిలోని వివిధ అంశాల విలువల ప్రాతిపదికగా బార్ను విభజించవచ్చు. రెండు లేదా అంతకంటే ఎక్కువగా శ్రేణులున్నప్పుడు బార్ల వెడల్పు ఆయా శ్రేణుల మొత్తం విలువల నిష్పత్తులు అనుసాతంలో వుండవలె. బార్ల పొడవు మొత్తం అసలు విలువకు సమానంగా వుంచి, అంశాల ప్రాతిపదికపై బార్లను విభజించవలెను. 2. ఇచ్చిన దత్తాంశంలోని వివిధ భాగాలకు శాతపు విలువలను గణన చేసి, వంద యూనిట్లు పొడవుగా నిర్మించిన బారును ఆయా అంశాల శాతపు పరిమాణ ప్రాతిపదికగా విభజించవలెను. బార్ల వెడల్పు శ్రేణియొక్క మొత్తం విలువల నిష్పత్తుల అనుసాతంలో వుండవలె. ఈ విధంగా చేయడం వల్ల శ్రేణుల సాపేక్ష మార్పులను సులభంగా అధ్యయనం చేయవచ్చు. అందువల్లనే ఈ పద్ధతిని గణాంక పరిశోధనలలో ఎక్కువగా ఉపయోగిస్తుంటారు.

	A కుటుంబము (రూ॥లలో)	B కుటుంబము (రూ॥లలో)
మొత్తం ఆదాయం	4000	6000
ఖర్చు : ఆహారంపై	2200	3000
వస్త్రములపై	720	720
వెలుతురు + ఇంధనాలపై	200	300
అద్దె కొరకు	480	600
విద్యారోగ్యాలకై	320	600
ఇతర అంశాలకై	280	480
<b>మొత్తం ఖర్చు</b>	<b>4200</b>	<b>5700</b>

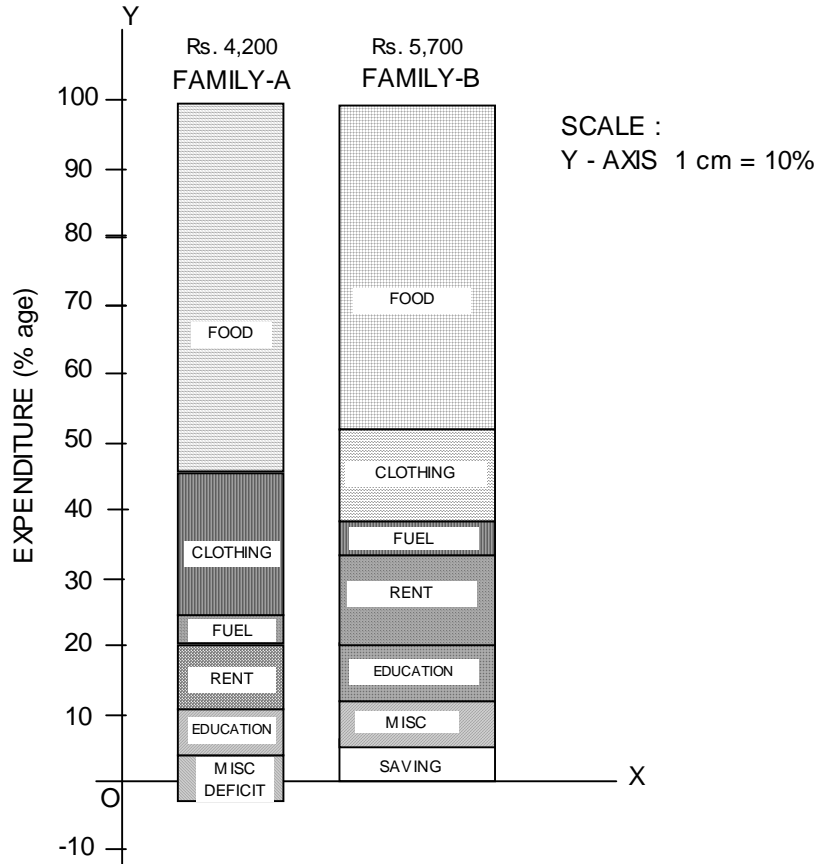
గమనిక : కుటుంబం A యొక్క మొత్తం ఖర్చు ఆదాయాన్ని మించి వున్నది. అందువల్ల 'A' కొరకు దీర్ఘ చతురస్రం 105 శాతంగా వేయాలి. అదనపు 5% ఆధార రేఖ క్రింది వైపు చూపవలెను.

జవాబు : దీర్ఘచతురస్రాల తయారీ కొరకు శాతముల గణన.

వ్యయాంశాలు	A కుటుంబము		B కుటుంబము	
	ఆదాయం రూ. 4,000 రూ  లలో	శాతం 100	ఆదాయం రూ. 6,000 రూ  లలో	శాతం 100
ఆహారం	2200	55%	3000	50%
వస్త్రములు	720	18%	720	12%
ఇంధనం + వెలుతురు	200	5%	300	5%
అద్దె	480	12%	600	10%
విద్య + ఆరోగ్యం	320	8%	600	10%
ఇతరములు	280	7%	480	8%
మొత్తం వ్యయం	<b>4200</b>	<b>105%</b>	<b>5700</b>	<b>95%</b>

పటం నం. 6

A, B కుటుంబాల వ్యయ రాబడులను చూపు శాతపు పటము



(2) చతురస్రాలు (Squares) : ఇచ్చిన దత్తాంశంలో విచారణ ఎక్కువగా వున్నప్పుడు అట్టి దత్తాంశాన్ని చూపడానికి చతురస్రాలు అనుకూలంగా వుంటాయి. దీర్ఘచతురస్రాలలో నిర్మించే చిత్రాలు కొన్ని సందర్భాలలో అంతకళాత్మకంగా వుండవు. ఈ లోపాన్ని అధిగమించడానికి చతురస్రాలను నిర్మించడం జరుగుతుంది. చతురస్రాల నిర్మాణానికి క్రింది సూచనలు పాటించవలెను.

సూచనలు : 1. ఇచ్చిన అంశాలకు వర్గమూలాలను కనుగొనవలెను. ఆ వర్గ మూలాలనే చతురస్రాల పొడవు, వెడల్పులుగా ఉపయోగించాలి. వర్గమూలాలు కూడా పెద్ద సంఖ్యలుగా వుంటే వాటిని సామాన్య హారంతో భాగించి వచ్చిన విలువలను చతురస్రాల వెడల్పు మరియు ఎత్తులుగా ఉపయోగించాలి. 2. చతురస్రాలన్నీ క్షీతిజ ఆధారపంక్తిపై వుండవలెను. 3. ప్రతి చతురస్రానికి మధ్య ఖచ్చితమైన ఖాళీని వదలాలి. నాలుగు పట్టణాల జనాభా వేలలో ఇవ్వబడినది. తగిన చిత్ర పటం ద్వారా వివరింపబడినది.

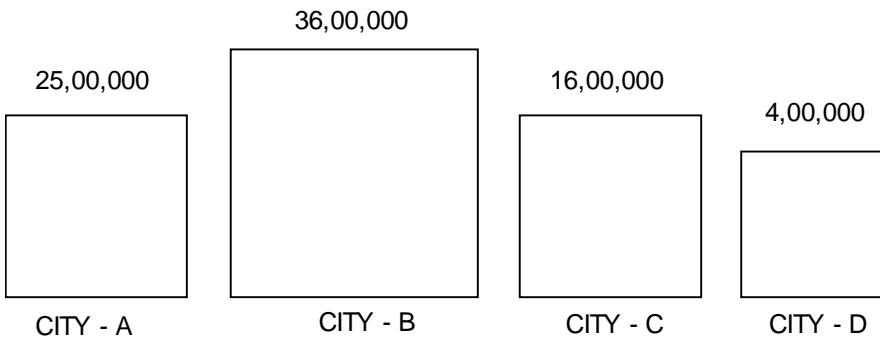
పట్టణం	A	B	C	D
జనాభా ('000లలో)	2500	3600	1600	400

జవాబు :

పట్టణం	జనాభా ('000లలో)	వర్గమూలాలు
A	2500	50
B	3600	60
C	1600	40
D	400	20

పటం నం. 7

A, B, C, D అనే నాలుగు పట్టణాల్లో జనాభా



SCALE : 1cm = 10,000 People

(3) వృత్తాలు (Circles) : దీర్ఘచతురస్రాలను మరియు చతురస్రాలను ఉపయోగించగల అన్ని సందర్భాలలోను వృత్త చిత్రాలను ఉపయోగించవచ్చు. అయితే శ్రేణిలోని వివిధ అంశాల సాపేక్ష ప్రాధాన్యతను చూపవలసి వచ్చినప్పుడు గుణహారాలు. భాగహారాల వంటి గణిత ప్రక్రియలు పెద్ద ఎత్తున అవసరమవుతాయి. అయినప్పటికీ వృత్తాలు స్వభావికంగా

ఎంతో ఆకర్షణీయంగా వుంటాయి. వాటిని చూడగానే దత్తాంశముల విషయాన్ని సులువుగా అవగాహన చేసుకోవచ్చు. అందుచేత ఈ పద్ధతిలో దత్తాంశాన్ని సమర్పించడం బహుళ ప్రాచూర్యం పొందింది. వృత్తాల నిర్మాణానికి కింది సూచనలు పాటించవలె.

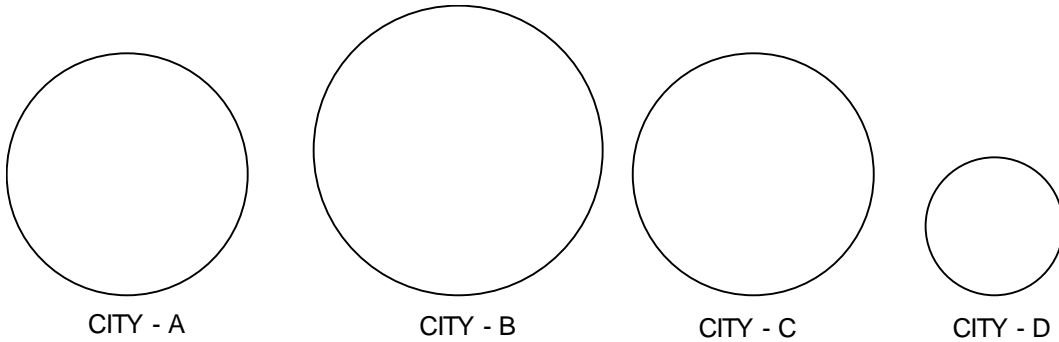
సూచనలు :

1. ఇవ్వబడిన అంశాల మొత్తాలకు వర్గమూలాలను కనుగొనవలెను. వర్గమూలాల అనుపాతంలో వృత్త వ్యాసార్థాలు వుండవలెను.
  2. వర్గమూలాల ఆధారంగా నిర్ణయించిన వ్యాసార్థాల ప్రకారం వృత్తాలను క్షితిజ ఆధార పంక్తిపై నిర్మాణం చేయవలెను.
  3. వృత్తాల కేంద్రాలు ఒకే క్షితిజ ఆధార పంక్తిపై వుండునట్లు జాగ్రత్త వహించవలె.
- (a) సామాన్య 'వృత్త' పటము : పైన చతురస్రాలలో తెలిపిన వివరాలనుపయోగించి వృత్తపటములను గీచి దత్తాంశ సమర్పణ చేయుము.

పట్టణం (1)	జనాభా ('000లలో') (2)	వర్గమూలం (3)	వ్యాసార్థం అంగుళాలలో (4) (3) ÷ 40
A	2500	50	1.25
B	3600	60	1.5
C	1600	40	1.0
D	400	20	0.5

పటం సం. 8

A, B, C, D అనే నాలుగు పట్టణాల్లో జనాభా



SCALE 0.5 = 20,000 People

- (b) కోణ రేఖాచిత్రాలు లేదా పై రేఖా చిత్రాలు (Pie Diagrams or Angular Diagrams) : ఉపవిభాజిత భారు పటాలు, శాతం భారు పటాలు వలెనే, వృత్తాలను కూడా వివిధ ఉపవిభాగాలుగా విభజించడం జరుగుతుంది. మొత్తం శ్రేణి విలువ 360<sup>0</sup>గా భావించబడిన దానిలో ప్రతి ఉపవిభాగం ఎన్ని డిగ్రీలకు సమానంగా వుంటుందో లెక్కించవలెను. వృత్తాన్ని నిర్మించి వృత్త కేంద్రం నుండి ఆయా విభాగాల డిగ్రీలకనుగుణంగా కోణాలను గుర్తించి వృత్తాన్ని విభజించాలి.

అప్పుడు వృత్తం వివిధ భాగాలుగా విభజించబడుతుంది. వృత్తాన్ని చూడగానే దత్తాంశం యొక్క సాపేక్ష వ్యత్యాసాలు సులభంగా తెలుస్తాయి.

పై రేఖా చిత్ర నిర్మాణానికి సూచనలు :

- (1) వృత్తంలో కోణాల మొత్తం  $360^0$ . కాబట్టి దత్తాంశంలోని వివిధ అంశాలను  $360^0$  అనుపాతంలో చూపవలెను.
- (2) తగిన వ్యాసార్థాన్ని తీసుకొని వృత్తాన్ని గీయవలెను. ఒకవేళ రెండు కంటే ఎక్కువ వృత్తాలను గీయవలసి వస్తే వ్యాసార్థాల కొలతలు అసలు దత్తాంశాల విలువల అనుపాతంలోనే వుండవలెను.
- (3) శ్రేణిలోని ఆయా అంశాల డిగ్రీల అనుపాతంలో వృత్తకేంద్రం నుండి వృత్తాన్ని విభజించవలెను.
- (4) ప్రతి విభాగానికి డిగ్రీలను గుర్తించడంతోపాటు, కళాత్మకంగా వుండే విధంగా రంగులనుగాని, గుర్తులను గాని వేయవలెను.

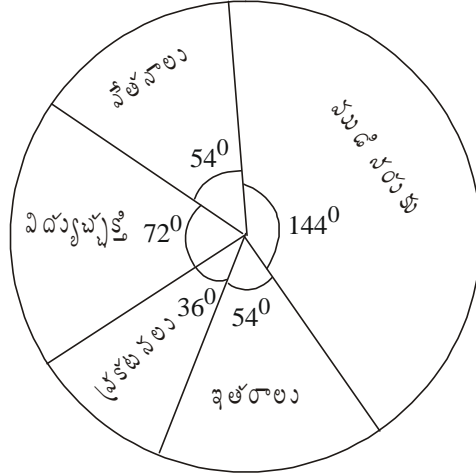
ఉదా :: కింది కుటుంబ ఖర్చు దత్తాంశాన్ని పై రేఖాపటంలో చూపండి.

ఖర్చు అంశం	ఖర్చు రూ॥లలో
ముడి సరుకు	1600
వేతనాలు	600
విద్యుచ్ఛక్తి	800
ప్రకటనలు	400
ఇతరాలు	600
<b>మొత్తము ఖర్చు</b>	<b>4000</b>

వృత్తపటమును గీయడానికి పైన ఇచ్చిన వివరాలను డిగ్రీలుగా మార్చుకోవాలి.

అంశము	ఖర్చు రూ.లలో	డిగ్రీలుగా మార్చుట	డిగ్రీలు
ముడిసరుకు	1,600	$1,600 \times 360 \div 4,000$	144
వేతనాలు	600	$600 \times 360 \div 4,000$	54
విద్యుచ్ఛక్తి	800	$800 \times 360 \div 4,000$	72
ప్రకటనలు	400	$400 \times 360 \div 4,000$	36
ఇతరములు	600	$600 \times 360 \div 4,000$	54
<b>మొత్తం ఖర్చు</b>	<b>4,000</b>	<b>మొత్తం డిగ్రీలు</b>	<b>360</b>

పటము నం. 9  
కుటుంబ ఖర్చు చూపే పై రేఖా చిత్రము



పై వృత్త పటములో కేవలం ఒకే కుటుంబ ఖర్చు రూ. 4,000/- వివరాలను చిత్రపటం ద్వారా చూపటం జరిగింది. అయితే ఒకటి కంటే ఎక్కువ వృత్త పటాలను గీసే అవసరం వస్తే దిగువ పద్ధతిని అవలంబించాలి.

- (1) గీయవలసిన వృత్తాల వ్యాసార్థాలను కనుగొని వాటి నిష్పత్తి ప్రకారం వృత్తాలను గీయాలి. (2) ప్రతివృత్తంలో చూపవలసిన వివిధాంశాల కోణాలను కనుగొని గుర్తించాలి.

ఉదా : దిగువన ఇవ్వబడిన దత్తాంశాన్ని తగిన చిత్ర పటం వేసి సమర్పించుము.

వ్యయాంశము	1983 - 84లో ఖర్చు రూ.	1984 - 85లో ఖర్చు రూ.
ముడిసరుకు	15,000	25,000
వేతనాలు	10,000	20,000
విద్యుచ్ఛక్తి	7,500	15,000
ప్రకటనలు	2,500	10,000
ఇతర ఖర్చులు	5,000	20,000
మొత్తం ఖర్చు	40,000	90,000

సమాధానం : రెండు సంవత్సరాల మొత్తం వ్యయం రూ. 40,000 మరియు రూ. 90,000 గలదు. వీటి వర్ణమాలాలు 200 మరియు 300, 200 లకు వ్యాసార్థమును 2 సెం.మీ. తీసుకుంటే 300లకు వ్యాసార్థమును  $\frac{300}{200} \times 2$  సెం.మీ.గా తీసుకోవలసి వుంటుంది. అంటే 3 సెం.మీ. తీసుకోవాలి. మొత్తం వ్యయంలోని వివిధాంశాలకు డిగ్రీలను లెక్కించాలి.

1983 - 84వ సంవత్సరం లెక్కింపు

వ్యయాంశము	వ్యయం	డిగ్రీలలో లెక్కింపు	డిగ్రీలు
ముడిసరుకు	15,000	$15000 \times 360 \div 40,000$	135



వేతనాలు	10,000	$10000 \times 360 \div 40,000$	90
విద్యుచ్ఛక్తి	7,500	$7500 \times 360 \div 40,000$	67.5
ప్రకటనలు	2,500	$2500 \times 360 \div 40,000$	22.5
ఇతరములు	5,000	$5000 \times 360 \div 40,000$	45
మొత్తం వ్యయం	40,000	మొత్తం డిగ్రీలు	360 <sup>0</sup>

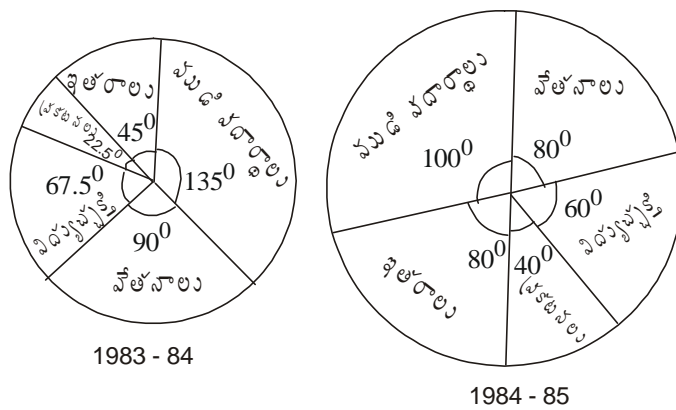
1984 - 85 ఖర్చు లెక్కింపు

వ్యయాంశము	వ్యయం	డిగ్రీలలో లెక్కింపు	డిగ్రీలు
ముడిసరుకు	2,500	$25000 \times 360 \div 90,000$	100
వేతనాలు	20,000	$20000 \times 360 \div 90,000$	80
విద్యుచ్ఛక్తి	15,000	$15000 \times 360 \div 90,000$	60
ప్రకటనలు	10,000	$10,000 \times 360 \div 90,000$	40
ఇతరములు	20,000	$20,000 \times 360 \div 90,000$	80
మొత్తం వ్యయం	90,000	మొత్తం డిగ్రీలు	360 <sup>0</sup>

పై పట్టిక సమాచారం ప్రాతిపదికగా కింది చిత్రాలను రూపొందించడం జరిగింది.

పటము నం. 10

1983 - 84, 1984 - 85 సంవత్సరములలో ఉత్పత్తి వ్యయాలు



5.3.3 త్రి పరిమాణ చిత్రాలు (Three-Dimensional Diagrams) : వీటిని “ఘనపరిమాణ చిత్రాల”ని కూడా అంటారు. ఈ విధమైన చిత్రపటాలలో పొడవు, వెడల్పు, మరియు ఎత్తు మూడింటికి ప్రాధాన్యతనివ్వడం వల్లనే వీటికి త్రిపరిమాణ చిత్రాలనే పేరు వచ్చింది. సాధారణంగా వీటిని శంఖాకారంలోను, స్థూపాకారంలోను, ఘనాకారంలోను నిర్మిస్తారు. వీటన్నింటిలోను ఘనాలను నిర్మించడం ఎంతో సులువు. ఈ విధమైన చిత్రాలు నిర్మించడానికిగాను, ఇవ్వబడిన విలువలకు ఘనాలను (cubes) కనుగొనాలి. ఒకటి కంటే

ఎక్కువగా విలువలున్నప్పుడు ఆయా విలువల ఘనమూలాల మధ్యనున్న నిష్పత్తి ప్రకారం భుజాల పొడవును నిర్ణయించవలెను. దీని కోసం యివ్వబడిన విలువలకు సంవర్గమానం కనుగొని, దానిని 3వే భాగించగా వచ్చిన దానికి స్రుతి సంవర్గమానము కనుగొనవలెను. అదే ఘనమూలమన్నమాట.

ఉదా : వివిధ దేశాల ఇనుము, ఉక్కు ఉత్పత్తికి సంబంధించిన వివరాలను చిత్రపటం ద్వారా వివరింపుము.

దేశం	ఉత్పత్తి (మిలియన్ టన్నులు)
అమెరికా (America)	512
బ్రిటన్ (U.K.)	343
ఫ్రాన్స్ (France)	216
భారత్ (India)	125

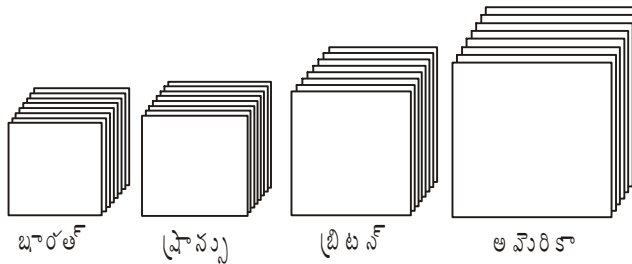
జవాబు :

దేశం	ఉత్పత్తి (మిలియన్ టన్నులు)	ఘాతము	భుజం పొడవు అంగుళాల్లో
అమెరికా	512	8	1.6"
బ్రిటన్	343	7	1.4"
ఫ్రాన్స్	216	6	1.2"
భారత్	125	5	1"

పై సమాచారాన్ని కింది చిత్రపటాలుగా చూపటం జరిగింది.

పటం నం. 11

నాలుగు దేశాల్లో ఇనుము, ఉక్కు ఉత్పత్తి (మిలియన్ టన్నులలో)



5.3.4 పిక్టో గ్రామ్లు (Pictograms) : దత్తాంశాన్ని బొమ్మల రూపంలో సమర్పించడాన్నే పిక్టోగ్రాములు అంటారు. గణాంక దత్తాంశాన్ని సమర్పించడంలో బాగా ప్రాచూర్యం పొందిన గణాంక ప్రక్రియ పిక్టోగ్రామ్లు. ఇవి చూపరులను ఆకట్టుకుంటాయి. కొద్దిపాటి పరిశీలన వలన దత్తాంశంలోని ముఖ్య విషయాలను తెలుసుకోవచ్చు. గణాంక శాస్త్ర పరిజ్ఞానం లేని సామాన్యుడు సైతం దత్తాంశానికి సంబంధించిన ముఖ్య విషయాలను అవగాహన చేసుకోగలడు. బొమ్మల పరిమాణం, బొమ్మల సంఖ్య ఇవ్వబడిన దత్తాంశానికి అనుసాతంలో వుండవలెను. అయితే దత్తాంశానికి ప్రాతినిధ్యం వహించే చిహ్నాలుగాని, బొమ్మలనుగాని జాగ్రత్తగా ఎన్నుకోవాలి. ఉదా : రెండు పౌరుగు దేశాల రక్షణ వ్యవస్థను పోల్చి చూచుటకు ఎన్నుకోవలసిన చిహ్నాలు క్రింది విధంగా వుండాలి.

అంశము		చిహ్నము
పదాతి దళాన్ని చూపుటకు	→	ఆయుధధారియైన సైనికుని బొమ్మ
సైనిక విమానాలను తెల్పుటకు	→	యుద్ధవిమానం
నౌకాబలాన్ని చూపుటకు	→	యుద్ధనౌక విమానం
యుద్ధ ట్యాంకుల సంఖ్య చూపుటకు	→	ట్యాంకు నమూనా

అదే విధంగా డాక్టర్ల సంఖ్య చూపవలసిన సందర్భాలలో డాక్టరు బొమ్మలు, జీవులు, కార్లు, బస్సుల వంటి రవాణా సాధనాల సంఖ్యను చూపుటకు ఆయా బొమ్మలను చూపవలెను.

సూచనలు : పిక్టోగ్రామ్ల నిర్మాణంలో ఈ క్రింది సూచనలు పాటించాలి.

1. ఎంపిక చేయబడే చిత్రాలు అర్థవంతంగా వుండాలి.
2. బహుళ ప్రచారంలో వున్న చిహ్నాలను మాత్రమే వాడాలి.
3. దత్తాంశానికి చెందిన లక్షణాలను లేదా అంశాలను వివరించడానికి వేర్వేరు చిహ్నాలను వాడాలి.
4. సంఖ్యపరమైన తేడాలను తెల్పుడానికి చిహ్నాల సంఖ్యను పెంచడం లేదా తగ్గించడం చేయాలి.
5. చిహ్నాలు మరీ పెద్దవిగాను, మరీ చిన్నవిగాను ఉండరాదు.

వాస్తవానికి పిక్టోగ్రామ్ల నిర్మాణం కష్టంతో కూడుకున్నవని. మంచి నైపుణ్యం కలిగిన చిత్రకారులు మాత్రమే వాటిని తయారుచేయగలుగుతారు. కొన్ని చిత్రాలను నిర్మించడానికి ఎక్కువ సమయం పడుతుంది. అంతేగాక పిక్టోగ్రామ్లలో ప్రతి చిహ్నం నిర్దిష్టమైన దత్తాంశానికి ప్రాతినిధ్యం వహిస్తున్నందు వలన కొన్ని సందర్భాలలో దత్తాంశానికి ఖచ్చితమైన ప్రాతినిధ్యాన్ని కల్గేటట్లు చిహ్నాలను చూపించజాలము. ఉదా : వ్యాపార నౌకల సంఖ్య మనదేశంలో 174 వున్నాయని భావిద్దాం. ఒక నౌక చిహ్నం 50కి సమానమని నిర్ణయించినప్పుడు 3 చిహ్నాలను చూపవచ్చు. మిగిలిన 24 నౌకలను చూపడానికి రమారమి అరబొమ్మను చూపవలసి వుంటుంది. ఇటువంటి ప్రక్రియ హేత్వాభాసలకు దారి తీస్తుంది. అయినప్పటికీ ప్రస్తుత కంప్యూటర్ యుగంలో కంప్యూటర్ ప్రాక్రేజీలను ఉపయోగించి దత్తాంశాన్ని పిక్టోగ్రాముల రూపంలో వివరించుటకు పెద్దగా శ్రమపడనవసరం లేదు.


ఉదాహరణ : దిగువ ఇచ్చిన దత్తాంశానికి పిక్టోగ్రామ్ నిర్మించబడినది. ఒక పట్టణంలో 4 సం॥లలో జనాభాలో వచ్చిన మార్పు.


సం॥రము	1981 - 82	1982 - 83	1983 - 84	1984 - 85
జనాభా లక్షలలో	4	5	8	9

పటం నం. 12

1981-82 నుంచి 1984-85 సం॥లలో వచ్చిన జనాభా మార్పు

జవాబు :

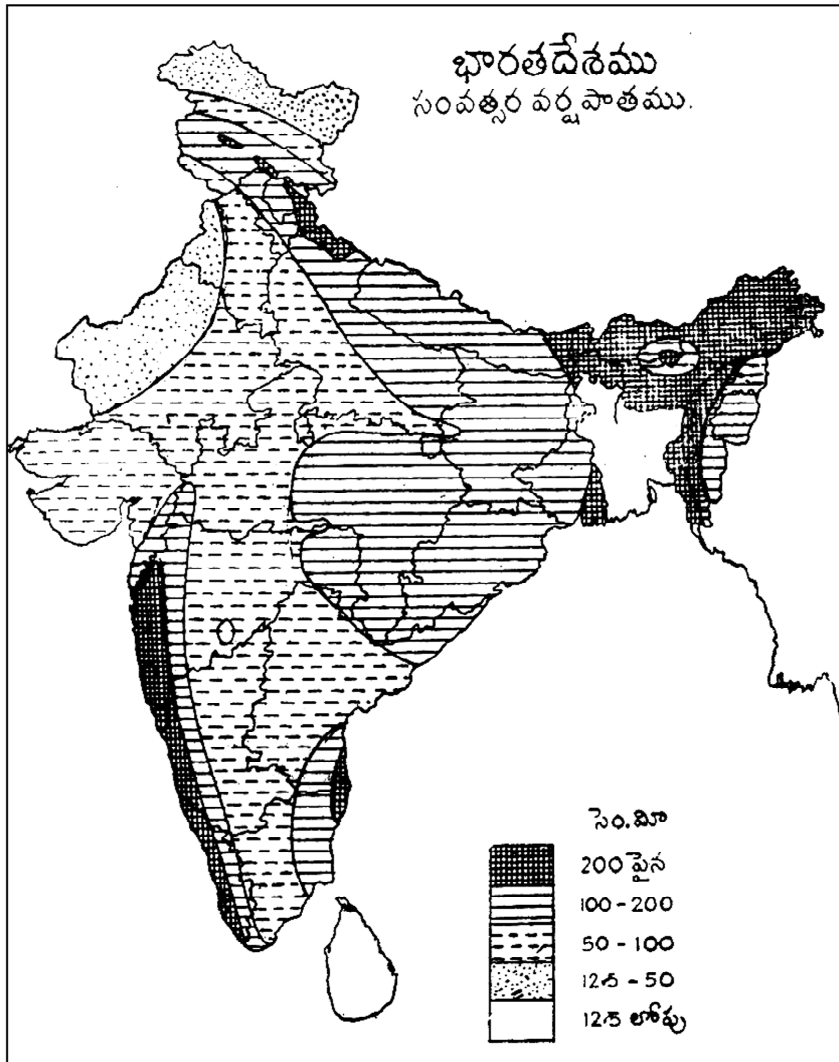


SCALE :  = 1 LAKH PEOPLE

**5.3.5 కార్టోగ్రామ్లు (Cartograms) :** దేశంలోని వివిధ ప్రదేశాలకు సంబంధించిన గణాంక వివరాలను ఆ ప్రదేశాలు మ్యాప్ లో ఎక్కడ వున్నాయో అక్కడే ఇమిడ్చి చూపడాన్ని కార్టోగ్రామ్ ద్వారా దర్శించాన్ని సమర్పించడం అంటారు. ఒక దేశంలోగాని, రాష్ట్రంలోగాని, జిల్లాలోగాని వున్న ముఖ్యాంశాలను వివరించడానికి వీటినుపయోగిస్తారు. దేశంలోని వివిధ ప్రాంతాలలో వర్షపాత వివరాలు, పండేపంటలు, పారిశ్రామిక కార్యకలాపాలు, ఖనిజ సంపద, విద్యా సంబంధమైన విషయాలు, అటవీసంపద వంటి అనేక వివరాలను చూపవచ్చు. ఆయా విషయాలను చూపుటకు ప్రత్యేకమైన గుర్తులనుగాని, రంగులనుగాని మ్యాప్ లో గుర్తిస్తారు. నేడు ఎలక్ట్రానిక్ ప్రసారసాధనాలు కార్టోగ్రాములను ఎక్కువగా ఉపయోగిస్తున్నాయి. వర్షపాత వివరాలను ప్రధానంగా చూపడానికి తప్పనిసరిగా కార్టోగ్రామ్ ల రూపంలోనే సమర్పించడం జరుగుచున్నది. కార్టోగ్రామ్లు సులభంగా నిర్మాణం చేయడానికి అవకాశముండటమేగాక, సామాన్య పరిజ్ఞానమున్న వారికి కూడా వాటిని చూడగానే సులువుగా బోధపడే అవకాశమున్నందున గణాంక ప్రక్రియలలో బహుళ ప్రాచూర్యం పొందినది.

ఉదాహరణకు వర్షపాతాన్ని చూపే కార్టోగ్రామును కింద పటం నెం. 13లో చూపటం జరిగింది.

పటం నెం. 13



## 5.4 సారాంశం

గణాంక విచారణలోని నాల్గవ దశ అయిన సమర్పణలో దత్తాంశాన్ని సమర్పణ చేసే పద్ధతులలో చిత్రపటాలు ఒక విధమైన సమర్పణ పద్ధతి. చిత్ర పటాల ద్వారా సమర్పణ చేసినట్లయితే సమాచారం సులువుగా అవగాహన అవుతుంది. అందుచేతనే పదివేల పదాల కంటే ఒక చిత్రం చాలా విలువైనది అంటారు. అయితే చిత్రపట నిర్మాణానికి సంబంధించిన సూత్రాలను జాగ్రత్తగా పాటించాలి.

ప్రస్తుతం వాడుకలో వున్న చిత్రపటాలను ఏక పరిమాణ చిత్రాలు, ద్విపరిమాణ చిత్రాలు, త్రిపరిమాణ చిత్రాలు, పిక్చోగ్రాములు, కార్టోగ్రాములుగా విభజించవచ్చు. ఈ వివిధ రకాలైన చిత్రపటాలను వివిధ సందర్భాల్లో, వివిధ రూపాల్లో ఉన్న దత్తాంశాలను సమర్పణ చేయడానికి ఉపకరిస్తాయి. అయితే ఏ సందర్భంలో ఏ విధమైన చిత్రపటాన్ని ఉపయోగించవలసి వుంటుందో ఆ విధమైన చిత్రాన్ని ఎంపిక చేసే నిపుణత గణకునికి అవసరం. దత్తాంశాన్ని సమర్పణ చేసే పద్ధతులలో మరో పద్ధతి రేఖా చిత్రాలు. వచ్చే పాఠంలో మనం రేఖా చిత్ర పటాలను గూర్చి చదువుకుందాం.

## 5.5 ముఖ్య పదాలు

1. ఏకపరిమాణ చిత్రాలు : వీటినే బార్ పటాలు అంటారు. ఒక పరిమాణాన్ని అంటే ఎత్తును ప్రాతిపదికగా తీసుకుని రూపొందించే చిత్రాలు.
2. పై చిత్రము : దత్తాంశాన్ని వృత్తంలో చూపటాన్నే పై చిత్రము అంటారు.
3. పిక్చో గ్రాములు : సమాచారాన్ని బొమ్మలలో (Pictures) చూపే విధానాన్నే పిక్చోగ్రాములు అంటారు.
4. కార్టోగ్రాములు : గణాంక సమాచారాన్ని మ్యాపుల రూపంలో చూపే విధానాన్నే కార్టోగ్రాములు అంటారు.

## 5.6 నమూనా ప్రశ్నలు

### I. వ్యాసరూప ప్రశ్నలు :

1. చిత్రపటాలలో రకాలను క్లుప్తంగా వివరించండి.
2. బార్ పటాలలోని ప్రయోజనాలను తెల్పి, అందులో రకాలను వ్రాయుము.
3. చిత్ర పటాల వల్ల ప్రయోజనాలను తెల్పి, చిత్రపటాల నిర్మాణంలో తీసుకోవలసిన జాగ్రత్తలను వ్రాయుము.
4. క్రింద ఇచ్చిన దత్తాంశంలో ఒక బార్ పటాన్ని గీయండి.

ప్రతి మూడు నెలలు (Quarters)	తయారైన సరుకుల సంఖ్య	సగము తయారైన సరుకుల సంఖ్య	మొత్తము
మొదటి	200	100	300
రెండో	250	100	350
మూడో	300	50	350
నాలుగో	400	30	430

5. రెండు కుటుంబాల బడ్జెట్లను సరైన చిత్రపటంలో చూపండి.

ఖర్చు అంశాలు	మొదటి కుటుంబము నెలసరి ఆదాయము రూ. 400/-	రెండోసారి కుటుంబము నెలసరి ఆదాయము రూ. 600/-
ఆహారము	120	160
వస్త్రాలు	80	100
ఇంటి అద్దె	60	120
విద్య	40	80
ఇంధనము	20	40
ఇతర ఖర్చులు	40	60

6. తెనాలిలో భవన నిర్మాణానికి వివిధ అంశాలపై ఖర్చు ఈ విధంగా వున్నది. ఈ దత్తాంశాన్ని సరిఅయిన చిత్రపటంలో చూపండి.

భూమి	రూ. 4,500	సిమెంటు	రూ. 800
వేతనాలు	2,500	సున్నము	800
ఇటుకలు	2,000	రాయి	600
ఇసుము	1,800	ఇసుక	200
కలప	1,500	ఇతర వస్తువులు	1,300

7. 1938 - 39లో వివిధ దేశాలలో ధాన్యపు ఉత్పత్తి ఎకరానికి స్పాన్లో ఇచ్చినారు. ఈ దత్తాంశాన్ని చూపే చిత్రపటము గీయండి.

దేశము	ఎకరానికి పంట (లక్షలస్పాన్లో)
ఇండియా	728
బ్రిటన్	943
అమెరికా	1,469
ఇటలీ	2,093
ఈజిప్టు	2,153
జపాన్	2,277

8. కింది దత్తాంశము ఒక సగటు కార్మిక కుటుంబానికి అయ్యే ఖర్చు తెలియజేస్తున్నది. దానిని చిత్రపటములో చూపండి.

ఖర్చు అంశాలు	ఖర్చుశాతము
ఆహారము	65

వస్త్రాలు	10
ఇంటి అద్దె	12
ఇంధనము	5
ఇతర ఖర్చులు	8

9. భారతరైల్వేలకు సంబంధించిన కింది దత్తాంశాన్ని ఉపవిభాజిత బార్ పటాలలో చూపండి.

1958 - 59      1959 - 60      1960 - 61

(కోట్ల రూపాయలతో)

1. స్థూలమైన రాబడి	390	422	468
2. స్థూలమైన ఖర్చు	331	353	389
3. నికరమైన రాబడి	59	68	79

10. కింది దత్తాంశాన్ని తగిన చిత్రపటంలో చూపండి.

పనిచేసేవారి సంఖ్య

సంవత్సరము	పురుషులు	స్త్రీలు	పిల్లలు	మొత్తము
1950	1,80,000	1,10,000	70,000	3,60,000
1960	3,50,000	2,10,000	1,60,000	7,20,000

11. కింది దత్తాంశాన్ని చూపే సరి అయిన చిత్రపటము గీయండి.

ఖర్చు అంశాలు	A కుటుంబము - నెలసరి ఆదాయము రూ. 500/- రూ॥లలో	B కుటుంబము - నెలసరి ఆదాయము రూ. 300/- రూ॥లలో
ఆహారము	150	150
వస్త్రాలు	125	60
విద్య	25	50
ఇతర ఖర్చులు	190	70
మిగులు లేదా తగులు	+10	-30

12. చతురస్రపటంలో కింది దత్తాంశాన్ని చూపండి.

	A ఫ్యాక్టరీ	B ఫ్యాక్టరీ
ఒక్కొక్క వస్తువు ధర	రూ. 6	రూ. 6
ఉత్పత్తి - పరిమాణము	1000 వస్తువులు	800 వస్తువులు

ముడిసరుకుల వెల	రూ. 3000	రూ. 2,400
ఉత్పత్తి ఇతర ఖర్చులు	రూ. 2,000	రూ. 1,400
లాభాలు	రూ. 1,000	రూ. 1,000

13. కింది దత్తాంశాన్ని పై వలయంలో శాతపు పద్ధతిని నిర్మించండి.

మతము	సంఖ్య - లక్షలలో
హిందూ	2,031.9
సిక్కు	62.2
జైను	16.2
ముస్లిము	354.0
క్రిష్టియన్	81.6
ఇతర మతాలు	20.1

14. కింది దత్తాంశాన్ని పిక్చోగ్రామ్లో చూపండి.

దేశము	జనాభా - కోట్లలో
చైనా	46.4
ఇండియా	35.7
పాకిస్తాన్	7.6
అమెరికా	15.1
బ్రిటన్	5.0

15. కింది దత్తాంశాన్ని (ఎ) బార్ పటంలోను (బి) వలయ రేఖా చిత్రంలోను చూపండి. ప్రపంచంలో వివిధ ఖండాల విస్తీర్ణత (మిలియన్ చదరపు మైళ్ళలో).

ఖండాలు	విస్తీర్ణత చదరపు మైళ్ళలో
ఆఫ్రికా	11.7
ఆసియా	10.4
యూరప్	1.9
ఉత్తర అమెరికా	9.4
టునీషియా	3.3
దక్షిణ అమెరికా	6.9
రష్యా	7.9
మొత్తం	51.5



16. కింది దత్తాంశాన్ని చూపుతూ (ఎ) బార్ పటము (బి) వలయ రేఖా చిత్రము గీయండి. ఒక సంవత్సరంలో కొన్ని కుటుంబాల సగటు ఖర్చు ఇచ్చినారు.

ఖర్చు అంశము	సాలుసరి ఖర్చు. రూ॥లు
ఆహారము	945
వస్త్రాలు	325
అద్దె	520
మందులు	210
ఇతర ఖర్చులు	400
<b>మొత్తం</b>	<b>2,400</b>

17. వివిధ దేశాలలో జనాభా 1931లో ఇచ్చినారు. ఈ దత్తాంశాన్ని వలయాకార చిత్రంలో ఖండాలుగా విభజించి చూపండి.

దేశము	జనాభా ('000'లో)
చైనా	4,11,770
భారతదేశము	3,52,370
రష్యా	1,61,000
అమెరికా	1,24,070
జర్మనీ	64,776
జపాన్	64,700
బ్రిటన్	46,077
ఫ్రాన్సు	41,860
ఇటలీ	40,100
ఇతర దేశాలు	7,05,007
<b>మొత్తం</b>	<b>20,11,800</b>

18. క్రింది దత్తాంశాన్ని సరి అయిన చిత్రపటంలో చూపండి.

స్థావరము	వేతనాలు	ముడిపదార్థాలు	లాభాలు	ఉత్పత్తి సరుకుల సంఖ్య
A	2,000	3,000	1,000	1,000
B	1,400	2,400	1,000	800

19. కింది దత్తాంశాన్ని వలయాకార చిత్రపటంలో ఖండాలుగా విభజించి చూపండి.

జనాభా పాఠ్య A రాష్ట్రాలు (ఇండియా)  
1951 (అక్షరాలలో)

రాష్ట్రాలు	జనాభా(అక్షరాలలో)
అస్సాం	90.44
ఉత్తరప్రదేశ్	632.16
ఒరిస్సా	146.46
పశ్చిమబెంగాల్	248.10
పంజాబు	126.42
బొంబాయి	359.56
బీహారు	402.26
తమిళనాడు	570.16
మధ్యప్రదేశ్	212.48

20. భారతదేశంలో వివిధ ప్రాంతాల్లో గల జనాభా సాంద్రతను చూపే కార్టోగ్రామ్ తయారుచేయండి.

ఉత్తరప్రదేశ్	557	మధ్యప్రదేశ్	163
బీహార్	572	హైదరాబాద్	227
ఒరిస్సా	244	రాజస్థాన్	117
పశ్చిమబెంగాల్	806	పంజాబ్	338
అస్సామ్	176	పెప్సూ	347
తమిళనాడు	446	వింధ్యప్రదేశ్	151
మైసూర్	308	మధ్యఇండియా	171
బొంబాయి	323	తిరువాన్ కూర్ - కొచ్చిన్	1,015

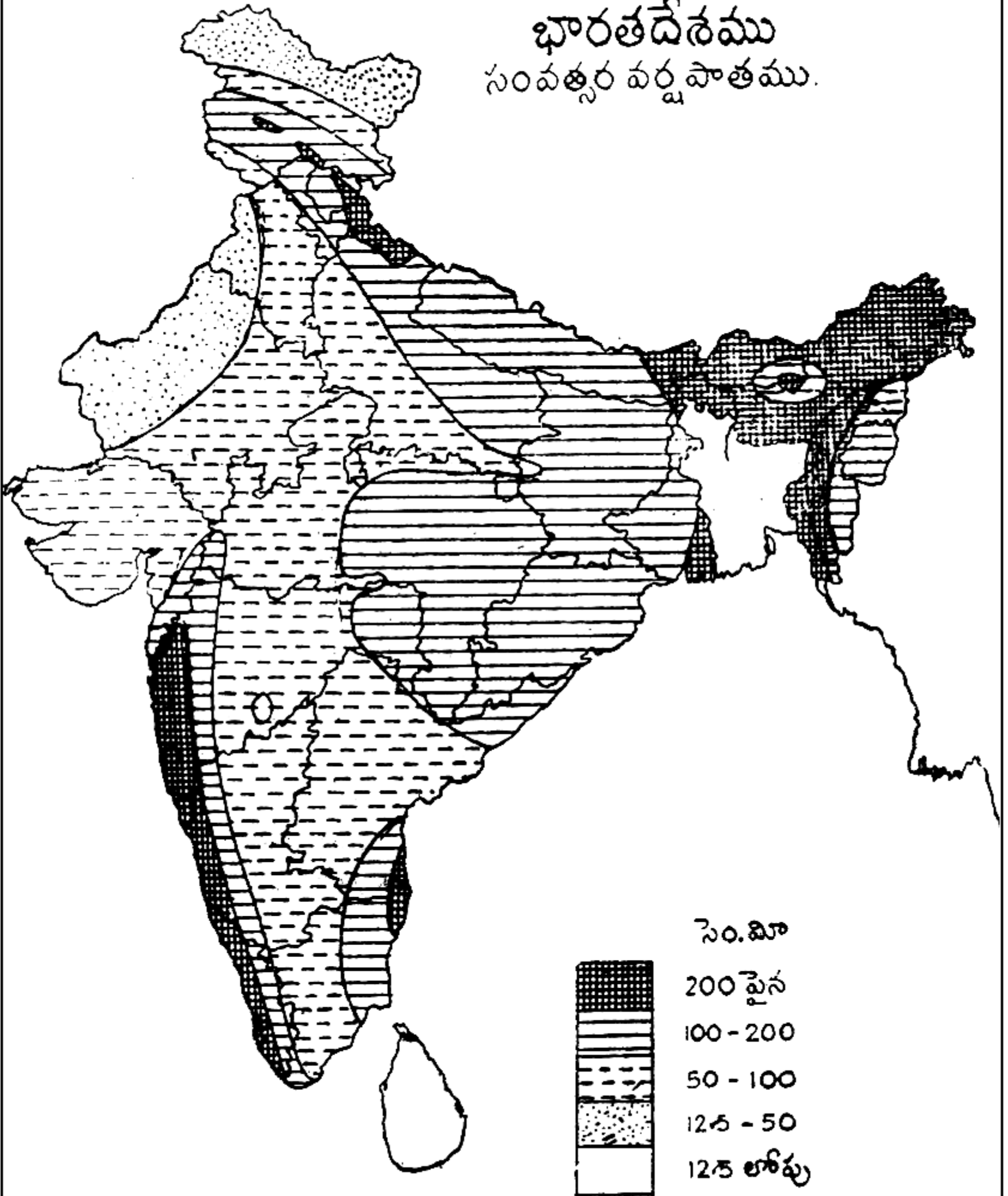
II. సంక్షిప్త ప్రశ్నలు

21. చిత్రపటాల వల్ల ప్రయోజనాలు
22. బార్ పటాలు
23. చతురస్రాలు
24. వృత్తపటం
25. పిక్చోగ్రాములు
26. కార్టోగ్రాములు

5.7 చదువదగిన గ్రంథాలు

- B.N. Elhance : Fundamental of Statistics  
 S.P. Gupta : Statistical Methods  
 C.B. Gupta : An Introduction to Statistical Methods  
 S.C. Gupta : Fundamentals of Statistics  
 M.C. Shukla : Statistics - Theory and Practice  
 & S.S. Gulshan

# భారతదేశము సంవత్సర వర్షపాతము.



**పాఠ్యంశ నిర్మాణ క్రమం**

- 6.0 లక్ష్యాలు
- 6.1 విషయపరిచయం
- 6.2 రేఖాపటాలు
  - 6.2.1 కాలశ్రేణుల రేఖాపటాలు
  - 6.2.2 పానఃపున్య రేఖాపటాలు
  - 6.2.3 రేఖాచిత్ర పటాల పరిమితులు
- 6.3 సారాంశం
- 6.4 ముఖ్య పదాలు
- 6.5 నమూనా ప్రశ్నలు
- 6.6 చదువదగిన గ్రంథాలు

**6.0 లక్ష్యాలు**

ఈ పాఠ్యభాగం పూర్తయ్యేసరికి మీరు కింది విషయాలను అవగాహన చేసుకొని, రేఖా పటాలను గీయగలరు.

- \* రేఖా పటాలు అంటే ఏమిటి? రేఖాపటాలు నిర్మించే విధానం.
- \* కాలశ్రేణుల రేఖాపటాలను రూపొందించడం
- \* పానఃపున్య రేఖాపటాలను నిర్మించడం
- \* రేఖాపటాల ద్వారా బాహుళకం, మధ్యగతం, మధ్యగతముపై ఆధారపడ్డ కొలతలను కనుగొనటం
- \* రేఖా, చిత్ర పటాల పరిమితులు తెలుసుకోవడం

**6.1 విషయపరిచయం**

దత్తాంశాన్ని ఆకర్షణీయంగా సమర్పణ చేయడానికి చిత్రపటాలు, రేఖా పటాలు ఉపయోగపడతాయి. సాధారణ మానవుడు అవగాహన చేసుకోవటానికి కూడా ఇవి అవకాశం కల్పిస్తాయి. దత్తాంశ సమర్పణకు చిత్రపటాలు వాడాలా లేక రేఖా పటాలు వాడాలా అనేది గణాంక శోధకుని సమస్య. గత పాఠంలో చిత్ర పటాల వల్ల ప్రయోజనాలు, చిత్రపటాల నిర్మాణం, వివిధ రకాలైన చిత్రపటాలను గూర్చి తెలుసుకున్నాం. ఈ పాఠంలో మనం రేఖాచిత్రాలను గురించి, వాటిని నిర్మించే విధానాన్ని గురించి తెలుసుకుందాం.

**6.2 రేఖాపటాలు**

రేఖా పటాలు, చిత్రపటాల మధ్య వ్యత్యాసం చూపటానికి ఖచ్చితమైన నియమాలు లేకున్ననూ, రేఖాపటాలను నిర్మించే సమయంలో కింది వాటిని పరిగణనలోకి తీసుకోవాలి.

1. రేఖాపటాలు గ్రాఫు పేపరుపై నిర్మించాలి. రెండు చలరాశులను రెండు అక్షలపై తీసుకొని వాటి మధ్య గల గణిత సంబంధాన్ని రేఖాపటంలో చూపవలసి వుంటుంది.
2. రేఖాపటాలు ఖచ్చితమైన స్కేలు కలిగి విశ్లేషణకు అనుగుణంగా వుంటాయి. అందుచేతనే రేఖాపటాలను పరిశోధనల్లో విరివిగా ఉపయోగిస్తున్నారు.

3. కాలానుగుణంగాను, సౌనఃపున్య విభాజనాల చిత్రీకరణకు రేఖాపటాలు ఎంతో ఉపయోగపడతాయి.
4. రేఖాపటాల నిర్మాణం చిత్రపటాల నిర్మాణం కన్నా సులువు. అందుచేత విశ్లేషణలో చిత్ర పటాల కన్నా రేఖా పటాలు ఎక్కువగా ఉపయోగించడం జరుగుచున్నది.

వాస్తవ ప్రపంచంలో అనేక రకాలైన రేఖాపటాలను ఉపయోగించడం జరుగుతూ వుంది. అందులో బహు తరచుగా ఉపయోగించే రేఖాపటాలను గూర్చి ఈ పాఠంలో మనం తెలుసుకుందాం. బహుళ ప్రచారంలో వున్న రేఖాపటాలను రెండు భాగాలుగా విభజించవచ్చు.

1. కాలశ్రేణుల రేఖాపటాలు
2. సౌనఃపున్య విభాజన రేఖాపటాలు

రేఖాపటాల నిర్మాణము ఒక కళ. వీటిని నిర్మించేందుకు వివిధ రకాలైన నియమ నిబంధనలు వున్నాయి. కాని అనుభవము ద్వారా నిర్మించిన రేఖా పటాలు ఎంతో ప్రయోజనకారిగా వుంటాయి. ప్రస్తుతం మనం రేఖాపట నిర్మాణంలోని నియమాలను గూర్చి తెలుసుకుందాం.

**రేఖాపట నిర్మాణం :** రేఖాపటాన్ని గ్రాఫ్ పేపరుపై రూపొందించడం జరుగుతుంది. గ్రాఫ్ పేపరు మీద రెండు సాధారణ సరళరేఖలు లంబకోణంలో ఒకదానికొకటి ఖండించేటట్లు గీస్తే, వాటిని నిరూపకాక్షాలు (Co-ordinate Axes) అంటారు. ఈ సరళరేఖలను ఖండించే బిందువును మూల బిందువు (Point of Origin) అంటారు. ఈ రేఖల్లో క్షితిజ లేదా అడ్డంగా వున్న రేఖను X అక్షమని, ఊర్ధ్వ లేదా నిలువు రేఖను Y అక్షము అంటారు. ఈ రేఖలను క్రింది పటం 6.1లో చూడవచ్చు.

పటం - 6.1

		Y						
		+3						
		Quadrant - II x - ve y + ve మొదటి పాదం	+2	Quadrant - I x + ve y + ve మొదటి పాదం				
		+1						
X'	- 3	- 2	- 1	0	+1	+2	+3	X
		- 1						
		Quadrant - III x - ve y - ve మూడో పాదం	- 2	Quadrant - IV x + ve y - ve నాల్గో పాదం				
		- 3						
		Y'						

రేఖాపటం రూపొందించుకోవటం

పై రేఖాపటం 6.1లో 'O' అనేది కేంద్రం. XOX' అనేది X అక్షము, YOY' అనేది Y అక్షము. సాధారణంగా X అక్షము మీద స్వతంత్ర చలాంకాన్ని, Y అక్షం మీద అస్వతంత్రపు చలాంకాలను గుర్తించవలసి వుంటుంది. OX అక్షం, OY అక్షాలపై ధనాత్మక విలువలు, OX' మరియు OY' అక్షాలపై రుణాత్మక విలువలను గుర్తించడం జరుగుతుంది.

పై గ్రాఫ్‌ను గమనిస్తే, రేఖాపటాన్ని నాలుగు పాదాలుగా విభజించడం జరిగింది. మొదటి పాదంలో X, Y విలువలు ధనాత్మక విలువలు. రెండో పాదంలో X రుణాత్మకము, Y ధనాత్మకము. మూడో పాదంలో X, Y విలువలు రుణాత్మక విలువలు. నాల్గో పాదంలో X ధనాత్మకము, Y రుణాత్మకము. X, Y విలువల స్వభావాన్ని బట్టి అవసరమైన పాదాన్ని గ్రాఫ్‌లో పొందుపరచుకోవడం జరుగుతుంది. వ్యాపార దత్తాంశం సాధారణంగా ధనాత్మకం కావున ఎక్కువగా మొదటి పాదాన్నే ఉపయోగించడం జరుగుతుంది. రేఖాపటంలో పాదాలను గూర్చి తెలుసుకున్నాం. ఇప్పుడు వివిధ రేఖా పటాలను గురించి తెలుసుకుందాం.

**6.2.1 కాలశ్రేణుల రేఖాపటాలు (Time Series Graphs) :** కాలానుగుణంగా అమర్చిన సమాచారాన్ని కాలశ్రేణులు అంటారు. వివిధ కాలాల్లో ఉన్న చలరాశులను రేఖాపటంలో అమర్చితే ఆయా సమయాల్లో వచ్చే మార్పులను సులువుగా విశ్లేషణ చేసేందుకు తోడ్పడతాయి. కాలశ్రేణుల రేఖా పటాన్నే సరళరేఖా చిత్రము (Line Graph) అని కూడా అంటారు. ఈ రేఖాపట నిర్మాణంలో X అక్షంపై కాలాన్ని, Y అక్షంపై చలరాశులను తీసుకొని, విలువలను బిందువులతో గుర్తించి వాటిని కలిపినట్లయితే కాలశ్రేణుల రేఖాపటం వస్తుంది.

ఈ రేఖాపటాలు విరివిగా వాడుకలో ఉన్నాయి. ఈ రేఖాపట నిర్మాణము తేలిక, అర్థం చేసుకోవడం తేలిక. వివిధ సందర్భాల్లో వీటి ఉపయోగం చాలా ఎక్కువ. ఈ రేఖా పట నిర్మాణంలో తీసుకునే స్కేలు సహజ స్కేలు (Natural Scale) కావచ్చు లేదా నిష్పత్తి స్కేలు (Ratio Scale) కావచ్చు. మొదట కాలశ్రేణులు రూపొందించడంలో తీసుకోవలసిన నియమాలను పరిశీలిద్దాం. సహజ స్కేలుపై ఆధారపడి కాలశ్రేణుల నిర్మాణంలో అవసరమైన నియమాలు

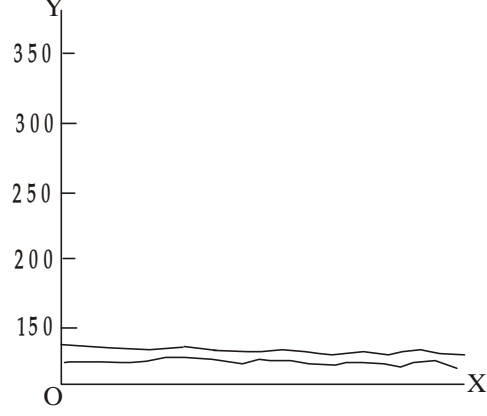
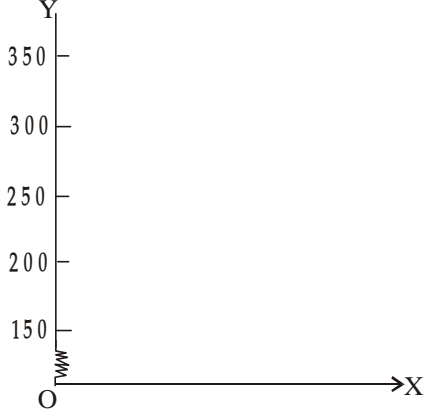
1. X అక్షంపై కాలాన్ని, Y అక్షంపై చలరాశిని తీసుకోవాలి. కాల యూనిట్‌ను పటానికీచ్చే పేరులో స్పష్టంగా చూపాలి.
2. Y అక్షంపై స్కేలు సున్నా (0) నుంచి ప్రారంభించుకోవాలి. సమాచారమంతా పొందుపరచుకొనేలా స్కేలును రూపొందించుకోవాలి.
3. కాలానుగుణంగా చలరాశులను గుర్తించిన తరువాత ఆ బిందువులను స్కేలుతో సరళరేఖలా కలపాలి.
4. ఒక పటంలో ఒకటికి మించిన చలరాశులు గుర్తించవలసి వస్తే దట్టమైన రేఖ, బిందువులు మొదలైన విధంగా గుర్తించడం లేదా వివిధ రంగుల్లో చూపవలసి వుంటుంది.
5. రేఖాపటం మీద రాసే పదాలు అంటే సం॥లు, యూనిట్లు మొదలైనవి క్షితిజంగా లేదా అడ్డంగా రాయడం మంచిది. లేనిచో చదువుకోటానికి గ్రాఫ్‌ను తిప్పుకోవలసి వస్తుంది.

**మిథ్యా ఆధార రేఖ (False Base Line) :** రేఖాపట నిర్మాణంలో ముఖ్య నియమం ఏమనగా Y అక్షం మీద స్కేలు సున్నాతో ప్రారంభించటం. అయితే కొన్ని సందర్భాల్లో Y విలువలు సున్నాకు చాలా దూరంగా వున్నప్పుడు, Y అక్షంపై సున్నాతో మొదలు పెట్టాలంటే ప్రారంభంలో ఎక్కువ ఖాళీ అవసరం. అంతేకాక స్కేలు కూడా ఒక యూనిట్ ఎక్కువ సమాచారాన్ని తీసుకోవలసి వుంటుంది. అందుచేత దత్తాంశం అంత సులువుగా బోధపడదు. ఇలాంటి సందర్భాల్లో మిథ్యా ఆధార రేఖను ఉపయోగిస్తారు. మిథ్యా ఆధార రేఖను గీస్తే, స్కేలును ఎక్కడ ప్రారంభిస్తామో అక్కడ నుంచి మాత్రమే స్కేలును పరిగణనలోనికి తీసుకోవాలి. మిథ్యా ఆధార రేఖలను రూపొందించే విధానం కింది పటాల్లో చూపడం జరిగింది.

పటం 6.2

A వట వసు

B వట వసు



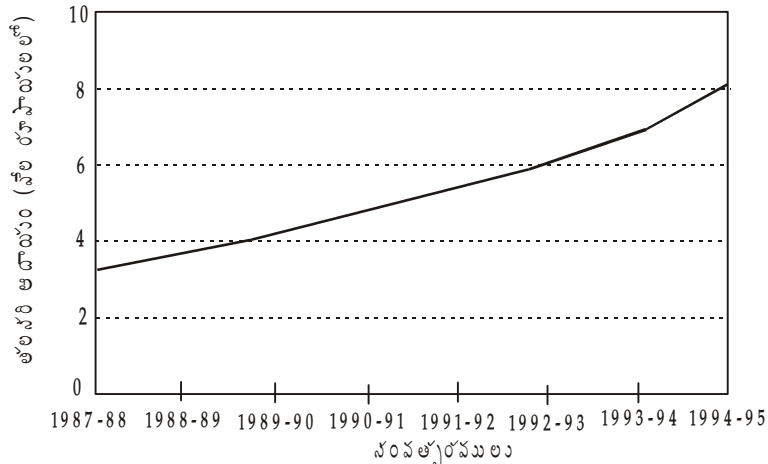
మిథ్యా ఆధార రేఖను పటం 6.2A లో వలే Y అక్షం ప్రారంభంలో జిగ్జాగ్ (ZigZag) గా చూపడం ద్వారా లేదా B లో వలే X అక్షానికి సమాంతరంగా రెండు రేఖలు గీయడం ద్వారానైనా చూపవచ్చు. ఇప్పుడు మనం కాలశ్రేణుల చలరాశులు చూపే రేఖాపటాలను నిర్మించే విధానం గురించి తెలుసుకుందాం.

**6.2.1.1 ఒక చలరాశి రేఖా పటాలు :** రేఖా పటంలో X అక్షంపై కాలాన్ని, Y అక్షంపై ఒకే చలరాశిని తీసుకొని నిర్మించే కాలశ్రేణుల రేఖాపటం చూపడం జరిగింది.

ఉదాహరణ 1 : కింది దత్తాంశాన్ని రేఖాపటంలో చూపండి.

సంవత్సరము	తలసరి ఆదాయం వర్తమాన ధరలలో	సంవత్సరము	తలసరి ఆదాయం* వర్తమాన ధరలలో
1987 - 88	3285.4	1991 - 92	5602.9
1988 - 89	3842.1	1992 - 93	6255.0
1989 - 90	4346.5	1993 - 94	7060.3
1990 - 91	4983.0	1994 - 95+	8237.4

1987 - 88 నుంచి 1994-95 వరకు తలసరి ఆదాయం (వేల రూపాయలలో)

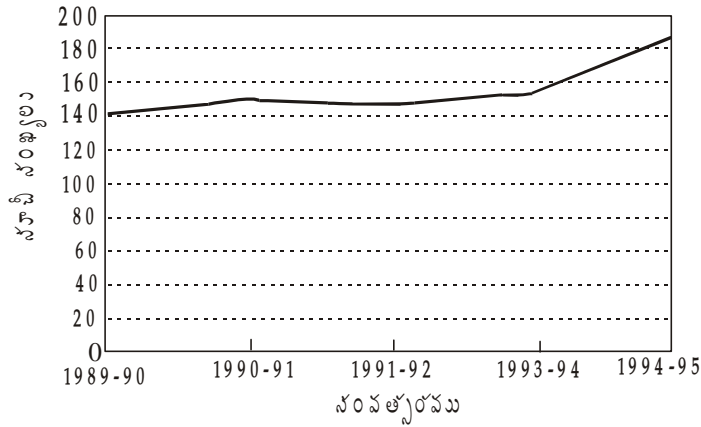


\* Source : Govt. of India : Economic Survey, 1995 - 96, Page S - 3  
+ Quick Estimates

ఉదాహరణ 2 : ఈ క్రింది దత్తాంశాన్ని సరైన రేఖాపటంలో చూపండి.

సంవత్సరము	వ్యవసాయ ఉత్పత్తి సూచీలు* ఆధార సంవత్సరము (1981 - 82)
1989 - 90	143.0
1990 - 91	148.4
1991 - 92	145.4
1992 - 93	151.5
1993 - 94	156.9
1994 - 95	184.1

1989-90 నుంచి 1994-95 వరకు వ్యవసాయ ఉత్పత్తి సూచీ సంఖ్యలు



\* ఆర్థిక సంవత్సరం 1995-96

6.2.1.2 రెండు లేదా అంతకుమించి చలరాశులు చూపే రేఖాపటం : చలరాశుల కొలమాన యూనిట్లు ఒకే విధంగా వుంటే, ఒకే రేఖాపటంలో రెండు లేదా అంతకుమించిన చలరాశులను Y అక్షంపై చూపవచ్చు. ఈ విధంగా చూపడం వల్ల ఆ చలరాశులను సులువుగా పోల్చవచ్చు. అయితే ఒక్కొక్క చలరాశిని ఒక్కో విధంగా అంటే దట్టమైన రేఖగా, చిన్న చిన్న రేఖల్లా, బిందువులుగా etc. చూపితే పోల్చుటకు అనుగుణంగా వుంటుంది. వీలున్నంతవరకు ఒకే పటంలో 5 లేదా 6 చలరాశులలోపు చూపితే సంగ్ఠిత్ర వుండదు.

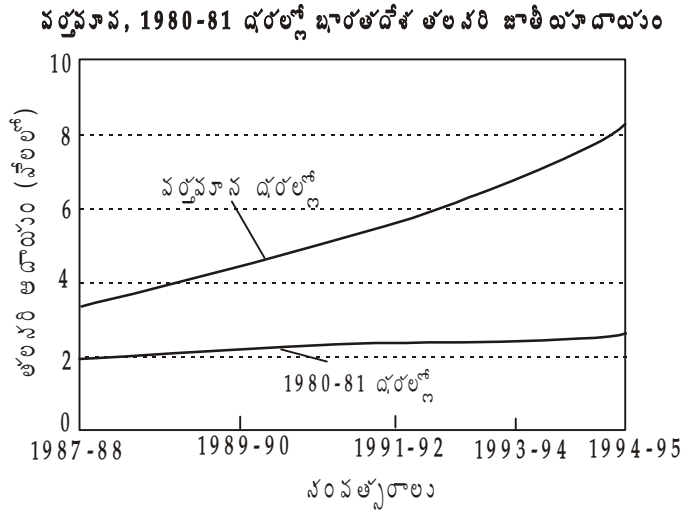
ఉదాహరణ 3 : కింది దత్తాంశాన్ని సరైన రేఖాపటంలో చూపండి.

సం॥ము	భారతదేశ తలసరి ఆదాయం	
	వర్తమాన ధరలో	1980-81 ధరల్లో
1987 - 88	3285.4	1900.9
1988 - 89	3842.1	2059.0
1989 - 90	4346.5	2157.1
1990 - 91	4983.0	2222.2



1991 - 92	5602.9	2175.1
1992 - 93	6255.0	2239.1
1993 - 94	7060.3	2291.5
1994 - 95	8237.4	2400.9

మూలం : Economic Survey, 1995 - 96, Govt. of India.

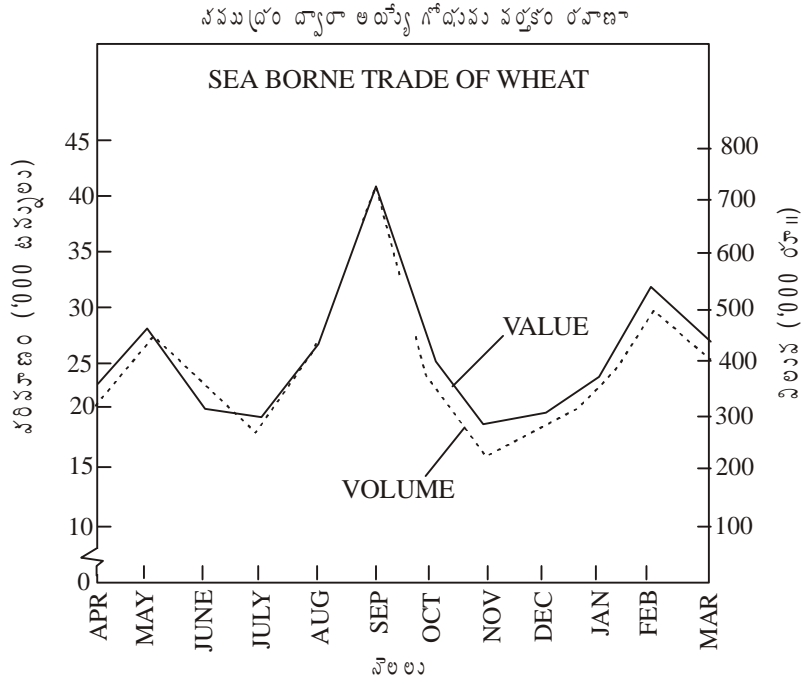


6.2.1.3 రెండు స్కేళ్ళు కలిగిన రేఖాపటం : చలరాశుల ప్రమాణాల్లో తేడాలుంటే రెండు రకాలైన స్కేళ్ళను తీసుకోవలసి వుంటుంది. ఒక స్కేలు చిత్రానికి ఎడమవైపు Y అక్షంపైన మరొకటి కుడివైపు వున్న Y అక్షంపైన తీసుకోవలసి వుంటుంది.

ఉదాహరణ 4 : కింది సమాచారాన్ని సరైన రేఖా పటంలో చూపండి. సముద్రం ద్వారా రవాణా అయ్యే గోధుమ వర్తకం.

నెల	పరిమాణం ('000 Tonnes)	విలువ ('000 Rs.)	నెల	పరిమాణం ('000 Tonnes)	విలువ ('000 Rs.)
April	20	321	October	23	430
May	27	449	November	17	292
June	21	310	December	19	300
July	18	287	January	22	368
August	26	430	February	30	530
September	41	710	March	25	432

(B.Com., Bangalore Univ., 1986)



**6.2.1.4 వ్యాప్తి రేఖా చిత్రము :** వ్యాప్తిని అంటే అత్యధిక, అత్యల్ప విలువల మధ్య గల వ్యత్యాసాన్ని కొలిచేందుకు ఈ చిత్రం ఉపయోగిస్తారు. వివిధ కాలాలలో ఏదైనా వస్తు ధరల్లో వ్యత్యాసాలు, ఉష్ణోగ్రతలో వ్యత్యాసాలు, వర్షపాతాల్లో వ్యత్యాసాలు మొదలైన వాటిని కొలిచేందుకు ఈ పద్ధతి ఎంతో సముచితమైనది.

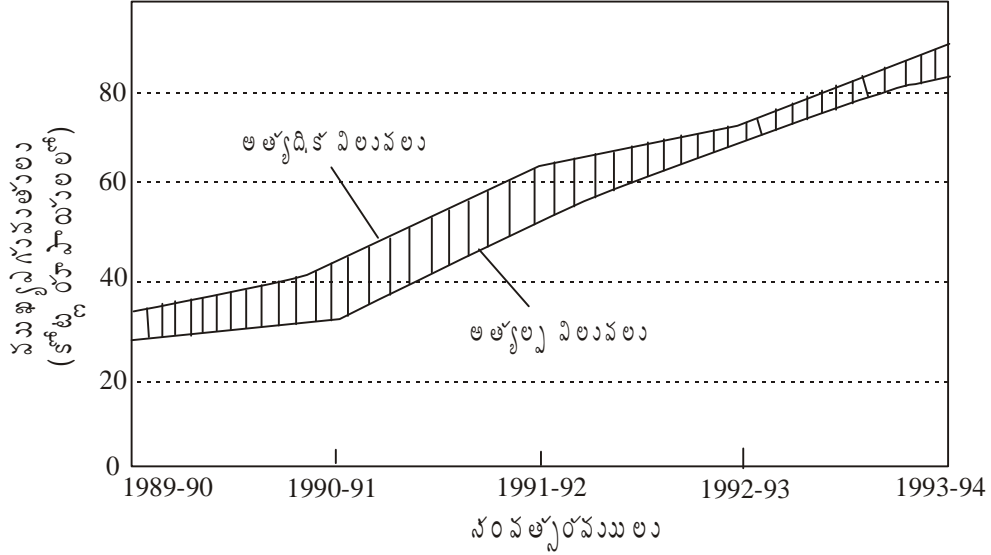
ఉదా : 5 : కింది సమాచారాన్ని వ్యాప్తి రేఖాపటంలో చూపండి.

సం॥ము	ముఖ్య ఎగుమతులు (అత్యధిక విలువలు) (రూ. కోట్లలో)	ముఖ్య ఎగుమతులు (అత్యల్ప విలువలు) (రూ. కోట్లలో)
1989 - 90	35328	27658
1990 - 91	43198	32553
1991 - 92	63375	53688
1992 - 93	73101	69751
1993 - 94	89971	82674

పై పట్టికలోని సమాచారాన్ని వ్యాప్తి చిత్రంలో చూపేందుకు కింది విధంగా నిర్మాణం చెయ్యాలి.

1. X - అక్షంపై కాలాన్ని, Y - అక్షంపై చలరాశులను తీసుకోవాలి.
2. చలరాశులను రేఖాపటంలో గుర్తించి రెండు రేఖలను రూపొందించాలి. రెంటి మధ్య గల ఖాళీ వ్యాప్తిని తెలుపుతుంది.
3. వ్యాప్తిని కొట్టవచ్చినట్లు చూపాలంటే దట్టమైన గీతలు లేదా రంగుతో చూపాలి.

ముఖ్య ఎగుమతుల (కోట్ల రూ॥లలో) వ్యాప్తి రేఖాచిత్రం



**6.2.1.5 బాండ్ రేఖా చిత్రం :** రాశి మొత్తంలో వివిధ వ్యక్తిగత అంశాల నిష్పత్తిని లేదా వాటాను తెలియజేసే రేఖా పటాన్ని బాండ్ రేఖా చిత్రం అంటారు. ఇందులో మొత్తం చలరాశిలోని వివిధ భాగాలను ఒక దానిపై ఒకటి గుర్తించడం జరుగుతుంది. ఎన్ని విభాగాలు వుంటే అన్ని బాండ్లు వస్తాయి. ప్రతి బాండును స్పష్టంగా తెలిపేందుకు వివిధ డిజైన్లు లేదా రంగులను వాడడం జరుగుతుంది. కొన్ని సందర్భాల్లో దత్తాంశ విలువ మొత్తాన్ని 100కి సరిచేసి లేదా శాతంలోకి మార్చి కూడా బాండ్ రేఖా చిత్రాన్ని చూపవచ్చు.

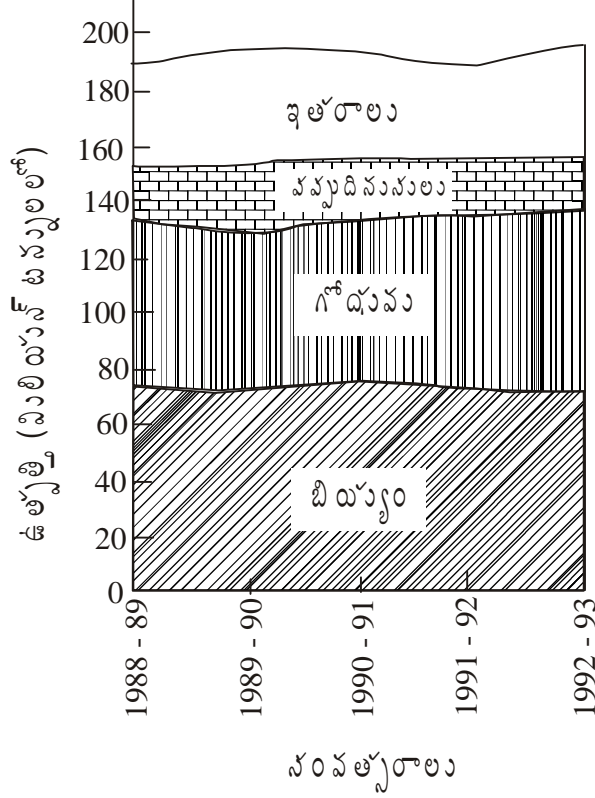
**ఉదాహరణ 6 :** కింది దత్తాంశాన్ని (మిలియన్ టన్నులు) బాండ్ రేఖా పటంలో చూపండి.

సం॥ము	బియ్యం	గోధుమ	పప్పుదినుసులు	ఇతరాలు
1988 - 89	70.5	54.1	13.8	31.5
1989 - 90	73.6	49.8	12.8	34.8
1990 - 91	74.3	55.1	14.3	32.7
1991 - 92	73.7	55.1	12.0	26.3
1992 - 93	71.5	56.0	14.5	34.7

పై సమాచారాన్ని బాండ్ పటంలో రూపొందించాలంటే కింది విధంగా నిర్మించాలి.

1. X అక్షంపై సం॥లు, Y అక్షంపై చలరాశులను గుర్తించాలి.
2. మొదట బియ్యం విలువలను గుర్తించి వాటన్నింటినీ స్కేలుతో కలిపితే వచ్చే బాండ్ బియ్యంకి సంబంధించినది.
3. ఆ రేఖపై గోధుమను, పప్పు దినుసులను, ఇతరాలను గుర్తించాలి. ఈ విధంగా మొత్తం నాలుగు బాండ్లు వస్తాయి.

## భారతదేశంలో వసుఖ్య వంటల ఉత్పత్తి



6.2.1.6 మిశ్రమ రేఖాచిత్రాలు : రెండు చలరాశులు రెండు రకాలైన యూనిట్లలో వుంటే మిశ్రమ రేఖా చిత్రంలో చూపడం జరుగుతుంది. ఒక రాశిని చిత్రపటంలో, మరో రాశిని రేఖాపట స్వరూపంలో చూపటం జరుగుతుంది.

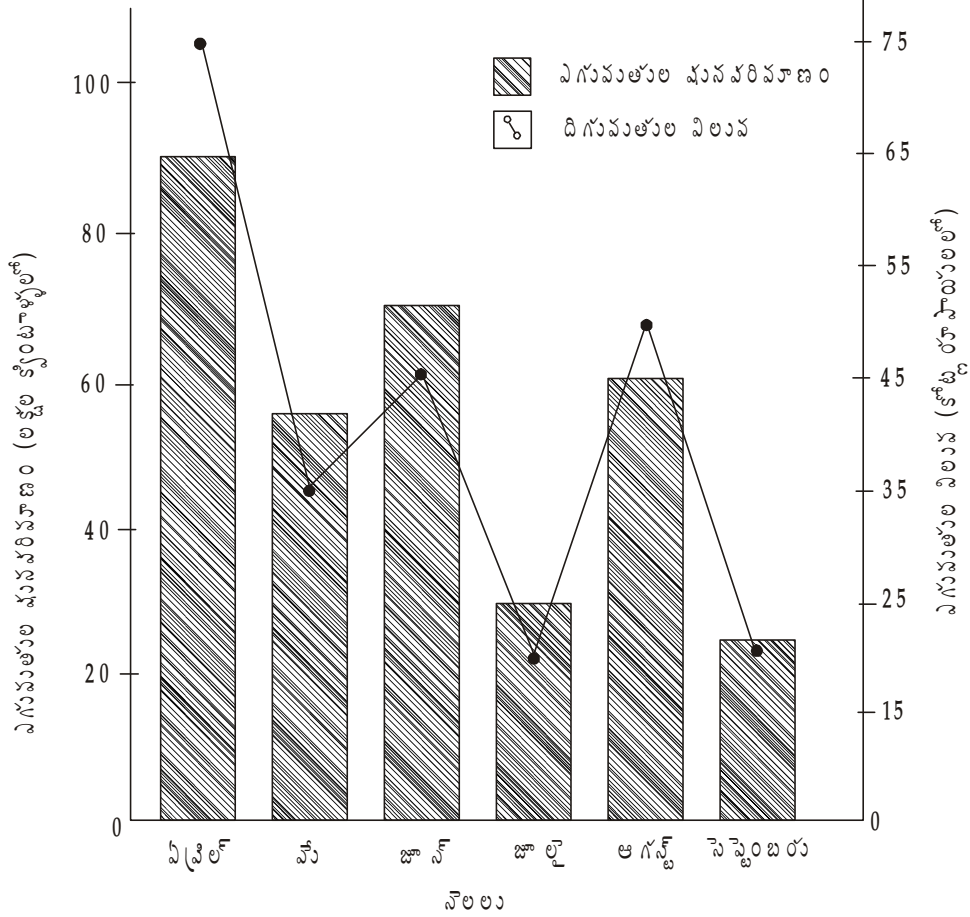
ఉదాహరణ 7 : కింది సమాచారాన్ని మిశ్రమ రేఖాపటంలో చూపండి.

1990వ సంవత్సరంలో భారతదేశ వ్యవసాయ ఎగుమతులు (ఊహించినవి).

నెల	ఘనపరిమాణము (లక్షల రూపాయలలో)	విలువ (కోట్ల రూపాయలలో)
ఏప్రిల్	90	75
మే	55	35
జూన్	70	45
జూలై	30	20
ఆగస్ట్	60	50
సెప్టెంబరు	25	20

జవాబు : రేఖాపటంలో నెలలు ఆధారరేఖపై గుర్తించటం జరిగింది. చిత్రానికి ఎడమవైపు Y అక్షంపై ఎగుమతులు లక్షల క్వింటాళ్ళలో, కుడివైపు Y అక్షంపై ఎగుమతులు కోట్ల రూపాయలను తీసుకొనడం జరిగింది. Y అక్షాలపై వివిధ స్కేళ్ళను చూపడం జరిగింది. ఎగుమతులు ఘనపరిమాణాన్ని బార్లలో (చిత్రపటం), ఎగుమతుల విలువలను సరళరేఖలో (రేఖా పటం) చూపడం జరిగింది. రేఖాపటం, చిత్రపటాలను ఒకే పటంలో చూపడం వల్ల దీనిని మిశ్రమ పటం అంటారు.

1990లో భారతదేశ వ్యవసాయ ఎగుమతులు

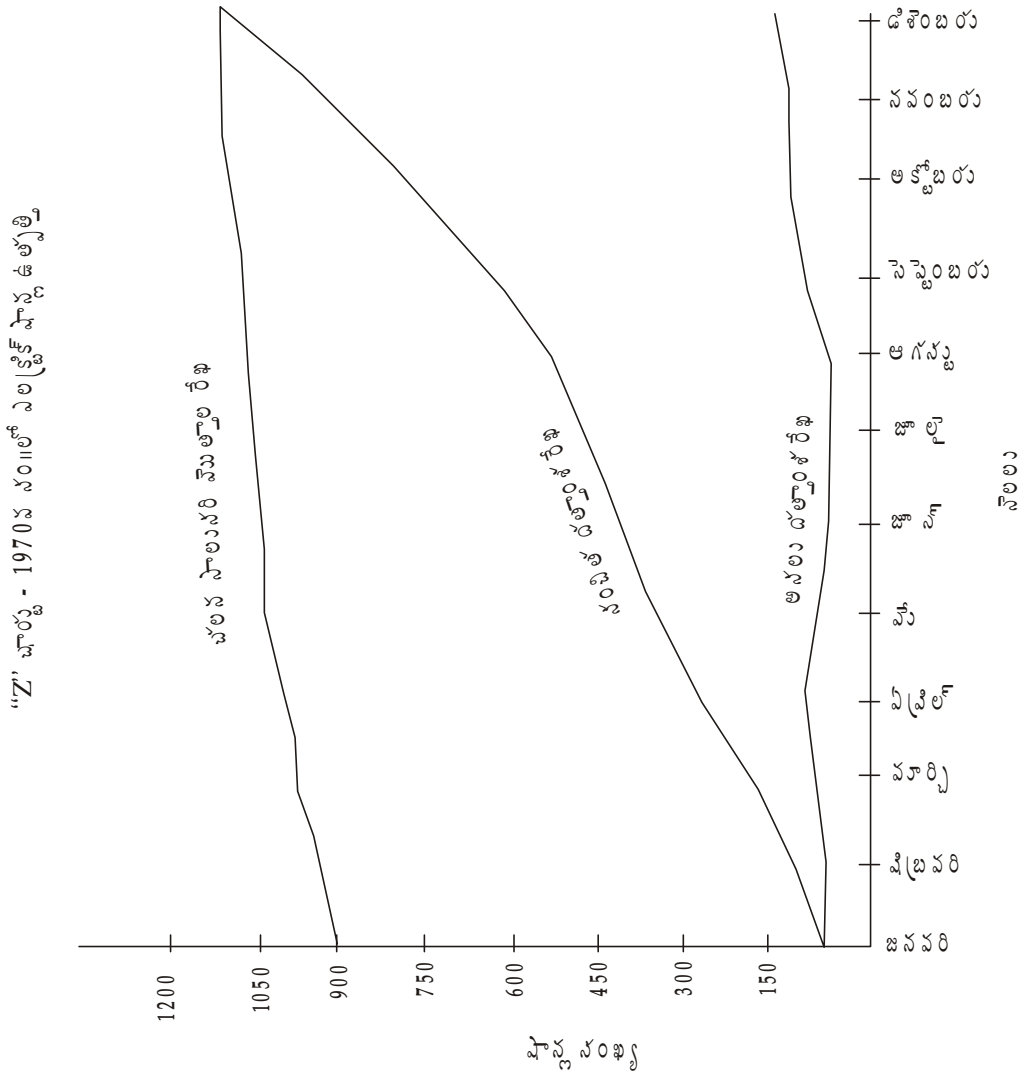


**6.2.1.7 జడ్ ఛార్టు లేదా జీ ఛార్ట్ (Z chart or Zee Chart) :** ఈ పటం ఇంగ్లీషు అక్షరం Z ఆకారంలో వుంటుంది కావున దీనిని జడ్ ఛార్టు అంటారు. వ్యాపార విషయాల్లో ఈ రేఖాపటాన్ని వాడడం జరుగుతుంది. దీనిని బహుళ రేఖా చిత్రమని కూడా అంటారు. ఇందులో మూడు రకాల రేఖలు వుంటాయి. అవి : (1) అసలు అంశాన్ని చూపే రేఖ (2) సంచిత దత్తాంశ రేఖ (3) చలన సాలుసరి మొత్తాల రేఖ. అసలు దత్తాంశాన్ని చూపే రేఖ దిగువను, సంచిత దత్తాంశ రేఖను మధ్యను చలన సాలుసరి దత్తాల రేఖ ఎగువను చూపుతారు. సంచిత దత్తాంశ రేఖ అసలు దత్తాంశ రేఖను చలన సాలుసరి మొత్తాల రేఖను కలుపుతుంది. అందువల్ల (Z) ఆకారము వస్తుంది. వ్యాపార విషయాలకు సంబంధించిన దత్తాంశాన్ని చూపడానికి ఈ చిత్రాన్ని వాడతారు. దీనిని బహుళ రేఖా ఛార్ట్ (Multiple Chart) అని అంటారు.

**ఉదాహరణ 8 :** కింది దత్తాంశాన్ని Z ఛార్ట్లో చూపండి. 1970లో వెంకటేశ్వరా కంపెనీలో ఎలక్ట్రిక్ ఫాస్ట్ ఉత్పత్తి సంఖ్య దిగువ యివ్వడమైనది.

నెలలు	ఉత్పత్తి అయిన ఫాస్ట్లు	సంచిత నెలసరి ఫాస్ట్ల సంఖ్య	చలన సాలుసరి మొత్తం సంఖ్య
జనవరి	50	50	900
ఫిబ్రవరి	55	105	930

మార్చి	80	185	980
ఏప్రిల్	100	285	1000
మే	85	370	1040
జూన్	60	430	1050
జూలై	65	495	1070
ఆగస్టు	70	565	1090
సెప్టెంబరు	115	680	1100
అక్టోబరు	140	820	1130
నవంబరు	150	970	1140
డిసెంబరు	180	1150	1150



పై చిత్రంలో నెలలు ఆధార రేఖపై చూపడమైంది. షాస్త్ర సంఖ్య Y అక్షంపై చూపడమైంది. ఉత్పత్తి అయిన షాస్త్ర సంఖ్యకు

ఒక రేఖ గీయడమైంది. ఇది అసలు దత్తాంశ రేఖ రేఖాచిత్రానికి దిగువన ఉంటుంది. సంచిత నెలసరి ఫాస్ట్ సంఖ్య రెండో రేఖలో చూపడమైంది. ఈ సంచిత దత్తాంశ రేఖ చిత్రానికి అడ్డంగా (cross) వుంటుంది. తరువాత చలన సాలుసరి మొత్తాల (Moving Annual Totals) రేఖ ఎగువన గీయడమైంది. ఈ మూడు రేఖలను గీసిన తరువాత చిత్రము Z ఆకారంలో కనిపిస్తుంది. అందువల్ల దీనిని Z చార్ట్ అంటారు.

చలన సాలుసరి మొత్తాలను గణన (calculate) చేసే విధానము - ఇచ్చిన దత్తాంశం రోజువారీదైతే చలన నెలసరి మొత్తాలను (Moving Monthly totals) గణించవచ్చు. ఇచ్చిన దత్తాంశము వారంవారీ లేదా నెలవారీదైతే చలన సాలుసరి మొత్తాలను గణించవచ్చు. నవంబరు నెలకు మాత్రమే చలనసాలుసరి మొత్తం వుంటుంది. ఆ తరువాత ప్రతి నెలకు చ.సా మొత్తాలు గణన చేయవచ్చు. 1969 జనవరి నుండి డిసెంబరు వరకు గల 12 నెలల ఉత్పత్తి అంకెలను సంచితం చేస్తే 1969 డిసెంబరు నెల చ.సా.మొ. వస్తుంది. 1970 జనవరి నెలకు సా.మొ. - 1969 డిసెంబరు నెల చ.సా.మొ. నుండి 1969 జనవరి అంకెను తీసివేసి 1970 జనవరి ఉత్పత్తి అంకెను కలిపితే వస్తుంది. అంటే 1969 ఫిబ్రవరి నుండి 1970 జనవరి వరకు గల 12 నెలల సంచిత మొత్తమన్న మాట. అదే విధంగా 1970 ఫిబ్రవరి సా.మొ. నుండి 1969 ఫిబ్రవరి ఉత్పత్తి అంకెను కూడా తీసివేసి 1970 ఫిబ్రవరి ఉత్పత్తి అంకెను కలిపితే వస్తుంది. ఈ విధంగా ప్రతి నెలకు గణన చేయవలెను. కాబట్టి ప్రతి నెలకు చ.సా.మొ. ఆ నెల ఉత్పత్తి సంఖ్యకు దానికి ముందు గడిచిన 11 నెలల ఉత్పత్తి అంకెలను కలపగా వస్తుంది. పై జీ చార్ట్ ఉదాహరణలోని చ.సా.మొ. సంఖ్యలు ఊహించినవిగా భావించవలె.

**6.2.1.8 అర్థ సంవర్షమాన రేఖాచిత్రాలు :** మనం ఇప్పటి వరకు నేర్చుకున్న రేఖాచిత్రాలు సాధారణ స్కేలుపై ఆధారపడి నిర్మించినవి. సాధారణ స్కేలు ద్వారా పరమ మార్పును (absolute change)ను కనుగొనవచ్చు. అయితే కొన్ని సందర్భాల్లో సాపేక్ష మార్పును (Relative change) కనుగొనవలసిన అవసరం వుంటుంది. అంటే చలరాశిలో ఏ రేటులో మార్పు సంభవించిందో తెలుసుకొనవలసి రావచ్చు. అలాంటి సందర్భాల్లో సాధారణ స్కేలుకు బదులు సంవర్షమాన స్కేలు లేదా నిష్పత్తి స్కేలును వాడవలసి వుంటుంది. సాధారణ స్కేలుకు, నిష్పత్తి స్కేలుకు కింది తేడాలున్నాయి.

1. సాధారణ స్కేలుల్లో సమాన దూరంలో పరమ మార్పు చూపుతాము. కాని నిష్పత్తి స్కేలులో అనుపాతపు విలువ చూపుతాము. అనుపాతపు స్కేలు యొక్క ఉదాహరణ కింద చూపడం జరుగుతుంది.

సాధారణ స్కేలు	నిష్పత్తి స్కేలు			
50	32	320	3200	32000
40	16	160	1600	16000
30	8	80	800	8000
20	4	40	400	4000
10	2	20	200	2000
0	1	10	100	1000

2. సాధారణ స్కేలు పరమ మార్పులను తెలిపితే నిష్పత్తి స్కేలు సాపేక్ష మార్పులను తెలుపుతుంది.

ఉదాహరణ 9 :

సం॥ము	గోధుమ ఉత్పత్తి (మిలియన్ టన్నులలో)	సాంవత్సరిక పెరుగుదలలు (పరమమైన మానంలో)	సాంవత్సరిక పెరుగుదలలు (శాతాలలో)
1960	10	10	-
1961	20	10	100
1962	30	10	50
1963	40	10	33.3
1964	50	10	25.0
1965	60	10	20.0
1966	70	10	16.0

- సాధారణ స్కేలుపై అనేక ప్రమాణాలను ఒకే అక్షంపై చూపలేము. అయితే ఎన్ని ప్రమాణాలనైనా నిష్పత్తి స్కేలుపై చూపవచ్చు.
- నిష్పత్తి స్కేలు ఆరంభం సున్నాతో కాక ఒకటితో ప్రారంభమౌతుంది. ఎందుకంటే ఒకటి సంవర్షమానం సున్నా.
- సంవర్షమాన స్కేలులో నిలకడగా వున్న సాపేక్ష మార్పులను సులభంగా గమనించగలము.
- విలువలలో హెచ్చుతగ్గులు (వ్యాప్తి) అధికంగా వుంటే నిష్పత్తి స్కేలు వాడకం మంచిది.

అర్థసంవర్షమాన రేఖాచిత్ర నిర్మాణం :

ఉదాహరణ 10 : 1961-62 నుంచి 1965-66 సం॥లో ఒక కంపెనీ లాభాలు కింది విధంగా వున్నాయి. అర్థ సంవర్షమాన రేఖాపటంలో చూపండి.

సంవత్సరం	1961-62	1962-63	1963-64	1964-65	1965-66
కంపెనీ లాభాలు (కోట్ల రూ॥లలో)	100	112	120	133	147

నిర్మించే విధానం :

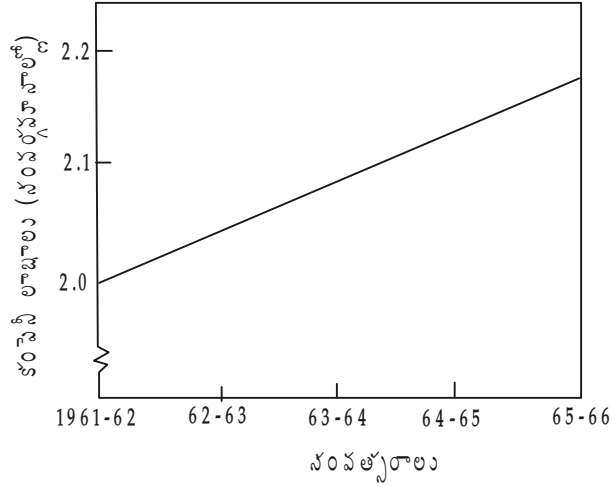
- మొదట సాధారణ స్కేలును సంవర్షమానాలలోకి మార్చాలి.
- సంవర్షమాన విలువలను బిందువు తరువాత ఒక అంకెకు లేదా రెండంకెలకు సర్దుబాటు (అవసరాన్ని బట్టి) చేసుకోవాలి.
- కాలాన్ని, సంవర్షమాన విలువలను పటంలో చూపాలి.

పై లెక్కకు సమాధానం :

సంవత్సరం	కంపెనీ లాభాలు (కోట్ల రూపాయలలో)	సంవర్షమానాలు
1961 - 62	100	2.0000
1962 - 63	112	2.0492
1963 - 64	120	2.0792
1964 - 65	113	2.1239
1965 - 66	147	2.1673



1961-62 నుంచి 1965-66 వం||లలో కంపెనీ లాభాలు



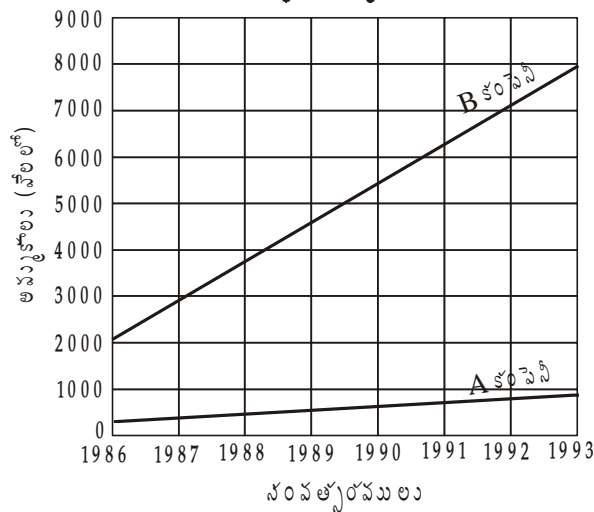
ఉదాహరణ 11 : A, B అనే రెండు సంస్థల అమ్మకాలు వేలలో ఇవ్వడం జరిగింది. రేఖాపటంలో చూపండి.

సం  ము	A కంపెనీ అమ్మకాలు (వేలలో)	B కంపెనీ అమ్మకాలు (వేలలో)	సం  ము	A కంపెనీ అమ్మకాలు (వేలలో)	B కంపెనీ అమ్మకాలు (వేలలో)
1986	200	2,000	1990	600	6,000
1987	300	3,000	1991	700	7,000
1988	400	4,000	1992	800	8,000
1989	500	5,000	1993	900	9,000

పై ప్రశ్నకు సమాధానంగా సామాన్య స్కేలు ద్వారా లేదా సంవర్గమాన స్కేలు ద్వారా కూడా చూపవచ్చు. అయితే రెంటిలోనూ సంవర్గమాన స్కేలు ద్వారా నిర్మించటమే ఉత్తమం. అయిననూ రెండు పద్ధతుల్లో నిర్మించే విధానాన్ని కింద చూపడం జరిగింది.

సామాన్య స్కేలు ద్వారా

A, B సంస్థల అమ్మకాలు వేలలో



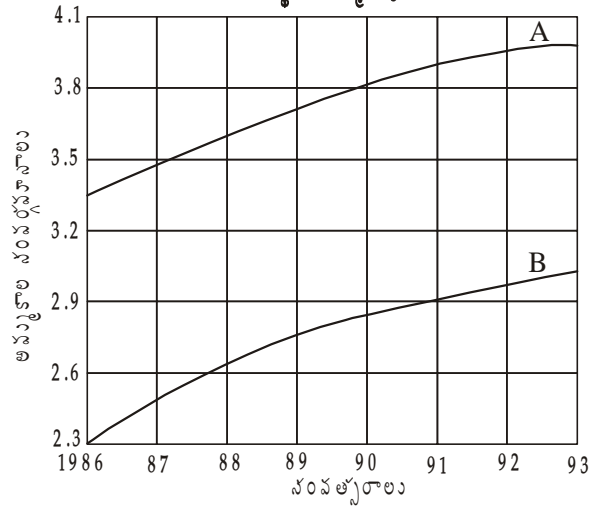
అర్థ సంవర్షమాన రేఖాపటం :

మొదట సాధారణ విలువలను సంవర్షమానాల్లో మార్చాలి

సం॥ము	A సంస్థ అమ్మకాలు (వేలలో)	A సంస్థ అమ్మకపు సంవర్షమానాలు	B సంస్థ అమ్మకాలు	B సంస్థ అమ్మకపు సంవర్షమానాలు
1986	200	2.3010	2,000	3.3010
1987	300	2.4771	3,000	3.4771
1988	400	2.6021	4,000	3.5021
1989	500	2.6990	5,000	3.6990
1990	600	2.7782	6,000	3.7782
1991	700	2.8451	7,000	3.8451
1992	800*	2.9831	8,000	3.9031
1993	900	2.9542	9,000	3.9542

\* పై విలువను పటంలో చూపాము.

A, B సంస్థల అమ్మకపు రేఖ



సంవర్షమాన చిత్రాల పరిమితులు :

1. సాధారణ మానవునికి అవగాహన కావు.
2. సున్నా, రుణాత్మక విలువలను చూపలేము.
3. మొత్తాలను వివిధ భాగాలుగా చూపటం సాధ్యం కాదు.
4. వీటిని రూపొందించాలంటే ప్రత్యేక సామర్థ్యం అవసరం.
5. ఈ పటాల ద్వారా పరమ విలువలను కొలవలేము.

**6.2.2 పానఃపున్య రేఖాపటాలు :** పానఃపున్య పట్టి రూపంలో వున్న సమాచారాన్ని చూపే రేఖాపటాలను పానఃపున్య రేఖాపటాలు అంటారు. పానఃపున్య విభజనం అంటే విచ్చిన్న, అవిచ్చిన్న (శ్రేణుల్లో వున్న సమాచారం. ప్రముఖంగా అవిచ్చిన్న శ్రేణుల్లో వున్న ఈ సమాచారాన్ని రేఖాపటం ద్వారా చూపి, ఆ పటాల ద్వారా వివిధ సగటులను ఉదా : మధ్యగతం, బాహుళకం etc. కనుగొనవచ్చు. పానఃపున్య రేఖాచిత్రాలను నాలుగు రకాలుగా చెప్పవచ్చు.

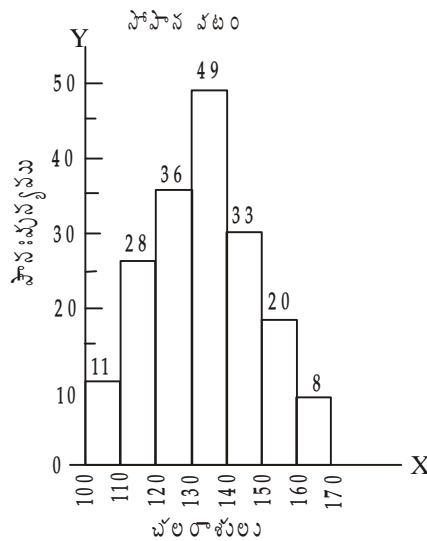
- అవి :
1. సోపానపటం (Histogram)
  2. పౌనఃపున్య బహుభుజి (Frequency Polygon)
  3. పౌనఃపున్య వక్రరేఖ (Frequency Curve)
  4. ఓజివ్ వక్రరేఖలు లేదా సంచిత పౌనఃపున్య వక్రరేఖలు (Ogive Curves or Commulative Frequency Curves). ఈ నాలుగు రకాలైన పటాల నిర్మాణాన్ని గూర్చి ఇప్పుడు మనం తెలుసుకుందాం.

**6.2.2.1 సోపానపటం (Histogram) :** పౌనఃపున్య విభాజనాన్ని చూపటంలో అతి తరచుగా ఉపయోగించే రేఖాపటం సోపాన పటం. ఈ పటంలో పౌనఃపున్య విభాజనంలో వున్న పౌనఃపున్యాలను ఊర్ధ్వ ఆసన్న దీర్ఘచతురస్రాలుగా చూపటం జరుగుతుంది. తరగతి అంతరాలను భూమిగాను, పౌనఃపున్యాన్ని ఎత్తుగా భావించి రూపొందించే చిత్రాన్ని సోపాన పటం అంటారు. ఈ పటం సోపానాలను పోలి వుంటుంది కావున ఈ పటాన్ని సోపాన పటంగా చెప్పటం జరుగుతుంది.

ఈ పటాన్ని నిర్మించాలంటే మొదట X అక్షముపై తరగతి అంతరాలను చూపాలి. Y అక్షము మీద పౌనఃపున్యాన్ని గుర్తించాలి. ఒక్కో తరగతికి ఒక్కొక్క దీర్ఘ చతురస్రం గీస్తారు. ఈ దీర్ఘ చతురస్రం వెడల్పు తరగతి అంతరంగానూ, పొడవు పౌనఃపున్యానికి సమానంగాను గీయడం జరుగుతుంది. ఈ దీర్ఘచతురస్ర వైశాల్యము తరగతి అంతరం దాని పౌనఃపున్యాల లబ్ధానికి సమానం. ఈ విధంగా ప్రతి తరగతి అంతరానికి ఒక దీర్ఘచతురస్రాన్ని ప్రక్కప్రక్కన అమర్చటం వల్ల ఈ దీర్ఘచతురస్రాలు సోపానాల వలే కన్పిస్తాయి. అందుచేతనే దీనిని సోపాన చిత్రం అంటారు. బార్ పటం, సోపాన చిత్రం ఒకటి కాదు. సోపాన చిత్రాన్ని వివృత అవధులున్న తరగతి అంతరాలకు గీయడం సాధ్యం కాదు.

**ఉదాహరణ 12 :** (సమాన తరగతి అంతరాలు) కింది విభాజనాన్ని సోపాన పటంలో చూపండి.

చలరాశులు	పౌనఃపున్యం	చలరాశులు	పౌనఃపున్యం
100 - 110	11	140 - 150	33
110 - 120	28	150 - 160	20
120 - 130	36	160 - 170	8
130 - 140	49		

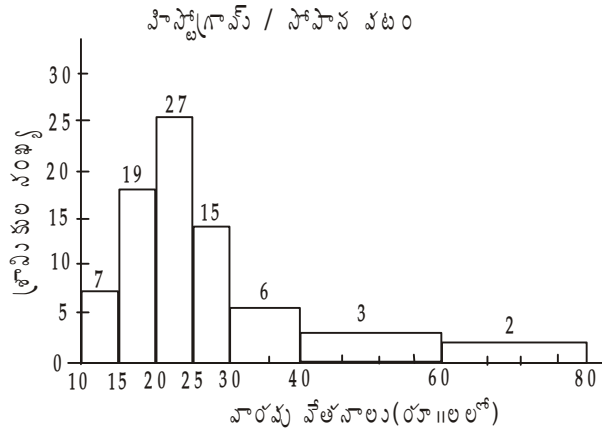


ఉదాహరణ 13 :

కింది విభాజనాన్ని సోపాన పటంలో చూపండి.(అసమాన తరగతులు)

వారపు వేతనాలు(రూ॥లలో)	శ్రామికుల సంఖ్య	వారపు వేతనాలు	శ్రామికుల సంఖ్య
10 - 15	7	30 - 40	12
15 - 20	19	40 - 60	12
20 - 25	19	60 - 80	8
25 - 30	15		

సమాధానం : తరగతి అంతరాలు అసమానంగా వుంటే అందుకు అనుగుణంగా పానఃపున్యాలను సర్దుబాటు చేసుకోవాలి. లేకుంటే చిత్రము తప్పుదోవ పట్టిస్తుంది. అందువల్ల కింది విధంగా సర్దుబాటు చేసుకోవాలి. పై విభాజనంలో అతి తక్కువ పరిమాణం గల తరగతి 5. 30 - 40 తరగతి పానఃపున్యం 12ను రెండుతో భాగించి (ఎందుకంటే తరగతి పరిమాణం 10 అంటే 5కు రెట్టింపు) పానఃపున్యం 6గా గుర్తించాలి. 40-60 తరగతి పానఃపున్యం 4తో భాగించి 3గా గుర్తించాలి.



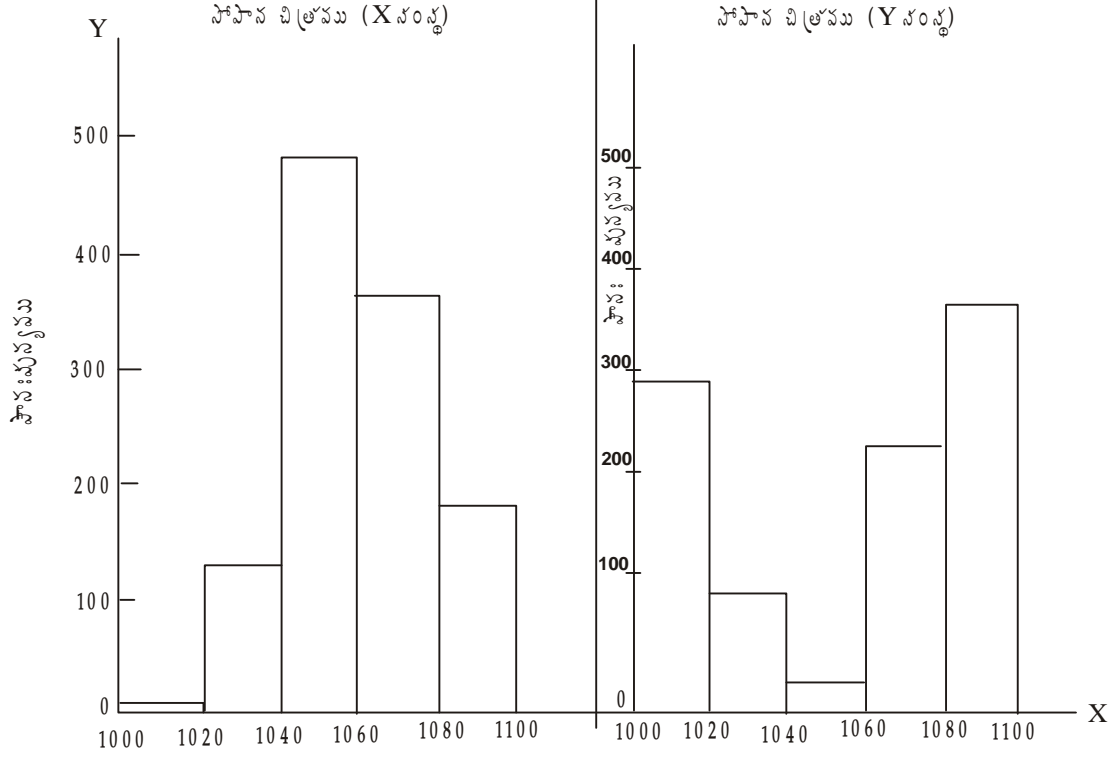
ఉదాహరణ 14 : కింది దత్తాంశాన్ని సోపాన పటాల్లో చూపండి.

ఎలక్ట్రిక్ లాంతరుల జీవిత కాలము (గంటలలో)	1010	1030	1050	1070	1090
(మధ్య విలువలు)					
X సంస్థ	10	130	482	360	18
Y సంస్థ	287	105	26	230	352

జవాబు : పై దత్తాంశాన్ని రేఖాచిత్రంలో గుర్తించడానికి ఇచ్చిన మధ్యవిలువలకు తరగతి అంతరాలు నియమించి తిరిగి పట్టి వ్రాయవలెను.

లాంతరు జీవిత కాలము	పానఃపున్యము X	పానఃపున్యము Y
1000 - 1020	10	287
1020 - 1040	130	105
1040 - 1060	482	26

1060 - 1080	360	230
1080 - 1100	18	352



విద్యార్థిపాల జీవిత కాలము - గంటలలో

**6.2.2.2 పానఃపున్య బహుభుజి (Frequency Polygon) :** పానఃపున్య విభజనాన్ని గుర్తించేందుకు ఉపయోగించే రేఖాచిత్రమే పానఃపున్య బహుభుజి. ఈ రేఖ అనేక భుజులను కలిగి వుంటుంది. అందుచేత దీనిని పానఃపున్య బహుభుజి అంటారు. ఈ పటాన్ని రెండు రకాలుగా నిర్మించడం జరుగుతుంది. 1. సోపాన పటాన్ని గీచి, అందులోని దీర్ఘచతురస్రాల మీద క్షితిజ రేఖల మధ్య బిందువు గుండా సరళరేఖలు గీస్తే పానఃపున్య బహుభుజి వస్తుంది. 2. ఇచ్చిన తరగతి మధ్య విలువలుకనుగొని, వాటికనుగుణంగా పానఃపున్యాలను బిందువులతో గుర్తించి వాటిని సరళరేఖవలే కలిపితే కూడా పానఃపున్య బహుభుజి వస్తుంది. ఈ రెండు పద్ధతుల్లో మొదటి పద్ధతినే ఎక్కువగా వాడడం జరుగుతుంది.

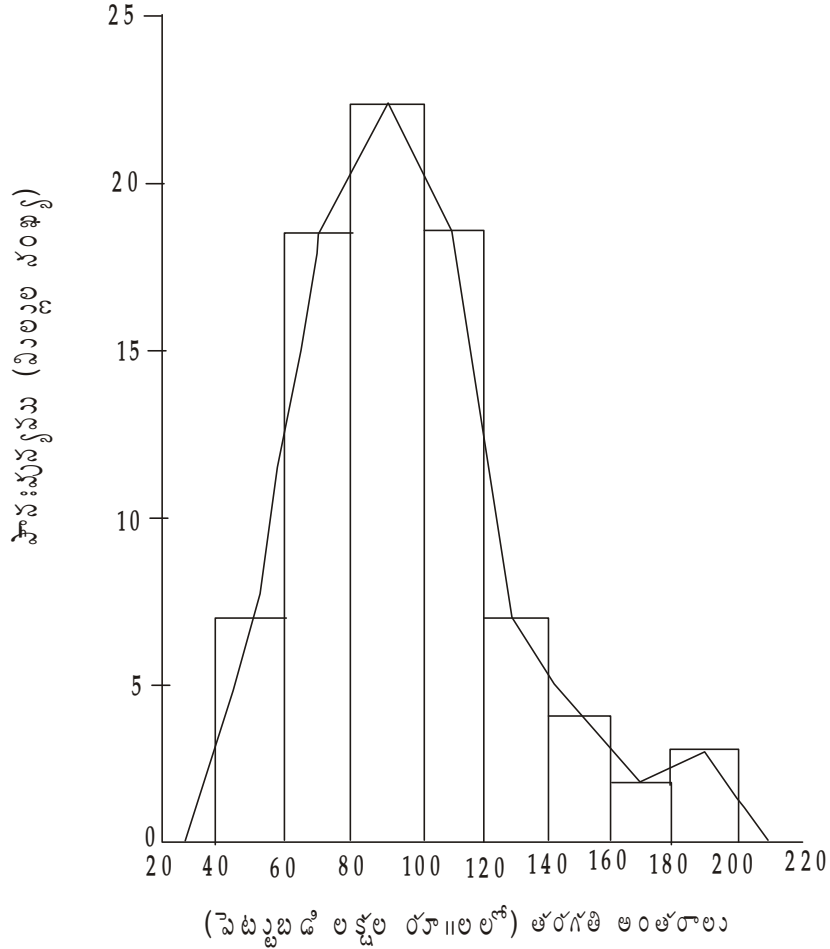
**ఉదాహరణ 15 :** ఈ క్రింది దత్తాంశానికి సోపానము గీసి, పానఃపున్య బహుభుజి నిర్మించండి.

పెట్టుబడి (లక్షల రూపాయలలో)	మిల్లుల సంఖ్య
40 - 60	7
60 - 80	19
80 - 100	23
100 - 120	19

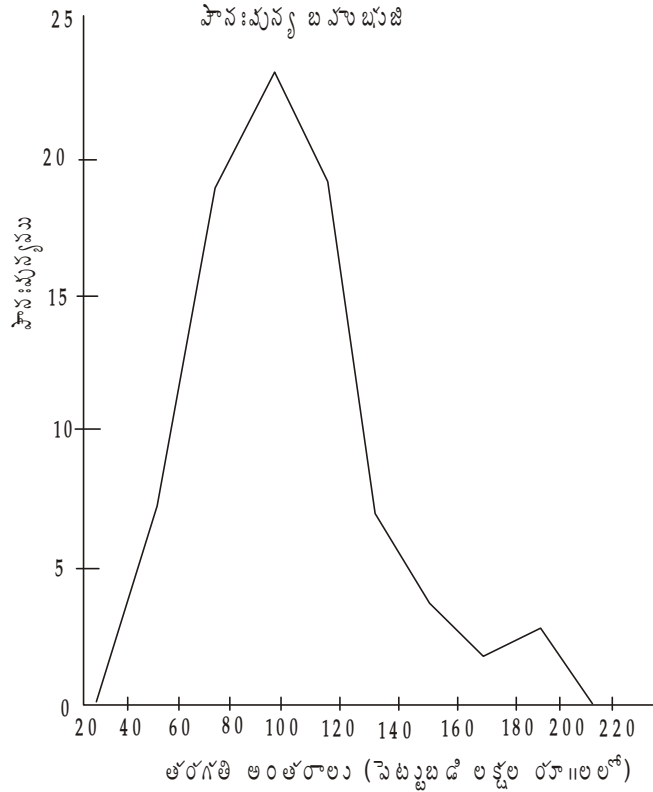
120 - 140	7
140 - 160	4
160 - 180	2
180 - 200	3

జవాబు : రేఖా చిత్రంలో X - అక్షంపై పెట్టుబడిని, మిల్లల సంఖ్యను (పానఃపున్యాన్ని) Y - అక్షంపై తీసుకోవటం జరిగింది. X - అక్షంపై దత్తాంశాన్ని 20 తరగతి అంతరంగా గుర్తించడం జరిగింది. Y - అక్షంపై స్కేలు 5గా, 25 వరకు గుర్తించడం జరిగింది. తరగతి అంతరం భూమిగా, పానఃపున్యం ఎత్తుగా మొదట సోపాన పటాన్ని గీయటం జరిగింది. తరువాత X - అక్షంలో మధ్య బిందువులను గుర్తించి దాని తాలూకు పానఃపున్యాన్ని బిందువులతో గుర్తించి, ఆ బిందువులను సరళరేఖ ద్వారా కలిపితే పానఃపున్య బహుభుజి వస్తుంది.

సోపాన చిత్రము - పానఃపున్య బహుభుజి



పై సమాచారంతో కేవలం బహుభుజిని మాత్రమే కూడా నిర్మించవచ్చును. తరగతి అంతరాలు X అక్షంపై, పానఃపున్యం Y అక్షంపై గుర్తించిన తరువాత మధ్య విలువలకు పానఃపున్యానికి గల సంబంధాన్ని బిందువులతో గుర్తించి, వాటిని స్కేలుతో సరళరేఖవలె కలిపితే పానఃపున్య బహుభుజి లభ్యమవుతుంది.



**6.2.2.3 పానఃపున్య వక్రరేఖ (Frequency Curves) :** మధ్య విలువలకు, పానఃపున్యానికి గల సంబంధాన్ని బిందువులతో గుర్తించి వాటిని స్కేలుతో కలిపితే వచ్చే రేఖ బహుభుజి అయితే ఆ బిందువులను చేతితో సరస వక్రరేఖ వలే కలిపితే వచ్చు రేఖను పానఃపున్య వక్రరేఖ అంటారు. పానఃపున్య బహుభుజి దిగువనున్న విస్తీర్ణం ఎంత వుంటుందో పానఃపున్య వక్రరేఖ దిగువ విస్తీర్ణం కూడా ఉరమరగా అంతే ఉండేటట్లు రేఖను గీసుకునే జాగ్రత్తలు తీసుకోవాలి. ఇచ్చిన సమాచారం ఒక దత్తాంశం తాలూకు ప్రతిచయనం అయితే ఈ వక్రరేఖను గీయటం ఉపయోగకరం.

పానఃపున్య వక్రరేఖ గీసే ముందు విధిగా పానఃపున్య బహుభుజి నిర్మించాలి. ఆ తరువాత వివిధ బిందువులను చేతితో కలుపుతూ పానఃపున్య వక్రరేఖను గీయాలి. గతంలో చెప్పిన విధంగా ఈ పానఃపున్య బహుభుజి, పానఃపున్య వక్రరేఖలను

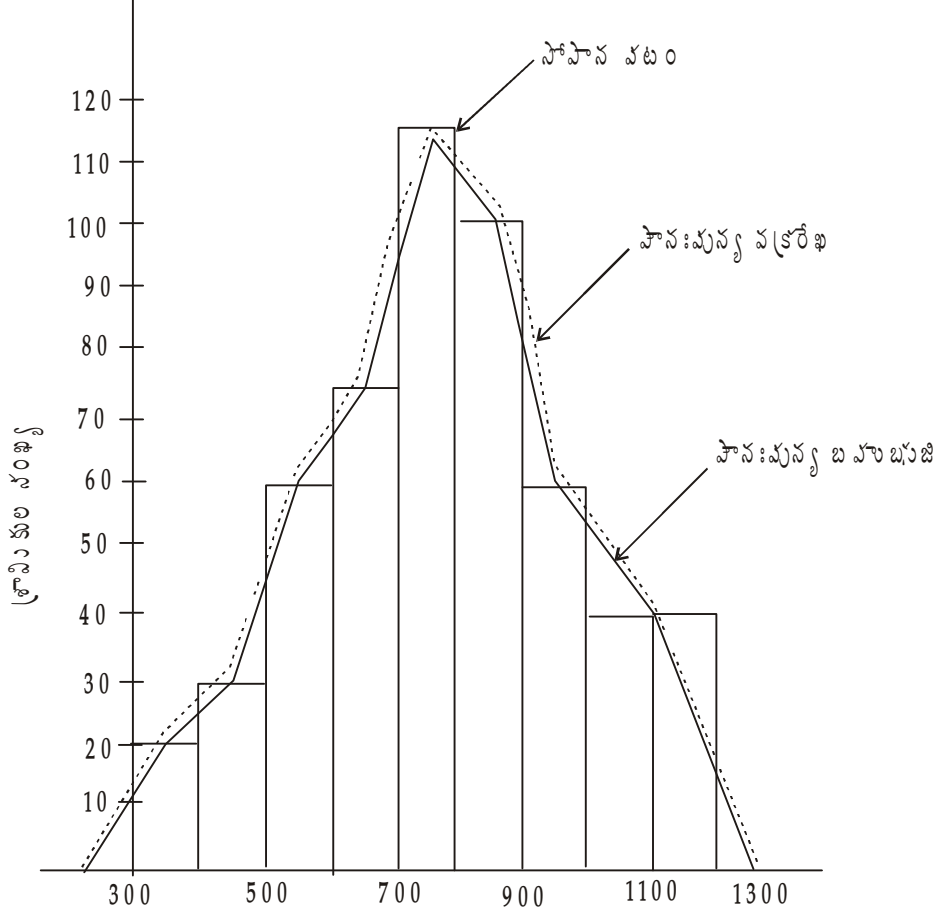
1. సోపాన పటం గీచి తరువాత నిర్మించవచ్చు.
2. సోపాన పటం లేకుండా కూడా నిర్మించవచ్చు.

పానఃపున్య వక్రరేఖను గీచేటప్పుడు గంటాకారంగా మలచవలసి వుంటుంది. ఈ పటాల నిర్మాణాన్ని గూర్చి ఇప్పుడు మనం తెలుసుకుందాం. సోపాన పటం గీచి నిర్మించడాన్ని తెలుసుకుందాం.

**ఉదాహరణ 16 :** కింది సమాచారాన్ని సోపాన పటం గీచి, పానఃపున్య బహుభుజి మరియు పానఃపున్య వక్రరేఖను గీయండి.

కార్మికుల వేతనాలు (Rs.)	కార్మికుల సంఖ్య	కార్మికుల వేతనాలు (Rs.)	కార్మికుల సంఖ్య
300 - 400	20	700 - 800	115
400 - 500	30	800 - 900	100

500 - 600	60	900 - 1000	60
500 - 700	75	1000 - 1200	40



వేతనం (రూ॥)

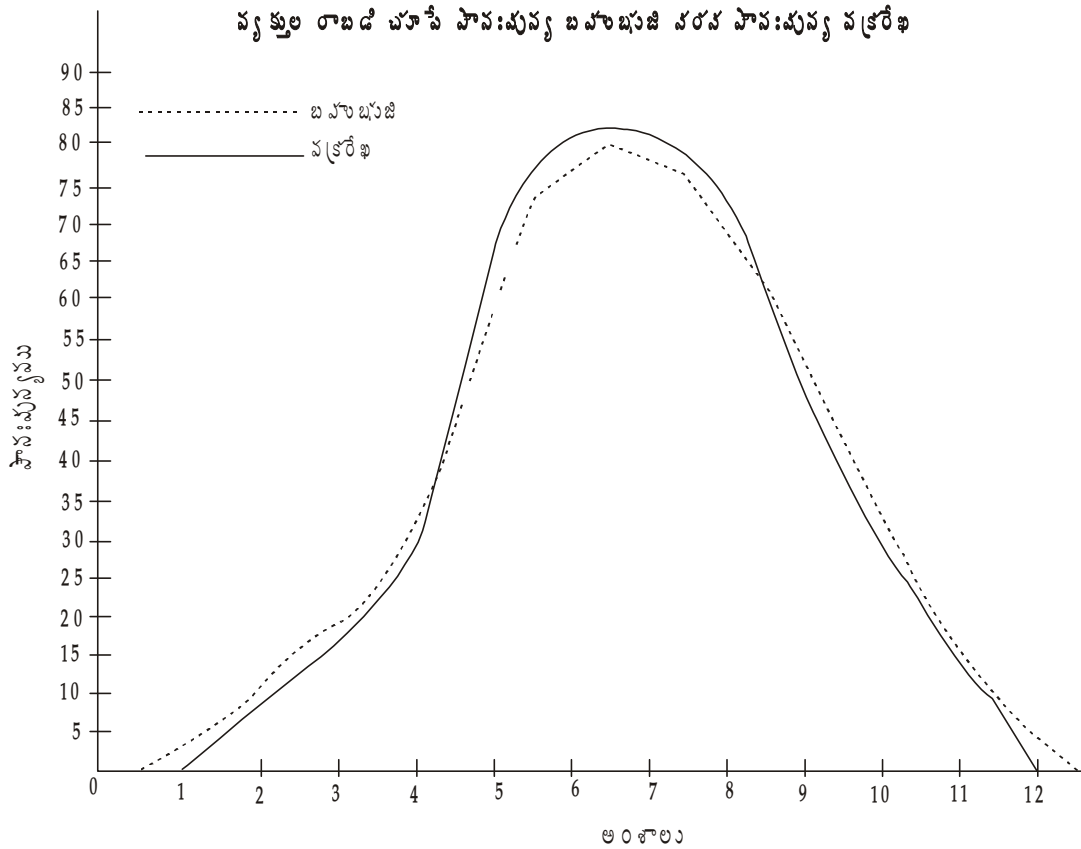
ఉదాహరణ 17 : కింది విభజనానికి పానఃపున్య బహుభుజిని, పానఃపున్య వక్రరేఖను సోపాన పటం లేకుండా గీయండి.

అంశాలు	పానఃపున్యం
1 - 2	6
2 - 3	16
3 - 4	23
4 - 5	43
5 - 6	74
6 - 7	80
7 - 8	76
8 - 9	63



9 - 10	42
10 - 11	23
11 - 12	9

పై దత్తాంశంలో అంశాలను X అక్షంపై, పానఃపున్యాన్ని Y అక్షంపై తీసుకొని స్కేలును నిర్మించడం జరిగింది. మధ్య బిందువులకు, పానఃపున్యానికి గల సంబంధాన్ని మొదట బిందువులతో గుర్తించాలి. ఆ బిందువులను స్కేలుతో సరళరేఖ వలె బిందువు నుంచి బిందువులకు కలుపగా వచ్చిన రేఖను పానఃపున్య బహుభుజి అంటాము. ఆ గుర్తించిన బిందువులనే సరస వక్రరేఖవలె గంటాకారంలో కలుపగా వచ్చే రేఖను పానఃపున్య వక్రరేఖ అంటాము. ఈ విధంగా నిర్మించిన రేఖలను కింది పటం తెలుపుతుంది.



**6.2.2.4 సంచిత పానఃపున్య వక్రరేఖలు లేదా ఓజివ్ వక్రరేఖలు :** సంచిత పానఃపున్య వక్రరేఖలనే ఓజివ్ వక్రరేఖలని కూడా అంటారు. కొన్ని సమయాల్లో మనకు భిన్నమైన సమాచారం కావలసి రావచ్చు. ఉదా॥కు ఒక ప్యాక్టరీలో వున్న కార్మికులలో ఎంత మంది 2000 రూపాయల లోపు వేతనం పొందుచున్నారు. ఎంత మంది 2000 రూపాయల పైన వేతనం పొందుచున్నారు. అదే విధంగా ఒక తరగతిలోని విద్యార్థుల్లో ఎంత మందికి 50 లోపు మార్కులు వచ్చాయి, ఎంత మందికి 50 కన్నా ఎక్కువ వచ్చాయి. ఈ విధమైన ప్రశ్నల సమాధానాలు పై రేఖాపటాలు చెప్పలేవు.

పై ప్రశ్నలకు సమాధానాలు ఇవ్వాలంటే సాధారణ పానఃపున్యాలు పనికిరావు. పానఃపున్యాలను సంచితం చేయవలసి లేదా కలుపవలసి వుంటుంది. అందుచేత ఇచ్చిన పానఃపున్య విభజనాన్ని సంచిత పానఃపున్య పట్టి రూపంలో అమర్చుకోవాలి. ఈ పట్టిని రేఖాపటంలో చూపగా వచ్చే రేఖలను సంచిత పానఃపున్య వక్రరేఖలు లేదా ఓజివ్ వక్రరేఖలు అంటాము. ఓజివ్ వక్రరేఖలను రెండు విధాలుగా కనుగొంటాము. ఎ) కంటే తక్కువ పద్ధతి బి) కంటే ఎక్కువ పద్ధతి

ఈ రెండు పద్ధతులలో ఓజివ్ వక్రరేఖలను కనుగొనే విధాన్ని పరిశీలిద్దాం.

- ఎ) కంటే తక్కువ పద్ధతి : ఈ పద్ధతిలో తరగతులను ఎగువ అవధుల ప్రాతిపదికగా 'కంటే తక్కువ' రూపంలో మార్చటం జరుగుతుంది. అందుకు అనుగుణంగా పానఃపున్యాలను కూడా కలపడం జరుగుతుంది. ఈ విధంగా కలపగా వచ్చిన వాటిని ఆరోహణ సంచిత పానఃపున్యం అంటాము. ఆ తరువాత ఎగువ అవధులకు, సంచిత పానఃపున్యాలకు గల సంబంధాన్ని రేఖాపటంలో చూపడం జరుగుతుంది. ఈ విధంగా రూపొందించిన ఓజివ్ రేఖ క్రమ క్రమంగా పెరుగుతూ పోతుంది. కావున దీనిని ఆరోహణ సంచిత పానఃపున్య వక్రరేఖ అంటాము.
- బి) కంటే ఎక్కువ పద్ధతి : ఈ పద్ధతిలో తరగతులను దిగువ అవధి ప్రాతిపదికగా 'కంటే ఎక్కువ' రూపంలో మార్చడం జరుగుతుంది. తరువాత ప్రారంభ తరగతికి మొత్తం పానఃపున్యం, తరువాత తరగతి తరగతికి క్రమంగా తగ్గించుకుంటూ పోవడం జరుగుతుంది. కావున దీనిని అవరోహణ సంచిత పానఃపున్యం అంటారు. తరువాత దిగువ అవధులు, సంచిత పానఃపున్యానికి గల సంబంధాన్ని రేఖాపటంలో గుర్తించి కలపగా వచ్చిన రేఖ క్రమక్రమంగా తగ్గుతూ వుంటుంది. అందుచేత దీనిని అవరోహణ సంచిత పానఃపున్య వక్రరేఖ అంటాము.

ఓజివ్ వక్రరేఖల వల్ల ఉపయోగాలు :

1. ఒక నిర్దిత విలువలోపు గల, ఆపై గల అంశాలు కనుగొనవచ్చు.
2. రెండు లేదా అంతకంటే ఎక్కువ విభాజనాలను పోల్చవచ్చు.
3. మధ్యగతం, మధ్యగతంపై ఆధారపడిన చతుర్థాంశాలు, అష్టాంశాలు మొదలైన వాటిని కనుగొనవచ్చు.

ఉదాహరణ 18 : కింది విభాజనాన్ని ఆధారంగా చేసుకొని ఓజివ్ వక్రరేఖలను గీయండి.

లాభాలు (కోట్లలో)	కంపెనీల సంఖ్య
10 - 20	6
20 - 30	8
30 - 40	12
40 - 50	18
50 - 60	25
60 - 70	16
70 - 80	8
80 - 90	5
90 - 100	2

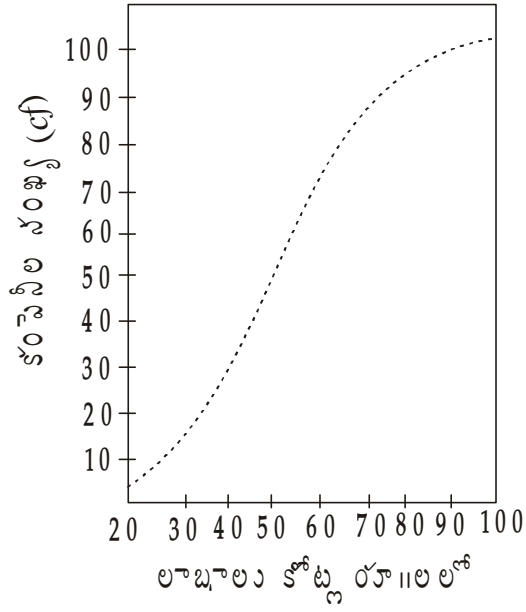
జవాబు : మొదట ఇచ్చిన విభాజనాన్ని కంటే తక్కువ, కంటే ఎక్కువ రూపంలోకి మార్చుకోవాలి.

ఎ) కంటే తక్కువ రూపం :

లాభాలు కంటే తక్కువ (కోట్లలో)	కంపెనీల సంఖ్య(cf)
20	6
30	14
40	26

50	44
60	69
70	85
80	93
90	98
100	100

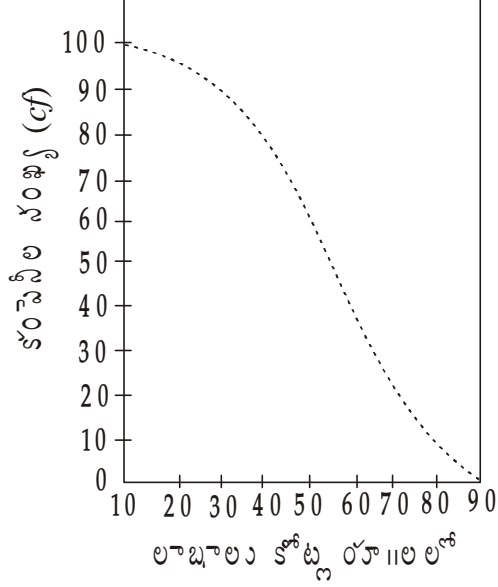
కంటే తక్కువ సంచిత పాఠశున్య వక్రరేఖ



బి) కంటే ఎక్కువ రూపం :

లాభాలు కంటే ఎక్కువ (కోట్లలో)	కంటేనీల సంఖ్య
10	100
20	94
30	86
40	74
50	56
60	31
70	15
80	7
90	2

## కంటే ఎక్కువ సంచిత పానఃపున్య వక్రరేఖ



ఉదాహరణ 20 : దిగువ విభాజన ప్రాతిపదికగా కింది ప్రశ్నలకు సమాధానం వ్రాయుము.

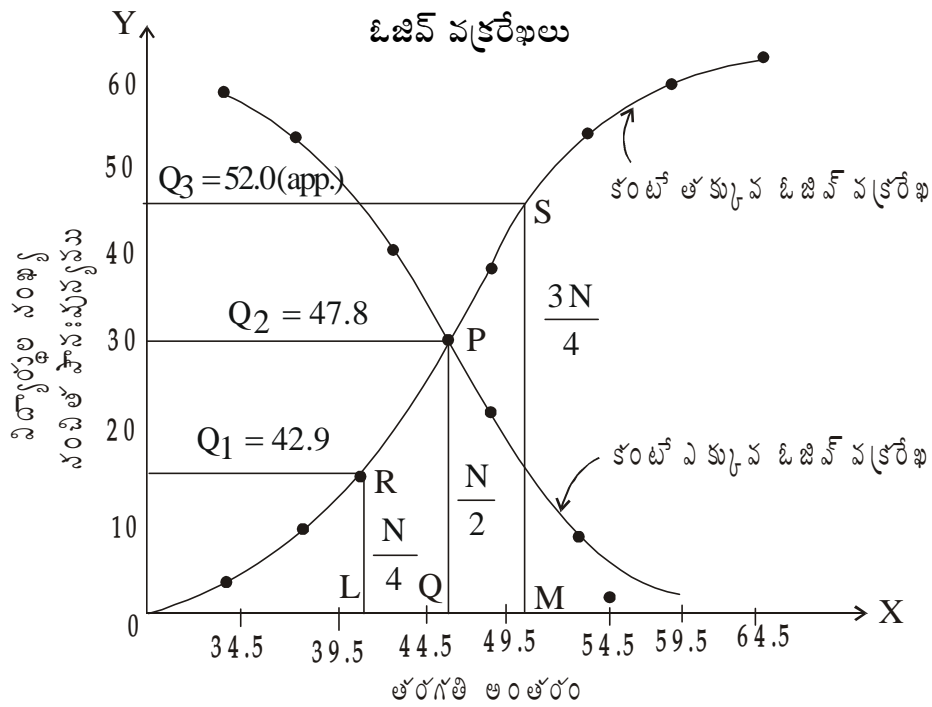
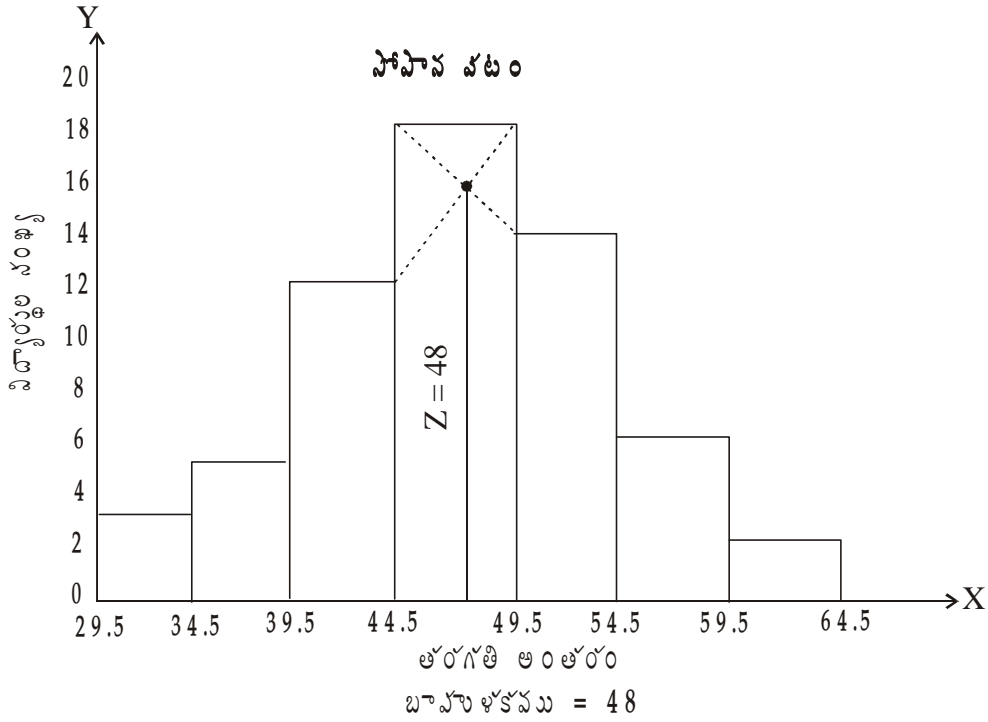
బరువు (కి.గ్రా॥లలో)	విద్యార్థుల సంఖ్య
30 - 34	3
35 - 39	5
40 - 44	12
45 - 49	18
50 - 54	14
55 - 59	6
60 - 64	2

1. సోపాన పటాన్ని గీచి బాహుళకాన్ని కనుక్కోండి.
2. ఓజివ్ వక్రరేఖల ద్వారా మధ్యగతాన్ని కనుక్కోండి.
3.  $Q_1, Q_2, Q_3$  లను కనుక్కోండి.

జవాబు : మొదట సమగ్రలోకి తరగతులు మార్చాలి. ఆ తరువాత కంటే తక్కువ, కంటే ఎక్కువ రూపంలోకి మార్చుకుని రేఖాపటాలను గీయాలి.

బరువు (కి.గ్రా)	విద్యార్థుల సంఖ్య	కంటే తక్కువ సంచిత పానఃపున్యం	కంటే ఎక్కువ సంచిత పానఃపున్యం
29.5 - 34.5	3	3	60
34.5 - 39.5	5	8	57
39.5 - 44.5	12	20	52
44.5 - 49.5	18	38	40
49.5 - 54.5	14	52	22

54.5 - 59.5	6	58	8
59.5 - 64.5	2	60	2



మధ్యగతం (M) = 47.8, మొదటి చతుర్థాంశం (Q<sub>1</sub>) = 42.9, మూడవ చతుర్థాంశం (Q<sub>3</sub>) = 52.0

**6.2.3 రేఖాచిత్రపటాల పరిమితులు :** దత్తాంశ సమర్పణకు రేఖాచిత్రపటాలు అతి ముఖ్యమైన సాధనాలు. అయితే అన్ని సందర్భములలో, అన్ని పరిస్థితుల్లో ఇతర సమర్పణ సాధనాలకు బదులు వీటిని ఉపయోగించటం సాధ్యం కాదు. అంటే వీటి వల్ల కొన్ని ప్రయోజనాలు ఉన్నను, కొన్ని పరిమితులు కూడా లేకపోలేదు. అంటే రేఖాచిత్ర పటాలను ఉపయోగించే వారికి, వాటి పరిమితులపై కూడా అవగాహన వుంటే వీటిని మరింత ప్రయోజనకరంగా వాడటానికి అవకాశం ఏర్పడుతుంది. వీటి ముఖ్యమైన పరిమితులు ఏమనగా :

1. రేఖా చిత్రపటాల్లో చూపే విలువలు రూపాంతర (Approximate) విలువలు ఖచ్చితమైనవి కావు.
2. రేఖా చిత్ర పటాల్లో పరిమిత సమాచారాన్ని మాత్రమే చూపగలము.
3. సాధారణ ప్రజానీకానికి కొంత పరిమాణాత్మక సమాచారం తెలపటానికే ఉపయోగపడతాయి. గణాంక శాస్త్రవేత్తలు విశ్లేషించేందుకు అంతగా పనికిరావు.
4. సమాచారాన్ని తప్పుగా విశ్లేషించేందుకు రేఖా, చిత్ర పటాలకు అవకాశం వుంది.
5. ద్విపరిమాణ, త్రిపరిమాణ చిత్రాలను చూపడం, విశ్లేషించటంలో కొంత క్లిష్టత ఇమిడి వుంది. అందుచేత ఆ విధమైన చిత్రాలను ఉపయోగించడం వీలైనంతవరకు తగ్గించడం మంచిది.

### 6.3 సారాంశం

దత్తాంశాన్ని సమర్పించే పద్ధతుల్లో రేఖా చిత్రపటాలు ముఖ్యమైనవి. రేఖా చిత్ర పటాలు గ్రాఫ్ పేపరు మీద, ఖచ్చిత స్కేలుతో, వివిధ నియమాలు పాటిస్తూ గీయవలసి వుంటుంది. వాస్తవ ప్రపంచంలో అనేక రేఖాచిత్రాలను ఉపయోగించడం జరుగుచున్ననూ అందులో బహు తరచుగా ఉపయోగించే రేఖా పటాలను 1. కాలశ్రేణుల రేఖాపటాలు, 2. పోనోపున్య రేఖా పటాలని చెప్పవచ్చు. కాలానుగుణంగా రూపొందించే పటాలను కాలశ్రేణుల రేఖాపటాలుగా చూపడం జరుగుతుంది. కాలశ్రేణుల రేఖాపటాలను ఒక చలరాశిని చూపే పటాలని, రెండు చలరాశులను చూపే పటాలని, వ్యాప్తి రేఖాపటం, మిశ్రమ రేఖాపటం, Z రేఖాపటం అని వివిధ రకాలుగా అవసరతను బట్టి రూపొందించడం జరుగుతుంది. పోనోపున్య విభజనాన్ని చూపే పటాలను పోనోపున్య రేఖాపటాలు అంటారు. అవి సోపాన పటము, పోనోపున్య బహుభుజి, పోనోపున్య వక్రరేఖ, ఓజివ్ వక్రరేఖలు. సోపాన పటం ద్వారా బాహుళకాన్ని కనుగొనవచ్చు. ఓజివ్ వక్రరేఖల ద్వారా మధ్యగతాన్ని, మధ్యగతంపై ఆధారపడి రూపొందించే కొలమానాలైన చతుర్థాంశాలు, అష్టాంశాలు మొదలైన వాటిని కనుగొనవచ్చు. అయితే ఈ రేఖాపటాల ఉపయోగానికి కొన్ని పరిమితులు కూడా లేకపోలేదు. రేఖాపటాలు నిర్మించుకునేటప్పుడు పరిమితులను దృష్టిలో వుంచుకోవాలి. అప్పుడే రూపొందించిన రేఖాచిత్రాలు మంచి ఫలితాలనిస్తాయి.

### 6.4 ముఖ్య పదాలు

1. మిథ్యా ఆధార రేఖ : Y - అక్షంపై స్కేలు '0'తో కాక మరేదైనా సంఖ్యతో ప్రారంభించేందుకు వాడే రేఖను మిథ్యా ఆధార రేఖ అంటారు. ఈ రేఖ వాడితే ప్రారంభించిన అంకె నుంచి మాత్రమే స్కేలును పరిగణించాలి.
2. వ్యాప్తి : అత్యధిక, అత్యల్ప విలువల మధ్య గల వ్యత్యాసమే వ్యాప్తి.
3. మిశ్రమ రేఖా చిత్రం : ఒకే పటంలో రేఖాపటాన్ని, చిత్ర పటాన్ని చూపటాన్నే మిశ్రమ రేఖా చిత్రం అందురు.
4. బాహుళకం : విభజనంలో ఏ అంశం అతి తరచుగా లభ్యమవుతుందో ఆ అంశాన్నే బాహుళకం అంటారు.
5. మధ్యగతం : విభజనాన్ని ఒక క్రమ పద్ధతిలో అమర్చిన తరువాత ఏ విభజనం దత్తాంశాన్ని రెండు సమభాగాలుగా చేస్తుందో దానినే మధ్యగతం అంటారు.

**6.5 సమూహ ప్రశ్నలు**

1. రేఖాచిత్ర నిర్మాణంలో పాటించవలసిన సూత్రాలను తెల్పండి.
2. సాధారణ స్కేలు, నిష్పత్తి స్కేలులను తారతమ్యం చేయండి.
3. రేఖాచిత్రాలలోని రకాలను పేర్కొని వాటి ఉపయోగములు, పరిమితులు వ్రాయండి.
4. సోపాన చిత్రమంటే ఏమిటి? అది నిర్మించడం ఎట్లా? అసమాన తరగతి అంతరాలు గల దత్తాంశానికి సోపాన చిత్రము గీయడం ఎట్లా?
5. ఇండియాలో ధాన్యపు ఉత్పత్తి విస్తీర్ణము వివిధ సంవత్సరాలలో ఇచ్చినాము. ఈ దత్తాంశాన్ని చూపుతూ సరి అయిన రేఖాచిత్రము గీయండి.

సంవత్సరము	విస్తీర్ణము (మిలియన్ టన్నులలో)	ఉత్పత్తి (మిలియన్ టన్నులలో)
1952 - 53	74.1	22.5
1953 - 54	77.3	27.8
1954 - 55	76.1	24.8

6. క్రింది దత్తాంశాన్ని రేఖాచిత్రంలో చూపండి. వివిధ సంవత్సరాలలో ఇండియాలో టోకు ధరల సూచీ సంఖ్యలు ఇచ్చినారు.

సంవత్సరాలు	ఆహారపదార్థాలు	ఉత్పత్తి సరుకులు
1948	306	286
1949	383	346
1950	391	347
1951	416	354
1952	399	401

7. నిష్పత్తి స్కేలుకు సాధారణ స్కేలుకన్నా అధికంగా వుండే ప్రయోజనాలేవి? కింది దత్తాంశాన్ని సంవర్గమాన మాపక స్కేలుతో రేఖాచిత్రము గీయండి.

సంవత్సరము	విడుదల చేసిన నోట్లు (కోట్ల రూపాయలలో)	చలామణిలో వున్న నోట్లు (కోట్ల రూపాయలలో)
1933 - 34	177	167
1934 - 35	186	172
1935 - 36	196	167
1936 - 37	208	193
1937 - 38	214	185

1938 - 39	207	187
1939 - 40	252	237
1940 - 41	269	258
1941 - 42	421	410
1942 - 43	650	625

8. మొదటి తరగతి రైల్వేలు పనిచేసిన ఫలితాలు రేఖాచిత్రంలో చూపి వ్యాఖ్యానించండి.

సంవత్సరము	పెట్టుబడి	స్థూలరాబడి
1923 - 24	464	70
1924 - 25	473	74
1925 - 26	487	73
1926 - 27	505	72
1927 - 28	594	86
1928 - 29	599	86
1929 - 30	617	84
1930 - 31	627	77
1931 - 32	631	71

9. కింది దత్తాంశానికి సోపాన చిత్రము గీయండి.

వారపు వేతనాలు (రూ॥లు.)	కార్మికుల సంఖ్య
10 - 15	7
15 - 20	19
20 - 25	27
25 - 30	15
30 - 40	12
40 - 50	12
60 - 80	8

10. ఒక కంపెనీలో గంటకు వేతనాలు, కార్మికుల సంఖ్య ఇచ్చినారు. గ్రాఫ్ కాగితంపై సోపాన చిత్రము, పానఃపున్య బహుభుజి గీయండి.

గంటకు వేతనాలు సెంటల్లో (x)	కార్మికుల సంఖ్య (f)
0 - 10	18
10 - 20	196
20 - 30	438
30 - 40	844



40 - 50	744
50 - 60	440
60 - 70	177
70 - 80	52
80 - 90	17
90 - 100	3
100 - 110	1

11. వివిధ కంపెనీల మూలధనం లక్షల రూపాయలలో ఇచ్చినారు. ఈ దత్తాంశాన్ని చూపే సోపాన చిత్రము, పానఃపున్య బహుభుజి గీయండి.

వ్యాప్తి (లక్షల రూపాయలలో)	కంపెనీల సంఖ్య
0 - 10	10
10 - 20	12
20 - 30	10
30 - 50	14
50 - 80	7
80 - 100	8
100 పైగా	5

12. క్రింది దత్తాంశంతో సోపాన చిత్రము, పానఃపున్య బహుభుజి, సరస పానఃపున్య వక్రము ఓజివ్ రేఖలు సంచిత పానః పున్య వక్రరేఖా చిత్రాలు గీయండి.

మార్కులు	పానఃపున్యము
0 - 10	4
10 - 20	10
20 - 30	16
30 - 40	22
40 - 50	20
50 - 60	18
60 - 70	8
70 - 80	2

13. బ్యాంక్ ఆఫ్ ఇంగ్లాండ్ బంగారం అమ్మకాలు (విదేశీయ ఖాతాలలో అమ్మినది) ఇచ్చినారు. ఈ దత్తాంశాన్ని సంవర్షమాన మాపక స్కేలులో రేఖాచిత్రంలో చూపండి.

సంవత్సరము	పానులు (000)
1910	14,448
1911	8,228

1912	9,670
1913	7,943
1914	8,027
1915	43,076
1916	2,360

14. కింది దత్తాంశములో మూడు పట్టణాల సూచీ సంఖ్యలిచ్చినారు (1939 = 100). రేఖా చిత్రము గీయండి.

సంవత్సరము	కాన్పూర్	నాగపూర్	కలకత్తా
1944	314	267	279
1945	308	259	283
1946	328	285	275
1947	378	320	309
1948	471	372	339
1949	478	377	348
1950	434	372	349
1951	451	391	370
1952	441	389	351
1953	453	387	349

15. కింది దత్తాంశంలో క్యూబా, జావా, ఇండియాల పంచదార ఉత్పత్తి (1930-39లలో మిలియన్ల క్వీంటాళ్ళలో) ఇచ్చినారు. ఈ దత్తాంశాన్ని చూపే సరిఅయిన రేఖా చిత్రము గీసి ఆయా దేశాల బాంధవ్యాన్ని వ్యాఖ్యానించండి.

సంవత్సరము	క్యూబా	జావా	ఇండియా
1929 - 30	44	29	17
1930 - 31	30	28	20
1931 - 32	25	26	24
1932 - 33	19	14	28
1933 - 34	22	6	30
1934 - 35	25	5	31
1936 - 37	29	14	40
1937 - 38	29	14	32
1938 - 39	26	15	27

16. కింది పానఃపున్య విభజనాన్ని రేఖాచిత్రంలో చూపండి. సంచిత పానఃపున్య వక్రరేఖ కూడా గీయండి.

తరగతి అంతరాలు	పానఃపున్యము	తరగతి అంతరాలు	పానఃపున్యము
0 - 5	13	30 - 35	250
5 - 10	42	35 - 40	237
10 - 15	135	40 - 45	135

15 - 20	237	45 - 50	42
20 - 25	250	50 - 55	13
25 - 30	256		

17. కింది దత్తాంశంలో ఇండియాలో కాగితపు ఉత్పత్తి వేల టన్నులలో ఇచ్చినారు. Z రేఖాచిత్రాన్ని గీయండి.

వెలలు	1949	1950	1951
జనవరి	8.1	8.3	10.0
ఫిబ్రవరి	7.7	8.5	9.9
మార్చి	8.7	9.1	11.0
ఏప్రిల్	9.1	8.7	10.5
మే	9.0	9.5	11.2
జూన్	9.1	8.7	10.5
జూలై	9.1	9.3	10.9
ఆగస్ట్	9.0	9.4	10.1
సెప్టెంబరు	9.0	9.4	11.3
అక్టోబరు	8.4	9.0	11.4
నవంబరు	8.2	9.3	11.4
డిసెంబరు	8.9	9.7	12.1

18. కింది విభజనానికి సోపాన పటాన్ని గీయండి.

ఆదాయం (Rs.)	వ్యక్తుల సంఖ్య	ఆదాయం (Rs.)	వ్యక్తుల సంఖ్య
100 - 149	21	300 - 349	112
150 - 199	32	350 - 399	50
200 - 249	52	400 - 449	42
250 - 299	105	450 - 499	16

19. కింది విభజనానికి సోపాన పటం, పానఃపున్య బహుభుజి, పానఃపున్య వక్రరేఖ గీయండి.

వేతనాలు (రూ॥లలో)	0 - 10	10 - 20	20 - 30	30 - 40
కార్మికుల సంఖ్య	2	4	11	15
వేతనాలు (రూ॥లలో)	40 - 50	50 - 60	60 - 70	70 - 80
కార్మికుల సంఖ్య		18	15	4

20(ఎ). ఓజిన్ వక్రరేఖలు గీచి మధ్యగతం కనుక్కోండి.

వారపు వేతనాలు(రూ॥లలో)	పానఃపున్యము	వారపు వేతనాలు	పానఃపున్యము
12.5 - 17.5	2	37.5 - 42.5	12
17.5 - 22.5	22	42.5 - 47.5	10

22.5 - 27.5	10	47.5 - 52.5	9
27.5 - 32.5	14	52.5 - 57.5	8
32.5 - 37.5	23		
		మొత్తం	110

(బి). సోపాన పటం గీచి బాహుళకం కనుక్కోండి.

మార్కులు	విద్యార్థులు	మార్కులు	విద్యార్థులు
20 - 29	7	60 - 69	9
30 - 39	11	70 - 79	14
40 - 49	24	80 - 89	2
50 - 59	32	90 - 99	1

### 6.6 చదువదగిన గ్రంథాలు

1. B.N. Elhance : Fundamentals of Statistics
2. S.P. Gupta : Statistical Methods
3. C.B. Gupta : An Introduction to Statistical Methods
4. S.C. Gupta : Fundamentals of Statistics.
5. M.C. Shukla and S.S. Gulshan : Statistics - Theory and Practice

## కేంద్ర స్థానపు కొలతలు

### పాఠ్యంశ నిర్మాణక్రమం

- 7.0 లక్ష్యాలు
- 7.1 విషయపరిచయం
- 7.2 కేంద్ర స్థానపు కొలతలు
  - 7.2.1 ఉద్దేశాలు
  - 7.2.2 సగటుకుండవలసిన లక్షణాలు
- 7.3 అంకమధ్యమము
  - 7.3.1 వ్యక్తిగత శ్రేణులు
  - 7.3.2 విచ్ఛిన్న శ్రేణులు
  - 7.3.3 అవిచ్ఛిన్న శ్రేణులు
  - 7.3.4 భారిత అంకమధ్యమము
  - 7.3.5 ఉమ్మడి అంక మధ్యమము
- 7.4 గుణ మధ్యమము
  - 7.4.1 వ్యక్తిగత శ్రేణులు
  - 7.4.2 విచ్ఛిన్న శ్రేణులు
  - 7.4.3 అవిచ్ఛిన్న శ్రేణులు
- 7.5 హర మధ్యమము
  - 7.5.1 వ్యక్తిగత శ్రేణులు
  - 7.5.2 విచ్ఛిన్న శ్రేణులు
  - 7.5.3 అవిచ్ఛిన్న శ్రేణులు
- 7.6 మధ్యగతము
  - 7.6.1 వ్యక్తిగత శ్రేణులు
  - 7.6.2 విచ్ఛిన్న శ్రేణులు
  - 7.6.3 అవిచ్ఛిన్న శ్రేణులు
  - 7.6.4 మధ్యగతంపై ఆధారపడి వున్న ఇతర కొలతలు
- 7.7 బాహుళికం

- 7.7.1 వ్యక్తిగత శ్రేణులు
- 7.7.2 విచ్చిన్న శ్రేణులు
- 7.7.3 అవిచ్చిన్న శ్రేణులు
- 7.8 సారాంశం
- 7.9 ముఖ్య పదాలు
- 7.10 నమూనా ప్రశ్నలు
- 7.11 చదువదగిన గ్రంథాలు

## 7.0 అక్ష్యాలు

ఈ పాఠ్యభాగం చదివిన తరువాత మీరు క్రింది కొలమానాలను గురించి తెలుసుకొని, గణన చేయగలరు.

- \* కేంద్రస్థానపు కొలతలు అనగా ఏమి ? ఎన్ని రకాలు.
- \* అంకమధ్యమం గణన, గుణదోషాలు, ప్రయోజనాలు
- \* ఉమ్మడి అంకమధ్యమం, భారిత అంకమధ్య గణన
- \* మధ్యగతం గణన, గుణ దోషాలు, ప్రయోజనాలు
- \* బాహుళకం గణన, గుణ దోషాలు, ప్రయోజనాలు
- \* గుణ మధ్యమం గణన, గుణదోషాలు, ప్రయోజనాలు
- \* హర మధ్యమం గణన, గుణదోషాలు, ప్రయోజనాలు

## 7.1 విషయపరిచయం

గణాంక విచారణ ఐదు దశల్లో జరుగుతుంది. అవి వరుసగా యోజన, దత్తాంశ సేకరణ, ఎడిటింగ్ మరియు దోషహితంగా దత్తాంశాన్ని రూపొందించటం, సమర్పణ, విశ్లేషణ మరియు విపులీకరణ. మొదటి నాలుగు దశలలో దత్తాంశ సేకరణ, సమర్పణ వరకు పూర్తవుతుంది. అయితే దత్తాంశాన్ని పట్టికలు, రేఖా చిత్రపటాల ద్వారా సమర్పణ చేసినను వాటి ద్వారా ఒక నిర్ణయం తీసుకోవటం కష్టము. అందుచేతనే దత్తాంశాన్ని విశ్లేషించి విపులీకరించేందుకు వివిధ విశ్లేషణ మానాలను రూపొందించటం జరిగింది. ఈ విశ్లేషణ మానాలు దత్తాంశానికి ప్రాతినిధ్యం యిచ్చే ఏక సంఖ్యను ఇవ్వటం జరుగుతుంది. ఈ సంఖ్యను బట్టి దత్తాంశాన్ని గురించి అంచనా వేయడం మరియు సంబంధించిన నిర్ణయాలను తీసుకోవటం జరుగుతుంది.

దత్తాంశాన్ని విశ్లేషించేందుకు రూపొందించిన విశ్లేషణ మానాలు వివిధ రకాలు. అవి : (1) కేంద్రస్థానపు కొలతలు లేదా కేంద్రస్థానపు సగటులు. (2) విస్తరణ మానాలు (3) అసౌష్టవ కొలమానాలు (4) శిఖరత్య కొలమానాలు మొదలైనవి. ఈ వివిధ విశ్లేషణ మానాలు దత్తాంశ లక్షణాన్ని వివరిస్తాయి. ఈ లక్షణాలపై ఆధారపడి దత్తాంశ స్వభావాన్ని తెలుసుకొని, తగు నిర్ణయాలను తీసుకోవచ్చు. పైన తెల్పిన విశ్లేషణ కొలమానాలలో కేంద్రస్థానపు కొలతలు లేదా కేంద్రస్థానపు సగటులను గూర్చి ఈ పాఠంలో తెలుసుకుందాం.

## 7.2 కేంద్ర స్థానపు కొలతలు లేదా సగటులు

సుదీర్ఘమైన శ్రేణులను అవగాహన చేసుకోవడానికి, దత్తాంశాన్ని పౌనఃపున్య విభాజనముగా సంక్షిప్త పరచడం మొదటి (దశ) మెట్టు మాత్రమే. పెద్ద సంఖ్యలో వున్న అంకెలను, దత్తాంశాన్ని జ్ఞాపకం ఉంచుకోవడానికి లేదా ఫలితాలను వెలిబుట్టడానికి అవకాశం తక్కువ. అందుచేత అధిక సంఖ్యలో వున్న దత్తాంశానికి ప్రాతినిధ్యం వహించే ఒక సంఖ్య కోసం ప్రయత్నాలు జరిగాయి. ఫలితంగా కేంద్రస్థానపు కొలతలు, విస్తరణ మానాలు మొదలైనవి రూపొందించబడ్డాయి. కేంద్రస్థానపు కొలతలనే సగటులు అని లేదా ప్రథమ శ్రేణి సగటులు అంటారు. గణాంక శాస్త్రవేత్తలలో మేటియైన ఇర్వింగ్ ఫిషర్ చెప్పినట్లు “ఎక్కువ దత్తాంశాన్ని స్వీకరించలేనటువంటి మానవ మేధస్సు తాలూకు నిస్సహాయత, తక్కువ స్థిరాంకాలలో దత్తాంశాన్ని విపులంగా వర్ణించగల పద్ధతి కనుగొనుటకు ప్రోత్సహించినది”. ముడి దత్తాంశము (Relative data) సంపూర్ణ వర్ణనకు ఒకే ఒక్క విలువ (One single value)లో సంక్షిప్తీకరించడమే గణాంక విశ్లేషణ మౌలిక ఉద్దేశమై వుంది. ఉదాహరణకు, ఒక కంపెనీలో పనిచేసే 80 మంది పనివారి వేతనాలనిచ్చి, ఇంకొక కంపెనీలోని మరొక 80 మంది పనివారల వేతనాలనిచ్చి, రెండు కంపెనీల పనివారల వేతనాలను ప్రత్యక్షంగా సరిపోల్చి (Compare) చెప్పమంటే ఒక నిర్ణయానికి రావడం అసాధ్యమగును. అట్లాగాక ఒక్కొక్క కంపెనీ శ్రేణులకు ప్రాతినిధ్యము వహించే సంఖ్యను తీసుకొంటే సరిపోల్చడం చాలా సులభమవుతుంది. అటువంటి ప్రాతినిధ్యము వహించే విలువనే ‘సరాసరి’ లేక ‘సగటు’ అందురు. సగటు విలువ చుట్టూ చలనాలలోని మధ్య స్థానానికి ప్రాతినిధ్యం వహించడం లేదా గుమిగూడి (కేంద్రీకరించి) వుండడం వల్ల వీటిని కేంద్రస్థానపు కొలతయని వ్యవహరింతురు. దత్తాంశాన్ని తగినంతగా, సక్రమంగా వివరించే ఏక విలువ లేక ఏక సంఖ్యగా సగటు ఉపయోగపడును. దత్తాంశములోని చలనాలు ఏ ప్రమాణంలో వుంటే కేంద్రస్థానపు సగటు కూడా అదే పరిమాణములో వుండును. అంటే చలనాలు ‘ఎత్తు’కు సంబంధించినవైతే సగటు కూడా ఎత్తు అవుతుంది. చలనాలు విద్యార్థుల మార్కుల గురించి అయితే సగటు కూడా మార్కులవుతాయి. అట్లాగే చలనాలు శాతాలయితే సగటు కూడా శాతమవుతుంది.

### 7.2.1 కేంద్ర స్థానపు సగటుల ఉద్దేశాలు (Objectives of Central Tendency)

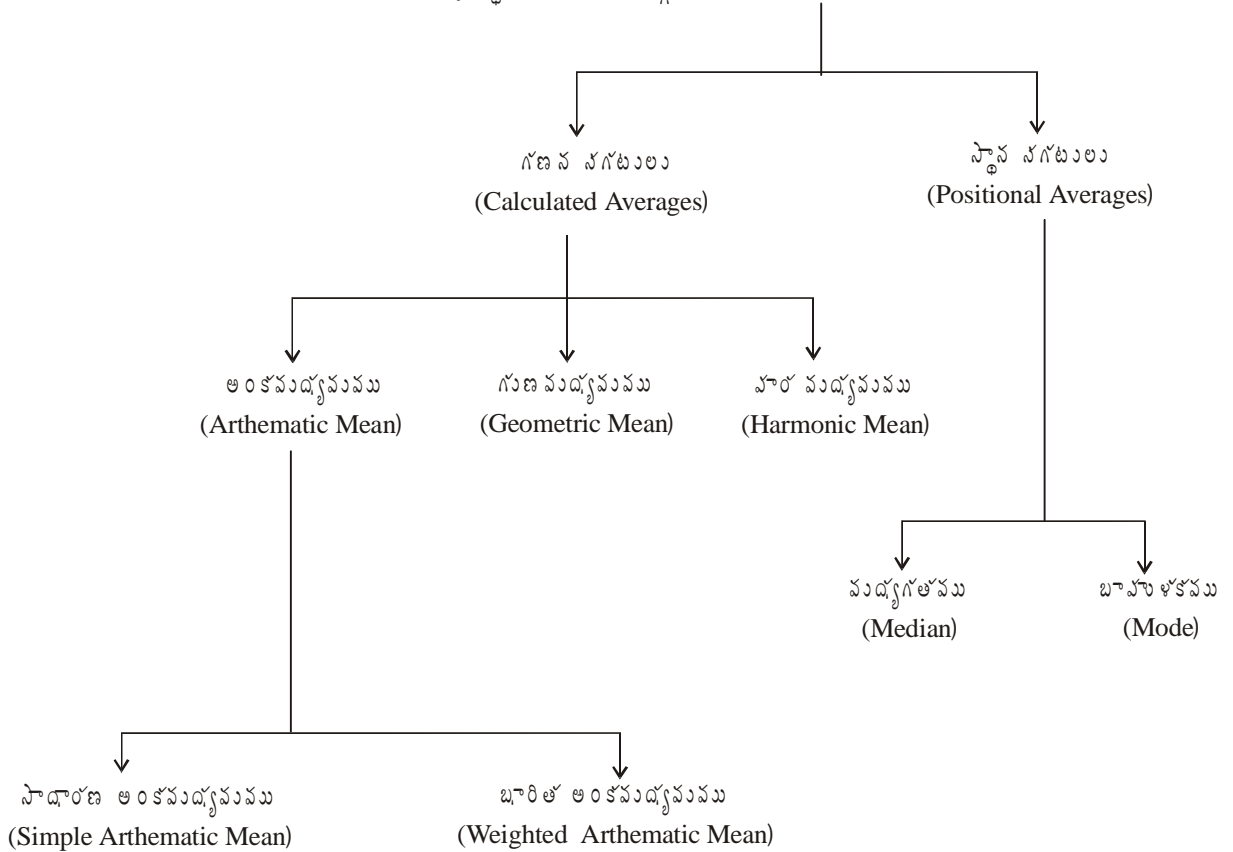
1. సగటుల వలన పెద్ద పరిమాణంలో వున్న దత్తాంశాన్ని సులువుగా అవగాహన చేసుకొనుటకు వీలు పడును. సగటులు ఎక్కువ మొత్తంలో వున్న పరిమాణాత్మక సమాచారాన్ని స్పష్టంగా, క్లుప్తంగా వివరిస్తాయి.
2. సగటు దత్తాంశమును కుదించి (సంక్షిప్త పరచి) చెప్పడానికి చాలా ఉపయోగపడుతుంది.
3. సగటుల వల్ల సరిపోల్చే పద్ధతి సులభమగును.
4. వివిధ శ్రేణుల లేదా తరగతుల అంక గణిత సంబంధాలను కనుక్కోవడానికి యిది చాలా ఉపయోగపడును.

### 7.2.2 సగటుకుండవలసిన లక్షణాలు

1. సగటును నిర్దుష్టంగా, స్పష్టంగా, ఒకే అర్థము వచ్చే విధంగా చెప్పవలె. సగటు ఎల్లప్పుడూ ఖచ్చితమైన సంఖ్యయై యుండవలె.
2. సమగ్ర పరిశీలనకు (అన్ని అంశాలకు) సగటు ప్రతినిధిగా యుండవలె. అంటే అన్ని అంశాలపై ఆధారపడి గణన చేయగలిగి ఉండాలి. దీనినే మొత్తం విభాజనానికి ప్రాతినిధ్యము వహించే లక్షణము అంటారు.
3. సగటు చాలా సులభంగా అర్థం చేసుకొనేదిగా యుండవలె. అందుకు అవసరమైన అన్ని కచ్చితమైన, సహజ లక్షణాలున్నదై యుండవలె.

4. సగటు సులువుగా గణన చేయగలిగినదై యుండవలె. సౌలభ్యానికి ప్రాధాన్యత కల్పించినప్పటికీ యదార్థత వగైరాలను అలక్ష్యం చేయరాదు.
5. ప్రతిచయన మార్పులకు అతి స్వల్పంగా ప్రభావితము కావలె. ఒకే దత్తాంశము నుండి వేరు వేరు ప్రతిచయనాలు తీసినప్పుడు వాటి సగటులు ఒకే రకంగా వుండును. అటువంటి తేడానే సాంకేతికంగా 'ప్రతిచయన మార్పులు' అంటారు. అటువంటి మార్పులున్న రెండింటిలో స్వల్ప తేడా చూపినది మంచిదిగా గుర్తింపవచ్చును.
6. బీజీయ ప్రస్తావనకు (గణనకు) సమర్థత గలిగినదై వుండవలె. రెండు లేదా అంతకంటే ఎక్కువ శ్రేణుల సగటులను, వాటి సంఖ్యలను గూడా యిచ్చినపుడు భవిష్యత్తులో ఉమ్మడి శ్రేణుల సగటును చెప్పగలిగినదై యుండవలెను.
7. దత్తాంశములోని అతిపెద్ద, లేదా అతి చిన్న విలువల వల్ల సగటు మార్పు చెందకూడదు.

కేంద్రస్థానపు సగటుల వర్గీకరణ (Measures of Central Tendency-Classification)



**7.3 అంక మధ్యమము (Arithmetic Mean)**

కేంద్రస్థాన కొలతల్లో అత్యంత ప్రధానమైనది అంకమధ్యమము. మనదైనందిన జీవితంలో అతితరచుగా వాడే 'సగటు' లేదా 'సరాసరి'నే గణాంక శాస్త్ర పరిభాషలో (Statistical terminology) అంకమధ్యమం అంటారు. ఇది అత్యధికంగా ఉపయోగపడి ప్రాముఖ్యాన్ని వహించినది. దీనిని మధ్యమము (Mean) అని కూడా పిలుస్తారు. శ్రేణిలోని అన్ని అంశాల విలువలను కూడి, ఆ



విధంగా కూడగా వచ్చిన మొత్తాన్ని అంశాల సంఖ్యతో భాగించగా వచ్చిన భాగఫలమే అంకమధ్యమం. (Arithmetic Mean is obtained by adding the value of items and dividing the total by the number of items).

స్మిత్, కాఫ్కా (Smith and Kafka) అనే వారు అంకమధ్యమాన్ని ఈ విధంగా నిర్వచించారు. “శ్రేణిలో వున్న అంశాల మొత్తాన్ని అంశాల సంఖ్యతో భాగిస్తే వచ్చే వ్యత్యన్నమే అంకమధ్యమము” (The arithmetic mean is the quotient that results when the sum of the items in the series is divided by the number of items).

అంకమధ్యమము గణన సగటు అంక మధ్యమము రెండు రకాలుగా చెప్పవచ్చు.

1. సామాన్య అంకమధ్యమము (Simple Arithmetic Mean)

2. భారిత అంకమధ్యమము (Weighted Arithmetic Mean)

అన్ని అంశాలు ఒకే ప్రాధాన్యత కలిగినట్లుంటే సామాన్య అంకమధ్యమం కనుగొంటాము. అంశాల ప్రాధాన్యతలు భిన్నంగా వుంటే భారిత అంకమధ్యమం కనుగొంటాము. సాధారణంగా అంకమధ్యమం అనే పదాన్ని ఉపయోగిస్తే అది సామాన్య అంకమధ్యమమనే గుర్తించాలి. ప్రస్తుతం సామాన్య అంకమధ్యమాన్ని గూర్చి తెలుసుకుందాం.

పరిమాణాత్మక దత్తాంశాన్ని లేదా అంకెలలో సమాచారాన్ని మూడు రకాలుగా చెప్పవచ్చునని గత పాఠంలో చెప్పటం జరిగింది. మరో విధంగా చెప్పాలంటే శ్రేణీకరణను ఒకే విధంగా మూడు రకాలుగా చెప్పవచ్చు. అవి : 1. వ్యక్తిగత శ్రేణులు (Individual series), 2. విచ్ఛిన్న శ్రేణులు (Discrete Series), 3. అవిచ్ఛిన్న శ్రేణులు (Continuous Series).

ఈ వివిధ శ్రేణులలో అంకమధ్యమాన్ని ఏ విధంగా గణన చేసేది ప్రస్తుతం తెలుసుకుందాం.

**7.3.1 వ్యక్తిగత శ్రేణులు - అంకమధ్యమము - ప్రత్యక్ష పద్ధతి :**

దత్తాంశములోని వ్యక్తిగత చలనాలు 6, 11, 16 అయినప్పుడు వాటి అంకమధ్యమము  $\frac{6+11+16}{3} = \frac{33}{3} = 11$  కు

సమానమవుతుంది. వ్యక్తిగత శ్రేణుల్లో అంకమధ్యమాన్ని సాంకేతికంగా చూపవలసి వస్తే -  $x_1, x_2, x_3, \dots, x_n$  అనే  $N$  సంఖ్యలు ఉంటే వాటి అంకమధ్యమము

$$\text{అంకమధ్యమము} = \frac{\text{చలనాల సంకలనము (Sum of variables)}}{\text{చలనాల సంఖ్య (No. of the variables)}} \text{ లేదా}$$

$$\bar{x} = \frac{x_1 + x_2 + x_3 + \dots + x_n}{n}$$

అంకమధ్యమానికి సాంకేతికము  $\bar{x}$  ( $x$ -బార్ అని చదువవలె).

పై దానిని మరింత క్లుప్తంగా చెప్పాలంటే

$$\bar{x} = \frac{\sum x}{N} \text{ అవుతుంది.}$$

దీనిలో  $\bar{x}$  = అంకమధ్యమము (Arithmetic Mean),  $\Sigma$  = సంకలన గుర్తు,  $\Sigma x$  = చలనముల లేదా అంశాల మొత్తం,  $N$  = చలనాల సంఖ్య (Number of variables)

శ్రేణులలోని అంశాలన్నీ సమానంగా వుంటే వాటి అంకమధ్యమము కూడా సమానమే అవుతుంది. మొత్తం విభాజనములో వున్న ప్రతి ఒక్క చలనానికి బదులు సగటు చేర్చి చూచినప్పుడు పంపిణీ మొత్తంలో మార్పు రాదు. అందువల్ల సగటును కేంద్ర స్థానముగా గుర్తింపవచ్చు. అనగా 5, 7, 9, 15 చలనాలయినప్పుడు సగటు

$$\bar{x} = \frac{5+7+9+15}{4} = \frac{36}{4} = 9$$

విభాజనములో వున్న ప్రతి యొక్క చలనానికి బదులు 'సగటు' అంటే 9 చేర్చి చూసినప్పుడు  $9+9+9+9=36$  అవుతుంది. అంటే విభాజనములో మార్పు లేదు. సాంకేతికముగా  $\Sigma \bar{x} = xN$ . అందువలన సగటును ప్రతి ఒక్క వ్యక్తికి (per individual) ప్రతి ఒక్క వస్తువుకు ప్రతినిధిగా ఊహించవచ్చు. తలసరి (per capita) సంఖ్య వాస్తవానికి సగటులే.

ఉదాహరణ 1 : క్రికెట్ ఆటలో పాల్గొన్న భారతదేశపు జట్టులోని ఆటగాళ్ళ వయస్సులు 27, 24, 29, 25, 26, 23, 34, 12, 19, 30, 32 సంవత్సరాలయితే, వారి సగటు వయస్సెంత ?

జవాబు : అంకమధ్యపు గణన - ప్రత్యక్ష పద్ధతి.

క్రమసంఖ్య	వయస్సు (సంవత్సరాలలో) (x)
1	27
2	24
3	29
4	25
5	26
6	23
7	34
8	28
9	19
10	30
11	32
-----	
N = 11	$\Sigma x = 267$

వ్యక్తిగత శ్రేణుల్లో అంకమధ్యమము

$$\bar{x} = \frac{\Sigma x}{N}$$

ఇక్కడ  $\Sigma x =$  చలనాల సంకలనము = 267,  $N =$  చలనాల సంఖ్య = 11

$$\therefore \bar{x} = \frac{297}{11} = 27$$

\therefore క్రికెట్ ఆటగాని సగటు వయస్సు = 27 సంవత్సరాలు.

అంకమధ్యపు గణన - విచలనాల పద్ధతి (Deviation Method) : శ్రేణిలో తక్కువ అంకాలున్నప్పుడు ప్రత్యక్ష పద్ధతిని ఉపయోగించవచ్చు. కాని ఎక్కువ అంకాలున్నప్పుడు దానిని ఉపయోగించి అంకమధ్యమము కనుగొనడం కష్టము. అటువంటి పరిస్థితులలో దగ్గర పద్ధతి చాలా ఉపయోగకరము. “అంకమధ్యమంను వ్యక్తిగత శ్రేణుల విచలనాల బీజీయ సంకలనము సున్నాకు సమానమవుతుంది”. అనే ముఖ్య ధర్మము ఆధారంగా సులభ పద్ధతి వ్యాప్తిలోనికి వచ్చినది. ఉదాహరణకు 9, 6, 12, 13 సంఖ్యల అంకమధ్యమము 10, అయితే ఒక్కొక్క చలనము యొక్క విచలనము అంకమధ్యమము నుండి చూస్తే

$$9 - 10 = -1, \quad 6 - 10 = -4, \quad 12 - 10 = 2, \quad 13 - 10 = 3$$

విచలనాలమొత్తాన్ని  $(-1 + -4 + 2 + 3 = 0)$  బీజీయంగా చూస్తే సున్నాకు సమానము. అనగా వాస్తవ అంకమధ్యమము నుండి తీసుకొన్న విచలనాల మొత్తం సున్నాకు సమానము. కాని మనము తీసుకొన్న (ఊహించిన) అంకమధ్యమము నుండి వచ్చిన విచలనాల మొత్తము సున్నాకు సమానము కాదు కనుక మనము ఊహించిన అంకమధ్యమము నిజమైన అంకమధ్యమము కాదని రూఢియగును. ఒకవేళ సున్నా అయితే ఊహించినదే నిజ అంకమధ్యమము.

దగ్గర పద్ధతిలో మొదట మనం ఒక అంకాన్ని ఊహించిన అంకమధ్యమంగా భావించాలి. ఆ ఊహించిన అంకమధ్యమము నుండి వచ్చిన విచలనాల సంకలనాన్ని, మొత్తం అంకాల సంఖ్యతో భాగిస్తే, ఒక్కొక్క అంకానికి, ఊహించి అంకమధ్యమానికి గల సగటు తేడా తెలుస్తుంది. అటువంటి తేడాను ఊహించిన అంకమధ్యమానికి కలిపితే నిజమైన అంకమధ్యమం వస్తుంది.

విభజనంలోని అంకాలు  $x_1, x_2, x_3, \dots, x_n$  లు  $N$  అనుకొని  $A$  ఊహించిన అంకమధ్యమము అనుకొందాము. అట్లా

అయినప్పుడు 
$$\bar{x} = A + \frac{\sum dx}{N}$$

ఇక్కడ 
$$\sum dx = (x_1 - A) + (x_2 - A) + (x_3 - A) + \dots + (x_n - A)$$

$$\bar{x} = A + \frac{\sum dx}{N}$$

ఊహించిన సగటుకు నిజమైన సగటుకు వున్న తేడా, మొత్తము తేడాను 'N' సంఖ్యతో భాగిస్తే వస్తుందని అర్థమవుతుంది.

ఇక్కడ  $\bar{x}$  = నిజమైన అంకమధ్యమము,  $A$  = ఊహించిన అంకమధ్యమము

$$\sum dx = \text{ఊహించిన అంకమధ్యమము నుండి వచ్చిన విచలనాల మొత్తము}, \quad N = \text{విచలనాల సంఖ్య}$$

ఉదాహరణ 2 : ఒకటో ఉదాహరణలోని దత్తాంశాన్ని ఉపయోగించి దగ్గర పద్ధతిలో అంకమధ్య గణన.

జవాబు :

క్రమసంఖ్య	వయస్సు(x)	A = 25
		x - A = dx
1	27	27 - 25 = +2

2	24	24 - 25 = - 1
3	29	29 - 25 = + 4
4	25	25 - 25 = 0
5	26	26 - 25 = +1
6	23	23 - 25 = - 2
7	34	34 - 25 = + 9
8	28	28 - 25 = + 3
9	19	19 - 25 = - 6
10	30	30 - 25 = + 5
11	32	32 - 25 = + 7

-----  
 $N = 11$

-----  
 $\left. \begin{array}{l} \Sigma dx = +31 \\ - 9 \end{array} \right\} = +22$

ఊహించిన సగటు 25గా తీసుకున్నాము.  $\bar{x} = A + \left( \frac{\Sigma dx}{N} \right)$

అక్కడ  $\bar{x}$  = అంకమధ్యమము,  $A$  = ఊహించిన అంకమధ్యమము

$N$  = చలనాల సంఖ్య,  $\Sigma dx$  = ఊహించిన సగటు నుండి వచ్చిన విచలనాల సంకలనము.

పై విలువలను సూత్రంలో ప్రతిక్షేపించినపుడు

$$\bar{x} = 25 + \left( \frac{22}{11} \right) = 25 + 2 = 27$$

కాబట్టి క్రికెట్ ఆటగాని సగటు వయస్సు 27 సంవత్సరములు. ప్రత్యక్ష పద్ధతిలో గణన చేసినప్పుడు అంకమధ్యమము దగ్గర పద్ధతిలో గణన చేసినప్పుడు అంకమధ్యమము సమానంగా వున్నాయి.

**అంకమధ్యమము - వ్యక్తిగత శ్రేణులు - సోపాన విచలనాల పద్ధతి (Arithmetic Mean - Individual Series Step Derivation Method) :** పరిమాణాత్మక దత్తాంశము యొక్క విచలనాలకు సాధారణ లక్షణం (common factor) ఉన్నప్పుడు, విచలనాల సాధారణ లక్షణం తీసుకొని (common factor of the derivation) విచలనాలను భాగిస్తే సోపాన విచలనాలు వస్తాయి. ఈ పద్ధతి వల్ల అంకమధ్యమాన్ని మరింత సులువుగా కనుగొనవచ్చు. ఈ విధానములో అంకమధ్యమాన్ని గణన చేయడానికి యిచ్చిన విలువల నుండి, ఒక చలనం ఊహించిన సగటుగా ( $A$ ) తీసుకొని, ప్రతి విలువ నుండి ఊహించిన సగటును తీసివేత ( $x - A = dx$ ) విచలనాలను కనుగొనవలెను. విచలనాలను ( $dx$ ) సాధారణ కారణాంకము (common factor)తో భాగించాలి. ఈ సాధారణ కారణాంకాన్ని  $c$  (common factor) గా భావిద్దాము.

విచలనాలను భాగించగా వచ్చే విలువలను  $(dx/c)$  సోపాన విచలనాలుగా  $Dx$  గుర్తించవచ్చును. సోపాన విచలనాలను కూడగా వచ్చినది  $\Sigma Dx$  అంటారు. చలనాల సంఖ్య =  $N$ , పై విధంగా చేసిన తరువాత క్రింది సూత్ర సహాయంతో అంకమధ్యమాన్ని గణన చేయవచ్చు.

$$\bar{x} = A + \frac{\Sigma Dx}{N} \times c$$

$\bar{x}$  = అంకమధ్యమము

$A$  = ఊహించిన సగటు

$\Sigma Dx$  = విచలనాలను, విచలనాల సాధారణ లక్షణం ( $c$ )తో భాగించగా వచ్చిన సోపాల మొత్తం

$c$  = విచలనాల సాధారణ లక్షణం (common factor)

$N$  = చలనాల సంఖ్య ( $\Sigma f$ )

ఉదాహరణ 3 : ఐదుగురు వ్యక్తుల ఆదాయాలు క్రింది విధంగా వున్నాయి. వారి సగటు ఆదాయమెంత?

వ్యక్తులు	1	2	3	4	5
ఆదాయాలు (రూ॥లలో)	200	400	600	800	1000

వ్యక్తులు	ఆదాయాలు( $x$ ) రూ॥లలో	ఊహించిన సగటు ( $A = 400$ ) నుండి విచలనాలు $x - A = dx$	$\frac{dx}{c} = Dx$ విచలనాలను సాధారణ లక్షణం (200)తో భాగించగా వచ్చిన సోపానాలు
1	200	200 - 400 = - 200	$-\frac{200}{200} = -1$
2	400	400 - 400 = 0	$\frac{0}{200} = 0$
3	600	600 - 400 = + 200	$\frac{200}{200} = +1$
4	800	800 - 400 = + 400	$\frac{400}{200} = +2$
5	1000	1000 - 400 = + 600	$\frac{600}{200} = +3$
$N = 5$			$\Sigma Dx = +5$

$$A = \text{ఊహించిన సగటు} = 400,$$

$$\Sigma Dx = \text{విచలనాలను, సాధారణ లక్షణం (c) తో భాగించగా వచ్చిన సోపానాల మొత్తం} = + 5$$

$$c = \text{విచలనాల సాధారణ లక్షణం} = 200$$

$$N = \text{చలనాల సంఖ్య} = 5$$

$$\bar{x} = A + \frac{\Sigma Dx}{N} \times c$$

$$= 400 + \frac{5}{5} \times 200$$

$$= 400 + 200 = 600$$

అందువలన వారి సగటు ఆదాయము ( $\bar{x}$ ) = రూ. 600/-

### 7.3.2 అంకమధ్యం - విచ్ఛిన్న శ్రేణులు

ప్రత్యక్ష పద్ధతి : విచ్ఛిన్న శ్రేణులలో వున్న చలరాశుల విలువలను, వాటి అనుబంధ పౌనఃపున్యము (frequency) చేత గుణిస్తే, వచ్చిన లబ్ధాల (products) సంకలనాన్ని, మొత్తం పౌనఃపున్యముతో భాగిస్తే అంకమధ్యమం వస్తుంది. బీజీయంగా దానిని యిట్లా చెప్పవచ్చు.

ఉదాహరణకు అంశాలు  $x_1, x_2, x_3, \dots, x_n$  అనే అంశాల విలువలను, వాటి అనుబంధ పౌనఃపున్యాలు  $f_1, f_2, f_3, \dots, f_n$

$$\text{అనుకొంటే అంకమధ్యమము} (\bar{x}) = \frac{x_1 f_1 + x_2 f_2 + x_3 f_3 + \dots + x_n f_n}{N}$$

$$= \frac{\Sigma fx}{N}$$

$\Sigma fx =$  చలనాలను వాటి అనుబంధ పౌనఃపున్యాలలో గుణిస్తే వచ్చిన లబ్ధాల మొత్తం,  $N =$  మొత్తం పౌనఃపున్యము ( $\Sigma f$ )

ఉదాహరణ 4 : ఈ దిగువ యిచ్చిన పట్టిలో ఒక కర్మాగారంలో పని చేసే 100 మంది పనివారాల జీతాలున్నాయి. వారి జీతాల అంకమధ్యమమును గణన చేయండి.

జీతాలు (రూ॥లలో)	40	60	80	100	120	140	160	180	200
పని వారి సంఖ్య	5	7	10	15	20	25	9	6	3

జవాబు :

జీతము (x) రూపాయలలో	పనివారి సంఖ్య (f)	fx
40	5	200
60	7	420

80	10	800
100	15	1500
120	20	2400
140	25	3500
160	9	1440
180	6	1070
200	3	600
	-----	-----
	$N = 100$	$\Sigma fx = 11,940$

$$\bar{x} = \frac{\Sigma fx}{N}, \text{ పై విలువలను ప్రతిక్షేపిస్తే}$$

$$\bar{x} = \frac{11,940}{100} = 119.4$$

కాబట్టి పనివాని సగటు జీతము = రూ. 119.40 పైసలు

అంకమధ్యమము - విచ్ఛిన్న శ్రేణులు - దగ్గరి పద్ధతి (Arithmetic Mean - Discrete Series - Short Cut Method) : అంకమధ్యమాన్ని విచలన పద్ధతి ద్వారా చేయవచ్చు. ఇవ్వబడిన శ్రేణిలోని ఏదేని ఒక చలనపు విలువకు ఊహించిన అంకమధ్యమముగా (A) తీసుకోవాలి. ఊహించిన అంకమధ్యమానికి, ప్రతిచలనానికి మధ్య గల తేడా విచలనము ( $x - A = dx$ ) కనుగొనాలి. విచలనాలను ( $dx$ ) అనుబంధ పౌనఃపున్యాల ( $f$ )తో గుణించి ( $f \times dx = f dx$ ) గుణలబ్ధాల సంకలనము ( $\Sigma f dx$ ) కనుగొనాలి.

ఈ లబ్ధాల సంకలనాన్ని ( $\Sigma f dx$ ) మొత్తం పౌనఃపున్యంతో ( $N$ ) భాగించి, భాగఫలమునకు ఊహించిన అంకమధ్యమానికి కలిపితే, వాస్తవ అంకమధ్యమం వస్తుంది. సాంకేతికంగా  $\bar{x} = A + \frac{\Sigma f dx}{N}$

$$\bar{x} = \text{అంకమధ్యమము}, A = \text{ఊహించిన అంకమధ్యమము}$$

$$\Sigma f dx = \text{ఊహించిన సగటు నుండి తీసుకొన్న విచలనాలను } (x - A = dx) \text{ వాటి అనుబంధ పౌనఃపున్యాలతో గుణించగా } (f \times dx) \text{ వచ్చిన లబ్ధాల సంకలనము.}$$

$$N = \text{మొత్తం పౌనఃపున్యము}$$

ఉదాహరణ - 5 : క్రింది దత్తాంశాన్ని ఉపయోగించి దగ్గరి పద్ధతిలో అంకమధ్యమాన్ని (అంకగణిత మధ్యమం) గణన చేయండి.

జీతాలు (రూ  లలో)	40	60	80	100	120	140	160	180	200
పని వారు	5	7	10	15	20	25	9	6	3

జవాబు :

జీతము (x) రూపాయలలో	పనివారి సంఖ్య (f)	ఊహించిన సగటు (A = 100) నుండి విచలనాలు (x - A = dx)	f dx
40	5	40 - 100 = - 60	- 300
60	7	60 - 100 = - 40	- 280
80	10	80 - 100 = - 20	- 200
100	15	100 - 100 = 0	0
120	20	120 - 100 = + 20	+ 400
140	25	140 - 100 = + 40	+ 1000
160	9	160 - 100 = + 60	+ 540
180	6	180 - 100 = + 80	+ 480
200	3	200 - 100 = + 100	+ 300
	----- N = 100		----- Σf dx = + 2720 - 780 } 1940

అంకమధ్యమము  $\bar{x} = A + \left(\frac{\Sigma f dx}{N}\right)$  విలువలను ప్రతిక్షేపించిన

$$\begin{aligned} \bar{x} &= 100 + \left(\frac{1940}{100}\right) \\ &= 100 + 19.40 = 119.40 \end{aligned}$$

కాబట్టి పని వారి సగటు జీతము = రూ. 119.40 సైసలు.

**అంకమధ్యమము - విచ్ఛిన్నశ్రేణులు - సోపాన విచలనాల పద్ధతి (Arithmetic Mean - Discrete Series - Step Deviation Method) :** దత్తాంశంలోని చలనాల విచలనాలకు సాధారణంగా భావించగల లక్షణాలున్నప్పుడు సోపాన విచలనాల పద్ధతి ద్వారా అంకమధ్యమాన్ని గణన చేయవచ్చు.

- (1) ఇచ్చిన విలువలలో ఒక దానిని ఊహించిన అంకమధ్యమము(A)గా తీసుకొనవలెను. ఊహించిన అంకమధ్యమము తప్పనిసరిగా శ్రేణిలోని ఒక చలనముగా (A)గా గ్రహించితే బాగుంటుంది.
- (2) చలనాలకు (x) ఊహించిన అంకమధ్యమానికి గల తేడా విచలనాలను (x-A = dx)కనుగొనవలెను.
- (3) విచలనాలను (dx)సాధారణ కారణాంకము(c)తో భాగించగా వచ్చిన విలువలు  $\left(\frac{dx}{c} = Dx\right)$  సోపాన విచలనాలగును.
- (4) సోపాన విచలనాలను (Dx) అనుబంధ పౌనఃపున్యాలతో గుణించి (Dx × f) గుణలబ్ధాల సంకలనము (Σ f Dx) కనుగొనవలెను. Dx = సోపాన విచలనమును సూచించును.



$$\bar{x} = A + \frac{\sum f Dx}{N} \times c$$

$\bar{x}$  = అంకమధ్యమము

A = ఊహించిన అంకమధ్యమము

$\sum f Dx$  = విచలనాలను సాధారణ కారణాంకము(c)తో భాగించగా వచ్చిన సోపాన విచలనాలను (Dx) అనురూప పానఃపున్యాలతో గుణింపగా వచ్చిన లబ్ధాల మొత్తము.

N = మొత్తము పానఃపున్యము

c = విచలనాల సాధారణ కారణాంకము (common factor)

ఉదాహరణ 6 : దిగువ శ్రేణిలో 60 కుటుంబాల రాబడులు యివ్వబడినవి. సగటు రాబడి కనుగొనండి.

రాబడి రూ॥లలో	40	60	80	100	120	140	160	180	200
కుటుంబాల సంఖ్య	5	7	10	15	20	25	9	9	3

జవాబు :

రాబడి (x) (రూపాయలలో)	కుటుంబాల సంఖ్య (f)	ఊహించిన సగటు (A = 100) నుండి విచలనాలు (dx)	విచలనాలను సాధారణ లక్షణం(c = 20)తో భాగించగా వచ్చిన సోపాన విచలనాలు (Dx)	సోపాన విచలనాలను అనురూప పానఃపున్యంలో గుణించగా వచ్చిన లబ్ధాల మొత్తం (fDx)
40	5	40 - 100 = - 60	- 3	- 15
60	7	60 - 100 = - 40	- 2	- 14
80	10	80 - 100 = - 20	- 1	- 10
100	15	100 - 100 = 0	0	0
120	20	120 - 100 = + 20	+ 1	+ 20
140	25	140 - 100 = + 40	+ 2	+ 50
160	9	160 - 100 = + 60	+ 3	+ 27
180	9	180 - 100 = + 80	+ 4	+ 36
200	3	200 - 100 = + 100	+ 5	+ 15
	----- N = 100			----- $\sum f Dx = +148$ - 39 } 109

$$\bar{x} = A + \frac{\sum f Dx}{N} \times c, \text{ విలువలను ప్రతిక్షేపించగా}$$

$$\begin{aligned}
 &= 100 + \frac{136}{100} \times 20 \\
 &= 100 + 1.36 \times 2 \\
 &= 100 + 2.72 \\
 \bar{x} &= 102.72
 \end{aligned}$$

కాబట్టి కుటుంబ సగటు రాబడి = రూ. 102.72 పైసలు

**7.3.3 అంకమధ్యమము - అవిచ్ఛిన్నశ్రేణులు - ప్రత్యక్ష పద్ధతి (Arithmetic Mean - Continuous Series - Direct Method) :**

పరిమాణాత్మక దత్తాంశం పెద్ద పరిమాణంలో ఉన్నప్పుడు అంకమధ్యమాన్ని గణన చేయడం కష్టము. కాబట్టి దత్తాంశాన్ని వర్గీకృతం చేసి వచ్చిన అవిచ్ఛిన్న శ్రేణుల నుండి అంకమధ్యమాన్ని గణాన్ని చేయడం సమంజసంగా వుంటుంది. అవిచ్ఛిన్న శ్రేణులలో ప్రతి విలువ తన వ్యక్తిత్వాన్ని పోగొట్టుకుంటుంది. దీని వల్ల ప్రతి అంశము తాలూకు కచ్చితమైన విలువను తెలుసుకోవడానికి బదులు, ఆ తరగతిలో ఎన్ని అటువంటి సంఖ్య అంశాల అవధులనే చెప్పగలదు గాని, నిజమైన విలువలను చెప్పలేదు.

నిజమైన విలువలు తెలియక పోవడం వలన వాటి విలువలు ఆయా తరగతుల మధ్య విలువల వద్ద కేంద్రీకృతమైనట్లు భావించడం సాంప్రదాయం. ఈ ఊహకారణరహితం కాదు. ఎందుకంటే మధ్య బిందువు కంటే హెచ్చుగానున్న అంశాల మొత్తం, తక్కువగా వున్న అంశాల మొత్తం తేడా పరిహారాన్ని (Compensate) పొందుతాయి.

ఉదాహరణకు 90 - 100 అవధులు గల ఒక తరగతిలో వేతనాలు 20 మంది కార్మికులకు వస్తే వాళ్ళలో ఎంత మందికి 90, 94 లేదా 97, 98 రూపాయల వేతనం వచ్చిందో స్పష్టంగా తెలుసుకోవడం కష్టం. అందువల్ల ఆ అవధుల మధ్య గల వేతనాలు పొందిన 20 మంది కార్మికుల వేతనాలు సమానంగా విస్తృతి చెందాయని ఊహించి వాటి స్థానీకరణ మధ్య బిందువు 95 వద్ద ఉంటుందని, అటువంటి బిందువును ఆ తరగతి కంతటికి ప్రాతినిధ్యము వహించే విలువగా తీసుకొంటాము. ఇట్లా ఊహించడం వల్ల వచ్చిన దోషం (Error) తరగతి అంతరాలను బట్టి వుంటుంది. అంటే తరగతి అంతరం తక్కువైనప్పుడు దోషం తక్కువగాను, తరగతి అంతరం ఎక్కువైనకొద్దీ దోషం ఎక్కువగాను వుంటుంది.

ప్రత్యక్ష పద్ధతిలో అంకమధ్య గణనకు

- (1) శ్రేణిలోని ప్రతి తరగతి యొక్క మధ్య విలువను కనుగొనవలె. తరగతి ఎగువ అవధి, దిగువ అవధులు కలిసి, రెండుతో భాగిస్తే మధ్య విలువ వస్తుంది (Mid-value). దీనిని 'x' అనుకొనుము.
- (2) తరగతుల మధ్య విలువలను, వాటి అనురూప పౌనఃపున్యాలతో గుణించి ( f × x = Σfx ) ఆ గుణ లబ్ధాల మొత్తం కనుగొనుము. దానిని Σfx అనుకొనుము.
- (3) లాభాల మొత్తమును, మొత్తం పౌనఃపున్యముతో భాగించుము. భాగఫలమే అంకమధ్యమము.

$$\bar{x} = \frac{\Sigma fx}{N}$$

$\bar{x}$  = అంకమధ్యమము,  $\Sigma fx$  = తరగతుల మధ్య విలువలను, అనురూప పౌనఃపున్యాలతో గుణించగా వచ్చిన లబ్ధాల మొత్తము.

$N$  = మొత్తం పౌనఃపున్యము.

ఉదాహరణ - 7 : కొంత మంది వ్యక్తుల బరువులు క్రింది పట్టికలో యివ్వబడినవి. వారి సగటు బరువు గణన చేయండి.

బరువు (కి.గ్రా.)	0 - 10	10 - 20	20 - 30	30 - 40	40 - 50	50 - 60
వ్యక్తులు	5	10	25	30	20	10

జవాబు :

బరువులు(C.I.) (కి.గ్రా.)	వ్యక్తుల సంఖ్య (f)	మధ్య బిందువు Mid-Value (x)	మధ్య బిందువును, అనురూప పానఃపున్యాలతో గుణించగా వచ్చిన లబ్ధాలు(fx)
0 - 10	5	5	5 × 5 = 25
10 - 20	10	15	15 × 10 = 150
20 - 30	25	25	25 × 25 = 625
30 - 40	30	35	35 × 30 = 1050
40 - 50	20	45	45 × 20 = 900
50 - 60	10	55	55 × 10 = 550
	----- N = 100		----- Σ fx = 3300

$$\bar{x} = \frac{\sum fx}{N}, \text{ విలువలను ప్రతిక్షేపించగా}$$

$$\bar{x} = \frac{3300}{100} = 33$$

కాబట్టి ఒక్కొక్క వ్యక్తి సగటు బరువు = 33 కి.గ్రా.

అంకమధ్యమము - అవిచ్ఛిన్న శ్రేణులు - విచలనాల పద్ధతి (Arithmetic Mean - Continuous Series - Derivation Method) :

అంకమధ్యమాన్ని దగ్గర పద్ధతిలో కూడా కనుక్కోవచ్చు. అందులో విచలనాల పద్ధతిని తెలుసుకుందాం.

(1) ఈ పద్ధతిలో కూడా వివిధ తరగతుల మధ్య బిందువులు (x) కనుగొనవలె, (2) వానిలో ఒకదానిని ఊహించిన అంకమధ్యమము (A) గా గ్రహించవలె, (3) తరగతి మధ్య బిందువులకు, ఊహించిన అంకమధ్యమానికి గల తేడా, విచలనాలను (x - A = dx) కనుగొనవలె, (4) విచలనాలను అనురూప పానఃపున్యాలతో గుణించి (f.dx) గుణ లబ్ధాల సంకలనము (Σf dx) కనుగొనవలె, (5) ఆ గుణాల లబ్ధాల మొత్తాన్ని  $\left(\frac{\sum f dx}{N}\right)$  మొత్తం పానఃపున్యంతో భాగించినప్పుడు సగటు విచలనం వస్తుంది.

ఈ సగటు విచలనాన్ని ఊహించిన అంకమధ్యమానికి కలిపితే నిజమైన అంకమధ్యమం వస్తుంది.

$$\text{సాంకేతికంగా } \bar{x} = A + \frac{\Sigma f dx}{N}$$

$\bar{x}$  = అంకమధ్యమము

A = ఊహించిన అంకమధ్యమము

$\Sigma f dx$  = విచలనాలను వాటి అనురూప పౌనఃపున్యాలతో గుణించగా వచ్చిన లబ్ధాల మొత్తము.

N = మొత్తం పౌనఃపున్యము.

ఉదాహరణ : ఈ క్రింది దత్తాంశానికి దగ్గర పద్ధతిలో అంకమధ్యమమును గణన చేయండి.

బరువు (క్రి.గ్రా.)	130 - 140	140 - 150	150 - 160	160 - 170	170 - 180	180 - 190
వ్యక్తుల సంఖ్య	3	15	10	8	3	1

జవాబు :

వేతనాలు (రూపాయలలో) C.I.	పని వారు (f)	మధ్య విలువలు M.V. (x)	ఊహించిన అంకమధ్యమం (A = 155) నుండి విచలనాలు (dx)	f dx
130 - 140	3	135	- 20	- 60
140 - 150	15	145	- 10	- 150
150 - 160	10	155	0	0
160 - 170	8	165	+ 10	+ 80
170 - 180	3	175	+ 20	+ 60
180 - 190	1	185	+ 30	+ 30
	----- N = 40			----- $\left. \begin{array}{l} \Sigma f dx = - 210 \\ + 170 \end{array} \right\} - 40$

$$\bar{x} = A + \frac{\Sigma fd}{N}$$

$$= 155 + \frac{-40}{40}$$

$$\bar{x} = 155 - 1 = 154$$

కాబట్టి కర్మాగారములో పనిచేసే వారి సగటు వేతనం = రూ. 154.

**అంకమధ్యమము - అవిచ్ఛిన్న శ్రేణులు - సోపాన విచలనాల పద్ధతి (Arithmetic Mean - Continuous Series - Step Deviation Method) :** వ్యక్తిగత విచ్ఛిన్న శ్రేణులలోవలె అవిచ్ఛిన్న శ్రేణులలో కూడా సోపాన విచలన పద్ధతి ద్వారా అంకమధ్యమమును గణన చేయవచ్చును. దగ్గర పద్ధతిని ఈ సోపాన విచలనాల పద్ధతి యింకా సులభం చేస్తుంది. తరగతుల మధ్య విలువల నుండి ఊహించిన అంకమధ్యమమును తీసివేయగా వచ్చిన, విచలనాలను, వీలైతే తరగతి అంతరముతోగాని (class interval) లేదా సాధారణ లక్షణంతోగాని (common factor) భాగిస్తే సోపాన విచలనం వస్తుంది ( $Dx$ ).

సోపాన విచలనాలను అనురూప తరగతుల పౌనఃపున్యంతో గుణించగా ( $Dx \times f$ ) వచ్చిన మొత్తం లబ్ధమును  $\Sigma fDx$  అంటారు.

క్రింది సూత్రం ద్వారా అంకమధ్యమమును కనుగొనవచ్చు.

$$\bar{x} = A + \frac{\Sigma f Dx}{N} \times c$$

$\bar{x}$  = అంకమధ్యమము,

$A$  = ఊహించిన అంకమధ్యమము

$\Sigma fDx$  = సోపాన విచలనాలను అనురూప పౌనఃపున్యాలతో గుణించగా వచ్చిన లబ్ధాల మొత్తం.

$N$  = మొత్తం పౌనఃపున్యము,

$c$  = సాధారణ లక్షణం (common factor) లేదా తరగతి అంతరము (class interval)

**ఉదాహరణ :** ఈ క్రింది శ్రేణిలో 40 మంది పనివారి వేతనాలివ్వబడినవి. వారి సగటు వేతనము ఎంత ?

బరువు (కీ.గ్రా.)	130 - 140	140 - 150	150 - 160	160 - 170	170 - 180	180 - 190
వ్యక్తులు	3	15	10	8	3	1

**జవాబు :**

వేతనాలు రూపాయలలో C.I.	పని వారి సంఖ్య (f)	మధ్య బిందువు M.V.(x)	ఊహించిన సగటు (A = 155) నుండి విచలనాలు (dx)	(c = 10) సోపాన విచలనాలు (Dx)	సోపానాలను అనురూప పౌనఃపున్యాలతో గుణించగా వచ్చిన గుణ లబ్ధాలు f Dx
130 - 140	3	135	- 20	- 2	- 6
140 - 150	15	145	- 10	- 1	- 15
150 - 160	10	155	0	0	0
160 - 170	8	165	+ 10	+1	+ 8
170 - 180	3	175	+ 20	+ 2	+ 6

180 - 190	1	185	+ 30	+ 3	+ 3
	-----				-----
	N = 40				$\Sigma f Dx = +21$
					+ 17
					= - 4

ఊహించిన అంకమధ్యమము(A) = 155 అయితే

$$\text{అంకమధ్యమము} = \bar{x} = A + \frac{\Sigma f Dx}{N} \times c$$

$$\text{విలువలను ప్రతిక్షేపిస్తే, } \bar{x} = 155 + \frac{-4}{40} \times 10 = 155 - \frac{40}{40} = 155 - 1 = 154$$

కాబట్టి పని వాని సగటు = రూ. 154

వివిధ రూపాల్లో తరగతి అంతరాలు ఉంటే అంకమధ్యమము గణన చేయడం :

వివృత అవధులు (Open End Class Intervals) : వివృత అవధులు గల తరగతులలో మొదటి తరగతి దిగువ అవధి (Lower Limit), చివరి తరగతి ఎగువ అవధి (Upper Limit) తెలియవు. అటువంటి పరిస్థితులలో వివృత అవధుల యొక్క (Open Ends) అవధులు గురించి ఊహించిన తరువాత మాత్రమే అంకమధ్యమ గణన సాధ్యపడును. సాధారణంగా అటువంటి ఊహ ప్రారంభ తరగతికి ఎగువన గల తరగతి, చివరి తరగతికి దిగువ వున్నటువంటి తరగతుల అంతరాలపై ఆధారపడి తరగతి అంతరాలను నిర్ణయించాలి.

ఉదాహరణకు తరగతి అంతరాలు

(Below) 20కి లోపు

20 - 40

40 - 60

60 - 80

80 కి పైన (above)

అని యిచ్చినప్పుడు, దత్తాంశములో తరగతి అంతరాలు అన్ని సమానంగా వుండడం వలన, మొదటి తరగతి దిగువ అవధి '0' గాను (0 - 20) చివరి తరగతి ఎగువ అవధి (80 + 20) = 100గాను ఊహించవచ్చు. అవధులు తెలియని పరిస్థితులలో అట్లాంటి ఊహ, సరియైనది, సమంజసమైనది అవుతుంది.

ఒక్కొక్క తరగతి అంతరాలు అసమానంగా (unequal class intervals) ఉంటాయి. అటువంటి పరిస్థితిలో మొదటి తరగతికి అంతరం, రెండో తరగతి అంతరాన్ని బట్టి నిర్ణయించాలి. చివరి తరగతికి దాని వెనుక తరగతి అంతరాన్ని ఆధారంగా తీసుకొని వివృత అవధులను భర్తీ చేయవలె.

ఉదాహరణకు :

(Below) 30కి లోపు

30 - 50

50 - 60

60 - 70

70 పైన (Above)

పై ఉదాహరణలోని దత్తాంశము అసమానమైన తరగతులు గల వివృత అవధులతో వున్నది. కాబట్టి వాటి అవధులు నిర్ణయించుటకు, మొదటి తరగతికి, తరువాత తరగతి అవధి, అనగా రెండవ తరగతి అవధి  $(50-30) = 20$ . కాబట్టి, మొదటి తరగతి దిగువ అవధి నిర్ణయించుటకు ఎగువ అవధిలో నుండి 20 తగ్గిస్తే  $(30 - 20 = 10)$  వస్తుంది. అప్పుడు మొదటి తరగతి 10 - 30కి సమానంగా ఊహించవచ్చు. అదే విధంగా చివరి తరగతి ఎగువ అవధి నిర్ణయించుటకు, దాని వెనుక వున్న తరగతి అంతరము తీసుకొనవలసి యుండును. అది 60 - 70 కాబట్టి, తరగతి అంతరం 10కి సమానము. దీనిని చివరి తరగతి దిగువ అవధికి కలిపినపుడు  $(70 + 10) = 80$  వస్తుంది. దానిని ఎగువ అవధిగా ఊహించవచ్చు. కనుక చివరి తరగతి 70 - 80కి సమానంగా ఊహించవచ్చు.

ఉదాహరణ : దిగువ దత్తాంశములో 80 మంది వ్యక్తుల రాబడులున్నాయి. వారి సగటు రాబడి గణన చేయండి.

	రాబడి (రూపాయలలో)	వ్యక్తుల సంఖ్య
(Below)	50కి లోపు	8
	50 - 70	12
	70 - 100	20
	100 - 110	30
	110 - 120	7
	120 పైన (above)	3

జవాబు : పైన యిచ్చిన దత్తాంశములో తరగతుల అంతరాలు అసమానం. కాబట్టి మొదటి తరగతి అంతరము, దాని తరువాత తరగతి అంతరాన్ని బట్టి నిర్ణయించవలె. అనగా రెండవ తరగతి అంతరమే  $(70 - 50) = 20$ . కాబట్టి మొదటి తరగతి 20గా ఊహించిన, మొదటి తరగతి దిగువ అవధి  $(50 - 20) = 30$ కి సమానము. అనగా మొదటి తరగతిని 30 - 50గా ఊహించవచ్చును. అలాగే చివరి తరగతి అంతరము, దాని ముందున్న తరగతిని ఆధారంగా నిర్ణయిస్తే  $(120 - 110) = 10$ కి సమానమగును. అప్పుడు చివరి తరగతి ఎగువ అవధి  $(120 + 10) = 130$ కి సమానము. కనుక చివరి తరగతిని 120 - 130గా ఊహించవచ్చును. ఇప్పుడు ఆ దత్తాంశం యొక్క అంకమధ్యమమును గణన చేయవచ్చును.

రాబడి రూపాయలలో C.I.	వ్యక్తుల సంఖ్య (f)	మధ్య బిందువులు M.V.(x)	ఊహించిన సగటు (A=85) నుండి విచలనాలు (dx)	విచలనాలకు అనురూప పానఃపున్యాలతో గుణించగా లబ్ధాలు (fdx)
30 - 50	8	40	- 45	360
50 - 70	12	60	- 25	300

70 - 100	20	85	0	0
100 - 110	30	105	+ 20	600
110 - 120	7	115	+ 30	210
120 - 130	3	125	+ 40	120
	-----			-----
	N = 80			Σfdx = +930
				-660
				-----
				+270

ఊహించిన సగటు 85 అయితే

$$\bar{x} = A + \frac{\Sigma fdx}{N}$$

విలువలను ప్రతిక్షేపించగా,  $\bar{x} = 85 + \frac{270}{80} = 85 + 3.39$

$$\bar{x} = 88.39$$

కాబట్టి వ్యక్తి సగటు రాబడి = రూ. 88.39 పైసలు

సమగ్ర రూపము (Exclusive Method) : దత్తాంశము సమగ్ర రూపము లేదా మినహాయింపు పద్ధతిలో వున్నప్పుడు ఒక తరగతి ఎగువ అవధి, ఆ తరువాత తరగతి దిగువ అవధిగా వుంటుంది.

వేతనాలు(రూ॥లు)	కార్మికులు
0 - 20	1
20 - 40	4
40 - 60	2
60 - 80	6
80 - 100	7
	-----
	20

ఈ ఉదాహరణలో మొదటి తరగతి అంతరం (0 - 20), ఎగువ అవధి 20. అట్లాగే రెండవ తరగతి దిగువ అవధి కూడా 20. ఒక కార్మికుని వేతనం 0 - 19.99 రూపాయలు వుంటే, ఆ అంశము 0 - 20 తరగతిలోకి వస్తుంది. మరొక కార్మికుని వేతనం రూ. 20. అయితే రెండో తరగతిలో వేయాలి. కాబట్టి మొదటి తరగతి '0' కంటే ఎక్కువ, 20 కన్నా తక్కువ, రెండవ తరగతి 20 కంటే ఎక్కువ, 40 కంటే తక్కువ అని అర్థం. ఈ పద్ధతిలో ఒక తరగతి ఎగువ అవధి విలువ ఏ అంశానికైనా వుంటే ఆ అంశమును ఆ తరగతిలో చూపరాదు.



అసమగ్ర రూపం (Inclusive Method) : దత్తాంశ శ్రేణులు అసమగ్ర రూపంలో వున్నప్పుడు ఈ పద్ధతిలో ఒక తరగతి ఎగువ అవధి విలువ ఏ అంశాన్నికైనా వుంటే ఆ అంశాన్ని ఆ తరగతిలోనే చూపవచ్చు.

ఉదాహరణ :

మార్కులు	విద్యార్థుల సంఖ్య
1 - 5	1
6 - 10	4
11 - 15	9
16 - 20	10
21 - 25	6
26 - 30	5

పైన చూపబడిన విభాజనము నందు తరగతి అంతరాలు అసమగ్ర రూపము (inclusive form)లో వున్నవి. అంటే మొదటి తరగతిలో 1 నుండి 5 వరకు మార్కులు వచ్చిన విద్యార్థులందరినీ చూపడమైనది. రెండో తరగతిలో 6 నుండి 10 మార్కులు వచ్చిన విద్యార్థులున్నారు. ఈ విభాజనంలో 5 - 6ల మధ్య మార్కులు వచ్చిన విద్యార్థులను చేర్చవలసి వచ్చినపుడు వాటి మధ్య బిందువులను తీసుకుంటాము.

కాబట్టి మధ్యవిలువ గణన చేసే నిమిత్తము, 1 - 5 అని చదివినా 0.5 - 5.5 అని చదివినా ఒకటే అవుతుంది. రెండవ తరగతిని 6 - 10 అని చదివినా 5.5 - 10.5 అని చదివినా ఒకటే అవుతుంది. అంటే ప్రతి తరగతి దిగువ అవధి నుండి 0.5ను తీసివేసి తరగతి ఎగువ అవధికి 0.5 కలిపి దత్తాంశాన్ని క్రింది విధంగా అవిచ్ఛిన్న క్రమంలో యేర్పాటు చేస్తాము.

మార్కులు	విద్యార్థులు
0.5 - 5.5	1
5.5 - 10.5	4
10.5 - 15.5	9
15.5 - 20.5	10
20.5 - 25.5	6
25.5 - 30.5	5

దత్తాంశం సమగ్ర రూపం (Exclusive form) లేదా అసమగ్ర రూపం (inclusive form)లో యిచ్చిన అంకమధ్యమాన్ని గణన చేయడానికి తరగతులను సరిచేయవలసిన అవసరం లేదు. ముఖ్యంగా అసమగ్ర తరగతులను పునర్నిర్మించినా (Rear-range) నిర్మించకపోయినా మధ్యబిందువుల విలువ సమానంగా వుంటుంది. కాని బాహుళకము, మధ్యగతములను గణన చేయునప్పుడు మాత్రం అసమానాంత తరగతుల అవధులను పైన సూచించిన విధంగా సరిచేయవలసి వుంటుంది.

కంటే తక్కువ (Lessthan), కంటే ఎక్కువ (More than) రూపాలు. దత్తాంశము “కంటే ఎక్కువ”(Morethan) “కంటే తక్కువ” (Less than) అనే రూపాల్లో నున్నప్పుడు అంకమధ్యమం గణన చేయడానికి “కంటే ఎక్కువ”, “కంటే తక్కువ” క్రమం తరగతి అంతరాలలోకి వున్న సంచిత పానఃపున్యాన్ని సాధారణ పానఃపున్యంగా మార్చుకొని దత్తాంశాన్ని పునర్నిర్మించాలి.

ఉదాహరణ : ఒక విద్యార్థుల సంఖ్యలోని 439 మంది విద్యార్థుల బరువులు క్రింది విధంగా ఉన్నాయి.

బరువులు (కిలోలలో)	విద్యార్థులు
10 కంటే తక్కువ	5
20 కంటే తక్కువ	15
30 కంటే తక్కువ	98
40 కంటే తక్కువ	242
50 కంటే తక్కువ	367
60 కంటే తక్కువ	405
70 కంటే తక్కువ	425
80 కంటే తక్కువ	438
90 కంటే తక్కువ	439

పై దత్తాంశము నందు బరువులు ఎగువ అవధికన్నా తక్కువగా, విద్యార్థులు సంచిత పౌనఃపున్యంగా చూపటం జరిగింది. అంకమధ్యమాన్ని గణన చేయడానికి దీని తరగతి అంతరాలు సాధారణ పౌనఃపున్యంగా మార్చాలి. కాబట్టి తరగతుల అంతరం, అవధులు నిర్ణయించుకొని మొత్తం తరగతిని పునర్నిర్మాణం చేస్తే దత్తాంశం యిలా ఉంటుంది.

బరువులు (కిలోలలో) C.I.	విద్యార్థులు (f)	మధ్య విలువ (x)	ఊహించిన సగటు (45) నుండి విచలనాలు (dx)	సోపానాలు c = 10 (Dx)	సోపానాలను అనురూప పౌనఃపున్యాలతో గుణించవచ్చును f Dx
0 - 10	5	5	- 40	- 4	- 20
10 - 20	10	15	- 30	- 3	- 30
20 - 30	83	25	- 20	- 2	- 166
30 - 40	144	35	- 10	- 1	- 144
40 - 50	125	45	0	0	0
50 - 60	38	55	10	1	38
60 - 70	20	65	20	2	40
70 - 80	13	75	30	3	39
80 - 90	1	85	40	4	4
	----- N = 439				----- Σf Dx = - 360 + 121 } - 239

$$\text{అంకమధ్యమము} = \bar{x} = A + \frac{\Sigma f Dx}{N} \times c$$

$\bar{x}$  = అంకమధ్యమము

A = ఊహించిన అంకమధ్యమము

$\Sigma f Dx$  = సోపానాలను అనురూప పానఃపున్యాలతో గుణించగా లబ్ధాల మొత్తము.

c = సాధారణ కారణాంకము లేదా తరగతి అంతరం

N = మొత్తం పానఃపున్యము

$$\bar{x} = A + \frac{\Sigma f Dx}{N} \times c \text{ విలువలను ప్రతిక్షేపించగా}$$

$$\bar{x} = 45 + \frac{-239}{439} \times 10$$

$$= 45 + [-0.544 \times 10] = 45 + (-5.44)$$

$$= 45 - 5.44 = 39.56$$

కాబట్టి ఒక్కొక్క విద్యార్థి సగటు బరువు 39.56 కిలోగ్రాములు.

ఉదాహరణ : ఒక కంపెనీలో పనిచేసే 214 మంది పనివారి వేతనాలు క్రింది పట్టిలో యివ్వబడినవి. వారి వేతన అంకమధ్యమం కనుగొనుము.

వేతనాలు రూపాయలలో (Morethan)	పనివారు
75 కంటే ఎక్కువ	214
85 కంటే ఎక్కువ	212
95 కంటే ఎక్కువ	189
105 కంటే ఎక్కువ	140
115 కంటే ఎక్కువ	77
125 కంటే ఎక్కువ	32
135 కంటే ఎక్కువ	7
145 కంటే ఎక్కువ	8

పై దత్తాంశములో దిగువ అవధులు, పనివారి సంఖ్య సంచిత పానఃపున్యము అవరోహణ క్రమంలో వున్నది. కాబట్టి తరగతుల అంతరము, అవధులు నిర్ణయించుకొని, సాధారణ పానఃపున్యంలోకి దత్తాంశాన్ని పునర్నిర్మించుకోవలె.

వేతనాలు (రూ  లలో) C.I.	పనివారు (f)	మధ్య బిందువులు (x)	ఊహించిన అంకమధ్యమము 110 నుండి విచలనాలు (dx)	విచలనాల సాధారణ లక్షణం(10) తో భాగించగా వచ్చిన సోపానాలు (Dx)	సోపాన విచలనాలను (Dx) అనురూప పానఃపున్యాలతో గుణించగా గుణలబ్ధాలు ( f Dx)
75 - 85	2	80	- 30	- 3	- 6
85 - 95	23	90	- 20	- 2	- 46
95 - 105	49	100	- 10	- 1	- 49
105 - 115	63	110	0	0	0
115 - 125	45	120	10	+ 1	+ 45
125 - 135	25	130	20	+ 2	+ 50
135 - 145	3	140	30	+ 3	+ 9
145 - 155	4	150	40	+ 4	+ 16
	----- N = 214				----- Σfd' = + 360 - 101 } <sup>19</sup>

$$\bar{x} = A + \frac{\Sigma f Dx}{N} \times c \text{ విలువలను ప్రతిక్షేపించగా}$$

$$\bar{x} = 110 + \frac{19}{214} \times 10$$

$$\bar{x} = 110 + (0.88 \times 10) = 110 + 8.8$$

$$\bar{x} = 118.8$$

కొబట్టి కంపెనీలో పనిచేయువారి సగటువేతనం రూ. 118.80 పైసలు.

మధ్యబిందువులు వచ్చినపుడు : అవిచ్చిన్న శ్రేణులలో ఒక్కొక్కప్పుడు తరగతులకు బదులుగా మధ్య విలువలను యిస్తే తరగతి అంతరము, తరగతుల దిగువ, ఎగువ అవధులు నిర్ణయించవచ్చును.

మధ్య బిందువు	పానఃపున్యము
25	7
75	13
125	15
175	4

225	25
275	10
325	36
375	9
425	16
	-----
మొత్తం	135
	-----

మొదటి మధ్య బిందువుకు రెండవ మధ్య బిందువుకు తేడా 50, అన్ని బిందువులకు అదే తేడా కనబడుచున్నది. ఈ తేడాను 2వే భాగిస్తే 25 అవుతుంది. దీనిని మధ్య విలువ నుండి తీసివేస్తే తరగతి దిగువ అవధి, మధ్య విలువకు కలిపితే తరగతి ఎగువ అవధి వస్తుంది. ఆ విధంగా తరగతులను పునర్నిర్మాణం చేసుకోవచ్చు.

తరగతుల నిర్మాణం :

మధ్య బిందువు	తరగతులు	పానఃపున్యము
25	(25 - 25) 0 - 50 (25 + 25)	7
75	(75 - 25) 50 - 100 (75 + 25)	13
125	(125 - 25) 100 - 150 (125 + 25)	15
175	(175 - 25) 150 - 200 (175 + 25)	4
225	(225 - 25) 200 - 250 (275 + 25)	25
275	(275 - 25) 250 - 300 (275 + 25)	10
325	(325 - 25) 300 - 350 (325 + 25)	36
375	(375 - 25) 350 - 400 (375 + 25)	9
425	(425 - 25) 400 - 450 (425 + 25)	16

కాని దత్తాంశంలో మధ్య బిందువులు యిచ్చినప్పుడు, అంకమధ్యమాన్ని గణన చేయుటకు తరగతులను యేర్పాటు చేయనవసరం లేదు. కారణమేమంటే అవిచ్చిన్న శ్రేణులలో అంకమధ్యమం, మధ్య బిందువు ద్వారానే గణన చేస్తాం. మధ్యగతము, బాహుళాలు కనుగొనుటకు దత్తాంశాన్ని పునర్నిర్మాణం చేయవలె.

అంకమధ్యమము : గుణదోషాలు

కేంద్రస్థాన సగటులో అతి తరచుగా ఉపయోగించే సగటు అంకమధ్యమం. ఈ సగటుకు కొన్ని గుణదోషాలు వున్నాయి.

సుగుణాలు

1. ఇది స్పష్టంగా, నిర్దుష్టంగా నిర్వచింపబడిన సగటు. పరిశోధకుడు పక్షపాత బుద్ధితో గణన చేసినా నిస్పక్షపాతంగా గణన చేసినా వచ్చే అంకమధ్యమము ఒక్కటే.

2. గణన సులువు. సామాన్య మానవులకు సగటు అంటే అంకమధ్యమమే అని అర్థము.
3. అంకమధ్యమాన్ని అతి సులువుగా అర్థం చేసుకొనవచ్చును.
4. ఇది బీజీయ ప్రస్తావనకు (Algebraic treatment) తగియున్నది.
5. సగటు అన్ని అంశాల మీద ఆధారపడవలెననే ముఖ్య లక్షణాన్ని సంతృప్తి పరచుచున్నది. అన్ని అంశాలకు ప్రాతినిధ్యాన్ని యిస్తుంది.
6. అన్ని సగటులలో ప్రతిచయన మార్పులకు అతి తక్కువగా ప్రభావితం అయ్యే సగటు అంకమధ్యమం.

దోషాలు

1. శ్రేణిలో వుండే అతి స్వల్ప, అతి పెద్ద అంశాల వల్ల అంకమధ్యమం ఎక్కువగా ప్రభావితమగును. ఉదాహరణకు 90 సం॥ తాతగారు తన జన్మదినం సందర్భంగా మనుమలందరకూ విందు యేర్పాటు చేసెను. విందులో పాల్గొన్న మనుమల వయస్సు 10, 13, 17, 20 సంవత్సరాలు. వారందరి సగటు వయస్సు =  $90 + 10 + 13 + 17 + 20 = \frac{150}{5} = 30$ , వాస్తవంగా విందుకు హాజరైన వారిలో ఏ ఒక్కరికి 30 సం॥ల వయస్సు లేదు. అందువలన (30 సం॥) అంకమధ్యమం ఆ శ్రేణికి సరియైన ప్రాతినిధ్యము వహించడం లేదు. ఇటువంటి సగటు తప్పుదారి (Misleading) పట్టించేదిగా నున్నది.
2. అంకమధ్యమము ఒక్కొక్కసారి అసహజ (Absend) ఫలితాలనిస్తుంది. ఉదాహరణకు ఒక కళాశాలలో బిఏ, బీయస్సీ, బికాం తరగతులలో విద్యార్థుల సంఖ్య 220 అనుకొంటే ఒక్కొక్క తరగతి సగటు విద్యార్థుల సంఖ్య  $\frac{220}{3} = 73.3$ . ఇటువంటి ఫలితము చాలా అసహజంగా కనిపిస్తుంది. ఎందుకనగా .3 విద్యార్థులుండడం అసంభవం.
3. ఒక్కొక్కప్పుడు ఒక్క అంకమధ్యమాన్నే తెలుసుకొని, అంశాన్ని తెలుసుకోలేకపోవడం వలన మోసపోవలసిన పరిస్థితి యేర్పడును. కొన్ని సందర్భాలలో అది ప్రమాదకరంగా పరిణమిస్తుంది. ఒక ఈతరాని వ్యక్తి నదిని దాటవలసి వచ్చినపుడు నదిలోతు అంకమధ్యమము 3 అడుగులని తెలుసుకొని నదిని దాటడానికి ఉపక్రమించిన, ఆ నదిలోతు ఒకచోట 8 అడుగులు వుందని తెలియకపోతే ప్రమాదానికి గురి కావలసి వస్తుంది.
4. అంకమధ్యమాన్ని కేవలం పరిశీలన వలన (Mere observation) వల్ల, రేఖాచిత్రపటాల వల్ల తెలుసుకోలేము.
5. శ్రేణిలో ఏ ఒక్క అంశము తెలియకపోయినా అంకమధ్య గణన సాధ్యపడదు.
6. కొన్ని సందర్భాలలో తప్పు నిర్ణయాలకు దారి తీయవచ్చు. ఉదాహరణకు x, y అనే యిద్దరు విద్యార్థుల మార్కులు క్రింది విధంగా వున్నాయని అనుకొందాము.

నెలపరీక్ష	X విద్యార్థి మార్కులు	Y విద్యార్థి మార్కులు
జనవరి	30	50
ఫిబ్రవరి	40	40
మార్చి	50	30

పై శ్రేణులలో యిద్దరి విద్యార్థుల సగటు మార్కులు 40. దీనిని బట్టి యిద్దరు ఒకే విధంగా చదువుచున్నారని అర్థము. కాని X విద్యార్థి అభివృద్ధిని, Y విద్యార్థి క్షీణతను ఈ సగటులు వెల్లడి చేయడం లేదు.

7. వివృత అవధులున్న తరగతి అంతరానికి అంకమధ్యమం ఉపయోగించటం సరికాదు.

**7.3.4 భారిత అంకమధ్యమము :** అంకమధ్య గణనలో అంశాలన్నింటికీ సమాన ప్రాముఖ్యము యివ్వబడును. కాని వ్యక్తిగతంగా అంశాలకు వేరు వేరు ప్రాముఖ్యాలున్నపుడు అన్ని అంశాలకు సమాన ప్రాముఖ్యమివ్వడం ఒక రకంగా తప్పుత్రోవ పట్టించడం అవుతుంది. సాపేక్ష ప్రాముఖ్యం (Relative importance) అలక్ష్యం చేయడం వల్ల సగటులోని యదార్థత కనపడదు.

ఉదాహరణకు ఒక పనిని ఒక పురుషుడు, ఒక స్త్రీ, ఒక బాలుడు పూర్తి చేసినారనుకుందాము. మొత్తం పనిని పూర్తి చేయడానికి చెల్లించిన కూలి రూ. 9-00. ముగ్గురు పనివారికి సమానంగా (సగటున) రూ. 3-00 చొప్పున చెల్లిస్తే, అది సమంజసంగా వుండదు. కారణం ఆ ముగ్గురు పనివారే అయినా, వారి పని యొక్క సాపేక్షిక ప్రాముఖ్యాలు వేరువేరుగా వున్నాయి. కాబట్టి రూ. 9-00 కూలిని వారికి చెల్లించే ముందు వారి వ్యక్తిగత ప్రాముఖ్యాన్ని తెలుసుకొని ఆ మొత్తాన్ని వారికి పంచవలె.

అంటే పురుషుడు చేసే పనిలో  $\frac{3}{4}$  వంతు స్త్రీ, పనిలో బాలుడు  $\frac{1}{2}$  వంతు, చేయగలరని అనుకొంటే వారు చేసిన మొత్తం పని  $1 + \frac{3}{4} + \frac{1}{2}$ . లేదా  $(4:3:2) = \frac{9}{4}$  అవుతుంది. అప్పుడు మొత్తం కూలిని వాళ్ళు చేసే పని నిష్పత్తిలో పంచినపుడు మగవానికి రూ. 4-00, స్త్రీకి రూ. 3-00, బాలునకు రూ. 2-00 చొప్పున చెల్లించవలసియుండును. కాబట్టి వేర్వేరు అంశాల సాపేక్షిక ప్రాముఖ్యాన్ని గుర్తించి అంకమధ్యమాన్ని గణన చేయవలసి వచ్చినపుడు భారిత అంకమధ్యమాన్ని గణన చేయడం ఎంతయినా అవసరం. దీనిలో అంశాలను ఒకటి కంటే ఎక్కువసార్లు వాటి ప్రాముఖ్యాన్ని బట్టి లెక్కించవలసి వుంటుంది. అంటే సాపేక్షిక ప్రాముఖ్యాన్ని బట్టి భారా(weights)లేర్పడతాయి. అయితే ఇటువంటి భారాలు నిజమైనవే అయి యుండవలసిన అవసరం లేదు.

భారాలు నిజమైనవి గాని, నిర్దేశితమైనవి (Arbitrary)గాని కావచ్చును. నిజమైన భారాలు లేనప్పుడు నిర్దేశితమైన లేదా ఊహించిన భారాలు ఉపయోగించవచ్చు. కాని ఫలితంలో కొంత దోషం కనిపిస్తుంది. అయితే అసలు భారాలు లేని సగటు కంటే ఊహించిన భారాలతో గణన చేయడం కొంత మెరుగు. ఇంతేకాకుండా ఊహించిన భారాల వల్ల వచ్చే దోషము సాపేక్షికంగా చాలా తక్కువ. ఊహించిన భారాలనుపయోగించి సగటు గణన చేయవచ్చును గాని, నిజమైన అంశాలకు బదులు నిర్దేశితమైన అంశాలను ఉపయోగించరాదు.

విభాజనంలోని చలనాలను వాటి భారాలతో గుణిస్తే వచ్చిన లబ్ధాల సంకలనాన్ని, వాటి మొత్తం భారాలతో భాగిస్తే భారిత అంకమధ్యమము లభ్యమవుతుంది. సాంకేతికముంగా  $x_1, x_2, x_3, \dots, x_n$  అనే  $N$  సంఖ్యలున్న చలనాలు ఉన్నాయని,  $w_1, w_2, w_3, \dots, w_n$  అనేవి వాటి అనురూప భారాలని అనుకొనినచో వాటి భారిత అంకమధ్యమము

$$\text{భారిత అంకమధ్యమము } (\bar{x}_w) = \frac{w_1x_1 + w_2x_2 + w_3x_3 + \dots + w_nx_n}{w_1 + w_2 + w_3 + \dots + w_n}$$

$$\bar{x}_w = \frac{\sum wx}{\sum w}$$

$\sum wx$  = చలనాలను వాటి భారాలతో గుణిస్తే వచ్చిన లబ్ధాల సంకలనము

$\sum w$  = భారాల మొత్తము.

ఉదాహరణ : ఈ దిగువ యిచ్చిన పట్టిలో మూడు విశ్వవిద్యాలయాల పరీక్షా ఫలితాలు పొందుపరచడమైనది. దీనిని బట్టి ఏ విశ్వవిద్యాలయం ఎక్కువ ఆధిక్యత సంపాదించినదో సకారణంగా విశదీకరింపుము.

విశ్వవిద్యాలయ పరీక్షలు	ఫలితాలు శాతాలు		
	A విశ్వవిద్యాలయం	B విశ్వవిద్యాలయం	C విశ్వవిద్యాలయం
M.A.,	70	75	75
M.Sc.,	85	80	65
M.Com.,	80	65	70
B.A.	75	85	80
B.Sc.,	65	75	85
B.Com.	75	70	75

జవాబు : పై ఉదాహరణలో సామాన్య అంకమధ్యమము (Simple Arithmetic Mean) గణన చేస్తే మూడు విశ్వవిద్యాలయాల ఫలితాల సగటు (75) ఒకే విధంగా నున్నది. కారణమేమనగా మూడు విశ్వవిద్యాలయాలకు సమాన ప్రాతినిధ్యమిచ్చి అందులో వున్నవి విద్యార్థుల సంఖ్య సమానంగా వున్నట్లు ఊహించితిమి. కాని అట్లా ఉండడం అరుదు. అందువలన వానికి భారాలివ్వవలె. M.A., M.Sc., M.Com.,లలో విద్యార్థుల సంఖ్య డిగ్రీ తరగతుల కంటే తక్కువగా వుంటుందని, ఆర్ట్స్ తరగతులలో విద్యార్థులు సైన్స్ విద్యార్థుల కంటే ఎక్కువ వుంటారని ఊహించి తగిన రీతిగా భారాలనిచ్చినపుడు భారిత అంకమధ్యమము గణన చేయవచ్చును. విశ్వవిద్యాలయాలలో విద్యార్థుల సంఖ్య కూడా వేరువేరుగా వున్నట్లు ఊహించవలె. పై ఉదాహరణలో భారమివ్వనందువల్లే నిర్దేశిత భారాలు (arbitrary weights) ఊహించి భారిత, అంకమధ్యమాన్ని గణన చేయవలె.

విశ్వవిద్యాలయ పరీక్షలు	ఫలితాల శాతము $x_1$	A విద్యార్థుల సంఖ్య 100లలో		ఫలితాల శాతము $x_2$	B విద్యార్థుల సంఖ్య 100లలో		ఫలితాల శాతము $x_3$	C విద్యార్థులు 100లలో	
		$w_1$	$x_1 w_1$		$w_2$	$x_2 w_2$		$w_3$	$x_3 w_3$
M.A.	70	5	350	75	4	300	75	6	450
M.Sc.	85	4	340	80	3	240	65	4	260
M.Com.	80	6	480	65	5	325	70	5	350
B.A.	75	7	525	85	6	510	80	7	560
B.Sc.	65	5	325	75	4	300	85	5	425
B.Com.	75	8	300	70	5	350	75	5	375
N=6	450	35	2,620	450	27	2,025	450	32	2,420

సాధారణ అంకమధ్యమము :

$$A \text{ విశ్వవిద్యాలయంలో } (\bar{x}_A) = \frac{\sum x_1}{N} = \frac{450}{6} = 75\%$$



$$B \text{ విశ్వవిద్యాలయంలో } (\bar{x}_B) = \frac{\Sigma x_2}{N} = \frac{450}{6} = 75\%$$

$$C \text{ విశ్వవిద్యాలయంలో } (\bar{x}_C) = \frac{\Sigma x_3}{N} = \frac{450}{6} = 75\%$$

పైన సూచించబడిన సాధారణ అంకమధ్యమము మూడు విశ్వవిద్యాలయాలకు సమానంగానున్నది. కనుక వాటి ఆధిక్యత తెలపడం అసంభవము.

భారిత అంకమధ్యమము :

$$A \text{ విశ్వవిద్యాలయము} = \frac{\Sigma x_1 w_1}{\Sigma w_1} = \frac{2620}{35} = 74.86\%$$

$$B \text{ విశ్వవిద్యాలయము} = \frac{\Sigma x_2 w_2}{\Sigma w_2} = \frac{2025}{27} = 75\%$$

$$C \text{ విశ్వవిద్యాలయము} = \frac{\Sigma x_3 w_3}{\Sigma w_3} = \frac{2420}{32} = 75.63\%$$

A, B, C విశ్వవిద్యాలయాలలో భారిత అంకమధ్యమాలు 74.86, 75, 75.63. 'C' విశ్వవిద్యాలయ భారిత అంకమధ్యమం ఎక్కువ కావున 'C' ఆధిక్యత సాధించినదని చెప్పవచ్చు.

C విశ్వవిద్యాలయంలో డిగ్రీ ఫలితాలు ఎక్కువగా సాధింపబడినందున హెచ్చు భారాలివ్వడమైనది. తత్ఫలితంగా దానికి ఆధిక్యత లభించినది.

భారిత అంకమధ్యమము - ధర్మాలు

1. అన్ని అంశాలకు సమాన భారాలిచ్చినప్పుడు సామాన్య అంకమధ్యమము ( $\bar{x}$ ) = భారిత అంకమధ్యమము ( $\bar{x}_w$ ).
2. పెద్ద అంశాలకు చిన్న భారాలు, చిన్న అంశాలకు పెద్ద భారాలు యిచ్చినప్పుడు సామాన్య అంకమధ్యమము ( $\bar{x}$ ) > భారిత అంకమధ్యమము ( $\bar{x}_w$ ) (ఎక్కువగా వుండును).
3. పెద్ద అంశాలకు పెద్ద భారాలు, చిన్న అంశాలకు చిన్న భారాలు యిచ్చినప్పుడు సాధారణ అంకమధ్యమం ( $\bar{x}$ ) < భారిత అంకమధ్యమము ( $\bar{x}_w$ ) తక్కువగా వుండును.

పై ధర్మాలను ఉదాహరణ ద్వారా విశ్లేషించవచ్చును.

అంశాలు	విలువలు	మొదటిధర్మం ఉదాహరణ		రెండవ ధర్మం ఉదాహరణ		మూడవ ధర్మం ఉదాహరణ	
		w	xw	w	xw	w	xw
A	25	5	125	8	200	2	50
B	30	5	150	6	180	4	120

C	40	5	200	4	160	6	240
D	45	5	225	2	90	8	360
N = 4	140	20	700	20	630	20	770

$$\text{సాధారణ అంకమధ్యమము} (\bar{x}) = \frac{\sum x}{N} = \frac{140}{4} = 35$$

$$\text{మొదటి ధర్మం : భారిత అంకమధ్యమము} = \frac{\sum xw}{\sum w} = \frac{700}{20} = 35$$

(అన్ని అంశాలకు సమాన భారాలు అంటే సాధారణ అంకమధ్యమము  $\bar{x} = 35$ ,  $\bar{x}_w = 35$ ) కావున

అంటే సాధారణ అంకమధ్యమము, భారిత అంకమధ్యమానికి సమానము ( $\bar{x} = \bar{x}_w$ ) .

$$\text{రెండవ ధర్మం : భారిత అంకమధ్యమము} = \frac{\sum xw}{\sum w} = \frac{630}{20} = 31.5$$

ఈ ఉదాహరణలో పెద్ద అంశాలకు చిన్న భారాలు, చిన్న అంశాలకు పెద్ద భారాలు ఇస్తే భారిత అంకమధ్యమం 31.5. అంటే రెండో ధర్మం  $\bar{x} > \bar{x}_w$  అని నిరూపించబడింది.

$$\text{మూడో ధర్మం : భారిత అంకమధ్యమం} = \frac{\sum xw}{\sum w} = \frac{770}{20} = 38.5$$

ఈ ఉదాహరణలో మూడవ ధర్మం  $\bar{x} < \bar{x}_w$  గా నిరూపించబడింది ( $\bar{x} = 35$ ,  $\bar{x}_w = 38.5$ ).

**భారిత అంకమధ్యమము - ఉపయోగాలు**

దత్తాంశములో వున్న అన్ని అంశాలకు సమాన ప్రాముఖ్యం లేనపుడు, సామాన్య అంకమధ్యమం నిరుపయోగమగును. అందువలన భారిత అంకమధ్యమము అవసరము. రెండుగాని అంతకంటే ఎక్కువగాని వున్న దత్తాంశమును పోల్చి చెప్పుటకు భారిత అంకమధ్యమము తోడ్పడును. ప్రామాణిక జనన, మరణ రేట్లను గణన చేయుటకు తోడ్పడును. సూచి సంఖ్యల నిర్మాణానికి తోడ్పడును. మాధ్యమ మాధ్యమము (Mean of means) కనుగొనుటకు భారిత అంకమధ్యమము ప్రత్యేకంగా ఉపయోగపడును.

ఉదాహరణ : రెండు కంపెనీలలో A కంపెనీలో సగటు వేతనం రూ. 80-00. B కంపెనీలో సగటు వేతనం రూ. 120-00. (యివ్వబడినవి)

		A కంపెనీ	B కంపెనీ
వేతనాలు	x	రూ. 80	రూ. 120
పనివారు	N	100	200
భారాలు	w	200	200

ఇక్కడ పని వారి సంఖ్య భారాలుగా ఉపయోగిస్తే,  $\sum xw = A$  కంపెనీ 8000, B కంపెనీ = 24000

$$\text{భారిత అంకమధ్యమము} \frac{\Sigma xw}{\Sigma w} = \frac{8000+24000}{100+200} = \frac{32000}{300} = 106.67$$

కాబట్టి మాధ్యమాల మాధ్యమం అంటే, భారిత అంకమధ్యమము. రెండు కంపెనీల సగటు వేతనం కనుగొనుటకు ఒక్కొక్క కంపెనీ సగటు వేతనాన్ని, ఆ కంపెనీలో పనిచేసే వారితో గుణిస్తే, మొత్తం కంపెనీ చెల్లించే జీతాల బిల్లు (pay bill) తెలుస్తుంది. అప్పుడు రెండు కంపెనీల జీతాల బిల్లులను కలిపి రెండు కంపెనీలలో ఉన్న పని వారి మొత్తం సంఖ్యతో భాగిస్తే, రెండు కంపెనీల సగటు వేతనం తెలుస్తుంది. అటువంటి సగటు, నిజానికి భారిత అంకమధ్యమమే.

**7.3.5 ఉమ్మడి అంకమధ్యమము (Combined Average) :** ఒక శ్రేణిలోని రెండు విభాగాల సగటులు వేరువేరుగా యిచ్చినట్లయితే ఆ మొత్తం శ్రేణికి సంబంధించిన సగటును కనుగొనుటకు దిగువ సూత్రం వాడాలి.

$$\text{ఉమ్మడి సగటు} (\bar{x}_{12}) = \frac{N_1 \times \bar{x}_1 + N_2 \times \bar{x}_2}{N_1 + N_2}$$

$\bar{x}_{12}$  = ఉమ్మడి సగటు లేదా ఉమ్మడి అంకమధ్యమము

$\bar{x}_1$  = మొదటి విభాగపు సగటు

$N_1$  = మొదటి విభాగపు అంశాల సంఖ్య

$\bar{x}_2$  = రెండవ విభాగపు సగటు

$N_2$  = రెండవ విభాగపు అంశాల సంఖ్య

### 7.4 గుణమధ్యమము

గణిత సగటులలో రెండోది గుణమధ్యమము. శ్రేణులలోని 'N' అంశాల లబ్ధానికి N వర్గమూలాన్ని గుణమధ్యమంగా నిర్వచింపవచ్చును. (Geometric mean is defined as the N th root of the product of N items of the series ) ఒకవేళ శ్రేణిలో రెండంశాలే వుంటే గుణమధ్యమాన్ని తెలుసుకొనుటకు రెండంశాల వర్గమూలాన్ని కనుగొంటాము. శ్రేణిలో మూడు అంశాలే వుంటే మూడు అంశాల వర్గమూలాన్ని కనుగొనడం ద్వారా గుణమధ్యమం తెలుసుకొంటాము.

పై నిర్వచనాన్ని సాంకేతికంగా చెప్పవలెనంటే శ్రేణులలో  $x_1, x_2, x_3, \dots, x_n$  అనే N అంశాలున్నాయనుకొందాము. అప్పుడు గుణమధ్యమము

$$\text{Geometric mean (G.M.)} = \sqrt[N]{x_1 \times x_2 \times x_3 \times \dots \times x_n} = (x_1, x_2, \dots, x_n)^{1/n}$$

N = 2 అనుకొనిన, అవి 4, 16 అయితే ఆ రెండు సంఖ్యల లబ్ధాలకు వర్గమూలాలు కనుగొనవలెను. G.M. =  $\sqrt{4 \times 16} = \sqrt{64} = 8$  అని చెప్పవచ్చు. శ్రేణిలో గల అంశాలు రెండింటికి మించి వున్నప్పుడు సంవర్గమానాలను (logarithms) ఉపయోగిస్తారు.

$$GM = \text{Antilog} \frac{1}{N} (\log x_1 + \log x_2 + \dots + \log x_n)$$

$$GM = \text{Antilog } \frac{1}{N} \sum \log x \text{ or Antilog } \frac{\sum \log x}{N}$$

$\sum \log x$  = అంశాల సంవర్గమానాల సంకలనము

$N$  = అంశాల మొత్తము

కొబట్టి గుణమధ్యమాన్ని గణన చేయడానికి అంశాల సంవర్గ మానాలను సంకలనము చేసి, ఆ మొత్తాన్ని అంశాల సంఖ్యతో భాగిస్తే వచ్చిన ఫలితానికి ప్రతి సంవర్గమానము (Antilog) చూడవలెను. గుణమధ్యమము అంకమధ్యమములో సమానంగాగాని, తక్కువగాకాని వుంటుంది  $GM \leq AM$ .

**7.4.1 గుణమధ్య గణన - వ్యక్తిగత శ్రేణులు :** శ్రేణిలోని అంశాల విలువలకు సంవర్గమానాలను ( $\log x$ ) కనుగొనవలెను. సంవర్గమానాలను సంకలనము చేయవలె ( $\sum \log x$ ) సంవర్గమానాల సంకలనాన్ని అంశాల సంఖ్యతో భాగించవలె  $\left(\frac{1}{x} \sum \log x\right)$ . వచ్చిన ఫలితానికి ప్రతి సంవర్గమానాన్ని చూస్తే గుణమధ్యమం వస్తుంది.

ఉదాహరణ : దిగువ శ్రేణిలో 10 కుటుంబాల రాబడి యివ్వబడినది. రాబడి గుణమధ్యమము కనుగొనుము.

జవాబు :

కుటుంబము	రాబడి(రూ॥లలో) $x$	సంవర్గమానాలు( $\log x$ )
1	15	1.1761
2	70	1.1851
3	85	1.9294
4	500	2.6990
5	75	1.8751
6	8	0.9031
7	45	1.6532
8	250	2.3979
9	40	1.6021
10	36	1.5563
-----		-----
$N = 10$		$\sum \log x = 17.6373$

$$GM = \text{Antilog } \frac{\sum \log x}{N}$$

$$= \text{Antilog } \frac{17.6373}{10}$$

= Antilog 1.76373

GM = రూ. 58.04 పైసలు

ఒక్కొక్కప్పుడు సంవర్గమానాలను సంకలనము చేయునపుడు వచ్చే పూర్ణాంక భాగము (characteristic) ఋణాత్మకంగా (-ve) వుంటుంది. అలాంటప్పుడు సంవర్గమానాల మొత్తాలను అంశాల సంఖ్యతో భాగించడం వీలుపడకపోవచ్చు. కారణము అపూర్ణాంక భాగము లేదా మాంటెస్సా (Mantissa) ఎప్పుడూ ధనాత్మకం విలువ కావడం వలన రెండింటినీ సమిష్టిగా భాగించడానికి వీలులేదు. అందువలన తగిన విధంగా భాగఫలమును రాబట్టవలె.

ఉదాహరణ : దిగువ యిచ్చిన రెండు శ్రేణులకు గుణమధ్యమాన్ని గణన చేయండి.

క్రమ సంఖ్య	A శ్రేణులు	B శ్రేణులు
1	2574	.8974
2	475	.0570
3	75	.0081
4	5	.5577
5	.8	.0002
6	.08	.0984
7	.005	.0854
8	.0009	.5672

జవాబు : శ్రేణులలోని అంశాలకు సంవర్గమానాలను కనుగొని సంకలనము చేయవలె.

క్రమసంఖ్య	A శ్రేణులు	A శ్రేణుల సంవర్గమానాలు $x$	B శ్రేణులు	B శ్రేణుల సంవర్గమానాలు $x$
1	2574	3.4106	.8974	$\bar{1}.9530$
2	475	2.6767	.0570	$\bar{2}.7559$
3	75	1.8751	.0081	$\bar{3}.9085$
4	5	0.6990	.5577	$\bar{1}.7464$
5	.8	$\bar{1}.9031$	.0002	$\bar{4}.3010$
6	.08	$\bar{2}.9031$	.0984	$\bar{2}.9930$
7	.005	$\bar{3}.6990$	.0854	$\bar{2}.9315$
8	.009	$\bar{4}.9542$	.5672	$\bar{1}.7538$
$N = 8$		$\Sigma \log x = 2.1208$		$\Sigma \log x = \bar{10}.3431$

A శ్రేణుల గుణమధ్యమము = Antilog  $\frac{\Sigma \log x}{N}$

$$= \text{Antilog } \frac{2.1208}{8}$$

$$= \text{Antilog } 0.2651$$

$$A \text{ శ్రేణుల } GM = 1.841$$

$$B \text{ శ్రేణుల గుణమధ్యమము} = \text{Antilog } \frac{\sum \log x}{N}$$

$$= \text{Antilog } \frac{\overline{10.3431}}{8}$$

ఇక్కడ పూర్ణాంక భాగము (Characteristic) ఋణాత్మకము దానిని భాగించే సంఖ్య 8 కంటే హెచ్చుగా వున్నది. అంటే 8 ఒకసారి పోతే యింకా 2 మిగిలిపోతుంది. ఋణాత్మక విలువ మాంటెస్సాకు కలుపరాదు గదా! అయితే 8 సరిగా పోయేటట్లు చేయడానికి ఎంతయితే పూర్ణాంక భాగానికి (Characteristic)కు కలిపినామో అంత విలువ మాంటిసాకు కలుపవలె. అంటే 6ను ఋణాత్మక విలువ పూర్ణాంక భాగానికి కలపడం వల్ల అది  $\overline{16}$  (బార్ పదహారు) అగును. 8చే సరిగా రెండుసార్లు పోతుంది. కాని మనము కలిపిన ఋణాత్మకపు  $\overline{6}$  కు సమానంగా ధనాత్మకపు విలువ (+6) మాంటెస్సాకు కలుపవలె. అంటే మన విలువ  $\overline{10.3431}$  బదులు  $\overline{16}+6.3431$  అని తీసుకొనవలెను. కావున

$$\text{గుణమధ్యమము} = \text{Antilog } \frac{\overline{10.3431}}{8} \text{ బదులు, పైన తెలుసుకొన్న విధంగా సంవర్గమానము వ్రాసుకొంటే}$$

$$= \text{Antilog } \frac{\overline{16.3431}}{8}$$

$$= \text{Antilog } \overline{2.7929}$$

$$B \text{ శ్రేణుల } GM = 0.6207$$

**7.4.2 విచ్ఛిన్న శ్రేణులు - గుణమధ్యమము :** విచ్ఛిన్న శ్రేణులలోని అంశాల విలువలకు సంవర్గమానాలను  $\log x$  కనుగొనవలెను.

ఆ సంవర్గమానాలను అనురూప పానఃపున్యాలతో గుణించి ( $f \log x$ ) లబ్ధాల సంకలనము ( $\sum f \log x$ ) కనుగొనవలెను.

లబ్ధాల సంకలనమును మొత్తం పానఃపున్యము(N)తో భాగించవలె. భాగఫలానికి ప్రతి సంవర్గమానము కనుగొని గుణమధ్యమము గణన చేయవచ్చు.

$$GM = \text{Antilog } \frac{\sum f \log x}{N}$$

$\sum f \log x =$  అంశాల సంవర్గమానాన్ని వాటి అనురూప పానఃపున్యాలతో గుణించగా వచ్చిన లబ్ధాల మొత్తము.

$$N = \text{మొత్తం పానఃపున్యము}$$

ఉదాహరణ : దిగువ యిచ్చిన దత్తాంశములో 50 మంది విద్యార్థుల బరువులు వున్నాయి. వాని నుండి వారి బరువు గుణమధ్యమాన్ని కనుక్కోండి.

బరువు (కిలోగ్రాములు)	110	112	115	120	121	128	130	135
విద్యార్థులు	6	8	12	5	4	5	7	3

జవాబు :

బరువు(x) (కేజీలలో)	విద్యార్థుల సంఖ్య (f)	సంవర్గమానాలు log x	సంవర్గమానాలను అనురూప పానఃపున్యాలతో గుణించగా వచ్చిన లబ్ధాలు f × log x
110	6	2.0414	12.2484
112	8	2.0492	16.3936
115	12	2.0607	24.7284
120	5	2.0792	10.3960
121	4	2.0828	8.3312
123	5	2.0899	10.4495
130	7	2.1139	14.7973
135	3	2.1303	6.3903
	N = 50		103.7953 = Σ f log x

గుణమధ్యమము (GM) = Antilog  $\frac{\Sigma f \log x}{N}$ , విలువలను ప్రతిక్షేపించగా

$$= \text{Antilog } \frac{103.795}{50}$$

$$= \text{Antilog of } 2.0747$$

$$= 118.8$$

విద్యార్థుల బరువు గుణమధ్యమము (GM) = 118.8 కిలోగ్రాములు

**7.4.3 అవిచ్చిన్న శ్రేణులు - గుణమధ్యమము :** అవిచ్చిన్న శ్రేణిలోని తరగతులకు మధ్య బిందువులు (x) కనుగొనవలెను. తరగతుల మధ్య బిందువులకు సంవర్గమానాలు (log x) కనుగొనవలెను. సంవర్గమానాలను అనురూప పానఃపున్యాలతో గుణించి (log x × f) భాగఫలానికి ప్రతిసంవర్గమానము కనుగొనగా వచ్చిన విలువ గుణమధ్యమం అవుతుంది.

ఉదాహరణ : దిగువ యిచ్చిన పట్టిలో ఎంఎ పరీక్షలో గణాంక శాస్త్రంలో 65 మంది విద్యార్థులకు వచ్చిన మార్కులు ఈ విధంగా వున్నాయి. మార్కుల గుణమధ్యమము గణన చేయండి.

జవాబు :

మార్కులు	విద్యార్థులు
20 - 30	2
30 - 40	23
40 - 50	0
50 - 60	22
60 - 70	11
70 - 80	7

జవాబు :

మార్కులు (CI)	విద్యార్థులు (f)	మధ్యవిలువ (x)	సంవర్గమానాలు (log x)	సంవర్గమానాలను అనురూప పౌనఃపున్యంతో గుణించగా లబ్ధాలు (f log x)
20 - 30	2	25	1.3979	2.7958
30 - 40	23	35	1.5401	15.5143
40 - 50	0	45	1.6532	.0
50 - 60	22	55	1.7494	38.2888
60 - 70	11	65	1.8129	19.9419
70 - 80	7	75	1.8751	13.1257
	N = 65			$\Sigma f \log x = 109.6665$

గుణమధ్యమము = Antilog  $\frac{\Sigma f' \log x}{N}$ , విలువలను ప్రతిక్షేపించగా,

$$GM = \text{Antilog} \frac{109.6665}{65}$$

$$= \text{Antilog } 1.6872$$

$$GM = 48.66$$

మార్కుల గుణమధ్యమము = 48.66



**గుణమధ్యమము - సుగుణాలు**

1. ఇది స్పష్టంగా నిర్వచించిన సగటు. దీని విలువ స్థిరంగా వుంటుంది. సగటుకుండవలసిన లక్షణాలు గుణమధ్యమానికి వున్నాయి.
2. గుణమధ్యమము శ్రేణిలోని అన్ని అంశాల మీద ఆధారపడి వుంటుంది.
3. ఇది బీజీయ ప్రస్తావనకు తగివుంది.
4. శాతాలను, నిష్పత్తులను, సూచినంఖ్యలను, రేట్లను సగటు చేయడంలోను, పెరుగుదల, తరుగుదల గణన చేయడంలోను ఇది ఎక్కువగా ఉపయోగపడుతుంది.
5. గుణమధ్యమముపై విపరీత విలువల ప్రభావము తక్కువగా వుంటుంది.
6. గుణమధ్యమము కనుగొనుటకు ప్రత్యేక సూత్రముతో బాటు చక్కని పద్ధతి కలదు.
7. గుణమధ్యమము చిన్న అంశాలకు ఎక్కువ భారాన్ని, పెద్ద అంశాలకు తక్కువ భారాన్ని ఆపాదిస్తుంది. అందువలన గుణమధ్యమము విలువ అంకమధ్య విలువ కంటే తక్కువగా వుంటుంది.

**లోపాలు**

1. గుణమధ్యమములో ప్రధాన దోషము దీనిని తేలికగా అర్థం చేసుకోలేము. దీనిని గణన చేయడం కూడా కష్టమే. సంవర్గమానాలు ఉపయోగించడం తెలియనివారు దీనిని గణన చేయలేరు. అందువలన ఎక్కువ ఆచరణలో లేదు.
2. శ్రేణిలో యే ఒక్క అంశమైన '0' అయితే గుణమధ్యమాన్ని గణన చేయలేము. ఇది గుణమధ్య గణనలో ముఖ్యమైన పరిమితి.
3. ఇది శ్రేణులలోని ఏ విలువను ప్రతిబింబించక పోవచ్చు.
4. ఋణాత్మక విలువలు వున్నప్పుడు కూడా గుణమధ్యగణన సాధ్యం కాదు.

**7.5 హరమధ్యమము (Harmonic Mean)**

“దత్తాంశములోని విలువల యొక్క వ్యుత్క్రమాల (reciprocals) అంకమధ్యమానికి వ్యుత్క్రమమే హరమధ్యమానికి సమానమనే” భావమునిచ్చే నిర్వచనాన్ని యూల్, కెండల్ మహాశయులు ప్రతిపాదించిరి. అనగా దత్తాంశములోని వ్యక్తిగత విలువలకు వ్యుత్క్రమాన్ని కనుగొని, వాటి మొత్తానికి అంకమధ్యమాన్ని కనుగొనవలె. అట్లా వచ్చిన అంకమధ్యమానికి మళ్ళీ వ్యుత్క్రమాన్ని కనుగొంటే అది హరమధ్యమానికి సమానమవుతుంది. కాలము-దూరం, కాలం-పని, రేట్లు మొదలైనవి కనుగొనేందుకు ఇది మంచి సగటు. సాంకేతికంగా పై నిర్వచనాన్ని యిలా చూపవచ్చు.  $x_1, x_2, x_3, \dots, x_n$  అనే  $N$  సంఖ్యలు గల చలనాలుంటే వాటి హరమధ్యమము తెలుసుకొనుటకు H.M.

$$HM = \frac{N}{\sum \frac{1}{x}}$$

$N =$  అంశాల సంఖ్య,  $\sum \frac{1}{x} =$  అంశాల వ్యుత్క్రమాల సంకలనము,  $HM =$  హరమధ్యమము

7.5.1 హర మధ్య గణన - వ్యక్తిగత శ్రేణులు : దత్తాంశము వ్యక్తిగత శ్రేణులలో ఉన్నప్పుడు హరమధ్యము గణన చేయుటకు  $\frac{N}{\sum \frac{1}{x}}$

సూత్రాన్ని ఉపయోగిస్తాము.

ఉదాహరణ : దిగువ యిచ్చిన దత్తాంశములో పది కుటుంబాల రాబడులిచ్చినారు. వాటి నుంచి హరమధ్యమాన్ని గణన చేయండి. రాబడి రూ. 15, 70, 85, 500, 75, 8, 45, 250, 40, 36.

జవాబు : హరమధ్యము గణన చేయడానికి వ్యుత్క్రమాలు అవసరం కాబట్టి అంశాలకు వ్యుత్క్రమాలను కనుగొని సంకలనము చేయవలె.

కుటుంబము	రాబడి (రూ  లలో) x	వ్యుత్క్రమాలు (Reciprocals) $\left(\frac{1}{x}\right)$
1	15	.06667
2	70	.01429
3	85	.01176
4	500	.00200
5	75	.01333
6	8	.12500
7	45	.02222
8	250	.00400
9	40	.02500
10	36	.02778
N=10		$\sum \frac{1}{x} = .31205$

$$\text{హరమధ్యము(HM)} = \frac{N}{\sum \frac{1}{x}} = \frac{10}{.31205} = 32.04 \text{ రూపాయలు.}$$

∴ రాబడి హరమధ్యము = రూ. 32.04 పైసలు

7.5.2 విచ్ఛిన్న శ్రేణులు - హరమధ్యము : విచ్ఛిన్న శ్రేణులలో హరమధ్య గణనకు ప్రతిచలనానికి వ్యుత్క్రమమును కనుగొని  $\left(\frac{1}{x}\right)$  వానిని, అనురూప పౌనఃపున్యాలతో గుణించి, లబ్ధాలను  $\left(\sum \frac{1}{x} \times f \text{ or } \sum \frac{f}{x}\right)$  కనుగొనవలెను. పౌనఃపున్యం మొత్తాన్ని ఈ విలువతో భాగిస్తే హరమధ్యము వస్తుంది.

$$HM = \frac{N}{\sum \left(\frac{f}{x}\right)}$$

HM = హరమధ్యమం,  $N =$  పౌనఃపున్యము మొత్తం,  $\Sigma \frac{1}{x} \times f$  లేదా  $\Sigma \frac{f}{x} =$  అంశాల వ్యత్యక్తమాలను అనుబంధ పౌనఃపున్యాలతో గుణించగా వచ్చిన లబ్ధాల మొత్తం.

ఉదాహరణ : దిగువ యిచ్చిన దత్తాంశం నుంచి హరమధ్యమాన్ని గణన చేయండి.

మార్కులు	10	15	23	28	35	42	50	58
విద్యార్థులు	3	5	10	12	15	9	5	1

జవాబు :

మార్కులు (x)	విద్యార్థులు (f)	వ్యత్యక్తమాల $\frac{1}{x}$	అనురూప పౌనఃపున్యాలతో గుణించగా వచ్చిన లబ్ధాలు $\frac{1}{x} \times f$ or $\frac{f}{x}$
10	3	.10000	.30000
15	5	.06667	.33335
23	10	.04348	.43480
28	12	.03571	.42852
35	15	.02857	.42855
42	9	.02381	.20829
50	5	.02000	.10000
58	1	.01724	.01724
	$N = 60$		$\Sigma \frac{f}{x} = 2.25075$

$$HM = \frac{N}{\Sigma \frac{f}{x}}$$

$N =$  పౌనఃపున్యాల మొత్తం

$\Sigma \frac{f}{x} =$  అంశాల వ్యత్యక్తమాలను అనురూప పౌనఃపున్యాలతో గుణించ వచ్చిన లబ్ధాల మొత్తము.

$$HM = \frac{60}{2.25075} = 26.66 \text{ మార్కులు.}$$

$\therefore$  మార్కుల హరమధ్యమము = 26.66

**7.5.3 అవిచ్ఛిన్న శ్రేణులు - హరమధ్యమము :** అవిచ్ఛిన్న శ్రేణులకు హరమధ్య గణనకు తరగతులకు మధ్య విలువలు కనుగొనవలెను (x). మధ్య విలువలకు వ్యత్యక్తమాలను  $\left(\frac{1}{x}\right)$  కనుగొనవలె. వ్యత్యక్తమాలను అనురూప పౌనఃపున్యాలతో గుణించగా  $\left(\frac{1}{x} \times f\right)$ , గుణ లబ్ధాల సంకలనము  $\left(\Sigma \frac{f}{x}\right)$  కనుగొనవలె. ఆ తరువాత పౌనఃపున్యము మొత్తాన్ని ఈ విలువతో భాగిస్తే హరమధ్యమం లభ్యమవుతుంది.

$$HM = \frac{N}{\sum \frac{f}{x}}$$

$N$  = మొత్తం పౌనఃపున్యము

$\sum \frac{f}{x}$  = మధ్య విలువలను అనురూప పౌనఃపున్యాలతో గుణించగా వచ్చిన లబ్ధాల మొత్తం.

ఉదాహరణ : దిగువ యిచ్చిన పంపిణీ నుండి హారమధ్యమాన్ని గణన చేయండి.

తరగతి	పౌనఃపున్యము
40 - 50	15
50 - 60	19
60 - 70	20
70 - 80	35
80 - 90	25
90 - 100	16

జవాబు :

తరగతి	పౌనఃపున్యము	మధ్య విలువ	మధ్యవిలువల వ్యత్రమాలు	
CI	( $f$ )	( $x$ )	$\left(\frac{1}{x}\right)$	$\frac{1}{x} \times f$ or $\frac{f}{x}$
40 - 50	15	45	.222	.3330
50 - 60	19	55	.0182	.3458
60 - 70	20	65	.0154	.3080
70 - 80	35	75	.0133	.4655
80 - 90	25	85	.0118	.2950
90 - 100	17	95	.0105	.1680
	$N = 130$			1.9153

$$HM = \frac{N}{\sum \frac{f}{x}}$$

$$= \frac{130}{1.9153} = 67.89$$

$\therefore$  హారమధ్యమాము = 67.89

## హార మధ్యమము - ప్రయోజనాలు

1. హారమధ్యమము నిర్దుష్టంగా నిర్వచింపబడిన సగటు
2. ఇది శ్రేణిలోని అన్ని అంశాలపై ఆధారపడియుండును. కావున అన్ని అంశాలకు ప్రాతినిధ్యం ఇస్తుంది.
3. బీజీయ ప్రస్తావనకు తగియున్నది.
4. విలువల యొక్క వ్యత్రమాల ఆధారంగా గణన చేయడం వలన, చిన్న విలువలకు ఎక్కువ ప్రాధాన్యత కల్పించబడును. అందువలన శ్రేణిలో ఒకటి లేక రెండు పెద్ద విలువలన్నప్పటికీ వాటి వలన ప్రభావితము కాదు.
5. శ్రేణిలో గల ఒడుదుడుకులకు ప్రభావితము కాదు.
6. కాలం, రేట్లు మొదలగు సమస్యల అధ్యయనానికి సహాయపడును.

## లోపాలు

1. హారమధ్యమాన్ని గణన చేయడం సులభంగా అర్థం చేసుకోవడం కష్టము.
2. శ్రేణిలోని యే ఒక్క అంశము '0' అయినా హారమధ్యగణన సాధ్యపడదు.
3. చిన్న అంశాల ఎక్కువ ప్రాధాన్యత యివ్వడం వలన ఆర్థిక దత్తాంశ విశ్లేషణకు ఉపయోగపడవు. అందువలన వ్యాపార సమస్యల పరిష్కారంలో పెద్దగా వినియోగంలో లేదు.
4. శ్రేణిలో ధనాత్మక, ఋణాత్మక విలువలు రెండూ వుంటే హారమధ్యగణన సాధ్యపడదు.

## 7.6 మధ్యగతము

విభజనములోని స్థానాన్ని బట్టి నిర్ణయించే సగటులలో మధ్యగతము ఒకటి. ఇచ్చిన విభజనాన్ని ఒక క్రమపద్ధతిలో అమర్చిన తరువాత ఏ విలువైతే విభజనాన్ని రెండు సమాన భాగాలుగా విభజిస్తుందో ఆ విలువను మధ్యగతం అంటారు. మధ్యగతాన్ని "విభజనపు కేంద్రీయ విలువ" లేదా విభజనాన్ని రెండు సమాన భాగాలుగా విడగొట్టే విలువ అంటారు. క్రాక్స్ టెస్, క్రౌడన్ ప్రముఖులు ఈ క్రింది విధంగా నిర్వచించారు. "విభజనాన్ని యే విలువ రెండు సమ భాగాలుగా విభజిస్తుందో అంటే ఏ విలువకు అటూ ఇటూ విభాగాన్ని పొందిన అంశాల సంఖ్య సమానంగా వుంటుందో, ఆ విలువను సాధారణంగా మధ్యగతమని పేర్కొనవచ్చును".

(The median is usually defined as that value which divides a distribution so that an equal number of items is an either side of it).

పై నిర్వచనాన్ని స్పష్టంగా అర్థం చేసుకోవడానికి క్రింది ఉదాహరణ పరిశీలింతుము. ఒక తరగతిలో 7గురు విద్యార్థులున్నారని భావింతుము. వారు సాధించిన మార్కులు వరుసగా 70, 30, 20, 60, 50, 40, 10 వారి మధ్యమ మార్కులు కనుగొనుటకు, మొదటి దత్తాంశాన్ని ఆరోహణ క్రమం 10, 20, 30, 40, 50, 60, 70 లేదా అవరోహణ క్రమం 70, 60, 50, 40, 30, 20, 10లోగాని అమర్చవలె. ఈ విధంగా అమర్చినపుడు '40', పై ఏడు విలువలను సమానంగా విభజిస్తుంది. అనగా '40' విలువకు పైన మూడు విలువలు, క్రింద మూడు విలువలు (యిరువైపుల) వున్నాయి. కాబట్టి 40 అనే విలువ మధ్యగతమవుతుంది.

**వ్యక్తిగత శ్రేణులు :** విభజనం వ్యక్తిగత శ్రేణుల్లో ఉంటే క్రింది సూత్రం ద్వారా మధ్యగతాన్ని కనుక్కుంటాం.

$$M = \frac{N+1}{2} \text{వ అంశం}$$

$$M = \text{మధ్యగతం, } N = \text{అంశాల సంఖ్య}$$

7.6.1 మధ్యగతము - వ్యక్తిగత శ్రేణులు : వ్యక్తిగత శ్రేణులలో మధ్యగతమును గణన చేయుటకు అంశాల పరిమాణాన్ని బట్టి, అంశాలను ఆరోహణ లేదా అవరోహణ క్రమంలో అమర్చుకోవాలి.  $\frac{N+1}{2}$  సూత్రం ఆధారంగా మధ్యగత స్థానాన్ని గుర్తించవలె. శ్రేణిలో మధ్యగత స్థానంలో వున్న అంశమే మధ్యగతము.  $N =$  శ్రేణిలో గల అంశాల సంఖ్య.

ఉదాహరణ : ఒక సంస్థలో పనిచేయుచున్న 11 మంది కార్మికుల వేతనాలు ఈ విధంగా వున్నవి. వీటి మధ్యగత వేతనము కనుగొనుము.

వేతనాలు - రూ॥లలో 60, 55, 45, 70, 75, 80, 50, 90, 100, 85

జవాబు : మధ్యగతాన్ని గుర్తించుటకు దత్తాంశాన్ని ఆరోహణ లేక అవరోహణ క్రమంలో అమర్చవలె.  $\frac{N+1}{2}$  సూత్రం ద్వారా మధ్యగత స్థానాన్ని గుర్తించవలె. అమర్చబడిన శ్రేణిలో మధ్యగత స్థానంలో గల అంశమే మధ్యగతము.

క్రమ సంఖ్య	వేతనాలు - ఆరోహణ క్రమము
1	45
2	50
3	55
4	60
5	70
6	75
7	80
8	85
9	90
10	95
11	100

$$\text{మధ్యగత స్థానము} = \frac{N+1}{2} = \frac{11+1}{2} = \frac{12}{2} = 6 \text{వ అంశము.}$$

పై దత్తాంశములో 6వ అంశపు విలువ = 75. (75కు రెండు వైపుల గల అంశాలు సమానమని గుర్తించవచ్చును).

∴ కార్మికుల మధ్యగత వేతనము = 75 రూపాయలు

దత్తాంశము సరిసంఖ్యలోవున్నప్పుడు (Even number) శ్రేణుల మధ్యస్థానంగా నిజమైన విలువలు ఉండడం అసంభవము. అందువల్ల ఏ రెండు విలువల మధ్య, మధ్యస్థానము గుర్తించబడిందో, ఆ విలువల సగటును తీసుకొని మధ్యగతంగా చెప్పవచ్చు.

ఉదాహరణకు దత్తాంశములో 11 అంశాలకు బదులు 12 అంశాలు వుంటే, మధ్యగత స్థానము =  $\frac{12+1}{2} = \frac{13}{2} = 6.5$  వ అంశమవుతుంది. నిజానికి 65వ స్థానములో సంఖ్య మనకు కనబడదు. అప్పుడు 6వ అంశము, 7వ అంశముల పరిణామాలను తీసుకొని, వాటి సగటును గణన చేస్తే వచ్చిన విలువను మధ్యగతమంటారు.

ఉదాహరణ : పదకొండు మంది విద్యార్థులకు ప్రవేశపరీక్షలో వచ్చిన మార్కుల శాతాలు ఈ విధంగా వున్నాయి. వారి మార్కుల మధ్యగత శాతాన్ని గణన చేయండి.

మార్కులు - 35, 48, 50, 30, 55, 60, 75, 50, 65, 52, 100

జవాబు :	క్రమ సంఖ్య	మార్కులు - ఆరోహణ క్రమము
	1	30
	2	35
	3	48
	4	50
	5	50
	6	52
	7	55
	8	60
	9	65
	10	75
	11	100

మధ్యగత స్థానము ( $M$ ) =  $\frac{N+1}{2}$  వ అంశము

$N =$  అంశాల సంఖ్య = 11,

కాబట్టి మధ్యగత స్థానము =  $\frac{11+1}{2} = \frac{12}{2} = 6$  వ అంశము.

6వ అంశము 52 కావున

కాబట్టి మధ్యగత మార్కుల శాతము = 52 మార్కులు.

ఉదాహరణ : కింది విలువలకు మధ్యగతాన్ని కనుగొనుము.

391, 384, 591, 407, 672, 522, 777, 753, 2,488, 1,490

జవాబు :

వరుస సంఖ్య	విభజనం ఆరోహణలో అమర్చగా(x)	వరుస సంఖ్య	విభజనం ఆరోహణలో అమర్చగా(x)
1	384	6	672
2	391	7	753
3	405	8	777
4	522	9	1,490
5	591	10	2,488

$$\text{మధ్యగతం}(M) = \frac{N+1}{2} \text{వ అంశం} = \frac{10+1}{2} = \frac{11}{2} = 5.5 \text{వ అంశం.}$$

$$\text{కావున } 5.5 \text{వ అంశం} = \frac{5 \text{వ అంశం} + 6 \text{వ అంశం}}{2} = \frac{591+672}{2} = \frac{1.263}{2} = 631.5$$

$$\text{కావున మధ్యగతము} = 631.5$$

$$\begin{aligned} \text{ఇంకో విధంగా } 5.5 \text{వ అంశము} &= 5 \text{వ అంశం} + (6 \text{వ అంశము} - 5 \text{వ అంశము}) \cdot 5 \\ &= 591 + (672 - 591) \cdot 5 \end{aligned}$$

$$\text{మధ్యగతం} = 631.5$$

**7.6.2 మధ్యగతము - విచ్ఛిన్న శ్రేణులు (Median Discrete Series) :** విచ్ఛిన్న శ్రేణిలో వున్న దత్తాంశాన్ని ఆరోహణ లేదా అవరోహణ క్రమంలో వ్రాయవలె. పానఃపున్యాన్ని సంచితం చేయవలె (Cumulative frequency)

$M = \frac{N+1}{2}$  అంశం అనే సూత్రాన్ని ఉపయోగించి మధ్యగత అంశాన్ని కనుగొనవలె. మధ్యగత అంశము ఏ సంచిత పానఃపున్యములో వున్నదో ఆ సంచిత పానఃపున్యానికి అనుబంధంగా (ఎదురుగా) వున్న అంశము (చలనము) మధ్యగతము.

**ఉదాహరణ :** క్రింది దత్తాంశములో 116 మంది పనివారి రాబడులున్నవి. వారి మధ్యగత రాబడి కనుగొనండి.

రాబడి రూ॥లలో	10	20	30	40	50	60	70	80	90
పనివారు	5	8	12	20	30	16	10	7	8

<b>జవాబు :</b>	రాబడి(x)	పనివారు (f)	సంచిత పానఃపున్యము (cf)
	10	5	5
	20	8	13
	30	12	25



	40	20	45
మధ్యగతం	50	30	75
	60	16	91
	70	10	101
	80	7	108
	90	8	116

$$N = 116$$

మధ్యగత స్థానము =  $\frac{N+1}{2}$  వ అంశము.

$$N = \text{మొత్తం పానఃపున్యము}$$

$$\text{మధ్యగత స్థానము} = \frac{N+1}{2} = \frac{116+1}{2} = \frac{117}{2} = 58.5 \text{ వ అంశము.}$$

58.5వ అంశము 75వ సంచిత పానఃపున్యములో వున్నది. కాబట్టి దాని అనురూప చలరాశి విలువ 50 మధ్యగతమవుతుంది.

$$\therefore \text{మధ్యగతానికి రాబడి (M) = రూ. 50.00}$$

**7.6.3 మధ్యగతము - అవిచ్ఛిన్న శ్రేణులు (Median-Continuous Series) :** పానఃపున్యాన్ని సంచితం చేయవలె (cf).  $\frac{N}{2}$  సూత్రం వినియోగించి మధ్యగత అంశాన్ని కనుగొనవలె. అది ఏ సంచిత పానఃపున్యములో వున్నదో గుర్తించి దాని అనుబంధ తరగతిని మధ్యగత తరగతిగా గుర్తించాలి. క్రింది సూత్రాన్ని వినియోగించి మధ్యగతమును కనుగొనవలె.

$$\text{మధ్యగతము (Median) = } M = l_1 + \frac{\frac{N}{2} - m}{f} (l_2 - l_1)$$

$l_1$  = మధ్యగత తరగతి దిగువ అవధి,  $l_2$  = మధ్యగత తరగతి ఎగువ అవధి,  $f$  = మధ్యగత తరగతి పానఃపున్యము

$m$  = మధ్యగత తరగతికి దిగువ తరగతి సంచిత పానఃపున్యము,  $N$  = మొత్తం పానఃపున్యము.

ఉదాహరణ : దిగువ యిచ్చిన దత్తాంశములో నాకాదళంలో శిక్షణ పొందుచున్న కేడెట్ల గ్రేడ్లు యివ్వబడినవి. వారి గ్రేడ్ల మధ్యగతాన్ని గణించండి.

గ్రేడ్లు (CI)	కేడెట్ల సంఖ్య
72 - 74	7
74 - 76	31
76 - 78	42
78 - 80	54

80 - 82	33
82 - 84	24
84 - 86	22
86 - 88	8
88 - 90	4
	225

జవాబు :	గ్రేడ్లు (CI)	కేడెట్లు (f)	సంచిత పానఃపున్యము (cf)
	72 - 74	7	7
	74 - 76	31	38
	76 - 78	42	80 (m)
	( $l_1$ ) 78 - 80 ( $l_2$ )	54 (f)	134 మధ్యగత తరగతి
	80 - 82	33	167
	82 - 84	24	191
	84 - 86	22	213
	86 - 88	8	221
	88 - 90	4	225
		$N = 225$	

మధ్యగత స్థానము లేదా తరగతి =  $\frac{N}{2}$  వ అంశము  $N = 225$  కావున

$$\text{మధ్యగత స్థానము} = \frac{N}{2} = \frac{225}{2} = 112.5 \text{ వ అంశము.}$$

112.5 వ అంశము సంచిత పానఃపున్యము 134లో వున్నది. కనుక దాని అనుబంధ తరగతి 78 - 80. మధ్యగత తరగతి అవుతుంది.

$$\text{ఇప్పుడు సూత్రాన్ని ఉపయోగిస్తే మధ్యగతము (M)} = l_1 + \frac{\frac{N}{2} - m}{f} (l_2 - l_1)$$

$M =$  మధ్యగతం,  $l_1 =$  మధ్యగత తరగతి దిగువ అవధి = 78,  $l_2 =$  మధ్యగత ఎగువ అవధి = 80,

$f =$  మధ్యగత తరగతి పానఃపున్యము = 54,  $\frac{N}{2} =$  మధ్యగత అంశము = 112.5

$m =$  మధ్యగత తరగతికి దిగువ తరగతి సంచిత పానఃపున్యము = 80,

$$\begin{aligned}
 M &= 78 + \frac{112.5 - 80}{54} \times (80 - 78) \\
 &= 78 + \frac{32.5}{54} \times 2 \\
 &= 78 + \frac{65.0}{54} \\
 &= 78 + 1.20 = 79.2
 \end{aligned}$$

∴ నౌకాదళ కేడెట్ల గ్రేడుల మధ్యగతము = 79.2

**తరగతుల అసమగ్రరూపంలో వున్నప్పుడు :** మధ్యగత గణన తరగతులు అప్పుడప్పుడు అసమగ్ర రూపంలో వుంటూ వుంటాయి. (inclusive form) అంటే తరగతి దిగువ, ఎగువ అవధులు అదే తరగతికి చెంది యుండును. అట్లాంటప్పుడు తరగతులను తిరిగి సమగ్రలోని వ్రాసుకొని మధ్యగతాన్ని కనుగొనాలి.

**ఉదాహరణ :** ఈ క్రింది పట్టిలో 199 మంది విద్యార్థులకు ఒక పరీక్షలో వచ్చిన మార్కుల పానఃపున్య విభాజనం యివ్వబడినది. వారి మధ్యగత మార్కులు కనుగొని, కృతార్థులు కావడానికి కనీస మార్కులు 35 అయితే, కృతార్థులు కాని వారి శాతాన్ని గణన చేయండి.

మార్కులు	విద్యార్థుల సంఖ్య
1 - 20	21
21 - 30	19
31 - 40	60
41 - 50	42
51 - 60	24
61 - 70	18
71 - 80	15
	199

**జవాబు :** పై విభాజనమునందు యివ్వబడిన తరగతులు అసమగ్ర రూపంలో వున్నవి. అనగా 21 - 30 మార్కులు వచ్చిన విద్యార్థులను ఒకే తరగతిలో చూపబడినవి. కాని 30 - 31 మధ్య మార్కులు వచ్చిన వారిని చేర్చుటకు వీలుగా తరగతులను తిరిగి వ్రాసుకోవాలి. మధ్యగతము, బాహుళకము గణన చేయునపుడు దిగువ అవధులు అవసరము. కాబట్టి తరగతులను సమగ్రరూపములోకి తిరిగి వ్రాసుకొనవలసియున్నది.

నిజమైన తరగతులు (CI)	విద్యార్థుల సంఖ్య (f)	సంచిత పానఃపున్యము (cf)
0.5 - 20.5	21	21
20.5 - 30.5	19	40 (m)
(l <sub>1</sub> ) 30.5 - 40.5 (l <sub>2</sub> )	60 (f)	100 మధ్యగత తరగతి

40.5 - 50.5	42	142
50.5 - 60.5	24	166
60.5 - 70.5	18	184
70.5 - 80.5	15	199
మొత్తం	199	

మధ్యగత స్థానము =  $\frac{N}{2}$  వ అంశము.  $N = 199$  కావున

$$\text{మధ్యగత స్థానం} = \frac{199}{2} = 99.5\text{వ అంశం.}$$

99.5వ అంశము  $cf$  100లో వుంది కావున సంబంధిత తరగతి 30.5-40.5 అనేది మధ్యగత తరగతి అవుతుంది.  
మధ్యగత తరగతి = 30.5 - 40.5.

$$\text{మధ్యగతం (M)} = l_1 + \frac{\frac{N}{2} - m}{f} (l_2 - l_1)$$

$$l_1 = 30.5, \quad l_2 = 40.5, \quad f = 60, \quad \frac{N}{2} = 99.5, \quad m = 40.$$

$$M = 30.5 + \frac{99.5 - 40}{60} (40.5 - 30.5)$$

$$= 30.5 + \frac{59.5}{60} \times 10$$

$$= 30.5 + 9.91 = 40.41$$

$$\therefore \text{మధ్యగత మార్కులు (M)} = 40.41.$$

**మధ్యవిలువలు - మధ్యగత గణన :** ఒక్కొక్కప్పుడు అవిచ్ఛిన్నశ్రేణులలో తరగతులకు బదులు మధ్యవిలువలు యివ్వవచ్చు. అలాంటి పరిస్థితిలో తరగతులను పునఃసృష్టించుకొనవలసి ఉండును. మధ్యగతం గణన చేయుటకు మధ్యగత తరగతి, ఆ తరగతి యొక్క దిగువ అవధి, పానఃపున్యము మొదలగునవి అవసరము.

**ఉదాహరణ :** క్రింది దత్తాంశమునకు మధ్యగతాన్ని గణన చేయండి.

మధ్యగత విలువలు	పానఃపున్యము
115	6
125	25
135	48

145	72
155	116
165	60
175	38
185	22
195	3
మొత్తం	390

పైన యిచ్చిన దత్తాంశములో మధ్య విలువలు మాత్రమే యివ్వబడినవి. కాబట్టి తరగతులను పునర్నిర్మించుకోవలె. మధ్య తరగతులు క్రమంగా 115, 125 అయినపుడు, రెండు మధ్య విలువల మధ్య వ్యత్యాసం. కావున తరగతి అంతరము (125 - 115 = 10) 10కి సమానము. దీనిని రెండు సమాన భాగాలుగా చేస్తే  $\frac{10}{2} = 5$  వస్తుంది. ఈ 5ను మధ్య విలువ నుండి తీసివేస్తే 115 - 5 = 110 దిగువ అవధి, 115 + 5 = 120 చేస్తే ఎగువ అవధి కనుగొనవచ్చు. అట్లా చేస్తే తరగతులు క్రింది విధంగా యేర్పడును.

పునర్నిర్మించబడిన తరగతులు తరగతి అంతరం (CI)	పానఃపున్యము(f)	సంచిత పానఃపున్యము(cf)
110 - 120	6	6
120 - 130	25	31
130 - 140	48	79
140 - 150	72	151
150 - 160	116	267
160 - 170	60	327
170 - 180	38	365
180 - 190	22	387
190 - 200	3	390
	$N = 390$	

$$\text{మధ్యగత స్థానము} = \frac{N}{2} \text{వ అంశం, } N = 390 \text{ కావున}$$

$$\text{మధ్యగతస్థానం} = \frac{390}{2} = 195 \text{వ అంశము.}$$

195వ అంశము సంచిత పానఃపున్యము 267లో వున్నది. దాని కనుబంధంగా ఉన్న తరగతి 150 - 160 మధ్యగత తరగతిగా గుర్తింపవచ్చును.

$$M = l_1 + \frac{\frac{N}{2} - m}{f} (l_2 - l_1)$$

$$l_1 = 150, l_2 = 160, f = 116, \frac{N}{2} = 195, m = 151.$$

$$M = 150 + \frac{195 - 151}{116} (160 - 150)$$

$$= 150 + \frac{44}{116} \times 10$$

$$= 150 + 3.8 = 153.8$$

$$\therefore \text{మధ్యగతము} = 153.8$$

ఉదాహరణ : దిగువ యిచ్చిన దత్తాంశము నుండి మధ్యగతాన్ని గణన చేయండి.

విలువలు	సంచిత పానఃపున్యము
158.5 కంటే తక్కువ	3
167.5    "    "	11
176.5    "    "	28
185.5    "    "	50
194.5    "    "	74
203.5    "    "	90
212.5    "    "	97
221.5    "    "	99
230.5    "    "	100

ఇచ్చిన విభజనం కంటే తక్కువ రూపంలో వుంది. ఈ రూపంలో ఇచ్చిన అవధులు ఎగువ అవధులు, ఆరోహణ సంచిత పానఃపున్యం వుంటుంది. దీనిని తరగతి అంతరం 167.5 కు 158.5 మధ్య తేడా 9 కనుక దానిని తరగతి అంతరంగా తీసుకోవాలి. దీనిని ఎగువ అవధి నుంచి తీసివేసి దిగువ అవధిగా తీసుకొని దత్తాంశం పునర్నిర్మించుకోవాలి. పై దత్తాంశాన్ని సాధారణ పానః పున్యంలోకి మార్చుకొని తరగతులను పునర్నిర్మించుకొనవలె.

పునర్నిర్మించబడిన తరగతులు(CI)	పానఃపున్యము(f)	సంచిత పానఃపున్యము(cf)
149.5 - 158.5	3	3
158.5 - 167.5	8	11
167.5 - 176.5	17	28
176.5 - 185.5	22	50

185.5 - 194.5	24	74
194.5 - 203.5	16	90
203.5 - 212.5	7	97
212.5 - 221.5	2	99
221.5 - 230.5	1	100
$N = 100$		

మధ్యగత స్థానము =  $\frac{N}{2}$  వ అంశం,  $N = 100$  కావున

$$\text{మధ్యగతస్థానం} = \frac{100}{2} = 50 \text{ వ అంశము.}$$

50వ అంశమున్న సంచిత పానఃపున్యము 50లో వున్నది కావున దాని అనుబంధ తరగతి 176.5 - 185.5 అనేది మధ్యగత తరగతి.

$$\text{మధ్యగత తరగతి} = 176.5 - 185.5$$

$$\text{మధ్యగతం (M)} = l_1 + \frac{\frac{N}{2} - m}{f} (l_2 - l_1)$$

$$l_1 = 176.5, \quad l_2 = 185.5, \quad f = 22, \quad \frac{N}{2} = 50, \quad m = 28.$$

$$M = 176.5 + \frac{50 - 28}{22} (185.5 - 176.5)$$

$$= 176.5 + \frac{22}{22} \times 9$$

$$\text{మధ్యగతం (M)} = 176.5 + 9 = 188.5$$

ఉదాహరణ : దిగువ పట్టిలో ఒక జీవిత భీమా కంపెనీలో 940 మంది బుక్ కీపింగ్ మిషన్ ఆపరేటర్లు పనిచేసే స్త్రీల యొక్క వారసర సంపాదన (Weekly earning) యిచ్చినారు. వారి సంపాదనా మధ్యగతాన్ని గణించండి.

వారసరి సంపాదన(రూ॥ లలో)	స్త్రీల సంఖ్య
(more than) 30 కంటే ఎక్కువ	940
32.5     "     "	903
35       "     "	825
37.5     "     "	646

40			455
42.50			271
45			186
47.5			103
50			138
52.5			6
55			1

(Date from U.S. Bureau of Labour Statistics wages and salaries - 1952)

జవాబు : పై దత్తాంశము కంటే ఎక్కువ రూపంలో ఉంది. ఇచ్చిన పట్టిలో దిగువ అవధులు మరియు సంచిత పౌనఃపున్యము అవరోహణ క్రమములో వున్నది. రెండు దిగువ అవధుల వ్యత్యాసం తరగతి అంతరం. తరగతుల దిగువ అవధులు అంటే తరగతి అంతరం 32.50 - 30 అంటే 2.5ల దిగువ అవధులకు 2.5 కలుపుకొని ఎగువ అవధులు నిర్ణయించుకొని, సాధారణ పౌనఃపున్య విభాజనాన్ని నిర్మించవలె.

వారసరి సంపాదన(CI)	స్త్రీల సంఖ్య(f)	సంచిత పౌనఃపున్యము(cf)
30 - 32.50	37	37
32.50 - 35.00	78	115
35.00 - 37.50	179	294
37.50 - 40.00	191	485
40.00 - 42.50	184	669
42.50 - 45.00	85	754
45.00 - 47.50	83	837
47.50 - 50.00	65	902
50.00 - 52.50	32	934
52.50 - 55.00	5	939
55.00 - 57.00	1	940
	$N = 940$	

$$\text{మధ్యగత స్థానము} = \frac{N}{2} \text{వ అంశం, } N = 940 \text{ కావున}$$

$$\text{మధ్యగతస్థానం} = \frac{940}{2} = 470 \text{వ అంశము.}$$

470వ అంశము సంచిత పౌనఃపున్యము 485లో వున్నది. కావున దాని అనుబంధ తరగతి 37.50 - 40.00 అనేది మధ్యగత తరగతి అవుతుంది.



$$\text{మధ్యగత తరగతి} = 37.50 - 40.00$$

$$\text{మధ్యగతం (M)} = l_1 + \frac{\frac{N}{2} - m}{f} (l_2 - l_1)$$

$$l_1 = 37.50, \quad l_2 = 40.00, \quad f = 191, \quad \frac{N}{2} = 470, \quad m = 294.$$

$$M = 37.50 + \frac{470 - 294}{191} (40.00 - 37.50)$$

$$= 37.50 + \frac{176}{191} \times 2.50$$

$$\text{మధ్యగతం (M)} = 37.50 + 2.30 = 39.80$$

∴ వారసరి సంపాదన మధ్యగతము (M) = 39.80 రూ॥లు.

ఉదాహరణ : దిగువ దత్తాంశములో 1929 సం॥లో అమెరికాలో వేరువేరు రాబడులు గల వ్యక్తుల వివరాలివ్వబడినవి. వారి సగటు రాబడిని గణన చేయండి.

రాబడి వేలదాలర్లలో	వ్యక్తుల సంఖ్య లక్షలలో	సంచిత పౌనఃపున్యము
(Lessthan) 1 కంటే తక్కువ	13	13
1 - 2	90	103
2 - 3	81	184
3 - 5	117	301
5 - 10	66	367
10 - 25	27	394
25 - 50	6	400
50 - 100	2	402
100 - 1000	2	404

$$N = 404$$

గమనిక : సాధారణంగా రాబడుల విభజనము తరచు గమనించదగ్గ వైషమ్యమున్న విభజనం (Skew distribution) వుంటుంది. కాబట్టి ఇలాంటి విభజనానికి మధ్యగతం గణన చేయడం చాలా మంచి పద్ధతి. ఇతర సగటుల కంటే చాలా మంచి సగటు అవుతుంది. పై దత్తాంశములో గల సాధారణ పౌనఃపున్యాన్ని సంచితం చేసి మధ్యగతాన్ని గణన చేయబడినది.

$$\text{మధ్యగత అంశము} = \frac{N}{2} = \frac{404}{2} = 202 \text{ వ అంశం.}$$

202 అనే అంశము సంచిత పానఃపున్యము 301లో వున్నది. దాని అనుబంధ తరగతి 3 - 5 అనేది మధ్యగత తరగతి.

మధ్యగత తరగతి = 3 - 5.

$$\text{మధ్యగతం (M)} = l_1 + \frac{\frac{N}{2} - m}{f} (l_2 - l_1)$$

$$l_1 = 3, l_2 = 5, f = 117, \frac{N}{2} = 202, m = 184.$$

$$M = 3 + \frac{202 - 184}{117} (5 - 3)$$

$$= 3 + \frac{18}{117} \times 2 = 3 + \frac{36}{117}$$

$$\text{మధ్యగతం (M)} = 3 + 0.3 = 3.3$$

∴ తలసరి సగటు రాబడి (M) = 3300 డాలర్లు

#### మధ్యగతము - ప్రయోజనాలు

1. మధ్యగతము నిర్మూలనగా నిర్వచించబడిన సగటు.
2. మధ్యగతాన్ని సులభంగా అర్థం చేసుకొనవచ్చును. గణిత శాస్త్ర పరిజ్ఞానం ఎక్కువగా లేనివారు కూడా దీనిని సులభంగా గణన చేయవచ్చును.
3. మధ్యగతము స్థాన సగటు కావడం వలన అంశాలలో తీవ్ర ఒడుదుడుకులున్నా దీనిని గణన చేయవచ్చును. అస్థిరము లేదా వైచిత్ర్యము కలిగియున్న విభజనాలలో కూడా దీనిని వినియోగించవచ్చును.
4. వివృత అవధులున్న (open end classes) విభజనాలకు కూడా మధ్యగతాన్ని గణన చేయవచ్చును.
5. మధ్యగతాన్ని పరిశీలన ద్వారా, రేఖా చిత్రాల ద్వారా కూడా గుర్తించవచ్చును.
6. గుణాత్మక దత్తాంశాన్ని ఉపయోగించునపుడు అనగా తెలివితేటలు బీదరికము, అంతస్తులు మొదలైనవి తెలుసుకొనుటకు యిది చాలా ఉపయోగపడును.

#### లోపాలు

1. మధ్యగతము స్థానాన్ని బట్టి నిర్ణయించబడడం వలన, దత్తాంశములో అంశాల సంఖ్య సరిసంఖ్య అయితే నిజమైన సంఖ్యను కనుగొనలేము.
2. ఇది విపరీత అంశాలను పరిగణనలోనికి తీసుకోదు.
3. దత్తాంశము “కంటే తక్కువ, కంటే ఎక్కువ” అనే రూపాలలో యిచ్చినపుడు పానఃపున్యాన్ని సంచితం చేసి, “ఆరోహణ”, “అవరోహణ” క్రమాలలో అమర్చుకోవడం ఒక్కొక్కప్పుడు చాలా కష్టము.
4. అంశాలు ఒక క్రమ రూపంలో అమర్చినా అప్పుడప్పుడు మధ్యగతం దత్తాంశం మొత్తానికి ప్రాతినిధ్యం వహించే సగటుగా వుండకపోవచ్చు. ఉదా : 10, 12, 15, 20, 90 అనే ఐదు సంఖ్యలున్నప్పుడు 15 మధ్యగతం అవుతుంది. కాని దత్తాంశం మొత్తానికి ప్రాతినిధ్యం వహించదు.

5. బీజీయ ప్రస్తావకనకు నిలబడలేదు.
6. దత్తాంశం ఎక్కువ సంఖ్యలో వున్నప్పుడు ఆరోహణ, అవరోహణ క్రమాలలో అమర్చడం కష్టం.

**7.6.4 మధ్యగత సూత్రంపై ఆధారపడిన యితర స్థానపుమానాలు (Other Positional Measures Related to Mediam) :**

శ్రేణులను వివిధ సమాన భాగాలుగా విభజించే విలువలను (partitional values) విభజన విలువలనవచ్చును. మధ్యగతమును దత్తాంశాన్ని రెండు సమాన భాగాలుగా చేయు విభజన విలువ (Partitional value) అనవచ్చును. మధ్యగతం మీద ఆధారపడి అనేక కొలమానాలు రూపొందించబడినాయి. అవి : చతుర్థాంశాలు, పంచమాంశాలు, అష్టాంశాలు, దశాంశాలు, శతాంశాలు. వీటిని గురించి ఇప్పుడు తెలుసుకుందాం.

**(ఎ) చతుర్థాంశాలు (Quartiles) :** ఇచ్చిన విభజనాన్ని క్రమపద్ధతిలో అమర్చిన తరువాత ఏ విలువ దత్తాంశాన్ని 4 సమాన భాగాలుగా విభజిస్తుందో దానిని చతుర్థాంశం అందురు. అందులో మూడు చతుర్థాంశాలనే కనుగొంటాము..  $Q_1, Q_2, Q_3$  అని వాటి క్రమాన్ని బట్టి సాంకేతికంగా సూచిస్తాము. ' $Q_1$ 'ను దిగువ లేక ప్రథమ చతుర్థాంశమందురు. దత్తాంశములో గల మొదటి 25% అంశాలు,  $Q_1$  స్థాన పరిధిలో వుండును.  $Q_2$  ద్వితీయ చతుర్థాంశము. ఇది మధ్యగతానికి సమానము కావడం వలన ఈ స్థానానికి ఇరువైపుల అంశాలు సమానంగా(50%) వుండును.  $Q_3$  తృతీయ చతుర్థాంశం లేక ఎగువ చతుర్థాంశం అంటారు. దత్తాంశాన్ని 25% అంశాలు దీని పరిధిలో వుండును. మిగిలిన 75% అంశాలు  $Q_3$ కి పై భాగాన ఉంటాయి. వీటి గణన మధ్యగత సూత్రాన్ని పోలి వుంటుంది.

**చతుర్థాంశాలు - గణన**

వ్యక్తిగత, విచ్చిన్న శ్రేణులలో అంశాల మొత్తానికి ఒకటి కలిపి చతుర్థాంశ స్థానము నిర్ణయిస్తాము. అవిచ్చిన్న శ్రేణులలో మాత్రం ఒకటి కలపనవసరం లేదు.

$$\text{వ్యక్తిగత లేదా విచ్చిన్న శ్రేణులలో } Q_1 = \frac{N+1}{4} \text{ వ అంశము.}$$

$Q_2$  లేదా మధ్యగతం

$$Q_2 = \frac{N+1}{4} \times 2 \text{ వ అంశం లేదా } \frac{N+1}{2} \text{ వ అంశం.}$$

$$Q_3 = \frac{N+1}{4} \times 3 \text{ వ అంశము}$$

వ్యక్తిగత శ్రేణులలో  $N =$  అంశాల సంఖ్య, విచ్చిన్న శ్రేణులలో  $N =$  పానఃపున్యం మొత్తం.

అవిచ్చిన్న శ్రేణులలో చతుర్థాంశ స్థానములు తెలుసుకొన్న తరువాత మధ్యగతంలో ఉపయోగించిన సూత్రాన్ని పోలిన సూత్రాన్నే ఉపయోగిస్తాము. ఇక్కడ సాంకేతికాలకు అర్థము, మనము గణన చేసే మానాన్ని బట్టి వుంటుంది.

$$Q_1 \text{ స్థానం లేదా తరగతి} = \frac{N}{4} \text{ వ అంశము. ఈ స్థానాన్ని బట్టి } Q_1 \text{ తరగతి కనుగొంటాము.}$$

$$Q_1 = l_1 + \frac{\frac{N}{4} - m}{f} (\ell_2 - l_1)$$

$Q_1$  = మొదటి చతుర్థాంశము,  $l_1$  = మొదటి చతుర్థాంశ తరగతి దిగువ అవధి,

$l_2$  = మొదటి చతుర్థాంశ తరగతి ఎగువ అవధి,  $f$  = మొదటి చతుర్థాంశ తరగతి పౌనఃపున్యము

$m$  = చతుర్థాంశ తరగతికి దిగువ తరగతి సంచిత పౌనఃపున్యము,  $\frac{N}{4}$  = మొదటి చతుర్థాంశ అంశము.

అలాగే ఎగువ చతుర్థాంశానికి సూత్రాన్ని అన్వయించుకొనవచ్చు.

$Q_3$  స్థానము లేదా తరగతి =  $\frac{3N}{4}$  వ అంశము. ఈ స్థానాన్ని బట్టి  $Q_3$  తరగతి కనుగొంటాము.

$$Q_3 = l_1 + \frac{\frac{3N}{4} - m}{f} (\ell_2 - l_1)$$

$Q_3$  = మూడవ చతుర్థాంశము,  $l_1$  =  $Q_3$  తరగతి దిగువ అవధి,

$l_2$  =  $Q_3$  తరగతి ఎగువ అవధి,  $f$  =  $Q_3$  తరగతి పౌనఃపున్యము

$m$  =  $Q_3$  తరగతి దిగువ తరగతి సంచిత పౌనఃపున్యము,

**బి. పంచమాంశాలు (Quintiles) :** ఇచ్చిన విభాజనాన్ని ఒక క్రమపద్ధతిలో అమర్చిన తరువాత ఏ అంశము మొత్తం శ్రేణులను ఐదు సమానభాగాలుగా చేస్తుంది దానినే పంచమాంశం అంటారు. దానినే పంచమాంశం అంటారు. దత్తాంశంలో నాలుగు పంచమాలను మాత్రమే కనుగొంటాము. సాంకేతికంగా వానిని  $q_1, q_2, q_3, q_4$  అని వాటి క్రమాన్ని బట్టి పిలుస్తారు.  $q_1, q_2, q_3, q_4$  = ఒకటవ, రెండవ, మూడవ, నాలుగవ పంచమాంశాలు.

మధ్యగతము, చతుర్థాంశాల గణనకు ఉపయోగించిన సూత్రాన్ని పోలిన సూత్రాన్ని ఉపయోగించి అంతర్మిషనం (interpolation) ద్వారా నిజమైన విలువను కనుగొంటాము.

**వ్యక్తిగత శ్రేణులు**

$$q_1 = \frac{N+1}{5} \text{ వ అంశము,} \quad q_2 = \frac{N+1}{5} \times 2 \text{ వ అంశము}$$

$$q_3 = \frac{N+1}{5} \times 3 \text{ వ అంశము,} \quad q_4 = \frac{N+1}{5} \times 4 \text{ వ అంశము}$$

$q_1, q_2, q_3, q_4$  = 1వ, 2వ, 3వ, 4వ పంచమాంశాలు.

$N$  = అంశాల సంఖ్య

విచ్చిన్న శ్రేణులలో కూడా  $q_1, q_2, q_3, q_4$  లను పైన సూచించిన సూత్రం ప్రకారమే కనుక్కోవడం జరుగుతుంది. విచ్చిన్న శ్రేణులలో

$N =$  పౌనఃపున్యం మొత్తం. ఈ విలువలను  $cf$  లో కనుగొని ఆ  $cf$  కు సంబంధించిన అంశాన్ని సంబంధిత పంచమాంశముగా గుర్తిస్తాం.

అవిచ్ఛిన్న శ్రేణులు : అవిచ్ఛిన్న శ్రేణులలో మొదట పంచమాంశ తరగతులను గుర్తించాలి. తరువాత పంచమాంశాలు కనుగొనాలి.

1వ పంచమాంశం

$$q_1 \text{ తరగతి లేదా స్థానం} = \frac{N}{5} \text{ వ అంశము}$$

$$q_1 = l_1 + \frac{\frac{N}{5} - m}{f} (\ell_2 - \ell_1)$$

3వ పంచమాంశం

$$q_3 \text{ తరగతి} = \frac{3N}{5} \text{ వ అంశము}$$

$$q_3 = l_1 + \frac{\frac{3N}{5} - m}{f} (\ell_2 - \ell_1)$$

2వ పంచమాంశం

$$q_2 \text{ తరగతి లేదా స్థానం} = \frac{2N}{5} \text{ వ అంశము}$$

$$q_2 = l_1 + \frac{\frac{2N}{5} - m}{f} (\ell_2 - \ell_1)$$

4వ పంచమాంశం

$$q_4 \text{ తరగతి లేదా స్థానం} = \frac{4N}{5} \text{ వ అంశము}$$

$$q_4 = l_1 + \frac{\frac{4N}{5} - m}{f} (\ell_2 - \ell_1)$$

సి. అష్టాంశాలు (Octiles) : ఇచ్చిన విభాజనాన్ని ఒక క్రమపద్ధతిలో అమర్చిన తరువాత ఏ అంశము మొత్తం దత్తాంశాన్ని ఎనిమిది సమాన భాగాలుగా చేస్తుందో ఆ అంశాన్నే అష్టాంశం అంటారు. దత్తాంశములో ఏడు అష్టాంశాలను కనుగొంటాము. సాంకేతికంగా వానిని  $O_1, O_2, O_3 \dots, O_7$  అని వాటి క్రమాన్ని బట్టి పిలుస్తారు. దీని గణన కూడా మధ్యగత సూత్రాన్ని పోలిన సూత్రం ప్రకారం జరుగుతుంది. అష్టమాంశ స్థాన నిర్ణయానికి సూత్రాలు.

వ్యక్తిగత శ్రేణులు

$$O_1 = \frac{N+1}{8} \text{ వ అంశము}$$

$$O_2 = \frac{N+1}{8} \text{ వ అంశము}$$

$$O_3 = \frac{N+1}{8} \times 3 \text{ వ అంశము}$$

$$O_4 = \frac{N+1}{8} \times 4 \text{ వ అంశము}$$

$$O_5 = \frac{N+1}{8} \times 5 \text{ వ అంశము}$$

$$O_6 = \frac{N+1}{8} \times 6 \text{ వ అంశము}$$

$$O_7 = \frac{N+1}{8} \times 7 \text{ వ అంశము}$$

$$N = \text{అంశాల సంఖ్య}$$

విచ్ఛిన్న శ్రేణులలో కూడా అష్టాంశాలను కనుక్కోవటానికి పై సూత్రాన్ని ఉపయోగిస్తాయి. కాని,  $N$  అంటే పౌనఃపున్యం మొత్తము. అవిచ్ఛిన్న శ్రేణులు : అవిచ్ఛిన్న శ్రేణులలో మొదట అష్టాంశ తరగతిని కనుక్కోవాలి. తరువాత అష్టాంశాన్ని కనుగొనవలసి వుంది.

**1వ అష్టాంశం**

$$O_1 \text{ స్థానం లేదా తరగతి} = \frac{N}{8} \text{ వ అంశము}$$

$$O_1 = l_1 + \frac{\frac{N}{8} - m}{f} (\ell_2 - \ell_1)$$

**3వ అష్టాంశం**

$$O_3 \text{ స్థానం లేదా తరగతి} = \frac{3N}{8} \text{ వ అంశము}$$

$$O_3 = l_1 + \frac{\frac{3N}{8} - m}{f} (\ell_2 - \ell_1)$$

**7వ అష్టాంశం**

$$O_7 \text{ స్థానం లేదా తరగతి} = \frac{7N}{8} \text{ వ అంశము}$$

$$O_7 = l_1 + \frac{\frac{7N}{8} - m}{f} (\ell_2 - \ell_1)$$

**2వ అష్టాంశం**

$$O_2 \text{ స్థానం లేదా తరగతి} = \frac{2N}{8} \text{ వ అంశము}$$

$$O_2 = l_1 + \frac{\frac{2N}{8} - m}{f} (\ell_2 - \ell_1)$$

**5వ అష్టాంశం**

$$O_5 \text{ స్థానం లేదా తరగతి} = \frac{5N}{8} \text{ వ అంశము}$$

$$O_5 = l_1 + \frac{\frac{5N}{8} - m}{f} (\ell_2 - \ell_1)$$

**డి. దశాంశాలు (Deciles) :** ఇచ్చిన విభాజనాన్ని ఒక క్రమ పద్ధతిలో అమర్చిన తరువాత ఏ అంశము మొత్తం దత్తాంశాన్ని 10 సమాన భాగాలుగా చేస్తుందో దానినే దశాంశం అంటారు. దత్తాంశంలో 9 దశాంశాలను కనుగొనడం జరుగుతుంది. సాంకేతికంగా వీనిని  $D_1, D_2, D_3, \dots, D_9$  అనే క్రమాన్ని బట్టి పిలుస్తారు. దీని గణన కూడా మధ్యగత సూత్రాన్ని పోలిన సూత్రం ఆధారంగా జరుగుతుంది. దశాంశ స్థాన నిర్ణయానికి సూత్రాలు. వ్యక్తిగత లేదా విచ్ఛిన్న శ్రేణులలో వ్యక్తిగత, విచ్ఛిన్న శ్రేణులు

$$D_1 = \frac{N+1}{10} \text{ వ అంశము}$$

$$D_2 = \frac{N+1}{10} \times 2 \text{ వ అంశము. ....}$$

$$D_5 = \frac{N+1}{10} \times 5 \text{ వ అంశము}$$

$$D_6 = \frac{N+1}{10} \times 6 \text{ వ అంశము .....}$$

$$D_9 = \frac{N+1}{10} \times 9 \text{ వ అంశము}$$

వ్యక్తిగత శ్రేణుల్లో  $N =$  అంశాల సంఖ్య, విచ్ఛిన్న శ్రేణులలో  $N =$  పొసఃపున్యాల మొత్తం.  
 అవిచ్ఛిన్న శ్రేణులు : అవిచ్ఛిన్న శ్రేణులలో మొదట దశాంశ తరగతిని కనుక్కోవాలి. తరువాత దశాంశాన్ని కనుగొనవలసి వుంది.

**1వ దశాంశము**

$$D_1 \text{ స్థానం లేదా తరగతి} = \frac{N}{10} \text{ వ అంశము}$$

$$D_1 = l_1 + \frac{\frac{N}{10} - m}{f} (\ell_2 - \ell_1)$$

**6వ దశాంశము**

$$D_6 \text{ స్థానం లేదా తరగతి} = \frac{6N}{10} \text{ వ అంశము}$$

$$D_6 = l_1 + \frac{\frac{6N}{10} - m}{f} (\ell_2 - \ell_1)$$

9వ దశాంశం

$$D_9 \text{ స్థానం లేదా తరగతి} = \frac{9N}{10} \text{ వ అంశము}$$

$$D_9 = \ell_1 + \frac{\frac{9N}{10} - m}{f} (\ell_2 - \ell_1)$$

**ఇ. శతాంశాలు (Percentiles) :** ఇచ్చిన విభజనాన్ని ఒక క్రమ పద్ధతిలో అమర్చిన తరువాత ఏ అంశము మొత్తం శ్రేణిని 100 సమాన భాగాలుగా చేస్తుందో దానినే శతాంశం అంటారు. దత్తాంశానికి 99 శతాంశాలను కనుగొనడం జరుగుతుంది. సాంకేతికంగా వీనిని  $P_1, P_2, P_3, \dots, P_{99}$  అనే క్రమాన్ని బట్టి పిలుస్తారు. దీని గణన కూడా మధ్యగత సూత్రాన్ని పోలిన సూత్రం మీద ఆధారపడి వున్నది. దీని స్థాన నిర్ణయానికి సూత్రాలు :

వ్యక్తిగత, విచ్చిన్న శ్రేణులు

$$P_1 = \frac{N+1}{100} \text{ వ అంశము}$$

$$P_{21} = \frac{N+1}{100} \times 21 \text{ వ అంశము}$$

$$P_{49} = \frac{N+1}{100} \times 49 \text{ వ అంశము}$$

$$P_{99} = \frac{N+1}{100} \times 99 \text{ వ అంశము}$$

వ్యక్తిగత శ్రేణుల్లో  $N =$  అంశాల సంఖ్య, విచ్చిన్న శ్రేణులలో  $N =$  పానఃపున్యాల మొత్తం.

అవిచ్చిన్న శ్రేణులు

1వ శతాంశం

$$P_1 \text{ స్థానం లేదా తరగతి} = \frac{10}{100} \text{ వ అంశము}$$

$$P_1 = \ell_1 + \frac{\frac{10}{100} - m}{f} (\ell_2 - \ell_1)$$

30వ శతాంశం

$$P_{30} \text{ స్థానం లేదా తరగతి} = \frac{30N}{100} \text{ వ అంశము}$$

$$P_{30} = \ell_1 + \frac{\frac{30N}{100} - m}{f} (\ell_2 - \ell_1)$$

79వ శతాంశం

$$P_{79} \text{ స్థానం లేదా తరగతి} = \frac{79N}{100} \text{ వ అంశము}$$

$$P_{79} = \ell_1 + \frac{\frac{79N}{100} - m}{f} (\ell_2 - \ell_1)$$

99వ శతాంశం

$$P_{99} \text{ స్థానం లేదా తరగతి} = \frac{99N}{100} \text{ వ అంశము}$$

$$P_{99} = \ell_1 + \frac{\frac{99N}{100} - m}{f} (\ell_2 - \ell_1)$$

అవిచ్చిన్న శ్రేణుల్లో చతుర్థాంశాలు, పంచమాంశాలు, అష్టాంశాలు, దశాంశాలు, శతాంశాలను కనుగొనేందుకు ఉపయోగించే అంతర్నివేశ సూత్ర వివరణ మధ్యగత సూత్ర వివరణను పోలి వుంటుంది. ఏ కొలమానం కనుగొనాలో ఆ కొలమాన ప్రాతిపదికగా వివరణ రాసుకోవలసి వుంటుంది.

అర్థశాస్త్రం, వ్యాపార శాస్త్రాలలో దశాంశాలు, శతాంశాల కంటే చతుర్థాంశాలు ఎక్కువగా ఉపయోగిస్తాము. కాని దశాంశాలు, శతాంశాలు గ్రేడులు, రేట్లు, ర్యాంకులకు సంబంధించిన మానసిక విద్యా విషయక, గణాంకాలలో ఎక్కువగా ఉపయోగపడతాయి. ద్వితీయ చతుర్థాంశము, 4వ అష్టాంశము, పంచమ దశాంశము, 50వ శతాంశము మధ్యగతానికి సమానము.

వ్యక్తిగత శ్రేణులు - వివిధ మానాల గణన :

ఉదాహరణ : దిగువ యిచ్చిన దత్తాంశము నుండి, రెండు చతుర్థాంశాలకు 7వ దశాంశాన్ని, 85వ శతాంశాన్ని గణన చేయండి.  
అంశాలు : 31, 42, 53, 64, 28, 29, 49, 18, 14, 71, 78, 85, 25, 58, 38, 90, 60, 20, 40, 35, 75, 81, 73, 55.

పై దత్తాంశాన్ని ఆరోహణ క్రమంలో ఏర్పరచి స్థానాలను, విలువలను కనుగొందుము.

జవాబు :

క్రమ సంఖ్య	అంశములు (x)
1	14
2	18
3	20
4	25
5	28
6	29
7	31
8	35
9	38
10	40
11	42
12	49
13	53
14	55
15	58
16	60
17	64
18	71
19	73
20	75
21	78
22	81
23	85
24	90

$N = 24$



దిగువ చతుర్థాంశం ( $Q_1$ )

$$Q_1 = \frac{(N+1)}{4} \text{వ అంశం,}$$

$$= \frac{24+1}{4} = \frac{25}{4} = 6.25 \text{వ అంశం}$$

$$6.25 \text{ వ అంశం} = 6\text{వ అంశము} + (7\text{వ అంశం} - 6\text{వ అంశం}) \times 0.25$$

$$= 29 + (31 - 29) \times 0.25$$

$$= 29 + (2 \times 0.25)$$

$$= 29 + 0.50$$

$$6.25 \text{ వ అంశం} = 29.5. \text{ కావున } Q_1 = 29.5$$

ఎగువ చతుర్థాంశం ( $Q_3$ )

$$Q_3 = \left( \frac{N+1}{4} \right) 3\text{వ అంశము}$$

$$= \left( \frac{24+1}{4} \right) 3 = \left( \frac{25}{4} \right) 3 = 6.25 \times 3 = 18.75 \text{వ అంశము}$$

$$18.75\text{వ అంశం} = 18\text{వ అంశము} + (19\text{వ అంశం} - 18\text{వ అంశం}) \times 0.75$$

$$= 71 + (73 - 71) \times 0.75$$

$$= 71 + 2 \times 0.75$$

$$= 71 + 1.50$$

$$18.75\text{వ అంశం} = 72.5 \text{ కావున}$$

$$\therefore \text{ ఎగువ చతుర్థాంశము } (Q_3) = 76.5$$

7వ దశాంశ స్థానము

$$D_7 = \left( \frac{N+1}{10} \right) \times 7 \text{వ అంశం}$$

$$= \left( \frac{24+1}{10} \right) \times 7 \text{వ అంశం}$$

$$= \frac{25}{10} \times 7 \text{ వ అంశం}$$

$$= 2.5 \times 7 \text{ వ అంశం}$$

$$D_7 = 17.5 \text{ వ అంశము}$$

$$17.5 \text{ వ అంశము} = 17 \text{ వ అంశము} + (18 \text{ వ అంశం} - 17 \text{ వ అంశం}) \times 0.5$$

$$= 64 + (71 - 64) \times .5$$

$$= 64 + (7 \times .5)$$

$$= 64 + 3.5$$

$$17.5 \text{ వ అంశము} = 67.5 \text{ కావున } D_7 = 67.5$$

$$85 \text{ వ శతాంశ స్థానము } (P_{85})$$

$$P_{85} = \left( \frac{N+1}{100} \right) 85 \text{ వ అంశము}$$

$$= \left( \frac{24+1}{100} \right) 85 \text{ వ అంశం}$$

$$= \frac{25}{100} \times 85 \text{ వ అంశం}$$

$$P_{85} = 0.25 \times 85 = 21.25 \text{ అంశము}$$

$$21.25 \text{ వ అంశము} = 21 \text{ వ అంశము} + (22 \text{ వ అంశం} - 21 \text{ వ అంశం}) \times 0.25$$

$$= 78 + (81 - 78) \times 0.25$$

$$= 78 + (3 \times 0.25)$$

$$= 78 + 0.75$$

$$21.25 \text{ వ అంశం} = 78.75 \text{ కావున } P_{85} = 78.75$$

విచ్చిన్న శ్రేణులు - వివిధ మానాళ గణన : ఒక తరగతిలోని విద్యార్థుల ఎత్తులు దిగువ పట్టిలో వున్నాయి. దీనిలో రెండు చతుర్థాంశాలు, 3వ అష్టాంశము, 8వ దశాంశము, 95వ శతాంశమును కనుగొనండి.

ఎత్తు (సెం.మీ)

విద్యార్థుల సంఖ్య

157

10

168

13

173	2
152	1
162	25
176	1
170	6
160	12
155	5
172	3
164	38
171	4

జవాబు : దత్తాంశాన్ని ఆరోహణ లేక అవరోహణ క్రమంలో వ్రాసుకొన్న తరువాత సాధారణ పౌనఃపున్యాన్ని సంచితం చేయవలె. దాని ఆధారంగా వివిధ మానాల స్థానాల విలువలను గుర్తింపవచ్చును.

ఎత్తు (x)	విద్యార్థుల సంఖ్య (f)	సంచిత పౌనఃపున్యము (cf)
152	1	1
155	5	6
157	10	16
160	12	28
162	25	53
164	38	91
168	13	104
170	6	110
171	4	114
172	3	117
173	2	119
176	1	120
	$N = 120$	

దిగువ చతుర్థాంశ స్థానము

$$Q_1 = \left( \frac{N+1}{4} \right)^{\text{వ అంశం}}, N = 120$$

$$Q_1 = \frac{120+1}{4} = \frac{121}{4} = 30.25^{\text{వ అంశం}}.$$

30.25 అంశము సంచిత పానఃపున్యము 53లో వున్నది. కనుక దానికి అనుబంధంగా వున్న అంశము విలువ 162 దిగువ చతుర్థాంశముగును.

∴ దిగువ చతుర్థాంశము ( $Q_1$ ) = 162 సెంటీమీటర్లు.

ఎగువ చతుర్థాంశ స్థానము

$$Q_3 = \left(\frac{N+1}{4}\right)3\text{వ అంశం}$$

$$= \left(\frac{120+1}{4}\right)3 = 30.25 \times 3 = 90.75\text{వ అంశం.}$$

90.75 అంశము సంచిత పానఃపున్యము 91లో వున్నది. దాని అనుబంధ అంశము 164 ఎగువ చతుర్థాంశముగును.

∴ ఎగువ చతుర్థాంశము ( $Q_3$ ) = 164 సెంటీమీటర్లు.

3వ అష్టాంశ స్థానము

$$O_3 = \left(\frac{N+1}{8}\right)3\text{వ అంశము}$$

$$= \left(\frac{120 \times 1}{8}\right)3 = 15.125 \times 3 = 45.375\text{వ అంశము.}$$

45.375వ అంశము సంచిత పానఃపున్యము 53లో వున్నది. దాని అనుబంధ చలరాశి విలువ 162. 3వ అష్టాంశము అవుతుంది.  $O_3 = 162$  సెం.మీటర్లు

8వ దశాంశం

$$D_8 = \left(\frac{N+1}{10}\right)8\text{వ అంశము}$$

$$= \left(\frac{120+1}{10}\right)8 = 12.1 \times 8 = 96.8\text{వ అంశము.}$$

96.8వ అంశము సంచిత పానఃపున్యము 104లో వున్నది. కాబట్టి దాని అనుబంధ చలనము 168. 8వ దశాంశము అవుతుంది.  $D_8 = 168$  సెం.మీటర్లు.

95వ దశాంశ స్థానము

$$P_{95} = \left(\frac{N+1}{100}\right)95\text{వ అంశము}$$

$$= \left(\frac{120+1}{100}\right)95 = \frac{121}{100} \times 95 = 1.21 \times 95 = 114.95\text{వ అంశము.}$$

114.95వ అంశము సంచిత పానఃపున్యము 117లో వున్నది కాబట్టి దాని అనుబంధము విలువ 172.

95వ శతాంశము అవుతుంది.

$$P_{95} = 172\text{ సెం.మీటర్లు.}$$

అవిచ్ఛిన్న శ్రేణులు - వివిధ మానాల గణన : అవిచ్ఛిన్న శ్రేణులలో స్థానమానాల గణనకు పానఃపున్యానికి 1 కలపవలసిన అవసరము లేదు. ఎందుకంటే ఇది అంచనా వేసిన విలువ పూర్తి ఖచ్చితత్వం సాధ్యం కాదు. సంబంధిత సూత్రాల ఆధారంగా స్థానాలను కనుగొని విలువలకు గుర్తింపవచ్చును.

ఉదాహరణ : దిగువ యిచ్చిన పానఃపున్య విభాజనం నుండి (1) మధ్యగతాన్ని (2) దిగువ చతుర్థాంశాన్ని (3) 7వ దశాంశాన్ని (4) 85వ శతాంశాన్ని గణన చేయండి. గణాంక శాస్త్రంలో 146 మందికి వచ్చిన మార్కులు యివ్వబడినవి.

మార్కులు	విద్యార్థులు	మార్కులు	విద్యార్థులు
10కి లోపు	8	40 - 50	30
10 - 20	12	50 - 60	28
20 - 30	20	60 - 70	12
30 - 40	32	70 పైన	4

మార్కులు	విద్యార్థుల సంఖ్య (f)	సంచిత పానఃపున్యము (cf)
10కి లోపు	8	8
10 - 20	12	20
20 - 30	20	40
30 - 40	32	72
40 - 50	30	102
50 - 60	28	130
60 - 70	12	142
70 పైన	4	146
	$N = 146$	

(i) మధ్యగతము (M) : మధ్యగత స్థానము =  $\frac{N}{2}$  అంశము,  $N = 146$

$$= \frac{146}{2} = 73 \text{వ అంశము}$$

73వ అంశము సంచిత పానఃపున్యము 102లో వున్నది. కాబట్టి దాని అనుబంధ తరగతి 40 - 50 మధ్యగత తరగతి అవుతుంది.

$$\text{మధ్యగత తరగతి} = 40 - 50$$

$$\text{మధ్యగతము } M = l_1 + \frac{\frac{N}{2} - m}{f} (l_2 - l_1)$$

$$l_1 = 40; l_2 = 50; f = 30; \frac{N}{2} = 73; m = 72$$

$$\begin{aligned}
 M &= 40 + \frac{73-72}{30} \times (50-40) \\
 &= 40 + \frac{1 \times 10}{30} \\
 &= 40 + .33 \\
 M &= 40.33 \text{ మార్కులు}
 \end{aligned}$$

(ii) దిగువ చతుర్థాంశము ( $Q_1$ ) : దిగువ చతుర్థాంశ స్థానము =  $\frac{N}{4}$  వ అంశము

$$= \frac{146}{4} = 36.5 \text{ వ అంశము.}$$

36.5వ అంశము సంచిత పౌనఃపున్యము 40లో వున్నది. దాని అనుబంధ తరగతి 20 - 30దిగువ చతుర్థాంశ తరగతి.

$$Q_1 \text{ తరగతి} = 20 - 30$$

$$Q_1 = l_1 + \frac{\frac{N}{4} - m}{f} (\ell_2 - l_1)$$

$$l_1 = 20; \ell_2 = 30; f = 20; \frac{N}{4} = 36.5; m = 20$$

$$\begin{aligned}
 \therefore Q_1 &= 20 + \frac{36.5 - 20}{20} (30 - 20) \\
 &= 20 + \frac{16.5 \times 10}{20} \\
 &= 20 + 8.25 \\
 Q_1 &= 28.25 \text{ మార్కులు}
 \end{aligned}$$

(iii) 7వ దశాంశము ( $D_7$ )

$$\begin{aligned}
 7\text{వ దశాంశ స్థానము} &= \frac{N}{10} \times 7\text{వ అంశము} \\
 &= \frac{146}{10} \times 7\text{వ అంశము} \\
 &= 14.6 \times 7 = 102.2\text{వ అంశము.}
 \end{aligned}$$

102.2వ అంశము సంచిత పానఃపున్యము 130లో వున్నది. కనుక దాని అనుబంధ తరగతి 50 - 60 అనేది 7వ దశాంశ తరగతి.

$$7\text{వ దశాంశము} = D_7 = l_1 + \frac{\frac{7N}{10} - m}{f} (l_1 - l_2)$$

$$l_1 = 50; \quad l_2 = 60; \quad f = 28; \quad \frac{7N}{10} = 102.2; \quad m = 102$$

$$D_7 = 50 + \frac{(102 - 102)}{28} (60 - 50)$$

$$= 50 + \frac{0.2 \times 10}{28}$$

$$= 50 + 0.07$$

$$D_7 = 50.07 \text{ మార్కులు}$$

(iv) 85వ శతాంశము ( $P_{85}$ )

$$85\text{వ శతాంశ స్థానము} = \frac{N}{100} \times 85\text{వ అంశము}$$

$$= \frac{146}{100} \times 85 = 124.1\text{వ అంశము}$$

124.1 వ అంశము సంచిత పానఃపున్యము 130లో వున్నది. దాని అనుబంధ తరగతి 50 - 60, అనేది 85వ శతాంశ తరగతి.

$$85\text{వ శతాంశం} (P_{85}) = l_1 + \frac{\frac{85N}{100} - m}{f} (l_2 - l_1)$$

$$l_1 = 50; \quad l_2 = 60; \quad f = 28; \quad \frac{85N}{100} = 124.1; \quad m = 102$$

$$P_{85} = 50 + \frac{124.1 - 102}{28} (60 - 50)$$

$$= 50 + \frac{22.1 \times 10}{28}$$

$$= 50 + 7.89$$

$$P_{85} = 57.89 \text{ మార్కులు}$$

ఉదాహరణ : క్రింద యిచ్చిన దత్తాంశము నుండి (1) మధ్యగతాన్ని (2) దిగువ చతుర్థాంశాన్ని (3) 6వ దశాంశాన్ని (4) 3వ శతాంశాన్ని కనుగొనండి.

మార్కులు (Less than) 80 కంటే తక్కువ	విద్యార్థుల సంఖ్య
70    "    "	100
60    "    "	90
50    "    "	80
40    "    "	60
30    "    "	32
20    "    "	20
10    "    "	13
0     "    "	5

జవాబు : యివ్వబడిన దత్తాంశము కంటే ఎక్కువ రూపంలో వున్నది. పానఃపున్యము అవరోహణ సంచిత పానఃపున్యములో వున్నది. కాబట్టి తరగతి అవధులు, అంతరము యేర్పరచి, సాధారణ పానఃపున్య విభాజనంగా వ్రాయవలె. కంటే తక్కువ పద్ధతిలో ఇచ్చిన అవధులు తరగతి ఎగువ అవధులుగా గుర్తించి, తరగతి అంతరం 10 అని గ్రహించి తరగతులను పునర్నిర్మించడమైనది.

మార్కులు తరగతులు పునర్నిర్మించబడినవి (CI)	విద్యార్థులు (f)	సంచిత పానఃపున్యము (cf)
0 - 10	5	5
10 - 20	8	13
20 - 30	7	20
30 - 40	12	32
40 - 50	28	60
50 - 60	20	80
60 - 70	10	90
70 - 80	10	100
	N = 100	

(i) మధ్యగతము (M)

$$\text{మధ్యగత స్థానము} = \frac{N}{2} \text{వ అంశము} = \frac{100}{2} = 50 \text{వ అంశము.}$$

50వ అంశము సంచిత పానఃపున్యము 60లో వున్నది. కావున దాని అనుబంధ తరగతి 40 - 50 అనేది మధ్యగత తరగతి అవుతుంది.



$$M = \ell_1 + \frac{\frac{N}{2} - m}{f} (\ell_2 - \ell_1)$$

$$\ell_1 = 40; \ell_2 = 50; f = 28; \frac{N}{2} = 50; m = 32$$

$$M = 40 + \frac{50 - 32}{28} (50 - 40)$$

$$= 40 + \frac{18 \times 10}{28}$$

$$= 40 + 6.42$$

$$M = 46.42 \text{ మార్కులు}$$

$$(ii) \text{ దిగువ చతుర్థాంశ స్థానము } (Q_1) = \frac{N}{4} \text{ వ అంశము}$$

$$= \frac{100}{4} = 25 \text{ వ అంశము}$$

25వ అంశము సంచిత పౌనఃపున్యము 32లో వున్నది. కావున దాని అనుబంధ తరగతి 30 - 40 అనేది దిగువ చతుర్థాంశ తరగతి అవుతుంది.

$$Q_1 = \ell_1 + \frac{\frac{N}{4} - m}{f} (\ell_2 - \ell_1)$$

$$\ell_1 = 30; \ell_2 = 40; f = 12; \frac{N}{4} = 25; m = 20$$

$$Q_1 = 30 + \frac{(25 - 20)}{12} (40 - 30) = 30 + \frac{5 \times 10}{12}$$

$$= 30 + 4.16 = 34.16 \text{ మార్కులు}$$

$$(iii) \text{ 6వ దశాంశ స్థానము } (D_6) = \frac{N}{10} \times 6 \text{ వ అంశం}$$

$$= \frac{100 \times 6}{10} = 60 \text{ వ అంశము.}$$

60 అనే అంశము సంచిత పానఃపున్యము 60లో వున్నది. దాని అనుబంధ తరగతి 40 - 50 అనేది  $D_6$  తరగతి అవుతుంది.

$$D_6 = 40 + \frac{60-32}{28}(50-40)$$

$$= 40 + \frac{28 \times 10}{28}$$

$$D_6 = 40 + 10 = 50 \text{ మార్కులు}$$

(iii) 3వ శతాంశ స్థానము ( $P_3$ ) =  $\frac{N}{100} \times 3$ వ అంశం.

$$= \frac{100}{100} \times 3 \text{వ అంశము.}$$

3వ అంశం సంచిత పానఃపున్యము 5లో వున్నది. దాని అనుబంధ తరగతి 0 - 10 అనేది  $P_3$  తరగతి అవుతుంది.

$$P_3 = l_1 + \frac{\frac{3N}{100} - m}{f} (\ell_2 - l_1)$$

$$l_1 = 0; \quad \ell_2 = 10; \quad f = 5; \quad \frac{3N}{100} = 3; \quad m = 0$$

$$P_3 = 0 + \frac{3-0}{5}(10-0)$$

$$P_3 = \frac{10 \times 3}{5} = \frac{30}{5} = 6 \text{ మార్కులు}$$

### రేఖా చిత్ర పద్ధతి - మధ్యగత గణన (Calculation of Median by Graphic Method)

రేఖా చిత్ర పటం ద్వారా మధ్యగతం, దాని మీద ఆధారపడిన ఇతర స్థానమానాలను కూడా గణన చేయవచ్చును. ఇందుకు ఓజిన్ వక్రరేఖను (Ogine curve) లేదా సంచిత పానఃపున్య వక్రరేఖలను గీయవలె. ఈ ఓజిన్ వక్రరేఖలు 'కంటే తక్కువ', 'కంటే ఎక్కువ' అని రెండు రకములు. ఓజిన్ వక్ర రేఖ ద్వారా మధ్యగతాన్ని రెండు రకాలుగా గుర్తింపవచ్చును. అవి ఎ) కేవలం కంటే తక్కువ రేఖ ద్వారా, బి) కంటే తక్కువ, కంటే ఎక్కువ రేఖల రెండింటి ద్వారా.

(ఎ) కంటే తక్కువ ఓజిన్ వక్రరేఖ ద్వారా : సంచిత పానఃపున్య వక్రరేఖనే ఓజిన్ వక్రరేఖ అంటారు. కంటే తక్కువ సంచిత పానఃపున్య పట్టి ఆధారంగా దీన్ని రూపొందిస్తారు. రేఖాపటంలో ఎగువ అవధులకు, సంబంధిత పానఃపున్యానికి గల సంబంధాన్ని బిందువులతో గుర్తించి వాటిని కలిపితే ఈ రేఖ వస్తుంది. ఈ వక్రరేఖ ఆరోహణ క్రమాన్ని చూపుతుంది (Raising trend). చలనాలను లేదా తరగతి అంతరాలు  $x$  - అక్షం ( $x$  - axis) మీద, సంచిత పానఃపున్యాన్ని  $y$  - అక్షం మీద ( $y$  - axis) తీసుకోవలె. కంటే తక్కువ సంచిత పానఃపున్య వక్రరేఖను నిర్మించిన తరువాత 'మధ్యగత' బిందువును

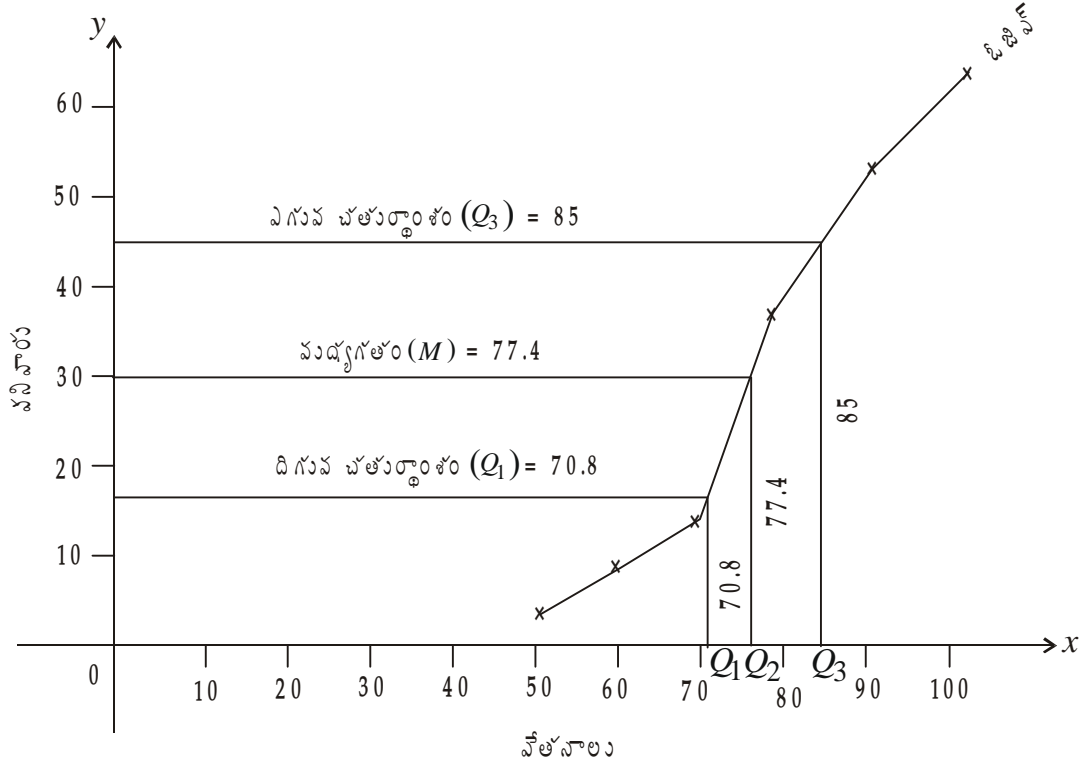
$\frac{N}{2}$  అనే సూత్రం ద్వారా తెలుసుకోవాలి. అట్లా తెలుసుకొన్న బిందువును ఊర్ధ్వ లేదా నిలువు అక్షము (vertical axis) అంటే  $y$  - అక్షము మీద గుర్తించి, ఓజివ్ రేఖకు పొడిగింపవలె. పొడిగింపబడిన రేఖ ఓజివ్ రేఖను తాకిన బిందువు నుండి  $x$  - అక్షానికి (Base) లంబరేఖను గీస్తే అది  $x$  - అక్షంపై ఏ బిందువునైతే తాకుతుందో ఆ బిందువు విలువ మధ్యగతానికి సమానమవుతుంది. అట్లాగే మధ్యగత సూత్రంపై ఆధారపడి వున్న ఇతర మానాలు అంటే చతుర్థాంశాలు, దశాంశాలు, శతాంశాలు మొదలైనవి కూడా ఈ పద్ధతి ద్వారా కూడా కనుక్కోవచ్చు.

ఉదాహరణ : ఈ క్రింది దత్తాంశము నుండి మధ్యగతాన్ని ఎగువ, దిగువ చతుర్థాంశాలను రేఖా చిత్రపటం ద్వారా కనుక్కోండి.

వేతనాలు	పనివారి సంఖ్య
40 - 50	1
50 - 60	3
60 - 70	9
70 - 80	23
80 - 90	16
90 - 100	8

జవాబు : సంచిత పానఃపున్య వక్రరేఖ (ఓజివ్ వక్రరేఖ) ద్వారా మధ్యగతాన్ని కనుగొనవలసియున్నందున దత్తాంశములో యివ్వబడిన సాధారణ పానఃపున్యాన్ని ఆరోహణ క్రమంలో సంచిత పానఃపున్యము చేయవలె (కంటే తక్కువ).  $x$  - అక్షముపై వేతనాలు,  $y$  - అక్షముపై పనివారిని తీసుకోవాలను. ఎగువ అవధులకు సంచిత పానఃపున్యానికి గల సంబంధాన్ని బిందువులతో గుర్తించి వాటిని కలుపవలె. ఆ తరువాత  $\frac{N}{2}$  సూత్రం ద్వారా మధ్యగత బిందువు లేక అంశాన్ని గుర్తించవలె.  $\frac{60}{2} = 30$ , దానిని  $y$  - అక్షముపై గుర్తించి ఒక రేఖను ఓజివ్ వైపునకు పొడిగించి, అది ఓజివ్ ను తాకుతుందో అక్కడి నుండి  $x$  - అక్షానికి లంబ రేఖను గీయవలె. అది  $x$  - అక్షాన్ని తాకిన బిందువు మధ్యగత విలువను సూచించును. అదే విధంగా  $\frac{N}{4}$  ద్వారా దిగువ చతుర్థాంశం,  $\frac{3N}{4}$  ద్వారా అయితే ఎగువ చతుర్థాంశం వస్తుంది.

వేతనాలు(C.I.)	పనివారు ( $f$ )	సంచిత పానఃపున్యము ( $cf$ )	
40 - 50	1	1	
50 - 60	3	4	
60 - 70	9	13	$Q_1 = 71$
70 - 80	23	36	$Q_3 = 85$
80 - 90	16	52	$Q_2$ or Median = 77.4
90 - 100	8	60	



ఓజిల్ నుంచి భూమికి గీచిన లంబరేఖ 77.4 వద్ద భూమిని  $x$ - అక్షాన్ని తాకుచున్నది.  
కాబట్టి మధ్యగతము 77.4కు సమానము

పై ఉదాహరణలో  $Q_1, Q_3$  స్థానాలకు కూడా గుర్తించడం జరిగింది.  $Q_1$  స్థానము =  $\frac{N}{4} = \frac{60}{4} = 15$  వ అంశము.

15వ అంశాన్ని  $y$  - అక్షంపై గుర్తించి, రేఖను ఓజిల్ రేఖకు పొడిగించి, ఓజిల్ ను తాకిన బిందువు నుండి  $x$  - అక్షానికి లంబరేఖను గీయడం ద్వారా  $Q_1$  విలువ 71గా గుర్తింపవచ్చును. అదే విధంగా  $Q_3$  అంశము  $\frac{3N}{4} = \frac{60}{4} = 45$  వ అంశం.  $y$  - అక్షంపై 45వ అంశము నుండి ఓజిల్ కు పొడిగించ బడిన రేఖ ఓజిల్ ను తాకిన బిందువు నుండి  $x$  - అక్షానికి లంబరేఖ గీయడం ద్వారా  $Q_3$  విలువ 85గా గుర్తింపవచ్చును.

(బి) “కంటే ఎక్కువ” - “కంటే తక్కువ” ఓజిల్ వక్రరేఖలు (By less than and More than Ogive curves) : తరగతి ఎగువ అవధి ఆధారంగా “కంటే తక్కువ” రూపంలో మార్చితే వచ్చే పౌనఃపున్యాన్ని ఆరోహణ సంచిత పౌనఃపున్యం అంటారు. తరగతి దిగువ అవధి ఆధారంగా “కంటే ఎక్కువ” అని పౌనఃపున్యాన్ని సంచితం చేస్తే అవరోహణ సంచిత పౌనఃపున్యమేర్పడును. ఆరోహణ, అవరోహణ క్రమంలో గల సంచిత పౌనఃపున్యాలను పటంలో గుర్తిస్తే యేర్పడే రెండు వక్రరేఖలు ఒకదానినొకటి ఖండించుకొంటాయి. ఆ ఖండన బిందువు నుంచి  $x$  - అక్షానికి లంబరేఖను గీస్తే అది  $x$  - అక్షాన్ని తాకిన బిందువు మధ్యగతాన్ని సూచించును. ఇట్లా గీసిన రేఖల అవధుల ఆధారంగా “కంటే ఎక్కువ” “కంటే తక్కువ” అని చదవడం వల్ల ఈ వక్రరేఖలు “కంటే ఎక్కువ” “కంటే తక్కువ” వక్రరేఖలుగా సాధారణంగా వాడుకలో వున్నాయి.

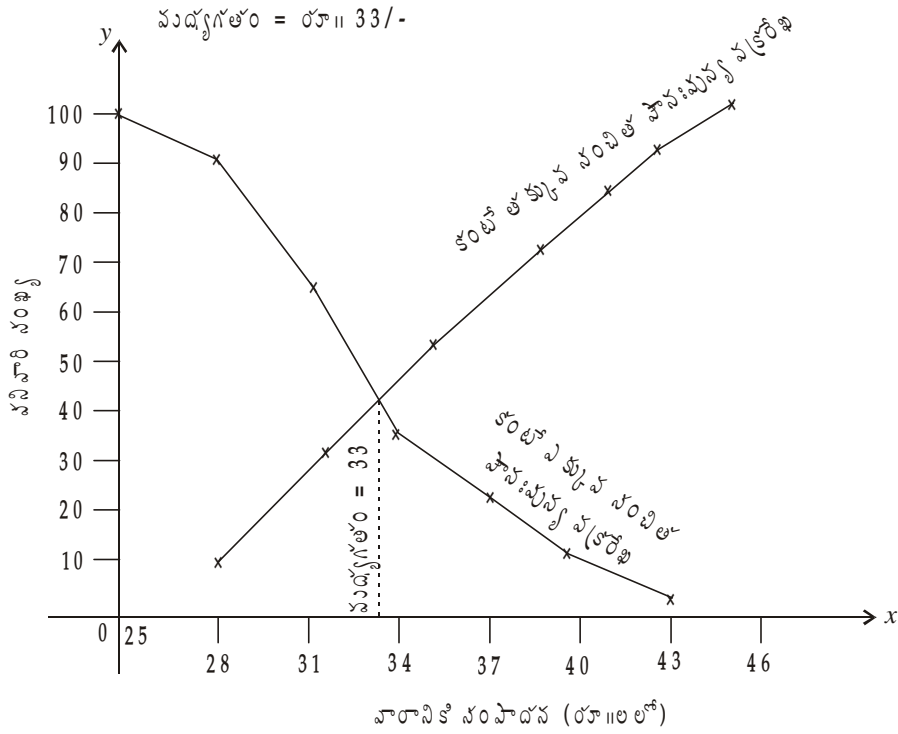
ఉదాహరణ : దిగువ దత్తాంశంలో “కంటే ఎక్కువ” “కంటే తక్కువ” (More than and Less than) సంచిత పౌనఃపున్య వక్రరేఖలను గీసి మధ్యగతాన్ని కనుగొనండి.

వారపు సంపాదన (రూ॥లలో)	పనివారి సంఖ్య
25 - 28	10
28 - 31	23
31 - 34	26
34 - 37	19
37 - 40	10
40 - 43	8
43 - 46	4
	$N = 100$

సూత్రాన్ని ఉపయోగించి ఫలితాన్ని సరిచూడండి.

జవాబు : సాధారణ పౌనఃపున్యాన్ని సంచితం చేసి ఆరోహణ, అవరోహణ క్రమాలలో రెండు సంచిత పౌనఃపున్య వక్రరేఖలు గీస్తే, అవి ఒకదానికొకటి ఖండించుకొనే బిందువు, మధ్యగత బిందువగును. ఆ బిందువు నుండి  $x$ - అక్షానికి లంబరేఖను గీస్తే, మధ్యగతం విలువ తెలుస్తుంది.

వారపు సంపాదన (రూ॥లలో)	పని వారి సంఖ్య ( $f$ )	సంచిత పౌనఃపున్యము( $cf$ )	
		ఆరోహణలో (కంటే తక్కువ)	అవరోహణలో (కంటే తక్కువ)
25 - 28	10	10	100
28 - 31	23	33	90
31 - 34	26	59	67
34 - 37	19	78	41
37 - 40	10	88	22
40 - 43	8	96	12
43 - 46	4	100	4
	$N = 100$		



రేఖాపటంలో విలువను గణన ద్వారా సరిచూడవచ్చు. ప్రస్తుతం మధ్యగతాన్ని గణన ద్వారా కనుగొందాము.

మధ్యగత స్థానం =  $\frac{N}{2} = \frac{100}{2} = 50$  వ అంశం, 50 అనే అంశం of 59లో వుంది కావున మధ్యగత తరగతి 31 - 34

$$M = l_1 + \frac{\frac{N}{2} - m}{f} (l_2 - l_1)$$

$$l_1 = 31; l_2 = 34; f = 26; \frac{N}{2} = 50; m = 33$$

$$M = 31 + \frac{(50 - 33)}{26} (34 - 31)$$

$$= 31 + \frac{17 \times 3}{26}$$

$$M = 31 + 1.96 = 32.96$$

రేఖాపటం ద్వారా సూత్రం ద్వారా మధ్యగతం ఒకే విధంగా ఉంది.

### 7.7 బాహుళకము (Mode)

మనము 'సగటు విద్యార్థికి' (Average student) 35 మార్కులు వచ్చినపుడు, భారతదేశంలో పురుషుని సగటు ఎత్తు 5'-6" అనినప్పుడు, ఒక ప్రాంతంలో సామాన్య రోగము గుండె జబ్బు అన్నప్పుడు అనుకోకుండా బాహుళకాన్ని గూర్చి మాట్లాడుతున్నానన్నమాట. అంటే 35 మార్కులు వచ్చినవాడు సగటు విద్యార్థి అన్నప్పుడు, ఎక్కువ మందికి 35 మార్కులు వచ్చినవని భారతదేశంలో పురుషుని సగటు వయస్సు 5'-6" అన్నప్పుడు ఎక్కువ మంది పురుషుల ఎత్తు 5'-6" అని, ఒక ప్రాంతంలో సాధారణ రోగం గుండె జబ్బు అన్నప్పుడు ఎక్కువ మంది ఆ రోగానికి గురియైనాడని భావన. ఇలాంటి సందర్భాల్లో ఉపయోగించే సగటు బాహుళకం. బాహుళకము కూడా స్థానాన్ని బట్టి నిర్ణయించబడే సగటు (Positional average).

ఆంగ్ల భాషలో బాహుళకాన్ని మోడ్ (Mode) అంటారు. మోడ్ అనే మాట ల-మోడ్ (La-Mode) అనే ఫ్రెంచి పదం నుండి గ్రహించబడినది. దీని అర్థం ఫాషన్ (Fashion) ఒక శ్రేణిలో అత్యధికంగా పునరావృతమయ్యే విలువను బాహుళకమంటారు. జీజిక్ అనే మహాశయుడు బాహుళకాన్ని ఈ విధంగా నిర్వచించెను శ్రేణులలో వున్న అంశాలలో యే విలువ అతి తరచుగా వస్తుందో, మరియు ఏ విలువ చుట్టూ అధికంగా యితర విలువలు పంపిణీ జరుగుతుందో ఆ విలువను బాహుళకమని చెప్పవచ్చు.

కెన్నీ ప్రకారం "పంపిణీలో ఏ చలనము యొక్క విలువ అతి తరచుగా వస్తున్నదో దానిని బాహుళకమంటారు". దీనిని అత్యధిక సాంద్రత గల బిందువు లేదా పౌనఃపున్య విభాజనములో అత్యధిక పౌనఃపున్యాలు గల విలువ అని చెప్పవచ్చు. గణాంకశాస్త్రవేత్తల అభిప్రాయాలను బట్టి బాహుళక మంటే శ్రేణులలో అత్యధికంగా గోచరించే విలువలనీ, అతి సామాన్యమైన విలువలనీ గ్రహించవచ్చును.

వాస్తవానికి వ్యక్తిగత శ్రేణులలో బాహుళకాన్ని నిర్ణయించలేమని, వ్యక్తిగత శ్రేణులను, విచ్చిన్న లేదా అవిచ్చిన్న శ్రేణులుగా తీసుకొని వాటికెదురుగా పౌనఃపున్యాన్ని వ్రాసుకొంటే, అధిక పౌనఃపున్యము గలది. విచ్చిన్న శ్రేణులలో బాహుళకమని, అవిచ్చిన్న శ్రేణులలో బాహుళకపు తరగతని అంటాము.

**7.7.1 వ్యక్తిగత శ్రేణులు - బాహుళకము :** వ్యక్తిగత శ్రేణుల్లో గణన చేయడం (Mode-Micomputation) వ్యక్తిగత శ్రేణిలో ఏ విలువ హెచ్చుసార్లు లభ్యమౌతుందో దానిని బాహుళకమంటారు. నిజానికి అవి లెక్కించినపుడు వాటి పౌనఃపున్యాన్ని తీసుకుంటాము.

**ఉదాహరణ :** 68, 72, 85, 94, 72, 100, 94, 115, 72 ఈ సంఖ్యలలో 72 మూడు సార్లు కనిపించడం వల్ల 72ను బాహుళకంగా చెప్పవచ్చు.

ఒకవేళ రెండు అంశాలు సమానంగా లభ్యమైతే ద్విబాహుళకం విభాజనం, రెండుకు మించితే బహు బాహుళకపు విభాజనం అంటారు. ఆ సందర్భాల్లో బాహుళకాన్ని కనుగొనవచ్చు. ఆ సందర్భాల్లో తగు సూత్రాన్ని ఉపయోగించి బాహుళకాన్ని కనుగొనవచ్చు.

**7.7.2 విచ్చిన్న శ్రేణులు - బాహుళకము :** విచ్చిన్న శ్రేణులలో దత్తాంశాన్ని పరిశీలించడం వల్ల బాహుళకాన్ని నిర్ణయించవచ్చు. అంటే పౌనఃపున్యము అత్యధికంగా ఏ విలువ దగ్గర వున్నదో చూసి లేదా అధిక సాంద్రత వుంటుందో చూచి బాహుళకాన్ని నిర్ణయింపవచ్చు. కాని కొన్ని సందర్భాల్లో పరిశీలన వల్ల కనుగొనలేము కూడా. అందువల్ల ఈ విభాజనానికి వర్గీకృత, విశ్లేషణ పట్టికలను రూపొందించడం ద్వారా బాహుళకాన్ని కనుగొంటాము.

**ఉదాహరణ :** దిగువ యిచ్చిన దత్తాంశము నుండి బాహుళకాన్ని కనుగొనండి.

ఆదాయాలు (రూ॥)	3000	4000	5000	6000	7000	8000	9000	10000
వ్యక్తుల సంఖ్య	20	30	26	40	35	28	6	1

జవాబు :

ఆదాయాలు(x)	వ్యక్తుల సంఖ్య (f)	వర్గీకృత పట్టి				
		రెండు చొప్పున		మూడు చొప్పున కూడగా		
		3	4	5	6	7
	I	II	III	IV	V	VI
3000	20					
4000	30	50		76		
5000	26		56		(96)	
6000	(40)	(66)				(101)
7000	35		(75)			
8000	28	63		(103)		
9000	6		34		69	
10,000	1	7				35

వర్గీకృత పట్టికలో రోమన్ అంకెల్లో చూపిన వరుసలో అధిక విలువలను బ్రాకెట్లలో చూపటం జరిగింది. వీటి ఆధారంగా విశ్లేషణ పట్టికలో గణ చిహ్నాలు గుర్తించి అత్యధిక సంఖ్య గణచిహ్నాలు ఎక్కువ గల అంశము ఎక్కువసార్లు పునరావృతమైనదిగా గ్రహించి ఆ విలువను బాహుళకంగా గుర్తించబడును. వర్గీకృత పట్టికలో I వరుసలో అత్యధిక పౌనఃపున్యం 40 కలిగిన 6000 అంశానికి గణచిహ్నాన్ని మొదట ఇవ్వాలి. II, III వరుసలు రెండు చొప్పున కూడినవి. తరువాత II వరుసలో అత్యధిక విలువ 66. ఇది 26, 40 కూడితే వచ్చింది. కావున 26కు సంబంధించిన 5000కు, 40కి సంబంధించిన 6000కు గణచిహ్నం ఇవ్వాలి. తరువాత IIIవ వరుసలో అత్యధిక విలువ 75. ఇది 40, 35 కూడితే వచ్చింది. కావున 40కి సంబంధించిన 6000కు, 35కు సంబంధించిన 5000కు గణచిహ్నాన్ని ఇవ్వటం జరిగింది. వరుసలో IV, V, VI అనేవి మూడు చొప్పున కూడినవి. నాల్గవ వరుసలో అత్యధిక విలువ 103 అనేది 40, 35, 28 కూడితే వచ్చింది కావున వాటికి సంబంధించిన అంశాలు 6000, 7000, 8000లకు గణచిహ్నాలు ఇచ్చాము. ఈ విధంగా మిగిలిన వాటికి కూడా కొనసాగించాలి.

$\overrightarrow{x}$ అంశాలు(x)	విశ్లేషణ పట్టిక							
	3000	4000	5000	6000	7000	8000	9000	10000
నిలువుగళ్ళు (Columns) ↓								
I			1					
II			1	1				
III				1	1			
IV				1	1	1		
V		1	1	1				
VI			1	1	1			
మొత్తం		0	3	6	3	1	0	0



పై పట్టికలో అధిక గణచిహ్నాలు అంటే ఆరు చిహ్నాలు 6000కు వచ్చాయి. కావున బాహుళకం అవుతుంది.

$$Z = 6000 \text{ రూ॥లు}$$

పానఃపున్యం గరిష్ఠంగా కలిగిన చలనం 6000కు మొదటి గణచిహ్నము యివ్వబడినది.

రెండేసి చొప్పున సంచితమైన పానఃపున్యాల గరిష్ఠపరిమాణం 5000, 6000కు ఒక్కొక్క గణచిహ్నాన్ని కేటాయింపచేసినది. అదే విధంగా అత్యధిక పానఃపున్యాల సంకలనాలు ఆధారంగా కేటాయించబడిన చిహ్నాలు 6000 చలనానికి అత్యధికంగా '6' సూచింపబడినది. కనుక 6000 అనే చలనము 6 సార్లు వచ్చినది. కాబట్టి బాహుళకము = రూ. 6000-00.

**7.7.3 బాహుళకము - అవిచ్ఛిన్న శ్రేణులు (Mode-Continuous Series) :** బాహుళక విలువ కనుగొనుటకు తరగతి అంతరాలు అసమానంగా వుంటే సమానం చేయాలి. తరగతులు విలీన రూపంలో వుంటే సర్దుబాటు చేసుకోవాలి. విచ్ఛిన్న శ్రేణిలో వలె వర్గీకృత, విశ్లేషణ ద్వారా బాహుళకపు తరగతి నిర్ణయించి తరువాత కింది సూత్రాన్ని ఉపయోగించి అంతర్నివేశనం ద్వారా బాహుళకాన్ని కనుగొనవచ్చును.

$$\text{Mode}(Z) = l_1 + \frac{f_1 - f_0}{2f_1 - f_0 - f_2} \times c$$

$$f_1 = \text{బాహుళకపు తరగతి పానఃపున్యము}$$

$$f_0 = \text{బాహుళకపు తరగతికి దిగువ తరగతి పానఃపున్యము}$$

$$f_2 = \text{బాహుళకపు తరగతికి ఎగువ తరగతి పానఃపున్యము}$$

$$c = \text{తరగతి అంతరము}$$

$$l_1 = \text{బాహుళకపు తరగతి దిగువ అవధి}$$

పైన తెలిపిన సూత్రంలో  $2f_1 - f_0 - f_2 = 0$  అయితే బాహుళకం విలువ అనంతమవుతుంది. ఒకవేళ రుణాత్మక విలువ వస్తే బాహుళకం విలువ దిగువ తరగతిలోకి వెళుతుంది. అందుచేత ఇలాంటి సందర్భాల్లో కింది సూత్రాన్ని ఉపయోగించి బాహుళకాన్ని అంచనా వేస్తాము.

$$Z = l_1 + \frac{f_2}{f_0 + f_2} \times c$$

పై సూత్రము ద్వారా వచ్చే విలువ మూడు విలువ మాత్రమే.

కొన్ని సందర్భాల్లో, విశ్లేషణ పట్టిక ద్వారా బాహుళకపు తరగతులు రెండు లేదా అంతకన్నా ఎక్కువ సంఖ్యలో వస్తాయి. అలాంటి సందర్భాల్లో అంకమధ్యమము, మధ్యగతాల సహాయంతో క్రింది సూత్రాన్ని ఉపయోగించి బాహుళకాన్ని కనుగొనవచ్చును.

$$Z = 3(\text{మధ్యగతం}) - 2(\text{అంకమధ్యమము})$$

లేదా

$$Z = 3M - 2\bar{x}$$

ఉదాహరణ : క్రింద యిచ్చిన పౌనఃపున్య విభజనం నుండి బాహుళకాన్ని కనుగొనండి.

హాజరుకాని రోజులు	0 - 5	5 - 10	10 - 15	15 - 20	20 - 25	25 - 30	30 - 35	35 - 40	40 - 45
విద్యార్థుల సంఖ్య	29	195	241	117	52	10	6	3	2

జవాబు :

వర్గీకృత పట్టి

హాజరుకాని రోజులు ( $x$ )	విద్యార్థుల సంఖ్య ( $f$ )	రెండుచొప్పున కూడగా			మూడు చొప్పున కూడగా		
		II	III	IV	V	VI	
0 - 5	29						
5 - 10	195 $f_0$	224		(465)			
10 - 15	(241) $f_1$		(436)		(553)		
15 - 20	117 $f_2$	(358)				(410)	
20 - 25	52		169				
25 - 30	10	62		179			
30 - 35	6		16		68		
35 - 40	3	9				19	
40 - 45	2		5	11			
మొత్తం	655						

విశ్లేషణ పట్టిక

తరగతి	0 - 5	5 - 10	10 - 15	15 - 20	20 - 25	25 - 30	30 - 35	35 - 40	40 - 45
I			1						
II			1	1					
III		1	1						
IV	1	1	1						

V	1	1	1						
VI			1						
మొత్తం	1	3	6	3	1	0	0	0	0

విశ్లేషణ పట్టిక ద్వారా 10 - 15 ఎక్కువసార్లు కనబడుచున్నందున (ఎక్కువ గణ చిహ్నాలు లేదా మార్కులు) దానిని బాహుళకపు తరగతిగా గుర్తింపవచ్చును.

$$\begin{aligned}
 \text{బాహుళకము (Z)} &= l_1 + \frac{f_1 - f_0}{2f_1 - f_0 - f_2} \times c \\
 l_1 &= 10, \quad c = 5, \quad f_1 = 241, \quad f_0 = 195, \quad f_2 = 117 \\
 Z &= 10 + \frac{241 - 195}{2 \times 241 - 195 - 117} \times 5 \\
 &= 10 + \frac{46}{482 - 195 - 117} \times 5 \\
 &= 10 + \frac{230}{170} \\
 Z &= 10 + 1.35 = 11.35
 \end{aligned}$$

ఉదాహరణ : దిగువ యిచ్చిన దత్తాంశములో బాహుళకాన్ని గణన చేయుము.

మార్కులు	0 - 8	8 - 16	16 - 24	24 - 32	32 - 40	40 - 48	48 - 56	56 - 64
విద్యార్థులు	5	10	18	23	28	6	3	2

వర్గీకృత పట్టిక

హాజరుకాని రోజులు (x)	విద్యార్థుల(I) సంఖ్య (f)	రెండు చొప్పున కూడగా		మూడు చొప్పున కూడగా		
		II	III	IV	V	VI
0 - 8	5					
5 - 16	10	15		33		
16 - 24	18 f <sub>0</sub>		28		(51)	
(l <sub>1</sub> ) 24 - 32	23 f <sub>1</sub>	(41)				(69)
32 - 40	(28) f <sub>2</sub>		(51)	(57)		
40 - 48	6	34			37	
48 - 56	3		9			11
56 - 64	2	5				

విశ్లేషణ పట్టిక

తరగతి	0 - 8	8 - 16	16 - 24	24 - 32	32 - 40	40 - 48	48 - 56	56 - 64
I					1			
II			1	1				
III				1	1			
IV				1	1	1		
V		1	1	1				
VI			1	1	1			
మొత్తం	0	1	3	5	4	1	0	0

పానఃపున్య పట్టిలో 24 - 32వ తరగతికి ఎక్కువ పానఃపున్యం ఉన్నందున అది బాహుళకపు తరగతిగా అనిపిస్తుంది. కాని అత్యధిక పానఃపున్యము కలిగియున్నదాని చుట్టూ అధిక పానఃపున్యం కేంద్రీకృతం కావాలి. దీనిని కనుగొనేందుకు వర్గీకృత - విశ్లేషణ పట్టిలు తయారు చేస్తే 32 - 40 అనేది బాహుళకపు తరగతి అయ్యింది.

$$Z = l_1 + \frac{f_1 - f_2}{2f_1 - f_0 - f_2} \times c$$

$$l_1 = 24, \quad f_1 = 23, \quad f_0 = 18, \quad f_2 = 28, \quad c = 8$$

$$= 24 + \frac{23 - 18}{2 \times 23 - 18 - 28} \times 8$$

$$= 24 + \frac{5}{46 - 46} \times 8$$

$$= 24 + \frac{5}{0} \times 8$$

ఈ సూత్రంలో  $2f_1 - f_0 - f_2 = 0$  అయ్యింది. ఈ విలువ '0' అయితే బాహుళకాన్ని గణన చేయలేము. అందువల్ల కింది సూత్రం ఉపయోగించి బాహుళకాన్ని కనుగొంటాము.

$$Z = l_1 + \frac{f_2}{f_0 + f_2} \times c$$

$$\begin{aligned}
 Z &= 24 + \frac{28}{(18+28)} \times 8 \\
 &= 24 + \frac{28}{46} \times 8 \\
 &= 24 + (0.6 \times 8) \\
 &= 24 + 4.8 = 28.8
 \end{aligned}$$

ఉదాహరణ : దిగువ శ్రేణికి బాహుళకమును గణన చేయుము.

పనిదినాలు	0 - 10	10 - 20	20 - 30	30 - 40	40 - 50	50 - 60	60 - 70	70 - 80
వ్యక్తులు	4	6	20	32	33	17	8	2

వర్గీకృత పట్టిక

పనిదినాలు (x)	వ్యక్తులు(I) (f)	రెండు చొప్పున కూడగా			మూడు చొప్పున కూడగా		
		II	III	IV	V	VI	
0 - 10	4	10					
10 - 20	6		26	30			
20 - 30	20	(52)			(58)		
30 - 40	32		(65)			(85)	
40 - 50	(33)	50		(82)			
50 - 60	17		25		(58)		
60 - 70	8	10				27	
70 - 80	2						

విశ్లేషణ పట్టిక

పనిదినాలు(CI) 0 - 10 10 - 20 20 - 30 30 - 40 40 - 50 50 - 60 60 - 70 70 - 80

విలువుగళ్ళు ↓

I				1			
II		1	1				
III			1	1			
IV			1	1	1		

V	1	1	1	1	1	1
VI		1	1	1		
మొత్తం	0	1	3	5	5	2
						1
						0

ఇందు రెండు తరగతులు ఎక్కువసార్లు కనబడుచున్నవి. అందువలన రెండు తరగతులు 30-40, 40-50 బాహుళకపు తరగతులు. దీనిని ద్విబాహుళకపు శ్రేణి అందురు. ఈ శ్రేణులలో బాహుళకాన్ని నిర్ణయించడం సాధ్యము కాదు. అందువలన బాహుళక గణనకు దిగువ సూత్రం ఉపయోగింతురు. ఈ సూత్రం  $\bar{x}$ ,  $M$ ,  $Z$  లకు గల సంబంధంపై రూపొందించినది.

$$\text{బాహుళకము}(Z) = 3 \text{ మధ్యగతము} - 2 \text{ అంకమధ్యమాలు}$$

పనిదినాలు (x)	వ్యక్తులు (f)	సంచిత పానఃపున్యము (cf)	మధ్యబిందువు x	విచలనాలు A = 35 x - A = dx	సోపానం c = 10 Dx	f Dx
0 - 10	4	4	5	- 30	- 3	- 12
10 - 20	6	10	15	- 20	- 2	- 12
20 - 30	20	30	25	- 10	- 1	- 20
30 - 40	32	62	35	0	0	0
40 - 50	33	95	45	+ 10	+ 1	33
50 - 60	17	112	55	+ 20	+ 2	34
60 - 70	8	120	65	+ 30	+ 3	24
70 - 80	2	122	75	+ 40	+ 4	8
	N = 22					$\Sigma f Dx = \left. \begin{matrix} +99 \\ -44 \end{matrix} \right\} + 55$

మధ్యగత స్థానము =  $\frac{N}{2} = \frac{122}{2} = 61$  అంశము. 61వ అంశము 62వ సంచిత పానఃపున్యము 62లో వున్నది. కాబట్టి దాని అనుబంధ తరగతి 30-40 మధ్యగత తరగతి అవుతుంది.

$$\text{మధ్యగత తరగతి} = 30 - 40$$

$$M = l_1 + \frac{\frac{N}{2} - m}{f} (l_2 - l_1)$$

$$l_1 = 30, l_2 = 40, f = 22, c = 30$$

$$M = 30 + \frac{61 - 30}{32} (40 - 30)$$

$$M = 30 + 9.6 = 39.6$$

$$\bar{x} = A + \frac{\Sigma f Dx}{N} \times c$$

$$\bar{x} = 35 + \frac{55}{122} \times 10$$

$$= 35 + \frac{550}{122}$$

$$\bar{x} = 35 + 4.5 = 39.5$$

బాహుళకము (Z) = 3 × మధ్యగతం - 2 × అంకమధ్యమం

$$Z = 3M - 2 \cdot \bar{x}$$

$$Z = (3 \times 39.6) - (2 \times 39.5)$$

$$= 118.8 - 79$$

$$Z = 39.8$$

ఉదాహరణ : ఒక పబ్లిక్ పరీక్షకు హాజరైన బాలురకు ఈ దిగువ చూపబడిన మార్కులు వచ్చినాయి. వాటి నుంచి బాహుళకాన్ని గణన చేయండి.

మార్కులు	విద్యార్థులు
0 పైన	80
10 "	77
20 "	72
30 "	65
40 "	55
50 "	43
60 "	28
70 "	16
80 "	10
90 "	8
100 "	0

యివ్వబడిన దత్తాంశము కంటే ఎక్కువ రూపంలో వున్నది. కాబట్టి సాధారణ పాసఃపున్య విభాజనం రూపంలోకి మార్పుకోవలెను. తరువాత వర్గీకృతం, విశ్లేషణ ద్వారా బాహుళక తరగతి కనుగొనవలె.

వర్గీకృత పట్టి

=11-10 °(CI) విద్యార్థులు(f) I	రెండు చొప్పున కూడగా		మూడు చొప్పున కూడగా		
	II	III	IV	V	VI
0 - 10	3				
10 - 20	5	8	15		
20 - 30	7		12	22	
30 - 40	10	17			29
40 - 50	12		22	(37)	
50 - 60	(15)	(27)			(39)
60 - 70	12		(27)		(33)
70 - 80	6	18	20		
80 - 90	2		8	16	
90 - 100	8	10			10
100 - 110	0		8		

విశ్లేషణ పట్టిక

మార్కులు	0-10	10-20	20-30	30-40	40-50	50-60	60-70	70-80	80-90	90-100	100-110
నిలువుగళ్ళు ↓											
I						1					
II					1	1					
III						1	1				
IV				1	1	1					
V					1	1	1				
VI						1	1	1			
మొత్తం	0	0	0	1	3	6	3	1	0	0	0

50-60 అత్యధికసార్లు కనిపించడం వలన దానిని బాహుళకపు తరగతిగా గుర్తించితిమి.



$$\text{బాహుళకము} = l_1 + \frac{f_1 - f_0}{2f_1 - f_0 - f_2} \times c$$

$$l_1 = 50, \quad f_1 = 15, \quad f_0 = 12, \quad f_2 = 12, \quad c = 10$$

$$\begin{aligned} \text{బాహుళకము} &= l_1 + \frac{f_1 - f_0}{2f_1 - f_0 - f_2} \times c \\ &= 50 + \frac{15 - 12}{2 \times 15 - 12 - 12} \times 10 \\ &= 50 + \frac{3}{30 - 12 - 12} \times 10 \\ &= 50 + \frac{30}{6} \\ &= 50 + 5 = 55 \end{aligned}$$

$$\text{బాహుళకము}(Z) = 55 \text{ మార్కులు}$$

ఉదాహరణ : దిగువ యిచ్చిన పట్టి నుంచి బాహుళకాన్ని గణన చేయండి.

మార్కులు	విద్యార్థులు
1-5	7
6-10	10
11-15	16
16-20	32
21-25	24
26-30	18
31-35	10
36-40	5
41-45	1
మొత్తం	123

పై పట్టిలో తరగతులు అసమగ్ర రూపంలో వున్నాయి. కాబట్టి తరగతులను పునర్నిర్మించి, వర్గీకృత - విశ్లేషణ ద్వారా బాహుళకపు తరగతి తెలుసుకోవాలి.

వర్గీకృత పట్టి

మార్కులు పునర్నిర్మించిన తరగతులలో(CI)	విద్యార్థులు I ( f )	రెండు చొప్పున కూడగా		మూడు చొప్పున కూడగా		
		II	III	IV	V	VI
0.5 - 5.5	7					
5.5 - 10.5	10	17		33		
10.5 - 15.5	16		26		(58)	
15.5 - 20.5	(32)	(48)				(72)
20.5 - 25.5	24		(56)	(74)		
25.5 - 30.5	18	42			52	
30.5 - 35.5	10		28			33
35.5 - 40.5	5	15		16		
40.5 - 45.5	1		6			
మొత్తం	131					

విశ్లేషణ పట్టిక

→ మార్కులు నిలువుగట్టు ↓	0.5-5.5	5.5- 10.5	10.5- 15.5	15.5- 20.5	20.5- 25.5	25.5- 30.5	30.5- 35.5	35.5- 40.5	40.5- 45.5
I				1					
II			1	1					
III				1	1				
IV				1	1	1			
V			1	1	1				
VI				1	1	1			
మొత్తం	0	1	3	6	3	1	0	0	0

బాహుళకపు తరగతి 15.5 - 20.5

$$\text{బాహుళకము (Z)} = \ell_1 + \frac{f_1 - f_0}{2f_1 - f_0 - f_2} \times c$$

$$l_1 = 15.5, \quad f_1 = 32, \quad f_0 = 16, \quad f_2 = 24, \quad c = 5$$

$$Z = 15.5 + \frac{32 - 16}{2 \times 32 - 16 - 24} \times 5$$

$$= 15.5 + \frac{16}{64 - 16 - 24} \times 5$$

$$= 15.5 + \frac{80}{24} = 15.5 + 3.33$$

$$Z = 18.33 \text{ మార్కులు}$$

రేఖా చిత్ర పద్ధతి - బాహుళకము : అవిచ్ఛిన్న శ్రేణులలో వున్న దత్తాంశమునకు సోపాన చిత్రము నిర్మించడం ద్వారా బాహుళకము నిర్ణయింపవచ్చు. “విభజనము యొక్క సోపాన చిత్రానికి సరస వక్రరేఖను గీస్తే ఏ బిందువు వద్ద ఈ వక్రరేఖ శిఖరాగ్రం అత్యున్నతంగా వుంటుందో ఆ బిందువు వద్ద విలువను బాహుళకంగా నిర్వచించడం సమంజసంగా కనిపిస్తుంది” అంటారు జాన్ ప్రూయిడ్ (If we fit a smooth curve to the histogram of a distribution, it seems and reasonable to define the point at which the curve is the highest as the mode of the distribution). కాబట్టి సరస వక్రరేఖను, సోపాన చిత్రం ఆధారంగా చేసుకొని గీసి ఆ రేఖ యొక్క అత్యున్నతమైన బిందువును బాహుళక స్థానంగా గుర్తించి, ఆ బిందువు నుంచి భూమికి లంబరేఖను గీస్తే బాహుళక విలువ తెలుస్తుంది.

బాహుళకాన్ని సోపాన చిత్రం ద్వారా నిర్ణయించ తలచినపుడు, మొదట తరగతి అంతరాలను  $x$  - అక్షం మీద పానః పున్యాన్ని  $y$  - అక్షం మీద గుర్తించవలె. ప్రతి తరగతి అంతరం భూమిగా, ఆ తరగతి పానఃపున్యం (పాడవు)గా భావించి దీర్ఘచతురస్రాలు గీస్తే అవి ఒకదాని సరసన ఒకటి యేర్పడును. ఇవి సోపానాల వలె ఉంటాయి కావున దీనిని సోపాన చిత్రం అంటారు.

సోపాన చిత్రంలోని గల దీర్ఘచతురస్రాలలో అత్యున్నత దీర్ఘచతురస్రానికి సంబంధించిన తరగతి బాహుళకమైన తరగతి నిర్ణయింపవచ్చు. బాహుళకపు తరగతికి ఎడమవైపు గల చతురస్రపు ఎగువ అవధి చివర నుండి (upper limit corner) బాహుళకపు తరగతి చతురస్రం యొక్క ఎగువ అవధిని కలుపుతూ ఒక సరళరేఖను గీయుము. అట్లాగే బాహుళకపు తరగతికి కుడివైపు గల తరగతి యొక్క చతురస్రపు దిగువ అవధి నుండి బాహుళకపు తరగతి దిగువ అవధిని కలుపుతూ ఒక సరళరేఖను గీయాలి. ఈ రెండు సరళరేఖలు ఒకదానినొకటి ఖండించుకొనును. అట్లా ఖండించుకొన్న బిందువుల నుండి భూమికి ( $x$ - అక్షానికి) లంబం గీస్తే అది బాహుళకాన్ని సూచిస్తుంది.

ఉదాహరణ : దిగువ యిచ్చిన దత్తాంశంలో 1964వ సం॥లో అమెరికాలోని ఒక కార్పొరేషన్ 200 మంది పని వారికి చెల్లించే వేతనాలు సూచింపబడినవి. రేఖా చిత్రం ద్వారా బాహుళకాన్ని గుర్తించండి. దీనిని సూత్రం ద్వారా సరిచూడండి.

వేతనాలు(డాలర్లలో)	45 - 55	55 - 65	65 - 75	75 - 85	85 - 95	95 - 105	105 - 115	115 - 125
పనివారు	14	40	54	46	26	12	6	2

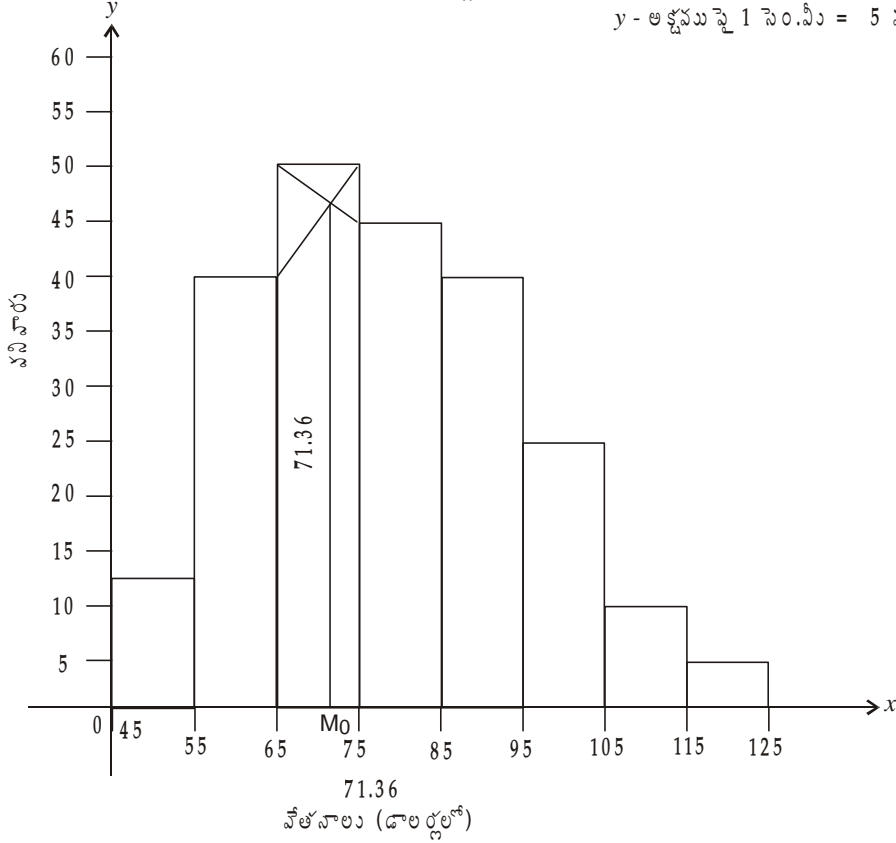
జవాబు : పై దత్తాంశములోని తరగతుల అంతరాలకు సమానమైన వెడల్పు, పానఃపున్యాలకు తగినంత ఎత్తులో దీర్ఘచతురస్రాలు నిర్మించడం వలన సోపాన చిత్రం యేర్పడినది. సోపాన చిత్రం ద్వారా బాహుళక నిర్ణయం అవిచ్ఛిన్న శ్రేణులలో మాత్రమే సాధ్యమవుతుందని గుర్తించవలెను.

సోపాన పటం - బాహుళక గణన

బాహుళకం = 71.36 డాలర్లు

స్కేలు : x - అక్షమపై 1 సెం.మీ = 10 డాలర్లు

y - అక్షమపై 1 సెం.మీ = 5 వంది వనివారు



రేఖాపటం ద్వారా వచ్చిన బాహుళకాన్ని సూత్రం ద్వారా సరిచూద్దాం. పై విభజన బాహుళకపు తరగతి 65 - 75. దీనిని వర్గీకృత, విశ్లేషణ పట్టికల ద్వారా కనుగొనాలి.

$$Z = l_1 + \frac{f_1 - f_0}{2f_1 - f_0 - f_2} \times c$$

$$l_1 = 65, \quad f_1 = 54, \quad f_0 = 40, \quad f_2 = 46, \quad c = 10$$

$$Z = 65 + \frac{54 - 40}{2 \times 54 - 40 - 46} \times 10$$

$$= 65 + \frac{14}{108 - 460 - 46} \times 10$$

$$= 65 + \frac{140}{22}$$

$$Z = 65 + 6.36 = 71.36$$

65 - 75 తరగతి అత్యున్నత సోపానాన్ని సూచించుచున్నది. ఈ దీర్ఘచతురస్రం బాహుళకపు చతురస్రం అవుతుంది. ఈ చతురస్ర కుడివైపున మూల బిందువుల నుంచి స్కేలుతో ఎడమ వైపున ఉన్న దీర్ఘచతురస్రం తాకే బిందువు వరకు స్కేలుతో కొలవాలి. అదే విధంగా డమవైపు మూల బిందువు నుంచి కుడివైపు చతురస్రం తాకే బిందువు వరకు స్కేలుతో కలపాలి. ఈ రెండు రేఖలు ఖండించుకొన్నవి. ఆ ఖండన బిందువు నుండి భూమికి గీయబడిన సరళరేఖ బాహుళకపు విలువ 71.36గా సూచించుచున్నది. సూత్రం ద్వారా కూడా యిదే విలువ సూచింపబడినది.

#### బాహుళకము - సుగుణాలు

- 1) మోడల్ సైజులు, పాపన్య అధ్యయనము చేయవలసి వచ్చినపుడు యిది చాలా మంచి సగటు.
- 2) బాహుళకాన్ని సులభంగా గణన చేయవచ్చును. పరిశీలన వల్ల కూడా (inspection) నిర్ణయింపవచ్చును.
- 3) అర్థం చేసుకోవడం సులువు.
- 4) వివరీత విలువల ప్రభావము వలన ప్రభావితము కాదు. వివరీతాంశాలున్నపుడు అంకమధ్యమం కంటే బాహుళకాన్ని ఎన్నుకొందురు.
- 5) వివృత అవధులు గల శ్రేణులలో కూడా బాహుళకాన్ని గణన చేయవచ్చును.
- 6) గుణాత్మక దృగ్విషయాలు (qualitative phenomena) వర్ణించవలసి వచ్చినపుడు బాహుళకము ఉపయోగపడును.
- 7) రేఖాపటం ద్వారా అంటే సోపాన చిత్రం ద్వారా కూడా నిర్ణయింపవచ్చును.

#### లోపములు

- 1) బాహుళకము స్పష్టంగా నిర్వచింపబడినది కాదు. అందువల్ల విభిన్న సూత్రాలు వివిధ విలువలు వచ్చే అవకాశం వుంది.
- 2) అన్ని సందర్భాల్లో బాహుళక గణన సాధ్యం కాదు. కొన్ని సమయాల్లో ద్విబాహుళకాలు, బహుబాహుళకాలు యేర్పడే పరిస్థితి కలదు.
- 3) గరిష్ట పౌనఃపున్యం గల అంశము బాహుళకంగా గుర్తించబడడం వలన శ్రేణిలోని ఇతర అన్ని అంశాలకు ప్రాధాన్యత ఇచ్చినట్లు గుర్తింపలేము.
- 4) బీజీయ సంకలనానికి సరిపోదు. ఉదాహరణకు ఒక విభాజనంలోని రెండు విభాగాల బాహుళకాలను ఇస్తే ఆ మొత్తం విభాజన బాహుళకాన్ని కనుగొనలేము.
- 5) అంకమధ్యంతో పోల్చిన బాహుళకం శ్రేణిలోని ఒడుదుడుకులకు ప్రభావితమగును.

ఈ లోపాలున్ననూ వ్యాపార, వాణిజ్య, పారిశ్రామిక రంగాలకు బాహుళకం చాలా ఉపయోగపడును. రెడిమేడ్స్, మోడల్ సైజుల నిర్ణయం, వ్యాపార ఊహలకు మార్గదర్శిగా వుండును.

#### వివిధ సగటు ప్రాముఖ్యము - ప్రయోజనాలు

- ఎ. అంకమధ్యమము : ఉత్పత్తి, రాబడి, ఎగుమతి, దిగుమతి మొదలగు సాంఘిక, ఆర్థిక, వ్యాపార సమస్యల అధ్యయనానికి అంకమధ్యమము ఉపయోగిస్తారు. సాధారణంగా సగటు అని వినియోగిస్తే అది అంకమధ్యమాన్నే సూచించును.

- బి. మధ్యగతము : ప్రత్యక్షంగా, పరిమాణాత్మకంగా తీసుకోలేని తెలివితేటలు, బీదరికము మంచితనం మొదలైన గుణాత్మక దత్తాంశాన్ని మధ్యగతాన్ని వినియోగించవచ్చు. వివృత అవధులున్న విభజనానికి మధ్యగతము అత్యుత్తమమైన సగటు.
- సి. బాహుళకము : వ్యాపార, వాణిజ్య రంగాలలో మొడల్ ప్రైజ్ దుస్తులు, జోళ్ళు తెలుసుకోవడానికి ఉపయోగపడును.
- డి. గుణమధ్యమము : సూచీ సంఖ్యల నిర్మాణము, జనాభా పెరుగుదల తెలుసుకోవడం, శ్రేణుల విస్తరణ అధికంగా వున్నప్పుడు దీనిని వినియోగింతురు.
- ఇ. హారమధ్యమము : దూరము, కాలము, రేట్లు, ధరలకు సంబంధించినంతవరకు ఇది చాలా ఉపయోగమైన సగటు. చిన్న అంశాలకు పెద్ద భారాలను ఉపయోగించవలసి వచ్చినపుడు యిది చాలా మంచి సగటు.

అన్ని సగటులు ప్రయోజనకరమైనవే. వివిధ సగటులు వివిధ సందర్భాల్లో అత్యుత్తమమైన సగటులుగా ఉంటాయి. ఎన్నుకొనే ముందు ఆయా పరిస్థితులను గుర్తించి అందుకు అనుగుణమైన సగటును ఎంపిక చేసుకోవలసి ఉంటుంది.

### 7.8 సారాంశం

గణాంక విచారణలో ఐదో దశ విశ్లేషణ, విపులీకరణ. ఈ దశలో వివిధ విశ్లేషణ ప్రమాణాలను కనుగొని వాటిని బట్టి దత్తాంశాన్ని విశ్లేషించడం జరుగుతుంది. ఈ విశ్లేషణ ప్రమాణాల్లో కేంద్రస్థానపు సగటులను ప్రథమ శ్రేణి కొలతలు అంటాము. కేంద్ర స్థానపు కొలతలు రెండు రకాలు. గణన సగటులు మరియు స్థాన సగటులు. అంకమధ్యమము, గుణమధ్యమము, హారమధ్యమాలను గణన సగటులు అంటాము. మధ్యగతం, బాహుళకాలను స్థాన సగటులు అంటాము.

దత్తాంశానికి ప్రాతినిధ్యం వహించే ఏక సంఖ్యను సగటు అంటాము. మంచి సగటు కొన్ని లక్షణాలను కలిగి వుండాలి. అయితే మంచి సగటుకు ఉండవలసిన లక్షణాలను అన్నింటినీ కలిగిన సగటు ఏదీ లేదు. కాని వివిధ సందర్భాల్లో వివిధ సగటులు ఉత్తమ సగటులుగా పరిగణించబడతాయి. ఉదా॥ వేతనానికి అంకమధ్యమం, గుణాత్మక అంశాల విషయంలో మధ్యగతం, మొడల్ కనుగొనే విషయంలో బాహుళకం etc. సాధారణంగా అతి తరచుగా ఉపయోగించే సగటు అంకమధ్యమం. ప్రతి సగటుకు కొన్ని గుణదోషాలు ఉన్నాయి. కేంద్రస్థానపు సగటులలో ప్రతి సగటుకు ఒక ప్రత్యేక స్థానం ఉంది. కొన్ని ప్రత్యేక సందర్భాల్లో వాటిని ఉపయోగించడం అనివార్యం. గణాంక విశ్లేషణలో కేంద్రస్థానపు సగటులకు ప్రయోజనం, ప్రాధాన్యత వున్నను వీటి ప్రయోజనం పరిమితమైనది. ఇవి దత్తాంశానికి ప్రాతినిధ్యమిచ్చే ఒక సంఖ్యను ఇవ్వగలవు గాని దత్తాంశ పంపిణీ ఏ విధంగా వున్నదీ, దత్తాంశ విస్తృతి తెలియజేయలేవు. అందుచేత ద్వితీయ శ్రేణి సగటులు లేదా విస్తరణ మానాలను కనుగొనటం జరిగింది. వీటిని గురించి తరువాత పాఠంలో చదువుకుందాం.

### 7.9 ముఖ్యపదాలు

1. సగటు : దత్తాంశానికి ప్రాతినిధ్యం వహించు ఏక సంఖ్య.
2. భారిత అంకమధ్యమం : విభజనంలోని వివిధ అంశాల సాపేక్షిత భారాల ప్రాతిపదికగా రూపొందించే అంకమధ్యమాన్నే భారిత అంకమధ్యమం అంటారు.
3. ఓజివ్ వక్రరేఖలు : ఓజివ్ వక్రరేఖలనే సంచిత పౌనఃపున్య వక్రరేఖలు అంటారు. వీటి ద్వారా మధ్యగతం, మధ్యగతం మీద ఆధారపడి వున్న కొలమానాలు కనుగొనవచ్చు.

4. హరమధ్యమము : విభాజనంలోని అంశాల వ్యత్రమాల అంకమధ్యమానికి వ్యత్రమమే హరమధ్యమం అంటారు.
5. గుణమధ్యమం : 'N' అంశాల వర్గానికి N వర్గమూలమే గుణమధ్యమం అంటారు.

### 7.10 నమూనా ప్రశ్నలు

వ్యాసరూప ప్రశ్నలు :

1. కేంద్రస్థానపు కొలతలు అంటే ఏమిటి ? వాని గణన పద్ధతులను తెల్పుము.
2. మంచి సగటుకు ఉండవలసిన లక్షణాలను తెల్పి, పై లక్షణాలు గల సగటును సమర్థించండి.
3. సాధారణ సగటు, భారిత సగటు మధ్యగల తేడాలను గుర్తించి, ఏ పరిస్థితులలో ఏ సగటు, వినియోగించవలెనో తెల్పుము.
4. మధ్యగతాన్ని వివిధ శ్రేణుల్లో కనుగొను విధానాన్ని తెలిపి, మధ్యగత గుణ దోషాలనెన్నుము.
5. బాహుళక ప్రయోజనాలు, లోపాలు తెల్పుము.
6. దిగువ విభాజనము నుండి అంకమధ్యమము, మధ్యగతము, బాహుళకాలను కనుగొనండి.

స్త్రీల ఎత్తు (సెం.మీ.లలో)	150	153	156	159	162	165	168
స్త్రీల సంఖ్య	27	146	435	398	210	128	98

7. దిగువ దత్తాంశము నుండి మధ్యగతము, బాహుళకము, రెండు చతుర్థాంశాలు గణన చేయండి.

వయస్సు	20-25	25-30	30-35	35-40	40-45	45-50	50-55	55-60
వ్యక్తులు	50	70	100	180	150	120	70	60

8. దిగువ విభాజనము నుండి రేఖా చిత్రపటం ద్వారా బాహుళకాన్ని కనుగొనండి.

తరగతులు	1-9	9-17	17-25	25-33	33-41	41-49	49-57
పానఃపున్యము	20	31	27	15	10	7	8

9. దిగువ యివ్వబడిన దత్తాంశము నుండి రేఖా చిత్ర పటం ద్వారా మధ్యగతము, బాహుళకాలను కనుగొని, గణన చేసి సరిచూడండి.

ఉత్పత్తి	స్థాంటుల సంఖ్య
0 పైన	216
60 పైన	210
120 పైన	158
180 పైన	98
240 పైన	57

300 పైన	31
360 పైన	13
420 పైన	7

10. (ఎ) గుణమధ్యమ ప్రయోజనాలు, లోపాలు వివరించండి.

(బి) దిగువ దత్తాంశమునుంచి గుణమధ్యమాన్ని గణన చేయండి.

6.5, 169.0, 11.0, 112.5, 14.2, 75.5, 35.5, 215.0

11. దిగువ విభజనము నుండి 3వ దశాంశము, రెండు చతుర్థాంశాలు మధ్యగతము గణన చేయండి. ఫలితాలను రేఖాచిత్ర పద్ధతి ద్వారా సరిచూడండి.

తరగతులు	పానఃపున్యము
57.5 - 60.0	6
60.0 - 62.5	26
62.5 - 65.0	190
65.0 - 67.5	281
67.5 - 70.0	412
70.0 - 72.5	127
72.5 - 75.0	38

12. గుణమధ్యమానికి, హరమధ్యమానికి నిర్వచనాలు ఇవ్వండి. దిగువ ఇచ్చిన సాపేక్ష ధరల (price Relatives) నుంచి గుణమధ్యమాన్ని గణన చేయండి.

వస్తువు (Commodity)	సాపేక్ష ధరలు (price Relatives)
గోధుమ	207
బియ్యము	198
పప్పుదినుసులు	156
పంచదార	124
ఉప్పు	197
నూనెలు	196

13. దిగువ ఒక ప్రాంతానికి చెందిన 20 కుటుంబాల రాబడులు యివ్వడం జరిగింది.

రూ. 2000,	35,	400,	15,	40,	1500,	300,	6,	90,	250
20,	12,	450,	10,	150,	8,	25,	30,	1200,	60,

పై రాబడుల నుంచి గుణమధ్యమము, హరమధ్యమము గణనచేయండి.

14. దిగువ యిచ్చిన అంశాల నుంచి -



(1) అంకమధ్యమము (2) గుణమధ్యమము (3) హరమధ్యమాన్ని గణన చేయండి.

“375.5, 153.4, 28.5, 12.01, 4.5, 3.74, 12.79, 35, 41.9, 58”

15. “-- కంటే ఎక్కువ”, “-- కంటే తక్కువ” సంచిత పౌనఃపున్య వక్రరేఖలను గీసి, తద్వారా మధ్యగతాన్ని కనుక్కోండి. సూత్రాన్ని ఉపయోగించి మీ ఫలితాన్ని సరిచూచుకోండి.

సరాసరి రాబడులు	పనిచేసే వారి సంఖ్య
25 - 28	10
28 - 31	23
31 - 34	26
34 - 37	19
37 - 40	10
40 - 43	8
43 - 46	4

16. దిగువ దత్తాంశము నుంచి ఓజివ్ వక్రరేఖను (Ogive curve) గీసి, దాని నుంచి మధ్యగతము, రెండు చతుర్థాంశాలు కనుక్కోండి. సూత్రం ద్వారా గణన చేసి మీ ఫలితాలను సరిచూచుకోండి.

మార్కులు	విద్యార్థుల సంఖ్య
0 - 10	33
10 - 20	108
20 - 30	221
30 - 40	439
40 - 50	526
50 - 60	495
60 - 70	322
70 - 80	153
80 - 90	53
90 - 100	7

17. దిగువ అంశాల నుంచి గుణమధ్యమము, హరమధ్యమము కనుక్కోండి.

1238, 178.7, 89.9, 78.4, 9.7, 0.874, 0.989, 0.012, 0.0008, 0.0009

18. మూడు విశ్వవిద్యాలయాల ఫలితాలు ఈ దిగువ పట్టిలో యివ్వడం జరిగింది. అందులో అత్యున్నతమైన విశ్వవిద్యాలయం ఏదో కనుక్కోండి. మీ సమాధానానికి సరియైన కారణాలివ్వండి.

విశ్వవిద్యాలయ పరీక్ష	ఫలితాల శాతాలు		
	A	B	C
M.A.	80	75	70
M.Sc.	70	70	60
B.A.	65	80	70
B.Sc.	60	60	80
B.Com.,	75	65	70

19. దిగువ పట్టిలో ఇచ్చిన దత్తాంశం నుంచి అంకమధ్యమాన్ని, మధ్యగతాన్ని గణన చేయండి.

ఉత్పత్తి	స్థాంతుల సంఖ్య
Over 0 - పైన	216
60 - పైన	210
120 - పైన	156
180 - పైన	98
240 - పైన	57
300 - పైన	31
360 - పైన	13
420 - పైన	7

20. 1957 సంవత్సరంలో A అనే దేశంలో కుటుంబ యజమానుల వయో విభజనాలు (Age distributions) యివ్వడం జరిగింది.

కుటుంబ యజమాని వయస్సు	సంఖ్య లక్షలలో
Under - 25 లోపు	22.2
25 - 29	40.5
30 - 34	50.8
35 - 44	104.5
45 - 54	94.7
55 - 64	66.3
65 - 74	41.6
75 - పైన	16.6
	<b>437.5</b>

పై దత్తాంశము నుంచి మధ్యగతాన్ని గణన చేయండి. ఇక్కడ అంకమధ్యమం కంటే మధ్యగతము మిన్న (better) అని అభిప్రాయపడుతున్నారా? అట్లాగయితే కారణాలేమిటి?

21. 100 టోమాటా మొక్కలలో పూర్తి స్వరూపం గల కాయలను లెక్కించగా ఈ దిగువ యిచ్చిన ఫలితాలు వచ్చినాయి. వాటి నుంచి బాహుళకాన్ని గణన చేయండి.

2 మొక్కలు	0 వున్న టోమోటాలు
5    "	1    "
7    "	2    "
11   "	3    "
18   "	4    "
24   "	5    "
12   "	6    "
8    "	7    "
6    "	8    "
4    "	9    "
3    "	10   "

22. దిగువ యిచ్చిన పానఃపున్య విభజనం నుంచి బాహుళకాన్ని, మధ్యగతాన్ని, రెండు చతుర్థాంశాలను కనుక్కోండి.

తరగతి	పానఃపున్యము
1 - 10	9
10 - 19	13
19 - 28	86
28 - 37	239
37 - 46	120
46 - 55	46
55 - 64	12

23. దిగువ విభజనం నుంచి 3వ దశాంశము, రెండు చతుర్థాంశాలు, మధ్యగతాన్ని గణన చేయండి. మీకొచ్చిన ఫలితాలను రేఖాచిత్ర పద్ధతి ద్వారా సరిచూడండి.

తరగతి	పానఃపున్యము
57.5 - 60.0	6
60.0 - 62.5	26
62.5 - 65.0	190
65.0 - 67.5	281
67.5 - 70.0	412
70.0 - 72.5	127
72.5 - 75.0	38

24. దిగువ దత్తాంశములో విద్యార్థులు నెలసరి ఖర్చులు యివ్వడం జరిగింది. వాటి నుంచి గుణమధ్యమము హరమధ్యమము గణన చేయండి.

రూ. 125-00,	130-00,	75-00,	10-00,	45-00
5-00	0-50,	0-40,	500-00,	150-00

**సంక్షిప్త ప్రశ్నలు**

1. అంకమధ్యమం
2. భారిత అంకమధ్యమం
3. మధ్యగతం
4. బాహుళకం
5. హరమధ్యమం
6. గుణమధ్యమం
7. కేంద్రస్థానపు కొలతలు
8. మంచి సగటుకు ఉండవలసిన లక్షణములు
9. సోపాన పటం
10. ఓజివ్ వక్రరేఖలు

**7.11 చదువదగిన గ్రంథాలు**

B.N. Elhance	:	Fundamentals of Statistics
S.P. Gupta	:	Statistical Methods
C.B. Gupta	:	An Introduction to Statistical Methods
S.C. Gupta	:	Fundamentals of Statistics
M.C. Shukla & S.S. Gulshan	:	Statistics - Theory and Practice

**పాఠ్యంశ నిర్మాణక్రమం**

- 8.0 లక్ష్యాలు
- 8.1 విషయపరిచయం
- 8.2 విస్తరణ మానాలు
  - 8.2.1 విస్తరణ మానాలు - ఉద్దేశాలు
  - 8.2.2 ఆదర్శ విస్తరణ మానము - లక్షణాలు
  - 8.2.3 విస్తరణ మానాలు
- 8.3 వివిధ విస్తరణ మానాలు
  - 8.3.1 వ్యాప్తి
  - 8.3.2 చతుర్థాంశ విచలనం
  - 8.3.3 మాధ్యమిక విచలనం
  - 8.3.4 ప్రామాణిక విచలనం లేదా క్రమచలనం
  - 8.3.5 లోరెంజ్ వక్రరేఖ
- 8.4 సారాంశం
- 8.5 ముఖ్య పదాలు
- 8.6 నమూనా ప్రశ్నలు
- 8.7 చదువదగిన గ్రంథాలు

**8.0 లక్ష్యాలు**

ఈ పాఠ్యభాగం చదివిన తరువాత మీరు ఈ క్రింది విస్తరణమానాలను గురించి తెలుసుకుని, గణించగలరు.

- \* విస్తరణ మానాలు అంటే ఏమిటి? పరమ, సాపేక్ష విస్తరణ మానాల మధ్య తేడాను తెలుసుకొనుట.
- \* వ్యాప్తి, వ్యాప్తి గుణకాల గణన పద్ధతి, వ్యాప్తి కొలమానంలో గుణ దోషాలు
- \* చతుర్థాంశ విచలనం, చతుర్థాంశ విచలన గుణకాల, గణన పద్ధతి, చతుర్థాంశ విచలన కొలమానంలో గుణ దోషాలు
- \* మాధ్యమిక విచలనం, మాధ్యమిక విచలన గుణకాల, గణన పద్ధతి, మాధ్యమిక విచలన కొలమానంలో గుణదోషాలు
- \* ప్రామాణిక విచలనం, ప్రామాణిక విచలన గుణకం, విచరణ గుణకం, వీటిని గణించే పద్ధతి, ప్రామాణిక విచలన గుణదోషాలు
- \* ఉమ్మడి ప్రామాణిక విచలనం గణన
- \* లోరెంజ్ వక్ర నిర్మాణం

### 8.1 విషయపరిచయం

గత పాఠంలో కేంద్రస్థానపు కొలతలు లేదా కేంద్ర స్థానపు సగటులను గూర్చి చదువుకున్నాం. విశ్లేషణ పద్ధతులలో కేంద్రస్థానపు కొలతలు ప్రథమ శ్రేణి సగటులు అని విస్తరణ మానాలను ద్వితీయ శ్రేణి సగటులని అంటారు. కేంద్ర స్థానపు సగటుల ద్వారా దత్తాంశానికి శ్రేణులకు ప్రాతినిధ్యం వహించే ఒక సంఖ్యను మనం రూపొందించడం జరిగింది. అయితే ఆ సంఖ్య శ్రేణులకు సంబంధించిన పంపిణీని లేదా శ్రేణులు కేంద్రస్థానానికి ఏ విధంగా పంపిణీ అయ్యాయి అనే విషయాన్ని గురించి వివరించలేవు. మరో విధంగా, మనం కనుగొనిన కేంద్రస్థానపు కొలత దత్తాంశానికి ఎంత వరకు ప్రాతినిధ్యం వహిస్తుందనే విషయం తెలుసుకోవటం కూడా అవసరం.

శ్రేణులు లేదా పాఠశాల విభజనాలన్నీ ఒకే విధంగా వుండకపోవచ్చు. వివిధ శ్రేణుల్ని పోల్చవలసి వచ్చినప్పుడు ప్రథమ శ్రేణి సగటులు లేదా కేంద్రస్థానపు సగటులు ఉపయోగపడకపోగా తప్పుదారి పట్టించే విధంగా కూడా వుంటాయి. అందుచేత కేంద్రస్థాన కొలతల ద్వారా తెలుసుకోలేని గుణాలను తెలుసుకునే ఉద్దేశంతో 'విస్తరణ మానాలు' రూపొందించబడ్డాయి. కేంద్ర స్థానపు కొలతకు, అసలు దత్తాంశంలోని విలువలకు గల వ్యత్యాసము లేదా తేడా లేదా విచరణను కనుగొనే మానాలనే విస్తరణ మానాలు అంటారు. విస్తరణ మానాలు ఐదు రకాలు. వ్యాప్తి, చతుర్థాంశ విచలనం, మాధ్యమిక విచలనం, ప్రామాణిక విచలనం, లోరెంజ్ వక్రం. లోరెంజ్ వక్రము రేఖా పద్ధతి, మిగిలినవన్నీ గణన పద్ధతులు. ఈ పాఠంలో మనం విస్తరణ అంటే ఏమిటి? మరియు వివిధ విస్తరణ మానాలను గూర్చి తెలుసుకుందాం.

### 8.2 విస్తరణ మానాలు (Measure of Dispersion)

కేంద్రస్థాన సగటులు దత్తాంశానికంటే ప్రాతినిధ్యము వహించే 'ఏక సంఖ్య'. (Single figure)లను రూపొందించగలిగినవి కాని ఆ 'ఒక్క' సంఖ్య దత్తాంశానికి సంబంధించిన పూర్తి సమాచారాన్ని వెల్లడి చెయ్యలేదు. అంటే శ్రేణులలోని అంశాలు ఏ విధంగా పంపిణీ చెందినాయి? అవి కేంద్రస్థాన కొలత చుట్టూ ఎట్లా విస్తృతి చెందాయి? అనే విషయాలను స్పష్టపరచలేవు. సగటు శ్రేణికి ఎంత ప్రాతినిధ్యము వహిస్తుంది అనేది తెలుసుకోవడానికి శ్రేణులను మరికొంత వర్ణించడం తప్పనిసరి అయ్యింది. అందుకోసం విస్తరణను తెలుసుకోవలసిన ఆవశ్యకత వుంది.

ఒక్కొక్కప్పుడు రెండు లేదా మూడు విభజనాలు కేంద్రస్థానం సమానంగా వుండవచ్చు. కాని ఆ విభజనాల స్వరూపాలలో (formation) చాలా పెద్ద తేడాలుండవచ్చు. ఉదా || A, B, C అనే మూడు శ్రేణులను కింద చూపడం జరిగింది.

శ్రేణులు	అంశాలు	Total (అంశాల మొత్తం)	$\bar{x}$ (అంకమధ్యమం)
A	15, 15, 15, 15, 15, 15, 15, 15, 15,	135	15
B	11, 12, 13, 14, 15, 16, 17, 18, 19,	135	15
C	3, 6, 9, 12, 15, 18, 21, 24, 27	135	15

పై శ్రేణులలో ఒక్కొక్క దానిలో 9 అంశాలు వున్నవి. అంకమధ్యమం ( $\bar{x}$ ) 15గానే వున్నది. కాని స్వరూపాలలో తేడాలు కలిగియున్నవి. A శ్రేణి స్థిరత్వం కలిగియున్నది. B శ్రేణిలో కొంత విస్తరణ చూడగలము. C శ్రేణిలో ఎక్కువ విస్తరణ స్పష్టమగుచున్నది. C శ్రేణితో పోల్చినప్పుడు B శ్రేణిలో సజాతీయత ఎక్కువగా కనబడుచున్నది. అదే విధంగా C శ్రేణి B శ్రేణి కంటే ఎక్కువ విజాతీయత కనబడుచున్నది. కేంద్రస్థాన విలువకు, అసలు విభజనంలో గల అంశాలకు వున్న తేడాను విస్తరణ అంటారు. పై విభజనంలో C విభజనం హెచ్చు విస్తరణను కలిగిందని చెప్పవచ్చు.

పంపిణీలో విస్తరణ అనే ప్రధాన గుణాన్ని తెలుసుకోవడానికి ఉపయోగపడే మానాలనే విచరణమానాలు (Measures of Variation) అంటారు. “కేంద్రస్థాన విలువకు అసలు విభజనంలో గల అంశాలకు వున్న తేడా లేదా విచరణ (Variation) తెలుసుకునే మానాన్ని (Measure) విచారణ మానము లేదా విస్తరణ (Dispersion) అంటారు” అని మిల్స్ మహాశయుడు నిర్వచించెను.

పౌనఃపున్య విభజనాలన్ని ఒకే విధంగా వుండడం అరుదు. ఒక్కొక్కప్పుడు వాటిలో ఒకదానితో ఒకటి పోల్చవలసి వచ్చినపుడు కేంద్రస్థాన విలువలు లేక ప్రథమ శ్రేణి సగటులు (Averages of the first order) కొన్ని సందర్భాల్లో తప్పదారి పట్టించేవిగా వుంటాయి. అటువంటప్పుడు, కేంద్రస్థాన విలువలకు విభజనంలో గల అంశాలకు తేడాలు తెలుసుకొని తద్వారా విభజనం యొక్క స్వరూపం తెలుసుకునే పద్ధతిని విస్తరణ (Dispersion) తెలుసుకోవడం అంటారు. వీనిని ద్వితీయశ్రేణి సగటులని (Averages of second order) అని కూడా అంటారు. విస్తరణ ఎంత తక్కువగా వుంటే సగటు ప్రాతినిధ్యం అంత ఎక్కువగా వుంటుంది. విస్తరణనే విచరణ (Variation) లేదా విస్తృతి(Scatter) అని కూడా అంటారు.

**8.2.1 విస్తరణ మానాలు - ఉద్దేశాలు (Objectives of Measure of Variation) :** కింది లక్ష్యాల సాధన కోసం విస్తరణ మానాలను రూపొందించడం జరిగింది.

- (1) సగటు యొక్క విశ్వసనీయత (Reliability) తెలుసుకోవడానికి : సగటు దత్తాంశానికి ఎంత వరకు ప్రాతినిధ్యము వహిస్తుందో విస్తరణ మానాల ద్వారా తెలుసుకోవచ్చు. విస్తరణ తక్కువైతే సగటు వ్యక్తిగత విలువలకు చాలా సన్నిహితంగా వున్నదని, అప్పుడు సగటును విశ్వసించవచ్చు. ఒకవేళ విస్తరణ ఎక్కువైతే, సగటు వ్యక్తిగత విలువలకు దూరమై అంత విశ్వసించదగినవిగా వుండదు.
- (2) విచరణతత్వాన్ని అదుపులో వుంచడానికి : విచరణ తత్వాన్ని నియంత్రించేందుకు యిది పనిచేస్తుంది. ఆరోగ్య విషయాలలో శరీర ఉష్ణోగ్రత లేదా రక్తపోటులలో అధిక విచరణం కనుపించినపుడు అదుపులో వుంచడానికి ప్రయత్నిస్తాము. అలాగే ఉత్పత్తి, యింజనీరింగ్ తదితర సమస్యలలోను విస్తరణమానం ఆధారంగా విస్తృతానికి గల కారణాలను అదుపులో వుంచుతాము.
- (3) సరిపోల్చటానికి : విచరణతత్వాన్ని అనుసరించి రెండు లేదా అంతకంటే ఎక్కువ శ్రేణులను సరిపోల్చవచ్చు. ఒక విషయాన్ని గురించి సేకరించిన దత్తాంశం యొక్క స్థిరత్వం తెల్పుటకు ఉపయోగపడును.

**8.2.2 ఆదర్శ విస్తరణ మానము - లక్షణాలు (Characteristics of an Ideal Measure of Dispersion) :** మంచి సగటుకు ఉండవలసిన లక్షణాలే మంచి లేదా ఆదర్శ విస్తరణ మానము లక్షణాలుగా చెప్పవచ్చు. అవి :

- (1) అది స్పష్టంగా నిర్వచించబడవలె.
- (2) సులభంగా అర్థం చేసుకొనుటకు, గణన చేయుటకు వీలు కలిగియుండవలె.
- (3) శ్రేణిలోని అన్ని చలనాలపై ఆధారపడియుండవలె.
- (4) బీజీయ ప్రస్తావనకు లేదా గణితశాస్త్ర ప్రక్రియకు అనువైనదిగా యుండవలె.
- (5) ప్రతిచయనంలో ఉండే ఒడుదుడుకులకు అతి స్వల్పంగా మాత్రమే ప్రభావితమయ్యేదిగా వుండవలె.
- (6) శ్రేణిలో గల విపరీతాంశాల ప్రభావానికి ప్రభావితము కానిదై వుండవలె. ఈ లక్షణాలు కలిగివున్న విస్తరణమానాన్ని ఆదర్శ విస్తరణ మానంగా చెప్పవచ్చు.

**8.2.3 విస్తరణ మానాలు :** విస్తరణమానాల స్వరూపాలు రెండు విధాలుగా వుంటాయి. చలరాశులను సరిపోల్చే స్థితినిబట్టి పరమ లేదా సాపేక్ష మానాలను ఉపయోగించడం జరుగుతుంది.

- (1) **పరమ విస్తరణ మానాలు (Absolute measures of Dispersion) :** అసలు దత్తాంశము ఏ గణాంక ప్రమాణాలలో వున్నదో పరమ మానాలు కూడా ఆ గణాంక ప్రమాణంలోనే ఉంటాయి. ఉదాహరణకు ఒక తరగతిలోని విద్యార్థుల సగటు బరువు 40 కి.గ్రా. అయితే దాని విస్తరణ కూడా కిలోగ్రాములలో చెప్పబడును. అలా చెప్పడాన్ని పరమ విస్తరణ మానమంటారు. అందువల్ల విస్తరణ మానం ఆధారంగా దత్తాంశాలను సరిపోల్చడం అన్ని సందర్భాల్లో సాధ్యపడదు.
- (2) **సాపేక్ష మానాలు (Relative Measures of Dispersion) :** సాపేక్షిక విస్తరణ మానాన్ని విస్తరణ గుణకం (Coefficient) అని కూడా వ్యవహరిస్తారు. సగటుకు, విస్తరణకు మధ్య గల నిష్పత్తే సాపేక్షిక మానము. పరమ విస్తరణ కొలతలను ఒక కేంద్ర స్థానపు కొలతతో లేదా మరేదైనా విలువతో భాగిస్తే వచ్చే విలువ సాపేక్ష విస్తరణ కొలత. సాధారణంగా సాపేక్షిక విస్తరణ కొలతలను కనుక్కోవడానికి ఏ కేంద్రస్థాన కొలతలను తీసుకుంటామో దానితోనే పరమ విస్తరణ కొలతలను భాగించడం జరుగుతుంది. పరమ విస్తరణ మానం ద్వారా వచ్చు విలువ శుద్ధ సంఖ్య. శ్రేణులను సరిపోల్చుటకు అన్ని సందర్భాల్లో సాపేక్ష మానాలు తోడ్పడును.

**8.3 వివిధ విస్తరణ మానాలు (Measures of Dispersion)**

విస్తరణ మానాలు ఐదు రకాలు. విస్తరణ మానాల పరమ, సాపేక్ష స్వరూపాన్ని కింద చూపడం జరిగింది.

పరమ మానాలు	సాపేక్ష మానాలు
(1) వ్యాప్తి (Range)	(1) వ్యాప్తి గుణకం
(2) చతుర్థాంశ విచలనము (Quantile Deviation)	(2) చతుర్థాంశ విచలన గుణకం
(3) మాధ్యమ విచలనము (Mean deviation)	(3) మాధ్యమిక విచలన గుణకం
(4) క్రమ లేదా ప్రామాణిక విచలనము (Standard deviation)	(4) క్రమ లేదా ప్రామాణిక విచలన గుణకం లేదా విచరణ గుణకం,
(5) లోరెంజి వక్రము (Lorenz Curve)	(5) ఇది రేఖా చిత్ర పద్ధతి.

మొదటి రెండు స్థానాలలో విచలనాలపై ఆధారపడడం వలన వానిని స్థానపరమైన కొలత ప్రమాణాలందురు.

చివరిదైన లోరెంజి వక్రము గ్రాఫ్ పద్ధతిలో శ్రేణులలోని చలనాన్ని అధ్యయనం చేయును.

**8.3.1 వ్యాప్తి (Range) :** దత్తాంశములో గల “అత్యధిక, అత్యల్ప విలువల తేడాను వ్యాప్తి” అని యూల్, కెండాల్ మహాశయులు నిర్వచించిరి. (Range is defined as "the difference between the greatest and the lowest value"). ఉదాహరణకు : ఒక కర్మాగారంలో పనిచేసే కూలివాని వేతనాలు వారంలో రూ. 3, 2, 4, 5, 3, 7 అయిన, వాని రాబడి వ్యాప్తి = (7 - 2) = 5 (Range) అనగా అత్యధిక రాబడి రూ. 7॥ నుంచి అతి స్వల్ప రాబడి రూ. 2 తీసివేస్తే రూ. 5॥లను వ్యాప్తి అంటాము.

$$\text{వ్యాప్తి} = X_{\max} - X_{\min}$$

$$X_{\max} = \text{శ్రేణిలోని గరిష్ట విలువ, } X_{\min} = \text{శ్రేణిలోని కనిష్ట విలువ}$$

అవిచ్ఛిన్న శ్రేణులలో వ్యాప్తి = అత్యధిక తరగతి యొక్క ఎగువ అవధి - అత్యల్ప వ్యవధి యొక్క దిగువ అవధి



వ్యాప్తి అనేది నిరపేక్షమైన విస్తరణ మానము. దత్తాంశము యే కొలత ప్రమాణంలో వుంటే వ్యాప్తి కూడా అదే కొలత ప్రమాణంలో వుండును. అందువల్ల రెండు శ్రేణులు ఒకే కొలత ప్రమాణంలో వున్నప్పుడు మాత్రమే వానిని పోల్చుటకు వీలు పడుతుంది. కాని వేరు వేరు కొలత ప్రమాణాలలో గల శ్రేణులను పోల్చుటకు సాపేక్ష విస్తరణ మానమును వినియోగించవలె. దానిని వ్యాప్తి గుణకమందురు.

### 8.3.1 వ్యాప్తి గుణకము (Coefficient of Range) :

విభజనంలోని అత్యధిక ( $X_{\max}$ ), అత్యల్ప విలువల ( $X_{\min}$ ) మధ్య వ్యత్యాసాన్ని ఆ రెండింటి మొత్తంతో భాగిస్తే వచ్చు విలువను వ్యాప్తి గుణకం అంటారు. ఇది వ్యాప్తికి సాపేక్ష మానం.

$$\text{వ్యాప్తి గుణకము} = \frac{X_{\max} - X_{\min}}{X_{\max} + X_{\min}}$$

$$X_{\max} = \text{శ్రేణిలోని అత్యధిక} / \text{గరిష్ట విలువ}$$

$$X_{\min} = \text{శ్రేణిలోని అత్యల్ప} / \text{కనిష్ట విలువ}$$

#### 8.3.1.2 వ్యాప్తి - సుగుణాలు

- 1) విస్తరణను గణన చేయు సులభమైన విధానము కాని దీనిని ఒక బండ పద్ధతి అంటారు.
- 2) అర్థం చేసుకోవడం కూడా సులువు.
- 3) ఇది నిర్దిష్టముగా నిర్వచింపబడినది.
- 4) గణన చాలా సులువు కావున విస్తరణను అతి త్వరితంగా కనుగొనవచ్చు.

ఉదాహరణ - 1 : దిగువ దత్తాంశము నుంచి వ్యాప్తి, వ్యాప్తి గుణకాన్ని గణన చేయండి.

నెలలు	నెలవారీ ఆదాయము (రూ॥లలో)
1	139
2	150
3	151
4	151
5	157
6	158
7	160
8	161
9	162
10	162
11	173
12	175

జవాబు : అత్యధిక ఆదాయము ( $X_{\max}$ ) = రూ. 175-00

అత్యల్ప ఆదాయము ( $X_{\min}$ ) = రూ. 139-00

వ్యాప్తి =  $X_{\max} - X_{\min} = 175 - 139 =$  రూ. 36

వ్యాప్తి గుణకము =  $\frac{X_{\max} - X_{\min}}{X_{\max} + X_{\min}} = \frac{175-139}{175+139} = \frac{36}{314} = 0.115$

ఉదాహరణ 2 : కింది సమాచారానికి వ్యాప్తి, వ్యాప్తి గుణకాన్ని కనుక్కోండి.

అంశములు	పానఃపున్యం
5	7
6	12
7	20
8	18
9	10
10	4

వ్యాప్తి (Range) = అత్యధిక విలువ ( $X_{\max}$ ) - అత్యల్ప విలువ ( $X_{\min}$ )

$$X_{\max} = 10, X_{\min} = 5$$

$$\text{వ్యాప్తి} = 10 - 5 = 5$$

వ్యాప్తి గుణకం =  $\frac{X_{\max} - X_{\min}}{X_{\max} + X_{\min}} = \frac{10-5}{10+5}$

$$\text{వ్యాప్తి గుణకం} = \frac{5}{15} = 0.33$$

ఉదాహరణ 3 : కింది సమాచారానికి వ్యాప్తి, వ్యాప్తి గుణకాన్ని కనుక్కోండి.

మార్కులు	విద్యార్థుల సంఖ్య
0 - 10	4
10 - 20	5
20 - 30	7
30 - 40	10
40 - 50	6
50 - 60	2

వ్యాప్తి (Range) = అత్యధిక విలువ ( $X_{\max}$ ) - అత్యల్ప విలువ ( $X_{\min}$ )

$$X_{\max} = 60, X_{\min} = 0$$

$$\text{వ్యాప్తి} = 60 - 0 = 60 \text{ మార్కులు}$$

$$\text{వ్యాప్తి గుణకం} = \frac{X_{\max} - X_{\min}}{X_{\max} + X_{\min}} = \frac{60-0}{60+0}$$

$$\text{వ్యాప్తి గుణకం} = 1.$$

ఉదాహరణ 4 : 50 మంది వయస్సు వివరాలు దిగువ శ్రేణిలో యివ్వబడినవి. వారి వయస్సు వ్యాప్తి, వ్యాప్తి గుణకాన్ని గణన చేయండి.

వయస్సు	16 - 20	21 - 25	26 - 30	31 - 35
వ్యక్తులు	10	15	17	8

జవాబు : వయస్సుకు సంబంధించిన చలాంకము అసమగ్రరూపంలో పంపిణీ చేయబడినది. దానిని సమగ్రరూపంలోకి మార్చవలె.

$$\text{అప్పుడు మొదటి తరగతి} \quad 15.5 - 20.5$$

$$\text{చివరి తరగతి} \quad 30.5 - 35.5$$

$$\text{అత్యధిక విలువ} (X_{\max}) = 35.5$$

$$\text{అత్యల్ప విలువ} (X_{\min}) = 15.5$$

$$\text{వ్యాప్తి} = X_{\max} - X_{\min} = 35.5 - 15.5 = 20 \text{ సం॥లు}$$

$$\text{వ్యాప్తి గుణకము} = \frac{X_{\max} - X_{\min}}{X_{\max} + X_{\min}} = \frac{35.5 - 15.5}{35.5 + 15.5} = \frac{20}{51} = 0.39$$

### 8.3.1.3 లోపములు

1. వ్యాప్తి శ్రేణిలో గల అన్ని చలనాలపై ఆధారపడదు. కేవలం అత్యధిక, అత్యల్ప చలనాలపై మాత్రమే ఆధారపడం వలన వానిలో యేర్పడే ఒడుదుడుకులకు ప్రభావితమగును. అందువలన విశ్వసనీయమైన విస్తరణ మానంగా పరిగణింపలేము.
2. ప్రతిచయనంలోని ఒడుదుడుకులకు విపరీతంగా ప్రభావితమగును.
3. వ్యాప్తి అత్యధిక, అత్యల్ప విలువల మధ్య దత్తాంశ నిర్మాణాన్ని లేక పంపిణీని పరిగణనలోనికి గ్రహింపదు. అందువలన దీని విశ్వసనీయత పరిమితము.
4. వివృత అవధులు గల పౌనఃపున్య విభాజనాలలో వినియోగించడం సాధ్యపడదు.
5. గణిత విశ్లేషణకు నిలువలేదు.
6. ప్రతిచయన పరిమాణాన్ని బట్టి మార్పు చెందుచుండును.
7. W.I. King చెప్పినట్లు దీనిని ఆచారణాత్మక ప్రమాణంగా గ్రహింపలేము.

**8.3.1.4 ఉపయోగాలు :** పైన పేర్కొన్నట్లుగా తక్కువ సుగుణాలు, ఎక్కువ లోపాలు వున్ననూ, వాస్తవ ప్రపంచంలో వ్యాప్తి వల్ల అనేక ప్రయోజనాలున్నవి.

1. స్టాక్ మార్కెట్లో మార్పులు, ద్రవ్యరేట్లు, విదేశ మారకపు రేఖకు సంబంధించిన విస్తరణ అధ్యయనానికి ఉపయోగపడును.
2. వస్త్రాత్పత్తికి సంబంధించిన పరిశ్రమలలో క్వాలిటీ కంట్రోలునకు అనగా కంట్రోల్ చార్ట్ ఆఫ్ రేంజి (Control Chart of Range) ద్వారా సహాయపడును.
3. దైనందిన కార్యకలాపాలైన డిపార్టుమెంట్ల స్టోర్లో రోజువారీ విక్రయాలు, ఒక స్వ్యాక్టరీలో పనిచేసేవారి వేతనాలు తదితర అంశాలలో మార్పుల అధ్యయనానికి తోడ్పడును.
4. వాతావరణ మార్పుల అధ్యయనానికి సహాయపడును.

**8.3.2 చతుర్థాంశ విచలనము (Quartile Deviation or Semi-Inter-Quartile Range) :** వ్యాప్తి విపరీతాంశాలకు ఎక్కువగా ప్రభావితం కావడం, ప్రతిచయన చాంచల్యాలకు గురికావడం మొదలగు లోపాలను కలిగియుండడం వలన వీనిని కొంత వరకు తొలగించుటకు చతుర్థాంశ విచలనము రూపొందించడం జరిగింది. చతుర్థాంశ విచలన గణనలో దిగువ 25% అంశాలు ఎగువ 25% అంశాలు వదలి మధ్య గల 50% అంశాలు గణనలోనికి నైకొనబడును. మధ్య వున్న 50% అంశాలలో సామాన్యంగా విపరీత విలువలు గల అంశాలుండవు.

ప్రథమ, తృతీయ చతుర్థాంశాల (Q<sub>1</sub> and Q<sub>3</sub>) మధ్య వున్న తేడానే చతుర్థాంశక వ్యాప్తి లేదా ఇంటర్ క్వార్టయిల్ రేంజి (Inter quartile range) అంటారు. ఈ విలువలో సగభాగాన్ని అర్ధచతుర్థాంశక వ్యాప్తి (Semi-inter Quartile / Range) అంటారు. సర్ ఫ్రాన్సిస్ గాల్టన్ (Sir Francis Galton) దీనికి చతుర్థాంశ విచలనమని (Quartile Deviation) అని పేరు పెట్టారు. దీనిని QDతో సూచిస్తారు. రెండు చతుర్థాంశాల మధ్య వ్యాప్తిలో అర్ధభాగం తీసుకుంటాము. కాబట్టి దీనికి సెమి ఇంటర్ క్వార్టయిల్ రేంజి అనే పేరు వున్నది.

$$\text{చతుర్థాంశ విచలనము లేదా సెమీ ఇంటర్ క్వార్టయిల్ రేంజ్ (Q.D.)} = \frac{Q_3 - Q_1}{2}$$

Q.D. = చతుర్థాంశ విచలనము (Quartile Deviation)

Q<sub>1</sub> = దిగువ చతుర్థాంశము (Lower Quartile)

Q<sub>3</sub> = ఎగువ చతుర్థాంశము (Upper Quartile)

**8.3.2.1 చతుర్థాంశ విచలన గుణకం :** చతుర్థాంశ విచలనము విస్తరణ యొక్క నిరపేక్షమానము రెండు శ్రేణులలో గల సాపేక్ష మార్పుల అధ్యయనానికి సాపేక్ష విస్తరణ మానము అవసరము. చతుర్థాంశ విచలనము యొక్క సాపేక్ష మానాన్నే చతుర్థాంశ విచలన గుణకమందురు.

$$\text{Coef. Q.D.} = \frac{\frac{Q_3 - Q_1}{2}}{\frac{Q_3 + Q_1}{2}} = \frac{Q_3 - Q_1}{Q_3 + Q_1}$$

Coef. Q.D. (Coefficient of quartile deviation) = చతుర్థాంశ విచలన గుణకం

చతుర్థాంశ విచలనము విభజనంలో మధ్యగతము నుండి Q<sub>1</sub>, Q<sub>3</sub> లు సగటున ఎంత తేడా కలిగియున్నది తెల్పుము.

వ్యక్తిగత శ్రేణులు - చతుర్థాంశ విచలన గణన :

గణన విధానము : 1. శ్రేణిలోని అంశాలను ఆరోహణ క్రమంలో అమర్చుకోవలె. 2.  $\frac{N+1}{4}$  సూత్ర సహాయంతో దిగువ చతుర్థాంశ స్థానము,  $\left(\frac{N+1}{4}\right)^3$  సూత్ర సహాయంతో ఎగువ చతుర్థాంశ స్థానాలను గుర్తించవలె. 3. ఆ స్థానాలలో వున్న అంశాల విలువలను  $Q_1, Q_3$  లుగా తెలుసుకుంటాము. 4. దిగువ సూత్రం ద్వారా చతుర్థాంశ విచలనము గణన చేయవలె.

$$Q.D. = \frac{Q_3 - Q_1}{2}$$

ఉదాహరణ 5 : దిగువ ఇచ్చిన దత్తాంశము నుండి చతుర్థాంశ విచలనము, విచలన గుణకము కనుక్కోండి.

బాలుర ఎత్తులు సెం.మీ.లలో 152, 160, 164, 171, 150, 154, 167, 157, 175, 170, 176

జవాబు : బాలుర ఎత్తులను ఆరోహణ క్రమంలో అమర్చవలె.

క్రమసంఖ్య(S.No.)	బాలుర ఎత్తు సెం.మీ.లలో(x)
1	150
2	152
3	154
4	157
5	160
6	164
7	167
8	170
9	171
10	175
11	176

దిగువ చతుర్థాంశ స్థానము ( $Q_1$ ) =  $\frac{N+1}{4}$  వ అంశము.

$N = 11$  కాబట్టి  $Q_1 = \frac{11+1}{4} = \frac{12}{4} = 3$  వ అంశము.

3వ అంశము = 154, కాబట్టి  $Q_1 = 154$  సెం.మీ.టర్లు.

ఎగువ చతుర్థాంశ స్థానము ( $Q_3$ ) =  $\left(\frac{N+1}{4}\right)^3$  వ అంశము.

$$= \left(\frac{11+1}{4}\right)^3 = \frac{12^3}{4} \times 3 = 9 \text{ వ అంశము.}$$

9వ అంశము = 171, కాబట్టి  $Q_3 = 171$  సెం.మీటర్లు

$$QD = \frac{Q_3 - Q_1}{2} = \frac{171 - 154}{2} = \frac{17}{2} = 8.5 \text{ సెం.మీ.}$$

$$\text{Coef. Q.D.} = \frac{Q_3 - Q_1}{Q_3 + Q_1} = \frac{171 - 154}{171 + 154} = \frac{17}{325} = 0.052$$

విచ్ఛిన్న శ్రేణులు - చతుర్థాంశ విచలన గణన : (1) విచ్ఛిన్న శ్రేణులలో చతుర్థాంశ విచలనము కనుక్కోవడానికి పానఃపున్యాన్ని సంచితం చేయవలె. 2.  $\frac{N+1}{4}$  సూత్రం ద్వారా దిగువ చతుర్థాంశ స్థానము ( $Q_1$ ), దాని అనుబంధ అంశము ద్వారా దిగువ చతుర్థాంశ విలువ కనుగొనవలె. 3.  $\left(\frac{N+1}{4}\right)_3$  సూత్రం ద్వారా ఎగువ చతుర్థాంశ స్థానము, దాని అనుబంధ అంశము ద్వారా ఎగువ చతుర్థాంశ విలువ కనుగొనవలె. ఆ తరువాత క్రింది సూత్రము ఉపయోగించాలి.

$$\text{చతుర్థాంశ విచలనము (Q.D)} = \frac{Q_3 - Q_1}{2}$$

$$\text{చతుర్థాంశ విచలన గుణకము (Coef. Q.D.)} = \frac{Q_3 - Q_1}{Q_3 + Q_1}$$

ఉదాహరణ 6 : దిగువ దత్తాంశము నుండి చతుర్థాంశ విచలనము, విచలన గుణకము గణన చేయండి.

వారం సంపాదన రూ॥లలో	20	25	30	35	40
కార్మికుల సంఖ్య	2	4	6	4	4

జవాబు :

వారం సంపాదన (x)	కార్మికుల సంఖ్య (f)	సంచిత పానఃపున్యము (cf)
20	2	2
25	4	6
30	6	12
35	4	16
40	4	20

దిగువ చతుర్థాంశ స్థానము ( $Q_1$ ) =  $\frac{N+1}{4}$  వ అంశము,  $N = 20$ ,  $Q_1$  స్థానం =  $\frac{20+1}{4} = \frac{21}{4} = 5.25$  వ అంశము. ఇది సంచిత పానఃపున్యము 6లో వున్నది. కాబట్టి దాని అనుబంధ అంశము విలువను 25 చతుర్థాంశ విలువగా గుర్తించవలె.

$$\text{కాబట్టి } Q_1 = 25$$

$$\text{ఎగువ చతుర్థాంశ స్థానము } (Q_3) = \left(\frac{N+1}{4}\right)_3 \text{ వ అంశం.} = \left(\frac{20+1}{4}\right)_3 \text{ వ అంశము}$$

$$= \frac{21}{4} \times 3 \text{ వ అంశము}$$

$$Q_3 = 5.25 \times 3 = 15.75 \text{ వ అంశము}$$

15.75 వ అంశము సంచిత పౌనఃపున్యము 16 లో వున్నది. కాబట్టి దాని అనుబంధ అంశము 35 ను చతుర్థాంశ విలువగా గుర్తించవలె. కాబట్టి  $Q_3 = 35$

$$\text{చతుర్థాంశ విచలనము (Q.D.)} = \frac{Q_3 - Q_1}{2}$$

$$\text{Q.D.} = \frac{35 - 25}{2} = \frac{10}{2} = 5$$

$$\text{చతుర్థాంశ విచలన గుణకము (Coef. QD)} = \frac{Q_3 - Q_1}{Q_3 + Q_1}$$

$$\text{Coef. Q.D.} = \frac{35 - 25}{35 + 25} = \frac{10}{60} = 0.16$$

అవిచ్ఛిన్న శ్రేణులు : చతుర్థాంశ విచలన గణన

గణన విధానము : 1. మొదటి పౌనఃపున్యాన్ని సంచితం చేయవలె, 2.  $\frac{N}{2}$  సూత్రం సహాయంతో  $Q_1$  తరగతి గుర్తించవలె, 3.  $Q_1$  తరగతిని కనుగొన్న తరువాత దిగువ సూత్రము వినియోగించవలె.

$$Q_1 = l_1 + \frac{\frac{N}{4} - m}{f} (l_2 - l_1)$$

$l_1$  = మొదటి చతుర్థాంశ తరగతి దిగువ అవధి,  $l_2$  = మొదటి చతుర్థాంశ తరగతి ఎగువ అవధి,  $f$  = మొదటి చతుర్థాంశ తరగతి పౌనఃపున్యము,  $N$  = పౌనఃపున్యం మొత్తం,  $m$  = దిగువ చతుర్థాంశ తరగతికి దిగువ తరగతి సంచిత పౌనఃపున్యము

$$4. Q_3 \text{ తరగతిని } \frac{3N}{4} \text{ సూత్ర సహాయంతో గుర్తించవలె. ఆ తరువాత } Q_3 = l_1 + \frac{\frac{3N}{4} - m}{f} (l_2 - l_1) \text{ సూత్రాన్ని}$$

ఉపయోగించాలి.

$$l_1 = \text{ఎగువ చతుర్థాంశ తరగతి దిగువ అవధి, } l_2 = \text{ఎగువ చతుర్థాంశ తరగతి ఎగువ అవధి.}$$

$$f = \text{ఎగువ చతుర్థాంశ తరగతి పౌనఃపున్యము, } N = \text{మొత్తం పౌనఃపున్యం,}$$

$$m = \text{ఎగువ చతుర్థాంశ తరగతికి దిగువ తరగతి సంచిత పౌనఃపున్యము.}$$

ఉదాహరణ 7 : కింది సమాచారానికి చతుర్థాంశ విచలనము, విచలన గుణకాన్ని కనుక్కోండి.

X :	10-20	20-30	30-40	40-60	60-70	70-80
f :	12	19	5	10	9	6

జవాబు : చతుర్థాంశ విచలనం, విచలన గుణకం గణన

X	f	c.f.
10 - 20	12	12
20 - 30	19	31
30 - 40	5	36
40 - 60	10	46
60 - 70	9	55
70 - 80	6	61

$$Q.D. = \frac{Q_3 - Q_1}{2}$$

$$Q_1 \text{ స్థానం } \frac{N}{4} \text{ వ అంశం} = \frac{61}{4} = 15.25 \text{ వ అంశం.}$$

15.25వ అంశం cf 31లో ఉంది. కావున  $Q_1$  తరగతి = 20 - 30

$$Q_1 = l_1 + \frac{\frac{N}{4} - m}{f} (l_2 - l_1)$$

$$l_1 = 20, l_2 = 30, \frac{N}{4} = 15.25, m = 12, f = 19$$

$$\therefore Q_1 = 20 + \frac{15.25 - 12}{19} \times (30 - 20) = 20 + 1.71 = 21.71$$

$$Q_3 \text{ స్థానం } \frac{3N}{4} \text{ వ అంశం} = \frac{3 \times 61}{4} = 45.75 \text{ వ అంశం. cf 46లో ఉంది కావున దాని అనుబంధ తరగతి 40-60}$$

అనేది  $Q_3$  తరగతి అవుతుంది.

$$Q_3 = l_1 + \frac{\frac{3N}{4} - m}{f} (l_2 - l_1)$$

$$l_1 = 40, l_2 = 60, \frac{3N}{4} = 45.75, c.f. = 36, f = 10$$

$$Q_3 = 40 + \frac{45.75 - 36}{10} \times (60 - 40) = 40 + 19.5 = 59.5$$



$$Q.D. = \frac{59.5 - 21.71}{2} = \frac{37.79}{2} = 18.895$$

$$\text{Coef. Q.D.} = \frac{Q_3 - Q_1}{Q_3 + Q_1} = \frac{59.5 - 21.71}{59.5 + 21.71} = \frac{37.79}{81.21} = 0.465$$

ఉదాహరణ 8 : దిగువ దత్తాంశము నుండి చతుర్థాంశ విచలనాన్ని కనుక్కోండి.

వయస్సు (సం॥లలో)	20 లోపు	20-25	25-30	30-35	35-40	40-45	45-50	50-55	55-60	60-పైన
పనివారు	21	28	35	40	48	36	29	17	10	6

జవాబు : దత్తాంశము నివృత తరగతులలో యివ్వబడినందున చతుర్థాంశ విచలనము కనుగొనడం ద్వారా మాత్రమే విస్తరణను కనుగొనగలము. ఈ విధమైన తరగతులకు ఉత్తమమైనది చతుర్థాంశ విచలనము.

వయస్సు(సం॥లలో)(C.I.)	పనివారు(f)	సంచిత పానఃపున్యము(cf)
20 లోపు	21	21
20 - 25	28	49
25 - 30	35	84
30 - 35	40	124
35 - 40	48	172
40 - 45	36	208
45 - 50	29	237
50 - 55	17	254
55 - 60	10	264
60 పైన	6	270
	270	

$$Q_1 \text{ స్థానం లేదా తరగతి} = \frac{N}{4} \text{వ అంశం, } N = 270$$

$$Q_1 \text{ స్థానం} = \frac{270}{4} = 67.5 \text{వ అంశం}$$

67.5 అనే అంశము సంచిత పానఃపున్యము 84లో వున్నది. కాబట్టి దాని అనుబంధ తరగతి 25-30 అనేది  $Q_1$  తరగతి అవుతుంది.

$$Q_1 = l_1 + \frac{\frac{N}{4} - m}{f} (l_2 - l_1)$$

$$l_1 = 25, l_2 = 30, f = 35, \frac{N}{4} = 67.5, m = 49$$

$$Q_1 = 25 + \frac{67.5 - 49}{35} (30 - 25) = 27.6$$

$$Q_3 \text{ స్థానం లేదా తరగతి} = \frac{3N}{4} = \frac{3 \times 270}{4} = 202.5 \text{ వ అంశం.}$$

202.5 అనే అంశము సంచిత పౌనఃపున్యము 208లో వున్నది. దాని అనుబంధ తరగతి 40 - 45 అనేది  $Q_3$  తరగతి అవుతుంది..

$$Q_3 = l_1 + \frac{\frac{3N}{4} - m}{f} (l_2 - l_1)$$

$$l_1 = 40, l_2 = 45, f = 36, \frac{3N}{4} = 202.5, m = 172$$

$$= 40 + \frac{202.5 - 172}{36} (45 - 40) = 40 + 4.2$$

$$Q_3 = 44.2$$

$$\text{చతుర్థాంశ విచలనము (Q.D)} = \frac{Q_3 - Q_1}{2} = \frac{44.2 - 27.6}{2} = \frac{16.6}{2} = 8.3 \text{ సం॥లు}$$

$$\text{చతుర్థాంశ విచలన గుణకము (Coef. Q.D.)} = \frac{Q_3 - Q_1}{Q_3 + Q_1}$$

$$\text{Coef. Q.D.} = \frac{44.2 - 27.6}{44.2 + 27.6} = \frac{16.6}{71.8} = 0.23$$

ఉదాహరణ 9 : ఒక సంవత్సరము శస్త్రచికిత్స కోసం హాస్పిటల్లో చేరిన వారి వయస్సు, సంఖ్య దిగువ దత్తాంశములో యివ్వబడినవి. వాటి నుండి వారి వయస్సు యొక్క చతుర్థాంశ విచలనము, దాని గుణకాన్ని గణన చేయుము.

వయస్సు (సం॥లలో)	20-24	25-29	30-34	35-39	40-44	45-49	50-54	55-59	60-పైన
పనివారు	17	43	21	16	24	48	52	40	12

జవాబు : ఇవ్వబడిన దత్తాంశము అసమగ్రరూపములో వున్నది. కాబట్టి సమగ్రరూపంలోకి మార్పుటకు తరగతులను పునర్నిర్మించవలె. పౌనఃపున్యాన్ని సంచితం చేసి  $Q_1, Q_3$  అంశాలను కనుగొనవలె.

వయస్సు(సం॥లలో)(C.I)	వ్యక్తులు(f)	సంచిత పౌనఃపున్యము(cf)
19.5 - 24.5	17	17
24.5 - 29.5	43	60
29.5 - 34.5	21	81

34.5 - 39.5	16	97
39.5 - 44.5	24	121
44.5 - 49.5	48	169
49.5 - 54.5	52	221
54.5 - 59.5	40	261
59.5 ఆ పైన	12	273
	273	

$$Q_1 \text{ స్థానం} = \frac{N}{4} \text{ వ అంశం, } N = 273 \text{ కావున}$$

$$Q_1 \text{ స్థానం} = \frac{273}{4} = 68.25 \text{ వ అంశం}$$

68.25 అనే అంశము సంచిత పానఃపున్యము 81లో వున్నది. కావున దాని అనుబంధ తరగతి 29.5 - 34.5  $Q_1$  తరగతి అవుతుంది.

$$Q_1 = l_1 + \frac{\frac{N}{4} - m}{f} (l_2 - l_1)$$

$$l_1 = 29.5, l_2 = 34.5, f = 21, \frac{N}{4} = 68.25, m = 60$$

$$Q_1 = 29.5 + \frac{68.25 - 60}{21} (34.5 - 29.5)$$

$$Q_1 = 29.5 + 1.96 = 31.46 \text{ సంవత్సరాలు}$$

$$Q_3 \text{ స్థానం} = \frac{3N}{4} \text{ వ అంశం} = \frac{3 \times 273}{4} = 204.75 \text{ వ అంశం.}$$

204.75 అనే అంశము సంచిత పానఃపున్యము 221లో వున్నది. కావున దాని అనుబంధ తరగతి 49.5 - 54.5  $Q_3$  తరగతి అవుతుంది.

$$Q_3 = l_1 + \frac{\frac{3N}{4} - m}{f} (l_2 - l_1)$$

$$l_1 = 49.5, l_2 = 54.5, f = 52, \frac{3N}{4} = 204.75, m = 169$$

$$Q_3 = 49.5 + \frac{204.75 - 169}{52} (54.5 - 49.5)$$

$$Q_3 = 49.5 + 3.44 = 52.93 \text{ సంవత్సరాలు}$$

$$\text{చతుర్థాంశ విచలనము (Q.D.)} = \frac{Q_3 - Q_1}{2} = \frac{52.93 - 31.46}{2} = \frac{21.47}{2} = 10.74 \text{ సంవత్సరములు}$$

$$\text{చతుర్థాంశ విచలన గుణకము (Coef. Q.D.)} = \frac{Q_3 - Q_1}{Q_3 + Q_1}$$

$$\text{Coef. Q.D.} = \frac{52.93 - 31.46}{52.93 + 31.46} = \frac{21.47}{84.39} = 0.25$$

ఉదాహరణ 10 : దిగువ దత్తాంశమునకు చతుర్థాంశ విచలనము, దాని గుణకము కనుగొనుము.

అంశములు	సంచిత పానఃపున్యము
3 కంటే తక్కువ	1
5 కంటే తక్కువ	3
7 కంటే తక్కువ	6
9 కంటే తక్కువ	11
11 కంటే తక్కువ	15
13 కంటే తక్కువ	18
15 కంటే తక్కువ	20

జవాబు : కంటే తక్కువ రూపంలో ఉన్న దత్తాంశమునకు తరగతులను పునర్నిర్మించి, సాధారణ పానఃపున్యము రాబట్టి చతుర్థాంశ విచలనము, దాని గుణకము కనుగొందుము. తరగతుల ఎగువ అవధులివ్వబడినవి కనుక దిగువ అవధులు, తరగతి అంతరం రెండుగా గుర్తించి తరగతులు నిర్మించవచ్చు.

తరగతులు(CI)	పానఃపున్యము(f)	సంచిత పానఃపున్యము(cf)
1 - 3	1	1
3 - 5	2	3
5 - 7	3	6
7 - 9	5	11
9 - 11	4	15
11 - 13	3	18
13 - 15	2	20
	N = 20	

దిగువ చతుర్థాంశ స్థానం  $(Q_1) = \frac{N}{4}$  వ అంశం,  $N = 20$  కావున

$$Q_1 \text{ స్థానం} = \frac{20}{4} = 5 \text{ వ అంశము}$$

5వ అంశము సంచిత పౌనఃపున్యము 6లో వున్నది. కావున దాని అనుబంధ తరగతి 5-7 అనేది దిగువ చతుర్థాంశ తరగతి అవుతుంది.

$$Q_1 = l_1 + \frac{\frac{N}{4} - m}{f} (\ell_2 - l_1)$$

$$l_1 = 5, \ell_2 = 7, f = 3, \frac{N}{4} = 5, m = 3$$

$$Q_1 = 5 + \frac{5-3}{3} (7-5) = 5 + \frac{2}{3} \times 2 = 5 + 1.3 = 6.3$$

$$\text{ఎగువ చతుర్థాంశ స్థానం (Q}_3\text{)} = \frac{3N}{4} \text{వ అంశం}$$

$$= \frac{3 \times 20}{4} = 15 \text{వ అంశము.}$$

15వ అంశము సంచిత పౌనఃపున్యము 15లో వున్నది. కావున దాని అనుబంధ తరగతి 9-11 అనేది ఎగువ చతుర్థాంశ తరగతి అవుతుంది.

$$Q_3 = l_1 + \frac{\frac{3N}{4} - m}{f} (\ell_2 - l_1)$$

$$l_1 = 9, \ell_2 = 11, f = 4, \frac{3N}{4} = 15, m = 11$$

$$Q_3 = 9 + \frac{15-11}{4} (11-9)$$

$$Q_3 = 9 + 2 = 11$$

$$\text{చతుర్థాంశ విచలనం} = \frac{Q_3 - Q_1}{2} = \frac{11 - 6.3}{2} = \frac{4.7}{2} = 2.35$$

$$\text{చతుర్థాంశ విచలన గుణకము} = \frac{Q_3 - Q_1}{Q_3 + Q_1} = \frac{11 - 6.3}{11 + 6.3} = \frac{4.7}{17.3} = 0.272$$

### 8.3.2.2 చతుర్థాంశ విచలనము - సుగుణాలు

చతుర్థాంశ విచలనం వ్యాప్తితో పోల్చితే ఎంతో మెరుగైన కొలమానం. ఈ కొలమానం వల్ల కింది సుగుణాలున్నాయి.

- (ఎ) వ్యాప్తి కేవలం దత్తాంశంలోని రెండు విలువలు అంటే అత్యధిక, అత్యల్ప విలువల ఆధారంగా విస్తరణను గణన చేయును. కాని చతుర్థాంశ విచలనము శ్రేణిలోని మధ్య గల 50% అంశాలను గణనలోనికి గైకొనడం వల్ల వ్యాప్తి కంటే మెరుగైన విస్తరణ మానంగా గుర్తింపవచ్చును.

- (బి) చతుర్థాంశ విచలనము శ్రేణిలో ఎగువ 25% దిగువ 25% అంశాలను గణన లోనికి గైకొనకపోవడం వలన విపరీతాంశాల ప్రభావమునకు గురికాదు.
- (సి) విస్తృత అవధులు గల దత్తాంశము నుండి విస్తరణను గణన చేయగల ఏకైక అత్యుత్తమ కొలమానము చతుర్థాంశ విచలనము.
- (డి) దీనిని సులభంగా గణన చేయవచ్చు, అర్థం చేసుకొనవచ్చు,
- (ఇ) ఎక్కువ అసౌష్టవ లేదా వైషమ్యం గల దత్తాంశాలను కూడా ఈ విస్తరణమానం గణన చేయవచ్చును.

**8.3.2.3 లోపాలు**

- (1) శ్రేణిలోని మధ్య వుండే 50% అంశాలను మాత్రమే గణనలోనికి గైకొనడం వలన అన్ని అంశాలపై ఆధారపడిన విస్తరణమానము కాదు.
- (2) ప్రతిచయన ఒడుదుడుకులకు ఎక్కువగా గురియగును.
- (3) బీజీయ ప్రస్తావనకు నిలబడదు.
- (4) ఇది నిజానికి విస్తరణ మానము కాదు. సగటు చుట్టు వున్న విస్తరణను చూపడం లేదు. దూరాన్ని మాత్రమే చూపుచున్నది. చతుర్థాంశ విచలనము సగటు నుండి తీసుకొన్నది కాదు. ఇది కేవలం స్థాన నిర్ణయం వల్ల యేర్పడిన మానం కాబట్టి కొంత మంది గణాంక శాస్త్రవేత్తలు చతుర్థాంశ విచలనము భాగత్వపు (Partition) లేదా విభజన మానం కాని, విస్తరణ మానం కాదు అనే అభిప్రాయమును తెల్పిరి.

**10 - 90 శతాంశ వ్యాప్తి (10 - 90 Percentile Range) :** చతుర్థాంశ విచలనము వలె శతాంశ వ్యాప్తిని కూడా గణన చేస్తాము. ఇందు దిగువ 10% అంశాలను, ఎగువ 10% అంశాలను విడచిపెట్టి విస్తరణను గణన చేస్తారు. అనగా శ్రేణిలోని 80% అంశాలు గణనలోనికి గ్రహిస్తారు. ఇందు 10వ శతాంశము, 90వ శతాంశములను తీసుకుని వాటి మధ్య వ్యాప్తిని గణన చేస్తారు.

$$10 - 90 \text{ శతాంశ వ్యాప్తి} = P_{90} - P_{10}$$

$$P_{90} = 90\text{వ శతాంశము}, P_{10} = 10\text{వ శతాంశము}$$

$$10.90 \text{ సెమీ. వర్సెన్ టైల్ రేంజి} = \frac{(P_{90} - P_{10})}{2}$$

$$\text{శతాంశ వ్యాప్తి గుణకము} = \frac{\frac{(P_{90} - P_{10})}{2}}{\frac{(P_{90} + P_{10})}{2}} = \frac{P_{90} - P_{10}}{P_{90} + P_{10}}$$

శతాంశ వ్యాప్తి శ్రేణిలోని 80% అంశాలను గణనలోనికి గైకొనడం వలన చతుర్థాంశ విచలనము కంటే మెరుగైనదని గ్రహింపవచ్చును. ఇది విపరీతాంశాల వల్ల ప్రభావితం కాదు. చతుర్థాంశ వ్యాప్తికి గల లోపాలనే శతాంశ వ్యాప్తి కూడా ఎదుర్కొనుచున్నది. అందువలన దీని ఉపయోగం చాలా తక్కువ. దీనిని ఎక్కువగా విద్యాసంబంధంమైన గణాంకాలలో (Educational Statistics)లో ఉపయోగిస్తారు.

**8.3.3 మాధ్యమిక విచలనము (Mean Deviation) :** వ్యాప్తి, చతుర్థాంశ విచలనము, శతాంశ వ్యాప్తి అనేవి స్థాన నిర్ణయమానాలు. వీటిని నిజమైన విస్తరణ మానాలుగా గుర్తింపలేము. సగటు నుండి విచలనాలను తీసుకొనక పోవడం వలన సగటు చుట్టు వున్న విస్తృతిని ఇవి చూపలేవు. విభాజనపు ఆకృతిని క్షుణ్ణంగా అర్థం చేసుకొనుటకు విచలనాలను సగటు నుండి తీసుకొనవలె. అట్లా తీసుకొని రూపొందించిన మానాలు మాధ్యమిక విచలనము (Mean Deviation), ప్రామాణిక విచలనము (Standard Deviation). వీటిలో మాధ్యమిక విచలనాన్ని గూర్చి తెలుసుకుందాం.

“గుర్తును అలక్ష్యం చేసి కేంద్రస్థానపు విలువల నుండి వివిధ అంశాలకు వున్న విచలనాల అంకమధ్యమాన్ని శ్రేణుల మాధ్యమిక విచలనంగా నిర్వచింపవచ్చు”. మాధ్యమిక విచలనాలను కేంద్రస్థానపు కొలతలైన అంకమధ్యమము మధ్యగతము, బాహుళకములలో ( $\bar{x}$  or M or Z) దేనినుంచైనా తీసుకొనవచ్చు. అంకమధ్యమము నుండి తీసుకొనే విచలనాల సంకలనము సున్నాకు సమానముగాను, బాహుళకం నుంచి తీసుకున్న విచలనాలు గరిష్టంగాను ఉంటాయి. మధ్యగతం నుండి తీసుకొన్న విచలనాల సంకలనము కనిష్టముగా వుంటుంది. కనుక మధ్యగతం మాధ్యమిక విచలన గణనకు ఉత్తమమైనదిగా భావించడం జరుగుతుంది.

**వ్యక్తిగత శ్రేణులు :** అయితే మాధ్యమిక విచలన గణనకు అతి తరచుగా ఉపయోగించే సగటు అంకమధ్యమం గుర్తులను వదలి సగటు నుంచి తీసుకొన్న విచలనాల మొత్తాన్ని ఆ అంశాల సంఖ్యతో భాగిస్తే మాధ్యమిక విచలన గుణకం వస్తుంది.

$$M \cdot D(\delta) = \frac{\sum |X - \text{సగటు}|}{N} \quad \text{ఇక్కడ } N = \text{అంశాల సంఖ్య,}$$

$$\sum |X - \bar{X}| = \text{గుర్తులను అలక్ష్యం చేసి సగటు నుంచి తీసుకున్న విచలనాల సంకలనము}$$

$$M.D \text{ లేదా } \delta = \text{మాధ్యమిక విచలనం} \quad N = \text{అంశాల సంఖ్య}$$

$$\sum |X - \text{సగటు}| = \text{గుర్తులను అలక్ష్యం చేసి సగటు నుండి తీసుకొన్న విచలనాల మొత్తం (సగటు అంటే } \bar{x} \text{ లేదా M లేదా Z కావచ్చు).}$$

మాధ్యమిక విచలనాన్ని సగటు విచలనం అని కూడా అందురు. ఇది పరమమానము.

**వ్యక్తిగత శ్రేణుల్లో వివిధ సగటుల ద్వారా మాధ్యమిక విచలన సూత్రాలు**

**అంకమధ్యమము నుంచి :**

$$\delta_{\bar{x}} = \frac{\sum |x - \bar{x}|}{N}$$

$\delta_{\bar{x}} =$  అంకమధ్యమం నుంచి మాధ్యమిక విచలనం,  $\sum |x - \bar{x}| =$  గుర్తులను అలక్ష్యం చేసి అంకమధ్యమము నుంచి తీసుకున్న విచలనాల మొత్తం,  $N =$  అంశాల సంఖ్య,  $\bar{x} =$  అంకమధ్యమం.

**మధ్యగతము నుంచి :**

$$\delta_M = \frac{\sum |x - M|}{N}$$

$\delta_M$  = మధ్యగతం నుంచి మాధ్యమిక విచలనం,  $\Sigma|x - M|$  = గుర్తులను అలక్ష్యం చేసి మధ్యగతం నుంచి తీసుకున్న విచలనాల మొత్తం.  $N$  = అంశాల సంఖ్య,  $M$  = మధ్యగతము.

బాహుళకము నుంచి :

$$\delta_z = \frac{\Sigma|x - z|}{N}$$

$\delta_z$  = బాహుళకం నుంచి మాధ్యమిక విచలనం,  $\Sigma|x - z|$  = గుర్తులను అలక్ష్యం చేసి బాహుళకం నుంచి తీసుకున్న విచలనాల మొత్తం.  $N$  = అంశాల సంఖ్య,  $z$  = బాహుళకం.

**8.3.3.1 మాధ్యమిక విచలన గుణకం :** మాధ్యమ విచలనము “పరమ విస్తరణ మానము” (Absolute measure of dispersion). దీని సాపేక్ష మానం మాధ్యమిక విచలన గుణకం. దీని సాపేక్షిక మానము (Relative measure) గణన చేయుటకు మాధ్యమ విచలనాన్ని సగటుతో ( $x$  or  $M$  or  $Z$ ) భాగించవలె. మాధ్యమ విచలనాన్ని గణన చేయుటకు ఏ సగటు ఉపయోగించబడిందో మాధ్యమ విచలన గుణకాన్ని (Coefficient of mean deviation) కనుక్కోనేటప్పుడు అదే సగటు ఉపయోగించవలె.

$$\text{మాధ్యమ విచలన గుణకము (Coef. } \delta) = \frac{MD}{\text{Average}}$$

$$\text{Coef. } \delta = \frac{\text{మాధ్యమ విచలనము}}{\text{సగటు}}$$

$$\text{అంకమధ్యమం నుంచి మాధ్యమిక విచలన గుణకం (Coef. } \delta_{\bar{x}}) = \frac{\delta_{\bar{x}}}{\bar{x}}$$

$$\text{మధ్యగతం నుంచి మాధ్యమిక విచలన గుణకం (Coef. } \delta_M) = \frac{\delta_M}{M}$$

$$\text{బాహుళకం నుంచి మాధ్యమిక విచలన గుణకం (Coef. } \delta_Z) = \frac{\delta_Z}{Z}$$

**ఉదాహరణ 11 :** దిగువ ఇవ్వబడిన వ్యక్తిగత శ్రేణులు దత్తాంశం నుండి అంకమధ్యమం మధ్యగతం ద్వారా మాధ్యమిక విచలనాన్ని, దాని గుణకాన్ని గణన చేయండి. విభజనాన్ని మొదట ఆరోహణ క్రమంలో అమర్చడం జరిగింది.

సంవత్సరము	1954	1955	1956	1957	1958	1959	1960	1961	1962	1963
దిగుమతులు (మి.టన్నులలో)	1.6	1.8	2.6	2.7	2.8	3.7	2.1	4.7	3.9	2.5

**జవాబు :** యివ్వబడిన దత్తాంశమునకు మాధ్యమ విచలనము, గుణకము - అంకమధ్యమము, మధ్యగత పరంగా గుణించుటకు పట్టిక నిర్మించబడినది.



సంవత్సరము (Sl.No.)	దిగుమతులు (మిలియన్ టన్నులలో) ఆరోహణ క్రమములో	విచలనాలు అంకమధ్యమము నుంచి $ x - \bar{x} $	విచలనాలు మధ్యగతము నుంచి $ x - M $
1	1.6	1.24	1.05
2	1.8	1.04	0.85
3	2.1	0.74	0.55
4	2.5	0.34	0.15
5	2.6	0.24	0.05
6	2.7	0.14	0.05
7	2.8	0.04	0.15
8	3.7	0.86	1.05
9	3.9	1.06	1.25
10	4.7	1.86	2.05
N = 10	$\Sigma x = 28.4$	$\Sigma  x - \bar{x}  = 7.56$	$\Sigma  x - M $

$$(1) \text{ అంకమధ్యమము } (\bar{x}) = \frac{\Sigma x}{N}$$

$$\bar{x} = \frac{28.4}{10} = 2.84$$

$$(2) \text{ మధ్యగతము } = \frac{N+1}{2} \text{ వ అంశము, } N = 10$$

$$= \frac{10+1}{2} = \frac{11}{2} = 5.5 \text{ వ అంశము}$$

$$5.5 \text{ వ అంశము} = \frac{(5 \text{ వ అంశం} + 6 \text{ వ అంశం})}{2}$$

$$= \frac{2.6+2.7}{2} = 2.65 \text{ వ అంశం}$$

$$\text{మధ్యగతము (M)} = 2.65$$

$$\text{అంకమధ్యమము నుంచి మాధ్యమ విచలనము } \delta_{\bar{x}} = \frac{\Sigma |x - \bar{x}|}{N}$$

$$\delta_{\bar{x}} = \frac{7.56}{10} = 0.756$$

$$\text{మధ్యగతము నుంచి మాధ్యమ విచలనము } (\delta_M) = \frac{\Sigma |x - M|}{N} = \frac{7.20}{10} = 0.72$$

మాధ్యమ విచలనాలు మధ్యగత పరంగా తక్కువగా వున్నది.

$$(1) \text{ మాధ్యమ విచలన గుణకము (Coef. } \delta_{\bar{X}}) = \frac{\delta_{\bar{X}}}{\bar{X}} = \frac{0.756}{2.84} = 0.2662$$

$$(2) \text{ మాధ్యమ విచలన గుణకము (Coef. } \delta_M) = \frac{\delta_M}{M} = \frac{0.72}{2.65} = 0.2717$$

$\delta_{\bar{X}}$  = అంకమధ్యమం నుంచి మాధ్యమి విచలనం, Coef.  $\delta_{\bar{X}}$  = అంకమధ్యమం నుంచి మాధ్యమిక విచలన గుణకం

$\delta_M$  = మధ్యగతం నుంచి మాధ్యమిక విచలనం Coef.  $\delta_M$  = మధ్యగతం నుంచి మాధ్యమిక విచలన గుణకం

**విచ్ఛిన్న శ్రేణులు - మాధ్యమ విచలన గణన :** అంకమధ్యమము నుండి లేక మధ్యగతము నుండి తీసుకొన్న విచలనాలను వాటి యొక్క అనురూప సౌనఃపున్యాలతో గుణిస్తే వచ్చే లబ్ధాలను సంకలనము చేసి మొత్తం సౌనఃపున్యముతో భాగిస్తే విచ్ఛిన్న శ్రేణులలో మాధ్యమ విచలనము వస్తుంది.

అంకమధ్యమం నుంచి మాధ్యమ విచలనము ( $\delta_{\bar{X}}$ )

$$\delta_{\bar{X}} = \frac{\sum f |x - \bar{x}|}{N}$$

$\delta_{\bar{X}}$  = అంకమధ్యమం నుంచి మాధ్యమిక విచలనం, N = మొత్తం సౌనఃపున్యం

$\sum f |x - \bar{x}|$  = గుర్తులను అలక్ష్యం చేసి అంకమధ్యమం నుంచి తీసుకున్న విచలనాలను అనుబంధసౌనఃపున్యాలతో గుణించగా వచ్చిన లబ్ధాల మొత్తం.

మధ్యగతం నుంచి మాధ్యమిక విచలనం ( $\delta_M$ )

$$\delta_M = \frac{\sum f |x - M|}{N}$$

$\delta_M$  = మధ్యగతం నుంచి మాధ్యమిక విచలనం

N = సౌనఃపున్యం మొత్తం

$\sum f |X - M|$  = గుర్తులను అలక్ష్యం చేసి మధ్యగతం నుంచి తీసుకున్న విచలనాలను బంధ సౌనఃపున్యాలతో గుణించగా వచ్చిన లబ్ధాల మొత్తం.

M = మధ్యగతం

బాహుళకం నుంచి మాధ్యమిక విచలనం ( $\delta_Z$ )

$$\delta_Z = \frac{\sum f |X - Z|}{N}$$

$\delta_Z$  = బాహుళకం నుంచి మాధ్యమిక విచలనం

N = మొత్తం సౌనఃపున్యం

$\sum f |X - Z|$  = గుర్తులను అలక్ష్యం చేసి బాహుళకం నుంచి తీసుకున్న విచలనాలను అనుబంధ సౌనఃపున్యాలతో గుణించగా వచ్చిన లబ్ధాల మొత్తం.

$$\delta_Z = \frac{\sum f |X - Z|}{N}$$

ఉదాహరణ 12 : ఒక తరగతిలో బాలుర బరువులు క్రింది పట్టిలో యివ్వబడినవి. వాని నుండి మాధ్యమ విచలనాన్ని విచలన గుణకాన్ని గణన చేయండి.

బరువు (కి.గ్రా.లలో)	43	45	47	49	51	53	55	57	59
బాలుర సంఖ్య	12	15	23	35	25	17	8	5	3

జవాబు :

బరువులు కి.గ్రా x	బాలుర సంఖ్య f	fx సంచిత పానఃపున్యం	cf	విచలనాలు అంకమధ్యమం నుండి f  x - $\bar{x}$	f  x - $\bar{x}$	మధ్యగతం నుండి విచలనాలు  x - M	f  x - M
43	12	516	12	6	72	6	72
45	15	675	27	4	60	4	60
47	23	1081	50	2	46	2	46
49	35	1765	85	0	0	0	0
51	25	1275	110	2	50	2	50
53	17	901	127	4	68	4	68
55	8	440	135	6	48	6	48
57	5	285	140	8	40	8	40
59	3	177	143	10	30	10	30
	N = 143	$\Sigma fx = 7065$			$\Sigma f  x - \bar{x}  = 414$		$\Sigma f  x - M  = 414$

అంకమధ్యమం :

$$\bar{x} = \frac{\Sigma fx}{N} = \frac{7065}{143} = 49$$

అంకమధ్యమం నుండి మధ్యమ విచలనము

$$\delta_{\bar{x}} = \frac{\Sigma f |x - \bar{x}|}{N}$$

$$\delta_{\bar{x}} = \frac{414}{143} = 2.9$$

మధ్యమ విచలన గుణకము (అంకమధ్యమము నుండి)

$$\text{Coef. } \delta_{\bar{x}} = \frac{\delta_{\bar{x}}}{\bar{x}} = \frac{2.9}{49} = 0.06$$

మధ్యగతం :  $M = \frac{N+1}{2}$  అంశము,  $N = 143$

$$M = \frac{143+1}{2} = \frac{144}{2} = 72 \text{ వ అంశము}$$

72వ అంశము సంచిత పౌనఃపున్యము 85 లో వున్నది. దాని అనుబంధ చల రాశి విలువ 49 మధ్యగతమగును.  $M=49$

(2) మధ్యగతం నుండి మధ్యమ విచలనం

$$\delta_M = \frac{\sum f |x - M|}{N}$$

$$\delta_M = \frac{414}{143} \times 414 = 2.9$$

(2) మధ్యమ విచలన గుణకం (మధ్యగతం నుంచి)

$$\text{Coef. } \delta_{\bar{x}} = \frac{\delta_M}{M} = \frac{2.9}{49} = 0.06$$

అవిచ్ఛిన్న శ్రేణులలో మాధ్యమిక విచలనాన్ని గణించే సూత్రాలు

అంకమధ్యమం నుంచి మాధ్యమిక విచలనం ( $\delta_{\bar{x}}$ )

$$\delta_{\bar{x}} = \frac{\sum f |x - \bar{x}|}{N}$$

మధ్యగతం నుంచి మాధ్యమిక విచలనం ( $\delta_M$ )

$$\delta_M = \frac{\sum f |x - M|}{N}$$

బాహుళకం నుంచి మాధ్యమిక విచలనం

$$\delta_Z = \frac{\sum f |x - z|}{N}$$

అవిచ్ఛిన్న శ్రేణుల్లో  $x$  అంటే మధ్య విలువలు సూత్రంలోని గుర్తుల వివరణ విచ్ఛిన్న శ్రేణుల్లో ఇచ్చిన వివరణయే. సాధారణంగా మాధ్యమిక విచలనాన్ని బాహుళకం నుంచి గణన చేయడం జరగదు. అందుచేత బాహుళకం నుంచి మాధ్యమిక విచలనాన్ని గణన చేసే ఉదాహరణ చూపలేదు.

అవిచ్ఛిన్న శ్రేణులు - మధ్యమ విచలనము - మధ్యగతము నుండి : అవిచ్ఛిన్న శ్రేణులలో తరగతుల మధ్య విలువలను  $x$  గా

భావిస్తాము. పౌనఃపున్యము సంచితము చేసి  $\frac{N+1}{2}$  సూత్రం ద్వారా మధ్యగత స్థానాన్ని, మధ్యగత తరగతిని గుర్తించి మధ్యగతాన్ని

కనుగొనవలె. మధ్యవిలువలకు, మధ్యగతానికి గల తేడా లేదా విచలనాలు గుర్తులను వదలివేసి  $|x - M|$  కనుగొనుము. ||

గుర్తును మాడ్యులస్ అంటారు. మధ్యగతం నుంచి  $|x - M|$  విచలనాలు అనురూప పౌనఃపున్యాలతో గుణించి గుణ లబ్ధాల సంకలనము  $\sum f |x - M|$  కనుగొనవలె. తరువాత మధ్యమ విచలనము, గుణకము కనుగొనవలె.

ఉదాహరణ 13 : దిగువ దత్తాంశము నుండి మధ్యమ విచలనము, దాని గుణకము గణన చేయండి.

తరగతులు	0 - 5	5 - 10	10 - 15	15 - 20	20 - 25
బాలూర సంఖ్య	3	4	5	4	3

జవాబు :

తరగతులు	పౌనఃపున్యము	మధ్య విలువలు	సంచిత పౌనఃపున్యము	గుర్తులను వదలివేసి మధ్యగతం సుంచి విచలనాలు	సంకలనాలు
CI	f	x	(cf)	$ x - M $	$f x - M $
0 - 5	3	2.5	3	10	30
5 - 10	4	7.5	7	5	20
10 - 15	5	12.5	12	0	0
15 - 20	4	17.5	16	5	20
20 - 25	3	22.5	19	10	30
	N = 19				$\Sigma f x - M  = 100$

$$\text{మధ్యగత స్థానము} = \frac{N}{2} \text{ అంశము, } N = 19$$

$$\text{మధ్యగత స్థానము} = \frac{19}{2} = 9.5 \text{ వ అంశము}$$

9.5వ అంశము సంచిత పౌనఃపున్యము 12లో వున్నది. కాబట్టి దాని అనుబంధ తరగతి 10 - 15 మధ్యగత తరగతి అవుతుంది. Median class = 10-15

$$M = l_1 + \frac{\frac{N}{2} - m}{f} (l_2 - l_1)$$

$$l_1 = 10, l_2 = 15, f = 5, \frac{N}{2} = 9.5, m = 7$$

$$M = 10 + \frac{9.5 - 7}{5} (15 - 10)$$

$$M = 12.5$$

$$\text{సాధ్యమ విచలనము } (\delta_M) = \frac{\Sigma f|x - M|}{N}$$

$$(\delta_M) = \frac{100}{19} = 5.26$$

$$\text{సాధ్యమ విచలన గుణకము (Coef. } \delta_M) = \frac{\delta_M}{M}$$

$$\text{Coef. } \delta_M = \frac{5.26}{12.5} = 0.42$$

అవిచ్ఛిన్న శ్రేణులు - మాధ్యమ విచలనము - అంకమధ్యమము నుండి : అవిచ్ఛిన్న శ్రేణులలో తరగతుల మధ్య విలువలను  $x$  గా భావించాలి.  $\frac{\sum fx}{N}$  సూత్రం సహాయంతో అంకమధ్యమం ( $\bar{x}$ ) కనుగొనవలె. గుర్తులను అలక్ష్యం చేసి ప్రతి అంశానికి అంకమధ్యమానికి గల తేడా లేదా విచలనము  $|x - \bar{x}|$ లను కనుగొనవలె. విచలనాలను అనురూప పౌనఃపున్యాలతో గుణించి గుణలబ్ధాల సంకలనము  $\sum f|x - \bar{x}|$  కనుగొనవలె. ఆ తరువాత క్రింది సూత్రం ద్వారా మాధ్యమిక విచలనం గణించాలి.

$$\delta_{\bar{x}} = \frac{\sum f|x - \bar{x}|}{N}$$

ఉదాహరణ 14 : దిగువ శ్రేణి నుండి అంకమధ్యపరంగా మాధ్యమ విచలనము, దాని గుణకము గణన చేయుము.

తరగతులు	5 - 15	15 - 25	25 - 35	35 - 45	45 - 55
పౌనఃపున్యము	4	6	10	6	4

జవాబు :

తరగతులు CI	పౌనఃపున్యము f	మధ్య విలువ x	fx	$ x - \bar{x} $	$f x - \bar{x} $
5 - 15	4	10	40	20	80
15 - 25	6	20	120	10	60
25 - 35	10	30	300	0	0
35 - 45	6	40	240	10	60
45 - 55	4	50	200	20	80
	N = 30		$\sum fx = 900$		$\sum f x - \bar{x}  = 280$

$$\text{అంకమధ్యమము } (\bar{x}) = \frac{\sum fx}{N}$$

$$\bar{x} = \frac{900}{30} = 30$$

$$\text{అంకమధ్యమం నుంచి మాధ్యమ విచలనము } (\delta_{\bar{x}}) = \frac{\sum f|x - \bar{x}|}{N}$$

$$= \frac{280}{30} = 9.3$$

$$\text{మాధ్యమ విచలన గుణకము (Coef. } \delta_{\bar{x}}) = \frac{\delta_{\bar{x}}}{\bar{x}}$$

$$\text{Coef. } \delta_{\bar{x}} = \frac{9.3}{30} = 0.31$$

మాధ్యమ విచలనము - దగ్గర పద్ధతి : అంకమధ్యమము, మధ్యగత విలువలు భిన్నాలలో ఉన్నప్పుడు మాధ్యమ విచలన గణన క్లిష్టంగా వుండును. అందువల్ల ఇలాంటి సందర్భాల్లో దగ్గర పద్ధతి వినియోగించడం జరుగుతుంది. దగ్గర పద్ధతి కన్నా ప్రత్యక్ష పద్ధతి సులువుగా వుంటుంది. దగ్గర పద్ధతి ద్వారా గణన సౌలభ్యం కాదు. అందువల్ల ఈ పద్ధతి అంత ఆచరణ సాధ్యం కాదు. అయినను ఉదాహరణగా మాధ్యమిక విచలనాన్ని మధ్యగతం నుంచి చూపటం జరిగింది.

మధ్యమికం నుంచి మాధ్యమ విచలనము - వ్యక్తిగత శ్రేణులు :

గణన విధానము :

1. మొదట శ్రేణి మధ్యగతాన్ని కనుగొనవలె. 2. మధ్య గణంకంటే ఎక్కువగా వున్న అంశాలను సంకలనం చేసి  $\Sigma U$  తో సూచించవలె. 3. మధ్యగతం కంటే తక్కువగా వున్న అంశాలను సంకలనం చేసి  $\Sigma L$  తో సూచించవలె. తరువాత క్రింది సమీకరణం ద్వారా మాధ్యమిక విచలనాన్ని కనుగొనవలె. 4. మధ్యగతం నుండి మాధ్యమ విచలనం  $(\delta_M) = \frac{\Sigma U - \Sigma L}{N}$

ఉదాహరణ 15 : 11 మంది శ్రామికుల వేతనాలు క్రింది విధంగా వున్నాయి. వేతనాల మాధ్యమ విచలనాన్ని గణన చేయండి. వేతనాలు (రూ॥లలో) 5, 8, 6, 10, 7, 13, 14, 9, 15, 12, 11

వరుస క్రమం	అంశాలు ఆరోహణక్రమము.
1	5
2	6
3	7
4	8
5	9
6	10 - మధ్యగతము
7	11
8	12
9	13
10	14
11	15

$$\text{మధ్యగతం (M)} = \frac{N+1}{2} \text{ వ అంశము}$$

$$M = \frac{11+1}{2} = \frac{12}{2} = 6 \text{ వ అంశము}$$

$$6 \text{ వ అంశము } 10 \text{ కావున మధ్యగతము} = 10$$

$$\delta_M = \frac{\Sigma U - \Sigma L}{N}$$

$$\Sigma U = 65, \Sigma L = 35, N = 11$$

$$\delta_M = \frac{\Sigma U - \Sigma L}{N} = \frac{65 - 35}{11} = \frac{30}{11} = 2.72$$

మధ్యగతం నుంచి మాధ్యమ విచలనము : దగ్గర పద్ధతి - విచ్ఛిన్న శ్రేణులు :

మధ్యగతం నుంచి మాధ్యమిక విచలనాన్ని విచ్ఛిన్న శ్రేణుల్లో గణన చేయటానికి కింది సూత్రాన్ని ఉపయోగిస్తాము.

$$\delta_M = \frac{\sum f dx + (\text{మధ్యగతం} - \text{ఊహించిన మధ్యగతం})(\sum fB - \sum fA)}{N}$$

$\delta_M$  = మధ్యగతం నుండి మాధ్యమిక విచలనం,  $N$  = పౌనఃపున్యం మొత్తం,  $dx = x -$  ఊహించిన మధ్యగతం,  $\sum f |dx| =$  ఊహించిన మధ్యగతం నుంచి తీసుకున్న విచలనాలను అనుబంధ పౌనఃపున్యాలతో గుణించగా వచ్చిన లబ్ధాల మొత్తం.  $\sum fB =$  మధ్యగతం కంటే తక్కువ వున్న అంశాల(పౌనఃపున్యం) మొత్తం,  $\sum fA =$  మధ్యగతం కంటే ఎక్కువ వున్న (పౌనఃపున్యం) అంశాల మొత్తం.

ఉదాహరణ : దిగువ అంశాలతో దగ్గర పద్ధతిలో మాధ్యమ విచలనాన్ని గణన చేయండి.

అంశాలు :	4	6	8	10	12	14	16
పౌనఃపున్యాలు :	2	4	5	3	2	1	4

జవాబు : విచ్చిన్న శ్రేణులలో మాధ్యమ విచలన గణన చేయుటకు విచలనాలను వాటి పౌనఃపున్యాలతో గుణించి వచ్చిన లబ్ధాల సంకలనము తీసుకొనవలె.

అంశము x	పౌనఃపున్యము f	సంచిత పౌనఃపున్యము (cf)	ఊహించిన మధ్యగతం(6) నుంచి విచలనాలు $ x - \text{Assumed Median}  =  dx $	$f \times  dx $
4	2	2	2	4
6	4	6	0	0
8	5	11	2	10
10	3	14	4	12
12	2	16	6	12
14	1	17	8	8
16	4	21	10	40
	N = 21			$\sum f  dx  = 86$

$$\text{మధ్యగత స్థానము} = \frac{N+1}{2} \text{ అంశము, } N = 21$$

$$\text{మధ్యగతం} = \frac{21+1}{2} = \frac{22}{2} = 11\text{వ అంశము}$$

11వ అంశము సంచిత పౌనఃపున్యము 11 లో వున్నది. దాని అనుబంధ అంశము 8 మధ్యగతము అవుతుంది.

$$\delta_M = \frac{\sum f dx + (\text{మధ్యగతం} - \text{ఊహించిన మధ్యగతం})(\sum fB - \sum fA)}{N}$$

ఊహించిన మధ్యగతం = 6

$$\sum fB' = \text{మధ్యగతం కన్నా తక్కువగా వున్న అంశాల పౌనఃపున్యం మొత్తం}(11)$$

$$\sum fA' = \text{మధ్యగతం విలువల కంటే ఎక్కువ విలువ గల అంశాల మొత్తం పౌనఃపున్యము}(10)$$

$$\sum f |dx| = \text{మధ్యగతం నుండి తీసుకున్న విచలనాలను వాటి అనురూప పౌనఃపున్యముతో గుణిస్తే వచ్చిన లబ్ధాల సంకలనము} (86)$$



(విచ్చిన్న శ్రేణులలో మధ్యగతం భిన్నంలో (Fraction) కాకుండా పూర్ణాంకముగా (Round number) ఉంటే వలన మాధ్యమ విచలనాన్ని దగ్గర పద్ధతిలో గణన చేయవలసిన అవసరం లేదు. అంకమధ్యమము నుండి మాధ్యమ విచలన గణన కూడా దగ్గర పద్ధతిని ఉపయోగించవచ్చును).

$$\text{ఊహించిన మధ్యగతం} = 6, \Sigma fB = 11, \Sigma fA = 10$$

$$\begin{aligned} \delta_M &= \frac{[86 + (8-6)(11-10)]}{21} \\ &= \frac{1}{21}[86 + (2 \times 1)], = \frac{1}{21}[86 + 2], = \frac{1}{21} \times 88 = 4.2 \end{aligned}$$

$$\therefore \delta_M = 4.2$$

మాధ్యమ విచలనము - అవిచ్చిన్న శ్రేణులు - దగ్గర పద్ధతి : అవిచ్చిన్న శ్రేణులలో మాధ్యమ విచలన గణనకు ఇవ్వబడిన శ్రేణికి సంచిత పౌనఃపున్యము కనుగొని, మధ్యగత స్థానము గుర్తించి, మధ్యగత తరగతి ఆధారంగా మధ్యగతాన్ని కనుగొనవలె. మధ్యగతం నుండి విచలనాలను కనుగొని  $x - \text{Median} = |dx|$  అనురూప పౌనఃపున్యాలతో గుణించి లబ్ధాల సంకలనము ( $\Sigma f |dx|$ ) కనుగొనవలె.

$$\text{మధ్యగతం కంటే ఎక్కువగానున్న అంశాల పౌనఃపున్యాలు మొత్తం} = \Sigma fA$$

మధ్యగతం కంటే తక్కువగా వున్న అంశాల పౌనఃపున్యాలు మొత్తం =  $\Sigma fB$  కనుగొని సూత్రం ద్వారా మధ్యగతాన్ని గణన చేయవలెను.

$$\delta_M = \frac{[\Sigma f |dx| + (Md - a)(\Sigma fB - \Sigma fA)]}{N}$$

**ఉదాహరణ 17 :** ఒక గ్రామంలో వివాహితులైన పురుషుల వయస్సులు క్రింది దత్తాంశంలో యివ్వడమైనది. వాటి నుంచి మాధ్యమ విచలనాన్ని దగ్గర పద్ధతిలో కనుక్కోండి.

వయస్సు (సం॥లలో)	పురుషుల సంఖ్య
15 - 24	33
25 - 34	264
35 - 44	303
45 - 54	214
55 - 64	128
65 - 74	58

**జవాబు :** ఈ విచ్చిన్న శ్రేణులలోని తరగతులకు మధ్యవిలువలు తీసుకొంటే అవి విచ్చిన్న శ్రేణుల రూపము పొందుతాయి. విచ్చిన్న శ్రేణిలో కనుగొనిన విధంగానే మధ్యమ విచలన గణన చేయవచ్చు.

వయస్సు (CI)	పురుషుల (f)	మధ్య విలువ (MV) x	సంచిత పానఃపున్యము cf	ఊహించిన మధ్యగతం(39.5) నుంచి విచలనాలు ఊహించిన మధ్యగతం  x-Assumed Median = dx	విచలనాలను అనురూప పానఃపున్యాలతో గుణిస్తే లబ్ధాలు f  dx
14.5 - 24.5	33	19.5	33	20	660
24.5 - 34.5	264	29.5	297	10	2640
34.5 - 44.5	303	39.5	600	0	0
44.5 - 54.5	214	49.5	814	10	2140
54.5 - 64.5	128	59.5	942	20	2560
64.5 - 74.5	58	69.5	1000	30	1740
	N = 1000				Σf  dx  = 9740

$$\begin{aligned} \text{మధ్యగత స్థానము} &= \frac{N}{2} \text{ అంశము} \\ &= \frac{1000}{2} = 500 \text{ వ అంశము} \end{aligned}$$

500వ అంశము సంచిత పానఃపున్యము 600లో వున్నది. దాని అనుబంధ తరగతి 34.5 - 44.5 మధ్యగత తరగతి

$$\text{మధ్యగతం (M)} = l_1 + \frac{\frac{N}{2} - m}{f} (l_2 - l_1)$$

$$l_1 = 34.5, l_2 = 44.5, f = 303, \frac{N}{2} = 500, m = 297$$

$$\begin{aligned} \text{Median} &= 34.5 + \frac{500 - 297}{303} (44.5 - 34.5) \\ &= 34.5 + 6.7 = 41.2 \end{aligned}$$

$$\text{మధ్యగతం నుంచి మాధ్యమ విచలనము (\delta_M)} = \frac{\sum f dx + (\text{మధ్యగతం} - \text{ఊహించిన మధ్యగతం}) (\sum fB - \sum fA)}{N}$$

$$N = 1000, \sum f |dx| = 9740, \text{మధ్యగతం (M)} = 41.2, \text{ఊహించిన అంకమధ్యమం} = 39.5$$

$$\sum fB = 600 \quad \sum fA = 400$$

$$\delta_M = \frac{[9740 + (41.2 - 39.5)(600 - 400)]}{1000}$$

$$\delta_M = \frac{1}{1000} [9740 + (1.7)(200)] = \frac{1}{1000} [9740 + 340] = \frac{1}{1000} \times 10080 = 10.08$$

ఇదే విధంగా అంకమధ్యమం, బాహుళకాల నుంచి కూడా మాధ్యమిక విచలనాన్ని పరోక్ష పద్ధతిలో కనుగొనవచ్చు.

8.3.3.2 మాధ్యమిక విచలనము - సుగుణాలు : మాధ్యమిక విచలనము కింది సుగుణాలను కలిగి వుంది. అవి :

1. మాధ్యమ విచలనము నిర్దిష్టంగా నిర్వచించబడిన విస్తరణ మానం. ప్రామాణిక విచలనంతో పోల్చితే సులభంగా అర్థం చేసుకొనవచ్చును. గణన కూడా సులభము.
2. శ్రేణిలోని అన్ని అంశాలపై ఆధారపడియున్నందున చతుర్థాంశ విచలనము, వ్యాప్తికన్నా మెరుగైన విస్తరణమానంగా గుర్తింపవచ్చు.
3. ఇది ఒక సగటు ఆధారంగా విచలనాలను గైకొని సగటు చేయడం వలన శ్రేణిలో గల అవకతవకలను తొలగించును. ఆ విధంగా మాధ్యమ విచలనము వాస్తవమైన, నిజమైన విస్తరణమానంగా తోడ్పడును.
4. ప్రామాణిక విచలనముతో పోల్చినపుడు మాధ్యమ విచలనము విపరీతాంశాలకు ఎక్కువగా ప్రభావితం కాదు.
5. మాధ్యమ విచలనము సగటుల ఆధారంగా గణన చేయడం వలన వివిధ శ్రేణుల నిర్మాణాన్ని సరిపోల్చుటకు తోడ్పడును.

8.3.3.3 లోపాలు

1. మాధ్యమ విచలన గణనలో బీజీయ చిహ్నాలను అలక్ష్యము చేయడం దీనిలో చాలా పెద్ద లోపము.
2. ఈ పద్ధతి ఎల్లప్పుడు నిజమైన ఫలితాలను యివ్వలేకపోవచ్చు. మధ్యగత గణనలో మధ్యగతం, అంకమధ్యమం, బాహుళకం కూడా వినియోగించవచ్చు. కాని శ్రేణులలోని విచరణము చాలా ఎక్కువగా నున్నపుడు మధ్యగతాన్ని పూర్తిగా విశ్వసించలేము.
3. బీజీయ ప్రస్తావనకు సరిపోదు.
4. సామాజిక అధ్యయనాలకు అంతగా వినియోగింపబడడం లేదు.
5. వివృతాంత తరగతులు గల శ్రేణులకు మాధ్యమ విచలన గణన సాధ్యపడదు.
6. ప్రతిచయన పరిమాణం పెరిగే కొలది ప్రతిచయన మార్పు కంటే మధ్యమ విచలనంలో మార్పు అత్యధికంగా వుండును.

వివిధ లోపాలు ఉన్ననూ తక్కువ ప్రతిచయనాలను తీసుకున్నప్పుడు దీని ప్రాముఖ్యత ఎక్కువ. వ్యాపార చక్రాలను అంచనా వేయటంలో మాధ్యమిక విచలనం ఆచరణ యోగ్యమైన విస్తరణమానమని National Bureau of Economic Research వారు పేర్కొన్నారు.

8.3.4 ప్రామాణిక విచలనము లేదా క్రమవిచలనము (Standard Deviation) : విస్తరణను అధ్యయనం చేయడంలో అతి ముఖ్యమైనది, అత్యధికంగా ఉపయోగించేది, అత్యంత సంతృప్తికరమైన కొలమానం ప్రామాణిక విచలనము. ప్రామాణిక విచలనము అనే భావనను కార్ల్స్పియర్సన్ ప్రవేశపెట్టాడు. విస్తరణను కొలిచే మానాలలో వ్యాప్తి, చతుర్థాంశ మానాలు శ్రేణులలోని అన్ని అంశాలపై ఆధారపడి గణన చేసిన మానాలు కావు. అన్ని అంశాలకు ప్రాధాన్యత యిచ్చి విస్తరణను గణన చేసే మాధ్యమ విచలనము బీజీయ చిహ్నాలను విస్మరించడం వల్ల అది గణిత శాస్త్ర విరుద్ధము. ఇటువంటి లోపాలను సరిదిద్ది గణన చేసిన మానమే ప్రామాణిక విచలనము. ఇతర విస్తరణ కొలతలు తరచు గురియయ్యే దోషాలను, పరిమితులను యిది అధిగమిస్తుంది. కాబట్టి దీనిని విశిష్టమైన విస్తరణమానంగా పేర్కొంటారు.

గణాంకశాస్త్రంలో విచరణను గణన చేయడం అతి ముఖ్యమైనది. ఆ విచరణను కొలిచే విచరణ మానాలలో ప్రామాణిక

విచలనం చాలా ప్రముఖమైనది. అందువల్లనే ప్రామాణిక విచలనాన్ని ప్రాముఖ్యమైన గణాంక భావనలలో ఒకటిగా పరిగణిస్తారు. “అంకమధ్యమము నుండి తీసుకున్న విచలనాల వర్గాల అంకమధ్యమానికి వర్గమూలాన్ని ప్రామాణిక విచలనం”గా గణాంకశాస్త్రవేత్తలు నిర్వచించిరి (“Standard deviation is the square-root of the arithmetic mean of the squared deviations from the mean”) ప్రామాణిక విచలనం పరమ మానము.

వ్యక్తిగత శ్రేణుల్లో ప్రామాణిక విచలన గణన (అంకమధ్యమం నుంచి విచలనాలు).

ప్రామాణిక విచలన గణనకు, శ్రేణిలోని ప్రతిచలనానికి అంకమధ్యమానికి గల తేడా ఇంకా విచలనము కనుగొనవలె  $(x - \bar{x})$ . ఈ విచలనాలకు వర్గాలు కనుగొనవలె  $(x - \bar{x})^2$ . విచలనాలు వర్గం చేయడం వల్ల ఋణాత్మక చిహ్నాలు కూడా ధనాత్మకంగా మారిపోతాయి. (ఈ విధంగా చేయడం వల్ల మాధ్యమ విచలన గణనలోని బీజీయ చిహ్నాలను విస్మరించడం అనే లోపాన్ని సులభంగా అధిగమించవచ్చు). ఇప్పుడు తీసుకున్న విచలనాల వర్గాలకు  $(x - \bar{x})^2$  అంకమధ్యమం కనుక్కొని, దానికి వర్గమూలం కనుక్కోంటే ఆ వచ్చిన ఫలితం ప్రామాణిక విచలనం వస్తుంది. దీనిని  $\sigma$  (సిగ్మా) అనే గ్రీకు అక్షరంతో సూచిస్తారు.

$$\text{సాంకేతికంగా ప్రామాణిక విచలనం } (\sigma) = \sqrt{\frac{\Sigma(x - \bar{x})^2}{N}} \text{ or } \sqrt{\frac{\Sigma d^2}{N}}.$$

$$\sigma = \text{ప్రామాణిక విచలనం}$$

$$\Sigma d^2 = \Sigma(x - \bar{x})^2 = \text{అంకమధ్యమం నుండి తీసుకొన్న విచలనాల వర్గాల సంకలనము}$$

$$N = \text{అంశాల సంఖ్య}$$

విధానము : ఇవ్వబడిన శ్రేణికి మొదట అంకమధ్యమాన్ని గణన చేయవలె.  $\bar{x} = \frac{\Sigma x}{N}$  శ్రేణిలోని ప్రతి అంశానికి, అంకమధ్యమానికి

గల తేడా, విచలనాలు  $(x - \bar{x})$  కనుగొనవలె. దీనినే  $d$  గా సూచిస్తారు. విచలనాలకు వర్గాలు కనుగొనవలె  $(x - \bar{x})^2$  or  $d^2$ .

విచలనాల వర్గాల సంకలనం  $\Sigma(x - \bar{x})^2$  కనుగొనవలె.  $N =$  అంశాల సంఖ్య. తరువాత క్రింది సూత్రాన్ని ఉపయోగించాలి.

$$\text{ప్రామాణిక విచలనము } (\sigma) = \sqrt{\frac{\Sigma d^2}{N}} \text{ or } \sqrt{\frac{\Sigma(x - \bar{x})^2}{N}}$$

ఉదాహరణ 18 : ఒక కాలనీలోని యింటి అద్దెల పట్టీ కింద యివ్వడమైంది. వాని నుండి ప్రామాణిక విచలనము కనుక్కోండి.

అద్దెలు రూ. : 30, 54, 42, 69, 58, 37, 48, 53, 60, 49

జవాబు :

అద్దెలు(x) రూ  లలో	అంకమధ్యమం ( $\bar{x} = 50$ ) విచలనాలు $d = x - \bar{x}$ or 50	విచలనాల వర్గాలు $d^2$
30	- 20	400
54	+ 4	16
42	- 8	64

69	+ 19	361
58	+ 8	64
37	- 13	169
48	-2	4
53	+ 3	9
60	+ 10	100
49	- 1	1
$\Sigma x = 500$		$\Sigma(x - \bar{x})^2$ or $\Sigma d^2 = 1188$

$$\bar{x} = \frac{\Sigma x}{N} = \frac{500}{10} = 50 \text{ రూ॥లు}$$

$$\text{ప్రామాణిక విచలనం } (\sigma) = \sqrt{\frac{\Sigma d^2}{N}} \text{ or } \sqrt{\frac{\Sigma(x - \bar{x})^2}{N}}$$

$$\sigma = \sqrt{\frac{1188}{10}} = \sqrt{118.8} = \text{రూ. } 10.90 \text{లు.}$$

వ్యక్తిగత శ్రేణులు - దగ్గర పద్ధతి ఊహించిన అంకమధ్యమం విచలనాల పద్ధతి : ఒక్కొక్కప్పుడు అంకమధ్యమపు విలువ భిన్నంలో వస్తుంది. అప్పుడు ప్రతి అంశము నుండి విచలనాలు కనుగొనడం, వాటికి వర్గాలు కట్టడం కష్టమగును. అందువలన ఊహించిన అంకమధ్యమం నుండి విచలనాలు తీసుకునే దగ్గర పద్ధతి ఉపయోగిస్తారు. ఈ పద్ధతిలో కింది సూత్రం ద్వారా ప్రామాణిక విచలనాన్ని కనుక్కుంటాము.

$$\text{ప్రామాణిక విచలన సూత్రము } (\sigma) = \sqrt{\frac{dx}{N} - \left(\frac{\Sigma dx}{N}\right)^2}$$

$$\sigma = \text{ప్రామాణిక విచలనము}$$

$$\Sigma dx^2 = \text{చలనాలకు ఊహించిన అంకమధ్యమానికి గల తేడా లేదా విచలనాల వర్గాల సంకలనము}$$

$$\Sigma dx = \text{చలనాలకు, ఊహించిన అంకమధ్యమానికి గల తేడా లేదా విచలనాల సంకలనము.}$$

$$dx = x - A, A = \text{ఊహించిన అంకమధ్యమము, } N = \text{అంశాల సంఖ్య}$$

విచలనాలకు సాధారణ కారణాంకము వున్నప్పుడు సోపానాలు గుర్తించి సులభ పద్ధతిలో గణన చేయవచ్చు.

**ఉదాహరణ 19 :** ఈ క్రింది దత్తాంశములో పది మంది విద్యార్థులకు గణాంక శాస్త్రంలో వచ్చిన మార్కులు యివ్వడమైనది. వాటి నుంచి అంకమధ్యమాన్ని, ప్రామాణిక విచలనాన్ని దగ్గర పద్ధతిలో కనుగొనండి.

మార్కులు : 62, 85, 73, 81, 74, 58, 66, 72, 54, 84

జవాబు :

క్రమసంఖ్య	మార్కులు	$dx = x - A$ ఊహించిన అంకమధ్యమం నుంచి (58) విచలనాలు (x - 58)	విచలనాల వర్గాలు $dx^2$
1	62	4	16
2	85	27	729
3	73	15	225
4	81	23	529
5	74	16	256
6	58	0	0
7	66	8	64
8	72	14	196
9	54	-4	16
10	84	26	676
N = 10		$\Sigma dx \begin{cases} +133 \\ - 24 = 109 \end{cases}$	$\Sigma dx^2 = 2707$

$$\text{అంకమధ్యమము } (\bar{x}) = A + \frac{\Sigma dx}{N}$$

$$A = 58, \Sigma dx = 129, N = 10$$

$$\bar{x} = 58 + \frac{129}{10}$$

$$\bar{x} = 58 + 12.9 = 70.9$$

$$\text{ప్రామాణిక విచలనం } (\sigma) = \sqrt{\frac{\Sigma dx^2}{N} - \left(\frac{\Sigma dx}{N}\right)^2}$$

$$\Sigma dx^2 = 2707 \quad \Sigma dx = 109 \quad N = 10$$

$$\sigma = \sqrt{\frac{2707}{10} - \left(\frac{109}{10}\right)^2}$$

$$= \sqrt{270.7 - (10.9)^2}$$

$$= \sqrt{270.7 - 118.8}$$

$$= \sqrt{151.9}$$

$$\sigma = 12.32$$

విచ్ఛిన్న శ్రేణులు - ప్రామాణిక విచలనం - ప్రత్యక్ష పద్ధతి :

విధానము : ఇవ్వబడిన శ్రేణికి అంకమధ్యమాన్ని మొదట కనుగొనవలె  $\left(\bar{x} = \frac{\Sigma fx}{N}\right)$ . శ్రేణిలోని చలనాలకు అంకమధ్యమానికి గల తేడా  $(x - \bar{x})$ ను కనుగొని  $d$  గా గుర్తిస్తాము. విచలనాలను వర్గాలు చేసి  $d^2$  లేదా  $(x - \bar{x})^2$ లను కనుగొనాలి. తరువాత వాటి అనురూప పౌనఃపున్యాలతో గుణించి  $f \times (x - \bar{x})^2$  లేదా  $f d^2$  ఆ గుణలబ్ధాల సంకలనము  $\Sigma f(x - \bar{x})^2$  or  $\Sigma f d^2$  కనుగొనుము.  $N =$  పౌనఃపున్యాల మొత్తము.

$$\text{ప్రామాణిక విచలనము } (\sigma) = \sqrt{\frac{\Sigma f d^2}{N}}$$

ఉదాహరణ 20 : దిగువ యిచ్చిన దత్తాంశము నుండి, అంకమధ్యమము, ప్రామాణిక విచలనము కనుగొనండి.

చలనాలు	6	7	8	9	10	11	12
పౌనఃపున్యము	3	6	9	13	8	5	4

జవాబు :

చలనాలు x	పౌనఃపున్యము f	లబ్ధము f × x	$\bar{x} = 9$ అంకమధ్యమం నుండి విచలనాలు $d = (x - \bar{x})$ or $(x - 9)$	విచలనాల వర్గాలు $(d^2)$	లబ్ధాలు $f \times d^2$
6	3	18	- 3	9	27
7	6	42	- 2	4	24
8	9	72	- 1	1	9
9	13	117	0	0	0
10	8	80	1	1	8
11	5	55	2	4	20
12	4	48	3	9	36
	N = 48	$\Sigma fx = 432$		28	$\Sigma f d^2 = 124$

$$\bar{x} = \frac{\Sigma fx}{N} = \frac{432}{48} = 9$$

$$\text{ప్రామాణిక విచలనము } (\sigma) = \sqrt{\frac{\Sigma f d^2}{N}}$$

$$\Sigma f d^2 = 124, N = 48$$

$$\sigma = \sqrt{\frac{124}{48}} = \sqrt{2.5833} = 1.606$$

$$\sigma = 1.61$$

$f d^2$  కనుగొనుటకు  $d^2$  ప్రత్యేకంగా కనుగొన అవసరం లేదు.  $f(d)$  ని  $d$  తో గుణించడం ద్వారా కూడా కనుగొనవచ్చు.

విచ్ఛిన్న శ్రేణి - ప్రామాణిక విచలనము - దగ్గర పద్ధతి - విచలనాల పద్ధతి :

విధానము : అంకమధ్యమము భిన్నంలో వస్తే దగ్గర పద్ధతిని ఉపయోగిస్తారు. శ్రేణిలోని ఒక విలువను ఊహించిన అంకమధ్యమంగా గ్రహించవలె. ప్రతిచలనానికి ఊహించిన అంకమధ్యమానికి గల తేడా విచలనాలు కనుక్కోవాలి  $dx = x - A$ . విచలనాలను  $(dx)$  అనురూప పానఃపున్యాలతో  $(f)$  గుణించి, లబ్ధాల సంకలనము  $\Sigma f(dx)$  కనుక్కోవాలి. తరువాత విచలనాలను వర్గాలు  $dx^2$  కనుక్కొని అనురూప పానఃపున్యాలతో గుణించి సంకలనము చేస్తే  $\Sigma f dx^2$  వస్తుంది.

విచలనాలను వర్గాలు  $dx^2$  కనుక్కొని అనురూప పానఃపున్యాలతో గుణించి  $f \times dx^2$  సంకలనము చేస్తే  $\Sigma f dx^2$  వస్తుంది.

$N =$  పానఃపున్యాల మొత్తం విలువలను క్రింది సూత్రంలో ప్రతిక్షేపించి ప్రామాణిక విచలనం కనుక్కోవాలి.

$$\text{ప్రామాణిక విచలనం } (\sigma) = \sqrt{\frac{\Sigma f(dx^2)}{N} - \left(\frac{\Sigma f dx}{N}\right)^2}$$

ఉదాహరణ 21 : దిగువ యివ్వబడిన శ్రేణి నుంచి ప్రామాణిక విచలనము కనుక్కోండి.

వేతనాలు (రూ॥లలో)	6	10	12	15	18	20
పని వారు	2	4	3	4	2	5

జవాబు :

వేతనాలు(రూ॥లలో) (x)	పనివారు ( f )	A = 12 ఊహించిన అంకమధ్యమం నుంచి విచలనాలు $dx = x - 12$	$dx^2$	fdx	$fdx^2$
6	2	- 6	36	- 12	72
10	4	- 2	4	- 8	16
12	3	0	0	0	0
15	4	3	9	12	36
18	2	6	36	12	72
20	5	8	64	40	320
	N = 20			$\left. \begin{matrix} \Sigma f dx & +64 \\ & -20 \end{matrix} \right\} 44$	$\Sigma f dx^2 = 516$

$$\sigma = \sqrt{\frac{\Sigma f dx^2}{N} - \left(\frac{\Sigma f(dx)}{N}\right)^2}$$

$$\Sigma f dx^2 = 516, \Sigma f dx = 44, N = 20,$$

$$\sigma = \sqrt{\frac{516}{20} - \left(\frac{44}{20}\right)^2} = \sqrt{25.8 - 2.2} = \sqrt{23.6} = 4.86$$

అవిచ్ఛిన్న శ్రేణులు - ప్రామాణిక విచలనము - ప్రత్యక్ష పద్ధతి (అంకమధ్యమం ద్వారా) : అవిచ్ఛిన్న శ్రేణులలోని తరగతులకు మధ్య విలువలు x గా తీసుకుని ప్రామాణిక విచలనం గణన చేస్తారు. అవిచ్ఛిన్న శ్రేణులకు ప్రామాణిక విచలనాన్ని ప్రత్యక్ష పద్ధతి, దగ్గర పద్ధతి(విచలన పద్ధతి), సోపాన విచలన పద్ధతిలో కూడా గణన చేయవచ్చు. సోపాన విచలన పద్ధతిని ఎక్కువగా ఉపయోగిస్తారు. ప్రత్యక్ష పద్ధతి ద్వారా ప్రామాణిక విచలనాన్ని కనుగొనుటకు క్రింది సూత్రాన్ని ఉపయోగిస్తారు.



$$\sigma = \sqrt{\frac{\Sigma fd^2}{N}}$$

$\sigma$  = ప్రామాణిక విచలనం,  $N$  = పానఃపున్యం మొత్తం,  $\Sigma fd^2$  = అంకమధ్యమము నుంచి తీసుకున్న విచలనాల వర్గాలను అనుబంధ పానఃపున్యాలతో గుణించగా వచ్చిన లబ్ధాల మొత్తం లేదా  $\Sigma f(x - \bar{x})^2$ ,  $x$  = మధ్య విలువలు.  
ఉదాహరణ 22 : ఒక ప్యాక్టరీలో వివిధ పనులు చేయుచున్న కార్మికులకు గంటకు చెల్లింపబడే వేతనాలు క్రింది పట్టిలో యివ్వబడినవి. వేతనాల ప్రామాణిక విచలనం గణన చేయండి.

గం. వేతనాలు (రూ॥లలో)	0 - 2	2 - 4	4 - 6	6 - 8	8 - 10
కార్మికులు	2	3	5	3	2

జవాబు :

వేతనాలు రూ॥లలో	కార్మికులు (f)	మధ్య విలువ (x)	fx	$x - \bar{x} = d$	$d^2$	$fd^2$
0 - 2	2	1	2	- 4	16	32
2 - 4	3	3	9	- 2	4	12
4 - 6	5	5	25	0	0	0
6 - 8	3	7	21	2	4	12
8 - 10	2	9	18	4	16	32
	$N = 15$		$\Sigma fx = 75$			$\Sigma fd^2 = 88$

$$\text{అంకమధ్యమము } (\bar{x}) = \frac{\Sigma fx}{N} = \frac{75}{15} = 5$$

$$\text{ప్రామాణిక విచలనం } (\sigma) = \sqrt{\frac{\Sigma fd^2}{N}} = \sqrt{\frac{88}{15}} = \sqrt{5.867} = 2.422$$

వేతనాల ప్రామాణిక విచలనము ( $\sigma$ ) = రూ. 2.42 పైసలు.

అవిచ్ఛిన్న శ్రేణులు - ప్రామాణిక విచలనము - దగ్గర పద్ధతి ఊహించిన అంకమధ్యమం ద్వారా విచలనాల పద్ధతి : అవిచ్ఛిన్న శ్రేణుల తరగతులకు మధ్య విలువలు  $x$  అవుతాయి. మధ్య విలువలలో ఒక విలువను ఊహించిన అంకమధ్యమంగా (A) తీసుకొని కింది సూత్రం ద్వారా ప్రామాణిక విచలనం గణన చేయటం జరుగుతుంది.

$$\text{ప్రామాణిక విచలనము } (\sigma) = \sqrt{\frac{\Sigma fdx^2}{N} - \left(\frac{\Sigma fdx}{N}\right)^2}$$

$\Sigma fdx$  = ఊహించిన అంకమధ్యమం నుండి తీసుకొన్న విచలనాలను అనురూప పానఃపున్యాలతో గుణిస్తే వచ్చిన లబ్ధాల సంకలనము.

$\Sigma fdx^2$  = ఊహించిన అంకమం నుండి తీసుకున్న విచలనాల వర్గాలను వాటి అనురూప పానఃపున్యముతో గుణిస్తే వచ్చిన లబ్ధాల మొత్తము.

$N$  = మొత్తం పానఃపున్యము

ఉదాహరణ 23 : దిగువ దత్తాంశములో 30 మంది విద్యార్థులకు ఒక పరీక్షలో వచ్చిన మార్కులు యివ్వబడినవి. మార్కుల ప్రామాణిక విచలనను గణన చేయండి.

మార్కులు	10-20	20-30	30-40	40-50	50-60	60-70	70-80	80-90
విద్యార్థులు	15	5	2	4	8	6	7	3

జవాబు :

మార్కులు	విద్యార్థులు (f)	మధ్య విలువ (x)	A = 55 x - A = dx	dx <sup>2</sup>	fdx	fdx <sup>2</sup>
10 - 20	1	15	- 40	1600	-40	1600
20 - 30	3	25	- 30	900	- 90	2700
30 - 40	2	35	- 20	400	- 40	800
40 - 50	4	45	- 10	100	- 40	400
50 - 60	2	55	0	0	0	0
60 - 70	6	65	10	100	60	600
70 - 80	7	75	20	400	140	2800
80 - 90	5	85	30	900	150	6500
	N = 30				$\left. \begin{matrix} +350 \\ -210 \end{matrix} \right\} 140$	$\Sigma fd^2x = 15400$

$$\text{ప్రామాణిక విచలనము } \sigma = \sqrt{\frac{\Sigma f dx^2}{N} - \left(\frac{\Sigma f dx}{N}\right)^2}$$

$$\Sigma fd^2x = 15400, \Sigma f dx = 140, N = 30$$

$$\sigma = \sqrt{\frac{15400}{30} - \left(\frac{140}{30}\right)^2}$$

$$= \sqrt{513.3 - (4.6)^2}$$

$$= \sqrt{513.3 - 21.7}$$

$$\sigma = \sqrt{491.6} = 22.17$$

ప్రామాణిక విచలనము - సోపాన విచలన పద్ధతి : అవిచ్ఛిన్న శ్రేణులలో తరగతుల అంతరాలు సమానంగా వున్నప్పుడు సామాన్య కారకాన్ని ఉపయోగించి విచలనాలకు బదులు సోపాన విచలనాలు తీసుకొని ప్రామాణిక విచలన గణన చేయవచ్చు. ఈ పద్ధతి వల్ల  $\sigma$  ను మరింత సులువుగా గణించవచ్చు.

విధానము : అవిచ్ఛిన్న శ్రేణులలోని తరగతులకు మధ్య విలువలు x కనుగొనాలి. మధ్య విలువలో ఒక విలువను (అంకమధ్యమానికి దగ్గరగా నుండు విలువ) ఊహించిన అంకమధ్యమంగా తీసుకొనవలె. మధ్యవిలువలకు, ఊహించిన అంకమధ్యమానికి గల తేడా

(x - A = dx) విచలనాలు కనుగొనవలె. అన్ని విచలనాలను నిశ్చేషంగా భాగించగల సామాన్య కారణాంకంతో భాగించి  $\left(\frac{dx}{C} = Dx\right)$

సోపాన విచలనాలు కనుగొనవలె. సోపాన విచలనాలను అనురూప పౌనఃపున్యాలతో గుణించి  $(f \times D_x)$  గుణ లబ్ధాల సంకలనము  $\Sigma fD_x$  కనుగొనవలె.  $fD_x$  లను  $D_x$  తో గుణించి సంకలనము  $\Sigma fD_x^2$  కనుగొనవలెను.  $N =$  పౌనఃపున్యాల మొత్తము,

$$\text{ప్రామాణిక విచలనము} = (\sigma) = \sqrt{\frac{\Sigma fD_x^2}{N} - \left(\frac{\Sigma fD_x}{N}\right)^2} \times C$$

$C =$  సాధారణ కారణాంకము

$\Sigma fD_x =$  సోపాన విచలనాలను అనురూప పౌనఃపున్యాలతో గుణిస్తే వచ్చే లబ్ధాల సంకలనము

$\Sigma fD_x^2 =$  సోపాన విచలనాల వర్గాలను అనురూప పౌనఃపున్యాలతో గుణిస్తే వచ్చే లబ్ధాల సంకలనము

**ఉదాహరణ 24 :** దిగువ దత్తాంశములో 30 మంది విద్యార్థులకు ఒక పరీక్షలో వచ్చిన మార్కులు యివ్వబడినవి. వాటి నుంచి మార్కుల ప్రామాణిక విచలనాన్ని గణన చేయండి.

మార్కులు	10-20	20-30	30-40	40-50	50-60	60-70	70-80	80-90
విద్యార్థులు	2	4	6	3	5	3	2	5

జవాబు :

మార్కులు రూ  లలో	విద్యార్థులు (f)	మధ్యవిలువ (x)	A = 55 ఊహించిన అంకమధ్యచూల నుంచి తీసుకున్న విచలనాలు dx = x - 55	$\frac{dx}{C} = D_x$ (C = 10)	$D_x^2$	fDx	$fD_x^2$
10 - 20	2	15	- 40	- 4	16	- 8	32
20 - 30	4	25	- 30	- 3	9	- 12	36
30 - 40	2	35	- 20	- 2	4	- 4	8
40 - 50	3	45	- 10	- 1	1	- 3	3
50 - 60	5	55	0	0	0	0	0
60 - 70	3	65	10	1	1	3	3
70 - 80	6	75	20	2	4	12	24
80 - 90	5	85	30	3	9	15	45
	N = 30					$\left. \begin{matrix} +30 \\ -27 \end{matrix} \right\} 3$	151
						$\Sigma fD_x$	$\Sigma fD_x^2$

$$\sigma = \sqrt{\frac{\Sigma fD_x^2}{N} - \left(\frac{\Sigma fD_x}{N}\right)^2} \times C$$

$C = 10 \quad \Sigma fD_x^2 = 151 \quad \Sigma fD_x = 3 \quad N = 30$

$$\begin{aligned} \sigma &= \sqrt{\frac{151}{30} - \left(\frac{3}{30}\right)^2} \times 10 \\ &= \sqrt{5.03 - (0.1)^2} \times 10 \\ &= \sqrt{5.03 - 0.31} \times 10 \\ &= \sqrt{4.72} \times 10 \\ \sigma &= 2.17 \times 10 = 21.7 \end{aligned}$$

**8.3.4.1 ప్రామాణిక విచలన గుణకము :** ప్రామాణిక విచలనము పరమ విస్తరణమానము. అందువలన రెండు లేక ఎక్కువ దత్తాంశాలను పోల్చుటకు ఇది ఉపయోగపడదు. అందువలన దత్తాంశాలను సరిపోల్చుటకు సాపేక్షికమానాన్ని గణన చేయవలసి యున్నది. ప్రామాణిక విచలనం యొక్క సాపేక్షిక మానాన్ని ప్రామాణిక విచలన గుణకం (coef σ) లేదా విచరణ గుణకం అంటారు. ప్రామాణిక విచలనాన్ని అంకమధ్యమంతో భాగిస్తే వచ్చిన ఫలితమే ప్రామాణిక విచలన గుణకమవుతుంది. సాంకేతికంగా ఇట్లా చూపవచ్చు.

$$\text{ప్రామాణిక విచలన గుణకము (coef} \cdot \sigma) = \frac{\sigma}{\bar{x}}$$

ఇది కొలత ప్రమాణాలతో సంబంధము లేని శుద్ధ సంఖ్య. దత్తాంశ పంపిణీలోని మార్పులు, సజాతీయత లేక ఏకత్వాలను రెండు లేక ఎక్కువ శ్రేణుల అధ్యయనానికి తోడ్పడును.

**8.3.4.2 విచరణ గుణకం (coefficeint of Variation) :** ప్రామాణిక విచలన గుణకం యొక్క శాత రూపమే విచరణ గుణకం. ప్రామాణిక విచలన గుణకాన్ని 100తో గుణించి (CV) విచరణ గుణకమును రాబట్టవచ్చును.

$$\text{విచరణ గుణకం (CV)} = \frac{\sigma}{\bar{x}} \times 100$$

$$CV = \text{విచరణ గుణకం, } \sigma = \text{ప్రామాణిక విచలనం, } \bar{x} = \text{అంకమధ్యమం}$$

పోల్చడానికి ఉపయోగించే విస్తరణ మానాలలో ఇది ముఖ్యమైనది. రెండు దత్తాంశాల పంపిణీలో మార్పు గుర్తించుటకు ఆ రెండింటికి విడివిడిగా విచరణ గుణకాలను గణన చేయవలె. తక్కువ విచరణ గుణకాన్ని (CV) కలిగియున్న విభాజనం స్థిరత్వం కలిగియున్నదని, ఎక్కువ విచరణ గుణకం కలిగి వున్న విభాజనం విచరణ ఎక్కువ లేదా స్థిరత్వం తక్కువ వున్నట్లు చెప్పవచ్చు. విద్యార్థుల ప్రతిభ, ఆదాయాలు, లాభాలు, ఎత్తులు మొదలగువానికి సంబంధించి రెండు లేక ఎక్కువ శ్రేణులు పోల్చుటకు విచరణ గుణకాన్ని ఉపయోగిస్తారు.

**ఉదాహరణ 25 :** దిగువ పట్టిలో ఒక కర్మాగారంలో పనిచేసే పనివారి వేతనాలు యివ్వబడినవి. ప్రామాణిక విచలనాన్ని, ప్రామాణిక విచలన గుణకాన్ని గణన చేయండి.

వేతనాలు(రూ॥లలో)	4-6	6-8	8-10	10-12	12-14	14-16	16-18	18-20
పనివారు	4	3	2	1	4	3	2	1

జవాబు :

వేతనాలు (రూ॥లలో)	పనివారు f	మధ్య విలువ (x)	అంకమధ్యమం నుండి విచలనాలు x - A = dx	fdx	fdx <sup>2</sup>
4 - 6	7	5	- 8	- 56	448
6 - 8	8	9	- 6	- 48	288
8 - 10	5	9	- 4	- 20	80
10 - 12	16	11	- 2	- 32	64
12 - 14	17	13	0	0	0
14 - 16	12	15	2	24	48
16 - 18	21	17	5	105	525
18 - 20	14	19	6	84	504

N = 100

 $\Sigma fdx = \begin{matrix} +213 \\ -156 \end{matrix} \} 57$   $\Sigma fdx^2 = 1957$ 

$$\bar{x} = A + \frac{\Sigma fdx}{N}$$

A = 13,  $\Sigma fdx = 57$ , N = 100

$$= 13 + \frac{57}{100} = 13 + 0.57 = 13.57 \text{ రూ॥లు}$$

$$\sigma = \sqrt{\frac{\Sigma fdx^2}{N} - \left(\frac{\Sigma fdx}{N}\right)^2} = \sqrt{\frac{1957}{100} - \left(\frac{57}{100}\right)^2} = \sqrt{19.57 - (0.57)^2}$$

$$\sigma = \sqrt{19.25} = 4.4$$

$$\text{ప్రామాణిక విచలన గుణకము (coef. \sigma)} = \frac{\sigma}{\bar{x}} = \frac{4.4}{13.57} = 0.32$$

ఉదాహరణ 26 : దిగువ ఇద్దరు క్రికెట్ ఆటగాళ్ళ పరుగుల వివరాలు యివ్వబడినవి. ఇందులో ఏ ఆటగాడు బాగా పరుగెత్తాడు. ఏ ఆటగాని పరుగులలో స్థిరత్వం వున్నది కనుగొనండి.

వరుస క్రమం	ఆటగాడు ( $x_A$ )	ఆటగాడు ( $x_B$ )
1	20	40
2	30	40
3	100	50
4	90	20
5	10	50
N = 5	$\Sigma x_A = 250$	$\Sigma x_B = 200$

$$A \text{ ఆటగాని సగటు పరుగులు} = \frac{\Sigma x_A}{N} = \frac{250}{5} = 50 \text{ పరుగులు}$$

$$B \text{ ఆటగాని సగటు పరుగులు} = \frac{\Sigma x_B}{N} = \frac{200}{5} = 40 \text{ పరుగులు}$$

సగటు పరుగులు పరిశీలించిన 'A' ఆటగాడు బాగా పరుగెత్తాడని చెప్పవచ్చు. అయితే ఏ ఆటగాని పరుగులలో స్థిరత్వం ఉందో తెలుసుకొనుటకు విచరణగుణకం కనుగొనవలె.

పరుస క్రమం	$x_A$	$x_B$	$\bar{x}_A = 50$ $d_A$ $(x - \bar{x})$	$d_A^2$ $\bar{x}_A$	$\bar{x}_B = 40$ $\frac{d_B}{(x - \bar{x}_B)}$ $\bar{x}_B$	$d_B^2$
1	20	40	- 30	900	0	0
2	30	40	- 20	400	0	0
3	100	50	+ 50	2500	+ 10	100
4	90	20	+ 40	1600	- 20	400
5	10	50	- 40	1600	+ 10	100
N = 5				$\Sigma d_A^2 = 7000$		$\Sigma d_B^2 = 600$

$$\bar{x}_A = \frac{\Sigma x_A}{N} = \frac{250}{5} = 50$$

$$\bar{x}_B = \frac{\Sigma x_B}{N} = \frac{200}{5} = 40$$

$$A \text{ ప్రామాణిక విచలనం } \sigma = \sqrt{\frac{\Sigma d_A^2}{N_A}} = \sqrt{\frac{7000}{5}} = 37.4$$

$$B \text{ ప్రామాణిక విచలనం } \sigma = \sqrt{\frac{\Sigma d_B^2}{N_B}} = \sqrt{\frac{600}{5}} = 10.95$$

$$A \text{ విచరణ గుణకము } (CV_A) = \frac{\sigma_A}{\bar{x}_A} \times 100$$

$$CV_A = \frac{37.4}{50} \times 100 = 74.8$$

$$B \text{ విచరణ గుణకము } (CV_B) = \frac{\sigma_B}{\bar{x}_B} \times 100$$

$$CV_B = \frac{10.95}{40} \times 100 = 27.36$$

A, B ఆటగాళ్ళ విచరణ గుణకాలు 74.8, 27.36. ఈ విచరణ గుణకాలను పరిశీలిస్తే A బ్యాట్స్‌మెన్ పరుగులలో విచరణ ఎక్కువగానున్నది. అనగా స్థిరత్వం తక్కువ. కాబట్టి A, B లలో B ఆటగాని పరుగులలో స్థిరత్వం ఉన్నదని గుర్తింపవచ్చు.

ఉదాహరణ 27 : దిగువ దత్తాంశములకు ప్రామాణిక విచలన గుణకాన్ని, విచరణ గుణకాన్ని (CV) కనుగొనండి.

దినసరి వేతనాలు	A కర్మాగారంలో పనివారు	B కర్మాగారంలో పనివారు
1	2	1
3	3	3
5	5	8
7	3	1
9	2	2

x	f <sub>A</sub>	f <sub>B</sub>	f <sub>A</sub> x	f <sub>B</sub> x	$\bar{x}_A = \bar{x}_B = 5$ d <sub>A</sub> or d <sub>B</sub> (x - $\bar{x}_A$ )	d <sub>A</sub> <sup>2</sup> or d <sub>B</sub> <sup>2</sup>	f <sub>A</sub> d <sub>A</sub> <sup>2</sup>	f <sub>B</sub> d <sub>B</sub> <sup>2</sup>
1	2	1	2	1	- 4	16	32	16
3	3	3	9	9	- 2	4	12	12
5	5	8	25	40	0	0	0	0
7	3	1	21	7	+2	4	12	4
9	2	2	18	18	+4	16	32	32
	N <sub>A</sub> = 15	N <sub>B</sub> = 15	Σf <sub>A</sub> x = 75	Σf <sub>B</sub> x = 75			88	64

$$A \text{ కర్మాగారపు సగటు వేతనం} = (\bar{x}_A) = \frac{\Sigma f_A x}{N_A} = \frac{75}{15} = 5 \text{ రూ॥}$$

$$B \text{ కర్మాగారపు సగటు వేతనం} = (\bar{x}_B) = \frac{\Sigma f_B x}{N_B} = \frac{75}{15} = 5 \text{ రూ॥}$$

$$A \text{ కర్మాగారపు ప్రామాణిక విచలనం} \sigma_A = \sqrt{\frac{\Sigma f_A d_A^2}{N_A}} = \sqrt{\frac{88}{15}} = \sqrt{17.4}$$

= రూ. 2.42

$$B \text{ కర్మాగారపు ప్రామాణిక విచలనం} \sigma_B = \sqrt{\frac{\Sigma f_B d_B^2}{N_B}}$$

$$= \sqrt{\frac{64}{15}} = \sqrt{12.8} = \text{రూ. 2.06.}$$

$$A \text{ ప్రామాణిక విచలన గుణకం (Coef. } \sigma_A) = \frac{\sigma_A}{\bar{x}_A} = \frac{2.42}{5} = 0.484$$

$$B \text{ ప్రామాణిక విచలన గుణకం } (\text{Coef. } \sigma_B) \frac{\sigma_B}{\bar{x}_B} = \frac{2.06}{5} = 0.412$$

$$A \text{ విచలన గుణకం } (CV_A) = \frac{\sigma_A}{\bar{x}_A} \times 100 \\ = \frac{2.42}{5} \times 100 = 48.4$$

$$B \text{ విచలన గుణకం } (CV_B) = \frac{\sigma_B}{\bar{x}_B} \times 100 \\ = \frac{2.06}{5} \times 100 = 41.2$$

$\therefore \bar{x}_A \ \& \ \bar{x}_B = 5, \ \sigma_A = 2.42, \ \sigma_B = 2.06, \ \text{Coef. } \sigma_A = 0.484, \ \text{Coef. } \sigma_B = 0.412, \ CV_A = 48.4, \ CV_B = 41.2$

అవిచ్ఛిన్న శ్రేణిలో విచరణ గుణకము :

ఉదాహరణ 28 : ఒక కళాశాలలోని మొదటి సం॥ బీ.ఏ., బి.కామ్ తరగతుల విద్యార్థుల అర్థశాస్త్రం, వాణిజ్యశాస్త్ర పరీక్షలలో వారు సాధించిన మార్కులు దిగువ దత్తాంశములో యివ్వబడినవి. ఎవరి మార్కులలో స్థిరత్వం ఎక్కువగానున్నది.

మార్కుల తరగతులు	బీ.ఏ. విద్యార్థులు	బి.కాం విద్యార్థులు
20 - 30	5	8
30 - 40	10	10
40 - 50	25	15
50 - 60	5	25
60 - 70	5	2

జవాబు : బీఏ విద్యార్థుల విభాజనాన్ని 1 గాను, బీకాం విభాజనాన్ని 2గాను భావించడం జరిగింది.

C.I.	$f_1$	$f_2$	MV( $x$ )	$A = 45$	$f_1 Dx$	$f_2 Dx$	$f_1 Dx^2$	$f_2 Dx^2$
				$Dx = \frac{x-A}{C}$				
				$C = 10$				
20 - 30	5	8	25	- 2	- 10	- 16	20	32
30 - 40	10	10	35	- 1	- 10	- 10	10	10
40 - 50	25	15	45	0	0	0	0	0
50 - 60	5	25	55	+ 1	5	25	5	25
60 - 70	5	2	65	+ 2	10	4	20	8
	$N_1 = 50$	$N_2 = 60$			$\Sigma f_1 Dx =$ - 5	$\Sigma f_2 Dx =$ 3	$\Sigma f_1 Dx^2 =$ 55	$\Sigma f_2 Dx^2 =$ 75



$$\begin{aligned} \text{బి.వి. విద్యార్థుల అంకమధ్యమము} &= \bar{x}_1 = A + \frac{\Sigma f_1 D_x}{N_1} \times C \\ &= 45 + \frac{-5}{50} \times 10 = 45 - 1 = 44 \end{aligned}$$

$$\begin{aligned} \text{ప్రామాణిక విచలనము} (\sigma_1) &= \sqrt{\frac{\Sigma f_1 D_x^2}{N_1} - \left(\frac{\Sigma f_1 D_x}{N_1}\right)^2} \times C \\ &= \sqrt{\frac{55}{50} - \left(\frac{-5}{50}\right)^2} \times 10 = \sqrt{1.1 - 0.01} \times 10 = 10.44 \end{aligned}$$

$$\text{బి.వి. విద్యార్థుల మార్కుల విచరణ గుణకం} (CV_1) = \frac{\sigma_1}{\bar{x}_1} \times 100 = \frac{10.44}{44} \times 100 = 23.73$$

$$\begin{aligned} \text{బి.కాం విద్యార్థుల మార్కుల అంకమధ్యమము} (\bar{x}_2) &= A + \frac{\Sigma f_2 D_x}{N_2} \times C \\ &= 45 + \frac{3}{60} \times 10 = 45 + 0.5 = 45.5 \end{aligned}$$

$$\begin{aligned} \text{ప్రామాణిక విచలనం} (\sigma_2) &= \sqrt{\frac{\Sigma f_2 D_x^2}{N_2} - \left(\frac{\Sigma f_2 D_x}{N_2}\right)^2} \times C \\ &= \sqrt{\frac{75}{60} - \left(\frac{3}{60}\right)^2} \times 10 = \sqrt{1.25 - (0.05)^2} \times 10 \\ &= \sqrt{1.2475} \times 10 = 1.11 \times 10 = 11.1 \end{aligned}$$

$$\text{బి.కాం విద్యార్థుల మార్కుల విచరణ గుణకము} = \frac{\sigma_2}{\bar{x}_2} \times 100 = \frac{11.1}{45.5} \times 100 = 24.4$$

బీవి, బి.కాం విద్యార్థుల విచరణ గుణకాలు వరుసగా 27.73, 24.4. బీకాం విద్యార్థుల విచరణ గుణకం తక్కువ కావున బీకాం స్థిరత్వం కలిగినదిగాను, బీవి విచరణ ఎక్కువగా ఉన్నట్లు చూపుతాము.

**8.3.4.3 ఉమ్మడి ప్రామాణిక విచలనము (Combined Standard Deviation) :** ఉమ్మడి అంకమధ్యమం లాగా రెండు లేక అంతకంటే ఎక్కువ శ్రేణుల సమాచారం లభ్యమైతే ఉమ్మడి ప్రామాణిక విచలనాన్ని గణన చేయవచ్చును. 1, 2 అనే రెండు విభాజనములు ఉన్నాయనుకుందాం.  $N_1, \bar{x}_1, \sigma_1$  లు మొదటి విభాజన అంశాలు, అంకమధ్యమం, ప్రామాణిక విచలనాలు.  $N_2, \bar{x}_2, \sigma_2$  అనేవి రెండో విభాజన అంశాలు, అంకమధ్యమం, ప్రామాణిక విచలనాలు అయితే ఆ రెండింటి ప్రామాణిక విచలనం ( $\sigma_{12}$ )ను క్రింది సూత్రం ద్వారా కనుక్కోవచ్చు.

$$\text{ఉమ్మడి అంకమధ్యమం } (\bar{x}_{1,2}) = \frac{N_1\bar{x}_1 + N_2\bar{x}_2}{N_1 + N_2}$$

$\bar{x}_1$  = మొదటి శ్రేణి అంకమధ్యమం,  $\bar{x}_2$  = రెండవ శ్రేణి అంకమధ్యమం,  $N_1$  = మొదటిశ్రేణిలోని అంశాల సంఖ్య,  $N_2$  = రెండవశ్రేణిలోని అంశాల సంఖ్య

$$\text{ఉమ్మడి ప్రామాణిక విచలనము} = (\sigma_{1,2}) = \frac{\sqrt{N_1\sigma_1^2 + N_2\sigma_2^2 + N_1d_1^2 + N_2d_2^2}}{N_1 + N_2}$$

$\sigma_1$  = మొదటి శ్రేణి ప్రామాణిక విచలనము,  $\sigma_2$  = రెండో శ్రేణి ప్రామాణిక విచలనము,  $d_1 = \bar{x}_1 - \bar{x}_{1,2}$  మొదటిశ్రేణి అంకమధ్యమానికి ఉమ్మడి అంకమధ్యమానికి గల తేడా,  $d_2 = \bar{x}_2 - \bar{x}_{1,2}$  రెండోశ్రేణి అంకమధ్యమానికి, ఉమ్మడి అంకమధ్యమానికి గల తేడా,  $N_1$  = మొదటిశ్రేణిలోని అంశాల సంఖ్య,  $N_2$  = రెండోశ్రేణిలోని అంశాల సంఖ్య

రెండుకంటే ఎక్కువ శ్రేణులున్నప్పుడు పై సూత్రాన్ని పాడిగించి ఉమ్మడి ప్రామాణిక విచలనాన్ని కనుగొనవచ్చు.

**ఉదాహరణ 29 :** రెండు పరిశ్రమలకు సంబంధించిన శ్రామికుల సంఖ్య, వారి సగటు వేతనం, ప్రామాణిక విచలనం క్రింద యివ్వబడినవి. ఉమ్మడి ప్రామాణిక విచలనం కనుక్కోండి.

	రసాయన పరిశ్రమ	వస్త్ర పరిశ్రమ
శ్రామికుల సంఖ్య	100	120
సగటు వేతనం (రూ॥లలో)	20	15
ప్రామాణిక విచలనం (రూ॥లలో)	9	6

**జవాబు :** పై సమాచారంలో రసాయన పరిశ్రమ 1గా, వస్త్రపరిశ్రమ 2గా తీసుకున్నాము.  $N_1 = 100, N_2 = 120, \bar{x}_1 = 20, \bar{x}_2 = 15, \sigma_1 = 9, \sigma_2 = 6$

$$\text{ఉమ్మడి అంకమధ్యమం} = (\bar{x}_{1,2}) = \frac{N_1\bar{x}_1 + N_2\bar{x}_2}{N_1 + N_2}$$

$$= \frac{100 \times 20 + 120 \times 15}{100 + 120} = \frac{2000 + 1800}{220}$$

$$\bar{x}_{1,2} = \frac{3800}{220} = 17.27 \text{ రూ॥లు}$$

$$\text{ఉమ్మడి ప్రామాణిక విచలనము} : \sigma_{1,2} = \sqrt{\frac{N_1\sigma_1^2 + N_2\sigma_2^2 + N_1d_1^2 + N_2d_2^2}{N_1 + N_2}}$$

$$N_1 = 100, N_2 = 120, \sigma_1 = 9, \sigma_2 = 6$$

$$d_1 = \bar{x}_1 - \bar{x}_{1,2} = 20 - 17.27 = 2.73$$

$$d_2 = \bar{x}_2 - \bar{x}_{1,2} = 15 - 17.27 = -2.27$$

$$\begin{aligned}\sigma_{1,2} &= \frac{\sqrt{100 \times 9^2 + 120 \times 6^2 + 100(2.73)^2 + 120(-2.27)^2}}{100 + 120} \\ &= \frac{\sqrt{(100 \times 81) + (120 \times 36) + (100 \times 7.4529) + (120 \times 5.129)}}{100 + 120} \\ &= \frac{\sqrt{8100 + 4320 + 745.29 + 618.348}}{220} \\ \sigma_{1,2} &= \sqrt{\frac{13783.638}{220}} = \sqrt{62.6529} = 7.915 \text{ రూ॥లు.}\end{aligned}$$

#### 8.3.4.4 ప్రామాణిక విచలనము - సుగుణాలు

1. ఇది స్పష్టంగా, నిర్దుష్టంగా నిర్వచించబడి, శ్రేణిలోని అన్ని అంశాలపై ఆధారపడిన మానము.
2. ప్రామాణిక విచలనము ప్రముఖంగా వినియోగించబడే విస్తరణ మానము.
3. విచలనాలను వర్గాలు చేయడం వలన గుర్తులను విస్మరించడం (+, -) వలన యేర్పడిన అప్రతిష్ట తొలగిపోయెను.
4. బీజీయ ప్రస్తావనకు అనువైనది.
5. రెండు లేదా ఎక్కువ శ్రేణుల ఉమ్మడి ప్రామాణిక విచలనము కూడా కనుక్కోవచ్చు.
6. ప్రతిచయనాల మార్పుల వలన యిది యితర విస్తరణ మానాల కంటే తక్కువగా ప్రభావితమగును.
7. పై సుగుణాల వలన ప్రామాణిక విచలనాన్ని విస్తరణ మానాలలో ఆదర్శమానానికి ఉండవలసిన లక్షణాలున్నట్లు పరిగణిస్తారు. అసౌష్టవము, కకుదత్వము, సహసంబంధము, ప్రతిచయనము, ప్రతిగమన విశ్లేషణకు తోడ్పడును. వ్యాపార చక్ర సిద్ధాంతాలు వ్యాపార అంచనాలలో కూడా ఉపయోగిస్తారు.

#### 8.3.4.5 దోషాలు

విస్తరణ మానాల్లో అతి ప్రాముఖ్యమైన కొలమానము ప్రామాణిక విచలనము. ఎన్నో సుగుణాలు ఈ కొలమానానికి వున్ననూ, కొన్ని దోషాలు కూడా లేకపోలేదు. అవి :

1. మిగతా విస్తరణ మానాలకన్నా దీని గణన గణాంక పరిజ్ఞానం లేనివారికి కష్టము.
2. విపరీత అంశాలకు ఎక్కువ ప్రాధాన్యత యిస్తుంది. అందువలన ఆర్థికశాస్త్ర వేత్తలు, వ్యాపారుల అభిమానాన్ని సొందలేకపోయినది.

ఇన్ని లోపాలున్నప్పటికీ అంకమధ్యమాన్ని మొదటి శ్రేణి సగటులలో ఎలాగైతే ఎక్కువగా ఉపయోగిస్తామో అదే విధంగా ప్రామాణిక విచలనాన్ని రెండో శ్రేణి సగటులో ఉపయోగిస్తాము.

**8.3.4.6 విస్తృతం లేదా విస్తృతి (Variance) :** అంకమధ్యమం నుంచి తీసుకున్న విచలనాల వర్గాల అంకమధ్యమమును విస్తృతి అంటారు. సాంకేతికంగా  $\sigma^2$  అని చెప్పవచ్చు. ప్రాథమిక గణాంక శాస్త్రంలో ప్రామాణిక విచలనం ప్రాముఖ్యత ఎక్కువ ఉన్నత గణాంకశాస్త్రంలో విస్తృతి ప్రాముఖ్యం ఎక్కువ.

$$\text{విస్తృతి (Variance)} = \sigma^2$$

అంకమధ్యమం నుంచి విచలనాలను తీసుకుని గణన చేస్తే విస్తృతి సూత్రాలు కింది విధంగా ఉంటాయి.

$$\text{వ్యక్తిగత శ్రేణుల్లో,} \quad \sigma^2 = \frac{\sum d^2}{N}$$

విచ్చిన్న, అవిచ్చిన్న శ్రేణుల్లో,  $\sigma^2 = \frac{\sum fd^2}{N}$

$d = x - \bar{x}$

ఊహించిన అంకమధ్యమాల నుంచి విచలనాలను తీసుకుంటే వ్యక్తిగత శ్రేణులు  $\sigma^2 = \frac{\sum dx^2}{N} - \left(\frac{\sum dx}{N}\right)^2$

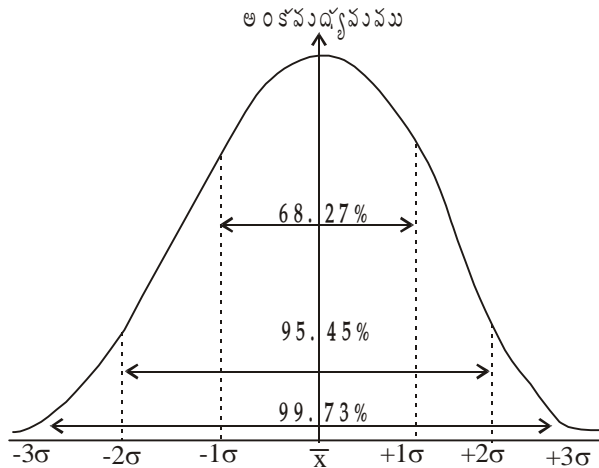
విచ్చిన్న, అవిచ్చిన్న శ్రేణులు =  $\sigma^2 = \frac{\sum fdx^2}{N} - \left(\frac{\sum fdx}{N}\right)^2$

$dx = x - A$

**8.3.4.7 ప్రామాణిక విచలనము - సామాన్య వక్రరేఖ (Standard Deviation) :** సామాన్య విభాజనంలో అంశాల పంపిణీ ఏ విధంగా జరిగిందనే విషయాన్ని అంకమధ్యమం, ప్రామాణిక విచలనాల ప్రాతిపదికగా తెలుపవచ్చు. విభాజనంలో అంకమధ్యమం నుంచి ఒకటి, రెండు, మూడు చొప్పున ప్రామాణిక విచలనాలను గుర్తిస్తే మనకు విభాజనం యొక్క వైశాల్యము మూడు భాగాలలో వస్తుంది. ఇంకా ఒక్కొక్క భాగము అంశాల మొత్తంలో కొంత కచ్చితమైన శాతంగా ఉంటుంది.

ఒక సామాన్య వక్రరేఖలో అంకమధ్యమంనకు + ఒక ప్రామాణిక విచలనము. - ఒక ప్రామాణిక విచలనము మధ్య వ్యాప్తిగల వైశాల్యంలో ( $\bar{x} \pm 1\sigma = 68.27\%$  అంశాలు), మొత్తం అంశాలలో 68.27 శాతం అంశాలు వుంటాయి. అట్లాగే + రెండు ప్రామాణిక విచలనాలు. - రెండు ప్రామాణిక విచలనాల వ్యాప్తిగల భాగంలో ( $\bar{x} \pm 2\sigma = 95.45\%$  అంశాలు) 95.45 శాతం అంశాలు వుంటాయి. ఇంకా + మూడు ప్రామాణిక విచలనాలు గల భాగంలో ( $\bar{x} \pm 3\sigma = 99.73\%$  అంశాలు) వుంటాయి. కాబట్టి ఒక సామాన్య వక్రరేఖలో ప్రామాణిక విచలనానికి ఆరు రెట్లు తీసుకుంటే మొత్తం శ్రేణులలో ఉన్న అంశాల వ్యాప్తి ఇంచుమించుగా సరిపోతుంది. దిగువ ఇచ్చిన చిత్రంలో ఈ ధర్మం (property) ఉదహరించడమైనది.

అంకమధ్యమము-ప్రామాణిక విచలనము - పరిమాణాలలో అంశాల విభాజనము



దీనివల్ల సామాన్య వక్రరేఖలో అంకమధ్యమం నుంచి మనకు ఇచ్చిన దూరంలో ఎన్ని అంశాలున్నాయో కనుక్కోవచ్చు.

అంకమధ్యమము ± ఒక ప్రామాణిక విచలనము ( $\bar{x} \pm 1\sigma$ ) = 68.27% అంశాలు

అంకమధ్యమము ± రెండు ప్రామాణిక విచలనాలు ( $\bar{x} \pm 2\sigma$ ) = 95.45% అంశాలు

అంకమధ్యమము ± మూడు ప్రామాణిక విచలనాలు ( $\bar{x} \pm 3\sigma$ ) = 99.73% అంశాలు

ఉదాహరణ 30 : క్రింది దత్తాంశంలో 90 మంది పనివారి దినసరి ఉత్పత్తి ఇచ్చినారు. వాటి నుంచి పని వాని సగటు ఉత్పత్తి, ప్రామాణిక విచలనాన్ని కనుక్కోండి. అంకమధ్యమం నుంచి  $\pm 2\sigma$  పరిమితిలో గల అంశాల శాతాన్ని కనుక్కోండి.

ఉత్పత్తి చేసే వస్తువులు	పనివారి సంఖ్య
18 - 22	5
23 - 27	8
28 - 32	15
33 - 37	25
38 - 42	20
43 - 47	10
48 - 52	7

ఉత్పత్తి చేసే వస్తువులు సమగ్ర తరగతులలో	పనివారి సంఖ్య f	మధ్య విలువలు (x)	ఊహించిన అంక మధ్యమం నుంచి(35) సోపాన విచలనాలు $Dx = \frac{x-A}{C}$ C=5	fDx	fDx <sup>2</sup> (fDx × Dx)
17.5 - 22.5	5	20	- 3	- 15	45
22.5 - 27.5	8	25	- 2	- 16	32
27.5 - 32.5	15	30	- 1	- 15	15
32.5 - 37.5	25	35	0	0	0
37.5 - 42.5	20	40	+ 1	+ 20	20
42.5 - 47.5	10	45	- 2	+ 20	40
47.5 - 52.5	7	50	+ 3	+ 21	63
	N=90			$\Sigma fDx \begin{cases} +61 \\ -46 \end{cases}$	$\Sigma fDx^2 = 215$

$$\bar{x} = A + \frac{\Sigma fDx}{N} \times C$$

పై సాంకేతికాలు మనకు తెలుసు, కాబట్టి

$$\bar{x} = 35 + \frac{15 \times 5}{90}$$

$$\bar{x} = 35 + .83 = 35.83$$

$$\text{ప్రామాణిక విచలనము } (\sigma) = \sqrt{\frac{\Sigma fDx^2}{N} - \left(\frac{\Sigma fDx}{N}\right)^2} \times C$$

ఇక్కడ సాంకేతికాలకు అర్థము మనకు తెలుసు. కాబట్టి,

$$\begin{aligned} \text{ప్రామాణిక విచలనము} &= \sqrt{\frac{215}{90} - \left(\frac{15}{90}\right)^2} \times 5 = \sqrt{2.39 - (.18)^2} \times 5 \\ &= \sqrt{2.39 - 0.0324} \times 5 = \sqrt{2.3576} \times 5 = 1.536 \times 5 \\ \sigma &= 7.68 \end{aligned}$$

ఇప్పుడు అంకమధ్యమం నుంచి  $\pm 2\sigma$ లో గల అంశాల శాతం కనుగొనాలి.

అంకమధ్యమము = 35.83                      ప్రామాణిక విచలనము = 7.68

$\therefore \bar{x} \pm 2\sigma = 35.83 \pm 2(7.68)$

$\bar{x} + 2\sigma = 35.83 + 15.36$

$\bar{x} - 2\sigma = 20.47$

$\bar{x} + 2\sigma = 35.83 + 15.36$

$\bar{x} + 2\sigma = 35.83 + 15.36 = 51.19$

అంటే 20.47 నుంచి 51.19 మధ్య గల అంశాల శాతాలను గణన చేయవలె. దీనికి ప్రతి తరగతిలోని అంశాలు సమానంగా వున్నాయని ఊహించవలసి వుంటుంది. అట్లా ఊహించినట్లయితే మనకు వున్న 20.47 - 51.19 మధ్య గల అంశాలను తీసుకోవడానికి 22.5 - 47.5 వరకు తరగతులలో వున్న అన్ని అంశాలను తీసుకొని, ఇంకా 17.5 - 22.5లో గల అనుపాత అంశాలు (Proportionate items), అట్లాగే 47.5 - 52.5లో గల అనుపాత అంశాలు తీసుకోవలె.

అంటే 17.5 - 22.5 మధ్య 5 పానఃపున్యాలున్నాయి. అవి సమానంగా విభాజనం చెందినట్లు మనము ఊహించినాము. కాబట్టి ఒక్కొక్క అంశము ఒక పానఃపున్యానికి సమానము. అంటే 20.47 - 22.5ల మధ్య గల అంశాలు (22.5 - 20.47) = 2.03కు సమానము. కాబట్టి వాటి మధ్య 2.03 అంశాలుంటాయి. అట్లాగే 47.5 - 52.5ల మధ్య 7 పానఃపున్యాలున్నాయి. కాబట్టి ఒక్కొక్క అంశము  $\frac{7}{5}$  పానఃపున్యాలకు సమానము. అంటే 51.19 వరకు అంటే 47.5 నుంచి 51.19 వరకు (51.19-47.5) = 3.69 అంశాలుంటాయి. ఒక్కొక్క అంశానికి  $\frac{7}{5}$  అయితే 3.69 అంశాలకు  $3.69 \times \frac{7}{5} = 5.19$  పానఃపున్యమవుతుంది. ఇప్పుడు 20.47-51.19కి మధ్య గల మొత్తం పానఃపున్యాలు తీసుకుంటే అవి ఈ విధంగా ఉంటాయి.

20.47 నుంచి 22.5 వరకు గల పానఃపున్యాలు = 2.03

22.5 నుంచి 47.5 వరకు గల పానఃపున్యాలు = 8+15+25+20+10 = 78

అట్లాగే 47.5 నుంచి 51.19 వరకు గల పానఃపున్యాలు = 5.19

మొత్తం పానఃపున్యాలు = 85.22

మొత్తం 90 అంశాలలోను మనకు  $\bar{x} \pm 2\sigma$  మధ్య గల అంశాలు 85.22కు సమానమైతే వాటి శాతం =  $\frac{85.22}{90} \times 100 = 94.7$

$\therefore$  అంకమధ్యమము  $\pm 2\sigma$  మధ్య రమారమి 95శాతం అంశాలు వున్నట్లు చెప్పవచ్చు.

**8.3.5 లోరెంజ్ వక్రరేఖ (Lorenz Curve) :** విస్తరణను రేఖాచిత్రపటం ద్వారా అధ్యయనం చేయడాన్ని డా॥ మేక్స్ ఒ. లోరెంజ్ (Dr. Max. O. Lorenz) అనే గొప్ప ఆర్థిక గణాంక శాస్త్రవేత్త కనుక్కొన్నాడు. ఆ విధంగా గీసే వక్రరేఖనే లోరెంజ్ వక్రరేఖ అంటారు. సంపద, ఆదాయము (Wealth and income) పంపిణీలను అధ్యయనం చేయడానికి మొదట దీనిని లోరెంజ్ ఉపయోగించినాడు.

లోరెంజ్ వక్రరేఖ సంచితశాతాల వక్రరేఖ (Cumulative Percent Curve). ఇందులో అంశాల పరిమాణము, పానః పున్యము, రెండూ సంచితం చేయవలె. అట్లా సంచితం చేసిన అంశాల మొత్తానికి శాతాలను కనుక్కోవలె. అప్పుడు శాతాలను రేఖాచిత్రపటంపై గుర్తించవలె. అయితే చలరాశుల సంచిత శాతాలను X - అక్షం మీదను, పానఃపున్య సంచిత శాతాలను Y - అక్షం మీద తీసుకోవలె. సాధారణంగా మనం తీసుకునే స్కేలుకు ఇక్కడ తీసుకునే స్కేలుకు తేడా వున్నది. అదేమిటంటే భూమి మీద అంటే X - అక్షం మీద '100' నుంచి '0' వరకూ, ఊర్ధ్వ అక్షము (Vertical Axis) మీద అంటే Y - అక్షం మీద, O - నుంచి 100 వరకు స్కేలును తీసుకోవాలి. అట్లా చేస్తే మనకు సమాన విభజన రేఖ (Line of equal distribution) వస్తుంది. ఈ రేఖ  $45^0$  రేఖగా వుంటుంది. మనం గీసే లోరెంజ్ వక్రరేఖలకు, సమాన విభజన సరళరేఖకు వుండే దూరము ఎంత ఎక్కువగా వుంటే విచరణము అంత ఎక్కువగా వుంటుందని గ్రహించవచ్చు. సరిపోల్చవలసి వచ్చిన రెండు శ్రేణుల విస్తరణ పరిమాణాన్ని (Magnitude) కూడా ప్రదర్శిస్తుంది. సాధారణంగా లాభాలు, సంపద, రాబడులు, వేతనాలు మొదలైనవి అధ్యయనం చేయడానికి ఇది ఉపయోగపడుతుంది. అయితే ఇది చిత్రపటం ద్వారా రెండు శ్రేణుల మధ్య గల విస్తరణకు ఒక భావం స్ఫూరింపజేస్తుండేకాని, సంఖ్యా రూపంలో విలువను యివ్వలేదు. ఇదే దీని లోపము.

**సమాన విభజన రేఖ :** వివిధ చలనాల యొక్క విలువలు పానఃపున్యాల విభజనము. అనుపాతంలో (Pro-portionately) సమానంగా వున్నట్లయితే బిందువులు ఒక సరళరేఖలో ఏర్పడతాయి. అంటే విభజనంలోని అంశాల పెరుగుదల లేదా పానఃపున్యంలో పెరుగుదలకు అనుపాతంగా వుంటే అది సమాన విభజన రేఖను ఇస్తుంది. ఉదాహరణకు 10 శాతం రాబడి విభజనం అనుపాతంగా 10 శాతం అంశాలు పంచుకొంటే లేదా 20 శాతం రాబడి. 20 శాతం అంశాలు పంచుకొంటే అది మనకు సమాన విభజనరేఖను ఇస్తుంది. ఇంకో విధంగా చెప్పవలెనంటే రాబడి 10, 20, 40, 50, 80 ఉన్నప్పుడు ఈ ఒక వర్గంలో వ్యక్తుల సంఖ్యలు 5, 10, 20, 25, 40 వున్నప్పుడు వాటి సంచిత శాతాలు మొత్తానికి 5, 15, 35, 60, 100గా వుంటాయి. ఇక్కడ రెండు విభజనాలలో వున్న సంచిత శాతాలు ఒక్కటే కాబట్టి వాటితో మనకు ఒక సరళరేఖ వస్తుంది. అట్లాంటి సరళరేఖనే సమాన విభజనరేఖ (Line of equal distribution) అంటారు. దీనికి మిగిలిన వక్రరేఖలకు వున్న దూరాన్ని బట్టి మనము విస్తరణ గురించి ఒక అభిప్రాయానికి రావచ్చు.

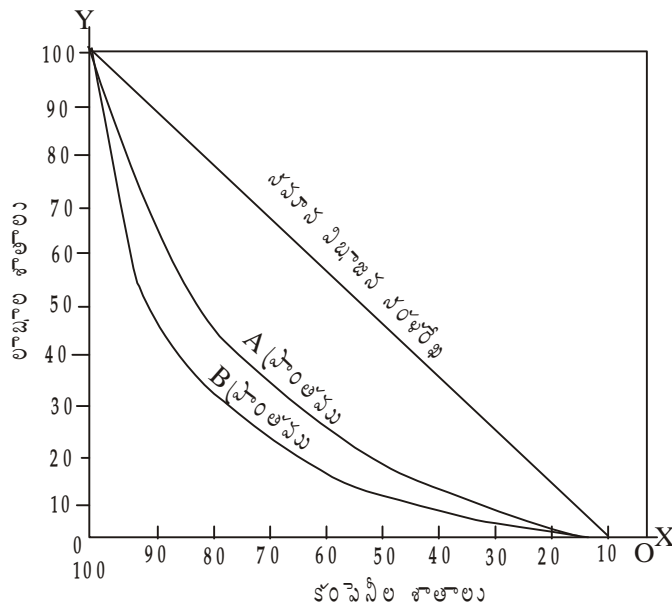
**ఉదాహరణ 31 :** కింద ఇచ్చిన దత్తాంశంలో రెండు ప్రాంతాలకు చెందిన కంపెనీలు, వాటి లాభాల వివరణలు ఇచ్చినారు. వాటి నుంచి లోరెంజ్ వక్రరేఖను గుర్తించండి.

లాభాలు వేలలో	A ప్రాంతంలో కంపెనీలు	B ప్రాంతంలో కంపెనీలు
6	6	2
25	11	38
60	13	52
84	14	28
105	15	28
105	17	26
179	10	12
400	14	4

జవాబు : లోరెంజ్ వక్రరేఖ గుర్తించడానికి అంశాల పరిమాణము, పౌనఃపున్యం కూడా సంచితం చేసి తర్వాత వాటి శాతాలను గణన చేయవలె. అట్లా శాతాలను గణన చేసేటప్పుడు క్రమంగా మొత్తాలను 100కు సమానం చేయవలె.

వేల రూ  లలో	సంచిత లాభాలు	సంచిత శాతాలు	A ప్రాంతంలో			B ప్రాంతంలో		
			కంపెనీల సంఖ్య	సంచిత పౌనఃపున్యము	సంచిత శాతం	కంపెనీల సంఖ్య	సంచిత పౌనఃపున్యము	సంచిత శాతం
		$\frac{\text{సంచిత లాభాలు}}{\text{మొత్తం లాభాలు}} \times 100$			$\frac{\text{A ప్రాంతంలో సంచిత పౌనఃపున్యం}}{\text{A మొత్తం పౌనఃపున్యం}} \times 100$			$\frac{\text{B ప్రాంతంలో సంచిత పౌనఃపున్యం}}{\text{B మొత్తం పౌనఃపున్యం}} \times 100$
6	6	0.6%	6	6	6%	2	2	1%
25	31	3.1%	11	17	17%	38	40	20%
60	91	9.1%	13	30	30%	52	92	46%
84	175	17.5%	14	44	44%	28	120	60%
105	280	28%	15	59	59%	28	148	74%
150	430	43%	17	76	76%	26	176	87%
170	600	60%	10	86	86%	12	186	93%
400	1000	100%	14	100	100%	14	200	100%

లోరెంజ్ వక్రరేఖలు





## 8.4 సారాంశం

కేంద్రస్థాన విలువకు అసలు విభజనంలోని అంశాలకు వున్న తేడా లేదా విచరణను కొలిచే పద్ధతిని విచరణమానం లేదా విస్తరణ మానం అంటారు. విస్తరణ మానాలను పరమ, సాపేక్ష విస్తరణ మానాలు అని రెండు రకాలుగా చెప్పడం జరుగుతుంది. వ్యాప్తి, చతుర్థాంశవిచలనం, మాధ్యమిక విచలనం, ప్రామాణిక విచలనాలు పరమ మానాలు. వీటి సాపేక్ష మానాలు వ్యాప్తి గుణకం, చతుర్థాంశ విచలన గుణకం, మాధ్యమిక విచల గుణకం, ప్రామాణిక విచలన గుణకం లేదా విచరణ గుణకం. ఐదో విస్తరణ మానం లోరెంజ్ వక్రం. ఈ పద్ధతి రేఖా పద్ధతి. విస్తరణ మానాల్లో అతి ప్రధానమైన విస్తరణ మానం ప్రామాణిక విచలనం. విస్తరణ మానాలన్నింటికీ కొన్ని ప్రయోజనాలు, కొన్ని లోపాలు వున్నాయి. సందర్భాన్ని బట్టి ఒక్కొక్క సమయంలో ఒక్కో విస్తరణమానం ఉపయోగకరంగా వుంటుంది. అయితే ఈ విస్తరణ మానాలు ద్వారా అంశాలు ఏ వైపున విస్తరించాయి, దత్తాంశ శిఖరాగ్రం ఏ విధంగా వుంది అనే విషయాలను గూర్చి వివరించలేవు. కావున వైషమ్యము, కుకుదత్వాలు రూపొందించబడ్డాయి. వీటిని గురించి తరువాత పాఠంలో చదువుకుందాం.

## 8.5 ముఖ్య పదాలు

1. వ్యాప్తి : విభజనంలోని అత్యధిక, అత్యల్ప అంశాల మధ్య వ్యత్యాసం.
2. విచరణ గుణకం : క్రమవిచలనాన్ని అంకమధ్యమంతో భాగించి 100తో గుణిస్తే విచరణ గుణకం లభ్యమవుతుంది.
3. లోరెంజ్ వక్రరేఖ : ఆదాయ వ్యత్యాసాలను కనుగొనేందుకు మాక్స్ ఓ. లోరెంజ్ రూపొందించిన రేఖను లోరెంజ్ రేఖ అంటారు.
4. సమాన పంపిణీ రేఖ : లోరెంజ్ వక్రాన్ని రూపొందించేటప్పుడు చూపే 45<sup>0</sup> రేఖను సమాన పంపిణీ రేఖ అంటారు.
5. సెమీ-ఇంటర్-క్వార్టల్-వ్యాప్తి : చతుర్థాంశ విచలనాన్నే సెమీ-ఇంటర్-క్వార్టల్ - వ్యాప్తి (Semi-Inter Quartile Range) అంటారు.

## 8.6 నమూనా ప్రశ్నలు

1. విస్తరణ అంటే ఏమిటి? పరమ, సాపేక్ష విస్తరణల మధ్య విచక్షణ చేయండి.
2. వివిధ విస్తరణ మానాల సాపేక్ష ప్రయోజనాలను గూర్చి చర్చించండి.
3. ప్రామాణిక విచలనము మెరుగైన మానంగా ఏ విధంగా పరిగణింతురు.
4. విస్తరణ మానాల ఆవశ్యకత ఏమి? స్థాన ప్రాతిపదికపై రూపొందించిన విస్తరణమానాలను గూర్చి వ్రాయండి.
5. విచరణ గుణకమనగానేమిటి? దాని ప్రాముఖ్యత తెల్పుము.
6. ఉమ్మడి ప్రామాణిక విచలనాన్ని ఎట్లా గణిస్తారు.
7. ఈ క్రింది వానిని గూర్చి లఘుటీకలు వ్రాయండి.
 

(1) వ్యాప్తి, వ్యాప్తి గుణకం	(2) లోరెంజ్ వక్రరేఖ
(3) విస్తృతి	(4) సామాన్యవక్రరేఖ
8. లోరెంజ్ వక్రము అనగానేమి? నిర్మాణాన్ని గూర్చి తెల్పుము.

9. దిగువ దత్తాంశము నుండి మాధ్యమ విచలనము, దాని గుణకాన్ని గణన చేయండి.

మార్కులు	0-10	10-20	20-30	30-40	40-50	50-60	60-70
విద్యార్థులు	8	12	20	40	20	12	8

10. దిగువ దత్తాంశము నుండి చతుర్థాంశ విచలనము, దాని గుణకములు కనుగొనండి.

వేతనాలు	60-64	64-68	68-72	72-76	76-80	80-84
కార్మికులు	22	24	32	42	20	10

11. క్రింది దత్తాంశము నుండి ప్రామాణిక విచలనము, విచరణ గుణకము కనుగొనండి.

X	5-10	10-15	15-20	20-30	30-40	40-50	50-60	60-70
f	12	9	3	8	4	12	17	5

12. A, B కంపెనీల వాటాల ధరలు దిగువ యివ్వబడినవి. ఏ కంపెనీ వాటాల విలువలో స్థిరత్వమున్నది.

A :	110, 108, 104, 106, 112, 116, 104, 100, 102, 98
B :	216, 214, 210, 210, 212, 214, 208, 206, 208, 202

13. ఒక కళాశాలలోని బి.ఏ. విద్యార్థులు అర్థశాస్త్రం, ఆర్థిక గణాంక శాస్త్రం పరీక్షలలో సాధించిన మార్కులు దిగువన యివ్వబడినవి. ఏ పరీక్షలో విద్యార్థులు స్థిరమైన ప్రతిభను కనబరచిరి.

మార్కులు	విద్యార్థులు	
	అర్థశాస్త్రం	ఆర్థిక గణాంకశాస్త్రం
20 - 30	2	6
30 - 40	9	11
40 - 50	29	18
50 - 60	54	35
60 - 70	11	30
70 - 80	5	10

14. A, B అను ఇద్దరు బ్యాట్స్‌మెన్లు చేసిన స్కోరు వివరాలు దిగువ పట్టికలో యివ్వబడినవి. వీరిలో ఎవరిని స్థిరమైన బ్యాట్స్‌మన్ గా భావిస్తారు.

స్కోరు	ఇన్నింగ్సు	
	A	B
50	1	1
51	0	2
52	0	2
53	4	6

54	3	3
55	6	4
56	3	2
57	3	0

15. ఈ క్రింది విభజనానికి చతుర్థాంశ విచలనం కనుక్కోండి.

రాబడి వర్గము (రూ॥లలో)	పనివారి సంఖ్య
50 లోపు	1
50 - 70	16
70 - 90	39
90 - 110	58
110 - 130	60
130 - 150	46
150 - 170	22
170 - 190	15
190 - 210	15
210 - 230	9
230 ఆ పైన	10
<b>మొత్తం</b>	<b>291</b>

16. దిగువ దత్తాంశం నుంచి, మాధ్యమ విచలనము, ప్రామాణిక విచలనము కనుక్కోండి.

లాభాలు రూ॥లలో	కంపెనీల సంఖ్య
5,000 నుంచి 6,000	10
4,000 నుంచి 5,000	15
3,000 నుంచి 4,000	30
2,000 నుంచి 3,000	10
1,000 నుంచి 2,000	5
0 నుంచి 1,000	4
-1,000 నుంచి 0	6
-2,000 నుంచి - 1,000	8
-3,000 నుంచి - 2,000	10

17. వారపు సంపాదనల విభజనము దిగువ పట్టిలో ఇవ్వడమైంది. వారి సంపాదన విచరణ గుణకాన్ని కనుక్కోండి.

వారపు సంపాదన రూ॥లలో	పనివారి సంఖ్య
22 - 22.99	1

23 - 23.99	7
24 - 24.99	21
25 - 25.99	27
26 - 26.99	42
27 - 27.99	54
28 - 28.99	34
29 - 29.99	13
30 - 30.99	9
31 - 31.99	1
32 - 32.99	1

18. దగ్గర పద్ధతిని ఉపయోగించి దిగువ ఇచ్చిన దత్తాంశంలో ప్రామాణిక విచలనాన్ని గణన చేయండి. మీరు గణన చేసిన సూత్రాన్ని సాంకేతికంగా చూపండి.

వయస్సు	పౌనఃపున్యము
10 - 19	3
20 - 29	61
30 - 39	223
40 - 49	137
50 - 59	53
60 - 69	19
70 - 79	4

19. ఒక కొనుగోలుదారు రెండు కంపెనీల నుంచి మనిల్లా కవర్ల శాంపుల్స్ తీసుకొన్నాడు. ఆ కవర్ల శాంపుల్స్ తన ప్రయోగశాలలో పరిక్షించుకొంటే దిగువ ఫలితాలు వచ్చినాయి.

ప్రేలుడు వత్తిడి కి.గ్రాములలో	పగిలిన కవర్లు	
	A కంపెనీ శాంపుల్స్	B కంపెనీ శాంపుల్స్
50 - 60	3	10
60 - 70	42	16
70 - 80	22	38
80 - 90	3	6

ఏ కంపెనీ కవర్లు శ్రేష్టతలో (Quality) ఎక్కువ చలనంతో వున్నాయి.

20. ఒక ఫుట్ బాల్ సీజన్ లో A టీము చేసిన 'గోల్'ల (Goals) పట్టి దిగువ ఇవ్వడమైంది.

స్కారు చేసిన గోల్ల సంఖ్య	పాల్స్ న్న పోటీల (Matches) సంఖ్య
0	1
1	9
2	7
3	5
4	3

21. దిగువ ఇచ్చిన 542 లోక్సభ (పార్లమెంటు) సభ్యుల వయోవిభాజనం నుంచి ప్రామాణిక విచలనాన్ని గణన చేయండి.

వయస్సు	సభ్యుల సంఖ్య
20	3
30	61
40	132
50	153
60	140
70	51
80	2
<b>మొత్తం</b>	<b>542</b>

22. రెండు పట్టణాలలో గత అయిదు సంవత్సరాలలో ఒక వస్తువు ధరలు దిగువ ఇచ్చినారు. వాటి నుంచి ఏ పట్టణంలో ధరలు ఎక్కువ నిశ్చలతలో వున్నాయో కనుక్కోండి.

వరుస క్రమం	A పట్టణంలో ధరలు	B పట్టణంలో ధరలు
1	10	10
2	22	20
3	19	18
4	23	12
5	16	15

23. దిగువ ఇచ్చిన వ్యవసాయ రాబడుల నుంచి లోరెంజ్ వక్రరేఖను గీయండి.

రాబడుల వ్యాప్తి	కుటుంబాల సంఖ్య	మొత్తం రాబడులు
51 - 250	1744	268
251 - 450	527	186
451 - 650	302	166
651 - 850	186	139
851 - 1050	123	117
1051 - 1250	90	104

24. రెండు కర్మాగారాలలో పనిచేసేవారి రాబడి దిగువ పట్టిలో ఇవ్వడమైంది. దీని నుంచి లోరెంజ్ వక్రరేఖ గీసి ఏ కర్మాగారము రాబడిలో ఎక్కువ అసమానతలు (Inequalities) వున్నాయో చూపించండి.

రాబడి రూ  లలో	A కర్మాగారము	B కర్మాగారము
500 లోపు	6000	5000
500 - 1000	4250	4500
1000 - 2000	3600	4800
2000 - 3000	1500	2200
3000 - 4000	650	1500

25. విస్తరణ మానాలన్నింటిలోకి ప్రామాణిక విచలనం మిన్న అని ఎందుకంటామో విపులీకరించండి. దీనిలో ప్రధానమేమిటి?

**సంక్షిప్త ప్రశ్నలు**

26. వ్యాప్తి - వ్యాప్తి గుణకము
27. చతుర్థాంశ విచలనం
28. చతుర్థాంశ విచలన గుణకం
29. మాధ్యమిక విచలనం
30. మాధ్యమిక విచలన గుణకం
31. ప్రామాణిక విచలనం
32. ప్రామాణిక విచలన గుణకం
33. విచరణ గుణకం
34. లోరెంజ్ వక్రము

**8.7 చదువదగిన గ్రంథాలు**

B.N. Elhance	:	Fundamentals of Statistics
S.P. Gupta	:	Statistical Methods
C.B. Gupta	:	An Introduction to Statistical Methods
S.C. Gupta	:	Fundamentals of Statistics
M.C. Shukla &	:	Statistics-Theory and Practics.
S.S. Gulshan		

**పాఠ్యంశ నిర్మాణక్రమం**

- 9.0 అక్ష్యాలు
- 9.1 విషయపరిచయం
- 9.2 వైషమ్యము
  - 9.2.1 వైషమ్యం - రకాలు
  - 9.2.2 వైషమ్య కొలమానాలు
    - 9.2.2.1 పరమ వైషమ్య కొలమానాలు
    - 9.2.2.2 సాపేక్ష వైషమ్య కొలమానాలు
- 9.3 కుకుదత్వం లేక శిఖరత్వం
- 9.4 సారాంశం
- 9.5 ముఖ్య పదాలు
- 9.6 నమూనా ప్రశ్నలు
- 9.7 చదువదగిన గ్రంథాలు

**9.0 అక్ష్యాలు**

ఈ పాఠం చదివిన తరువాత మీరు ఈ క్రింది అంశాలను తెలుసుకోగలరు.

- \* సౌష్ఠవ విభాజనం లక్షణాలు
- \* అసౌష్ఠవ విభాజనాలు-వాటిలోని రకాలు
- \* కార్ల్స్పెయర్సన్ వైషమ్యగుణకం
- \* బౌలీ వైషమ్య గుణకం
- \* కుకుదత్వం, కుకుదత్వంలో రకాలు

**9.1 విషయపరిచయం**

గత సాతాల్లో మనం కేంద్రస్థానపు సగటులు, విస్తరణ మానాలను గూర్చి తెలుసుకున్నాం. కేంద్ర స్థానానికి ప్రాతినిధ్యం ఇచ్చే ఏక సంఖ్యను కేంద్రస్థానపు సగటులు తెలియజేస్తే, దత్తాంశం కేంద్రానికి ఏ విధంగా విస్తరించింది అనే విషయాన్ని విస్తరణమానాలు తెలియజేస్తాయి. అయితే దత్తాంశం ఏ విధంగా పంపిణీ అయ్యింది, కేంద్రానికి ఏ వైపున ఎక్కువగా పంపిణీ అయ్యింది అనే విషయాన్ని మాత్రం పై రెండు కొలమానాలు వివరించలేవు. అంతేకాకుండా దత్తాంశ పంపిణీ రేఖ (సామాన్యవక్రరేఖ) శిఖరాగ్ర స్వభావాన్ని కూడా ఇవి తెలియజేయలేవు. దత్తాంశము కేంద్రానికిరువైపులా ఏ విధంగా పంపిణీ అయ్యిందనే విషయాన్ని అసౌష్ఠవము

తెలియజేస్తుంది. శిఖరాగ్ర స్వభావాన్ని గూర్చి కుకుదత్వం లేదా కకురత తెలియజేస్తుంది. ఈ అసౌష్ఠ్యం, కుకుదత్వాలను గూర్చి ఈ పాఠంలో తెలుసుకుందాం.

### 9.2 వైషమ్యము (Skewness)

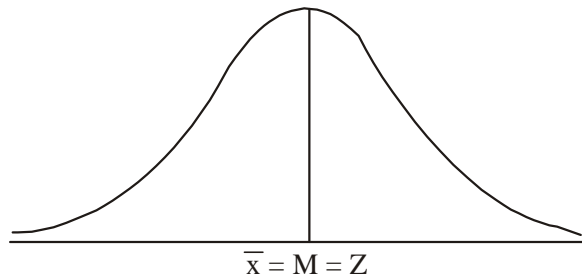
దత్తాంశంలోని చలరాశులను సరిపోల్చుటమంటే, వాటి పానఃపున్య విభాజనాల లక్షణాలను సరిపోల్చి చూడవలసి వుంటుంది. పానఃపున్య విభాజనాల లక్షణాలైన కేంద్రస్థాన కొలతలు (Measures of Central Tendency) మరియు విస్తరణ కొలతలను (Measures of Dispersion) గూర్చి ముందు పాఠాలలో నేర్చుకున్నాం. ఈ లక్షణాలతోపాటు పానఃపున్య విభాజనాలకు మరో రెండు లక్షణాలు కూడా కలవు. అవి అసౌష్ఠ్యము (Asymmetry) మరియు శిఖరత్వము (Peakedness). వీటినే వైషమ్యము మరియు కుకుదత్వం (Kurtosis) అంటారు.

రెండు పానఃపున్య విభాజనాలలో అంకమధ్యమము మరియు ప్రామాణిక విచలనం సమానం కావచ్చు కాని, అంకమధ్యమము చుట్టూ దత్తాంశ విలువల విస్తరణ స్వరూపములలో తేడా వుండవచ్చు. అనగా దత్తాంశ విలువలు అంకమధ్యమం కేంద్రంగా సౌష్ఠ్యంగా విస్తరించబడివుండవచ్చు లేక భిన్నంగా అంటే అసౌష్ఠ్యంగాను విస్తరించబడి వుండవచ్చు. గత కొలమానాలు ఈ లక్షణాన్ని గూర్చి వివరించలేవు.

దత్తాంశ విస్తరణలోని తారతమ్యాలను తెలుసుకోడానికి ఉద్దేశించబడిన కొలమానమే వైషమ్యము. వైషమ్యము అనగా సౌష్ఠ్య లోపము (lack of symmetry) లేదా అసౌష్ఠ్యము అంటారు. ఒక విభాజనం సౌష్ఠ్యంగా లేనప్పుడు దానిని అసౌష్ఠ్య విభాజనమని లేక వైషమ్య విభాజనం అంటారు. కావున అసౌష్ఠ్య విభాజనం గూర్చి తెలుసుకోవాలంటే ముందు సౌష్ఠ్య విభాజనం గూర్చి తెలుసుకోవాలి. ఒక విభాజనం క్రింది లక్షణాలు కలిగివుంటే దానిని సౌష్ఠ్య విభాజనం అంటారు.

1. చలరాశుల అంకమధ్యమం, మధ్యగతము, బాహుళక విలువలు సమానముగా వుంటాయి. i.e.  $\bar{X} = M = Z$
2. చతుర్థాంశాలు మధ్యగతానికి సమాన దూరంలో వుంటాయి. i.e.  $Q_3 - M = M - Q_1$
3. పానఃపున్య రేఖ 'గంటా'కారములో వుండి, ఆరేఖ చివరలు x అక్షాన్ని తాకవు. (Bell Shaped Asymptotic)

రేఖాపటం - 9.1



4. పానఃపున్యరేఖ అంకమధ్యమము దృష్ట్యా సమానంగా విస్తరించబడి వుంటుంది. అనగా అంకమధ్యమానికి ఎడమవైపు రేఖకు, x - అక్షానికి మధ్య వైశాల్యము. అంకమధ్యమానికి కుడివైపున రేఖకు, x - అక్షానికి మధ్య వైశాల్యమునకు సమానం అన్నమాట. అంటే సామాన్య వక్రరేఖను మధ్యకు మడిస్తే ఖచ్చితంగా సమానంగా వుంటుంది.
5. విభాజన శతాంశాలు సమాన దూరంలో పంపిణీ అయి వుంటాయి.



6.  $\bar{x} \pm 1\sigma = 68.27$  శాతం అంశాలను,  $\bar{x} \pm 2\sigma = 95.45$  శాతం అంశాలను,  $\bar{x} \pm 3\sigma = 99.73$  శాతం అంశాలను కలిగి వుంటాయి.

పై లక్షణాలున్న పౌనఃపున్య విభాజనం సౌష్ఠవ విభాజనం. ఈ లక్షణాలు కలిగి వుండని యెడల ఆ విభాజనాన్ని అసౌష్ఠవ విభాజనం లేక వైషమ్య విభాజనం అంటారు.

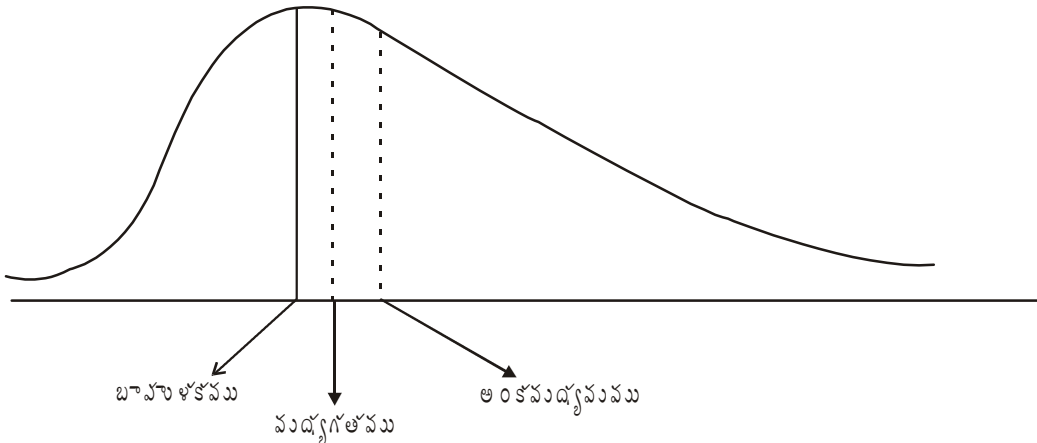
9.2.1 వైషమ్యం-రకాలు : పౌనఃపున్య విభాజనంలో అంశాల పంపిణీ స్వభావాన్ని బట్టి వైషమ్యాన్ని రెండు విధాలుగా చెప్పవచ్చు.

1. ధనాత్మక వైషమ్యం (Positive Skewness),
2. ఋణాత్మక వైషమ్యం (Negative Skewness)

1. ధనాత్మక వైషమ్యం : ఒక పౌనఃపున్య విభాజనంలో అంకమధ్యమం విలువ, మధ్యగతము, బాహుళకముల విలువ కంటే ఎక్కువగా వున్నప్పుడు దానిని ధనాత్మక వైషమ్యం అని, ఆ విభాజనాన్ని ధనాత్మక వైషమ్య విభాజనం అని అంటారు ( $\bar{X} > M > Z$  లేదా అంకమధ్యమము > మధ్యగతము > బాహుళకము). ధనాత్మక వైషమ్యం కలిగిన విభాజనం యొక్క వక్రరేఖ 'తోక' కుడివైపునకు వుంటుంది. (క్రింది రేఖాపటము - 9.2 చూడండి).

రేఖాపటం - 9.2

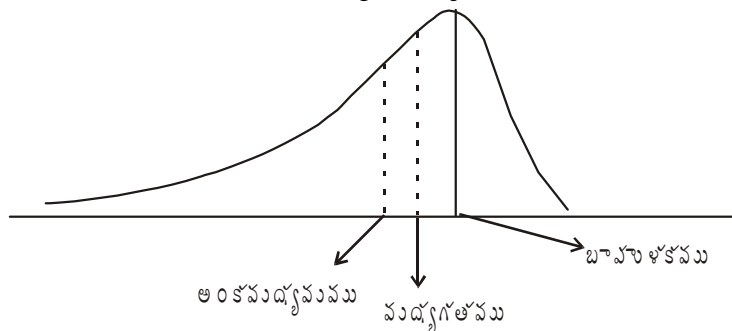
ధనాత్మక వైషమ్యం



2. ఋణాత్మక వైషమ్యం : ఒక పౌనఃపున్య విభాజనంలో అంకమధ్యమము విలువ మధ్యగతము, బాహుళకముల విలువల కంటే తక్కువగా వున్నప్పుడు (అంకమధ్యమము < మధ్యగతము < బాహుళకము లేదా  $\bar{X} < M < Z$ ) దానిని ఋణాత్మక వైషమ్యం అని, ఆ విభాజనాన్ని ఋణాత్మక వైషమ్యం విభాజనం అని అంటారు. ఋణాత్మక వైషమ్యం గల విభాజనం యొక్క పౌనఃపున్యరేఖ 'తోక' ఎడమవైపునకు వుంటుంది (క్రింది పటము 9.3 చూడండి).

రేఖాపటం - 9.3

ఋణాత్మక వైషమ్యం



పై వివరణను బట్టి వైషమ్యం కలిగి వున్న విభాజనంలో అంకమధ్యమము, మధ్యగతము మరియు బాహుళకముల విలువలు సమానంగా వుండవు. అంతేకాక, ఆ విభాజనం యొక్క పౌనఃపున్యరేఖ గంటాకారముగా వుండదు అనే విషయం స్పష్టమవుతుంది.

**9.2.2 వైషమ్య కొలమానాలు (Measures of Skewness) :** వైషమ్యం రెండు రకాలని, అవి ధనాత్మక, రుణాత్మక అని తెలుసుకున్నాం. అయితే వైషమ్యం ఏ పరిమాణములో వున్నది తెలుసుకోవటానికి వివిధ శాస్త్రవేత్తలు వివిధ సూత్రాలను రూపొందించారు. కారల్ పీయర్సన్, బౌలీ, కెల్లీలు అసాష్టవాన్ని కొలిచే సూత్రాలను రూపొందించారు. అయితే ఈ కొలమానాలు రెండు రకాలుగా చెప్పవచ్చు. అవి :  
 1. పరమ కొలమానాలు (Absolute Measure), 2. సాపేక్ష కొలమానాలు (Relative Measure). దత్తాంశములోని అంశాలు ఏ ప్రమాణాలలో వుంటాయో, పరమ కొలమానాల ద్వారా వచ్చే విలువలు కూడా అవే ప్రమాణాలలో వుంటాయి. కావున వేర్వేరు ప్రమాణాలలో వున్న దత్తాంశాలను (ఉదాహరణకు ఒక విభాజన యూనిట్లు కిలోగ్రాములు మరొక విభాజనం రూ॥లలో వుంటే) పోల్చి చూచుటకు పరమ కొలమానాలు పనికిరావు.

సాపేక్షిక కొలమానాల ద్వారా వచ్చు విలువలు శుద్ధ సంఖ్యలు. దత్తాంశములోని అంశాలు కొలవబడిన ప్రమాణాలపై ఆధారపడి వుండవు. కావున వేర్వేరు ప్రమాణాలలో సేకరించబడిన దత్తాంశాలను సరిపోల్చి చూచి అధ్యయనం చేయడం సాపేక్షిక కొలమానాలలోనే సాధ్యమవుతుంది. పరమవైషమ్య కొలమానాలను విస్తరణ కొలమానాలనే భాగిస్తే ఏర్పడే కొలమానాలనే సాపేక్షిక వైషమ్య కొలమానాలంటారు. వైషమ్యాన్ని కొలవటానికి సామాన్యంగా సాపేక్షిక కొలమానాలే ఉపయోగించడం జరుగుతుంది.

**9.2.2.1 వైషమ్య పరమ కొలమానాలు :** వైషమ్యాన్ని కొలిచే సూత్రాలను రూపొందించిన శాస్త్రవేత్తల ప్రాతిపదికగా వైషమ్య పరమమానాలను తెలుపుతాము. అవి : 1. కారల్ పీయర్సన్ వైషమ్యము, 2. బౌలీ వైషమ్యము, 3. కెల్లీ వైషమ్యము.

1. కారల్ పీయర్సన్ వైషమ్యము : అంకమధ్యమానికి బాహుళకానికి గల వ్యత్యాసమే కారల్ పీయర్సన్ వైషమ్యము.

$$\text{కారల్ పీయర్సన్ వైషమ్యము} = \text{అంకమధ్యమం} - \text{బాహుళకం లేదా } \bar{X} - Z.$$

2. బౌలీ వైషమ్యము : చతుర్థాంశాల ప్రాతిపదికపై బౌలీ సూత్రాన్ని రూపొందించారు. 3వ చతుర్థాంశం నుంచి మధ్యగతానికి గల వ్యత్యాసం నుంచి, మధ్యగతం నుంచి మొదటి చతుర్థాంశాల మధ్యగల వ్యత్యాసాన్ని తీసివేస్తే బౌలీ వైషమ్యం లభ్యమవుతుంది.

$$\text{బౌలీ వైషమ్యం} = (3\text{వ చతుర్థాంశం} - \text{మధ్యగతం}) - (\text{మధ్యగతం} - 1\text{వ చతుర్థాంశం})$$

(లేదా)

$$(Q_3 - M) - (M - Q_1)$$

3. కెల్లీ వైషమ్యం : దశాంశాల మరియు శతాంశాల ప్రతిపాదికపై కెల్లీ వైషమ్యం సూత్రం రూపొందించారు. దశాంశాల ప్రాతిపదికపై అయినట్లయితే వైషమ్యము

$$\text{కెల్లీ వైషమ్యము} = (D_9 - M \text{ or } D_5) - (M \text{ or } D_5 - D_1)$$

$$(9\text{వ దశాంశం} - \text{మధ్యగతం లేదా } 5\text{వ దశాంశము}) - (\text{మధ్యగతం లేదా } 5\text{వ దశాంశము} - 1\text{వ దశాంశము})$$

శతాంశాల ద్వారా అయినట్లయితే

$$(P_{90} - M \text{ or } P_{50}) - (M \text{ or } P_{50} - P_{10})$$

(90వ శతాంశం - మధ్యగతం లేదా 50వ శతాంశం) - (మధ్యగతం లేదా 50వ శతాంశం - 10వ శతాంశం)

9.2.2.2 సాపేక్ష వైషమ్య కొలమానాలు (Relative Measures of Skewness) : పైన సూచించిన నిరపేక్ష కొలమానాలను విస్తరణ మానాలతో భాగిస్తే సాపేక్ష కొలమానాలు వస్తాయి. సాపేక్ష పద్ధతిలో వైషమ్యాన్ని కనుగొనేందుకు రూపొందించిన కొన్ని సూత్రాలు :

1. కార్ల్ పియర్సన్ వైషమ్య గుణకము (Karl Pearson's Coefficient of Skewness)
2. బౌలీ వైషమ్య గుణకము (Bowley's Coefficient of Skewness)
3. కెల్లీ వైషమ్య గుణకము (Kelly's Coefficient of Skewness)

1. కార్ల్ పియర్సన్ వైషమ్య గుణకము : సౌష్ఠవ పౌనఃపున్య విభాజనంలో అంకమధ్యమము, మధ్యగతము, బాహుళకముల మధ్య సంబంధాన్ని ఆధారంగా చేసుకుని కార్ల్ పియర్సన్ వైషమ్య గుణకాన్ని ప్రతిపాదించాడు. ఒక విభాజనం యొక్క అంకమధ్యమం విలువలో నుండి బాహుళకము విలువ తీసివేయగా వచ్చిన తేడాను ప్రామాణిక విచలనంచే భాగిస్తే కార్ల్ పియర్సన్ వైషమ్య గుణకము లభ్యమవుతుంది.

$$\text{వైషమ్య గుణకము (SK}_P) = \frac{\text{అంకమధ్యమము} - \text{బాహుళకము}}{\text{ప్రామాణిక విచలనము}}, \text{ గుర్తులు ఉపయోగించగా}$$

$$\text{కార్ల్ పియర్సన్ వైషమ్య గుణకము (SK}_P) = \frac{\bar{X} - Z}{\sigma}$$

$$\bar{X} = \text{అంకమధ్యమము}, Z = \text{బాహుళకము}$$

$$\sigma = \text{ప్రామాణిక విచలనము}, \text{SK}_P = \text{కార్ల్ పియర్సన్ వైషమ్య గుణకము}$$

సైద్ధాంతికంగా ఈ గుణకానికి అవధులు లేవు. కాని వాడుకలో ఎక్కువగా ఈ గుణకము విలువ -1, +1 మధ్యలో వుంటుంది. సౌష్ఠవ విభాజనంలో అంకమధ్యమము, మధ్యగతము, బాహుళకముల విలువలు సమానం. కావున ఈ వైషమ్య గుణకం '0' (సున్నా) అవుతుంది.

ఒక విభాజనం ధనాత్మక వైషమ్య విభాజనం అయినచో ఈ వైషమ్య గుణకము యొక్క విలువ ధనాంశమవుతుంది. వైషమ్య గుణకము యొక్క విలువ ఋణాత్మకమైతే ఆ విభాజనం ఋణాత్మక వైషమ్య విభాజనమవుతుంది. కార్ల్ పియర్సన్ వైషమ్యగుణకం పైన వివరించిన విధంగా ఒక విభాజనంలోని వైషమ్య పరిమాణాన్నే కాక దాని దిశను కూడా సూచిస్తుంది.

పైన చెప్పిన సూత్రంలో బాహుళకము సరిగ్గా నిర్వచించబడనప్పుడు పై సూత్రం ఉపయోగించరాదు. ఎందుకనగా, కొన్ని పౌనఃపున్య విభాజనాలలో బాహుళక విలువను లేక స్థానాన్ని నిర్ణయించడం కష్టం. అటువంటి సందర్భాలలో వైషమ్యగుణకాన్ని క్రింది సూత్రం ఉపయోగించి కొలువవచ్చు. ఇది  $\bar{X}$ , M, Zల సంబంధంపై ఆధారపడి రూపొందించినది. ఈ మూడింటి మధ్యగల సంబంధం క్రింది విధంగా వుంటుంది.

$$\text{బాహుళకము} = 3 \times \text{మధ్యగతం} - 2 \times \text{మధ్యగతం} \text{ అవుతుంది. (లేక) } Z = 3M - 2\bar{X}$$

దీని ఆధారంగా పై సూత్రం వర్తించలేనప్పుడు కింది సూత్రాన్ని ఉపయోగించడం జరుగుతుంది.

$$\text{కార్లవేయర్సన్ వైషమ్య గుణకము (SK}_P) = \frac{3 (\text{అంకమధ్యమం} - \text{మధ్యగతము})}{\text{ప్రామాణిక విచలనము}} \text{ or } = \frac{3(\bar{X} - M)}{\sigma}$$

$\bar{X}$  = అంకమధ్యమము,  $M$  = మధ్యగతము,  $\sigma$  = ప్రామాణిక విచలనము

ఈ సూత్రంను ఉపయోగించి లెక్కించిన వైషమ్య గుణకము విలువ -3, +3 మధ్యలో వుండును. కాని వాడుకలో యిది చాలా అరుదుగా సంభవిస్తుంది. ఇంతకుముందు వివరించినట్లే, ఒక విభాజనం ధనాత్మక వైషమ్య విభాజనం అయితే, ఈ వైషమ్య గుణకం విలువ ధనాంశమవుతుంది. విభాజనం ఋణాత్మక వైషమ్య విభాజనం అయితే ఈ వైషమ్య గుణకం విలువ ఋణాత్మకం అవుతుంది.

**ఉదాహరణ 1 (వ్యక్తిగతశ్రేణి) :** ఈ క్రింది దత్తాంశానికి కార్లవేయర్సన్ వైషమ్య గుణకం కనుక్కోండి.

అంశాలు : 24, 26, 25, 29, 24, 28, 25, 26, 28, 25

**జవాబు :** కార్లవేయర్సన్ వైషమ్య గుణకం లెక్కించడానికి అంకమధ్యమము, బాహుళకము మరియు ప్రామాణిక విచలనాలు అవసరము.

అంకమధ్యమము, ప్రామాణిక విచలన గణన పట్టిక

వరుస సంఖ్య	విలువలు (x)	d(x - $\bar{x}$ )	d <sup>2</sup> (x - $\bar{x}$ ) <sup>2</sup>
1	24	- 2	4
2	26	0	0
3	25	-1	1
4	29	3	9
5	24	- 2	4
6	28	2	4
7	25	- 1	1
8	26	0	0
9	28	2	4
10	25	- 1	1
N = 10	$\Sigma x = 260$	0	28

$$SK_P = \frac{\bar{x} - z}{\sigma} \text{ ఈ సూత్రంలో } \bar{x}, z, \sigma \text{ అను కనుగొనాలి.}$$

$$\text{అంకమధ్యమం } (\bar{x}) = \frac{\Sigma x}{N} = \frac{260}{10} = 26$$

$$\text{బాహుళకము} = 25 \text{ (25 అనే అంశం ఎక్కువసార్లు వచ్చింది కాబట్టి).}$$

$$\text{ప్రామాణిక విచలనము } (\sigma) = \sqrt{\frac{\Sigma d^2}{N}}$$

$$\Sigma d^2 = \Sigma'(x - \bar{x})^2 = \text{అంకమధ్యగతం నుంచి తీసుకున్న విచలనాల వర్గాల మొత్తం}$$

$$N = \text{అంశాల సంఖ్య}$$

$$\sigma = \sqrt{\frac{28}{10}} = \sqrt{2.8} = 1.67$$

$$\text{కారల్ పీయర్సన్ వైషమ్య గుణకము (SK<sub>P</sub>)} = \frac{\text{అంకమధ్యమము} - \text{బాహుళ్యము}}{\text{ప్రామాణిక విచలనము}} = \frac{\bar{x} - Z}{\sigma}$$

$$\bar{x} = 26, \sigma = 25, \sigma = 1.67$$

$$SK_P = \frac{26 - 25}{1.67} = 0.599$$

వైషమ్య గుణకం విలువ ఆధారంగా, యిచ్చిన దత్తాంశము ధనాంశ వైషమ్యం కలిగివుంది.

ఉదాహరణ 2 (విచ్చిన్నశ్రేణి) : దిగువ ఇచ్చిన దత్తాంశానికి వైషమ్యగుణకం కనుక్కోండి.

వేతనం (రూ॥లలో) :        8        9        10        11        12

పనివారల సంఖ్య :        25        35        48        52        40

జవాబు : అంకమధ్యమము, ప్రామాణిక విచలన గణన పట్టిక (ఊహించిన అంకమధ్యమం ఉపయోగించి)

వేతనం(రూ॥లలో) (X)	పనివారల సంఖ్య (f)	dx (x - A) A = 10	fdx	dx <sup>2</sup>	fdx <sup>2</sup>
8	25	- 2	- 50	4	100
9	35	- 1	- 35	1	35
10	48	0	0	0	
11	52	1	52	1	52
12	40	2	80	4	160
మొత్తం	N = 200		Σfdx = 47		Σfdx <sup>2</sup> = 347

$$SK_P = \frac{\bar{X} - Z}{\sigma}$$

సూత్రంలోని  $\bar{X}$ , Z, σ లను మొదట కనుగొనాలి.

$$\text{అంకమధ్యమము } (\bar{X}) = A + \frac{\Sigma fdx}{N}$$

$$A = \text{ఊహించిన అంకమధ్యమము} = 10,$$

$\Sigma fdx =$  ఊహించిన అంకమధ్యమాలనుండి తీసుకున్న విచలనాలను వాటి పౌనఃపున్యాలతో గుణించగా వచ్చిన లబ్ధాల మొత్తము = 47.

$N =$  పౌనఃపున్యాల మొత్తము = 200

పై విలువలు సూత్రంలో ప్రతిక్షేపించినపుడు

$$\text{అంకమధ్యమము } (\bar{X}) = 10 + \frac{47}{200} = 10 + 0.235 = 10.235$$

$$\bar{x} = 10.24 \text{ రూ॥లు}$$

బాహుళకము : బాహుళకాన్ని కనుగొనటానికి వర్గీకృత, విశ్లేషణ పట్టికలను ఉపయోగించాలి. అత్యధిక పౌనఃపున్యము(52), చలరాశి విలువ 11కు అనుబంధంగా వుంది కాబట్టి ఈ విభాజనంలో బాహుళకము 11 అవుతుంది.

$$\text{ప్రామాణిక విచలనము } (\sigma) = \sqrt{\frac{\Sigma fdx^2}{N} - \left(\frac{\Sigma fdx}{N}\right)^2}$$

$$\begin{aligned} \text{పట్టిక నుండి విలువలు ప్రతిక్షేపించగా, } \sigma &= \sqrt{\frac{347}{200} - \left(\frac{47}{200}\right)^2} \\ &= \sqrt{1.735 - 0.55} \\ &= 1.296 \\ &\cong 1.3 \end{aligned}$$

$$\begin{aligned} \text{కార్ల్ పియర్సన్ వైషమ్య గుణకము } (SK_p) &= \frac{\text{అంకమధ్యమం } (\bar{X}) - \text{బాహుళకము } (Z)}{\text{ప్రామాణిక విచలనము } (\sigma)} \\ &= \frac{10.24 - 11}{1.3} = \frac{-0.76}{1.3} \end{aligned}$$

$$\therefore SK_p = -0.58$$

వైషమ్య గుణకం ఋణాత్మకం కాబట్టి యిచ్చిన పౌనఃపున్య విభాజనం, ఋణాత్మక వైషమ్య విభాజనం అవుతుంది. ఉదాహరణ (అవిచ్ఛిన్నశ్రేణి) 3 : దిగువ పౌనఃపున్య విభాజనానికి కార్ల్ పియర్సన్ వైషమ్యగుణకం లెక్కించండి.

తరగతి అంతరాలు	పౌనఃపున్యము
0 - 10	7
10 - 20	9
20 - 30	10
30 - 40	30
40 - 50	20
50 - 60	6

జవాబు :

వైషమ్యగుణకం గణన పట్టిక (సోపాన విచలనాల పద్ధతి ద్వారా)

తరగతి అంతరం (CI)	పానఃపున్యము (f)	మధ్యవిలువలు M.V.(x)	A=35, C=10 ఊ   సగటున సోపాన విచలనాలు $Dx = \frac{x-A}{C}$ or $\frac{x-35}{10}$	f Dx	$Dx^2$	f $Dx^2$
0 - 10	7	5	-3	-21	9	63
10 - 20	9	15	-2	-18	4	36
20 - 30	10	25	-1	-10	1	10
30 - 40	30	35	0	0	0	0
40 - 50	20	45	1	20	1	20
50 - 60	6	55	2	12	4	24
	N = 82			$\left. \begin{matrix} -49 \\ +32 \end{matrix} \right\} \Sigma f Dx = -17$		$\Sigma f Dx^2 = 153$

$$SK_p = \frac{\bar{x} - Z}{\sigma}$$

పై సూత్రంలో  $\bar{x}$ , z,  $\sigma$ లను మొదట కనుగొనాలి.

$$\text{అంకమధ్యమము } (\bar{x}) = A + \frac{\Sigma f Dx}{N} \times C$$

A = ఊహించిన సగటు,  $\Sigma f Dx$  = విచలనాలను వాటి పానఃపున్యాలచే గుణించగా వచ్చిన లబ్ధాల మొత్తం,  
C = తరగతి అంతరం, N = పానఃపున్యాల మొత్తం

$$\text{విలువలు ప్రతిక్షేపించగా, అంకమధ్యమం } (\bar{x}) = 35 + \frac{(-17)}{82} \times 10 = 34 - \frac{170}{82}$$

$$= 35 - 3.94 = 31.06$$

$$\text{బాహుళకము } (Z) = l_1 + \frac{f_1 - f_0}{(f_1 - f_0) + (f_1 - f_2)} \times C \text{ లేక}$$

$$= l_1 + \frac{f_1 - f_0}{2f_1 - f_0 - f_2} \times C$$

ఇక్కడ  $l_1$  = బాహుళకపు తరగతి దిగువ అవధి,  $f_0$  = బాహుళకపు తరగతికి దిగువ తరగతి పానఃపున్యము

$f_1$  = బాహుళకపు తరగతి పానఃపున్యము,  $f_2$  = బాహుళకపు తరగతికి ఎగువ తరగతి పానఃపున్యము

C = తరగతి అంతరము.

ఇచ్చిన పానఃపున్య విభజనంలో 30-40 తరగతి పానఃపున్యము అత్యధికంగా వుంది. వర్గీకృత విశ్లేషణ పట్టికల ద్వారా

కూడా ఈ తరగతే అధికసార్లు వస్తుంది. కావున 30-40 తరగతి బాహుళకపు తరగతి అవుతుంది. ఈ తరగతిలో దిగువ అవధి  $(l_1) = 30$ . మరియు పట్టిక నుండి  $f_0 = 10, f_1 = 30, f_2 = 20, C = 10$

అని గ్రహించవచ్చు. ఈ విలువలు బాహుళకపు సూత్రంలో ప్రతిక్షేపించగా

$$\begin{aligned} \text{బాహుళకము (Z)} &= 30 + \frac{30-10}{2 \times 30 - 10 - 20} \times 10 \\ &= 30 + \frac{200}{30} = 36.67 \end{aligned}$$

$$\text{ప్రామాణిక విచలనము (\sigma)} = \sqrt{\frac{\sum f D_x^2}{N} - \left(\frac{\sum f D_x}{N}\right)^2} \times C$$

పై పట్టిక నుండి విలువలు గ్రహించగా

$N = 82, \sum f D_x^2 = 153, \sum f D_x = -17, C = 10$  అవుతాయి. ఈ విలువలు పై సూత్రంలో వ్రాయగా

$$\text{ప్రామాణిక విచలనము (\sigma)} = \sqrt{\frac{153}{82} - \left(\frac{-17}{82}\right)^2} \times 10 = \sqrt{1.865 - 0.043} \times 10$$

$$\sigma = 1.35 \times 10 = 13.5$$

$$\text{ఇప్పుడు కార్ల్ పియర్సన్ వైషమ్య గుణకము (SK_P)} = \frac{\text{అంకసంఖ్యము (\bar{X}) - బాహుళకము (Z)}{\text{ప్రామాణిక విచలనము (\sigma)}} = \frac{31.06 - 36.67}{13.5}$$

$$SK_P = -\frac{5.61}{13.5} = -0.42$$

వైషమ్య గుణకం ఋణాత్మకం అయింది కావున యిచ్చిన విభాజనం, ఋణాత్మక వైషమ్య విభాజనం అవుతుంది.

ఉదాహరణ 4 : యివ్వబడిన దత్తాంశ విభాజనానికి వైషమ్య గుణకం కనుక్కోండి.

తరగతి అంతరాలు	పౌనఃపున్యము
10 - 20	20
20 - 30	40
30 - 40	30
40 - 50	40
50 - 60	20
60 - 70	10



జవాబు : పైన యివ్వబడిన దత్తాంశ విభాజనం నుండి బాహుళకము లెక్కించడం సాధ్యం కాదు. ఎందుకంటే ఈ విభాజనం ద్వీబాహుళక విభాజనం వలే కన్పిస్తుంది. అందువలన వైషమ్య గుణకము కనుక్కోవడానికి కార్ల్ పీయర్సన్ రెండవ సూత్రం ఉపయోగించాలి.

$$\text{కార్ల్ పీయర్సన్ వైషమ్య గుణకము (SK}_P) = \frac{3(\text{అంకమధ్యమం} - \text{మధ్యగతం})}{\text{ప్రామాణిక విచలనము}}$$

వైషమ్యగుణకం గణన పట్టిక (సోపాన విచలనాల పద్ధతి ద్వారా)

తరగతి అంతరం (CI)	పొసఁపున్యము (f)	మధ్యవిలువలు M.V. (x)	A=35, C=10 ఊ   సగటున సోపాన విచలనాలు $D_x = \frac{x - A}{C}$ or $\frac{x - 35}{10}$	fDx	Dx <sup>2</sup>	fDx <sup>2</sup>	(cf)
10 - 20	20	15	- 2	- 40	4	80	20
20 - 30	40	25	- 1	- 40	1	40	60
30 - 40	30	35	0	0	0	0	90
40 - 50	40	45	1	40	1	40	130
50 - 60	20	55	2	40	4	80	150
60 - 70	10	65	3	30	9	90	160
మొత్తం	N = 160			ΣfDx = 30		ΣfDx <sup>2</sup> = 330	

$$\text{అంకమధ్యమం } (\bar{x}) = A + \frac{\Sigma f D_x}{N} \times C$$

$$A = 35, \quad \Sigma f D_x = 30, \quad N = 160, \quad C = 10$$

$$\text{విలువలు ప్రతిక్షేపించగా, } \bar{X} = 35 + \frac{30}{160} \times 10$$

$$\bar{X} = 35 + 1.875 = 36.88 \text{ మార్కులు}$$

$$\text{మధ్యగతము (M)} = l_1 + \frac{\frac{N}{2} - m}{f} (l_2 - l_1) \text{ యిచ్చిన విభాజనంలో, మధ్యగత స్థానము } \frac{N}{2} = \frac{160}{2} = 80 \text{ వ}$$

అంశం. ఈ అంశము సంచిత పొసఁపున్యము 90లో వుంది కావున మధ్యగత తరగతి (Mediam class) 30 - 40 అవుతుంది. కాబట్టి పై సూత్రంలోని సంకేతాల విలువలు

$$l_1 = \text{మధ్యగత తరగతి దిగువ అవధి} = 30,$$

$$l_2 = \text{మధ్యగత తరగతి ఎగువ అవధి} = 40$$

$$m = \text{మధ్యగత తరగతికి, దిగువ తరగతి యొక్క సంచిత పొసఁపున్యం} = 60$$

$$f = \text{మధ్యగత తరగతి పొసఁపున్యం} = 30$$

కావున, మధ్యగతము (M) =  $30 + \frac{80-60}{30}(40-30) = 30 + 6.67 = 36.67$  మార్కులు

$$\text{ప్రామాణిక విచలనము } (\sigma) = \sqrt{\frac{\sum f Dx^2}{N} - \left(\frac{\sum f Dx}{N}\right)^2} \times C$$

యిచ్చిన దత్తాంశంలో N = 160,  $\sum f Dx^2 = 330$ ,  $\sum f Dx = 30$ , C = 10

సూత్రంలో ఈ విలువలు ప్రతిక్షేపించగా,

$$\sigma = \sqrt{\frac{330}{160} - \left(\frac{30}{160}\right)^2} \times 10 = \sqrt{2.063 - 0.035} \times 10$$

$$= \sqrt{2.028} \times 10$$

$$\sigma = 1.424 \times 10 = 14.24 \text{ మార్కులు}$$

$$\text{ఇప్పుడు వైషమ్య గుణకము (SK<sub>P</sub>)} = \frac{3 (\text{అంకమధ్యమం} - \text{మధ్యగతము})}{\text{ప్రామాణిక విచలనము}} = \frac{3(36.88 - 36.67)}{14.24} = \frac{0.63}{14.24}$$

$$SK_P = 0.044$$

ఉదాహరణ 5 : దిగువ బోగట్టా ఆధారంగా కార్ల్స్పియర్సన్ వైషమ్య గుణకం కనుక్కోండి.

అంకమధ్యమం : 725

బాహుళకము 743.5

విచరణ గుణకము (coefficient of Variation) = 19.64

జవాబు : పైన యివ్వబడిన దత్తాంశంలో, వైషమ్యగుణకం లెక్కించటానికి అవసరమైన ప్రామాణిక విచలనం (σ) విలువ యివ్వబడలేదు. కాబట్టి σ విలువ C.V. (విచరణ గుణకము) సూత్రం ఆధారంగా లెక్కించాలి.

$$C.V. = \frac{\text{ప్రామాణిక విచలనము}}{\text{అంకమధ్యమము}} \times 100 \text{ లేదా}$$

$$C.V. = \frac{\sigma}{\bar{x}} \times 100$$

$$\text{విలువలు ప్రతిక్షేపించగా, } 19.64 = \frac{\sigma (\text{తొలి యడవు})}{725} \times 100$$

$$\therefore \sigma = \frac{19.64 \times 725}{100}$$

$$\sigma = 142.4$$

$$\text{ఇప్పుడు కార్లపేయర్సన్ వైషమ్య గుణకము (SK}_P) = \frac{\text{అంకమధ్యమం}(\bar{X}) - \text{బాహుళకము} (Z)}{\text{ప్రామాణిక విచలనము} (\sigma)}$$

$$= \frac{725 - 743.5}{142.4} = \frac{-18.5}{142.4}$$

$$\text{SK}_P = -0.13$$

ఉదాహరణ 6 : ఒక అసౌష్టవ విభజనంలో అంకమధ్యమం 45, మధ్యగతము 48 మరియు కార్లపేయర్సన్ వైషమ్య గుణకం -0.4 అయితే విభజనం యొక్క ప్రామాణిక విచలనం విలువ ఎంత ?

జవాబు : పైన యిచ్చిన బోగట్టా ఆధారంగా ప్రామాణిక విచలనం కనుక్కోవాలంటే ముందుగా బాహుళకము కనుక్కోవాలి.

$$\text{మనకు తెలుసు, బాహుళకము} = 3 \text{ మధ్యగతము} - 2 \text{ అంకమధ్యమము}$$

$$= 3 \times 48 - 2 \times 45$$

$$Z = 144 - 90 = 54$$

$$\text{కార్లపేయర్సన్ వైషమ్య గుణకము (SK}_P) = \frac{\text{అంకమధ్యమం}(\bar{X}) - \text{బాహుళకము} (Z)}{\text{ప్రామాణిక విచలనము} (\sigma)}$$

యిచ్చిన విలువలు ప్రతిక్షేపించగా,

$$-0.4 = \frac{45 - 54}{\sigma}$$

$$\therefore \sigma = \frac{45 - 54}{-0.4}$$

$$\sigma = \frac{-9}{-0.4} = \frac{90}{4} = 22.5$$

బాలే వైషమ్య గుణకం (SK<sub>B</sub>) : సౌష్టవ విభజన లక్షణాలలో ఒక లక్షణం యేమనగా చతుర్థాంశాలు మధ్యగతానికి సమాన దూరంలో వుంటాయి. సంకేతాలలో  $(Q_3 - M) = (M - Q_1)$ . అసౌష్టవ విభజనంలో చతుర్థాంశాలు మధ్యగతానికి సమానదూరంలో వుండవు. ఈ లక్షణం ఆధారంగా చతుర్థాంశాలు ఉపయోగించి వైషమ్యాన్ని కొలవవచ్చని ప్రొఫెసర్ బాలీ ప్రతిపాదించాడు. బాలీ ప్రకారం 'ఎగువ చతుర్థాంశానికి, మధ్యగతానికి గల వ్యత్యాసం  $(Q_3 - M)$  నుంచి, మధ్యగతానికి దిగువ చతుర్థాంశాల మధ్య వ్యత్యాసాన్ని  $(M - Q_1)$  తీసివేసి ఆ రెంటి మొత్తంతో భాగిస్తే బాలీ వైషమ్యగుణకం లభ్యమవుతుంది. ఇదే విషయాన్ని సంకేతాలలో కింది విధంగా వ్రాయవచ్చు.

$$\text{బాలీ వైషమ్య గుణకం (SK}_B) = \frac{(Q_3 - M) - (M - Q_1)}{(Q_3 - M) + (M - Q_1)} \text{ or } = \frac{Q_3 + Q_1 - 2M}{Q_3 - Q_1}$$

M = అనగా మధ్యగతం, Q<sub>3</sub> = అంటే ఎగువ చతుర్థాంశం, Q<sub>1</sub> = అంటే దిగువ చతుర్థాంశం

బోలీ వైషమ్య గుణకం విలువ -1 మరియు +1 మధ్యలో వుంటుంది. అంతేకాక ఈ వైషమ్యగుణకం, విభాజనంలోని వైషమ్యం యొక్క పరిమాణము మరియు దిశను కూడా తెలియజేస్తుంది. ఒక ఋణాత్మక వైషమ్య విభాజనంలో, మధ్యగతానికి (M), దిగువ చతుర్థాంశానికి (Q<sub>1</sub>) మధ్య దూరం, మధ్యగతానికి ఎగువ చతుర్థాంశానికి (Q<sub>3</sub>) మధ్య గల దూరం కంటే 'ఎక్కువ'గా వుంటుంది. అదే ఒక ధనాత్మక వైషమ్య విభాజనంలో, మధ్యగతానికి (M) దిగువ చతుర్థాంశానికి (Q<sub>1</sub>) మధ్య దూరం, మధ్యగతానికి (M) ఎగువ చతుర్థాంశానికి (Q<sub>3</sub>) మధ్య గల దూరం కంటే 'తక్కువ'గా వుంటుంది. ఎగువ, దిగువ చతుర్థాంశం మొదలగు స్థానపు కొలతలు (positional measures) ఇచ్చినప్పుడు, వివృత అవధులు (open-ends) గల విభాజనాలు యిచ్చినప్పుడు మరియు చతుర్థాంశ విచలనము (semi-inter Quartile range)ను విస్తరణను కొలవడానికి ఉపయోగించిన సందర్భాలలో బోలీ వైషమ్య గుణకాన్ని తప్పక ఉపయోగిస్తారు.

ఉదాహరణ 7 (వ్యక్తిగత శ్రేణులు) : కింది సమాచారానికి బోలీ వైషమ్యగుణకం కనుక్కోండి.

వరుస సంఖ్య	1	2	3	4	5	6	7
మార్కులు	20	28	40	12	30	15	50

విభాజనాన్ని మొదట ఆరోహణక్రమంలో అమర్చి తరువాత Q<sub>3</sub>, Q<sub>1</sub>, M లను కనుగొనాలి.

$$\text{బోలీ వైషమ్య గుణకం (SK}_B) = \frac{Q_3 + Q_1 - 2M}{Q_3 - Q_1}$$

వరుస సంఖ్య(SINo.)	మార్కులు(x)
1	12
2	15
3	20
4	28
5	30
6	40
7	50
N = 7	

$$Q_1 = \frac{N+1}{4} \text{వ అంశం,} = \frac{7+1}{4} \text{వ అంశం,} = 2 \text{వ అంశం}$$

2వ అంశం 15 కావున Q<sub>1</sub> = 15 మార్కులు

$$M = \frac{N+1}{2} \text{వ అంశం}$$

$$= \frac{7+1}{2} \text{వ అంశం} = 4 \text{వ అంశం}$$

4వ అంశం 28 కావున

$$M = 28 \text{ మార్కులు}$$

$$Q_3 = \frac{N+1}{4} \times 3\text{వ అంశం} = \frac{7+1}{4} \times 3\text{వ అంశం}$$

$$= 6\text{వ అంశం.}$$

6వ అంశం 40 కావున  $Q_3 = 40$  మార్కులు

$$\text{బోలీ వైషమ్య గుణకం (SK}_B) = \frac{Q_3 + Q_1 - 2M}{Q_3 - Q_1} = \frac{40 + 15 - 2 \times 28}{40 - 15}$$

$$SK_B = \frac{-1}{25} = -0.04$$

ఉదాహరణ 8 (విచ్చిస్త్రశ్రేణి) : దిగువ ఇచ్చిన దత్తాంశానికి బోలీ వైషమ్యగుణకం లెక్కించండి.

కుటుంబంలో పిల్లల సంఖ్య	కుటుంబాల సంఖ్య
0	7
1	9
2	25
3	22
4	18
5	11
6	8

జవాబు : బోలీ వైషమ్యగుణకాన్ని కనుగొనాలంటే ఎగువ, దిగువ చతుర్థాంశాలు మరియు మధ్యగతాన్ని కనుక్కోవాలి.

బోలీ వైషమ్యగుణకం గణన పట్టిక

కుటుంబాలలో పిల్లల సంఖ్య (X)	కుటుంబాల సంఖ్య (f)	సంచిత పౌనఃపున్యం (cf)
0	7	7
1	9	16
2	25	41
3	22	63
4	18	81
5	11	92
6	8	100
మొత్తం	N = 100	

దిగువ చతుర్థాంశ స్థానము  $(Q_1) = \frac{N+1}{4}$  వ అంశము.  $= \frac{100+1}{4}$  వ అంశము.  $= 25.25 \cong 25$  వ అంశము.

25వ అంశము పై పట్టికలో సంచిత పౌనఃపున్యం 41లో వుంది కాబట్టి దాని అనుబంధ అంశము విలువ 2 అనేది దిగువ చతుర్థాంశము అవుతుంది.

$$Q_1 = 2$$

$$\text{మధ్యగత స్థానము (M)} = \frac{N+1}{2} = \frac{100+1}{2} = 50.5 \text{ వ అంశము}$$

$$\cong 51 \text{ వ అంశము.}$$

ఈ 51వ అంశము సంచిత పౌనఃపున్యం 63లో వుంది. కావున మధ్యగతం  $(M) = 3$ .

$$\text{ఎగువ చతుర్థాంశ స్థానము (Q}_3\text{)} = \frac{3(N+1)}{4} \text{ వ అంశము} = \frac{3(101)}{4} \text{ వ అంశము}$$

$$= 75.75 \cong 76 \text{ వ అంశము.}$$

76వ అంశము సంచిత పౌనఃపున్యంలో 81లో వుంది కాబట్టి ఎగువ చతుర్థాంశము  $(Q_3) = 4$ .

$$\text{బౌలీ వైషమ్యగుణకం (SK}_B\text{)} = \frac{Q_3 + Q_1 - 2M}{Q_3 - Q_1}$$

పై సూత్రంలో విలువలు ప్రతిక్షేపించగా,

$$SK_B = \frac{4 + 2 - 2 \times 3}{4 - 2} = \frac{6 - 6}{2} = 0$$

కనుగొన్న వైషమ్యగుణకం విలువ ప్రకారం, యిచ్చిన విభాజనం ఒక సౌష్ఠవ విభాజనం.

ఉదాహరణ 9 (అవిచ్చిన్న శ్రేణి) : దిగువ దత్తాంశము నుండి బౌలీ వైషమ్య గుణకం కనుక్కోండి.

తరగతి	పౌనఃపున్యము
4 - 8	5
8 - 12	11
12 - 16	18
16 - 20	30
20 - 24	15
24 - 28	12
28 - 32	10
32 - 36	6
36 - 40	2

జవాబు : ఇచ్చిన దత్తాంశం నుంచి బౌలీ వైషమ్యగుణకం లెక్కించాలి కాబట్టి ఎగువ, దిగువ చతుర్థాంశాలు మరియు మధ్యగతముల విలువలను గణన చేయాలి.

తరగతులు (CI)	పానఃపున్యం (f)	సంచిత పానఃపున్యం (cf)
4 - 8	5	5
8 - 12	11	16
12 - 16	18	34
16 - 20	30	64
20 - 24	15	79
24 - 28	12	91
28 - 32	10	101
32 - 36	6	107
36 - 40	2	109
	N = 109	

i) దిగువ చతుర్థాంశ స్థానము  $(Q_1) = \frac{N}{4} = \frac{109}{4} = 27.25$  వ అంశం.

27.25 వ అంశము సంచిత పానఃపున్యము 34లో వున్నది కాబట్టి, దిగువ చతుర్థాంశ తరగతి 12 - 16 అవుతుంది.

$$\text{దిగువ చతుర్థాంశము } (Q_1) = l_1 + \frac{\frac{N}{4} - m}{f} (l_2 - l_1)$$

$$\text{ఇచ్చట } l_1 = 12, l_2 = 16, f = 18, \frac{N}{4} = 27.25, m = 16$$

పై సూత్రంలో విలువలు ప్రతిక్షేపించగా,

$$Q_1 = 12 + \frac{27.25 - 16}{18} (16 - 12) = 12 + \frac{11.25}{18} \times 4 = 12 + 2.5 = 14.5$$

ii) మధ్యగత స్థానము  $(M) = \frac{N}{2} = \frac{109}{2} = 54.5$  వ అంశం.

54.5వ అంశము సంచిత పానఃపున్యములో 64లో వున్నది కాబట్టి మధ్యగత తరగతి 16-20 అవుతుంది.

$$\text{మధ్యగతము } (M) = l_1 + \frac{\frac{N}{2} - m}{f} (l_2 - l_1)$$

$$\text{ఇక్కడ } l_1 = 16, l_2 = 20, \frac{N}{2} = 54.5, m = 34, f = 30$$

విలువలు సూత్రంలో ప్రతిక్షేపించగా

$$M = 16 + \frac{54.5 - 34}{30} (20 - 16) = 16 + \frac{20.5}{30} \times 4 = 16 + 2.73 = 18.73$$

iii) ఎగువ చతుర్థాంశ స్థానము  $(Q_3) = \frac{3N}{4} = \frac{3 \times 109}{4} = 81.75$  వ అంశం

81.75 అంశము సంచిత పానఃపున్యము 91లో వుంది కావున ఎగువ చతుర్థాంశము తరగతి 24-28 అవుతుంది.

$$\text{ఎగువ చతుర్థాంశము } (Q_3) = l_1 + \frac{\frac{3N}{4} - m}{f} (l_2 - l_1)$$

$$l_1 = 24, l_2 = 28, \frac{3N}{4} = 81.75, m = 79, f = 12$$

సూత్రంలో పై విలువలు ప్రతిక్షేపించగా,

$$Q_3 = 24 + \frac{81.75 - 79}{12} (28 - 24) = 24 + \frac{2.75}{12} \times 4 = 24 + 0.92 = 24.92$$

యిచ్చిన విభాజనంలో  $Q_1 = 14.5, M = 18.73$  మరియు  $Q_3 = 24.92$ , కాబట్టి

$$\begin{aligned} \text{బోలీ వైషమ్య గుణకం } (SK_B) &= \frac{Q_3 + Q_1 - 2M}{Q_3 - Q_1} \\ &= \frac{24.92 + 14.5 - 2 \times 18.73}{24.92 - 14.5} = 39.42 - 37.46 \\ &= \frac{1.96}{10.42} = 0.19 \end{aligned}$$

$$\text{బోలీ వైషమ్య గుణకం } (SK_B) = 0.19$$

ఉదాహరణ 10 : ఈ దిగువ ఇచ్చిన దత్తాంశమునకు బోలీ వైషమ్యగుణకం లెక్కించండి.

తరగతి మధ్య విలువలు :	15	25	35	45	55	65	75	85
పానఃపున్యం :	4	12	40	41	27	13	9	4

జవాబు : పై దత్తాంశంలో తరగతి మధ్య విలువలు ఇచ్చారు. బోలీ వైషమ్యగుణకం లెక్కించడానికి చతుర్థాంశాలు, మధ్యగతాలు కావాలి, కాబట్టి మధ్యవిలువలు ఆధారంగా తరగతి అవధులు రూపొందించాలి.

తరగతి మధ్య విలువలు	తరగతి అవధులు (CI)	పానఃపున్యం (f)	సంచిత పానఃపున్యం (cf)
15	10 - 20	4	4
25	20 - 30	12	16
35	30 - 40	40	56
45	40 - 50	41	97
55	50 - 60	27	124
65	60 - 70	13	137
75	70 - 80	9	146
85	80 - 85	4	150
		N = 150	



i) దిగువ చతుర్థాంశ స్థానము  $(Q_1) = \frac{N}{4} = \frac{150}{4} = 37.5$  వ అంశం.

37.5వ అంశము, సంచిత పౌనఃపున్యము 56లో వుంది కాబట్టి చతుర్థాంశ తరగతి 30-40 అవుతుంది.

$$\text{దిగువ చతుర్థాంశము } (Q_1) = l_1 + \frac{\frac{N}{4} - m}{f} (\ell_2 - l_1)$$

$$\text{ఇక్కడ } l_1 = 30, \ell_2 = 40, \frac{N}{4} = 37.5, m = 16, f = 40$$

$$\begin{aligned} Q_1 &= 30 + \frac{37.5 - 16}{40} (40 - 30) = 30 + \frac{21.5}{40} \times 10 \\ &= 30 + 5.375 = 35.375 \end{aligned}$$

ii) మధ్యగత స్థానము  $(M) = \frac{N}{2} = \frac{150}{2} = 75$  వ అంశము

75వ అంశము సంచిత పౌనఃపున్యము 97లో వుంది కాబట్టి మధ్యగత తరగతి 40 - 50.

$$\text{మధ్యగతము } (M) = l_1 + \frac{\frac{N}{2} - m}{f} (\ell_2 - l_1)$$

$$\text{ఇక్కడ } l_1 = 40, \ell_2 = 50, \frac{N}{2} = 75, m = 56, f = 41$$

విలువలు ప్రతిక్షేపించగా

$$\begin{aligned} \text{మధ్యగతము } (M) &= 40 + \frac{75 - 56}{41} (50 - 40) = 40 + \frac{19}{41} \times 10 \\ &= 40 + 4.634 = 44.634 \end{aligned}$$

iii) ఎగువ చతుర్థాంశ స్థానము  $(Q_3) = \frac{3N}{4} = 112.5$  వ అంశం. 112.5వ అంశము సంచిత పౌనఃపున్యం 124లో వుంది

కాబట్టి, ఎగువ చతుర్థాంశ తరగతి 50 - 60 అవుతుంది.

$$\text{ఎగువ చతుర్థాంశము } (Q_3) = l_1 + \frac{\frac{3N}{4} - m}{f} (\ell_2 - l_1)$$

$$\text{ఇక్కడ } l_1 = 50, \ell_2 = 60, \frac{3N}{4} = 112.5, m = 97, f = 27$$

పై సూత్రంలో విలువలు ప్రతిక్షేపించి వ్రాయగా,

$$Q_3 = 50 + \frac{112.5 - 97}{27} (60 - 50)$$

$$Q_3 = 50 + \frac{15.5}{27} \times 10 = 50 + \frac{15.5}{27} \times 10 = 50 + 5.74 = 55.74$$

∴ యిచ్చిన విభాజనంలో

దిగువ చతుర్దాంశము ( $Q_1$ ) = 35.375, మధ్యగతము (M) = 44.634, ఎగువ చతుర్దాంశము ( $Q_3$ ) = 55.74

$$\begin{aligned} \text{బోలీ వైషమ్యగుణకము (SK}_B) &= \frac{Q_3 + Q_1 - 2M}{Q_3 - Q_1}, = \frac{55.74 + 35.375 - 2 \times 44.634}{55.74 - 35.375} \\ &= \frac{91.115 - 88.268}{20.365} = \frac{2.847}{20.365} = 0.14 \end{aligned}$$

$$\therefore \text{బోలీ వైషమ్యగుణకము (SK}_B) = 0.14$$

ఉదాహరణ 11 : దిగువ నిచ్చిన దత్తాంశ సమాచారం ఆధారంగా దత్తాంశ విభాజనం మధ్యగత విలువ కనుక్కోండి.

$$SK_B = 0.5, \text{ చతుర్దాంశ విచలనము (QD)} = 8 \text{ మరియు దిగువ చతుర్దాంశము (Q}_1) = 16.$$

$$\text{జవాబు : చతుర్దాంశ విచలనము (Q \cdot D)} = \frac{Q_3 - Q_1}{2}, \text{ యిచ్చిన సమాచారం ప్రకారం } \frac{Q_3 - Q_1}{2} = 8$$

యందులో  $Q_1 = 16$  విలువ ప్రతిక్షేపించగా

$$\frac{Q_3 - 16}{2} = 8$$

$$Q_3 - 16 = 16$$

$$Q_3 = 16 + 16 = 32$$

$$\therefore \text{ఎగువ చతుర్దాంశ విచలనము (Q}_3) = 32$$

దత్తాంశంలో బోలీ వైషమ్యగుణకం 0.5గా యివ్వబడింది. కావున

$$\frac{Q_3 + Q_1 - 2M}{Q_3 - Q_1} = 0.5$$

యందులో  $Q_3$  మరియు  $Q_1$  విలువలు ప్రతిక్షేపించగా

$$\frac{32 + 16 - 2M}{32 - 16} = 0.5$$

$$\frac{48 - 2M}{16} = 0.5$$

$$48 - 2M = 0.5 \times 16$$

$$48 - 2M = 8$$

$$-2M = 8 - 48$$

$$-2M = 8 - 48$$

$$-2M = -40$$

$$2M = 40$$

$$M = \frac{40}{2} = 20$$

∴ యిచ్చిన దత్తాంశంలో మధ్యగతము = 20.

ఉదాహరణ 12 : దిగువ బోగట్టా ఆధారంగా చతుర్దాంశ వైషమ్యగుణకం కనుక్కోండి.

$$Q_1 = 18, Q_3 = 25, \text{ బాహుళకము} = 21 \text{ మరియు అంకమధ్యమం} = 18$$

జవాబు : చతుర్దాంశ వైషమ్యగుణకం అనగా బౌలీ వైషమ్యగుణకం. దీనిని లెక్కించడానికి మధ్యగతం మరియు చతుర్దాంశాలు అవసరం. కాని యిచ్చిన బోగట్టాలో మధ్యగతము విలువ లేదు. కాబట్టి బోగట్టాలో యిచ్చిన బాహుళకము మరియు అంకమధ్యమం విలువల ఆధారంగా మధ్యగత విలువ కనుక్కోవాలి.

మనకు తెలుసు బాహుళకము =  $3 \times$  మధ్యగతము -  $2 \times$  అంకమధ్యమం

ఇందులో బాహుళకము, అంకమధ్యమము విలువలు వ్రాయగా

$$21 = 3 \times M - 2 \times 18$$

$$21 = 3M - 36$$

$$21 + 36 = 3M$$

$$57 = 3M$$

$$\therefore M = \frac{57}{3} = 19$$

∴ మధ్యగతము (M) = 19

$$\begin{aligned} \text{యిప్పుడు, చతుర్దాంశ వైషమ్యగుణకం} &= \frac{Q_3 + Q_1 - 2M}{Q_3 - Q_1} = \frac{25 + 18 - 2 \times 19}{25 - 18} \\ &= \frac{43 - 38}{7} = \frac{5}{7} = 0.714 \end{aligned}$$

∴ చతుర్దాంశ వైషమ్యగుణకం = 0.714

### కెల్లీ వైషమ్యగుణకం

చతుర్దాంశాల మీద ఆధారపడి నిర్వచించిన బౌలీ వైషమ్యగుణకము గణన చేసేటప్పుడు దత్తాంశ విభాజనంలో ఆద్యంతాలలో వున్న ఏబది శాతం దత్తాంశం నిర్లక్ష్యానికి గురవుతుంది. ఈ లోపాన్ని కొంతమేరకు సవరిస్తూ కెల్లీ అనే శాస్త్రవేత్త వైషమ్యమును లెక్కించటానికి వేరొక సూత్రాన్ని ప్రతిపాదించాడు. అది కెల్లీ వైషమ్యగుణకంగా పరిగణింపబడుతుంది. ఈ గుణకంలో కెల్లీ శతాంశాలు (percentile) లేక దశాంశాలు (Decile)లు ఉపయోగించాడు. అందువలన వీటిని కెల్లీ దశాంశ లేక శతాంశ వైషమ్య కొలతలు అని కూడా పిలుస్తారు. ఈ పద్ధతికి సైద్ధాంతికంగా చాలా ప్రాముఖ్యత వుంది కాని అభ్యాసములో చాలా అరుదుగా ఉపయోగిస్తారు. కెల్లీ వైషమ్యగుణకాన్ని క్రింది సూత్రాలనుపయోగించి కనుక్కోవచ్చు.

$$SK(Kelly) = \frac{D_9 + D_1 - 2M}{D_9 - D_1}$$

$D_9 = 9$ వ దశాంశము,

$D_1 = 1$ వ దశాంశము,

$M =$  మధ్యగతము

శాతాంశాలను పయోగించి, కెల్లీ వైషమ్యగుణకం లెక్కించవచ్చు.

$$SK(Kelly) = \frac{P_{90} + P_{10} - 2M}{P_{90} - P_{10}}$$

$P_{90} = 90$ వ శతాంశము,

$P_{10} = 10$ వ శతాంశము,

$M =$  మధ్యగతము

ఉదాహరణ 13 : దిగువ దత్తాంశ సమాచారంను పయోగించి వైషమ్యగుణకం కనుక్కోండి.

$P_{90} = 47,$

$P_{10} = 11,$

$M = 27$

జవాబు : పై దత్తాంశంలో శతాంశ విలువలు యిచ్చారు. కావున వైషమ్యగుణకం లెక్కించటానికి కెల్లీ సూత్రం ఉపయోగించాలి.

$$SK(Kelly) = \frac{P_{90} + P_{10} - 2M}{P_{90} - P_{10}}$$

విలువలు ప్రతిక్షేపించి వ్రాయగా

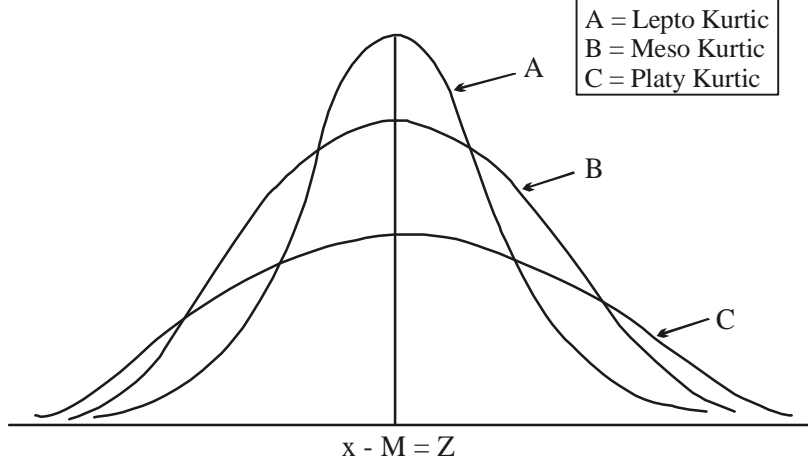
$$\begin{aligned} SK(Kelly) &= \frac{47 + 11 - 2 \times 27}{47 - 11} \\ &= \frac{58 - 54}{36} = \frac{4}{36} = 0.11 \end{aligned}$$

కెల్లీ వైషమ్యగుణకం = 0.11

### 9.3 కుకుదత్వం లేక శిఖరత్వం (Kurtosis or Peakedness)

పౌనఃపున్య విభజనాలకు వైషమ్యమేకాక కుకుదత్వం లేక శిఖరత్వము అనే వేరొక లక్షణం కూడా కలదని ఈ పాఠం ప్రారంభంలో తెలుసుకున్నాం. పౌనఃపున్య విభజనాలు అంకమధ్యమం దృష్ట్యా సౌష్ఠ్యంగా వుంటూ, ఒకే విధమైన విస్తరణను కలిగి వుండవచ్చు. కానీ ఈ విభజనాల సరస పౌనఃపున్య వక్రరేఖల కుంభాకృతి (convexity)లో తేడా వుండవచ్చు. అనగా వక్రరేఖ మధ్యభాగం ఎక్కువ చదునుగాను లేక ఎక్కువ కొనతేలి వుండవచ్చు. ఉదాహరణకు ఈ క్రింది పటము 9.4 చూడండి.

## రేఖాపటం - 9.4



పై పటములో చూపించిన మూడు విభజన వక్రరేఖలు, అంకమధ్యమము, మధ్యగతం, బాహుళకాల దృష్ట్యా సాష్టవంగా వుండటమేకాక ఒకే విధంగా విస్తరించి వున్నాయి. కానీ వక్రరేఖల కుంభాకృతి వేర్వేరుగా వుంది. అనగా వక్రరేఖల ఉపరితల ఉబ్బెత్తు వేర్వేరుగా వుంది. ఈ విధంగా ఒక సాష్టవ వక్రరేఖ ఉపరితలం చదునుగా వుందా? లేక కొన కలిగివుందా అనే విషయాన్ని తెలియజేసేదే కుకుదత్వం. కుకుదత్వాన్ని సాంకేతికంగా ' $\beta_2$ ' తో సూచించడం జరుగుతుంది. కుకుదత్వంను  $\beta_2$  చే కొలుస్తారు. ( $\beta$  = ఈ గుర్తును బీటా అంటారు).

$$\beta_2 = \frac{\mu_4}{\mu_2^2}.$$

' $\mu$ ' అనే గుర్తును మ్యూ అని సంభోదిస్తాం. పై సూత్రంలో  $\beta_2$  ను కుకుదత్వమని,  $\mu_4$  ను చతురఘాతిక అని,  $\mu_2$  ను ద్వితీయ ఘాతిక అంటాము.  $\beta_2$  విలువను బట్టి శిఖరాగ్రస్థాయిని నిర్ణయించడం జరుగుతుంది.  $\beta_2 = 3$  గా వుంటే Meso Kurtic అని,  $\beta_2 > 3$  వుంటే Lepto Kurtic అని,  $\beta_2 < 3$  వుంటే Platy Kurtic అని అంటారు.

కుకుదత్వంలోని రకాలు :

కుకుదత్వం మూడు రకాలు

- 1) బల్లపరుపు శిఖరాగ్రం లేదా ప్లాటీ కుర్టిక్ (Platy Kurtic)
- 2) మధ్యస్థంగా మొనదేలిన శిఖరాగ్రం లేదా మిసోకుర్టిక్ (Meso Kurtic)
- 3) ఎక్కువ మొనదేలిన శిఖరాగ్రం లేదా లెప్టో కుర్టిక్ (Lepto Kurtic)

ఈ మూడు రకములైన కుకుదత్వం తెలుసుకోవటానికి నార్మల్ వక్రరేఖ (Normal Curve)ను ప్రామాదికంగా తీసుకుంటారు.

1. బల్లపరుపు శిఖరాగ్రం లేదా ప్లాటీకుర్టిక్ : ఒక విభజనం యొక్క సరస పానఃపున్య వక్రరేఖ ఉపరితలం సామాన్య లేక నార్మల్ వక్రరేఖ ఉపరితలం కన్నా చదునుగా (లేక) సమతలంగా వుంటే దానిని ప్లాటీకుర్టిక్ అని అంటారు. ( $\beta_2 > 3$ )
2. మధ్యస్థంగా మొనదేలిన శిఖరాగ్రం లేదా మిసోకుర్టిక్ : ఒక విభజనం యొక్క సరస పానఃపున్య వక్రరేఖ ఉపరితలం ఎక్కువ

చదునుగా గాని, లేక ఎక్కువ మొనదేలినట్లుగా గాని లేకుంటే సామాన్య వక్రరేఖ వలేనున్న దానిని మిసోకుర్టిక్ అని అంటారు ( $\beta_2 = 3$ ).

ఎక్కువ మొనదేలిన శిఖరాగ్రం లేదా లెప్టో కుర్టిక్ : ఒక విభాజనం యొక్క సరస పానఃపున్య వక్రరేఖ ఉపరితలం సామాన్య వక్రరేఖ కంటే ఎక్కువ మొనదేలినట్లుగా వుంటే దానిని లెప్టోకుర్టిక్ అంటారు.

పై పటములో A తో సూచించబడిన వక్రరేఖ లెప్టోకుర్టిక్ వక్రరేఖ, B తో సూచించబడిన వక్రరేఖ మిసోకుర్టిక్ వక్రరేఖ మరియు C తో సూచించబడిన వక్రరేఖ ప్లాటికుర్టిక్ వక్రరేఖలను సూచిస్తాయి.

### 9.4 సారాంశం

ఒక దత్తాంశ విభాజనం గురించి క్షుణ్ణంగా తెలుసుకోవాలంటే, దత్తాంశ విభాజన లక్షణాలైన కేంద్రస్థాన కొలతలు, విస్తరణ కొలతలతోపాటు వైషమ్యము, కుకుదత్వం కూడా ముఖ్యమైన లక్షణాలు. ఈ పాఠంలో వైషమ్యము అనగా ఏమి? దానిని ఎలా కొలుస్తాము అనే విషయాలు గురించి తెలుసుకున్నాము. అంతేకాక, వైషమ్యాన్ని కొలిచే కార్ల్స్పియర్సన్ గుణకం మరియు బౌలీ వైషమ్య గుణకం గణన గూర్చి తెలుసుకున్నాము. ఈ పాఠంలో దత్తాంశ విభాజనంలో కుకుదత్వం గూర్చి కూడా తెలుసుకున్నాము. ఈ కొలమానాలు దత్తాంశ స్వభావాన్ని తెలిపే ముఖ్య లక్షణాలు అయిననూ వాస్తవ ప్రపంచంలో వ్యాపార, ఆర్థిక విషయాలలో అతి తక్కువగా ఉపయోగించడం జరుగుచున్నది.

### 9.5 ముఖ్యపదాలు

1. అసౌష్టవము : దీనినే వైషమ్యం అని కూడా అంటారు. సంక్షిప్తంగా సౌష్టవ రాహిత్యమే అసౌష్టవము.
2. కుకుదత్వం : దీనినే కుకుదత్వం, కకురత, శిఖరాగ్రమానం అని సంబోధించడం జరుగుతుంది.
3. ధనాత్మక అసౌష్టవము : సామాన్య వక్రరేఖతో కుడివైపున వుండడం లేదా  $\bar{x} > M > Z$  గా వున్న విభాజనాన్నే ధనాత్మక అసౌష్టవ విభాజనం అంటారు.
4. రుణాత్మక అసౌష్టవం : సామాన్య వక్రరేఖ తోక ఎడమవైపున వుండడం లేదా  $\bar{x} < M > Z$  గా వున్న విభాజనాన్నే రుణాత్మక అసౌష్టవ విభాజనం అంటారు.

### 9.6 నమూనా ప్రశ్నలు

1. సౌష్టవ విభాజనం యొక్క లక్షణాలు తెలుపుచూ, వైషమ్యాన్ని నిర్వచించండి.
2. వైషమ్యము ఎన్ని రకాలు? వివరించండి.
3. సాపేక్ష వైషమ్య కొలతలను వివరించండి.
4. క్రింది దత్తాంశానికి వైషమ్యగుణకం కనుక్కోండి.

x :	1	2	3	4	5	6	7
f :	4	16	18	20	10	8	4

5. ఒక పరిశ్రమలో పనిచేయుచున్న కార్మికుల సంఖ్య, వారికిచ్చే వేతనము క్రింద పట్టికలో యివ్వబడినవి. ఈ విభజనానికి కార్ల్స్ పియర్సన్ వైషమ్యగుణకం కనుక్కోండి.

దినసరి వేతనం (రూ॥లలో)	25	30	35	40	45	50
కార్మికుల సంఖ్య	15	40	50	20	10	5

6. దిగువ దత్తాంశ విభజనానికి పియర్సన్ వైషమ్యగుణకం కనుక్కోండి.

తరగతి అవధులు :	20-30	30-40	40-50	50-60	60-70	70-80
పౌనఃపున్యము :	9	17	28	45	13	8

7. క్రింద యివ్వబడిన బోగట్టా ఆధారంగా వైషమ్యగుణకం కనుక్కోండి.

అంకమధ్యమము : 147.3, బాహుళకము : 144, ప్రామాణిక విచలనం : 19

8. దిగువ దత్తాంశానికి బోలీ వైషమ్యగుణకం లెక్కించండి.

తరగతి అవధులు :	10-20	20-30	30-40	40-50	50-60	60-70	70-80
పౌనఃపున్యము :	1	3	11	21	43	32	9

9. దిగువ దత్తాంశానికి బోలీ వైషమ్యగుణకం కనుక్కోండి.

తరగతులు :	140-149	150-159	160-169	170-179	180-189
పౌనఃపున్యము :	5	16	56	19	4

10. ఒక అసౌష్టవ విభజనంలో చతుర్థాంశ వైషమ్యగుణకం 0.6 మరియు ఎగువ, దిగువ చతుర్థాంశాల మొత్తము 100, మధ్యగతము 38 అయిన ఎగువ, దిగువ చతుర్థాంశాల విలువలు కనుక్కోండి.

## 9.7 చదువదగిన గ్రంథాలు

1. S.C. Gupta : Fundamentals of Statistics
2. S.C. Gupta & V.K. Kapoor : Fundamentals of Applied Statistics
3. D.C. Sanchetti & V.K. Kapoor : Statistics Theory Methods and Applications
4. S.P. Gupta : Statistics
5. C.B. Gupta : Introduction to Statistical Methods

పాఠ్యంశ నిర్మాణక్రమం

- 10.0 అక్ష్యాలు
- 10.1 విషయపరిచయం
- 10.2 సహసంబంధం యొక్క ప్రాముఖ్యత
- 10.3 సహసంబంధం - వివిధ రకాలు
  - 10.3.1 ధనాత్మక లేక రుణాత్మక సహసంబంధం
  - 10.3.2 సరళరేఖ లేదా వక్రరేఖీయ సహసంబంధం
- 10.4 సహసంబంధం - గణన పద్ధతులు
  - 10.4.1 వ్యాపన పటము
  - 10.4.2 సహసంబంధ రేఖీయ చిత్రం
  - 10.4.3 కార్ల్ పియర్సన్ సహసంబంధ గుణకము
    - 10.4.3.1 సహసంబంధ గుణకానికి అవధులు
    - 10.4.3.2 సహసంబంధ గుణకము - ప్రమేయాలు
  - 10.4.4 స్పియర్మన్ కోటి సహసంబంధ గుణకము
  - 10.4.5 సారూప్య విచలనాల గుణకము
- 10.5 సహసంబంధం వలన ప్రయోజనాలు
- 10.6 సారాంశం
- 10.7 ముఖ్య పదాలు
- 10.8 నమూనా ప్రశ్నలు
- 10.9 చదువదగిన గ్రంథాలు

10.0 అక్ష్యాలు

ఈ పాఠ్యభాగము చదివిన తరువాత మీరు ఈ క్రింది అంశాలు తెలుసుకోగలరు.

- \* సహసంబంధం - అర్థం
- \* సహసంబంధం - ప్రాముఖ్యత
- \* సహసంబంధంలో రకాలు
- \* సహసంబంధాన్ని గణించే పద్ధతులు
- \* కోటి సహసంబంధ గుణకము
- \* సారూప్య విచలనాల గుణకము



### 10.1 విషయపరిచయం

కేంద్రస్థాన కొలతలు, విస్తరణ మానాలు, వైషమ్యము మొదలైనవి ఒకే చలరాశిని పరిశీలించడానికి సంబంధించినవి. కానీ నిజ జీవితంలో రెండు లేక అంతకంటే ఎక్కువ చలరాశులను అధ్యయనం చేయవలసిన అవసరం ఏర్పడుతుంది. ఉదాహరణకు ధర, డిమాండ్లకు - వ్యక్తుల ఎత్తు, బరువులకు - భార్యాభర్తల వయస్సులకు, ఆదాయము-వినియోగమునకు, వర్షపు దినాలు గొడుగుల అమ్మకములకు, వర్షపాతం-పంట దిగుబడి మొదలయిన అనేక చలాంక జతలకు సంబంధం వుంటుంది. ఈ విధమైన రెండు చలాంకాల శ్రేణుల సంబంధాన్ని సంఖ్యారూపంలో చెప్పవచ్చు. సహసంబంధము వలన రెండు శ్రేణుల మధ్య సన్నిహిత్యాన్ని నిర్ణయించవచ్చు.

రెండు చలరాశులలో ఒకదానిలోని మార్పు రెండవ చలరాశిలోని మార్పుకు కారణమైనట్లయితే ఆ రెంటి మధ్య సహసంబంధం వుందని అంటాము. సహసంబంధాన్ని అనేక మంది శాస్త్రవేత్తలు నిర్వచించారు. అందులో ముఖ్యముగా కోనార్ నిర్వచనం ముఖ్యమైనది: కోనార్ ప్రకారం "రెండు లేదా అంతకంటే ఎక్కువ పరిమాణాలు సానుభూతితో చెల్లించినపుడు అనగా ఒకదాని గమనానికి అనురూపంగా రెండవదాని గమనాలు వుంటే ఆ రెండు చలాంకాలకు సహసంబంధము ఏర్పడుతుంది".

సాధారణంగా చలాంకాల మధ్య కార్యకారణ సంబంధాన్ని సహసంబంధము సూచిస్తుంది. ఉదాహరణకు వర్షపాతం ఎక్కువగా వుంటే పంట దిగుబడి అధికంగా వుంటుంది. వర్షపాతం తక్కువగా వుంటే పంట దిగుబడి తక్కువగా వుంటుంది. అదే విధంగా పొడవుగా వున్న తండ్రులకు (కారణం) పొడవుగా వున్న కొడుకులు (ఫలితం) జన్మిస్తారు. ఈ విధంగా అనేక విషయాలకు కార్యకారణ సంబంధాన్ని తెలియజేసే గణాంకశాస్త్ర భావనను సహసంబంధము అంటారు.

### 10.2 సహసంబంధం యొక్క ప్రాముఖ్యత

సహసంబంధ భావన భౌతిక, సాంఘిక శాస్త్రాలలో ఎక్కువగా ఉపయోగపడుతుంది. అయితే వ్యాపారంలోను, అర్థశాస్త్రంలోను, సాంఘికశాస్త్ర పరిశోధనలోను, సహసంబంధానికి ప్రముఖమైన పాత్ర వున్నది.

- (ఎ) ఒక వస్తువు ధర, డిమాండ్లకు గల సంబంధాన్ని అధ్యయనం చేయటంలో సహసంబంధం సహాయ పడుతుంది. అంతేకాకుండా ధర, సప్లై ఉత్పత్తి, వ్యయాలు, ఉత్పత్తి పరిమాణం, అమ్మకాలు, రాబడులు, మొదలగునవి ఆర్థిక చలాంకాల కార్యకారణ సంబంధాన్ని సహసంబంధం ద్వారా తెలుసుకొనవచ్చు.
- (బి) చలరాశుల మధ్య గల సంబంధాన్ని, సంబంధపు స్థాయిని ఒక అంకె రూపంలో కొలవవచ్చును.
- (సి) చలరాశుల సహసంబంధం ద్వారా ప్రతిచయన దోషాలను నిర్ణయించవచ్చు.
- (డి) చలరాశులలో మార్పులకు సంబంధించిన ముఖ్యకారణాలను గుర్తించి అవసరమైన చర్యలను చేపట్టవచ్చును.
- (ఇ) ప్రతిగమన విశ్లేషణకు సహసంబంధము ఆధారంగా వుంటుంది. ఒక చలరాశి విలువ ఆధారంగా వేరొక చలరాశి విలువను అంచనా వేయవచ్చును.

ఆర్థిక సిద్ధాంతాలు నిర్దిష్టమైన నిజాలుగా వుండవు. ఉజ్జాయింపుగా నిజాలని చెప్పవచ్చు. ఖచ్చితమైన శాస్త్రాలలో లాగా ఆర్థిక సిద్ధాంతాలలో సంపూర్ణయధార్థతను సాధించలేము. అయితే రెండు చలాంకాల విలువలు ఒకే దిక్కుగా పోతున్నాయో, లేక వ్యతిరేక దిక్కులో పోతున్నాయో చెప్పవచ్చు. సహసంబంధము వివిధ రకాలుగా వుండవచ్చు.

- (1) ధనాత్మక లేక రుణాత్మక సహసంబంధము
- (2) సరళరేఖా లేదా వక్రరేఖీయ సహసంబంధము.

### 10.3 సహసంబంధం - వివిధ రకాలు

రెండు చలరాశులలో ఒక చలరాశిలోని మార్పులకు రెండో చలరాశి కారణమైతే వాటి మధ్య సహసంబంధము ఉందని మనం తెలుసుకొన్నాము. అయితే ఒక చలరాశిలో మార్పు ఒకే దిశలో ఉంటే రెండో చలరాశిలో మార్పు అదే దిశలో ఉండా లేక

వ్యతిరేక దిశలో ఉందా అనే దాని మీద, సహసంబంధాన్ని పరిశీలించే చలరాశుల ప్రాతిపదిక మీద ఆధారపడి సహసంబంధాన్ని వివిధరకాలుగా చెప్పవచ్చు.

1. ధనాత్మక లేదా రుణాత్మక సహసంబంధం
2. సరళరేఖ లేదా వక్రరేఖీయ సహసంబంధం
3. సామాన్య సహసంబంధం లేదా బహుళ సహసంబంధం

**10.3.1 ధనాత్మక లేక రుణాత్మక సహసంబంధము :** చలాంక శ్రేణులలో ఒక చలాంకము తగ్గినప్పుడే వేరొక చలాంకము తగ్గటం, ఒక చలాంకము పెరిగినప్పుడు వేరొక చలాంకము పెరుగుతూ వుంటే ఆ రెండు చలరాశుల మధ్య సంబంధాన్ని ప్రత్యక్ష సంబంధము లేక ధనాత్మక సహసంబంధము అంటారు. సూక్ష్మంగా చెప్పాలంటే రెండు చలరాశులు ఒకే దిక్కులో చలించినట్లయితే, ఆ రెండు చలాంకాల మధ్య గల సహసంబంధము ధనాత్మకమని చెప్పవచ్చు. ఉదాహరణకు ధర పెరిగితే, ఆ వస్తువు సప్లై కూడా పెరుగును. ధర తగ్గితే సప్లై కూడా తగ్గును. ఇది ధనాత్మక సహసంబంధము.

రెండు విభజనాలలో ఒక చలాంకపు విలువ తగ్గినప్పుడు వేరొక చలాంకము పెరిగితే లేదా ఒక చలాంకము పెరిగినప్పుడు రెండవ చలాంకము తగ్గితే ఆ రెండు చలరాశుల మధ్య గల సంబంధం వ్యతిరేక సంబంధము లేదా రుణాత్మక సహసంబంధము అంటారు. సహసంబంధ గుణకం గుర్తు రుణాత్మకంగా వుంటుంది. ఉదాహరణకు ధర పెరిగితే డిమాండ్ తగ్గును - ధర తగ్గితే డిమాండ్ పెరుగును.

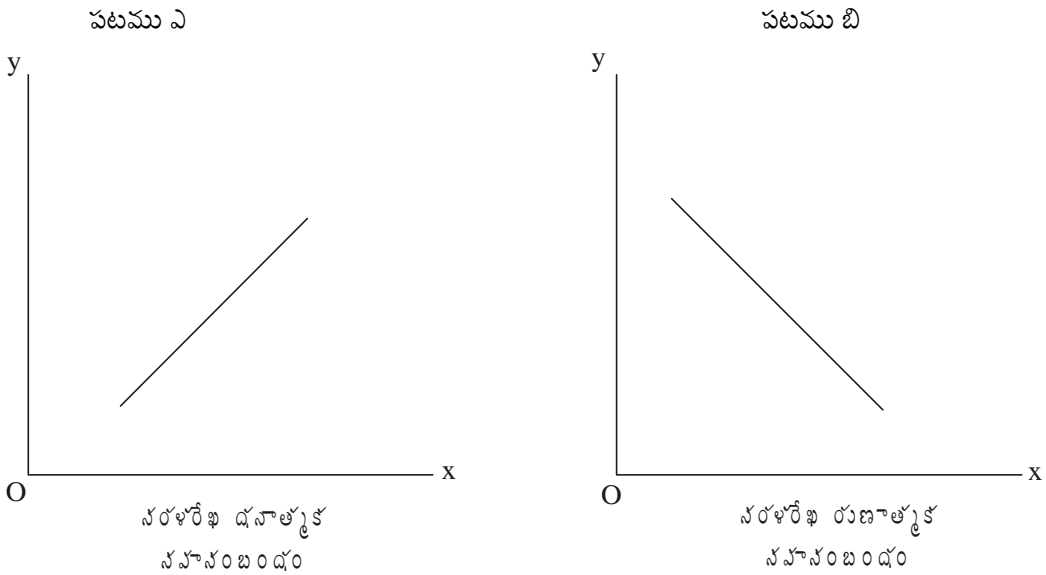
**10.3.2 సరళరేఖ లేదా వక్రరేఖీయ సహసంబంధము :** ఒక చలాంకములో ఏర్పడిన మార్పు వలన రెండవ చలాంకములో స్థిరమైన మార్పు ఏర్పడితే, ఆ రెండు చలాంకాల మధ్య సరళరేఖా సహసంబంధం వుంటుంది.

ఉదాహరణకు

x :	1	2	3	4	5
y :	2	4	6	8	10

x లో చలాంకములో వచ్చిన మార్పుకు y చలాంకములో స్థిరమైన మార్పు ఏర్పడుతుంది. దీనిని బట్టి  $Y = A + bX$  అనే సరళరేఖ సంబంధం కలిగివుంటాయి. దీనిని సరళరేఖా సహసంబంధం అంటారు. ఇది ధనాత్మకముగాను లేక రుణాత్మకముగాను వుండిపోవచ్చును.

రేఖాపటం - 1

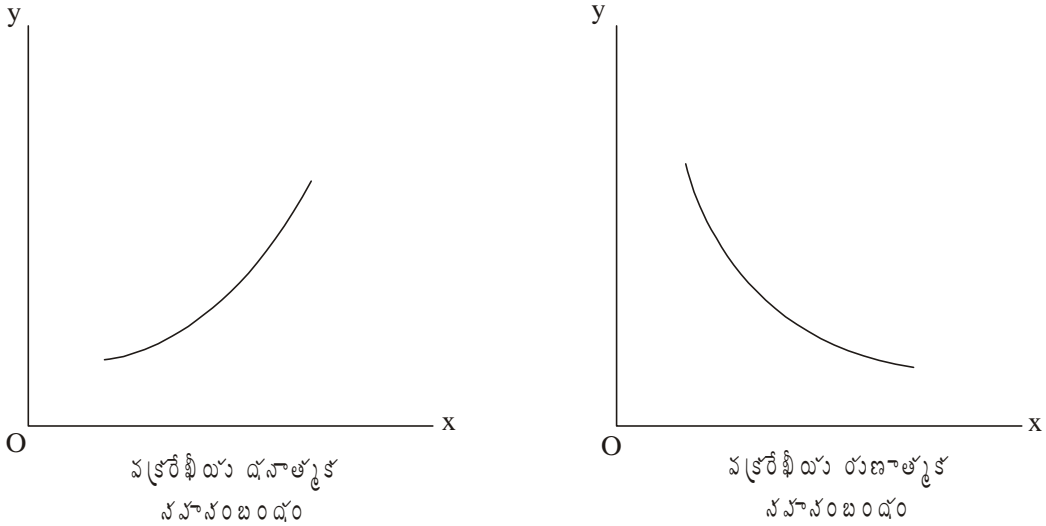


పై పటంలో  $x$  లో వచ్చిన మార్పునకు  $y$  లో స్థిరమైన మార్పు - ఒకే మార్గంలో ఏర్పడితే, దానిని సరళరేఖ ధనాత్మక సహసంబంధం అంటారు.  $x$  ఒక స్థిరమైన విలువతో పెరుగుతుంటే,  $y$  కూడా ఒక స్థిరమైన విలువతో పెరుగుతుంటుంది.  $x$  విలువ స్థిరమైన విలువ తగ్గుతుంటే  $y$  కూడా స్థిరమైన విలువతో తగ్గుతుంది. అప్పుడు గ్రాఫులో రేఖ ఎడమ నుండి కుడికి పైకి పోతూ వుంటుంది. దీనిని రేఖాపటం 1లో పటం-ఎ నందు చూపడం జరిగింది.

$x$  లో వచ్చిన మార్పునకు  $y$  లో స్థిరమైన మార్పు వ్యతిరేక మార్గంలో ఏర్పడితే దానిని సరళరేఖ రుణాత్మక సహసంబంధం అంటారు. ఉదాహరణకు ధర స్థిరమైన విలువతో తగ్గుతుంటే డిమాండ్ స్థిరమైన విలువతో పెరుగుతున్నప్పుడు, అప్పుడు సరళరేఖ రుణాత్మక సహసంబంధం ఏర్పడును. గ్రాఫులో ఆ రేఖ పైన చూపిన విధంగా ఎడమ నుండి కుడికి క్రిందికి వాలి వుంటుంది.

**వక్రరేఖీయ సంబంధము :** ఒక చలాంకములో మార్పునకు రెండవ చలాంకములో మార్పు స్థిరనిష్పత్తిలో లేనప్పుడు వక్రీయ సహసంబంధం అంటారు. వక్రీయ సహసంబంధం ధనాత్మకంగాను లేక రుణాత్మకంగాను వుండవచ్చు.

రేఖాపటం - 2



$x$  లో 10% మార్పు వస్తే  $y$  లో అందుకు భిన్నమైన మార్పు ఏర్పడితే అప్పుడు వక్రరేఖీయ సహసంబంధం ఏర్పడుతుంది.  $x$  10% పెరిగినప్పుడు  $y$  అంతకు భిన్నమైన శాతంలో పెరిగితే, అది వక్రరేఖీయ ధనాత్మక సంబంధం అంటారు. పై గ్రాఫులో చూపినట్లుగా ఎడమ నుండి కుడికి పైకి రేఖ పోతుంది.  $x$  లో వచ్చిన మార్పునకు  $y$  లో భిన్నమైన మార్పు వ్యతిరేఖమైన మార్పులో ఏర్పడితే అది వక్రరేఖీయ రుణాత్మక సంబంధము.  $x$  10% తగ్గితే,  $y$  అంతకు భిన్నమైన శాతం పెరిగితే, అది వక్రరేఖీయ రుణాత్మక సంబంధం అవుతుంది. పై గ్రాఫులో చూపిన విధంగా వక్రరేఖగా ఎడమ నుండి కుడికి క్రిందగా వాలి వుంటుంది.

**10.3.3 సామాన్య సహసంబంధం లేదా బహుళ సహసంబంధం :** రెండు చలరాశుల మధ్య వున్న సంబంధాన్ని అధ్యయనం చేస్తే దానిని సామాన్య సహసంబంధం అంటారు. రెండుకు మించిన చలరాశుల మధ్య గల సంబంధాన్ని అధ్యయనం చేయటాన్ని బహుళ సహసంబంధం అంటారు.

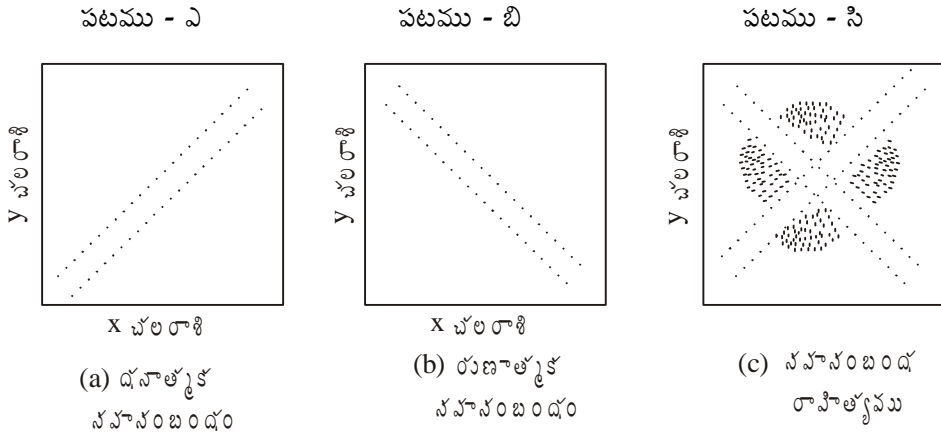
### 10.4 సహసంబంధము - గణన పద్ధతులు

సహసంబంధం అధ్యయనం చేయడానికి చాలా పద్ధతులున్నాయి. రెండు చలాంకాల మధ్య ధనాత్మకమైన లేక రుణాత్మకమైన సంబంధము వుండవచ్చును. దీనిని అధ్యయనం చేయడానికి ఈ క్రింది పద్ధతులు ఉపయోగపడతాయి.

1. వ్యాపన పటము
2. సహసంబంధ రేఖా చిత్రపటం
3. సహసంబంధ గుణకం
4. స్పియర్ మన్ కోటి సహసంబంధ గుణకము
5. సారూప్య విచలనాల పద్ధతి

**10.4.1 వ్యాపన పటము :** రెండు చలాంకాల మధ్య సంబంధాన్ని అధ్యయనం చేయడానికి గీసే చిత్రపటమే వ్యాపన పటము. ఇది చాలా సులువైన ప్రక్రియ.  $x, y$  అనే రెండు చలరాశులు వున్నట్లయితే వాటిని గ్రాఫు కాగితంపై  $x, y$  రేఖలపై గుర్తించాలి. రెండు చలాంకాలలో ఒకటి స్వతంత్ర చలాంకము అవుతుంది. రెండవది ఆధారిత చలాంకము అవుతుంది. స్వతంత్ర చలాంకము పెరిగినప్పుడు దానిపై ఆధారపడిన అస్వతంత్ర చలాంకము కూడా పెరిగితే ఆ రెండింటి మధ్య ధనాత్మకమైన సహసంబంధం వుంటుంది.

రేఖాపటం - 3

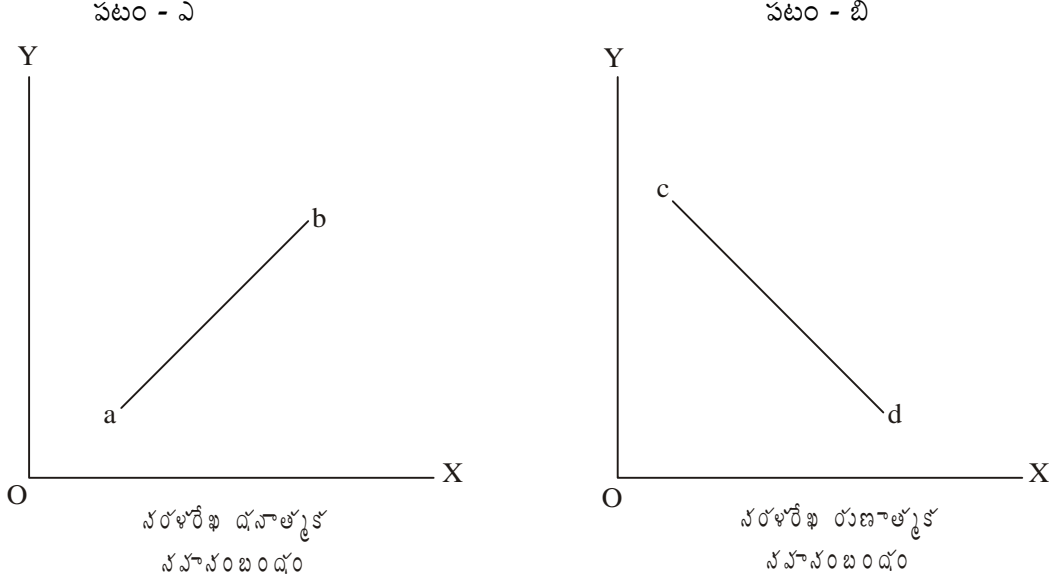


(a) గ్రాఫులో  $x$  పెరుగుతుంటే  $y$  పెరుగుతుంది కాబట్టి ధనాత్మక సహసంబంధంగా గుర్తింపవచ్చు. (b) గ్రాఫులో  $x, y$  విలువలకు విలోమ సంబంధము వున్నది. అందువలన దానిని రుణాత్మక సహసంబంధము అంటాము. అనగా  $x$  విలువ తగ్గుతుంటే  $y$  విలువ పెరుగుట  $x$  విలువ పెరుగుతుంటే  $y$  విలువ తగ్గుట వలన రుణాత్మక సంబంధము ఏర్పడుతుంది. (c) పటంలో  $x, y$  చలాంకాలకు సంబంధము లేకుండా వుంటుంది. దీనినే సహసంబంధ రాహిత్యము అంటాము.  $x, y$  అనే రెండు చలరాశులని భావించి క్రింది రేఖాపటాలు గీయటం జరిగింది.

**10.4.2 సహసంబంధ రేఖాచిత్రము :** రెండు చలాంకాల మధ్య సహసంబంధాన్ని రేఖాచిత్ర పటము ద్వారా గుర్తించవచ్చు. రెండు చలాంకాల మధ్య వున్న సంబంధాన్ని, అది ధనాత్మకమైనదా లేక రుణాత్మకమైనదా అనే విషయాన్ని రేఖాచిత్రం ద్వారా చూపించవచ్చు.

$x, y$  అనేవి రెండు చలరాశులని భావించి కింది రేఖాపటాలు గీయటం జరిగింది.

రేఖాపటం - 4



X అక్షంపై x చలాంకపు విలువ, Y అక్షంపై చలాంక విలువ గ్రాఫు కాగితంపై గుర్తించాలి. పై గ్రాఫులో x విలువ పెరుగుతున్న కొలది y విలువ కూడా పెరుగుతూ రెండు చలాంకాల మధ్య ధనాత్మక సంబంధాన్ని రేఖాపటం 4లోని పటం - ఎ లోని ab రేఖ సూచిస్తుంది. రేఖ ఎడమ నుండి కుడికి పైకి పోవునప్పుడు x, y చలాంకాల మధ్య ధనాత్మక సంబంధం వుంటుంది. x విలువ పెరిగేటప్పుడు y చలాంకం విలువ తగ్గుతూ - x విలువ తగ్గేటప్పుడు y చలాంకపు విలువ పెరుగుతూ వుంటే x, y చలాంకాల మధ్య రుణాత్మక సంబంధం ఏర్పడుతుంది. పై రేఖాపటం - 4లోని పటం-బిలో వలే cd రేఖ ఎడమ నుండి కుడికి క్రిందికి వాలి వుంటుంది. డిమాండ్ రేఖ ఎడమ నుండి కుడికి క్రిందికి వాలి వుంటుంది. ధర, డిమాండ్లకు విలోమ సంబంధం సూచిస్తుంది.

**10.4.3 కార్ల్ పియర్సన్ సహసంబంధ గుణకము :** వ్యాపన పటం ద్వారా, రేఖా చిత్రపటం ద్వారా సహసంబంధాన్ని చూపినప్పుడు చలరాశుల మధ్య సహసంబంధ స్వభావాన్ని చెప్పగలుగుతాము. కాని ఆ రెండు చలాంకాల మధ్య సహసంబంధ పరిమాణాన్ని లేదా సహసంబంధ విలువను నిర్దిష్టంగా చెప్పలేము. రెండు చలాంకాల మధ్యయున్న సహసంబంధ పరిమాణాన్ని (శుద్ధ సంఖ్యలో) సహసంబంధ గుణకం ద్వారా తెలుసుకోవచ్చు. రెండు చలాంకాల మధ్య సహసంబంధ పరిమాణాన్ని తెలుసుకోవటానికి ప్రముఖ జీవశాస్త్రవేత్త, గణాంక శాస్త్రవేత్తలయిన కార్ల్ పియర్సన్ సహసంబంధ గుణకాన్ని రూపొందించారు. ఈ గుణక విలువ ద్వారా సహసంబంధ పరిమాణాన్ని, సహసంబంధ స్వభావాన్ని తెలుసుకోవచ్చు.

కార్ల్ పియర్సన్ ప్రకారం “రెండు శ్రేణుల అంకమధ్యమాల నుండి వాటి వివిధ అంశాలకు విచలనాలను తీసి వాటి అనురూప లబ్ధాల సంకలనాన్ని, వాటి ప్రామాణిక విచలనాల లబ్ధాన్ని (శ్రేణులలోని జతల సంఖ్యతో గుణిస్తే వచ్చిన మొత్తంతో భాగిస్తే రెండు చలనాల సహసంబంధ గుణకం వస్తుంది”, అని నిర్వచనం చేశారు.

దీనిని సూత్ర రూపంగా,

$$r = \frac{\Sigma dx dy}{N \cdot \sigma_x \sigma_y}$$

r = సహసంబంధ గుణకము,  $\Sigma dx dy$  = రెండు చలనాల అంకమధ్యమాల నుంచి తీసుకున్న విచలనాల లబ్ధాల మొత్తం

$N$  = జతల సంఖ్య,  $\sigma_x = x$  శ్రేణి ప్రామాణిక విచలనం,  $\sigma_y = y$  శ్రేణి ప్రామాణిక విచలనం,

$dx = (x - \bar{x})$   $x$  శ్రేణిలో చలాంకాలకు  $x$  శ్రేణి అంకమధ్యమమునకు గల విచలనాలు.

$dy = (y - \bar{y})$   $y$  శ్రేణిలో చలాంకాలకు  $y$  శ్రేణి అంకమధ్యమమునకు గల విచలనాలు.

పై సూత్రము సహసంబంధ గుణకాన్ని వాడినప్పుడు రెండు శ్రేణుల ప్రామాణిక విచలనాన్ని విడివిడిగా కనుక్కోవాలి. రెండు శ్రేణులలో అంకమధ్యమము పూర్ణసంఖ్యలుగా వుండాలి. అంకమధ్యమము పూర్ణసంఖ్యలుగా ఉన్నప్పుడు పై సూత్రాన్ని క్రింద విధంగా మార్చి వాడవచ్చు.

$$r = \frac{\sum dx dy}{\sqrt{\sum dx^2 \times \sum dy^2}}$$

అంకమధ్యమాలు భిన్నాలలో వున్నప్పుడు, పూర్ణసంఖ్యలు కానప్పుడు, విచలనాలను ఊహించిన సగటును తీసుకోవడం సులభంగా వుంటుంది. ఊహించిన అంకమధ్యమం ప్రాతిపదికగా సహసంబంధ గుణకాన్ని గణన చేసేటప్పుడు ఈ క్రింది సూత్రాన్ని వాడాలి.

$$r = \frac{\sum Dx Dy - \frac{(\sum Dx)(\sum Dy)}{N}}{\sqrt{\sum Dx^2 - \frac{(\sum Dx)^2}{N}} \sqrt{\sum Dy^2 - \frac{(\sum Dy)^2}{N}}} \text{ or } \frac{N \cdot \sum Dx Dy - \sum Dx \cdot \sum Dy}{\sqrt{N \cdot \sum Dx^2 - (\sum Dx)^2} \cdot \sqrt{N \sum Dy^2 - (\sum Dy)^2}}$$

$\sum Dx Dy = x y$  చలరాశులను వాటి ఊహించిన అంకమధ్యమాల నుంచి తీసుకున్న విచలనాల లబ్ధాల మొత్తము

$Dx = x - A, Dy = y - A$

$\sum Dx = x$  చలరాశుల ఊహించిన అంకమధ్యమం నుండి  $x$  చలరాశుల విచలనాల మొత్తం.

$\sum Dy = y$  చలరాశుల ఊహించిన అంకమధ్యమం నుండి  $y$  చలరాశుల విచలనాల మొత్తం.

$\sum Dx^2 = x$  చలరాశుల ఊహించిన అంకమధ్యమం నుంచి  $x$  చలరాశుల విచలనాల వర్గాల మొత్తం.

$\sum Dy^2 = y$  చలరాశుల ఊహించిన అంకమధ్యమం నుంచి  $y$  చలరాశుల విచలనాల వర్గాల మొత్తం.

$N$  = జతల సంఖ్య

ఉదాహరణ - 1 : ఈ క్రింది సమాచారమునకు సహసంబంధ గుణకము కనుగొనుము.

x	9	8	7	6	5	4	3	2	1
y	15	16	14	13	11	12	10	8	9

సమాధానము : ప్రత్యక్ష పద్ధతిలో (అంకమధ్యమం ప్రాతిపదికగా) గణించటం జరిగింది.

జతల సంఖ్య	x	dx	dx <sup>2</sup>	y	dy	dy <sup>2</sup>	dx dy
1	9	4	16	15	3	9	12

2	8	3	9	16	4	16	12
3	7	2	4	14	2	4	1
4	6	1	1	13	1	1	1
5	5	0	0	11	-1	1	0
6	4	-1	1	12	0	0	0
7	3	-2	4	10	-2	4	4
8	2	-3	9	8	-4	16	12
9	1	-4	16	9	-3	9	12

$$N = 9 \quad \Sigma x = 45 \quad \Sigma dx = 0 \quad \Sigma dx^2 = 60 \quad \Sigma y = 108 \quad \Sigma dy = 0 \quad \Sigma dy^2 = 60 \quad \Sigma dx dy = 57$$

అంకమధ్యమము ప్రాతిపదికగా సహసంబంధ సూత్రాన్ని ఉపయోగించి గణన చేయడం జరిగింది.

$$r = \frac{\Sigma dx dy}{N \cdot \sigma_x \sigma_y}$$

మొదట x, y శ్రేణుల అంకమధ్యమాలను, ప్రామాణిక విచలనాలను గణన చేసి తరువాత పై సూత్రాన్ని ఉపయోగించి గణన చేయడం జరిగింది.

$$X \text{ విభాజన అంకమధ్యమం } (\bar{x}) = \frac{\Sigma x}{N} = \frac{45}{9} = 5$$

$$Y \text{ విభాజన అంకమధ్యమం } (\bar{y}) = \frac{\Sigma y}{N} = \frac{108}{9} = 12$$

$$x \text{ విభాజన ప్రామాణిక విచలనం } (\sigma_x) = \sqrt{\frac{\Sigma dx^2}{N}} = \sqrt{\frac{60}{9}} = \sqrt{6.67} = 2.58$$

$$y \text{ విభాజన ప్రామాణిక విచలనం } (\sigma_y) = \sqrt{\frac{\Sigma dy^2}{N}} = \sqrt{\frac{60}{9}} = \sqrt{6.67} = 2.58$$

$$N = 9$$

$$r = \frac{\Sigma dx dy}{N \sigma_x \cdot \sigma_y} = \frac{57}{9(2.58)(2.58)}$$

$$r = \frac{57}{59.91} = +0.951$$

$\sigma_x = x$  శ్రేణి ప్రామాణిక విచలనం

$\Sigma dx^2 = x$  శ్రేణిలో అంశాలకు, అంకమధ్యమమునకు మధ్య విచలనాలకు వర్గాల మొత్తం.

$\sigma_y = y$  శ్రేణి ప్రామాణిక విచలనం

$\Sigma dy^2 = y$  శ్రేణిలో అంశాలకు, అంకమధ్యమమునకు మధ్య విచలనాల వర్గాల మొత్తం

$N =$  జతల సంఖ్య

పై లెక్కనే - అంకమధ్యమము పూర్ణసంఖ్య అయినప్పుడు - ఈ క్రింది సూత్రం ద్వారా సహసంబంధాన్ని లెక్కించవచ్చు.

$$r = \frac{\Sigma dx dy}{\sqrt{\Sigma dx^2 \Sigma dy^2}} = \frac{57}{\sqrt{60 \times 60}}$$

$$r = \frac{57}{60} = 0.95$$

**సహసంబంధము - దగ్గర పద్ధతి :** అంకమధ్యమాలు పూర్ణ సంఖ్యలు కానప్పుడు వాటి నుంచి వర్గాలు లెక్కించడం కష్టం. అప్పుడు రెండు శ్రేణులలో ఊహించిన సగటు నుండి విచలనాలు తీసుకుని ఈ క్రింది సూత్రమును ఉపయోగించి సహసంబంధ గుణకం కనుగొనవచ్చు.

$$r = \frac{\Sigma Dx Dy - \frac{\Sigma Dx \Sigma Dy}{N}}{\sqrt{\Sigma Dx^2 - \frac{(\Sigma Dx)^2}{N}} \sqrt{\Sigma Dy^2 - \frac{(\Sigma Dy)^2}{N}}} \text{ or } \frac{N \cdot \Sigma Dx Dy - \Sigma Dx \cdot \Sigma Dy}{\sqrt{N \cdot \Sigma Dx^2 - (\Sigma Dx)^2 \cdot N \Sigma Dy^2 - (\Sigma Dy)^2}}$$

**ఉదాహరణ - 2 :** కింది సమాచారానికి సహసంబంధ గుణకాన్ని కనుక్కోండి.

ఉష్ణోగ్రత	57	42	40	38	42	45	42	44	40	46	44	43
బీజోత్పత్తి కాలం	10	26	30	41	29	27	27	19	18	19	31	29

సమాధానం :

Sl.No.		$Dx(x - A)$		$Dy(y - A)$			
జతల సంఖ్య	X	$(x - 44)$	$Dx^2$	y	$y - 26$	$Dy^2$	$DxDy$
1	57	13	169	10	-16	256	-208
2	42	-2	4	26	0	0	0



3	40	-4	16	30	+4	16	-16
4	38	-6	36	41	+15	225	- 90
5	42	-2	4	29	+3	9	-6
6	45	+1	1	27	+1	1	+1
7	42	-2	4	27	+1	1	-2
8	44	0	0	19	-7	49	0
9	40	-4	16	18	-8	64	+32
10	46	+2	4	19	-7	49	-14
11	44	0	0	31	+5	25	0
12	43	-1	1	29	+3	9	-13

N = 12                      ΣDx = -5      ΣDx<sup>2</sup> = 225      ΣDy = -6      ΣDy = -6      ΣDy<sup>2</sup> = 704      ΣDx Dy = 306

$$r = \frac{\Sigma D_x D_y - \frac{\Sigma D_x \cdot \Sigma D_y}{N}}{\sqrt{\Sigma D_x^2 - \frac{(\Sigma D_x)^2}{N}} \sqrt{\Sigma D_y^2 - \frac{(\Sigma D_y)^2}{N}}}$$

$$= \frac{-306 - \frac{(-5)(-6)}{12}}{\sqrt{225 - \frac{(-5)^2}{12}} \sqrt{704 - \frac{(-6)^2}{12}}} = \frac{-306 - 2.5}{\sqrt{255 - 2.1} \sqrt{704 - 3}} = \frac{-308.5}{\sqrt{252.9} \sqrt{701}}$$

సంవర్గమానాలు తీసుకుని

$$= -\left[ \log 308.5 - \frac{1}{2}(\log 252.9 + \log 701) \right]$$

$$= -AL \left[ 2.4893 - \frac{1}{2}(2.4029 + 2.8457) \right]$$

$$= -AL \left[ 2.4893 - \frac{1}{2}(5.2486) \right]$$

$$= -AL [2.4893 - 2.6243] = -AL (-1350)$$

$$= -AL [1.8650]$$

$$r = -[AL \bar{1}.8650]$$

$$r = -0.733$$

మరో విధంగా

$$r = \frac{N \cdot \Sigma D_x D_y - \Sigma D_x \cdot \Sigma D_y}{\sqrt{N \cdot \Sigma D_x^2 - (\Sigma D_x)^2 \cdot N \Sigma D_y^2 - (\Sigma D_y)^2}}$$

$$= \frac{12 \times 306 - (-5)(-6)}{\sqrt{12 \times 255 - (-5)^2 \cdot 12 \times 704 - (-6)^2}}$$

$$r = -0.733$$

ఉదాహరణ 3 : ఒక కుటుంబం యొక్క 7 నెలల ఆదాయ వ్యయాలకు సహసంబంధ గుణకం కనుగొనుము.

నెల	జనవరి	ఫిబ్రవరి	మార్చి	ఏప్రిల్	మే	జూన్	జూలై
ఆదాయం	46	54	56	56	58	60	62
వ్యయం	36	40	44	54	42	58	54

సమాధానము : x విభాజనంలో 56ను, y లో 45ను ఊహించిన అంకమధ్యమంగా భావించటం జరిగింది.

నెలలు	x	(x - 56)		y	(y - 45)		Dx Dy
		Dx(x - A)	Dx <sup>2</sup>		Dy(y - A)	Dy <sup>2</sup>	
జనవరి	46	-10	100	36	-9	81	+90
ఫిబ్రవరి	54	-2	4	40	-5	25	+10
మార్చి	56	0	0	44	-1	1	0
ఏప్రిల్	56	0	0	54	+9	81	0
మే	58	+2	4	42	-3	9	-6
జూన్	60	+4	16	58	+13	169	+52
జూలై	62	+6	36	54	+9	81	+54
N = 7		ΣDx	ΣDx <sup>2</sup>		ΣDy	ΣDy <sup>2</sup>	ΣDx Dy
		=0	=160		=+13	=447	=+200

$$r = \frac{\Sigma D_x D_y - \frac{(\Sigma D_x \times \Sigma D_y)}{N}}{\sqrt{\Sigma D_x^2 - \frac{(\Sigma D_x)^2}{N}} \sqrt{\Sigma D_y^2 - \frac{(\Sigma D_y)^2}{N}}}$$

$$\Sigma D_x D_y = 200, \quad \Sigma D_x = 0 \quad \Sigma D_y = 13, \quad \Sigma D_x^2 = 160$$

$$\Sigma dy^2 = 447, N = 7$$

$$\therefore r = \frac{200 - \frac{(0)(13)}{7}}{\sqrt{160 - \frac{(0)^2}{7}} \sqrt{447 - \frac{(13)^2}{7}}}$$

$$r = \frac{200}{\sqrt{160} \sqrt{422.86}}$$

$$r = \frac{200}{\sqrt{67656.6}} = \frac{200}{260.1} = +0.769$$

ఉదాహరణ 4 : కింది సమాచారంలో ఉత్పత్తి చేసిన వస్తువుల సంఖ్య మరియు లోపాలున్న వస్తు సంఖ్యను ఇవ్వడం జరిగింది. తరగతి సైజుకు, లోపాలున్న వస్తు సంఖ్యకు సహసంబంధ గుణకం కనుక్కోండి.

తరగతి సైజు	15-16	16-17	17-18	18-19	19-20	20-21
వస్తు సంఖ్య	200	270	340	360	400	300
లోపాలున్న వస్తు సంఖ్య	150	162	170	180	180	114

సమాధానం : తరగతి సైజుల మధ్య విలువలను x గాను, లోపాలున్న వస్తు శాతాలను y గాను పరిగణించడం జరిగింది.

సహసంబంధ గుణక గణన

తరగతి	మధ్య విలువ	(x - 17.5)	Dx <sup>2</sup>	లోపాలున్న వస్తు శాతాలు (y)	Dy	Dy <sup>2</sup>	Dx Dy
పరిమాణం	x	Dx					
15-16	15.5	-2	4	75	+25	625	-50
16-17	16.5	-1	1	60	+10	100	-10
17-18	17.5	0	0	50	0	0	0
18-19	18.5	+1	1	50	0	0	0
19-20	19.5	+2	4	45	-5	25	-10
20-21	20.5	+3	9	38	-12	144	-36
		$\Sigma Dx = 3$	$\Sigma Dx^2 = 19$		$\Sigma Dy = 18$	$\Sigma Dy^2 = 894$	$\Sigma Dx Dy$

= -106

$$r = \frac{N \cdot \Sigma Dx Dy - \Sigma Dx \cdot \Sigma Dy}{\sqrt{N \Sigma D^2 x - (\Sigma Dx)^2} \cdot \sqrt{N \Sigma D^2 y - (\Sigma Dy)^2}} = \frac{6 \times -106 - 3 \times 18}{\sqrt{6 \times 19 - (3)^2} \sqrt{6 \times 894 - (18)^2}}$$

$$r = \frac{-636 - 54}{\sqrt{105} \sqrt{5040}} = \frac{-690}{727.46} = -0.949$$

10.4.3.1 సహసంబంధ గుణకానికి అవధులు : సహసంబంధ గుణకం విలువ ఎప్పుడూ అనే రెండు అవధుల మధ్య అంటే -1 నుంచి +1 మధ్య వుంటుంది.

అతి కనిష్ట విలువ -1, అతి గరిష్ట విలువ +1గా వుంటుంది. x, y చలాంకాలకు ఒకే దిశలో ఒకే నిష్పత్తిలో మారుతూ వుంటే, సహసంబంధ గుణకం +1గా వుండవచ్చు. x, y చలాంకాలు వ్యతిరేక దిశలో స్థిరమైన నిష్పత్తిలో మారుతూ వుంటే సహసంబంధ గుణకము -1గా వుంటుంది. రెండు చలాంకాల మధ్య సంబంధం '0' అయితే రెండు చలాంకాల మధ్య సంబంధం లేదు అని చెప్పాలి.

వివిధ రకాలైన సహసంబంధాలు

సహసంబంధం	ధనాత్మక	రుణాత్మక
సంపూర్ణ సహసంబంధం	+1	-1
చాలా ఎక్కువ డిగ్రీ	+0.9 ఆ పైన నుంచి	-0.9 ఆ పైన
ఎక్కువ డిగ్రీ	+0.75 నుంచి +0.9	-0.75 నుంచి -0.9
మోడరేట్ డిగ్రీ	+0.50 నుంచి +0.75	-0.5 నుంచి - 0.75
తక్కువ డిగ్రీ	+0.25 నుంచి +0.50	-0.25 నుంచి -0.50
అతి తక్కువ డిగ్రీ	+0.25	-0.25
సహసంబంధ రాహిత్యం	0	0

10.4.3.2 సహసంబంధ గుణకం - ప్రమేయాలు : కార్ల్ పియర్సన్ సహసంబంధ గుణకం ఈ క్రింది ప్రమేయాలపై ఆధారపడి వుంది.

- (1) సహసంబంధాన్ని పరిశీలించే రెండు శ్రేణులు సామాన్య విభజనాన్ని రూపొందించే స్వతంత్ర కారణాల వల్ల ప్రభావితం చెందాలి. ఉదాహరణకు విద్యార్థుల ఎత్తులు, బరువులు, భార్య, భర్తల వయస్సులు - మొదలగు వాటికి సంబంధించిన శ్రేణులలో తమ ప్రభావాన్ని కనపరుస్తూ వుంటాయి.
- (2) శ్రేణులను ప్రభావితం చేసే శక్తుల మధ్య కార్యకారణ సంబంధం వుండాలి.
- (3) చలరాశుల మధ్య లీనియర్ లేదా సరళరేఖాత్మక సహసంబంధం ఉంటుంది.

10.4.3.3 సంభావ్య దోషము - సహసంబంధ గుణకము (Probable Error of Coefficient of Correlation) : ప్రతిచయన ప్రాతిపదికగా గణించిన సహసంబంధ గుణక విలువను బట్టి అసలు దత్తాంశ విలువ ఏ విధంగా ఉంటుందో అంచనా వేయటానికి సంభావ్యతా దోషం ఉపకరిస్తుంది. సహసంబంధ గుణక సంభావ్యదోషం వల్ల మనము గణన చేసిన సహసంబంధ గుణకం మీద ఎంతవరకు ఆధారపడవచ్చు అనేది తెలుసుకోవచ్చు.

కార్లీపియర్సన్ సహసంబంధ గుణక సంభావ్య దోషము (Probable Error)ను కింది సూత్రం ద్వారా కనుగొంటాము.

$$P.E. = \frac{0.6745(1-r^2)}{\sqrt{N}}$$

ఇక్కడ r = సహసంబంధ గుణకము, N = జతల సంఖ్య

సహసంబంధ గుణకము విలువ ఏ అవధుల మధ్య మారుతూ ఉంటుందో తెలుసుకోవడానికి ఈ సంభావ్య దోషాన్ని కలపడం లేదా తీసివేయడం చేయవలె. అంటే సహసంబంధ గుణకం విలువ  $\pm$  సంభావ్యదోషము మనకు సహసంబంధ గుణకము అవధులను తెలుపుతాయి.

సహసంబంధ గుణకం(r), సంభావ్యత దోషం కనుగొన్న తరువాత వాటిపై ఆధారపడి

1. సహసంబంధ గుణకం(r) విలువ సంభావ్యతా దోషం కన్నా తక్కువగా వుంటే r విలువ Significant కాదు.
2. r విలువ PE కి ఆరు రెట్ల కన్నా ఎక్కువగా వుంటే r విలువ significant గా చెప్పవచ్చు.
3.  $r \pm PE$  విలువలు అసలు దత్తాంశం ద్వారా గణన చేస్తే వచ్చే సహసంబంధ గుణకం ఉండే అవధులను తెలుపుతాయి.

ప్రతిచయనాలను అధ్యయనం చేసేటప్పుడు సంభావ్యదోషం ప్రాముఖ్యము ఎక్కువ. మనం తీసుకునే యాదృచ్ఛిక ప్రతిచయన (Random Sampling) స్థితి మీద ఆధారపడి వుంటుంది. ఉదాహరణకు ఒక కాలేజీలో 100 మంది విద్యార్థులున్నారు అనుకొందాము. వారి బరువు, ఎత్తుల మధ్య సహసంబంధాన్ని తెలుసుకోవలనంటే మొత్తం 100 మంది విద్యార్థులను తీసుకొని సహసంబంధ గుణకాన్ని గణన చేయవచ్చు లేదా 100 మంది నుంచి 10 మంది విద్యార్థులను యాదృచ్ఛిక ప్రతిచయనం ద్వారా తీసుకొని 'r' విలువను కనుక్కోవచ్చు. అయితే రెండో పద్ధతిలో చాలా సౌలభ్యమున్నదని వేరే చెప్పనవసరం లేదు. కాని మొత్తం చలనాలనన్నిటిని తీసుకొని గణన చేసిన సహసంబంధ గుణకానికి యాదృచ్ఛిక ప్రతిరూపగ్రహణ ద్వారా కనుక్కొన్న సహసంబంధ గుణకానికి తేడా ఎంతో తెలుసుకోగలిగితే రెండో పద్ధతిని మనము ఉపయోగించుకోవచ్చు. సంభావ్యదోషము సహసంబంధ గుణకపు విలువ అవధులు చెబుతుంది. అంటే మొత్తం సమూహం అంతా తీసుకుంటే సహసంబంధ గుణకము (r) విలువ ఎట్లా ఉంటుందో లేదా సమూహం నుంచి యాదృచ్ఛిక ప్రతిరూపాలను తీసుకొంటే సహసంబంధ గుణకము(r) ఎట్లా ఉంటుందో చెప్పగలదు.

సంభావ్యదోషము సహసంబంధ గుణకానికి కలిపితే మనకు ఎగువ అవధి, దానిని తీసివేస్తే దిగువ అవధి వస్తాయి. ఈ రెండు అవధుల మధ్య మన విలువ చలించే అవకాశం ఉన్నది. ఉదాహరణకు భార్యల ఎత్తు, భర్తల ఎత్తుకు మధ్య వున్న సహసంబంధము +0.94 అనుకొంటే, దీని అవధులు +0.94 .  $\pm$  P.E. (P.E. అంటే సంభావ్యదోషానికి సాంకేతికము) అవుతాయి.

ఉదాహరణ 5 : ఒక స్కూలు పరీక్షా ఫలితాలు కింద ఇచ్చినారు. వాటి నుంచి సహసంబంధ గుణకాన్ని, దాని సంభావ్యదోషాన్ని కనుక్కోండి.

విద్యార్థుల వయస్సు	కృతార్థులు కాని వారి శాతం
13	39
14	40
15	43
16	34
17	36
18	39
19	48
20	47
21	54

జతల సంఖ్య	విద్యార్థుల వయస్సు	ఊహించిన అంకమధ్యమం	విచలనాల వర్గాలు	కృతార్థులు కానివారి	ఊహించిన అంకమధ్యమం	విచలనాల వర్గాలు	లబ్ధాలు
Sl.No.	x	నుంచి విచలనాలు	$Dx^2$	y	నుంచి విచలనాలు	$Dy^2$	$Dx \cdot Dy$
		Dx			Dy		
1	13	-4	16	39	0	0	0
2	14	-3	9	40	+1	1	-3
3	15	-2	4	43	+4	16	-8
4	16	-1	1	34	-5	25	+5
5	17	0	0	36	-3	9	0
6	18	+1	1	39	0	0	0
7	19	+2	4	48	+9	81	+18
8	20	+3	9	47	+8	64	+24
9	21	+4	16	54	+15	225	+60
N=19		$\left. \begin{matrix} +10 \\ -10 \end{matrix} \right\} \Sigma Dx = 0$	$\Sigma Dx^2 = 60$		$\left. \begin{matrix} +37 \\ - 8 \end{matrix} \right\} = 29 \Sigma Dy$	$\Sigma Dy^2 = 421$	$\left. \begin{matrix} +107 \\ - 11 \end{matrix} \right\} 96$
							$\Sigma Dx \cdot \Sigma Dy$

సంభావ్య దోషము-సహసంబంధ గుణకము  $r = \frac{N \cdot \Sigma Dx \cdot Dy - \Sigma Dx \cdot \Sigma Dy}{\sqrt{N \cdot \Sigma Dx^2 - (\Sigma Dx)^2 \cdot N \cdot \Sigma Dy^2 - (\Sigma Dy)^2}}$

N = 9,  $\Sigma Dx = 0$ ,  $\Sigma Dy = 29$ ,  $\Sigma Dx^2 = 60$ ,  $\Sigma Dy^2 = 421$ ,  $\Sigma Dx \cdot Dy = 96$  ఈ విలువలను పై సూత్రంలో ప్రతిక్షేపిస్తే

$$r = \frac{9 \times 96 - 0 \times 29}{\sqrt{9 \times 60 - (0)^2 \cdot 9 \times 421 - (29)^2}}$$

$$= +0.6836$$

$\therefore$  సహసంబంధ గుణకము = +0.6836

సహసంబంధ గుణక సంభావ్య దోషము (P.E) =  $\pm \frac{0.6745(1-r^2)}{\sqrt{N}}$

ఇక్కడ r = 0.684, N = 9

కాబట్టి P.E. =  $\pm 0.6745 \frac{\{1 - (0.684)^2\}}{\sqrt{9}}$

$$= \pm \frac{0.6745(1 - 0.469225)}{3}$$

$$= \pm \frac{0.6745 \times 0.5308}{3} = \pm 0.1193$$

$\therefore$  సంభావ్య దోషము P.E. =  $\pm 0.119$

X, Y చలరాశులు ప్రతిచయనాలైతే అసలు దత్తాంశం ద్వారా వచ్చు r విలువ r - PE నుంచి r + PE మధ్య అనగా 0.684 - 0.119 నుంచి 0.684 + 0.119 మధ్య ఉంటుంది. అంటే 0.565 నుంచి 0.803 మధ్య ఉంటుంది.

**10.4.4 స్పియర్మన్ కోటి సహసంబంధ గుణకం :** మానవ జీవితంలో అన్ని అంశాలను సంఖ్యరూపంలో చెప్పలేము. ముఖ్యముగా గుణాత్మక విషయాలలో ఈ సమస్య ఏర్పడుతుంది. అనగా అందచందాలు, తెలివితేటలు, నీతి నిజాయితీలు మొదలగు గుణాత్మక అంశాలను అధ్యయనం చేయడానికి స్పియర్మన్ కోటి సహసంబంధ గుణక పద్ధతి కనుగొన్నాడు.

ఏ అంశాన్ని అయినా దాని లక్షణాన్ని అంకెలలో తెలపలేకపోతే వాటికి ర్యాంకులు (కోటీలు) ఇవ్వవచ్చు. గరిష్ట విలువకు మొదటి ర్యాంకు తరువాత గరిష్ట విలువ రెండవ ర్యాంకు, కనిష్ట విలువకు చివరి ర్యాంకు ఇవ్వాలి. మొదట శ్రేణిలో విలువలకు ఈ విధంగా ఇచ్చిన ర్యాంకులను R<sub>1</sub> గా సూచిస్తాము. రెండవ శ్రేణిలో ఇచ్చిన ర్యాంకులను R<sub>2</sub> గా సూచిస్తారు. ప్రతి జతలో R<sub>1</sub> కు R<sub>2</sub> కు మధ్య తేడాను (R<sub>1</sub> - R<sub>2</sub>) ను D తో సూచిస్తాము. ఒక్కొక్క దానికి వర్గం (D<sup>2</sup>) కనుక్కోవాలి. ఆ తరువాత ఈ క్రింది సూత్రంను ఉపయోగించి కోటి సహసంబంధం గణన చేయటం జరుగుతుంది.

$$r_s = 1 - \frac{6\sum D^2}{N(N^2 - 1)} \quad \text{or} \quad 1 - \frac{6\sum D^2}{N^3 - N}$$

r<sub>s</sub> = స్పియర్మన్ కోటి సహసంబంధ గుణకం

$\sum (R_1 - R_2)^2 = \sum D^2 =$  మొదట విభజన కోటీలకు, రెండో విభజన కోటీలకు మధ్య తేడాల వర్గాల మొత్తం

N = రెండు శ్రేణులలోని జతల సంఖ్య

**ఉదాహరణ 6 :** ఈ క్రింది అంశములకు కోటి సహసంబంధ గుణకం కనుగొనుము.

x :	415	434	420	430	424	428
y :	330	332	328	331	327	325

వివరణ :

x	R <sub>1</sub>	y	R <sub>2</sub>	(R <sub>1</sub> - R <sub>2</sub> ) = D	D <sup>2</sup>
415	6	330	3	3	9
434	1	332	1	0	0
420	5	328	4	1	1
430	2	331	2	0	0
424	4	327	5	-1	1
428	3	325	6	-3	9

$$\sum D^2 = 20$$

$$r_s = 1 - \frac{6\Sigma D^2}{N(N^2-1)}$$

$$= 1 - \frac{6(20)}{6(6^2-1)} = 1 - \frac{120}{210}$$

$$= \frac{210-120}{210} = \frac{90}{210} = \frac{3}{7}$$

$$r_s = 0.429$$

కొన్ని సందర్భాలలో ర్యాంకులు ఇవ్వగా కోటి సహసంబంధ గుణకం చేయాల్సి వస్తుంది.

ఉదాహరణ - 7 : పది మంది విద్యార్థులకు A, B అధ్యాపకులు ఇచ్చిన కోటిలకు కోటి సహసంబంధ గుణకం కనుగొనుము.

A అధ్యాపకుడు ఇచ్చిన ర్యాంకులు :	1	6	5	10	3	2	4	9	7	8
B అధ్యాపకుడు ఇచ్చిన ర్యాంకులు :	3	5	8	4	7	10	2	1	6	9

సమాధానం :

R <sub>1</sub>	R <sub>2</sub>	D(R <sub>1</sub> - R <sub>2</sub> )	D <sup>2</sup>
1	3	-2	4
6	5	1	1
5	8	-3	9
10	4	6	36
3	7	-4	16
2	10	-8	64
4	2	2	4
9	1	8	64
7	6	1	1
8	9	1	1
			D <sup>2</sup> = 200

$$r_s = 1 - \frac{6\Sigma D^2}{N(N^2-1)} = 1 - \frac{6 \times 200}{10 \times 99} = \frac{7}{33} = -0.212$$

కొన్ని సందర్భాలలో మూడు శ్రేణులు గాను అంతకన్నా ఎక్కువ శ్రేణుల మధ్య కోటి సహసంబంధ గుణకం కనుగొనవలసి వస్తుంది.



ఉదాహరణ 8 : ఒక అందాల పోటీలో పది మంది పాల్గొనగా వారిని ముగ్గురు జడ్జిలు ఈ క్రింది విధమైన ర్యాంకులు ఇచ్చారు. కోటి సహసంబంధ గుణకం ఉపయోగించి ఏ ఇరువురు జడ్జిలు మధ్య ఎక్కువ సామీప్యత ఉన్నదో కనుగొనుము.

మొదటి జడ్జి	1,	5,	4,	8,	9,	6,	10,	7,	3,	2,
రెండవ జడ్జి	4,	8,	7,	6,	5,	9,	10,	3,	2,	1
మూడవ జడ్జి	6,	7,	8,	1,	5,	10,	9,	2,	3,	4

సమాధానం :

మొదటి జడ్జి ఇచ్చిన కోటిలు (R <sub>1</sub> )	రెండవ జడ్జి ఇచ్చిన కోటిలు (R <sub>2</sub> )	మూడవ జడ్జి ఇచ్చిన కోటిలు (R <sub>3</sub> )	(R <sub>1</sub> - R <sub>2</sub> ) <sup>2</sup> (D <sup>2</sup> )	(R <sub>2</sub> - R <sub>3</sub> ) <sup>2</sup> (D <sup>2</sup> )	(R <sub>1</sub> - R <sub>3</sub> ) <sup>2</sup> (D <sup>2</sup> )
1	4	6	9	4	25
5	8	7	9	1	4
4	7	8	9	1	16
8	6	1	4	25	49
9	5	5	16	0	16
6	9	10	9	1	16
10	10	9	0	1	1
7	3	2	16	1	25
3	2	3	1	1	0
2	1	4	1	9	4
N = 10			ΣD <sup>2</sup> = 74	ΣD <sup>2</sup> = 44	ΣD <sup>2</sup> = 156

మొదటి, రెండవ జడ్జిల మధ్య కోటి సహసంబంధ గుణకం

$$r_s = 1 - \frac{6 \sum D^2}{N^3 - N}$$

$$\sum D^2 \quad \Sigma(R_1 - R_2)^2 = 74, \quad N = 10$$

$$\therefore r_s = 1 - \frac{6 \times 74}{10^3 - 10}$$

$$= 1 - \frac{444}{990}$$

$$r_s (\text{ఒకటవ, రెండవ, మూడవ జడ్జిల మధ్య కోటి సహసంబంధ గుణకం}) = 1 - 0.448 = +0.552$$

రెండవ, మూడవ జడ్జీల మధ్య కోటి సహసంబంధ గుణకం

$$\Sigma D^2 = \Sigma (R_2 - R_3)^2 = 44, \quad N = 10$$

$$r_s = 1 - \frac{6 \times 44}{990}$$

$$= 1 - \frac{264}{990}$$

(2వ, 3వ జడ్జీలు)

$$r_s = 1 - 0.267 = +0.733$$

మొదటి, మూడో జడ్జీల మధ్య కోటి సహసంబంధ గుణకం

$$\Sigma D^2 = \Sigma (R_1 - R_3)^2 = 156, \quad N = 10$$

$$r_s = 1 - \frac{6 \times 156}{990}$$

$$= 1 - \frac{936}{990}$$

$$r_s = (1వ, 3వ జడ్జీలు) = 1 - 0.945 = +0.055$$

పై మూడు కోటి సహసంబంధ గుణకాల్లో 2వ, 3వ జడ్జీల మధ్య సహసంబంధ గుణకం ధనాత్మకంగా ఎక్కువ విలువను కలిగి వుంది కావున 2, 3 జడ్జీల మధ్య సామీప్యత ఎక్కువగా వుందని చెప్పవచ్చు.

సమాన రాంకులు : ఒకే విభాజనంలో కొన్ని సందర్భాల్లో రెండు లేదా అంతకుమించిన అంశాలు సమానంగా ఉండవచ్చు. అలాంటప్పుడు ఆ అంశాలన్నింటికి సంబంధించిన సగటు ర్యాంకు ప్రతి అంశానికి ఇవ్వడం జరుగుతుంది. ఉదాహరణకు 5 ర్యాంకు స్థానంలో

రెండు అంశాలుంటే ఒక దానికి 5వ రాంకు, రెండోదానికి 6వ రాంకుగా తీసుకుని  $\frac{5+6}{2} = 5.5$  రాంకును వాటికి ఇవ్వడం

జరుగుతుంది. ఒకవేళ 5వ రాంకు స్థానంలో 3 అంశాలుంటే  $\frac{5+6+7}{3} = 6$ ను ఆ మూడింటికి ఇవ్వడం జరుగుతుంది. ఈ

విధంగా ఉన్న విభాజనాలైతే సూత్రంలో సర్దుబాటు అవసరమవుతుంది. ఉపయోగించే సూత్రం సర్దుబాటుతో కూడినదిగా ఉంటుంది. ఇలాంటి సందర్భంలో కింది సూత్రాన్ని ఉపయోగిస్తాము.

$$r_s = 1 - \frac{6 \left\{ \Sigma D^2 + \frac{1}{12} (m_1^3 - m_1) + \frac{1}{12} (m_2^3 - m_2) + \dots \right\}}{N^3 - N}$$

$r_s$  = కోటి సహసంబంధ గుణకం లేదా స్పియర్మన్ సహసంబంధ గుణకం,  $\Sigma D^2 = \Sigma (R_1 - R_2)^2 =$  మొదటి విభాజన కోటిలకు, రెండో విభాజన కోటిలకు గల వ్యత్యాసాల వర్గాల మొత్తం.  $N =$  జతల సంఖ్య,  $m =$  సమానంగా రాంకులున్న అంశాలు.

ఉదాహరణ 9 : కింది సమాచారానికి కోటి సహసంబంధ గుణకం కనుగొనుము.

x	80	78	75	75	68	67	60	59
y	12	13	14	14	14	16	15	17

సమాధానం : కోటి సహసంబంధం కనుగొనేందుకు ముందుగా x, y విలువలకు కోటిలను ఇవ్వాలి.

x	x విచలన రాంకులు	y	y విచలన రాంకులు	$(R_1 - R_2)^2$ $D^2$
80	8	12	1	49.00
78	7	13	2	25.00
75	5.5	14	4	2.25
75	5.5	14	4	2.25
68	4	14	4	0
67	3	16	7	16.00
60	2	15	6	16.00
59	1	17	8	49.00
				$\Sigma D^2 = 159.5$

తరువాత ఈ క్రింది సూత్రం ఉపయోగించాలి.

$$r_s = 1 - \frac{6 \left[ \Sigma D^2 + \frac{1}{12}(m_1^3 - m_1) + \frac{1}{12}(m_2^3 - m_2) \right]}{N^3 - N}$$

$r_s$  = కోటి సహసంబంధ గుణకం,  $N =$  జతల సంఖ్య,  $\Sigma D^2 =$  మొదటి విభాజన కోటిలకు ( $R_1$ ), రెండో విభాజన కోటిలకు ( $R_2$ ) గల వ్యత్యాసాల మొత్తం 159.5,  $m_1 = 2$  (75 అనే అంశం రెండుసార్లు వచ్చింది కావున)  $m_2 = 3$  (14 అనే అంశం మూడుసార్లు వచ్చింది).

$$\begin{aligned} r_s &= 1 - \frac{6 \left[ 159.5 + \frac{1}{12}(2^3 - 2) + \frac{1}{12}(3^3 - 3) \right]}{8^3 - 8} \\ &= 1 - \frac{6[159.5 + 0.5 + 2]}{504} \\ r_s &= 1 - \frac{972}{504} = 1 - 1.929 = -0.929 \end{aligned}$$

## కోటి సహసంబంధ పద్ధతిలో సుగుణాలు

1. పియర్సన్ పద్ధతిలో పోల్చితే ఈ పద్ధతి ద్వారా గణన సులువు. అర్థం చేసుకోవటం సులువు. సమాన విలువలు లేని లేదా విలువలు పునరావృతం కాని విభాజనాలైతే  $SK_P$  మరియు  $I_S$  విలువలు సమానంగా ఉంటాయి.
2. గుణాత్మక అంశాలు అంటే అందచందాలు, మంచితనము, సామర్థ్యం, తెలివితేటలు మొదలైన వాటి గణనకు ఇది ఉత్తమమైనది.
3. రాంకులు మాత్రమే లభ్యమై, అసలు విలువలు లభ్యం కాని పరిస్థితుల్లో ఉపయోగించగల ఒకే పద్ధతి ఈ పద్ధతి.
4. అసలు విలువలున్నా కూడా ఈ పద్ధతిని ఉపయోగించవచ్చు.

## పరిమితులు

1. పోనాపున్య విభాజనం లేదా తరగతులుగా వర్గీకరించిన విభాజనాలలో ఈ పద్ధతిని ఉపయోగించడం సాధ్యం కాదు.
2. జతల సంఖ్య 30కి మించినట్లయితే రాంక్ సహసంబంధ గణన క్లిష్టతతో కూడుకొని వుంటుంది.

**10.4.5 సారూప్య విచలనాల గుణకం :** ఈ పద్ధతిలో విచలనాల పరిమాణాన్ని విస్మరించిన వాటి మార్పు దిశలను (+) లేక (-)లుగా తీసుకుంటారు. ముందున్న అంశము నుండి (+) లేక (-)గా తీసుకుంటారు. ముందు అంశముకంటే తరువాత అంశము ఎక్కువగా ఉంటే ఆ అంశమునకు (+) గుర్తు కేటాయిస్తారు. ముందు అంశం కంటే తరువాత అంశం తక్కువగా (-) గుర్తు కేటాయిస్తారు. రెండు విలువలు సమానంగా వుంటే ఆ అంశం ఎదురుగుండా (=)ను కేటాయిస్తారు. ఈ విధంగా x విభాజనానికి వచ్చిన గుర్తులను  $D_x$  గా, y విభాజన గుర్తులను  $D_y$  గా సూచించి వాటిని ఒక దానితో ఒకటి హెచ్చవేసి  $D_x \cdot D_y$  గుర్తులను రాయాలి. ఒకే గుర్తులు గల అంశాలను లెక్కిస్తే వీటిని సారూప్య విచలనాలు (c) లేదా ధనాత్మక గుర్తుల సంఖ్యలు అంటారు. ఈ విధంగా చేసిన తరువాత

$$r_c = \pm \sqrt{\pm \frac{2c - n}{n}}$$

c = ధనాత్మక గుర్తుల సంఖ్య

n = విచలనాల జతల సంఖ్య

**ఉదాహరణ 10 :** సారూప్య విచలనాల పద్ధతిని ఉపయోగించి సారూప్య గుణకాన్ని కనుగొనుము.

సంవత్సరం	సప్త	ధర
1954	150	200
1955	154	180
1956	160	170
1957	172	160
1958	160	190
1959	165	180
1960	180	172

సమాధానం :

సంఖ్య	D <sub>x</sub>	ధర	D <sub>y</sub>	D <sub>x</sub> D <sub>y</sub>
150		200		
154	+	180	-	-
160	+	170	-	-
172	+	160	-	-
160	-	190	+	-
165	+	180	-	-
180	+	172	-	-

n = 6 c = 0

$$r_c = \pm \sqrt{\pm \frac{2c - n}{n}}$$

$$c = 0, n = 6$$

$$r_c = \pm \sqrt{\frac{2 \times 0 - 6}{6}} = -1$$

### 10.5 సహసంబంధం వలన ప్రయోజనాలు

సహసంబంధ విశ్లేషణ భౌతికశాస్త్రం, వ్యాపార శాస్త్రం, ఆర్థిక శాస్త్రంలో విస్తృతంగా వుంది. కాని మనం ఆర్థిక వ్యాపార రంగాలకు దీనిని పరిమితం చేస్తూ దీని ప్రయోజనాలను తెలుసుకుందాం.

- 1) రెండు శ్రేణుల మధ్య వున్న సగటు సంబంధాన్ని ఒక సంఖ్యరూపంలో తేలికగా తీసుకోవచ్చు.
- 2) ఆర్థిక వ్యాపార రంగాలలో ధర, డిమాండ్ల మధ్య వున్న సంబంధం - ప్రకటన ఖర్చులు, అమ్మకాలు మధ్య సంబంధం మొదలైన అనేక ఆర్థిక చలరాశులు వాటి మధ్య గల సహసంబంధాన్ని తెలుసుకొనవచ్చు.
- 3) రెండు చలరాశుల చలాంకాల మధ్య సంబంధాన్ని బట్టి ఒక చలాంకం విలువ యిస్తే రెండవ చలాంకపు విలువను అంచనా కట్టవచ్చు.
- 4) రెండు పరస్పరాధారమైన చలరాశుల సహసంబంధ గుణకం వల్ల భవిష్యత్ సహసంఘటనలను ఊహించవచ్చు.
- 5) వైద్య శాస్త్రంలో పాగ త్రాగటానికి, అనారోగ్యానికి కార్యకారణ సంబంధం తెలుసుకొనవచ్చు.

### 10.6 సారాంశము

రెండు శ్రేణులకు సంబంధించిన దత్తాంశమునకు ఒక సంఖ్య రూపంలో చెప్పబడే అంశమే సహసంబంధము. దీనిని కార్లెస్పియర్సన్ వివరించారు. భార్య-భర్తల వయస్సులు, తండ్రి - కొడుకుల ఎత్తులు మొదలైన అనేక అంశాలకు గల సంబంధాన్ని

ధనాత్మకమయిన, రుణాత్మకమైన సహసంబంధ గుణక రూపంలో వ్యక్తం చేయవచ్చు. అంతేకాకుండా వ్యక్తి నిర్దిష్టమైన అంశాలయిన అందము, వినయము, మంచితనము మొదలయిన వాటికి ఇచ్చిన ర్యాంకులకు కోటి సహసంబంధ గుణకము కనుగొనవచ్చునని స్పియర్మన్ పేర్కొన్నాడు.

### 10.7 ముఖ్యపదాలు

**సహసంబంధము :** ఒక చలరాశిలో మార్పు వలన మరొక చలరాశిలో ఏర్పడే మార్పును పరిశీలించి ఆ రెండు చలరాశుల మధ్య సన్నిహిత సంబంధాన్ని సహసంబంధము అంటారు. కార్లపెయర్సన్ ఈ రెండు చలరాశుల మధ్య సహసంబంధాన్ని సంఖ్యరూపంలో వివరించటానికి పద్ధతులు, సూత్రాలు వివరించారు.

**వ్యాపన పటము :** రెండు చలరాశులకు సంబంధించిన దత్తాంశమును ఒక గ్రాఫ్ కాగితముపై బిందువులుగా గుర్తించినపుడు ఏర్పడే చిత్రాన్ని వ్యాపన పటము అంటారు. ఆ బిందువుల వ్యాపనాన్ని బట్టి, ఆ రెండు చలరాశుల మధ్య సహసంబంధం వున్నది/లేనిది ధనాత్మకం లేక రుణాత్మక అని నిర్ణయించవచ్చు.

**సహసంబంధ రేఖాచిత్రపటము :** రెండు చలరాశులకు సంబంధించిన దత్తాంశమును గ్రాఫుపై గుర్తించి ఆ బిందువులను కలపగా ఏర్పడే రేఖయున్న గ్రాఫును సహసంబంధ రేఖా చిత్రపటము అని అంటారు.

**కోటి సహసంబంధ గుణకము :** సంఖ్యరూపంలో వ్యక్తం చేయలేని అందచందాలు, తెలివితేటలు, నీతి నిజాయితీలు మొదలగునవి గుణాత్మక విషయాల మధ్య సహసంబంధాన్ని నిర్ణయించటానికి ఛార్లెస్ ఎడ్వర్డ్ స్పియర్మన్ కనుగొనిన పద్ధతిని కోటి సహసంబంధ గుణకము అంటారు.

**సారూప్య విచలనాల గుణకము :** రెండు చలరాశులకు సంబంధించిన పరిమాణాలను విస్మరించి, వాటి దిశలను మాత్రమే పరిగణించి సహసంబంధం చెప్పే పద్ధతిని సారూప్య విచలనాల గుణకము అంటారు.

### 10.8 నమూనా ప్రశ్నలు

- (1) సహసంబంధమంటే ఏమిటి? అది రెండు చలనాల మధ్య కార్య-కారణ సంబంధాన్ని ఎల్లవేళలా చూపుతుందా?
- (2) సహసంబంధ గుణకమంటే ఏమిటి? క్రింది వాటితో సహసంబంధం ఎట్లా అధ్యయనం చేస్తారో చెప్పండి.
  1. రేఖాచిత్ర పటాలు
  2. కార్లపెయర్సన్ సహసంబంధ గుణకం
- (3) క్రింది వాటిని గురించి సంక్షిప్తంగా రాయండి.
  1. ధనాత్మక, రుణాత్మక సహసంబంధం
  2. సరళరేఖా, వక్రరేఖీయ సహసంబంధం
- (4) వ్యాపన పటం అంటే ఏమిటి? రెండు చలనాల మధ్య సహసంబంధం అధ్యయనం చేయడానికి ఇది ఎట్లా తోడ్పడుతుంది.
- (5) గత పది సం॥లలో సాలుసరి ఎగుమతుల విలువలకు, అదే ఆవర్తన కాలంలో సాలుసరి పుట్టిన పిల్లలకు మధ్య వున్న సహసంబంధ గుణకం +0.8 అయితే దీని నుంచి గ్రహించేదేమిటి? విశదీకరించండి.
- (6) ఈ క్రింది దత్తాంశమునకు సారూప్య విచలనాల గుణకము కనుగొనుము.

సం॥ము	1961	1962	1963	1964	1965	1966	1967	1968	1969
సప్తై	80	82	86	91	83	85	89	96	93
ధర (రూ॥లో)	146	140	130	117	133	127	115	95	100

జవాబు :  $r = -1$

(7) సహసంబంధ గుణకం కనుగొనుము.

x :	67	69	71	75	85	93	87	73
y :	95	80	87	80	79	75	80	85

జవాబు :  $r = 0.9042$

(8) సారూప్య విచలనాల పద్ధతి ఉపయోగించి సహసంబంధ గుణకం ఉపయోగించుము.

x :	150	135	90	140	100
y :	60	50	100	80	90

జవాబు :  $r = 0.7071$

(9) కార్ల్ పియర్సన్ సూత్రంను ఉపయోగించి సహసంబంధ గుణకం కనుగొనుము.

దిగుమతులు(టన్నులలో) :	42	44	58	55	89	98	66
ఎగుమతులు(టన్నులలో) :	56	49	53	58	65	76	58

జవాబు :  $r = 0.9042$

(10) సారూప్య గుణక విచలనాల పద్ధతిని ఉపయోగించి సహసంబంధ గుణకం కనుగొనుము.

x :	100	120	135	135	115	100	100
y :	50	40	60	60	80	55	65

జవాబు :  $r = 0$

(11) ఆదాయము, బరువులకు సహసంబంధ గుణకము కనుగొనుము.

ఆదాయం (రూ॥లలో) :	100	200	300	400	500	600
బరువు (పౌండ్లు) :	110	120	135	140	160	165

జవాబు :  $r = 0.9862$

(12) సారూప్య విచలనాల గుణకం కనుగొనుము.

జతల సంఖ్య	96
సారూప్య విచలనాలు	36

జవాబు :  $r = -0.492$

(13) ఈ క్రింది దత్తాంశమునకు సహసంబంధ గుణకము కనుగొనుము.

x :	10	17	28	22	27	30
y :	25	35	45	55	65	75

జవాబు :  $r = 0.865$

(14) ఒక పెయింటింగ్ పోటీలో పాల్గొన్న 12 మందికి ఇద్దరు జడ్జీలు ఈ క్రింద విధమయిన ర్యాంకులు యిచ్చారు. కోటి సహసంబంధ గుణకము కనుగొనుము.

	A	B	C	D	E	F	G	H	I	J	K	L
మొదటి జడ్జి :	5	2	3	4	1	6	8	7	10	9	12	11
రెండవ జడ్జి :	4	5	7	1	6	7	10	9	11	12	3	8

(15) కార్ల్ పియర్సన్ సహసంబంధ గుణకము కనుగొనుము.

x :	1	2	3	4	5	6	
y :	20	35	60	100	120	130	జవాబు : 0.9862

(16) ఒక అందాల పోటీలో పది మంది పాల్గొన్నారు. ఆ పది మందికి ముగ్గురు జడ్జీలు ఈ క్రింది విధమయిన ర్యాంకులు ఇచ్చారు. ఏ ఇద్దరు జడ్జీలకు అందాన్ని నిర్ణయించడంలో ఎక్కువ సామీప్యత వున్నదో నిర్ణయించుము.

మొదటి జడ్జి :	1	5	4	8	9	6	10	7	3	2
రెండవ జడ్జి :	4	8	7	6	5	9	10	3	2	1
మూడవ జడ్జి :	6	7	8	1	5	10	9	2	3	4

జవాబు :  $r_1 = 0.5515$ ;  $r_2 = 0.0545$ ;  $r_3 = 0.7333$

(17) ఈ క్రింది పట్టికలో వస్త్ర, ఇనుము పరిశ్రమలలో శ్రామికులకు ఇచ్చే వేతనాలకు సహసంబంధ గుణకం కనుగొనుము.

వస్త్రపరిశ్రమలో ఆదాయం : 90 100 105 110 115 120 130

ఇనుము పరిశ్రమలో ఆదాయం : 90 95 100 115 120 125 135 జవాబు :  $r = 0.977$

(18) పది మంది విద్యార్థులకు రెండు సబ్జెక్టులలో పది మంది విద్యార్థులు పొందిన మార్కులకు కోటి సహసంబంధ గుణకమును కనుగొనుము.

అర్థశాస్త్రం :	78	36	98	25	75	82	92	62	65	39
గణాంక శాస్త్రం :	84	51	91	69	68	62	86	68	35	49

జవాబు :  $r_s = 0.6121$

(19) కార్ల్ పియర్సన్ సహసంబంధ గుణకాన్ని కనుగొనుము.

9	10	11	13	12	15	14	
3	4	5	6	7	8	9	జవాబు : $r = 0.93$

(20) పది మంది పిల్లల మనోవైజ్ఞానిక పరీక్షా స్కోరులకు (x), వారి వారి గణిత సామర్థ్యం (y)నకు స్పియర్ మన్ కోటి సహసంబంధ గుణకంను కనుగొనుము.

	A	B	C	D	E	F	G	H	I	J
x :	105	104	102	101	100	99	98	96	93	92
y :	101	103	100	98	95	96	104	92	97	94

జవాబు :  $r = 0.6$

(21) x, y విలువల మధ్య సహసంబంధ గుణకము కనుగొనుము.

x :	42	44	58	55	89	98	66
y :	56	49	53	58	65	76	58

జవాబు :  $r = 0.9042$



(22) ఒక తరగతిలో పది మంది విద్యార్థులు గణితం (x), గణాంకశాస్త్ర (y)లలో పొందిన మార్కులు ఈ క్రింది పట్టికలో ఇవ్వబడినవి. వాటికి స్పియర్ మన్ సూత్రంను ఉపయోగించి కోటి సహసంబంధ గుణకం కనుగొనుము.

సంఖ్య :	1	2	3	4	5	6	7	8	9	10
x :	12	18	32	18	25	24	25	40	38	22
y :	16	15	28	16	24	22	28	36	34	19

జవాబు :  $r_s = 0.95$

(23) ఈ క్రింది దత్తాంశమునకు కార్లెస్పియర్ మన్ సూత్రం ద్వారా సహసంబంధ గుణకం కనుగొనుము.

x :	2	3	1	5	6	4
y :	4	5	3	4	6	2

జవాబు :  $r = 0.45357$

(24) ఈ దిగువన ఇవ్వబడిన x, y శ్రేణులకు కోటి సహసంబంధ గుణకము కనుగొనుము.

x :	32	35	49	60	43	37	43	49	10	20
y :	40	30	70	20	30	50	72	60	45	25

జవాబు :  $\rho = 0.0758$

(25) కార్లెస్పియర్ మన్ సూత్రం ఆధారంగా ఈ క్రింది దత్తాంశమునకు సహసంబంధ గుణకము కనుగొనుము.

x :	78	89	96	69	59	79	68	61
y :	125	137	156	112	107	136	123	108

జవాబు :  $r = 0.955$

(26) కోటి సహసంబంధ గుణకము కనుగొనుము.

ఇంగ్లీషు మార్కులు :	29	28	17	15	20	26	27	25	34	19
గణితం మార్కులు :	31	32	25	29	42	15	43	32	20	40

జవాబు :  $-0.0848$

(27) సారూప్య విచలనాల పద్ధతిని ఉపయోగించి సహసంబంధ గుణకము కనుగొనుము.

x :	150	135	90	140	100
y :	60	50	100	80	90

జవాబు :  $r = 0.7071$

(28) సారూప్య విచలనాల పద్ధతి ద్వారా సహసంబంధం కనుగొనుము.

x :	100	120	135	135	115	110	110
y :	50	40	60	60	80	55	65

జవాబు :  $r = 0$

(29) స్పియర్ మన్ కోటి సహసంబంధ గుణకం కనుగొనుము.

గణితము :	46	56	39	45	54	58	36	40
అర్థశాస్త్రము :	30	60	40	50	70	60	30	50

జవాబు :  $r_s = +0.714$

- (30) ఒక తరగతిలో పది మంది విద్యార్థుల గణాంక శాస్త్రము, గణితములలో ర్యాంకులు ఇవ్వబడినవి. వాటికి స్పియర్మన్ సూత్రంను ఆధారం చేసుకుని కోటి సహసంబంధంను కనుగొనుము.

గణాంక శాస్త్రము: 9 6 1 2 3 7 10 5 8 4

గణిత శాస్త్రము: 1 5 8 2 6 7 10 4 9 3

జవాబు :  $r_s = 0.24$

- (31) ఒక అందాల పోటీలో పాల్గొన్న పది మంది అభ్యర్థులను ముగ్గురు జడ్జీలు ఈ క్రింది విధంగా ర్యాంకులు యిచ్చారు. స్పియర్మన్ సూత్రంను ఉపయోగించి ఏ ఇద్దరు జడ్జీలకు అందాన్ని నిర్ణయించడంలో సామీప్యత యున్నదో నిర్ధారించుము.

జడ్జీ A : 1 6 5 10 3 2 4 9 7 8

జడ్జీ B : 3 5 8 4 7 10 2 1 6 9

జడ్జీ C : 6 4 9 8 1 2 3 10 5 7

జవాబు :  $r_{AB} = 0.212$ ,  $r_{BC} = 0.297$ ,  $r_{CA} = +0.636$

## 10.9 చదువదగిన గ్రంథాలు

1. Allen. R.G.D. : Statistics for Economists
2. Craxton and Cauden : Applied General Statistics
3. Gupta S.P. : Advanced Practical Statistics
4. Secrist Harace : An Introduction to Statistical Methods
5. Yule and Kendall : An Introduction to the Theory of Statistics

**పాఠ్యంశ నిర్మాణ క్రమం**

- 11.0 లక్ష్యాలు
- 11.1 విషయపరిచయం
- 11.2 నిర్వచనాలు
- 11.3 ప్రతిగమనం - ఉపయోగాలు
- 11.4 ప్రతిగమనం - పరిమితులు
- 11.5 సహసంబంధం - ప్రతిగమనంల మధ్య తేడా
- 11.6 ప్రతిగమన రేఖలు
- 11.7 ప్రతిగమన సమీకరణాలు
  - 11.7.1 కనిష్ట వర్గాల పద్ధతి
  - 11.7.2  $x, y$  విభజన అంకమధ్యమాల ప్రాతిపదికగా సమీకరణాలు సాధించడం
  - 11.7.3 ఊహించిన అంకమధ్యమాల ప్రాతిపదికగా సమీకరణాల సాధన
  - 11.7.4 ప్రతిగమన గుణకం యొక్క లక్షణాలు
- 11.8 విచరణ నిష్పత్తి
  - 11.8.1 గాల్టన్ రేఖాచిత్రం
- 11.9 సారాంశం
- 11.10 ముఖ్య పదాలు
- 11.11 నమూనా ప్రశ్నలు
- 11.12 చదువదగిన గ్రంథాలు

**11.0 అక్ష్యాలు**

ఈ పాఠ్యభాగం చదివిన తరువాత మీరు ఈ క్రింది అంశాలను తెలుసుకోగలరు.

- \* ప్రతిగమనం అంటే ఏమిటి ?
- \* ప్రతిగమన సమీకరణాలు
- \* ప్రతిగమన గుణకం - లక్షణాలు
- \* ప్రతిగమనం - ప్రాముఖ్యత
- \* ప్రతిగమనం - ప్రయోజనాలు

### 11.1 విషయపరిచయం

సహసంబంధం ద్వారా రెండు చలాంకాల శ్రేణుల మధ్య సంఖ్యా రూపంలో సంబంధాన్ని తెలుసుకోవచ్చు అని గత పాఠంలో తెలుసుకున్నాం. అయితే ఒక శ్రేణిలో ఒక చలాంకాన్ని బట్టి రెండవ శ్రేణిలో దానికి సంబంధించిన విలువను తెలుసుకునే పద్ధతిని ప్రతిగమనం అంటారు. Regression (ప్రతిగమనం) అనే పదానికి నిఘంటువు అర్థం వెనుకకు మరలటం(Stepping back) అని అర్థం. ఈ పదాన్ని మొదట గాల్టన్ తండ్రుల ఎత్తు, కుమారుల ఎత్తు మధ్య సంబంధాన్ని కనుగొనేందుకు ఉపయోగించారు. అర్థశాస్త్రంలో ప్రతిగమనం విశ్లేషణ రెండు చలాంకాల సంబంధాన్ని గూర్చి అధ్యయనం చేస్తుంది. గణాంక శాస్త్రజ్ఞుడు ప్రతిగమనాన్ని ఈ క్రింది విధంగా నిర్వచించారు.

### 11.2 నిర్వచనాలు

వివిధ శాస్త్రవేత్తలు ఇచ్చిన నిర్వచనాలలో కొన్నింటిని పరిశీలిద్దాం. “పరస్పరాధారమైన రెండు చలాంకాలలో స్వతంత్ర విలువ ప్రాతిపదికగా, అస్వతంత్ర చలరాశి విలువను తెలుసుకోవటానికి సహకరించే సమీకరణ సాధననే ప్రతిగమన విశ్లేషణ” అనవచ్చును అని రిచ్‌డిమాండ్ అంటారు. “దత్తాంశపు యూనిట్లలో రెండు లేదా అంతకంటే ఎక్కువ చలనాల మధ్య గల సగటు సంబంధాన్ని మదింపు చేసే సాధనను ప్రతిగమనం” అని బ్లెయిర్ నిర్వచించాడు. “ప్రతిగమనం అనగా వెనుక్కుపోవడం లేక మరలడం” అంటారు. ప్రతిగమనాన్ని మొట్టమొదటగా తండ్రి కొడుకుల మధ్య పాడవు గల సంబంధాన్ని పరిశీలించడానికి 19వ శతాబ్దంలో సర్ ఫ్రాన్సిస్ గాల్టన్ ఉపయోగించాడు. పాడవైన తండ్రులకు సాధారణంగా పాడవైన కుమారులు వుంటారని ఈ పరిశీలనలో గమనించారు.

గాల్టన్ తన అధ్యయనంలో కొన్ని ఆసక్తికరమైన విషయాలు వెల్లడించారు. పాడవైన తండ్రులకు పాడవైన కొడుకులు, పొట్టి తండ్రులకు పొట్టి కొడుకులు యున్నారు. పాడవైన కుమారుల సగటు ఎత్తు వారి తండ్రుల సగటు ఎత్తుకంటే తక్కువగా వుంటుంది. పొట్టి తండ్రుల కుమారుల సగటు ఎత్తు వారి తండ్రుల సగటు ఎత్తు కంటే ఎక్కువగా వుంటుంది.

యం.యం. బ్లెయిర్ అభిప్రాయం ప్రకారం, ప్రతిగమన విశ్లేషణ అనగా రెండు లేక అంతకంటే ఎక్కువ చలరాశుల మధ్య గల సగటు సంబంధాన్ని గణిత పద్ధతి ద్వారా కొలవడం. స్వతంత్ర చలరాశి ఆధారంగా అస్వతంత్ర చలరాశి విలువను అంచనా వేయడానికి ఉపయోగపడే గణాంక పద్ధతినే ప్రతిగమనం అంటారు.

### 11.3 ప్రతిగమనం - ఉపయోగాలు

గణాంకశాస్త్రంలో ప్రతిగమన విశ్లేషణ ఒక ముఖ్యమైన విశ్లేషణ. దీన్ని అన్ని శాస్త్రాల్లో విరివిగా ఉపయోగిస్తున్నారు. ఈ విశ్లేషణ వల్ల అనేక ప్రయోజనాలున్నాయి. అవి :

- (1) స్వతంత్ర చలరాశి విలువ ఆధారంగా అస్వతంత్ర చలరాశి విలువను అంచనా వేయవచ్చు.
- (2) కార్యకరణ సంబంధాలపై ఆధారపడిన ఆర్థిక, వ్యాపార పరిశోధనలకు ప్రతిగమన విశ్లేషణ ఉపయోగపడుతుంది.
- (3) ప్రతిగమన గుణకాల సహాయంతో సహసంబంధ గుణకం గణన చేయవచ్చు.
- (4) చలరాశుల మధ్య గల సంబంధాన్ని నిరూపించటానికి, అంచనాలో సంభవించే దోషాన్ని కనుగొనటానికి ఉపయోగపడుతుంది.

### 11.4 ప్రతిగమనం - పరిమితులు

ప్రతిగమనం వలన అనేక ప్రయోజనాలు వున్నప్పటికీ ఈ క్రింది పరిమితులకు లోబడి యున్నవి.

- (1) పరిమితమైన దత్తాంశాన్ని ఆధారంగా చేసుకొని నిర్ణయించిన చలరాశుల మధ్య సంబంధం జనాభా మొత్తానికి ప్రాతినిధ్యం వహించక పోవచ్చు. దత్తాంశంలో చలరాశుల సంఖ్య పెరిగినప్పుడు ప్రతిగమన విశ్లేషణ క్లిష్టంగా లేదా ఆచరణ సాధ్యం కాకపోవచ్చు.
- (2) చలరాశుల మధ్యనున్న కార్యాకరణ సంబంధంలో మార్పు వుండదని ప్రమేయం చేస్తారు. ఈ ప్రమేయం సత్యదూరం అయితే, తత్ఫలితంగా అంచనా వేసిన విలువలు కూడా వాస్తవికతకు దూరంగా వుంటాయి.
- (3) ప్రతిగమన విశ్లేషణలో దీర్ఘమైన, క్లిష్టమైన పద్ధతులుంటాయి.
- (4) నిజాయితీ, అందం మొదలయిన గుణాత్మక అంశాలను అధ్యయనం చేయటానికి ప్రతిగమనం ఉపయోగపడదు.

### 11.5 సహసంబంధం - ప్రతిగమనముల మధ్య తేడా

$x$ ,  $y$  అనే రెండు చలరాశులు ఉంటే ఆ రెండు రాశుల మధ్య ఏ విధమైన సంబంధం వుందీ అంటే  $x$  పెరిగితే  $y$  పెరుగుతుందా? లేదా  $x$  తగ్గితే  $y$  పెరుగుతుందా? ఏ విధమైన సంబంధం ఉందనే విషయాన్ని సహసంబంధం తెలిపితే,  $x$  విలువను బట్టి  $y$  విలువ ఎంత ఉంటుందీ? లేదా  $y$  విలువను బట్టి  $x$  విలువ ఎంత ఉండవచ్చు అనే విషయాన్ని ప్రతిగమనం తెల్పుతుంది. సహసంబంధం, ప్రతిగమనంల మధ్య వ్యత్యాసాలు ఈ క్రింది విధంగా పేర్కొనవచ్చు.

- (1) రెండు శ్రేణుల చలరాశులలో కదలికలను సహసంబంధం తెలియచేస్తుంది. ఈ కదలికలు ఒకే దిశలో లేక వ్యతిరేక దిశలలో యున్నాయో సహసంబంధం తెలియజేస్తుంది. కాని ప్రతిగమనం రెండు చలరాశుల సగటు సంబంధాన్ని తెలియచేస్తుంది.
- (2) సహసంబంధంలో చలరాశుల మధ్య గల సంబంధ స్థాయిని తెలుసుకుంటాం. కాని ప్రతిగమనంలో కార్యకరణ సంబంధాన్ని అధ్యయనం చేస్తుంది.
- (3) సహసంబంధంలో  $x$ ,  $y$  రెండు చలరాశులు యాదృచ్ఛిక చలరాశులు. కాని ప్రతిగమనంలో  $x$  యాదృచ్ఛిక చలరాశి అయితే,  $y$  స్థిర చలరాశి కావచ్చు. లేదా రెండు యాదృచ్ఛిక చలరాశులే కావచ్చు.
- (4) సహసంబంధంలో రెండు చలరాశుల మధ్య గల సంబంధాన్ని సంఖ్యారూపంలో నిర్ణయించటానికి సహసంబంధం సహాయపడుతుంది. కాని ప్రతిగమనంలో ఒక శ్రేణిలో విలువను ఆధారం చేసుకుని వేరొక శ్రేణిలో చలరాశి విలువను అంచనా వేయవచ్చు.
- (5) సహసంబంధం రెండు చలరాశుల మధ్య సహచర్యానికి ఒక ఉజ్జాయింపు కాలమానం. అయితే ప్రతిగమన విశ్లేషణలో స్వతంత్ర చలరాశి విలువ ఆధారంగా, అస్వతంత్ర చలరాశి విలువను నిర్ణయించవచ్చు.
- (6) సహసంబంధం విశ్లేషణలో చలరాశుల మధ్య సంబంధం శూన్యంలో ( $r=0$ ) కావచ్చును. కాని ప్రతిగమనం అర్థరహితంగా యుండదు.
- (7) సహసంబంధ గుణకం సాపేక్ష సాధనంగా పేర్కొనవచ్చు. కాని ప్రతిగమనం గుణకమును ఒక పరమ సాధనంగా చెప్పవచ్చును.

### 11.6 ప్రతిగమన రేఖలు

ఒక చలరాశి మధ్యమ విలువలకు ప్రతిరూపమైన ఇంకో చలరాశి మధ్యమ విలువలను తెలియజేసే రేఖలను ప్రతిగమన రేఖలు అంటారు. శ్రేణులు రెండు  $x, y$  అయితే ప్రతిగమన రేఖలు కూడా రెండు వస్తాయి. ఒక రేఖ  $y$  శ్రేణి సగటు విలువకు ప్రతిరూపమైన సగటు విలువను,  $x$  శ్రేణిలో తెలిపితే మరొకటి  $x$  శ్రేణి సగటు విలువకు ప్రతిరూపమైన  $y$  సగటు విలువను తెలుపుతుంది. ఈ రెండు రేఖలు, సరళరేఖలుగా ఉంటే  $x, y$  ల మధ్య గల సహసంబంధము సరళరేఖా సహసంబంధము (Linear correlation). ఈ రెండు రేఖలు ఒకదానితో ఒకటి కలిసిపోయినట్లయితే (Coinside) వాటి మధ్య సంబంధం పరిపూర్ణము (perfect). ఈ రెండు రేఖలు ఒకదాని నుంచి ఇంకొకటి ఎంత దూరంగా (farther) చెల్లాచెదురుగా (scattered) ఉంటాయో, వాటి మధ్య సహసంబంధం అంత తక్కువ అని అర్థము. ఒక దానిని మరొకటి సమకోణంగా (right angle) ఖండించుకొన్నట్లయితే, వాటి మధ్య సహసంబంధం శూన్యము.

ప్రతిగమన రేఖలు  $x$  అనే శ్రేణికి  $y$  అనే శ్రేణి మధ్య సహసంబంధం ఉన్నది లేనిది తెలియజేస్తాయి. ఒక వేళ సహసంబంధం ఉన్నట్లయితే, అది ధనాత్మకమో (positive) ఋణాత్మకమో (negative) ఎక్కువో, తక్కువో తెలియజేస్తాయి. ఒక చలరాశిలోని ఒక రకమైన మార్పుకు, మరో చలరాశిలో ఎట్లాంటి మార్పు వస్తుందో చెప్పడానికి (represes) కూడా ఉపయోగిస్తాయి.  $x, y$  శ్రేణులకు ప్రతిగమన రేఖలను గీయడం యుక్తమైన మధ్యమ విలువలను, పొందడాన్ని ప్రతిగమన సమీకరణాల (regression equations) సహాయంతో సాధించవచ్చు.

### 11.7 ప్రతిగమన సమీకరణాలు

ప్రతిగమన సమీకరణాలు అంటే ప్రతిగమన రేఖలనే బీజీయ సమాసాల రూపంలో ప్రకటించడం. వీటి వల్ల అనేక ప్రయోజనాలున్నాయి.

- (ఎ) ఇవి ప్రతిగమన రేఖలు గీయటానికి అవసరమైన విలువలు సమకూర్చుతాయి.
- (బి)  $x$  అనే చలాంకం ఇచ్చిన విలువలకు  $y$  అనే చలాంకం అత్యుత్తమ సగటు విలువలు -  $y$  అనే చలాంకం ఇచ్చిన విలువలకు  $x$  అనే చలాంకం అత్యుత్తమ సగటు విలువలు కనుక్కోవటానికి సంఖ్యాత్మక పద్ధతి చేకూరుస్తాయి.

ప్రతిగమన సమీకరణాన్ని అంచనా రేఖలు అని కూడా పిలుస్తారు.  $x, y$  రెండు చలరాశులను తీసుకొన్నప్పుడు రెండు రేఖలు వుంటాయి. కాబట్టి రెండు సమీకరణాలు ఏర్పడతాయి.

- (1)  $x$  మీద  $y$  ప్రతిగమన సమీకరణం : “దీనివలన  $x$  విలువ ఆధారంగా  $y$  విలువను అంచనా వేస్తారు.  $x$  స్వతంత్ర చలాంకం, దానిలో మార్పు  $y$  ను ఏ విధంగా ప్రభావితం చేస్తుందో తెలుసుకోవడానికి ఈ దిగువ సూత్రాన్ని ఉపయోగిస్తాము.

$$y_c = a + bx$$

$y_c = x$  విలువ ఆధారంగా అంచనా వేసే గణన చేసే  $y$  విలువ.

$a =$  ప్రతిగమన రేఖ  $y$  అక్షాన్ని ఖండించుకునే (intercept) బిందువు వద్ద ఉన్న విలువ

$b =$  ప్రతిగమన రేఖ వాలు(slope)ను తెలియపరచే విలువ

పై సమీకరణంలో  $a, b$  లు స్థిరసంఖ్యలు - వీటిని ప్రతిగమన రేఖ పరిమితులు అంటారు. వీటిలో ఒకదాని విలువ మారిన, లేక రెండు విలువలు మారినా వేరొక రేఖ ఏర్పడుతుంది.

(2) y మీద x ప్రతిగమన సమీకరణం : యిందులో y విలువ ఆధారంగా x విలువను అంచనా వేస్తాము. అనగా y విలువలో వచ్చే మార్పు x ను ఏ విధంగా ప్రభావితం చేస్తుందో తెలుసుకోవచ్చు. y మీద x ప్రతిగమన సమీకరణం.

$$x_c = a + by \text{ అనగా}$$

పై సమీకరణంలో  $x_c = y$  విలువ ఆధారంగా అంచనా వేసి గణన చేసిన x విలువ

a = ప్రతిగమన రేఖ y అక్షాన్ని ఖండించుకొన్న బిందువు వద్ద వున్న విలువ

b = ప్రతిగమన రేఖ వాలును తెలియపరచే విలువ

పై సమీకరణంలో a, b లను కనుగొంటే ప్రతిగమన రేఖలు లేదా సమీకరణాలు వచ్చినట్లే. ఈ విలువలు రాబట్టేందుకు కనిష్ట వర్గాల పద్ధతి ఉత్తమమైన సమాధానాన్ని ఇస్తుంది.

**11.7.1 కనిష్ట వర్గాల పద్ధతి :** ప్రతిగమన సమీకరణాలను గణన చేయుటకు అనేక పద్ధతులున్నాయి. వీటిలో ముఖ్యమైనవి కనిష్ట వర్గాల పద్ధతి. కనిష్ట వర్గాల ప్రమేయంతో ప్రతిగమన రేఖలను గీయవచ్చును. ఈ ప్రమేయం ప్రకారం ప్రతిగమన రేఖలను గీయవచ్చును. ఈ ప్రమేయం ప్రకారం ప్రతిగమన రేఖకు సంబంధించిన విచలనాల వర్గాల మొత్తము లేదా అసలు విలువలకు, అంచనా వేసిన విలువలకు మధ్యగల వ్యత్యాసాల వర్గాల మొత్తం  $\left(\sum(y - y_c)^2\right)$  కనిష్టంగా వుంటుంది.

**y మీద x ప్రతిగమన గుణకము :** ఈ సమీకరణంలో  $x_c = a + by$  అనే సమీకరణను వాడతారు. a, b విలువలు గణన చేయటానికి ఈ క్రింది బీజీయ సూత్రములను వాడతారు.

$$\sum x = N a + b \sum y \text{ ----- (1)}$$

$$\sum xy = a \sum y + b \sum y^2 \text{ ----- (2)}$$

$x_c = y$  విలువ ఆధారంగా గణన చేసిన x విలువ

a = సంధాన రేఖ స్థాయి

b = y మీద x లో ప్రతిగమన గుణకం (bxy)

$\sum x = x$  శ్రేణి విలువల మొత్తం

$\sum y = y$  శ్రేణి విలువల మొత్తం.

$\sum y^2 = y$  శ్రేణి విలువల వర్గాల మొత్తం

$\sum xy = x, y$  శ్రేణుల విలువలను గుణించగా వచ్చు లబ్ధాల మొత్తం.

**x మీద y ప్రతిగమన గుణకం :** ఈ సమీకరణంలో  $y_c = a + bx$  అనే సూత్రంను ఉపయోగిస్తాము. సూత్రంలోని a, b విలువలు గణన చేయడానికి ఈ దిగువ బీజీయ సమీకరణాలు వాడతారు.

$$\sum y = N a + b \sum x \text{ ----- (1)}$$

$$\sum xy = a \sum x + b \sum x^2 \text{ ----- (2)}$$

$y_c = x$  విలువ ఆధారంగా అంచనా వేసిన  $y$  విలువ.

$a =$  సంధానరేఖస్థాయి

$b = x$  మీద  $y$  ప్రతిగమన సమీకరణంలో ప్రతిగమన గుణకం ( $byx$ )

$\Sigma x = x$  శ్రేణి విలువల మొత్తం

$\Sigma x^2 = x$  శ్రేణి విలువల వర్గాల మొత్తం

$\Sigma y = y$  శ్రేణి విలువల మొత్తం

పై పద్ధతిలో  $y$  మీద  $x$ ,  $x$  మీద  $y$  సమీకరణాలను సాధించడం కష్టంతో కూడుకున్న పని. అందుచేత సులువుగా ప్రతిగమన సమీకరణాలను కనుగొనేందుకు  $\bar{x}$ ,  $\bar{y}$ లను ప్రాతిపదికగా చేసుకొని రూపొందించడం జరుగుతుంది.

**11.7.2  $x, y$  విభజనాల అంకమధ్యమాల ప్రాతిపదికగా సమీకరణాలు సాధించడం**

$x$  విభజనం,  $y$  విభజనాల అంకమధ్యమాల ప్రాతిపదికపై ఆధారపడి ప్రతిగమన సమీకరణాలను రూపొందించే విధానాన్ని ప్రస్తుతం తెలుసుకుందాం.

**1.  $y$  మీద  $x$  ప్రతిగమన సమీకరణం :**

$$x - \bar{x} = r \frac{\sigma_x}{\sigma_y} (y - \bar{y})$$

$\bar{x} = x$  శ్రేణి అంకమధ్యమం,  $\bar{y} = y$  శ్రేణి అంకమధ్యమము,  $r =$  సహసంబంధ గుణకము,  $\frac{\sigma_x}{\sigma_y} = x$  శ్రేణి ప్రామాణిక విచలనము,  $\frac{\sigma_y}{\sigma_x} = y$  శ్రేణి ప్రామాణిక విచలనము.  $r \frac{\sigma_x}{\sigma_y}$  నే  $b_{yx}$  అంటారు.

ఈ విలువలను  $\frac{\Sigma dx dy}{\Sigma dy^2}$  ద్వారా కనుక్కోవచ్చు. దీనికి Mathematical Proof ఉంది.  $dx = x - \bar{x}$ ,  $dy = y - \bar{y}$ .

$\Sigma dx dy = x, y$  విభజన అంకమధ్యమాలను అనుబంధ శ్రేణుల నుంచి తీసుకున్న విచలనాలను గుణించగా వచ్చిన లబ్ధాల మొత్తం.

$\Sigma dy^2 = y$  శ్రేణి అంకమధ్యమం నుంచి తీసుకున్న విచలనాల వర్గాల మొత్తం.

**2.  $x$  మీద  $y$  ప్రతిగమన సమీకరణం :**

$$y - \bar{y} = r \frac{\sigma_y}{\sigma_x} (x - \bar{x})$$

ఇందులో,  $\bar{x} = x$  శ్రేణి అంకమధ్యమము

$\bar{y} = y$  శ్రేణి అంకమధ్యమము,

$r =$  సహసంబంధ గుణకము,  $\frac{\sigma_x}{\sigma_y} = x$  శ్రేణి ప్రామాణిక విచలనము,  $\frac{\sigma_y}{\sigma_x} = y$  శ్రేణి ప్రామాణిక విచలనము

$r \frac{\sigma_y}{\sigma_x}$  నే  $b_{xy}$  అంటారు. ఈ విలువను  $\frac{\Sigma dx dy}{\Sigma dx^2}$  ద్వారా కనుగొంటాము. (దీనికి Mathematical-

Proof కలదు.)  $dx = x - \bar{x}$ ,  $dy = y - \bar{y}$ ,  $\Sigma dx dy : x, y$  శ్రేణుల అంకమధ్యమాలను అనుబంధ శ్రేణుల నుంచి తీసుకున్న విచలనాలను గుణించగా వచ్చిన లబ్ధాల మొత్తం.  $\Sigma dx^2 = x$  శ్రేణుల అంకమధ్యమం నుంచి తీసుకున్న విచలనాల వర్గాల మొత్తం.



11.7.3 ఊహించిన అంకమధ్యమము ప్రాతిపదికగా సమీకరణాల సాధన :

y మీద x ప్రతిగమన సమీకరణం :

విచలనాలను ఊహించిన సగటు నుండి తీసుకొనునప్పుడు y మీద x ప్రతిగమన గుణకమును ఈ క్రింది సూత్రము సహాయంతో కనుగొనవచ్చును.

$$b_{xy} = r \frac{\sigma_x}{\sigma_y} = \frac{\Sigma dx dy - \frac{(\Sigma dx)(\Sigma dy)}{N}}{\Sigma dy^2 - \frac{(\Sigma dy)^2}{N}}$$

$$b_{xy} = r \frac{\sigma_x}{\sigma_y} = y \text{ మీద } x \text{ ప్రతిగమన గుణకము.}$$

ఇందులో  $dx = x - A$ ,  $dy = y - A$ , where  $A =$  ఊహించిన అంకమధ్యమం.

$\Sigma dx = x$  శ్రేణిలో 'ఊహించిన సగటు నుండి తీసుకున్న విచలనాల మొత్తం'.

$\Sigma dy = y$  శ్రేణిలో 'ఊహించిన సగటు నుండి తీసుకున్న విచలనాల వర్గాల మొత్తం'.

$\Sigma dy^2 = y$  శ్రేణి విలువల మొత్తం

$\Sigma dx dy = x, y$  శ్రేణి విలువల మొత్తం.

$N =$  జతల సంఖ్య

x మీద y ప్రతిగమన సమీకరణం :

విచలనాలను ఊహించిన సగటు నుండి తీసుకొనునప్పుడు x మీద y ప్రతిగమన గుణకమును ఈ క్రింది సూత్రము సహాయంతో కనుగొనవచ్చును.

$$b_{yx} = r \frac{\sigma_y}{\sigma_x} = \frac{\Sigma dx dy - \frac{(\Sigma dx)(\Sigma dy)}{N}}{\Sigma dx^2 - \frac{(\Sigma dx)^2}{N}}$$

$$b_{yx} = r \frac{\sigma_y}{\sigma_x} = x \text{ మీద } y \text{ ప్రతిగమన గుణకము.}$$

$\Sigma dx = x$  శ్రేణిలో ఊహించిన సగటు నుండి తీసుకున్న విచలనాల మొత్తం.

$\Sigma dx^2 = x$  శ్రేణిలో ఊహించిన సగటు నుండి తీసుకున్న విచలనాల వర్గాల మొత్తం.

$\Sigma dy = y$  శ్రేణిలో ఊహించిన సగటు నుండి తీసుకున్న విచలనాల మొత్తం.

$\Sigma dy^2 = y$  శ్రేణిలో ఊహించిన సగటు నుండి తీసుకున్న విచలనాల మొత్తం.

$\Sigma dx dy = x, y$  శ్రేణులలో ఊహించిన సగటు నుండి తీసుకున్న విచలనాల మొత్తం.

$N =$  జతల సంఖ్య

ఉదాహరణ (1) : క్రింది సమాచారానికి వివిధ పద్ధతుల్లో x మీద y, y మీద x సమీకరణాలను సాధించండి.

x	6	2	10	4	8
y	9	11	5	8	7

సమాధానం : ప్రతిగమన సమీకరణాల సాధన

x	y	xy	x <sup>2</sup>	y <sup>2</sup>
6	9	54	36	81
2	11	22	4	121
10	5	50	100	25
4	8	32	16	64
8	7	56	64	49
Σx = 30	Σy = 40	Σxy = 214	Σx <sup>2</sup> = 220	Σy <sup>2</sup> = 340

మొదటి పద్ధతి : y మీద x సమీకరణ = a + bx

పై సమీకరణంలో a, b లను కనుగొనేందుకు కింది సమీకరణాలు సాధించాలి.

$$\Sigma y = Na + b\Sigma x$$

$$\Sigma xy = a\Sigma x + b\Sigma x^2$$

విలువలను ప్రతిక్షేపిస్తే  $40 = 5a + 30b$  ----- (1)

$214 = 30a + 220b$  ----- (2)

(1)వ సమీకరణమును 6తో గుణిస్తే  $6,240 = 30a + 180b$  ----- (3)

$214 = 30a + 220b$  ----- (4)

(4) నుంచి (3) తీసివేస్తే  $-40b = 26$  లేదా  $b = -0.65$

b విలువను (1)లో ప్రతిక్షేపిస్తే

$40 = 5a + 30(-0.65)$  లేదా  $5a = 40 + 19.5 = 59.5$  లేదా  $a = 11.9$

a, b విలువలను సమీకరణంలో ప్రతిక్షేపిస్తే

$$y = 11.9 - 0.65x$$

Regression line of x మీద y సమీకరణ :  $x = a + by$

a, b లను కనుగొనేందుకు క్రింది సమీకరణాలను సాధించాలి.

$$x = Na + b\Sigma y$$

$$\Sigma xy = a\Sigma y + b\Sigma y^2$$

$30 = 5a + 40b$  ----- (1)

$214 = 40a + 340b$  ----- (2)

(1) సమీకరణము 8తో గుణిస్తే :  $240 = 40a + 320b$  ----- (3)

$214 = 40a + 340b$  ----- (4)

(3) నుంచి (4)ను తీసివేస్తే :  $-20b = 26$  లేదా  $b = -1.3$

b విలువను (1) సమీకరణంలో ప్రతిక్షేపిస్తే :  $30 = 5a + 40(-1.3)$

$5a = 30 + 52 = 82 \therefore a = 16.4$

a, b విలువలను సమీకరణంలో ప్రతిక్షేపిస్తే y మీద x :  $= 16.4 - 1.3y$

రెండో పద్ధతి :  $\bar{x} = 6, \bar{y} = 8$

x	dx (x-6)	dx <sup>2</sup>	y	dy (y-8)	dy <sup>2</sup>	dx dy
6	0	0	9	+1	1	0
2	-4	16	11	+3	9	-12
10	+4	16	5	-3	9	-12
4	-2	4	8	0	0	0
8	+2	4	7	-1	1	-2

$\Sigma x = 30 \quad \Sigma dx = 0 \quad \Sigma dx^2 = 40 \quad \Sigma y = 40 \quad \Sigma dy = 0 \quad \Sigma dy^2 = 20 \quad \Sigma xy = -26$

గమనిక : ఈ గణనలో  $dx = x - \bar{x}$  అని,  $dy = y - \bar{y}$  అని గుర్తించాలి.

y మీద x సమీకరణం :  $(x - \bar{x}) = r \frac{\sigma_x}{\sigma_y} (y - \bar{y})$

$r \frac{\sigma_x}{\sigma_y} = \frac{\Sigma dx dy}{\Sigma dy^2} = \frac{-26}{20} = -1.3$

$\bar{x} = \frac{\Sigma x}{N} = \frac{30}{5} = 6; \bar{y} = \frac{\Sigma y}{N} = \frac{40}{5} = 8$

కావున  $x - 6 = -1.3(y - 8) = -1.3y + 10.4$

$x = -1.3y + 16.4$  లేదా  $x = 16.4 - 1.3y$

x మీద y సమీకరణం :  $(y - \bar{y}) = r \frac{\sigma_y}{\sigma_x} (x - \bar{x})$

$r \frac{\sigma_y}{\sigma_x} = \frac{\Sigma dx dy}{\Sigma dx^2} = \frac{-26}{40} = -0.65$

$y - 8 = -0.65(x - 6) = -0.65x + 3.9$

$y = -0.65x + 11.9$  లేదా  $y = 11.9 - 0.65x$

పై పద్ధతి ద్వారా వచ్చిన సమీకరణాలే ఈ పద్ధతి ద్వారా కూడా వచ్చినవి. అయితే మొదటి పద్ధతి కన్నా ఈ పద్ధతి ద్వారా సమీకరణాలను రాబట్టడం సులువు.

మూడవ పద్ధతి ద్వారా : x చలరాశుల్లో 5ను ఊహించిన అంకమధ్యమముగా, y చలరాశుల్లో 7 ఊహించిన అంకమధ్యమంగా ఊహించడం జరిగింది.

x	dx (x-5)	dx <sup>2</sup>	y	dy (y-7)	dy <sup>2</sup>	dx dy
6	+1	1	9	+2	4	+2
2	-3	9	11	+4	16	-12
10	+5	25	5	-2	4	-10
4	-1	1	8	+1	1	-1
8	+3	9	7	0	0	0
Σx = 30	Σx dx = +5	Σdx <sup>2</sup> = 45	Σy = 40	Σdy = 5	Σdy <sup>2</sup> = 25	Σdx dy = -21

గమనిక : ఈ గణానలో dx = x - A, dy = y - A అని గుర్తించాలి.

$$y \text{ మీద } x \text{ సమీకరణం : } x - \bar{x} = r \frac{\sigma_x}{\sigma_y} (y - \bar{y})$$

$$\bar{x} = \frac{\Sigma x}{N} = \frac{30}{5} = 6; \bar{y} = \frac{\Sigma y}{N} = \frac{40}{5} = 8$$

$$r \frac{\sigma_x}{\sigma_y} = \frac{\Sigma dx dy - \frac{\Sigma dx \cdot \Sigma dy}{N}}{\Sigma dy^2 - \frac{(\Sigma dy)^2}{N}}$$

$$= \frac{-21 - (5)(5)/5}{25 - (5)^2/5} = -1.3$$

$$x - 6 = 1.3(y - 8)$$

$$x - 6 = -1.3y + 10.4 \text{ లేదా } x = 16.4 - 1.3y$$

$$x \text{ మీద } y \text{ సమీకరణం : } y - \bar{y} = r \frac{\sigma_y}{\sigma_x} (x - \bar{x})$$

$$r \frac{\sigma_y}{\sigma_x} = \frac{\Sigma dx dy - \frac{\Sigma dx \cdot \Sigma dy}{N}}{\Sigma dx^2 - \frac{(\Sigma dx)^2}{N}}$$

$$= \frac{-21 - (5)(5)}{45 - \frac{(5)^2}{5}} = -0.65$$

$$y - 8 = -0.65(x - 6)$$

$$y - 8 = -0.65x + 3.9 \text{ లేదా } y = 11.9 - 0.65x$$

ఈ పద్ధతి వల్ల కూడా అనే సమీకరణాలు వచ్చినట్టు గమనించవచ్చు.

ఉదాహరణ (2) : ఈ క్రింది ఉదాహరణకు దత్తాంశమును ఉపయోగించుకుని y మీద x ప్రతిగమన సమీకరణమును, x మీద y ప్రతిగమన సమీకరణమును సాధింపుము. (ఎ) 25 సం॥ వున్న భార్యకు భర్త వయస్సును, (బి) 30 సం॥రాలు వున్న భర్త యొక్క భార్య వయస్సును నిర్ణయించుము.

భర్తల వయస్సు (సం॥లు) :	25	28	30	32	35	36	38	39	42	45
భార్యల వయస్సు (సం॥లు):	20	26	29	30	25	18	26	35	35	46

సమాధానం : భర్త వయస్సులను x గాను, భార్యల వయస్సు y అనుకొనుము.

	A = 35			A = 25		
భర్తల వయస్సు (x)	భార్యల వయస్సు (y)	dx (x - 35)	dx <sup>2</sup>	dy	dy <sup>2</sup>	dx dy
25	20	-10	100	-10	100	100
28	26	-7	49	-4	16	28
30	29	-5	25	-1	1	5
32	30	-3	9	0	0	0
35	25	0	0	-5	25	0
36	18	1	1	-12	144	-12
38	26	3	9	-4	16	-12
39	35	4	16	5	25	20
42	35	7	49	5	25	35
45	46	10	100	16	256	160

$$\Sigma dx = 0 \quad \Sigma dx^2 = 358 \quad \Sigma dy = -10 \quad \Sigma dy^2 = 608 \quad \Sigma dx dy = 324$$

$$x = \text{భర్తల వయస్సు}$$

$$y = \text{భార్యల వయస్సు}$$

$$dx = x \text{ శ్రేణిలో ఊహించిన సగటు (A) నుండి విచలనాలు మొత్తం}$$

$$\Sigma dy = y \text{ శ్రేణిలో ఊహించిన సగటు (A) నుండి విచలనాలు మొత్తం}$$

$$\Sigma dx^2 = x \text{ శ్రేణిలో ఊహించిన సగటు నుండి తీసుకున్న విచలనాల వర్గాల మొత్తము}$$

$\Sigma dy^2 = y$  శ్రేణిలో ఊహించిన సగటు నుండి తీసుకున్న విచలనాల వర్గాల మొత్తము.

$\Sigma dx dy = x, y$  శ్రేణులలో వాటి వాటి ఊహించిన సగటు నుండి తీసుకున్న విచలనాల లబ్ధాల మొత్తం.

- (1) 25 సం॥లు యున్న భార్య (y) యొక్క భర్త (x) వయస్సును కనుగొనుటానికి y మీద x సమీకరణమును సాధించవలెను.

y మీద x ప్రతిగమన సమీకరణము

$$(x - \bar{x}) = r \frac{\sigma_x}{\sigma_y} (y - \bar{y})$$

$\bar{x} = x$  శ్రేణి యొక్క అంకమధ్యమము

$\bar{y} = y$  శ్రేణి యొక్క అంకమధ్యమము

$r \frac{\sigma_x}{\sigma_y} = b_{xy} - X$  ప్రతిగమన గుణకము. ఊహించిన సగటు (A) నుండి విచలనాలను తీసుకొన్నప్పుడు, x ప్రతిగమన గుణకాన్ని ఈ క్రింది సూత్రంతో సాధించవచ్చును.

$$r \frac{\sigma_x}{\sigma_y} = \frac{\Sigma dx dy - \frac{(\Sigma dx)(\Sigma dy)}{N}}{\Sigma dy^2 - \frac{(\Sigma dy)^2}{N}}$$

$$= \frac{324 - \frac{(0)(-10)}{10}}{608 - \frac{(-10)^2}{10}}$$

$$b_{xy} = \frac{324}{608 - 10} = \frac{324}{598} = 0.541$$

$$\bar{X} = A + \frac{\Sigma dx}{N} = 35 + \frac{0}{10} = 35 + 0 = 35 \text{ సం॥లు.}$$

$$\bar{Y} = A + \frac{\Sigma dy}{N} = 30 + \frac{-10}{10} = 29 + 0 = 29 \text{ సం॥లు}$$

y మీద x సమీకరణము :  $(x - \bar{x}) = r \frac{\sigma_x}{\sigma_y} (y - \bar{y})$

$$x - 35 = 0.541(25 - 29)$$

$$x - 35 = 13.525 - 15.689$$

$$x - 35 = -2.164 + 35$$

$$x = -2.164 + 35$$

$$x = 32.836 \text{ సం॥లు}$$

భార్య వయస్సు (y) 25 సం॥లు అయితే భర్త వయస్సు (x) = 32.836 సం॥లు.

- (2) 30సం॥లు వున్న భర్త (y) యొక్క భార్య (x) వయస్సును కనుగొనటానికి x మీద y సమీకరణమును కనుగొనవలెను.

$$x \text{ మీద } y \text{ ప్రతిగమన సమీకరణము : } (y - \bar{y}) = r \frac{\sigma_y}{\sigma_x} (x - \bar{x})$$

$\bar{x} - x$  శ్రేణి యొక్క అంకమధ్యమము

$\bar{y} - y$  శ్రేణి యొక్క అంకమధ్యమము

$r \frac{\sigma_y}{\sigma_x} = byx = y$  ప్రతిగమన గుణకము. ఊహించిన సగటు (A) నుండి విచలనాలను తీసుకొన్నప్పుడు, y ప్రతిగమన గుణకాన్ని ఈ క్రింది సూత్రంతో సాధించవచ్చును.

$$r \frac{\sigma_y}{\sigma_x} = \frac{\Sigma dx dy - \frac{(\Sigma dx)(\Sigma dy)}{N}}{\Sigma dx^2 - \frac{(\Sigma dx)^2}{N}}$$

$$byx = \frac{324 - (0) - (10)^2}{358 - \frac{(0)^2}{N}}$$

$$= \frac{324}{358} = 0.9050$$

$$x \text{ మీద } y \text{ ప్రతిగమన సమీకరణము : } (y - \bar{y}) = r \frac{\sigma_y}{\sigma_x} (x - \bar{x})$$

భర్త వయస్సు (x) 30 సం॥లుగా ప్రతిక్షేపిస్తే

$$y - 29 = 0.9050(30 - 35)$$

$$y - 29 = 27.15 - 31.675$$

$$y - 29 = -4.525 + 29$$

$$y = 24.475 \text{ సం॥లు}$$

∴ భర్త వయస్సు 30 సం॥లు అయితే భార్య వయస్సు 24.475 సం॥లు.

ఉదాహరణ (3) : ఈ క్రింది దత్తాంశం ఆధారంగా ఇంగ్లీషులో 50 మార్కులు వచ్చిన విద్యార్థికి గణితంలో ఎన్ని మార్కులు వచ్చునో నిర్ణయించుము.

గణితంలో మార్కుల అంకమధ్యమము : 80

ఇంగ్లీషులో మార్కుల అంకమధ్యమము : 50

గణితంలో మార్కుల ప్రామాణిక విచలనము : 15

ఇంక్లీషులో మార్కుల ప్రామాణిక విచలనము : 10

సహసంబంధ గుణకము : 0.4

జవాబు : గణితంలో మార్కులను  $x$  గాను; ఇంక్లీషులో మార్కులను  $y$  అనుకొనుము. ఇప్పుడు ఇంక్లీషులో ( $y$ ) 50 మార్కులు వచ్చి విద్యార్థికి గణితంలో ( $x$ ) కనుగొనవలెను. అనగా  $y$  మీద  $x$  సమీకరణము సాధించాలి.

$$x \text{ సమీకరణము } x - \bar{x} = r \frac{\sigma_x}{\sigma_y} (y - \bar{y})$$

$$\bar{x} = 80, \sigma_y = 50, \sigma_x = 10, r = 0.4,$$

$$x - 80 = 0.4 \frac{15}{10} (y - 50)$$

$$x - 80 = 0.6 (y - 50)$$

$$x - 80 = 0.6y - 30$$

$$x = 0.6y - 30$$

$$y = 60 \text{ అయినచో}$$

$$x = 0.6(60) + 50$$

$$x = 86 \text{ మార్కులు}$$

ఉదాహరణ (4) : ఈ క్రింది దత్తాంశమును ఉపయోగించి, (1)  $x$  మీద  $y$  ప్రతిగమన సమీకరణము,  $y$  మీద  $x$  ప్రతిగమన సమీకరణములను సాధించుము. (2)  $x$  విలువ 50 వుండగా  $y$  విలువను కనుగొనుము.

$$\bar{x} = 52.33 \quad \bar{y} = 140.33$$

$$b_{xy} = +0.675 \quad b_{yx} = +1.09$$

జవాబు :  $x$  మీద  $y$  ప్రతిగమన సమీకరణము

$$y - \bar{y} = r \frac{\sigma_y}{\sigma_x} (x - \bar{x})$$

$$y - 140.33 = 1.09 (x - 52.33)$$

$$y - 140.33 = 1.09 (x - 52.33)$$

$$y - 140.33 = 1.09x - 57.04$$

$$y - 140.33 = 1.09x - 57.04 + 140.33$$

$$y = 1.09x + 83.29$$

$y$  మీద  $x$  ప్రతిగమన సమీకరణము



$$x - \bar{x} = r \frac{\sigma_x}{\sigma_y} (y - \bar{y})$$

$$x - 52.33 = 0.675(y - 140.33)$$

$$x - 52.33 = 0.675y - 94.72$$

$$x = 0.675y - 94.72 + 52.33$$

$$x = 0.675y - 42.39$$

- (2) x విలువ 50 వుండగా y విలువను కనుగొనుటకు y ప్రతిగమన సమీకరణమును ఉపయోగించాలి.

$$y = 1.09x + 83.29$$

$$x \text{ విలువ} = 50 \text{ యుండగా}$$

$$y = 1.09(50) + 83.29$$

$$= 54.5 + 83.29$$

$$= 137.79$$

#### 11.7.4 ప్రతిగమన గుణకం యొక్క లక్షణాలు :

- (1) రెండు ప్రతిగమన గుణకాలు 1 కంటే ఎక్కువగా వుండవు. అనగా 2 ప్రతిగమన గుణకాలు 1 కంటే తక్కువగాను, లేక 1 ప్రతిగమన గుణకమైన 1 కంటే తక్కువగా యుండాలి. ఎందువలన అనగా రెండు ప్రతిగమనాల యొక్క లబ్ధము యొక్క వర్గమూలము 1కి సమానముగాను లేక 1 కంటే తక్కువగాను వుండాలి.

$$\sqrt{b_{xy} \cdot b_{yx}} \leq 1$$

- (2) రెండు ప్రతిగమన గుణకాలకు ఒకే గుర్తు యుంటుంది. అనగా  $b_{yx}$  ధనాత్మకమైతే,  $b_{xy}$  కూడా ధనాత్మకమే అవుతుంది.  $b_{yx}$  రుణాత్మకమైతే,  $b_{xy}$  కూడా రుణాత్మకమే. ఈ విధంగా రెండూను ఒకే గుర్తును కలిగి యుంటాయి. రెండు ప్రతిగమన గుణకాల లబ్ధం 1కి సమానం లేక 1 కంటే తక్కువ.

- (3) రెండు ప్రతిగమన గుణకాల లబ్ధము యొక్క వర్గమూలము ఆ రెండు శ్రేణుల సహసంబంధ గుణకానికి సమానము.

$$r = \sqrt{b_{xy} \times b_{yx}}$$

ప్రతిగమన గుణకాల గుర్తు, సహసంబంధ గుణకం యొక్క గుర్తులు రెండూ ఒకటిగానే యుంటాయి. ప్రతిగమన గుణకాలు ధనాత్మకమైతే సహసంబంధ గుణకం కూడా ధనాత్మకమే. అవి రుణాత్మకం అయితే సహసంబంధ గుణకం కూడా రుణాత్మకమే.

- (4) రెండు ప్రతిగమన గుణకాల అంకమధ్యము సహసంబంధ గుణకానికి సమానముగాను లేక ఎక్కువగాను వుంటుంది.

$$\frac{b_{yx} + b_{xy}}{2} \geq r$$

- (5)  $b_{yx} = r \frac{\sigma_y}{\sigma_x}$  కావున, ఈ నాలుగింటిలో ఏ మూడింటిని ఇచ్చినా నాల్గవది కనుగొనవచ్చును.

(6)  $\bar{x} = \bar{y}$  అయితే, అప్పుడు సహసంబంధ గుణకము ప్రతిగమన గుణకాలు సమానం అవుతాయి.

$$r = b_{yx} = b_{xy}$$

సహసంబంధ గుణకం '0' అయితే ప్రతిగమన గుణకాలు కూడా '0'గా వుంటాయి.

### 11.8 విచరణ నిష్పత్తి (Ratio of Variation)

రెండు శ్రేణులు x, y ఉంటే వాటి మధ్య సాపేక్ష విచరణ (relative variation)ను గురించి ప్రతిగమన సమీకరణాల ద్వారా పైన తెలుసుకోవడం జరిగింది. దీనినే విచరణ నిష్పత్తిని గణించి కూడా అదే విషయాన్ని తెలుసుకోవచ్చు. రెండు శ్రేణుల మధ్య ఉండే సహసంబంధం (correlation) పరిపూర్ణం(perfect)గా ఉన్నప్పటికీ వాటి మధ్య కలుగుతున్న అనుపాత విచరణలు (proportionate variations) ఒక దాని నుంచి మరొకటి వేరుగా ఉండవచ్చు. ధరకు (price) డిమాండ్ (Demand)కు మధ్య అత్యధికమైన (high degree) వ్యతిరేక సహసంబంధం (negative correlation) ఉంటుంది. అయినప్పటికీ ధరలోని విచరణాలు (variations), డిమాండ్లోని విచరణాలలో మార్పులను తరచితరచి అనుపాతంగా (proportionate) చూస్తే అవి వేర్వేరుగా ఉండవచ్చు. ధరలో 1% పెరగగా, డిమాండ్లో అనుపాతంగా తగ్గుదల ఎంత ఉంటుందో తెలుసుకోవడానికి, ఆ రెండు శ్రేణులకు విచరణ నిష్పత్తిని గుణించవలె. విచరణ నిష్పత్తిని దిగు విధంగా గుణించవచ్చు.

1. ఇచ్చిన సాపేక్షకాలకు (given relatives) అంకగణిత మాధ్యమాన్ని ముందుగా కనుక్కోవలె. దానిని 100కు సమానం చేసి, మిగతా విలువలను దానిలో శాతాలుగా ప్రకటించవలె (express). ఈ శాతాల విచలనాలను 100 నుంచి గణించవలె. ఈ విచలనాలను, విచలన శాతాలు (percentage derivations) అంటారు.
2. అట్లాగే సబ్జెక్టు శ్రేణికి కూడా విచలన శాతాలను గుణించవలె.
3. సాపేక్షిక శ్రేణిలోని విచలన శాతాలను సబ్జెక్టు శ్రేణిలోని విచలన శాతాలతో భాగించవలె.
4. మూడులో వచ్చిన గుణకాలను అంకగణిత మాధ్యమాన్ని గుణించవలె. అదే విచరణ నిష్పత్తి.

క్రమరాహిత్యంగా ఉండే శ్రేణులలో (irregular series) విచరణ నిష్పత్తిని, పైన వివరించిన గణితపద్ధతి కంటే (mathematical procedure), రేఖా చిత్రం ద్వారా తెలుసుకోవడం శ్రేయస్కరము. ఎందుచేతనంటే రేఖాచిత్రం రెండు శ్రేణుల సాపేక్ష విచరణలను గురించి ఉత్తమంగా వివరిస్తుంది.

**11.8.1 గాల్టన్ రేఖా చిత్రము (Galton's graph) :** తండ్రుల, వారి వారి కుమారుల సగటు ఎత్తుల (mean height)ను గురించి వివరిస్తూ, ప్రతిగమనము (regression) అనే పదాన్ని ముందుగా వాడింది గాల్టన్ శాస్త్రవేత్త. విచరణ నిష్పత్తిని గురించి వివరణ కోసం రేఖాచిత్రాన్ని కూడా ఆయనే తయారుచేసినాడు. దానిని 'గాల్టన్ గ్రాఫ్' అనే పిలుస్తారు. శ్రేణులలోని విచరణలు చాలా క్రమరాహిత్యం (irregular)గా ఉన్నప్పుడు ఈ రేఖాచిత్రం చాలా ఉపయోగపడుతుంది.

గాల్టన్ రేఖాచిత్రాన్ని దిగువ విధంగా గీస్తారు.

1. x, y శ్రేణులను, వాటి వాటి మాధ్యమ విలువల (mean height) ఆధారంగా సూచీ సంఖ్యలు (index Nos.)లోకి మార్చండి.
2. విచరణాలు తక్కువగా ఉండే సాపేక్షిక శ్రేణిగాను విచరణాలు ఎక్కువగా ఉండే శ్రేణిని సబ్జెక్ట్ శ్రేణిగాను తీసుకోండి. ఇందువల్ల యూనిట్ కంటే తక్కువగా ఉండే విచరణ నిష్పత్తి లభిస్తుంది.
3. ఊర్ధ్వరేఖ మీద (vertical scale) సబ్జెక్టు శ్రేణికి చెందిన సూచీసంఖ్యను, క్షితిజరేఖ (horizontal scale) మీద సాపేక్ష శ్రేణికి సంబంధించిన సూచీసంఖ్యలను గుర్తించండి.
4. ఆ విధంగా గుర్తింపు చేసిన బిందువులు ఒక వ్యాపన పటాన్ని (scatter diagram) ఇస్తుంది. ఫ్రీహ్యాండ్ పద్ధతి ద్వారా

(feehand method) సుష్టుతమ సామీప్య రేఖను (line of best fit) గీయండి. ఈ రేఖను గీసేటప్పుడు రేఖకు రెండు ప్రక్కల బిందువులు సమానంగా ఉండవలె. ఆ బిందువులకు రేఖ నుంచి ఉండే దూరాలు రెండు ప్రక్కల సమానంగా ఉండవలె. ఆ రేఖ రెండు శ్రేణుల మాధ్యమ విలువల ద్వారా పోవలె. రెండు శ్రేణుల మాధ్యమ విలువలను 100 అనుకొని, సూచీసంఖ్యలను బట్టి, వాటిని గుర్తించినాము. కాబట్టి రేఖ 100 ద్వారా పోవలె.

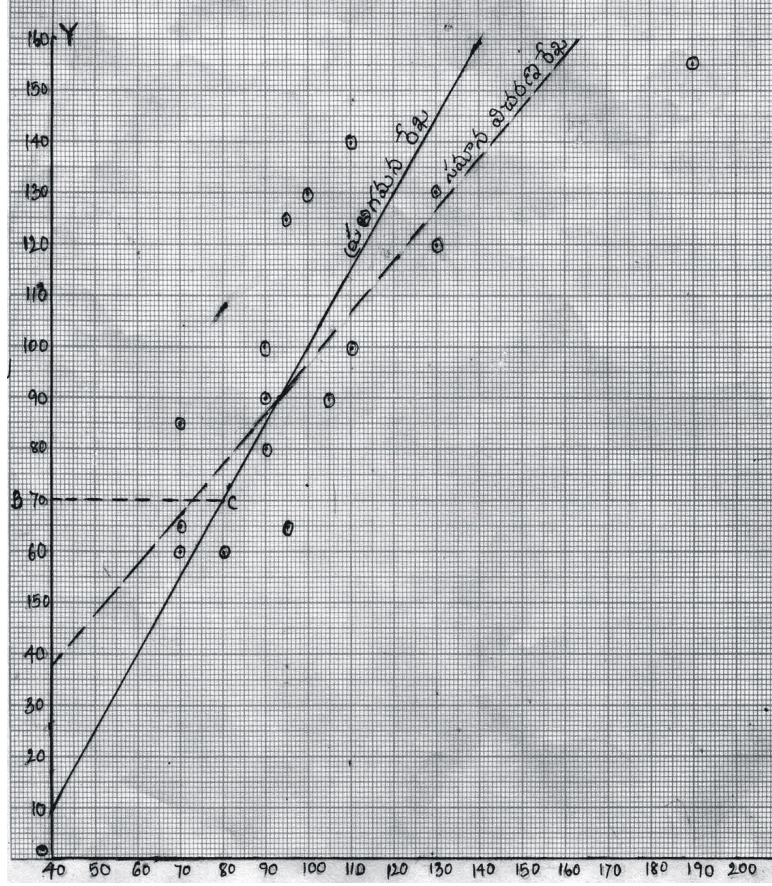
ఈ విధంగా రేఖను గీసిన తరువాత Y కి x కి మధ్యకోణానికి స్పర్శరేఖను (Tangent of the angle between Y and x) కనుక్కోవలె. ఇది Y కి x కి మధ్య ఉండే విచరణ నిష్పత్తిని తెలియజేస్తుంది. దాని తాలూకు విపర్యయము x కి Y కి మధ్య ఉండే విచరణ నిష్పత్తిని తెలియజేస్తుంది.

ఉదాహరణ : దిగువ ఇచ్చిన శ్రేణులకు విచరణ నిష్పత్తిని కనుక్కోండి.

(గాల్జన్ రేఖా చిత్ర పద్ధతి ప్రకారము)

వరుస సంఖ్య (Serial No.)	సబ్జెక్టు (x)	రెలిటివ్ (y)
1	24	7.0
2	40	9.0
3	36	9.0
4	50	9.5
5	36	0.5
6	26	9.5
7	24	8.0
8	34	7.0
9	52	10.0
10	52	13.0
11	64	16.5
12	56	11.0
13	48	13.0
14	40	11.0
15	32	9.0
16	26	7.0
	640	160.0

పై దత్తాంశాలను వాటి వాటి మధ్యను విలువల ఆధారం మీద సూచీ సంఖ్యలుగా మార్చవలె.



$$x \text{ శ్రేణికి అంకగణిత సగటు (Arithmetic Average)} = \frac{640}{16} = 40$$

$$y \text{ శ్రేణికి అంకగణిత సగటు} = \frac{160}{16} = 10$$

x శ్రేణికి అంకగణిత సగటు 40ని 100కు సమానం చేసి, y శ్రేణికి అంకగణిత సగటు 10ని కూడా 100కు సమానం చేయగా, వాటి వాటి విలువలకు అభ్యుపయోగ సూచీ సంఖ్యలు కింది విధంగా ఉంటాయి.

వరుస సంఖ్య	x సూచీ సంఖ్య	y సూచీ సంఖ్య	వరుస సంఖ్య	x సూచీ సంఖ్య	y సూచీ సంఖ్య
	40 = 100	10 = 100		40 = 100	10 = 100
1	60	70	9	130	100
2	100	90	10	130	130
3	90	90	11	160	165
4	125	95	12	140	110
5	90	105	13	120	130

6	65	95	14	100	110
7	60	80	15	80	90
8	85	70	16	65	70

ఈ సూచీసంఖ్యలను రేఖాచిత్రంలో గుర్తింపు చేయడం జరిగింది.

పై రేఖా చిత్రంలో  $x$  శ్రేణిని సబ్జక్టుగాను  $y$  శ్రేణిని రెలిటెన్స్ గాను తీసుకోవడం జరిగింది. ఎందుచేతనంటే  $x$  శ్రేణి సూచీసంఖ్యలు ప్రామాణిక విచలనము  $y$  శ్రేణి సూచీసంఖ్యల ప్రామాణిక విచలనము కంటే ఎక్కువ. సబ్జక్టు శ్రేణిని ఊర్ధ్వ రేఖ మీద (vertical scale), రెలిటెన్స్ శ్రేణిని క్షితిజ రేఖ (horizontal scale) మీద గుర్తింపు చేసినాము. అట్లాగీసిన రేఖ రెండు శ్రేణులకు ఉండే సగటు అయిన 100 ద్వారా పోతుంది. ఆ రేఖకు రెండు ప్రక్కల సమానమైన బిందువులు ఉన్నాయి. అదీగాక బిందువులు రేఖ నుంచి సమానమైన దూరంలో ఉన్నాయి. విచరణనిష్పత్తిని కనుక్కోడానికి,  $y$  కి  $x$  కి మధ్య ఉండే కోణానికి స్పర్శరేఖను కనుక్కోవాలి. (longest of the angle between  $y$  and  $x$ ). ఇందుకోసం ఊర్ధ్వరేఖ మీద ఏదో ఒక బిందువును తీసుకోండి. అక్కడ నుంచి క్షితిజ రేఖకు (horizontal) సమానాంతరంగా (parallel) పోయే ఒక రేఖను ప్రతిగమన రేఖ మీద గీయవాలి. పై రేఖాచిత్రంలో BC అనేదే ఈ రేఖ. అది ప్రతిగమన రేఖ మీద C అనే బిందువు వద్ద పడుతుంది. BC దూరాన్ని B A దూరంచేత భాగించగా, (A అనేదే ప్రతిగమన రేఖ ఊర్ధ్వరేఖకు తగిలే బిందువు) వచ్చేదే విచరణ నిష్పత్తి. పై రేఖా చిత్రంలో BC = 40, BA = 60 అందుచేత

$$\text{విచరణ నిష్పత్తి} = \frac{BC}{BA} = \frac{40}{60} = 0.66$$

దీనివల్ల తెలుసుకోవలసింది ఏమంటే, సబ్జక్టు శ్రేణిలో వచ్చే 1% మార్పుకు, సాపేక్ష శ్రేణిలో 66% మార్పు కలుగుతుంది. విచరణ నిష్పత్తికి యూనిట్ కి మధ్య ఉండే తేడాయే ప్రతిగమన నిష్పత్తి. ఈ ఉదాహరణలో ప్రతిగమన నిష్పత్తి = 1 - 0.66 = 0.34.

## 11.9 సారాంశం

రెండు చలరాశుల మధ్య యున్న సంబంధాన్ని సంఖ్యారూపంలో వ్యక్తం చేయటానికి సహసంబంధ గుణకం ఉపయోగిస్తారు. అయితే ఒక శ్రేణిలో ఒక విలువ యిచ్చినప్పుడు, రెండవ శ్రేణిలోని యుక్తతమమైన విలువను తెలుసుకోవటానికి ఉపయోగించే గణాంక సాధనమును ప్రతిగమనం అంటారు. ప్రతిగమన సమీకరణాల ద్వారా ఒక శ్రేణిలో యివ్వబడిన విలువకు మరొక శ్రేణిలో యుక్తతమమైన విలువను కనుగొనవచ్చును. ప్రతిగమనం అనగా వెనక్కిపోవడం లేదా మరలడం. మొట్టమొదటిసారిగా 19వ శతాబ్దంలో తండ్రులు, కొడుకుల మధ్య యుండే సంబంధాన్ని పరిశీలించడంలో సర్ ఫ్రాన్సిస్ గాల్టన్ ప్రతిగమనంను వాడాడు. ఈ గణాంక పద్ధతిని ఆర్థిక, వాణిజ్య శాస్త్రాలలో విరివిగా ఉపయోగించడం జరుగుతుంది.

## 11.10 ముఖ్యపదాలు

- (1) ప్రతిగమనము : ఒక శ్రేణిలో విలువ ఒక విలువ ఇచ్చినప్పుడు రెండవ శ్రేణిలో యుక్తతమైన విలువను తెలుసుకోవడానికి ఉపయోగించే గణాంక సాధనమును ప్రతిగమనము అని అంటారు.
- (2) సరళరేఖీయ ప్రతిగమనము : పరస్పర ఆధారమైన రెండు చలరాశుల విలువల మధ్య సరళరేఖ సంబంధం యున్నట్లు అయితే, దానిని సరళరేఖీయ ప్రతిగమనం అని అంటారు.
- (3) ప్రతిగమన సమీకరణాలు : పరస్పర ఆధారమైన రెండు శ్రేణులకు సంబంధించిన ప్రతిగమన రేఖల బీజీయ సమాసాలను ప్రతిగమన సమీకరణాలు అంటారు. యివి రెండుగా యుంటాయి.  $x$  చలాంకము యిచ్చిన,  $y$  చలాంకము సగటు విలువను,  $y$  చలాంకము యిచ్చిన విలువకు  $x$  చలాంకము కనుక్కోవటానికి సంఖ్యాత్మకమైన పద్ధతిని

చేకూరుస్తాయి.

x విలువ ఇచ్చి y విలువను కనుగొనవలెనంటే, దానిని x పై y ప్రతిగమన సమీకరణం అంటారు.

$$y - \bar{y} = r \frac{\sigma_y}{\sigma_x} (x - \bar{x})$$

y విలువ ఇచ్చి x విలువను కనుగొనవలెనంటే దానిని y పై x ప్రతిగమన సమీకరణం అంటారు.

$$x - \bar{x} = r \frac{\sigma_x}{\sigma_y} (y - \bar{y})$$

- (4) ప్రతిగమన గుణకాలు : x పై y సమీకరణంలో 'b<sub>xy</sub>' y పై x సమీకరణంలో 'b<sub>yx</sub>' లను ప్రతిగమన గుణకాలు అని అంటారు. ఈ రెండింటిని హెచ్చించి వర్గమూలం చేస్తే సహసంబంధ గుణకం వస్తుంది.

### 11.11 నమూనా ప్రశ్నలు

1. ప్రతిగమనం అనగానేమి? ప్రతిగమనం యొక్క ప్రాముఖ్యతను వివరించండి.
2. ప్రతిగమన సమీకరణాలు అనగానేమి? వాటిని విపులంగా వివరించండి?
3. ఈ క్రింది దత్తాంశమును ఉపయోగించి రెండు ప్రతిగమన సమీకరణాలు కనుగొనుము.

x :	15	27	27	30	34	38	46
y :	120	140	150	170	180	200	250

జవాబు :  $y = 40.62 + 4.2657x$ ;  $x = 0.2189y - 6.8383$

4. ఈ క్రింది దత్తాంశమునకు x పై y ప్రతిగమన సమీకరణము y పై x ప్రతిగమన సమీకరణమును సాధించుము.

x :	1	5	3	2	1	1	7	3
y :	6	1	0	0	1	2	1	5

జవాబు :  $2.874 - 0.304x$ ;  $x = 3.431 - 0.278y$

5. x పై y ప్రతిగమన సమీకరణము, y పై x ప్రతిగమన సమీకరణమును కనుగొనుము.

x :	8	10	9	12	10	11	12
y :	2	2	3	4	5	5	5

జవాబు :  $y = 0.638x - 2.848$ ;  $x = 7.5 + 0.75y$

6. ఈ క్రింది ఉదాహరణలను భర్తల వయస్సులు, వారి వారి భార్యల వయస్సు (సం॥లు) ఇవ్వబడినవి. ప్రతిగమన పద్ధతి ద్వారా భార్య వయస్సు 16 సం॥లు యుండగా, ఆమె భర్త వయస్సు ఎంత వుండవచ్చునో నిర్ణయించుము?

భర్తల వయస్సు (x) :	36	23	27	28	28	29	30	31	33	35
భార్యల వయస్సు (y) :	29	18	20	22	27	21	29	27	29	28

జవాబు : 23 - 25 సం॥లు

7. పది మంది తండ్రులు వారి కుమారుల ఎత్తులు ఈ దిగువనున్నాయి. సరైన ప్రతిగమన సమీకరణాన్ని ఉపయోగించి తండ్రి ఎత్తు 16.4 సెం.మీ. అయినప్పుడు, కుమారుని ఎత్తు అంచనా వేయుము.

తండ్రి ఎత్తులు(x) : 158 160 163 165 167 170 167 172 177 181

కుమారుని ఎత్తు (y) : 163 158 167 170 160 180 170 175 172 175

జవాబు : 165.84

8. పది కుటుంబాల నెలసరి ఆదాయం (x) ఆహారంపై వ్యయము (y) ఈ క్రింది దత్తాంశంలో యివ్వబడినవి. ఆదాయముపై ఆహారపు వ్యయము యొక్క ప్రతిగమన సమీకరణములను సాధించుము.

ఆదాయం రూ॥(x) : 120 90 80 50 130 140 110 95 75 105

వ్యయం రూ॥ (y) : 40 36 40 45 40 44 45 38 50 35

జవాబు :  $y = 0.0193x + 39.18$

9. పది మంది వ్యక్తుల వయస్సులు (x), వారి వారి రక్తపోటు (y)లను ఉపయోగించి 45 సం॥ల వయస్సున్న వ్యక్తికి ఎంత రక్తపోటు యుండవచ్చునో నిర్ధారించుము.

వయస్సు (x) : 56 42 36 47 49 42 60 72 63 55

రక్తపోటు (y) : 143 125 118 128 145 140 155 160 149 150

జవాబు : 134

10.  $y = 200$  అయితే, x విలువ ఎంతో ఈ క్రింది దత్తాంశాల నుంచి కనుక్కోండి.

x : 250 248 297 338 463 383

y : 137 147 184 196 276 260 జవాబు : 331.5

11. క్రింద ఇచ్చిన ధర, డిమాండ్ల పట్టి నుండి రెండు ప్రతిగమన సమీకరణాలను కనుక్కోండి.

ధర (రూ॥లలో) : 10 12 13 12 16 15

డిమాండ్ : 40 38 43 45 37 43 జవాబు : 39.25

12. ఈ క్రింది దత్తాంశమునకు రెండు ప్రతిగమన సమీకరణములు కనుగొందుము.

x : 1 2 3 4 5 6 7 8 9

y : 9 8 10 12 11 13 14 16 15

13. ఈ క్రింది దత్తాంశంలో ప్రకటికరణ వ్యయం (x) వేల రూపాయలలోను, అమ్మకాలు (y) లక్షల రూపాయలలోను ఇవ్వడం అయింది. (1) ప్రకటికరణపై అమ్మకాలకు ప్రతిగమన సమీకరణమును సాధించి, (2) ప్రకటికరణ రూ. 60,000 యున్నప్పుడు అమ్మకాలు నిర్ణయించుము.

ప్రకటికరణ (x) : 12 15 15 23 24 38 42 48

అమ్మకాలు (y) : 50 56 58 70 72 88 92 95

జవాబు : (1)  $y = 3.87 + 0.125 \times x$  (2) రూ. 113.7 లక్షలు

14. దిగువ దత్తాంశానికి రెండు ప్రతిగమన రేఖలను కనుక్కోండి.

x :	42	44	58	55	89	98	66
y :	56	49	53	58	65	76	58

జవాబు :  $x = 2.24 + 65.868; y = 0.37x + 3540$

15. ఈ దిగువ దత్తాంశమునకు రెండు ప్రతిగమన సమీకరణాలను కనుగొనుము? y విలువ 75 అయితే x విలువను అంచనా వేయుము.

	x	y
అంకమధ్యమము	36	85
ప్రామాణిక విచలనము	11	8

$x, y$  ల మధ్య సహసంబంధ గుణకము = 0.66

16. ఈ క్రింది దత్తాంశం నుంచి

- (1)  $x = 12$  అయినప్పుడు y ను, (2)  $y = 30$  అయినప్పుడు, x విలువను కనుగొనుము.

	x	y
అంకమధ్యమము	27.6	14.8
ప్రామాణిక విచలనము	40	20

$x, y$  ల మధ్య సహసంబంధ గుణకము = 0.8

జవాబు : (1) 8.56 (2) 51.92

17. రెండు ప్రతిగమన సమీకరణాలు సాధించుము.

- (1) వర్షపాతం 2 సెం.మీ. వున్నప్పుడు పంట దిగుబడి;  
 (2) పంట దిగుబడి 600 కె.జీలున్నప్పుడు వర్షపాతంను కనుగొనుము.

	వర్షపాతం	దిగుబడి
అంకమధ్యమము	26.7	508.4
ప్రామాణిక విచలనము	4.6	36.8

సహసంబంధ గుణకము = 0.52

జవాబు :  $x = 0.065y - 6.346; y = 416x + 397.33$

18. దిగువ సమాచారంలో  $x = 70$  అయితే y విలువను,  $y = 90$  అయితే x విలువను కనుక్కోండి?

	x	y
అంకమధ్యమము	18	100
ప్రామాణిక విచలనము	14	20

$x, y$  ల మధ్య సహసంబంధ గుణకము = 0.8

జవాబు :  $y = 159.4; x = 12.4$



19. ఒక తరగతిలో విద్యార్థులు గణితం, ఇంగ్లీషులకు సంబంధించిన దత్తాంశమును ఈ దిగువ యివ్వబడింది.

	గణితం (x)	ఇంగ్లీషు (y)
అంకమధ్యమము	18	100
ప్రామాణిక విచలనము	10.8	16.8

$x, y$  ల మధ్య సహసంబంధ గుణకము = 0.42

1. రెండు ప్రతిగమన సమీకరణములను సాధించుము.
2.  $x$  విలువ 50 యున్నప్పుడు  $y$  విలువ ఎంత.
3.  $y$  విలువ 30 అయినప్పుడు  $x$  విలువ ఎంత.

జవాబులు : 1.  $x = 0.27y + 26.68$ ;  $y = 0.653x + 21.71$  (2) 54 (3) 34.78

20. రెండు ప్రతిగమన సమీకరణములను కనుగొనుము.

$x$ :	6	2	10	4	8
$y$ :	9	11	5	8	7

జవాబు :  $y = 11.9 - 0.65x$ ;  $x = 16.4 - 1.3y$

### 11.12 చదువదగిన గ్రంథాలు

1. Allen. R.G.D. : Statistics for Economics
2. Graxton and Cauder : Applied General Statistics
3. Gupta S.P. : Advanced Practical Statistics
4. Secrist Harace : An Introduction to Statistical Methods
5. Yure and Kendall : An Introduction to the Theory of Statistics

**పాఠ్యంశ నిర్మాణక్రమం**

- 12.0 అక్ష్యాలు
- 12.1 విషయ పరిచయం
- 12.2 సూచీ సంఖ్యలు - వివిధ రకాలు
- 12.3 సూచీ సంఖ్యల వల్ల ఉపయోగాలు
- 12.4 సూచీ సంఖ్యల నిర్మాణంలో తీసుకోవలసిన జాగ్రత్తలు
- 12.5 సరళ లేదా సాధారణ సూచీ సంఖ్యలు
- 12.6 సంయుక్త లేదా సమిష్టి సూచీ సంఖ్యల నిర్మాణం
- 12.7 పరిమాణ సూచీ సంఖ్యలు
- 12.8 విలువల సూచీ సంఖ్యలు
- 12.9 సూచీ సంఖ్యల స్థిరత్వంకు పరీక్షలు
- 12.10 ప్రత్యేక సూచీ సంఖ్యలు
- 12.11 జీవన వ్యయ సూచీ సంఖ్యల నిర్మాణం
- 12.12 సారాంశం
- 12.13 కఠిన పదాలు
- 12.14 నమూనా ప్రశ్నలు
- 12.15 చదువదగిన గ్రంథాలు

**12.0 అక్ష్యాలు**

ఈ పాఠ్యభాగము చదివిన తరువాత మీరు ఈ క్రింది అంశాలు తెలుసుకోగలరు.

- \* సూచీ సంఖ్యలు, వాటిలోని రకాలు, వాటి వలన ఉపయోగాలు
- \* సూచీ సంఖ్యల నిర్మాణ పద్ధతులు
- \* లాస్పియర్, పాషె ఫిషర్ ఆదర్శ పద్ధతి మొదలగు సూచీల నిర్మాణం

- \* సూచీ సంఖ్యల స్థిరత్వంకు పరీక్షలు
- \* టోకుధరల సూచీ మరియు జీవన వ్యయ సూచీ సంఖ్యలు, వాటి నిర్మాణ పద్ధతులు

### 12.1 విషయ పరిచయం

సూచీ సంఖ్యలను ప్రత్యేకమైన సగటులని అంటారు. ధరల్లో, పరిమాణాల్లో లేదా ఏదైనా ఆర్థిక విషయాల్లో వచ్చే సాపేక్ష మార్పులను కొలిచేందుకు వీటిని ఉపయోగిస్తారు. అందుచేత వీటిని ఆర్థిక భారమితులు అని కూడా అంటారు. ఆర్థిక, ఆర్థికేతర విషయాల్లో సూచీసంఖ్యలు, వాటి ప్రాముఖ్యం, ప్రయోజనం నానాటికి పెరుగుతున్నాయని చెప్పవచ్చు. సూచీ అంటే సూచిక అని అర్థం. ఇవి ప్రత్యేకంగా కొలవలేని మార్పుల అధ్యయనానికి తోడ్పడతాయి. ఈ పాఠంలో మనం, వివిధ సూచీ సంఖ్యలు వాటి ప్రయోజనాలు, వాటి పరిమితులు మరియు నిర్మించే పద్ధతులను గూర్చితెలుసుకుందాం.

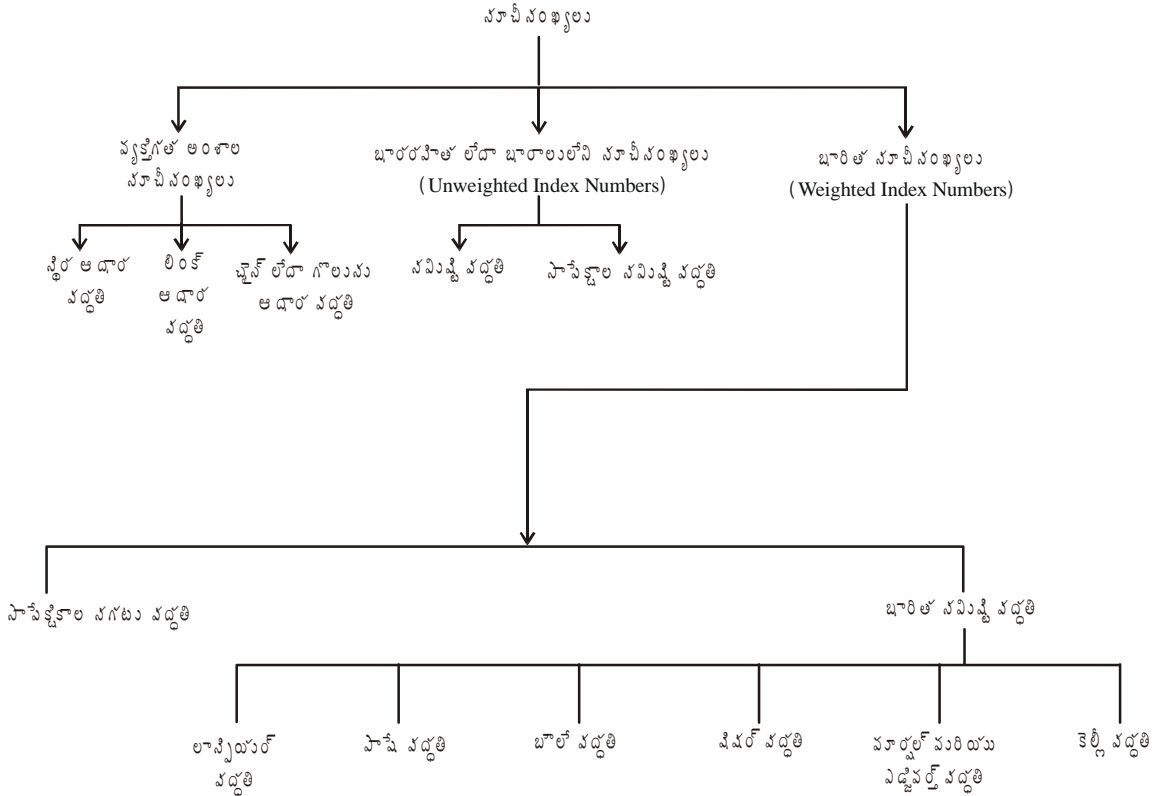
### 12.2 సూచీసంఖ్యలు - వివిధ రకాలు

ఆర్థిక మరియు పారిశ్రామిక సంబంధిత చలరాశుల కాలగమనంలో పెరుగుదల లేక తరుగుదలలో సంభవిస్తూ వుంటాయి. ఈ పెరుగుదలలను, తరుగుదలలను సూచించడానికి ఉపయోగించే సంఖ్యలే సూచీ సంఖ్యలు. సూచీ సంఖ్యలు వస్తువుల ధరలలో, పారిశ్రామిక ఉత్పత్తి పరిమాణంలో, వస్తువుల విలువలో అనునిత్యం సంభవించే మార్పులను కొలిచే ఒక రకమైన సాధనాలు. సూచీ సంఖ్యలను ముఖ్యంగా వస్తువుల ధరలలోకాని, పరిమాణంలోకాని, వ్యక్తుల ఆదాయ వ్యయాలలో కానీ కాలానుగుణంగా లేక భౌగోళికంగా వచ్చిన మార్పును తులనాత్మకంగా కొలవడానికి ఉపయోగించే పరికరాలుగా కూడా భావించవచ్చు. ఈ తులనాత్మక పరిశీలన రెండు కాలాల మధ్యగాని, రెండు ప్రాంతాల మధ్యగాని చేస్తారు.

సూచీ సంఖ్యలను వాటి స్వభావం బట్టి కింది ఐదు విధాలుగా వర్గీకరించవచ్చు.

1. ధరల సూచీ సంఖ్యలు : వీటిని వస్తువుల ధరలలో సంభవించే మార్పును కొలవడానికి ఉపయోగిస్తారు.
2. పరిమాణ సూచీ సంఖ్యలు : వీటిని వస్తువుల పరిమాణంలో ఏర్పడే మార్పును కొలవడానికి ఉపయోగిస్తారు.
3. విలువల సూచీ సంఖ్యలు : వీటిని వస్తువుల విలువలలో వచ్చే మార్పును కొలవడానికి ఉపయోగిస్తారు.
4. టోకుధరల సూచీ సంఖ్యలు (Wholesale Price Index Numbers) : వీటిని నిత్యవసర వస్తువుల టోకు ధరలో ఏర్పడే మార్పును కొలవడానికి ఉపయోగిస్తారు.
5. వినియోగదారుల ధరల సూచీ సంఖ్యలు (Consumers Price Index Numbers) : వీటిని వినియోగదారుడు ఉపయోగించే వస్తువుల ధరలలో వచ్చే మార్పును కొలవడానికి ఉపయోగిస్తారు. దీనిని జీవన వ్యయం సూచీసంఖ్య అని కూడా అంటారు (Cost of Living Index).

సూచీ సంఖ్యలను వాటి నిర్మాణ పద్ధతుల దృష్ట్యా కూడా వర్గీకరించవచ్చు. అవి ఏవనగా : 1. వ్యక్తిగత అంశాల సూచీ సంఖ్యలు, 2. భారరహిత లేదా భారాలు లేని సూచీ సంఖ్యలు, 3. భారిత సూచీ సంఖ్యలు. వీటిని మళ్ళీ కూడా వర్గీకరించవచ్చు. ఈ వర్గీకరణలను కింద చూపడం జరిగింది.



### 12.3 సూచీ సంఖ్యల వల్ల ఉపయోగాలు

సూచీ సంఖ్యల వలన చాలా ఉపయోగాలు వున్నాయి. అవి :

1. అనేక ఆర్థిక, వ్యాపార నిర్ణయాలను ఎక్కువగా సూచీ సంఖ్యల ఆధారంగానే తీసుకుంటారు.
2. మనదేశంలో ప్రభుత్వం సూచీ సంఖ్యల ఆధారంగా ఉద్యోగుల జీతం మరియు కరువు భత్యాలను నిర్ణయిస్తుంది.
3. ధరల సూచీ సంఖ్యలు ధరల మార్పు విశ్లేషణలో అత్యంత విశేషంగా ఉపయోగపడతాయి.
4. దేశంలో సారిశ్రామిక ఉత్పత్తిలో ఒడుదుడుకులు విశ్లేషించడానికి పరిమాణ సూచీ సంఖ్యలు ఉపయోగిస్తాయి.
5. దేశంలోని వ్యాపార పరిమాణము, ఎగుమతులు మరియు దిగుమతుల పరిమాణం తెలుసుకొనుటకు కూడా సూచీ సంఖ్యలు ఉపయోగిస్తారు.
6. నికర జాతీయ ఆదాయంలోని అభివృద్ధిని కొలుచుటకు సూచీ సంఖ్యలను ఉపయోగిస్తారు.
7. ఒక రాష్ట్రం లేక దేశం యొక్క ఆర్థిక దృగ్విషయాలు వేరొక రాష్ట్రం లేక దేశం యొక్క విషయాలతో పోల్చిచూచుటకు సూచీసంఖ్యలు ఎంతో ఉపయోగకరంగా వుంటాయి.
8. వేర్వేరు ప్రాంతాలకు, కాలాలకు చెందిన ప్రజల జీవన వ్యయాన్ని సరిపోల్చి చూచుటకు కూడా సూచీ సంఖ్యలను ఉపయోగిస్తారు.
9. ఆర్థిక, వ్యాపార శాస్త్రాలలోనే గాక, మానసిక శాస్త్రంలో విజ్ఞాన స్థాయిలను (Intelligent Quotient) కొలవటానికి, ఆరోగ్య శాస్త్రంలో ఆరోగ్యసూచీ (Health Index)ని కొలవడానికి, విద్యాసంస్థలలో విద్యా నిర్వహణ అభివృద్ధిని కొలవడానికి కూడా సూచీ సంఖ్యలు ఉపయోగిస్తారు.

ఈ విధంగా ఎన్నో ప్రయోజనాల్లో సూచీ సంఖ్యలను ఉపయోగిస్తున్నారు. సూచీసంఖ్యలను విరివిగా ఆర్థిక, వ్యాపార వ్యవహారాలను విశ్లేషించడానికి ఉపయోగిస్తారు కావున వాటిని 'ఆర్థిక భారమితులు' (Economic Barometers) అని తరచుగా పిలుస్తుంటారు.

### 12.4 సూచీ సంఖ్యల నిర్మాణంలో తీసుకోవల్సిన జాగ్రత్తలు

సూచీసంఖ్యలు నిర్మించేటప్పుడు కొన్ని ప్రత్యేకమైన జాగ్రత్తలు తీసుకోవాలి. అవి :

1. సూచీసంఖ్య నిర్మాణం యొక్క లక్ష్యం, 2. సూచీసంఖ్యలో ప్రాతినిధ్యం వహించే అంశాల నిర్ణయం, 3. ధరల సేకరణ,
4. ఆధార సమయాన్ని నిర్ణయించుట, 5. సూచీసంఖ్య నిర్మాణంలో ఏ రకమైన సగటును ఉపయోగించాలో నిర్ణయించుట.
6. సూచీసంఖ్యల నిర్మాణంలో ఏ విధమైన 'భారాలు' ఉపయోగించాలో నిర్ణయించుట,
7. ఏ రకమైన సూచీసంఖ్యను నిర్మించాలో నిర్ణయించుట మొదలగునవి.

ఈ అంశాలను గూర్చి వివరంగా తెలుసుకుందాం.

1. **సూచీసంఖ్య నిర్మాణం యొక్క లక్ష్యం :** ఒక సూచీసంఖ్యను ఏ ప్రయోజనం ఆశించి నిర్మిస్తున్నామో ముందుగానే నిర్ణయించాలి. ఎందుకనగా, అన్ని సందర్భాలకు ఉపయోగపడే విధంగా ఒకే సూచీసంఖ్యను నిర్మించుట సాధ్యం కాదు. వేరు వేరు సందర్భాలకు, వేరు వేరు ప్రయోజనాలకు వేర్వేరు సూచీసంఖ్యలు నిర్మించాలి. ఉదాహరణకు వ్యవసాయ ఉత్పత్తులలో జరిగే మార్పును తెలుసుకోవటానికి సూచీసంఖ్యలు నిర్మించేటప్పుడు వ్యవసాయ ఉత్పత్తులకు సంబంధించిన అంశాలను మాత్రమే పరిగణనలోకి తీసుకోవాలి. అదే విధంగా వినియోగదారుల సూచీ నిర్మాణంలో ఒకేస్థాయి వినియోగదారులు ఉపయోగించే వస్తువుల చిల్లర ధరలను మాత్రమే పరిగణించవలెను. చిల్లర ధరలను మాత్రమే పరిగణించవలెను. కావున, ఏ ప్రయోజనం లేదా ఏ ఉద్దేశంతో సూచీసంఖ్యను నిర్మిస్తున్నామో ముందుగానే నిర్ణయించాలి. అప్పుడు అందుకు అనువైన సమాచారం సేకరించుటకు వీలు కలుగుతుంది. అందువలన సమయము, ధన వ్యయంలో దుబారాను నిరోధించవచ్చు.
2. **సూచీసంఖ్య ప్రాతినిధ్యం వహించే అంశాల నిర్ణయం :** సూచీసంఖ్యను ఏ ప్రయోజనం కోసం నిర్మిస్తున్నామో నిర్ణయించిన తరువాత ఆ ప్రయోజనాన్ని లేక ఉద్దేశాన్ని నెరవేర్చటానికి వీలుగా వున్న అంశాలు లేక వస్తువులను మాత్రమే పరిగణనలోకి తీసుకోవాలి. ఉదాహరణకు అధిక ఆదాయ వర్గానికి వినియోగసూచిక నిర్మించాలంటే అధిక వర్గాల వారు వినియోగించే వస్తువుల ధరలను మాత్రమే పరిగణించాలి. అన్ని వస్తువుల ధరలు పరిగణనలోకి తీసుకుని సూచీసంఖ్యను నిర్మిస్తే అది అవాస్తవ పరిస్థితిని తెలియజేస్తుంది.
3. **ధరల సేకరణ :** సూచీసంఖ్య యొక్క ఉద్దేశం, నిర్మాణంలో వినియోగించవలసిన అంశాలుగూర్చి నిర్ణయించిన తరువాత ఆ అంశాల ధరలు సేకరించుట ముఖ్యమైన పని ధరల సేకరణ చాలా జాగ్రత్తగా చేయవలెను. ఎందుకనగా ఒకే వస్తువు ధర వేర్వేరు ప్రాంతాలలో వేర్వేరుగా వుంటుంది. కానీ వివిధ ప్రాంతాల నుంచి ధరల సేకరణ చాలా కష్టం. అందువలన పరిస్థితులను బట్టి ఎక్కడ నుండి ధరలను సేకరించాలో ముందుగా నిర్ణయించుకోవాలి. ఉదాహరణకు ఒక వస్తువు అది తయారయ్యే ప్రాంతంలో తక్కువ ధరకు, మిగిలిన ప్రాంతాలలో కొంచెం ఎక్కువ ధరకు లభిస్తుంది. కాబట్టి అటువంటి వస్తువుల ధరలను నిర్ణీత ధరలకు అమ్మే ప్రాంతాల నుంచి మాత్రమే సేకరించాలి. ఒకే ప్రాంతం నుండి కాక వేర్వేరు ప్రాంతాల నుండి ధరలు సేకరించి వాటి 'సగటు'ను సూచీసంఖ్య నిర్మాణంలో ఉపయోగిస్తే మంచి ఫలితం వుంటుంది.
4. **ఆధార సమయ నిర్ణయం :** సూచీసంఖ్యల నిర్మాణంలో 'ఆధార సంవత్సరం' లేక 'ఆధార సమయం' ఎక్కువ ప్రాముఖ్యత

వహిస్తుంది. సరైన ఆధార సమయాన్ని ఎన్నుకొని, ఉపయోగించినట్లయితే ఆ సూచీసంఖ్య ఉద్దేశించిన ప్రయోజనాలు యివ్వదు. సామాన్యంగా ఆధార సమయాన్ని ఎంచుకుంటానికి ఈ కింది విషయాలు పరిగణనలోకి తీసుకుంటారు.

(ఎ) అసాధారణమైన సంవత్సరాన్ని ఆధార సమయంగా ఎంచుకోకూడదు. అనగా కరువుకాటకాలు, వరదలు, భూకంపాలు, యుద్ధాలు, కార్మిక సంక్షోభాలు, ఆర్థిక మాంద్యం, వ్యాపార అస్థిరతలు మొదలగు లక్షణాలు కలిగిన సంవత్సరాలను ఆధార సమయాలుగా ఎంచుకోకూడదు. ఎందుకనగా ఆ పరిస్థితులలో ధరలు, పరిమాణాలు, సామాజిక విషయాలు నిలకడ కోల్పోయి అవాస్తవికతను ప్రతిబింబిస్తాయి. కాబట్టి అటువంటి పరిస్థితులపై ఆధారపడి నిర్మించిన సూచీసంఖ్యలు అవాస్తవిక పరిస్థితులను సూచిస్తాయే కాని నిజమైన పరిస్థితిని తెలియజేయజాలవు. కానీ అన్ని విధాలా సామాన్యంగా వుండే సమయాన్ని ఆధార సమయంగా ఎంచుకోవడం ఎల్లప్పుడు సాధ్యపడదు. అటువంటి సందర్భాలలో కొన్ని సంవత్సరాల ధరల సగటును ఆధార సంవత్సర విలువగా పరిగణించి సూచీసంఖ్యలను నిర్మింపవచ్చు.

(బి) ఆధార సమయం అత్యంత దూరమైనది కాకూడదు. ఎందుకనగా సూచీసంఖ్యలు స్వల్పకాలిక నిర్ణయాలు తీసుకోవడంలోను, ప్రణాళికలు రూపొందించడంలో తోడ్పడతాయి కాబట్టి ఆధార సమయం వీలైనంత దగ్గరగా వుండాలి. ఉదాహరణకు 2000 సం॥లో వినియోగదారుల సూచీ సంఖ్య నిర్మించేటప్పుడు 1970వ సంవత్సరాన్ని ఆధార సమయంగా ఎన్నుకొనుట సమంజసం కాదు.

5. **ఉపయోగించవలసిన 'సగటు'ను నిర్ణయించుట :** సూచీసంఖ్య నిర్మాణంలో అంకమధ్యమం, మధ్యగతము మరియు గుణమధ్యమం మొదలగు సగటులను ఉపయోగిస్తారు. కానీ వేర్వేరు సగటులకు వేర్వేరు ప్రయోజనాలు మరియు పరిమితులుంటాయి. కాబట్టి సూచీసంఖ్య నిర్మాణ ఉద్దేశాన్ని దృష్టిలో వుంచుకొని తదనుగుణమైన సగటును ఉపయోగించుట వలన సరైన ప్రయోజనం పొందవచ్చు.

**సంకేతాలు (Notations) :** సూచీసంఖ్యల నిర్మాణంలో కొన్ని సంకేతాలను ఉపయోగిస్తారు. అవి :

1. వర్తమాన సంవత్సరాన్ని లేదా సమయాన్ని (Current Year) 'I' తో సూచిస్తారు.
2. ఆధార సంవత్సరాన్ని లేదా సమయాన్ని (Base Year) 'O' తో సూచిస్తారు.
3. ఆధార సంవత్సరాన్ని లేదా సమయంలోని ధరను  $P_0$  చే మరియు వర్తమాన సమయంలో ధరను  $P_1$  చే సూచిస్తారు.
4. ఆధార సమయంలోని పరిమాణాన్ని  $q_0$  చే మరియు వర్తమాన సమయంలో పరిమాణాన్ని  $q_1$  చే సూచిస్తారు.
5. ఆధార సమయంలోని వస్తువుల ధరల మొత్తాన్ని  $\Sigma p_0$  చేతనూ, వర్తమాన సమయంలో వస్తువుల ధరల మొత్తాన్ని  $\Sigma p_1$  చేత సూచిస్తారు.
6. వర్తమాన సంవత్సర ధరల సూచీసంఖ్యను  $P_{01}$  చేతనూ, వర్తమాన సంవత్సర పరిమాణ సూచీసంఖ్యను  $Q_{01}$  చేతనూ, వర్తమాన సంవత్సర విలువల సూచీసంఖ్యను  $V_{01}$  చేత సూచిస్తారు.

**ఆధార సమయాన్ని ఎంపిక పద్ధతులు :** సూచీసంఖ్యల నిర్మాణంలో ఆధార సమయం ఎన్నిక చాలా ముఖ్యమైనది. ఎన్నిక చేయబడిన ఆధార సమయం ఏ విధమైన వైపరీత్యాలకు లోను కానిదై వుండాలి. ధరల సూచీసంఖ్య నిర్మిస్తున్నప్పుడు యుద్ధాలు, కరువు, భూకంపాలు, వరదలు లేక ఆర్థిక మాంద్యం మొదలగు వైపరీత్యాలు కలిగిన సమయాన్ని ఆధార సమయంగా ఎంచుకుంటే ఆ వైపరీత్యాల ప్రభావం ధరలపైపెడి సూచీసంఖ్య వాస్తవానికి దూరమై నిరుపయోగమవుతుంది. కావన 'ఆధారంగా' ఎంపిక చేసే సమయం అన్ని విషయాలలోనూ ఏ విధమైన ఒడుదుడుకులు లేని సామాన్య సమయం అయి వుండాలి.

ఆధార సమయాన్ని మూడు విధాలుగా ఎంపిక చేయవచ్చు. అవి : 1. స్థిర ఆధార పద్ధతి (Fixed Base Method), 2. లింక్ ఆధార పద్ధతి (Link Base Method) 3. గొలుసు ఆధార పద్ధతి (Chain Base Method), 4. సగటు ఆధార పద్ధతి (Average Base Method)

1. స్థిర ఆధార పద్ధతి (Fixed Base Method) : ఈ పద్ధతిలో ఆధార సమయం స్థిరంగా వుంటుంది. అనగా నిర్ణయించబడిన ఆధార సమయాన్ని మార్చకుండా సూచీ సంఖ్యలను నిర్మిస్తారు. ఈ పద్ధతిలో వర్తమాన సమయంలోని విలువను, ఆధార సమయంలో విలువచే భాగించగా వచ్చిన మొత్తాన్ని నూరుచే గుణించి సూచీని కనుక్కొంటాము. అనగా

$$\text{స్థిర ఆధార ధరల సూచీ సంఖ్య} = \frac{\text{వర్తమాన సమయంలో ధర}}{\text{స్థిర ఆధార సమయంలో ధర}} \times 100 = \frac{P_1}{P_0} \times 100$$

$$\text{అట్టే స్థిర ఆధార వరిమాణ సూచీ సంఖ్య} = \frac{\text{వర్తమాన సమయంలో వరిమాణం}}{\text{స్థిర ఆధార సమయంలో వరిమాణం}} \times 100 = \frac{Q_1}{Q_0} \times 100$$

2. లింక్ ఆధార పద్ధతి (Link Based Method) : ఒక వస్తువు యొక్క ధరలో వచ్చిన మార్పులను ఏడాది, ఏడాదికి పోల్చి చూడాలనుకున్నప్పుడు సూచీ సంఖ్యలను గొలుసు ఆధార పద్ధతిలో నిర్మిస్తారు. ఈ పద్ధతిలో ఆధార సమయం స్థిరంగా వుండదు. ఈ పద్ధతిలో ప్రతి సంవత్సరం ఆ తరువాత వచ్చే సంవత్సరానికి ఆధార సమయం అవుతుంది. ఉదాహరణకు 1995 సంవత్సరానికి 1994 సంవత్సరం ఆధార సమయం అవుతుంది. అదే విధంగా 1996కు, 1995 ఆధార సమయం అవుతుంది. ఈ విధంగా ఒక సమయం స్థిర ఆధార సమయంగా వుండదు.

$$\text{లింక్ ధర సూచీ} = \frac{\text{వర్తమాన సంవత్సర ధర}}{\text{గత సంవత్సర ధర}} \times 100 = \frac{P_1}{P_0} \times 100$$

$$P_1 = \text{వర్తమాన సంవత్సర ధర}, P_0 = \text{గత సంవత్సర ధర}$$

3. గొలుసు పద్ధతి (Chain Base Method) : ఈ పద్ధతిలో ప్రతి సంవత్సరం అంకెలను గత సంవత్సరం విలువతో శాతంగా మొదట చూపాలి. ఈ గత సంవత్సరం శాతాన్ని తరువాత సంవత్సరాలను నిర్మించే సూచీతో గుణిస్తూ పోతే గొలుసు సూచీ ఏర్పడుతుంది. ఈ పద్ధతిలో ప్రతి సంవత్సరము ఆధార, వర్తమాన సంవత్సరాలు మారుతూ వుంటాయి.

$$\text{గొలుసు సూచీ} = \frac{\text{గత సంవత్సరం గొలుసు} \times \text{వర్తమాన సంవత్సరం లింక్}}{100} \quad \text{లేదా}$$

$$\text{గత సంవత్సరం గొలుసు} \times \frac{\text{వర్తమాన సంవత్సరం ధర}}{\text{గత సంవత్సరం ధర}}$$

4. సగటు ఆధార పద్ధతి (Average Base Method) : ఈ పద్ధతిలో యివ్వబడిన అన్ని సంవత్సరాలలో 'ధరల సగటు'ను ఆధార సమయంలోని ధరగా తీసుకుంటారు. ఈ విధంగా చేయుట వల్ల ఏదైనా ఒక సంవత్సరంలో ప్రకృతి వైపరీత్యాలు వున్నా వాటి ప్రభావం తగ్గించబడుతుంది.

$$\text{సగటు ఆధార సూచీ} = \frac{\text{వర్తమాన సంవత్సరం ధర}}{\text{అన్ని సంవత్సరాల సగటు ధర}} \times 100$$

ఈ వివిధ సాపేక్షకాలను కనుగొనే విధానాన్ని సరళ లేదా వ్యక్తిగత అంశాల సూచీ నిర్మాణం నందు ఉదాహరణలతో వివరించటం జరిగింది.

## 12.5 సరళ లేదా సాధారణ లేదా వ్యక్తిగత అంశాల సూచీ సంఖ్యల నిర్మాణం (Construction of Simple Index Numbers)

ఒకే ఒక వస్తువుకు సంబంధించిన ధరలు, పరిమాణం మొదలగు దత్తాంశం ఆధారంగా నిర్మించబడే సూచీసంఖ్యలను సరళసూచీ సంఖ్యలంటారు. ధరల సూచీ సంఖ్యలు ఎక్కువగా వాడుకలో వుంటాయి. కాబట్టి ఈ పాఠంలో ధరల సూచీసంఖ్యలకు ప్రాముఖ్యతనిచ్చి వాటి నిర్మాణం విపులంగా వివరించబడ్డాయి.

**12.5.1 స్థిర ఆధార పద్ధతిలో సరళసూచీ సంఖ్యలను నిర్మించుట :** ఆధార సమయాన్ని నాలుగు విధాలుగా ఎన్నుకోవచ్చని యింతకుముందే తెలుసుకున్నాం. వాటిలో స్థిర ఆధార పద్ధతి ఒకటి. దిగువ దత్తాంశంలో బియ్యం ధరలు ఒక క్వింటాకి రూపాయలు 1995 నుంచి 2000 సం॥రము వరకు యివ్వబడ్డాయి. 1995 సంవత్సరాన్ని ఆధార సమయం లేక ఆధార సంవత్సరంగా పరిగణిస్తూ సరళ సూచీ సంఖ్యలు ఎలా నిర్మించాలో తెలుసుకుందాం.

ఒక వస్తువు యొక్క సరళ సూచీ సంఖ్యను వర్తమాన సంవత్సరంలో ఆ వస్తువు ధరను, ఆధార సంవత్సరంలోని ధరచే భాగించి, 100చే గుణించుట ద్వారా కనుగొనవచ్చు.

సంకేతాలలో ఆధార సంవత్సరంలో ధర :  $P_0$ , వర్తమాన సంవత్సరంలో ధర :  $P_1$

$$\text{అయితే సరళ ధర సూచీసంఖ్య } P_{01} = \frac{\text{వర్తమాన సంవత్సరంలో ధర}}{\text{ఆధార సంవత్సరంలో ధర}} \times 100 = \frac{P_0}{P_1} \times 100$$

సంవత్సరం	బియ్యం ధర (రూ॥లలో)	స్థిర ఆధార సాపేక్ష ధరలు
1995	500	$\frac{500}{500} \times 100 = 100.00$
1996	480	$\frac{480}{500} \times 100 = 96.00$
1997	610	$\frac{610}{500} \times 100 = 112.00$
1998	550	$\frac{550}{500} \times 100 = 110.00$
1999	650	$\frac{650}{500} \times 100 = 130.00$
2000	740	$\frac{740}{500} \times 100 = 148$

ఈ సూత్రాన్ని ఉపయోగించి సూచీ సంఖ్యలు ఈ కింది విధంగా లెక్కించవచ్చు.

$$1995 \text{ సం॥నికి ధరల సూచీ సంఖ్య} = \frac{500}{500} \times 100$$

(యొక్కడ వర్తమాన కాలంలో ధర కూడా రూ॥ 500లు అయినది)



$$1996 \text{ సం॥నికి ధరల సూచీ సంఖ్య} = \frac{P_1}{P_0} \times 100$$

$$= \frac{480}{500} \times 100 = 96$$

$$1997 \text{ సం॥నికి ధరల సూచీ సంఖ్య} = \frac{P_1}{P_0} \times 100$$

$$= \frac{610}{500} \times 100 = 112$$

మిగిలిన సం॥లకు లెక్కించిన ధరల సూచీ సంఖ్యలు పై పట్టికలో చూపబడినది.

పై ఉదాహరణ నుండి 1995వ సం॥ నుండి 1996 సం॥నికి బియ్యం ధర 1 క్వీంటాకి 4 శాతం తగ్గినట్లు, 1995 నుండి 1997కు 12%, 1998కి 10 శాతం, 1999కి 30 శాతం, 2000కి 148 శాతం పెరిగినట్లు గమనించవచ్చు.

**12.5.2 లింక్ ఆధార పద్ధతిలో సరళ సూచీ సంఖ్యలను నిర్మించుట :** లింక్ ఆధార పద్ధతిలో సూచీ సంఖ్యలు నిర్మించుట వలన వర్తమాన సం॥నికి, గడచిన సం॥రానికి మధ్య వచ్చిన తేడాను తెలుసుకోవచ్చు. స్థిర ఆధార పద్ధతిలో ఈ విధమైన తేడాను కనుగొనుట వీలుపడదు. ఆధార సంవత్సరం వర్తమాన సంవత్సరానికి దూరంగా వుంటే స్థిర ఆధార పద్ధతిలో నిర్మించిన సూచీ సంఖ్య నిరుపయోగం అవుతుంది. లింక్ ఆధార పద్ధతి స్థిర ఆధార పద్ధతిలోని ఈ విధమైన లోపాలను అధిగమిస్తుంది. ఈ పద్ధతిలో నిర్మించిన సూచీ సంఖ్యలను లింక్ సూచీ సంఖ్యలంటారు (Link Index Number).

ఈ పద్ధతిలో సరళ ధరల సూచీ సంఖ్యను వర్తమాన కాలం ధరల సాపేక్షకాన్ని, గడచిన సంవత్సర గౌలుసు సూచీ సంఖ్యచే గుణించి వచ్చిన లబ్ధాన్ని 100చే భాగించి లెక్కిస్తారు.

$$\text{లింక్ ధరల సూచీ సంఖ్య} = \frac{\text{వర్తమాన సంవత్సర ధర}}{\text{గత సంవత్సరం ధర}} \times 100$$

**12.5.3 గౌలుసు సూచీ :** ఈ పద్ధతిలో ప్రతి సంవత్సరం అంకెలను గత సంవత్సర విలువతో శాతంగా మొదట చూపాలి. ఈ గత సంవత్సర శాతాన్ని తరువాత సంవత్సరాలను నిర్మించే సూచీతో గుణిస్తూ పోతే గౌలుసు సూచీ ఏర్పడుతుంది. ఈ పద్ధతిలో ప్రతి సంవత్సరము ఆధార, వర్తమాన సంవత్సరాలు మారుతూ వుంటాయి.

$$\text{గౌలుసు సూచీ} = \frac{\text{గత సంవత్సరం గౌలుసు సూచీ} \times \text{వర్తమాన సంవత్సరం లింక్ సూచీ}}{100} \quad \text{లేదా}$$

$$= \text{గత సంవత్సరం గౌలుసు} \times \frac{\text{వర్తమాన సంవత్సరం ధర}}{\text{గత సంవత్సరం ధర}}$$

ఉదాహరణకు ఈ దిగువ దత్తాంశానికి గౌలుసు సూచీ సంఖ్యలు ఎలా నిర్మించాలో చూద్దాం.

సం॥రం	బియ్యం ధర రూ॥లో (1 క్వీంటా)	లింక్ సూచీ	గౌలుసు ధరల సూచీ సంఖ్య
1995	500	$\frac{500}{500} \times 100 = 100$	100

1996	480	$\frac{480}{500} \times 100 = 96$	$\frac{96 \times 100}{100} = 96$
1997	610	$\frac{610}{480} \times 100 = 127.08$	$\frac{127.08 \times 96}{100} = 121.99$
1998	550	$\frac{550}{610} \times 100 = 90.16$	$\frac{90.16 \times 121.99}{100} = 109.99$
1999	650	$\frac{650}{550} \times 100 = 118.18$	$\frac{118.18 \times 109.99}{100} = 129.99$
2000	740	$\frac{740}{650} \times 100 = 113.85$	$\frac{113.85 \times 129.99}{100} = 147.99$

**12.5.4** సగటు ఆధార పద్ధతిలో సరళ సూచీ సంఖ్య నిర్మించుట : ఈ పద్ధతి నుపయోగించి సరళ ధరల సూచీ సంఖ్య ఎలా నిర్మించాలో తెలుసుకుందాం. ఈ పద్ధతిలో యివ్వబడిన అన్ని సంవత్సరాలలోని ధరల సగటు విలువను ఆధార సంవత్సరంగా భావిస్తాము. ఉదాహరణకు పైన యివ్వబడిన దత్తాంశానికి సగటు ఆధార పద్ధతిలో సూచీ సంఖ్యను నిర్మించే విధానం చూడండి.

సంవత్సరం	వస్తువు ధర రూ॥లో	సగటు ధర రూ॥లో	సూచీ సంఖ్యలు
1995	500		$\frac{500}{588.3} \times 100 = 84.99$
1996	480		$\frac{480}{588.3} \times 100 = 81.59$
1997	610		$\frac{610}{588.3} \times 100 = 103.69$
1998	550		$\frac{550}{588.3} \times 100 = 93.49$
1999	650		$\frac{650}{588.3} \times 100 = 110.48$
2000	740		$\frac{740}{588.3} \times 100 = 125.79$

## 12.6 సంయుక్త లేదా సమిష్టి సూచీ సంఖ్యల నిర్మాణ పద్ధతులు

### (Methods of Constructing Complex Index Number)

కొన్ని వస్తువుల సముదాయం యొక్క దత్తాంశము పై ఆధారపడి నిర్మించే సూచీ సంఖ్యలను సంయుక్త లేదా సమిష్టి సూచీ సంఖ్యలు అంటారు. ఒక్కొక్కసారి కొన్ని వస్తు సముదాయాన్ని పరిగణనలోకి తీసుకుంటూ, వాటి సముదాయానికి ధరల పరిమాణం

లేక విలువల సూచీ సంఖ్యలు నిర్మించాల్సిన అవసరం ఏర్పడుతుంది. ఉదాహరణకు వినియోగదారుల సూచీ సంఖ్య. దీని నిర్మాణంలో తత్సంబంధిత వినియోగదారుడు ఉపయోగించే అన్ని వస్తువులు ధరలు, పరిమాణాలు పరిగణలోకి తీసుకుని సూచీ సంఖ్యను నిర్మించాల్సి వస్తుంది. ఈ భాగంలో ఆ రకమైన సంయుక్త సూచీ సంఖ్యల నిర్మాణ పద్ధతులు గూర్చి తెలుసుకుందాం.

సంయుక్త సూచీ సంఖ్యలను రెండు రకాలుగా విభజించవచ్చు. అవి -

1. భారరహిత సూచీ సంఖ్యలు (Un - Weighted Index Numbers)
2. భారిత సూచీ సంఖ్యలు (Weighted Index Numbers)

1. భారరహిత సూచీ సంఖ్యలు (Un - Weighted Index Numbers): భారరహిత సూచీ సంఖ్యలను రెండు విధాలుగా నిర్మించవచ్చు. అవి ఏవనగా -

ఎ. సామాన్య లేదా సరళ సమిష్టి పద్ధతి (Simple Aggregate Method)

బి. సాపేక్షకాల సగటు పద్ధతి (Average Price Relatives Method)

ఎ. సామాన్య లేదా సరళ సమిష్టి పద్ధతి: భారరహిత సూచీ సంఖ్యలు నిర్మించటానికి యిది అతి తేలికైన పద్ధతి. వస్తు సముదాయం యొక్క వర్తమాన సం॥లోని ధరల మొత్తాన్ని ( $\sum p_1$ ) , ఆధార సం॥ ధరల మొత్తం ( $\sum p_0$ ) చే భాగించగా వచ్చిన ఫలితాన్ని 100 చే గుణించి లెక్కించినట్లయితే సామాన్య లేదా సరళ సమిష్టి పద్ధతి ద్వారా ధర సూచీ లభ్యమవుతుంది.

సంకేతాలలో -

$$\sum p_1 = \text{వర్తమాన సం॥లో వస్తువుల ధరల మొత్తం}$$

$$\sum p_0 = \text{ఆధార సం॥లో వస్తువుల ధరల మొత్తాన్ని}$$

$$P_{01} = \text{సరళ సమిష్టి పద్ధతి ద్వారా ధర సూచీ సంఖ్య}$$

$$P_{01} = \frac{\sum p_1}{\sum p_0} \times 100$$

అనగా ఈ పద్ధతిలో వర్తమాన సం॥లో ధరల సూచీ సంఖ్యను వస్తువుల వర్తమాన ధరల మొత్తాన్ని ఆధార సం॥లో ధరల మొత్తానికి శాతంగా చూపిస్తారు.

ఒక ఉదాహరణ ద్వారా 1995 సం॥ ఆధార సం॥గా భారరహిత ధరల సూచీ సంఖ్యను ఎలా నిర్మించాలో తెలుసుకుందాం.

వస్తు సముదాయం	ధరలు రూపాయలలో	
	1995లో ధరలు ( $p_0$ )	2000లో ధరలు ( $p_1$ )
బియ్యం	400	510
గోధుమలు	300	420
పంచదార	600	710
బంగాళా దుంప	100	150
కందిపప్పు	250	400
<b>మొత్తం</b>	<b>1650 (<math>\sum p_0</math>)</b>	<b>2190 (<math>\sum p_1</math>)</b>

1995 సం॥రం ఆధార సంవత్సరంగా తీసుకుంటే

$$\text{ఆధార సం॥లో వస్తువుల ధరల మొత్తం} = \sum p_0 = 1650$$

$$\text{వర్తమాన సం॥రం 2000లో వస్తువుల ధరల మొత్తం} = \sum p_1 = 2190$$

$$\text{2000 సం॥రానికి ధరల సూచీ సంఖ్య} = P_{01} = \frac{\sum p_1}{\sum p_0} \times 100$$

$$\begin{aligned} \text{పై సూత్రంలో విలువలు ప్రతిక్షేపించగా } P_{01} &= \frac{2190}{1650} \times 100 \\ &= 132.73 \end{aligned}$$

బి. సాపేక్షకాల సగటు పద్ధతి (Average Price Relatives Method) : ఈ పద్ధతిలో భారరహిత ధరల సూచీ సంఖ్యను కనుగొనేందుకు మొదట వస్తువుల ధరల సాపేక్షకాలు కనుగొని ఆ తరువాత వాటి సగటును కనుగొనుట ద్వారా నిర్మిస్తారు. సగటు అనగా అది కేంద్ర స్థానపు కొలతలలో ఏదైనా కావచ్చు. కానీ ఎక్కువగా అంకమధ్యమం గాని, గుణ మధ్యమం గాని లేక హర మధ్యమం గాని వాడుతుంటారు.

అంకమధ్యమం ద్వారా

అంకమధ్యమాన్ని సగటుగా ఉపయోగించి ధరల సూచీ సంఖ్యను ధరల సాపేక్షకాల మొత్తాని వస్తువుల మొత్తం సంఖ్యచే భాగించి కనుగొనవచ్చు. దీనినే సంకేతాలలో క్రింది విధంగా వ్రాయవచ్చు.

$$\frac{P_1}{P_0} \times 100 = \text{ధర సాపేక్షికం}$$

$$\text{ధరల సాపేక్షకాల మొత్తం} = \sum \frac{P_1}{P_0} \times 100, \text{ వస్తువుల మొత్తం సంఖ్య} = N \text{ అయితే}$$

$$\text{ధరల సూచీ సంఖ్య} = P_{01} = \frac{\sum \frac{P_1}{P_0} \times 100}{N}$$

దిగువ దత్తాంశానికి సాపేక్షకాల సగటు పద్ధతిని అంకమధ్యమాని ఉపయోగిస్తూ ధరల సూచీ సంఖ్య ఏ విధంగా నిర్మించాలో తెలుసుకుందాం.

వస్తువుల సముదాయం	1995లో ధరలు	2000లో ధరలు
బియ్యం	120	200
పప్పులు	70	95
కూరగాయలు	50	70
పంచదార	60	110
కిరసనాయిలు	20	40

అంకమధ్యమాన్వపయోగించి 1995 సం॥ ఆధార సంవత్సరంగా ధరల సూచీ సంఖ్య కనుగొనుట.

వస్తు సముదాయం	1995లో (ఆధా॥ సం॥)	2000 సం॥లో	ధరల సాపేక్షకాలు
	ధరలు (P <sub>0</sub> )	ధరలు (P <sub>1</sub> )	$\frac{P_1}{P_0} \times 100$
బియ్యం	120	200	$\frac{200}{120} \times 100 = 166.67$
పప్పులు	70	95	$\frac{95}{70} \times 100 = 135.71$
కూరగాయలు	50	70	$\frac{70}{50} \times 100 = 140.00$
పంచదార	60	110	$\frac{110}{60} \times 100 = 183.33$
కిరసనాయిలు	20	40	$\frac{40}{20} \times 100 = 200.00$
N = 5			$\Sigma \frac{P_1}{P_0} \times 100 = 825.71$

$$\text{ధరల సూచీ సంఖ్య} = P_{01} = \frac{\sum \frac{P_1}{P_0} \times 100}{N} = \frac{825.71}{5} = 165.14$$

గుణమధ్యమం ద్వారా

సాపేక్షకాలు సగటు పద్ధతిలో సగటుగా గుణ మధ్యమాన్ని ఉపయోగించిన యెడల ధరల సూచీ సంఖ్య సూత్రం క్రింది విధంగా వుంటుంది.

$$\log P_{01} = \frac{\sum \log \left( \frac{P_1}{P_0} \times 100 \right)}{N}$$

లేక

$$P_{01} = \text{Anti log of} \left[ \frac{\sum \log \left( \frac{P_1}{P_0} \times 100 \right)}{N} \right]$$

ఉదాహరణకు ఈ దిగువ ఇచ్చిన దత్తాంశానికి సాపేక్షకాల సగటు పద్ధతిలో గుణ మధ్యమాన్ని ఉపయోగించి ధరల సూచీ సంఖ్య ఎలా లెక్కించాలో తెలుసుకుందాము.

వస్తు సముదాయం	1995లో	2000లో	ధరల సాపేక్షకాలు $\left(\frac{P_1}{P_0} \times 100\right)$	సాపేక్షకాల సంవర్గమానాలు
	ధరలు రూ॥ (p <sub>0</sub> )	ధరలు రూ॥లో (p <sub>1</sub> )	(1995 ఆధార సం॥గా)	విలువ
A	400	620	$\frac{620}{400} \times 100 = 155$	2.1903
B	200	280	$\frac{280}{200} \times 100 = 140$	2.1461
C	150	275	$\frac{275}{150} \times 100 = 183.33$	2.2632
D	300	430	$\frac{430}{300} \times 100 = 143.33$	2.1562
E	100	140	$\frac{140}{100} \times 100 = 140$	2.1461
N = 5				$\Sigma \log \frac{P_1}{P_0} \times 100 = 10.9019$

$$\begin{aligned} \text{ధరల సూచీ సంఖ్య} &= P_{01} = \text{Anti log} \left[ \frac{\sum \log \frac{P_1}{P_0} \times 100}{N} \right] = \text{Anti log of} \left[ \frac{10.9019}{5} \right] \\ &= \text{Anti log of} [2.18038] \\ &= 151.5 \end{aligned}$$

ఈ పద్ధతిలో అంకమధ్యమం సగటుగా ఉపయోగించి నిర్మించే సూచీ సంఖ్య కన్నా గుణ మధ్యమం సగటుగా ఉపయోగించి నిర్మించే సూచీ సంఖ్య మెరుగైనది. ఎందుకనగా అంకమధ్యమంలో అతి తక్కువ లేక అతి ఎక్కువ విలువల ప్రభావం ఉంటుంది. కాని గుణ మధ్యమంలో ఆ విలువల ప్రభావం శూన్యం.

**2. భారిత సూచీ సంఖ్యలు (Weighted - Index Numbers):** పైన వివరించిన సూచీ సంఖ్యల నిర్మాణంలో వస్తు సముదాయంలోని వస్తువులన్నింటికి సమానమైన ప్రాధాన్యత యివ్వబడింది. సూచీ సంఖ్య నిజమైన ప్రయోగకారిగా ఉండాలంటే దత్తాంశంలోని ప్రతి వస్తువుకు దాని ప్రాముఖ్యతను బట్టి ప్రాధాన్యత నివ్వవలసి ఉంటుంది. భారిత సూచీ సంఖ్యల నిర్మాణంలో వస్తు సముదాయంలోని వివిధ వస్తువులకు వాటి వాటి ప్రాముఖ్యతనుసరించి భారాలు యిస్తారు. భారిత సూచీ సంఖ్యలను రెండు విధాలుగా నిర్మించవచ్చు.

ఎ. భారిత సమిష్టి పద్ధతి (Weighted Aggregate Method)

బి. భారిత సాపేక్షకాల సగటు పద్ధతి (Weighted Average of Price Relatives Method)

ఎ. భారిత సమిష్టి పద్ధతి : సామాన్య సమిష్టి పద్ధతిలో నిర్మించిన సూచీ సంఖ్యలకు భారాలను ఆపాదిస్తే అవి భారిత సమిష్టి పద్ధతిలో నిర్మించిన సూచీ సంఖ్యలౌతాయి. వస్తువులకు భారాలను వివిధ రకాలుగా ఆపాదించవచ్చు. భారాలు ఆపాదించే విధానాన్ని బట్టి భారిత సూచీ సంఖ్యల నిర్మాణంలో చాలా పద్ధతులున్నాయి. అవి -

- i. లాస్పియర్ పద్ధతి (Laspeyres's Method)
- ii. పాషే పద్ధతి (Paasche's Method)
- iii. బౌలీ పద్ధతి (Bowley's Method)
- iv. మార్షల్ - ఎడ్జ్వర్థ్ పద్ధతి (Marshall - Edgeworth's Method)
- v. ఫిషర్ ఆదర్శ పద్ధతి (Fisher's Ideal Method)
- vi. కెల్లీ పద్ధతి (Kelly's Method)
- vii. వాల్ష్ పద్ధతి (Ealsh's Method)

i. లాస్పియర్ పద్ధతి(Laspeyres's Method) : ఈ పద్ధతిని లాస్పియర్ అనే జర్మనీ దేశ ఆర్థిక శాస్త్రవేత్త రూపొందించాడు. ఈ పద్ధతిలో ధర సూచీని నిర్మించేందుకు ఆధార సం॥లో వస్తువుల పరిమాణాలను భారాలుగా పరిగణిస్తారు. ఈ పద్ధతినుపయోగించి నిర్మించిన సూచీ సంఖ్యను లాస్పియర్ సూచీ సంఖ్య అని అంటారు. ఈ పద్ధతిలో వర్తమాన సంవత్సరంలోని వస్తువుల ధరలను ఆధార సంవత్సర పరిమాణాలచే గుణించగా వచ్చిన లబ్ధాల మొత్తాన్ని ( $\sum p_1q_0$ ) ఆధార సంవత్సర వస్తువుల ధరలను ఆధార సం॥ర పరిమాణాలచే గుణించగా వచ్చిన లబ్ధాల మొత్తంచే ( $\sum p_0q_0$ ) భాగించి, వచ్చిన ఫలితాన్ని 100 చే గుణించి ధర సూచీ కనుగొంటారు. దీనినే సంకేతాలలో కింది విధంగా వ్రాయవచ్చు.

$$\text{లాస్పియర్ ధరల సూచీ సంఖ్య} = P_{01}^L = \frac{\sum p_1q_0}{\sum p_0q_0} \times 100$$

$$P_{01}^L = \text{లాస్పియర్ ధర సూచీసంఖ్య}$$

$$\sum p_1q_0 = \text{వర్తమాన కాలంలో ధరలను ఆధార సం॥లో పరిమాణాలచే గుణించగా వచ్చిన లబ్ధాల మొత్తము.}$$

$$\sum p_0q_0 = \text{ఆధార సం॥లోని ధరలను ఆధార సం॥లోని పరిమాణాలచే గుణించగా వచ్చిన లబ్ధాల మొత్తము}$$

ఈ పద్ధతి చాలా తేలికైనది మరియు అధికంగా ఆచరించబడుతుంది. ఎందుకనగా ఈ పద్ధతిలో భారాలు స్థిరంగా వుంటాయి.

ii. పాషే పద్ధతి (Paasche's Method) : పాషేఅనే జర్మనీ సాంఖ్యిక శాస్త్రజ్ఞుడు ఈ పద్ధతిని ప్రవేశపెట్టాడు. ఈ పద్ధతిలో ధర సూచీని నిర్మించేందుకు వర్తమాన కాలంలో పరిమాణాలను భారాలుగా తీసుకుంటారు. ఈ విధంగా నిర్మించిన సూచీ సంఖ్యను పాషే సూచీ సంఖ్య అని అంటారు. వర్తమాన కాలంలోని ధరలను వర్తమాన కాలంలోని పరిమాణాలచే గుణించగా వచ్చిన లబ్ధాల మొత్తాన్ని ( $\sum p_1q_1$ ), ఆధార సం॥లోని ధరలను వర్తమాన కాలంలోని పరిమాణాలచే గుణించగా వచ్చిన లబ్ధాల మొత్తం ( $\sum p_0q_1$ ) చే భాగించగా వచ్చిన దానిని 100చే గుణించి కనుగొంటారు. దీనినే సంకేతాలలో

$$\text{పాషే ధరల సూచీ సంఖ్య} = P_{01}^{\text{P}} = \frac{\sum p_1 q_1}{\sum p_0 q_1} \times 100$$

ఇక్కడ,  $P_{01}^{\text{P}}$  = పాషే ధర సూచీ సంఖ్య

$\sum p_1 q_1$  = వర్తమాన కాలంలోని ధరలను వర్తమాన కాలంలోని పరిమాణాలచే గుణించగా వచ్చిన లబ్ధాల మొత్తం.

$\sum p_0 q_1$  = ఆధార సం॥లో ధరలను వర్తమాన కాలం పరిమాణాలచే గుణించగా వచ్చిన లబ్ధాల మొత్తం.

లాస్పియర్ సూచీ సంఖ్య కన్నా పాషే సూచీ సంఖ్య నిర్మాణం కొంచెం కష్టతరమైనది. ఎందుకనగా పాషే సూచీ సంఖ్య నిర్మాణంలో వర్తమాన కాలంలోని పరిమాణాలు అవసరమౌతాయి. యివి స్థిరంగా ఉండవు. ప్రతి సంవత్సరం మారుతూ వుంటాయి. కొన్ని సందర్భాలలో వీటి సేకరణ కష్టమౌతుంది.

లాస్పియర్ మరియు పాషే సూచీ సంఖ్యల పోలిక

1. లాస్పియర్ సూచీ సంఖ్య నిర్మాణం పాషే సూచీ సంఖ్య నిర్మాణం కన్నా తేలిక.
2. లాస్పియర్ సూచీ సంఖ్యలో ఆధార సమయంలోని పరిమాణాలు భారాలు ఉపయోగిస్తారు. కాని పాషే సూచీ సంఖ్యలో వర్తమాన కాలంలోని పరిమాణాలు భారాలుగా ఉపయోగిస్తారు.
3. లాస్పియర్ సూచీ సంఖ్య నిర్మాణంలో భారాలు స్థిరంగా వుంటాయి. పాషే సూచీ సంఖ్యలో భారాలు స్థిరంగా వుండవు.
4. ఆధార సం॥లోని పరిమాణాలు భారాలుగా తీసుకోవటం, వలన లాస్పియర్ సూచీ సంఖ్యలో వర్తమాన కాలంలోని ధరలకు సాపేక్షంగా ఎక్కువ ప్రాధాన్యత యిచ్చినట్లౌతుంది. అందువలన  $\sum p_1 q_0$  సాపేక్షికంగా ఎక్కువ విలువ కలిగి ఉంటుంది. అందువలన లాస్పియర్ సూచీ సంఖ్య ఊర్ధ్వ పాక్షికతను (upward - Baise) కలిగి ఉంటుంది.

అదే పాషే సూచీ సంఖ్య నిర్మాణంలో వర్తమాన కాలంలోని పరిమాణాలు భారాలుగా తీసుకోవటం వలన ఆధార సం॥లోని ధరలకు అధిక ప్రాధాన్యత నిచ్చినట్లే అవుతుంది. అందువలన  $\sum p_0 q_1$  విలువ పెరుగుతుంది. అందుచే పాషే సూచీ సంఖ్యను అధో:పాక్షికతను (downward - baise) కలిగి ఉంటుంది.

iii. బౌలీ పద్ధతి (Bowley's Method) : లాస్పియర్ సూచీ సంఖ్యలోని ఊర్ధ్వ పాక్షికతలను పాషే సూచీ సంఖ్యలోని అధో:పాక్షికతను సమం చేస్తూ దోర్బిమ్ బౌలీలు ఈ రెండు సూచీ సంఖ్యల అంకమధ్యమాన్ని సూచీ సంఖ్యగా ప్రతిపాదించారు. దీనినే డోర్బిమ్ - బౌలీ సూచీ సంఖ్య అంటారు.

లాస్పియర్ మరియు పాషే సూచీ సంఖ్యల అంకమధ్యమమే, బౌలీ సూచీ సంఖ్య అవుతుంది. అనగా, లాస్పియర్ మరియు పాషే సూచీ సంఖ్యల మొత్తాన్ని రెండు (2) చే భాగించగా బౌలీ సూచీ సంఖ్య వస్తుంది. సంకేతాలలో,

$$\begin{aligned} \text{బౌలీ ధరల సూచీ సంఖ్య} &= P_{01}^{\text{B}} = \frac{\text{లాస్పియర్ సూచీ సంఖ్య} + \text{పాషే సూచీ సంఖ్య}}{2} \\ &= \frac{P_{01}^{\text{L}} + P_{01}^{\text{P}}}{2} = \frac{\frac{\sum p_1 q_0}{\sum p_0 q_0} \times 100 + \frac{\sum p_1 q_1}{\sum p_0 q_1} \times 100}{2} \end{aligned}$$



$$\text{లేదా} = \frac{\frac{\sum p_1 q_0}{\sum p_0 q_0} + \frac{\sum p_1 q_1}{\sum p_0 q_1}}{2} \times 100$$

iv. మార్షల్ - ఎడ్జ్వర్త్ పద్ధతి (Marshall - Edgeworth Method): ఈ పద్ధతిలో వర్తమాన కాలం మరియు ఆధార సం॥లోని పరిమాణాల మొత్తం గాని లేక వాటి సగటును గానీ భారాలుగా పరిగణిస్తారు. ఈ విధంగా నిర్మించిన సూచీ సంఖ్యను మార్షల్ - ఎడ్జ్వర్త్ సూచీ సంఖ్య అని అంటారు. లాస్పియర్, పాషే ధర సూచీ సంఖ్యల లవాల మొత్తాన్ని  $(\sum p_1 q_0 + \sum p_1 q_1)$  హారాల మొత్తంతో  $(\sum p_0 q_0 + \sum p_0 q_1)$  భాగించి 100తో గుణిస్తే మార్షల్, ఎడ్జ్వర్త్ సూచీ లభ్యమవుతుంది లేదా వర్తమాన కాలం ధరలను, వర్తమాన కాలం మరియు ఆధార సం॥లోని పరిమాణాల మొత్తంచే గుణించగా వచ్చిన లబ్ధాలను మొత్తాన్ని  $[\sum p_1 (q_0 + p_1)]$  ఆధార సం॥లోని ధరలను, వర్తమాన కాలం మరియు ఆధార సం॥లోని పరిమాణాల మొత్తంచే గుణించగా వచ్చిన లబ్ధాల మొత్తంచే  $[\sum p_0 (q_0 + q_1)]$  భాగించి 100చే గుణిస్తే మార్షల్ - ఎడ్జ్వర్త్ ధరల సూచీ సంఖ్య వస్తుంది. దీనినే సంకేతాలలో

$$P_{01}^{\overline{M\&E}} = \frac{\sum p_1 (q_0 + q_1)}{\sum p_0 (q_0 + q_1)} \times 100$$

ఇక్కడ,  $\sum p_1 (q_0 + q_1)$  = వర్తమాన కాల ధరను మరియు వర్తమాన కాల, ఆధార సం॥ పరిమాణాల మొత్తాలతో గుణించగా వచ్చిన లబ్ధాల మొత్తం.

v. ఫిషర్ ఆదర్శ పద్ధతి (Fisher's Ideal Method): దీనిని ఫిషర్ అనే ప్రఖ్యాత సాంఖ్యిక శాస్త్రవేత్త ప్రతిపాదించాడు. లాస్పియర్ సూచీ సంఖ్యలోని ఊర్ధ్వ పాక్షితను, పాషే సూచీ సంఖ్యలోని అధః పాక్షితను సవరిస్తూ వాటి గుణమధ్యమాన్ని ఫిషర్ సూచీ సంఖ్యగా సూచించాడు. దీనినే ఫిషర్ ఆదర్శ సూచీ సంఖ్య అని కూడా అంటారు.

లాస్పియర్ మరియు పాషే సూచీ సంఖ్యల గుణ మధ్యమాన్ని లెక్కించి ఫిషర్స్ ఆదర్శ సూచీ సంఖ్యను కనుగొనవచ్చు. అనగా లాస్పియర్ మరియు పాషే సూచీ సంఖ్యలను గుణించగా వచ్చిన లబ్ధం యొక్క వర్గ మూలమే ఫిషర్ ఆదర్శ సూచీ సంఖ్య అవుతుంది.

సంకేతాలలో

$$P_{01}^{\overline{f}} = \sqrt{\text{లాస్పియర్ సూచీ సంఖ్య} \times \text{పాషే సూచీ సంఖ్య}} = \sqrt{P_{01}^{\overline{L}} \times P_{01}^{\overline{P}}} = \sqrt{\frac{\sum p_1 q_0}{\sum p_0 q_0} \times \frac{\sum p_1 q_1}{\sum p_0 q_1}} \times 100$$

$$P_{01}^{\overline{f}} = \text{ఫిషర్ ఆదర్శ సూచీ సంఖ్య}$$

ఒక సూచీ సంఖ్య ఆదర్శమైనదా? కాదా? అని తెలుసుకోటానికి ఫిషర్ మూడి విపర్యయ పరీక్షలు (Reversal Tests) ప్రతిపాదించాడు. ఆ పరీక్షలలో మిగిలిన సూచీ సంఖ్యల కన్నా ఫిషర్ పద్ధతిలో నిర్మించిన సూచీ సంఖ్య ఎక్కువ పరీక్షలను సంతృప్తి పరుస్తుంది. కావున ఫిషర్ సూచీ సంఖ్యను ఆదర్శ సూచీ సంఖ్య అని అంటారు.

vi. కెల్లీ పద్ధతి (Kelly's Method): ఈ శాస్త్రవేత్త భారాలు అన్ని సం॥లకు స్థిరంగా వుండాలే కాని నిర్దిష్టంగా ఆధార సం॥లో పరిమాణాలు గాని లేక వర్తమాన కాలంలో పరిమాణాలు గాని కావాల్సిన అవసరం లేదని ప్రతిపాదించాడు. ఇతడు ఆధార, వర్తమాన

సంవత్సర పరిమాణాల అంకమధ్యమాన్ని భారాలుగా తీసుకుంటాడు. అంతేకాక రెండు లేక మూడు సం॥రాల పరిమాణాల అంకమధ్యమాన్ని భారాలుగా ఉపయోగించవచ్చునని తెలిపాడు. ఈ పద్ధతి ద్వారా నిర్మించిన సూచీ సంఖ్యను స్థిర భార సమిష్టి సూచీ సంఖ్యని అంటారు. వర్తమాన సంవత్సర ధరలను భారాలతో  $\left(\frac{q_0 + q_1}{2}\right)$  గుణించగా వచ్చిన లబ్ధాల మొత్తాన్ని ఆధార సంవత్సర ధరలను భారాలతో గుణించగా వచ్చిన లబ్ధాల మొత్తంతో భాగించి 100తో గుణిస్తే కెల్లీ ధర సూచీ లభ్యమవుతుంది.

$$\text{సూత్రం } P_{01}^{\boxed{K}} = \frac{\sum P_1 q}{\sum P_0 q} \times 100$$

$$q : \text{రెండు సం॥రాల పరిమాణాల అంకమధ్యమం} = \frac{q_0 + q_1}{2}$$

**vii. వాల్ష్ పద్ధతి (Walsh Method):** ఈ పద్ధతిలో వర్తమాన కాలం మరియు ఆధార సం॥లోని పరిమాణాల గుణ మధ్యమాన్ని భారాలు పరిగణించాలని వాల్ష్ శాస్త్రజ్ఞుడు ప్రతిపాదించాడు. ఈ పద్ధతి ప్రకారం నిర్మించిన సూచీ సంఖ్యను వాల్ష్ సూచీ సంఖ్య అంటారు.

వర్తమాన కాల మరియు ఆధార సం॥లో పరిమాణాల గుణ మాధ్యమాన్ని, వర్తమాన కాల ధరలచే గుణించగా వచ్చిన లబ్ధాల మొత్తాన్ని, అదే గుణ మధ్యమాన్ని ఆధార సం॥లో ధరలచే గుణించి వచ్చిన లబ్ధాల మొత్తంచే భాగించి వచ్చిన దానిని 100 చేత గుణించి ఈ పద్ధతిలో ధరల సూచీ సంఖ్యను కనుగొనవచ్చు. గుర్తులు ఉపయోగించి

$$P_{01}^{\boxed{W}} = \frac{\sum P_1 \sqrt{q_0 q_1}}{\sum P_0 \sqrt{q_0 q_1}} \times 100$$

$$P_{01}^{\boxed{W}} = \text{వాల్ష్ ధర సూచీ}$$

$$\sum P_1 \sqrt{q_0 q_1} = \text{వర్తమాన ధరలను భారాలతో గుణించగా వచ్చిన లబ్ధాల మొత్తం}$$

$$\sum P_0 \sqrt{q_0 q_1} = \text{ఆధార ధరలను భారాలతో గుణించగా వచ్చిన లబ్ధాల మొత్తం}$$

కొన్ని ఉదాహరణల ద్వారా వివిధ భారిత ధరల సూచీ సంఖ్యలను నిర్మించు విధము తెలుసుకుందాము.

ఉదా॥ 1 - దిగువ యిచ్చిన దత్తాంశానికి 1995 సం॥ ఆధారంగా ఎన్నుకొని లాస్పియర్ ధరల సూచీ సంఖ్యను నిర్మించండి.

వస్తు సముదాయం	ధరలు రూ॥లో		1995 సం॥లో
	1995 సం॥లో	2000 సం॥ లో	పరిమాణాలు
A	50	70	10
B	60	84	15
C	35	29	5

జవాబు : లాస్పియర్ పద్ధతిలో ధరల సూచీ సంఖ్య నిర్మాణ పట్టిక

వస్తు సముదాయం	ఆధార సం॥ ధర	వర్తమాన సం॥ ధర	ఆధార సం॥లో పరిమాణాలు	$P_1Q_0$	$P_0Q_0$
	1995 ( $p_0$ )	2000 ( $p_1$ )	1995లో ( $q_0$ )		
A	50	70	10	700	500
B	60	84	15	1260	900
C	35	29	5	145	175
				$\Sigma P_1Q_0 = 2105$	$\Sigma P_0Q_0 = 1575$

పై పట్టిక నుండి,  $\Sigma P_1Q_0 = 2105$ ,  $\Sigma P_0Q_0 = 1575$

$$\text{లాస్పియర్ పద్ధతిలో ధరల సూచీ సంఖ్య} = P_{01}^L = \frac{\Sigma P_1Q_0}{\Sigma P_0Q_0} \times 100 = \frac{2105}{1575} \times 100 = 133.82$$

ఉదాహరణ 2 :

కింది దత్తాంశానికి పాషే పద్ధతిని ధరల సూచీ సంఖ్యను నిర్మించండి. (1999 సం॥రం ఆధార సం॥రంగా తీసుకోండి)

వస్తు సముదాయం	1999 సం॥లో ధరలు	2004 వ సం॥లో	
		ధరలు	పరిమాణాలు
A	40	65	10
B	20	55	4
C	70	40	5

జవాబు - పాషే పద్ధతిని ధరల సూచీ సంఖ్య నిర్మించుటకు తయారు చేయవలసిన పట్టిక

వస్తు సముదాయం	ధరలు	2004 సం॥లో	$P_1Q_1$	$P_0Q_1$	
1990 వ సం॥	1999	2004 సం॥	పరిమాణాలు		
	$P_0$	$P_1$	$Q_1$		
A	40	65	10	$65 \times 10 = 650$	$40 \times 10 = 400$
B	20	55	4	$55 \times 4 = 220$	$20 \times 4 = 80$
C	70	40	5	$40 \times 5 = 200$	$70 \times 5 = 350$
				$\Sigma P_1Q_1 = 1070$	$\Sigma P_0Q_1 = 830$

$$\text{పాషే పద్ధతి ధరల సూచీ సంఖ్య సూత్రం} = P_{01}^P = \frac{\Sigma P_1Q_1}{\Sigma P_0Q_1} \times 100 = \frac{1070}{830} \times 100 = 128.91$$

ఉదాహరణ : క్రింది దత్తాంశాన్ని ఉపయోగించి ఫిషర్ ఆదర్శ పద్ధతిలో ధరల సూచీ సంఖ్యను నిర్మించండి.

వస్తు సముదాయం	ఆధార సం॥లో		వర్తమాన సం॥లో	
	ధరలు	పరిమాణం	ధరలు	పరిమాణం
A	50	10	70	8
B	60	5	55	6
C	20	4	30	5

జవాబు : ఫిషర్ ఆదర్శ ధరల సూచీ సంఖ్య నిర్మాణ పట్టిక

వస్తు సముదాయం	ఆధార సం॥లో		వర్తమాన సం॥లో		P <sub>1</sub> Q <sub>1</sub>	P <sub>1</sub> Q <sub>0</sub>	P <sub>0</sub> Q <sub>1</sub>	P <sub>0</sub> Q <sub>0</sub>
	ధరలు	పరిమాణాలు	ధరలు	పరిమాణాలు				
	(P <sub>0</sub> )	(Q <sub>0</sub> )	(P <sub>1</sub> )	(Q <sub>1</sub> )				
A	50	10	70	8	560	700	400	500
B	60	5	55	6	330	275	360	300
C	20	4	30	5	150	120	100	80
					1040 =	1095 =	860 =	880 =
					ΣP <sub>1</sub> Q <sub>1</sub>	ΣP <sub>1</sub> Q <sub>0</sub>	ΣP <sub>0</sub> Q <sub>1</sub>	ΣP <sub>0</sub> Q <sub>0</sub>

పై పట్టిక నుండి

$$\sum P_1Q_1 = 1040, \sum P_1Q_0 = 1095, \sum P_0Q_1 = 860, \sum P_0Q_0 = 880$$

ఫిషర్స్ ఆదర్శ పద్ధతిలో ధరల సూచీ సంఖ్య సూత్రం

$$P_{01}^F = \sqrt{\frac{\sum P_1Q_0 \times \sum P_1Q_1}{\sum P_0Q_0 \times \sum P_0Q_1}} \times 100$$

ఇందులో పై విలువలు ప్రతిక్షేపించగా

$$P_{01}^F = \sqrt{\frac{1040}{860} \times \frac{1095}{880}} \times 100 = \sqrt{1.505} \times 100 = 1.22668 \times 100 = 122.67$$

ఉదాహరణ : ఈ క్రింది దత్తాంశమునకు లాస్పియర్, పాషే మరియు ఫిషర్స్ ఆదర్శ పద్ధతిని ధరల సూచీ సంఖ్యలు నిర్మించండి.

వస్తు సముదాయం	ఆధార సంవత్సరం		వర్తమాన సంవత్సరం	
	ధరలు	పరిమాణాలు	ధరలు	పరిమాణాలు
A	600	120	900	150
B	360	80	500	120
C	120	60	320	100

జవాబు : లాస్పియర్, పాషే మరియు ఫిషర్ ఆదర్శ పద్ధతిని ధరల సూచీ సంఖ్యలు నిర్మించుటకు ఈ కింది విధంగా పట్టిక తయారు చేయాలి.

వస్తు సముదాయం	ఆధార సంవత్సరం		వర్తమాన సంవత్సరం		P <sub>1</sub> Q <sub>1</sub>	P <sub>1</sub> Q <sub>0</sub>	P <sub>0</sub> Q <sub>1</sub>	P <sub>0</sub> Q <sub>0</sub>
	ధరలు (P <sub>0</sub> )	పరిమాణం (Q <sub>0</sub> )	ధరలు (P <sub>1</sub> )	పరిమాణం (Q <sub>1</sub> )				
A	600	12	900	15	13500	10800	9000	7200
B	360	8	500	12	6000	4000	4320	2880
C	120	6	320	10	3200	1920	1200	720
					22700	16720	14520	10800
					ΣP <sub>1</sub> Q <sub>1</sub>	ΣP <sub>1</sub> Q <sub>0</sub>	ΣP <sub>0</sub> Q <sub>1</sub>	ΣP <sub>0</sub> Q <sub>0</sub>

పై పట్టిక నుండి, ΣP<sub>1</sub>Q<sub>1</sub> = 22700, ΣP<sub>1</sub>Q<sub>0</sub> = 16720, ΣP<sub>0</sub>Q<sub>1</sub> = 14520, ΣP<sub>0</sub>Q<sub>0</sub> = 10800

లాస్పియర్ పద్ధతి

$$\text{ధరల సూచీ సంఖ్య} = P_{01}^L = \frac{\sum P_1 Q_0}{\sum P_0 Q_0} \times 100 = \frac{16720}{10800} \times 100 = 154.81$$

పాషే పద్ధతి

$$\text{ధరల సూచీ సంఖ్య} = P_{01}^P = \frac{\sum P_1 Q_1}{\sum P_0 Q_1} \times 100 = \frac{22700}{14520} \times 100 = 156.34$$

ఫిషర్ ఆదర్శ పద్ధతి

$$\text{ధరల సూచీ సంఖ్య} = P_{01}^F = \sqrt{\frac{\sum P_1 Q_0}{\sum P_0 Q_0} \times \frac{\sum P_1 Q_1}{\sum P_0 Q_1}} \times 100 = \sqrt{\frac{16720}{10800} \times \frac{22700}{14520}} \times 100 = 155.57$$

లేదా

$$P_{01}^F = \sqrt{156.34 \times 154.81} = 155.57$$

ఉదా|| : పై ఉదాహరణలో యిచ్చిన దత్తాంశానికి బౌలీ మరియు మార్షల్ - ఎడ్జ్‌వర్త్ ధరల సూచీ సంఖ్యలు కనుగొనండి.

జవాబు : పైన జవాబులోని పట్టిక నుండి

$$\sum P_1 Q_1 = 22700, \sum P_1 Q_0 = 16720, \sum P_0 Q_1 = 14520, \sum P_0 Q_0 = 10800$$

అని గ్రహించవచ్చు.

బాల్ పద్ధతి

$$\begin{aligned} \text{ధరల సూచీ సంఖ్య} &= P_{01}^{\boxed{B}} = \frac{\sum P_1 q_0 + \sum P_1 q_1}{\sum P_0 q_0 + \sum P_0 q_1} \times 100 \\ &= \frac{16720 + 22700}{10800 + 14520} \times 100 = \frac{1.5481 + 1.5633}{2} \times 100 = 1.5557 \times 100 = 155.57 \end{aligned}$$

మార్షల్ - ఎడ్జ్ వర్త్ పద్ధతి

$$\begin{aligned} \text{ధరల సూచీ సంఖ్య} &P_{01}^{\boxed{M\&E}} = \frac{\sum P_1 (q_0 + q_1)}{\sum P_0 (q_0 + q_1)} \times 100 \\ &= \frac{\sum P_1 q_0 + \sum P_1 q_1}{\sum P_0 q_0 + \sum P_0 q_1} \times 100 = \frac{16720 + 22700}{10800 + 14520} \times 100 \\ &= \frac{39420}{25320} \times 100 = 155.69 \end{aligned}$$

ఉదాహరణ - ఈ క్రింది సమాచారం ఆధారంగా కెల్లీ ధరల సూచీ సంఖ్యను నిర్మించండి.

వస్తు సముదాయం	ఆధార సం॥లో		వర్తమాన సం॥లో	
	ధరలు	పరిమాణాలు	ధరలు	పరిమాణాలు
A	12	3	15	4
B	10	4	18	6
C	15	6	21	5
D	7	3	5	2

జవాబు : కెల్లీ పద్ధతిలో రెండు లేక మూడు సంవత్సరాల పరిమాణాలు సగటు అనగా అంకమధ్యమాన్ని భారాలుగా పరిగణిస్తారు.

వస్తు సముదాయం	ఆధార సం॥లో		వర్తమాన సం॥లో		భారాలు	q =	P <sub>1</sub> q	P <sub>0</sub> q
	ధరలు	పరిమాణాలు	ధరలు	పరిమాణాలు				
	(P <sub>0</sub> )	(q <sub>0</sub> )	(P <sub>1</sub> )	(q <sub>1</sub> )	$\left(\frac{q_0 + q_1}{2}\right)$			
A	12	3	15	4	$\frac{3+4}{2} = 3.5$	52.5	42.0	
B	10	4	18	6	$\frac{4+6}{2} = 5$	90.0	50.0	

C	15	6	21	5	$\frac{6+5}{2} = 5.5$	115.5	82.5
D	7	3	5	2	$\frac{3+2}{2} = 2.5$	12.5	17.5
						270.5 =	192.0 =
						$\Sigma p_1q$	$\Sigma p_0q$

$$\text{కెల్లీ పద్ధతిలో ధరల సూచీ సంఖ్య } P_{01}^K = \frac{\Sigma p_1q}{\Sigma p_0q} \times 100$$

$$\text{పై పట్టిక నుండి, } \Sigma p_1q = 270.5, \Sigma p_0q = 192.0$$

$$\text{ఈ విలువలు ప్రతిక్షేపించగా } P_{01}^K = \frac{270.5}{192.0} \times 100 = 144.88$$

**ఉదాహరణ :** పై ఉదాహరణకు వార్షిక పద్ధతిలో ధరల సూచీ సంఖ్య నిర్మించండి.

**జవాబు :** వార్షిక పద్ధతిలో ధరల సూచీ సంఖ్య వర్తమాన, ఆధార సం॥లోని పరిమాణాల గుణమధ్యమాన్ని భారాలుగా తీసుకొని నిర్మించబడుతుంది.

వస్తు సముదాయం	ఆధార సం॥లో		వర్తమాన సం॥లో		$\sqrt{q_0 q_1}$	$p_1 \sqrt{q_0 q_1}$	$p_0 \sqrt{q_0 q_1}$
	ధరలు ( $p_0$ )	పరిమాణాలు ( $q_0$ )	ధరలు ( $p_1$ )	పరిమాణాలు ( $q_1$ )			
A	12	3	15	4	$\sqrt{3 \times 4} = 3.46$	51.9	41.52
B	10	4	18	6	$\sqrt{4 \times 6} = 4.9$	88.2	49.00
C	15	6	21	5	$\sqrt{6 \times 5} = 5.48$	115.08	82.2
D	7	3	5	2	$\sqrt{3 \times 2} = 2.45$	12.25	17.15
						267.43 =	189.8 =
						$\Sigma p_1 \sqrt{q_0 q_1}$	$\Sigma p_0 \sqrt{q_0 q_1}$

$$\text{పై పట్టిక నుండి } \Sigma p_1 \sqrt{q_0 q_1} = 267.43, \Sigma p_0 \sqrt{q_0 q_1} = 189.87$$

$$\therefore \text{వార్షిక పద్ధతిలో ధరల సూచీ సంఖ్య} = p_{01}^W = \frac{\Sigma p_1 \sqrt{q_0 q_1}}{\Sigma p_0 \sqrt{q_0 q_1}} \times 100 = \frac{267.43}{189.87} \times 100 = 140.85$$

**భారిత సాపేక్షకాల పద్ధతి (Weighted Average of Price Relatives Method) :** భారిత సమిష్టి పద్ధతులలో ధరల సూచీ సంఖ్యలను నిర్మించేటప్పుడు ధరల సాపేక్షకాలను ఉపయోగించలేదు. ధరల సాపేక్షకాలకు భారాలు ఆపాదించి సూచీ సంఖ్యలు నిర్మించవచ్చు. ఈ పద్ధతినే భారిత సాపేక్షకాల సగటు పద్ధతి అంటారు. ఈ పద్ధతిలో ధరల సాపేక్షకాలకు వాటి విలువ అనగా ధరను పరిమాణంచే గుణించగా వచ్చిన మొత్తాన్ని భారంగా యిస్తారు. భారాలుగా ఆధార సం॥లోని విలువలుగానీ, వర్తమాన సం॥లో విలువలుగానీ ఉపయోగించవచ్చు. భారిత సాపేక్షకాల సగటును లెక్కించేటప్పుడు సగటుగా అంకమధ్యమాన్ని గానీ, గుణమధ్యమాన్ని గానీ

ఉపయోగించవచ్చు. అంకమధ్యమాన్ని సగటుగా ఉపయోగిస్తూ భారిత సాపేక్షికాల ధరల సూచీసంఖ్యను ఈ క్రింది విధానం అనుసరించి నిర్మించవచ్చు.

అ) వస్తు సముదాయంలోని ప్రతివస్తువుకు ధరల సాపేక్షికాలు కనుగొనండి. దీనిని 'P'గా భావించండి. . అనగా

$$P = \frac{P_1}{P_0} \times 100. \text{ ఇందులో}$$

$$P_1 = \text{వర్తమాన కాలంలో ధర, } P_0 = \text{ఆధార సం॥లో ధర.}$$

ఆ) ఆధార సంవత్సరంలో వస్తువుల విలువలను ధరలను పరిమాణాలచే గుణించి కనుగొనండి. అనగా  $P_0 \times Q_0$ . దీనిని V తో సూచించండి.

ఇ) ధరల సాపేక్షికాలను వాటి సంబంధిత విలువలు (V)చే గుణించగా వచ్చిన లబ్ధాల మొత్తాన్ని కనుగొనండి.

$$\text{వీటిని PV or } \sum \left( \frac{P_1}{P_0} \times 100 \right) \times V \text{ తో సూచించండి.}$$

(ఈ) (ఆ)లో లెక్కించిన విలువల మొత్తాన్ని కనుగొని దానిని  $\Sigma V$  తో సూచించండి.

భారిత సాపేక్షికాల సగటు పద్ధతిని ధరల సూచీసంఖ్య

$$\text{భారిత సూచీ సంఖ్య} = P_{01} = \frac{\Sigma PV}{\Sigma V} = \frac{\Sigma \left( \frac{P_1}{P_0} \times 100 \right) \times V}{\Sigma V}$$

$$\text{ఇక్కడ, } P = \frac{P_1}{P_0} \times 100$$

ఉదాహరణ : దిగువ యిచ్చిన దత్తాంశానికి భారిత సాపేక్షికాల సగటు పద్ధతిలో (1) అంకమధ్యమాన్ని (2) గుణమధ్యమాన్ని సగటుగా ఉపయోగిస్తూ ధరల సూచీ సంఖ్యలను కనుగొనండి.

వస్తు సముదాయం	ఆధార సం॥లో		వర్తమాన సం॥లో ధరలు
	ధరలు	పరిమాణాలు	
A	4	20	5
B	3	35	6
C	6	15	4

జవాబు : ఇచ్చిన దత్తాంశంలో ఆధార సం॥ ధరలు పరిమాణాలు పున్నాయి. కాబట్టి, ఆధార సం॥లోని విలువలను భారాలుగా పరిగణించవలెను.



(అ) అంకమధ్యమం సగటుగా ఉపయోగించి :

వస్తు	ఆధార సం॥లో		వర్తమాన సం॥లో		భారాలు(V)	$\frac{P_1}{P_0} \times 100$	$\left(\frac{P_1}{P_0} \times 100\right) \times V$
సముదాయం	ధరలు (p <sub>0</sub> )	పరిమాణాలు (q <sub>0</sub> )	ధరలు (p <sub>1</sub> )		p <sub>0</sub> q <sub>0</sub>	or P	or PV
A	4	20	5		80	$\frac{5}{4} \times 100 = 125$	125 × 80 = 10000
B	3	35	6		105	$\frac{6}{3} \times 100 = 200$	200 × 105 = 21000
C	6	15	4		80	$\frac{4}{6} \times 100 = 66.67$	66.67 × 80 = 5333.6
				మొత్తం	265 (ΣV)		36333.6 (ΣPV)

పై పట్టిక నుండి, భారాల మొత్తము ΣV = 265

ధరల సాపేక్షికాలు మరియు భారాల లబ్ధం (ΣPV) = 36333.6

$$\text{ధరల సూచీసంఖ్య } P_{01} = \frac{\Sigma PV}{\Sigma V} = \frac{\Sigma \left(\frac{P_1}{P_0} \times 100\right) V}{\Sigma V} = \frac{36333.6}{265} = 137.11$$

### 12.7 పరిమాణ సూచీ సంఖ్యలు (Quantity Index Numbers)

ధరల సూచీ సంఖ్యలు ఏ విధంగా ఆధార సం॥రం నుండి వర్తమాన కాలం మధ్య ధరలలో వచ్చిన మార్పు కొలవడానికి ఉపయోగపడతాయో, అదే విధంగా ఆధార సం॥రం నుండి వర్తమాన కాలం మధ్య పరిమాణాలు (Quantities) ఏర్పడే మార్పులను కొలవడానికి పరిమాణ సూచీ సంఖ్యలు ఉపయోగపడతాయి. ధరల సూచీసంఖ్యలు నిర్మించినట్లే పరిమాణ సూచీసంఖ్యలను నిర్మిస్తారు. ఒక వస్తు సముదాయంలోని వస్తువులను వివిధ పరిమాణంలో ఒకే ధరకు వేరు వేరు సంవత్సరాలలో కొన్నప్పుడు ఆధార సం॥కి సాపేక్షంగా వర్తమాన సం॥లో ఎంత వెచ్చించాలి అనే ప్రశ్నకు పరిమాణాల సూచీ సంఖ్య సమాధానం యిస్తుంది. ధరల సూచీ సంఖ్యల నిర్మాణంలో పరిమాణాలను భారాలుగా పరిగణించారు. పరిమాణ సూచీసంఖ్యల నిర్మాణంలో ధరలను భారాలుగా పరిగణిస్తారు. పరిమాణ సూచీసంఖ్యను 'Q<sub>01</sub>' చే సూచిస్తారు. ధరల సూచీసంఖ్యలు నిర్మించడానికి ఉపయోగించే అన్ని పద్ధతులూ పరిమాణ సూచీసంఖ్యలు నిర్మించడానికి ఉపయోగించవచ్చు. అందులో కొన్ని ముఖ్యమైనవి.

(1) లాస్పియర్ పద్ధతి : ఈ పద్ధతిలో ఆధార సం॥లోని ధరలను భారాలుగా పరిగణిస్తారు. ఈ పద్ధతిలో, వర్తమాన సం॥రం పరిమాణాలను ఆధార సం॥రం ధరలచే గుణించగా వచ్చిన లబ్ధాల మొత్తాన్ని, ఆధార సం॥లో పరిమాణాలను ఆధార సం॥ ధరలచే గుణించగా వచ్చిన లబ్ధాల మొత్తంచే భాగించి ఫలితాన్ని 100చే గుణించి లాస్పియర్ పరిమాణ సూచీని కనుగొనవచ్చు.

$$\text{దీనినే సంకేతాలలో, పరిమాణ సూచీసంఖ్య} = Q_{01}^{\boxed{L}} = \frac{\Sigma q_1 p_0}{\Sigma q_0 p_0} \times 100$$

ఇక్కడ,  $\Sigma q_1 p_0$  = వర్తమాన కాల పరిమాణాలను ఆధార సం॥ ధరతో గుణించగా వచ్చిన లబ్ధాల మొత్తం.

$\Sigma q_0 p_0$  = అనగా ఆధార సం॥ పరిమాణాలను ఆధార సం॥ ధరలతో గుణించగా వచ్చిన లబ్ధాల మొత్తం.

(2) పాషే పద్ధతి : ఈ పద్ధతిలో వర్తమాన సం॥ పరిమాణాలను భారాలుగా పరిగణిస్తారు. వర్తమాన పరిమాణాలను వర్తమాన ధరలతో గుణించగా వచ్చిన లబ్ధాల మొత్తాన్ని, ఆధార సం॥ పరిమాణాలను వర్తమాన ధరలచే గుణించగా వచ్చిన లబ్ధాల మొత్తంచే భాగించి, వచ్చిన దానిని 100చే గుణించి కనుగొంటారు. దీనిని సంకేతాలలో

$$Q_{01}^{\boxed{P}} = \frac{\Sigma q_1 p_1}{\Sigma q_0 p_1} \times 100$$

$$Q_{01}^{\boxed{P}} = \text{పాషే పరిమాణ సూచీ}$$

$\Sigma q_1 p_1$  = వర్తమాన సంవత్సర పరిమాణాలను వర్తమాన ధరలతో గుణించగా వచ్చిన లబ్ధాల మొత్తం

$\Sigma q_0 p_1$  = ఆధార సంవత్సర పరిమాణాలను వర్తమాన ధరలతో గుణించగా వచ్చిన లబ్ధాల మొత్తం.

ఫిషర్ ఆదర్శ పద్ధతి : ఫిషర్ ఆదర్శ ధరల సూచీసంఖ్యలాగానే ఫిషర్ పరిమాణాల సూచీసంఖ్య ఆదర్శపరిమాణ సూచీ అంటారు. లాస్పియర్ పరిమాణ సూచీసంఖ్య మరియు పాషే పరిమాణ సూచీసంఖ్యల గుణమధ్యమం ఫిషర్ సూచీ అవుతుంది. సంకేతాలలో

$$\text{ఫిషర్ ఆదర్శ పరిమాణ సూచీసంఖ్య} = \sqrt{Q_{01}^{\boxed{L}} \times Q_{01}^{\boxed{P}}}$$

$$Q_{01}^{\boxed{F}} = \sqrt{\frac{\Sigma q_1 p_0}{\Sigma q_0 p_0} \times \frac{\Sigma q_1 p_1}{\Sigma q_0 p_1}} \times 100 \quad (\text{లేదా})$$

$$Q_{01} = \sqrt{\text{లాస్పియర్ పరిమాణ సూచీసంఖ్య} \times \text{పాషే పరిమాణ సూచీసంఖ్య}}$$

$$\text{ఇదే విధంగా మార్షల్ - ఎడ్జ్‌వర్త్ పద్ధతిలో పరిమాణ సూచీసంఖ్య సూత్రం} \quad Q_{01}^{\boxed{M\&E}} = \frac{\Sigma q_1 (p_0 + p_1)}{\Sigma q_0 (p_0 + p_1)} \times 100$$

$$\text{బౌలీ పద్ధతిలో పరిమాణ సూచీసంఖ్య సూత్రం} = Q_{01}^{\boxed{B}} = \frac{\left[ \frac{\Sigma q_1 p_0}{\Sigma q_0 p_0} + \frac{\Sigma q_1 p_1}{\Sigma q_0 p_1} \right]}{2} \times 100 \quad (\text{లేదా})$$

$$Q_{01} = \frac{\text{లాస్పియర్ సూచీసంఖ్య} + \text{పాషే సూచీసంఖ్య}}{2} = \frac{Q_{01}^{\boxed{L}} + Q_{01}^{\boxed{P}}}{2}$$

ఉదాహరణ : ఈ దిగువనివ్వబడిన దత్తాంశానికి (1) లాస్పియర్ పద్ధతి (2) పాషే పద్ధతి (3) ఫిషర్ ఆదర్శ పద్ధతి (4) మార్షల్ ఎడ్జ్‌వర్త్ పద్ధతి (5) బౌలీ పద్ధతులను ఉపయోగించి వర్తమాన సంవత్సరానికి పరిమాణం సూచీ సంఖ్యను కనుగొనండి.

వస్తు సముదాయం	ఆధార సం॥లో		వర్తమాన సం॥లో	
	ధరలు	పరిమాణం	ధరలు	పరిమాణం
A	20	10	40	8
B	50	8	60	6
C	40	12	50	15
D	30	15	40	20

జవాబు : పరిమాణ సూచీసంఖ్యలు కనుగొనడానికి కావల్సిన పట్టిక

వస్తు సముదాయం	ఆధార సం॥లో		వర్తమాన సం॥లో		$q_1p_1$	$q_1p_0$	$q_0p_1$	$q_0p_0$
	ధరలు ( $p_0$ )	పరిమాణం ( $q_0$ )	ధరలు ( $p_1$ )	పరిమాణం ( $q_1$ )				
A	20	10	40	8	320	160	400	200
B	50	8	60	6	360	300	480	400
C	40	12	50	15	750	600	600	480
D	30	15	40	20	800	600	600	450
మొత్తం					2230	1660	2080	1530
					$\Sigma q_1 p_1$	$\Sigma q_1 p_0$	$\Sigma q_0 p_1$	$\Sigma q_0 p_0$

పై పట్టిక నుండి,

$$\Sigma q_1 p_1 = 2230, \quad \Sigma q_1 p_0 = 1660,$$

$$\Sigma q_0 p_1 = 2080, \quad \Sigma q_0 p_0 = 1530.$$

(అ) లాస్పియర్ పద్ధతి : పరిమాణాల సూచీసంఖ్య  $Q_{01}^L = \frac{\Sigma q_1 p_0}{\Sigma q_0 p_0} \times 100 = \frac{1660}{1530} \times 100 = 108.5$

(ఆ) పాషే పద్ధతి : పరిమాణ సూచీసంఖ్య  $Q_{01}^P = \frac{\Sigma q_1 p_1}{\Sigma q_0 p_1} \times 100 = \frac{2230}{2080} \times 100 = 107.2$

(ఇ) ఫిషర్ ఆదర్శ పద్ధతి : పరిమాణ సూచీసంఖ్య  $Q_{01}^F = \sqrt{\text{లాస్పియర్ సూచీసంఖ్య} \times \text{పాషే సూచీసంఖ్య}}$   
 $= \sqrt{108.5 \times 107.2} = 107.85$

(లేదా)

$$\begin{aligned}
Q_{01}^{\boxed{F}} &= \sqrt{\frac{\Sigma q_1 p_0}{\Sigma q_0 p_0} \times \frac{\Sigma q_1 p_1}{\Sigma q_0 p_1}} \times 100 = \sqrt{\frac{1660}{1530} \times \frac{2230}{2080}} \times 100 \\
&= \sqrt{1.085 \times 1.072} \times 100 = \sqrt{1.16312} \times 100 \\
&= 1.07848 \times 100 = 107.85
\end{aligned}$$

(ఈ) మార్షల్ - విడ్జెవర్త్ పద్ధతి : పరిమాణ సూచీసంఖ్య  $Q_{01}^{\boxed{M\&E}} = \frac{\Sigma q_1 (p_0 + p_1)}{\Sigma q_0 (p_0 + p_1)} \times 100$  (లేదా)

$$\begin{aligned}
Q_{01} &= \frac{\Sigma q_1 p_0 + \Sigma q_1 p_1}{\Sigma q_0 p_0 + \Sigma q_0 p_1} \times 100 \\
&= \frac{1660 + 2230}{1530 + 2080} \times 100 \\
&= \frac{3890}{3610} \times 100 = 107.76
\end{aligned}$$

(ఎఫ్) బాలీ పద్ధతి : పరిమాణ సూచీసంఖ్య =  $Q_{01}^{\boxed{B}} = \frac{\frac{\Sigma q_1 p_0}{\Sigma q_0 p_0} + \frac{\Sigma q_1 p_1}{\Sigma q_0 p_1}}{2} \times 100$

$$\begin{aligned}
&= \frac{\frac{1660}{1530} + \frac{2230}{2080}}{2} \times 100
\end{aligned}$$

$$Q_{01}^{\boxed{B}} = \frac{1.0849 + 1.07211}{2} \times 100 = \frac{2.1570}{2} \times 100 = 107.85$$

## 12.8 విలువ సూచీ సంఖ్యలు (Value Index Numbers)

ధరల, పరిమాణాల సూచీ సంఖ్యల వలెనే, ఒక వస్తువు యొక్క విలువ (ధర మరియు పరిమాణం యొక్క లబ్ధం)లో వచ్చే మార్పును కొలుచుటకు విలువల సూచీసంఖ్యను ఉపయోగిస్తారు. ఒక వస్తువు యొక్క విలువ ఆధార సంఘటన నుండి వర్తమాన సంఘటనకు ఎంత మార్పు చెందిందో తెలుసుకోవటానికి విలువల సూచీసంఖ్యను వినియోగిస్తారు. విలువలోనే భారాలు యిమిడి వుంటాయి కనుక విలువల సూచీ సంఖ్యల నిర్మాణంలో భారాలు సామాన్యంగా ఉపయోగించరు. విలువల సూచీసంఖ్యలను చాలా అరుదుగా ఉపయోగిస్తారు.

వర్తమాన సంఘటనలోని వస్తువుల విలువల మొత్తాన్ని ఆధార సంఘటనలోని విలువల మొత్తంచే భాగించి, వచ్చిన దానిని 100చే గుణించి ఈ విలువల సూచీ సంఖ్యను కనుగొంటారు. విలువల సూచీసంఖ్యను  $V_{01}$  తో సూచిస్తారు.

$$\text{సంకేతాలలో } V_{01} = \frac{\sum p_1 q_1}{\sum p_0 q_0} \times 100$$

ఇక్కడ  $\sum p_1 q_1$  అనగా వర్తమాన సంవత్సరంలో వస్తువుల విలువ.

$\sum p_0 q_0$  అనగా ఆధార సంవత్సరంలో వస్తువుల విలువ

### 12.9 సూచీ సంఖ్యల స్థిరత్వంకు పరీక్షలు (Tests for Consistency of Index Numbers)

పై విభాగాలలో అనేక పద్ధతుల్లో సూచీసంఖ్యలు నిర్మించే విధానాలు తెలుసుకున్నాం. అయితే ఒక్కొక్క పద్ధతి ఒక్కొక్క లక్ష్యాన్ని పరిగణనలోకి తీసుకొని రూపొందించబడినది. అయితే ఈ వివిధ సూచీ సంఖ్యలో అన్ని పరిస్థితులలో సమర్థవంతంగా ఉండే సూచీసంఖ్యను కనుగొనేందుకు ఫిషర్ కొన్ని పరీక్షలను సూచించారు. అవి :

(ఎ) కాల పరివర్తక లేదా విపర్యయ పరీక్ష (Time Reversal Test), (బి) అంశాల పరివర్తక లేదా విపర్యయ పరీక్ష (Factor Reversal Test), (సి) చక్రీయ పరీక్ష (Circular Test). పై పరీక్షలన్నింటిని సంతృప్తి పరచే పద్ధతినుపయోగించి నిర్మించిన సూచీసంఖ్య అత్యంత సమర్థవంతమైనదిగానూ, ఆదర్శవంతమైనదిగానూ భావించవచ్చు.

(ఎ) కాల పరివర్తక లేదా విపర్యయ పరీక్ష : సూచీసంఖ్యలను నిర్మించే పద్ధతి కాలాల పరివర్తకత్వము (time reversability) కలిగి వున్నదా? లేదా? నిర్ణయించే పరీక్ష యిది. ఒక సూచీ సంఖ్య నిర్మించే సూత్రం ఏ విధంగా వుండాలంటే, రెండు కాలాల మధ్య నిర్మించిన సూచీ సంఖ్య అది పోల్చే కాలానికి మరొక కాలానికి మధ్య సమాన నిష్పత్తి కలిగి వుండాలి. రెండు కాలాలలో ఏ కాలాన్నైనా ఆధారంగా తీసుకొన్న ఫరవాలేదు. అనగా రెండు కాలాల మధ్య ఆధార కాలాన్ని విపర్యయం (Reverse) చేసి నిర్మించిన సూచీసంఖ్యలు ఒకదానినొకటి వ్యుత్క్రమాలు (Reciprocals) కావాలి. అనగా లాస్పియర్ పద్ధతి కాల విపర్యయ పరీక్షను సంతృప్తి పరచలేదు.

$$P_{01} \times P_{10} = 1$$

పాషే పద్ధతి :

$$\text{ధరల సూచీ సంఖ్య } P_{01} = \frac{\sum p_1 q_1}{\sum p_0 q_1},$$

కాలాలను విపర్యయం చేయగా

$$P_{10} = \frac{\sum p_0 q_0}{\sum p_1 q_0}$$

$$\text{ఇక్కడ } P_{01}, P_{10} \text{ ల లబ్ధం, } P_{01} \times P_{10} = \frac{\sum p_1 q_1}{\sum p_0 q_1} \times \frac{\sum p_0 q_0}{\sum p_1 q_0} \neq 1$$

కావున పాషే పద్ధతి కూడా కాల విపర్యయ పరీక్షను సంతృప్తి పరచలేదు.

ఫిషర్ ఆదర్శ పద్ధతి : ఈ పద్ధతిలో ధరల సూచీసంఖ్య

$$P_{01} = \sqrt{\frac{\sum p_1 q_0}{\sum p_0 q_0} \times \frac{\sum p_1 q_1}{\sum p_0 q_1}}$$

వర్తమాన సంవత్సరాన్ని ఆధార సం॥గాను, ఆధార సంవత్సరాన్ని వర్తమాన సంవత్సరంగా మారిస్తే ధరల సూచీ సంఖ్య

$$P_{10} = \sqrt{\frac{\Sigma p_0 q_1 \times \Sigma p_0 q_0}{\Sigma p_1 q_1 \times \Sigma p_1 q_0}}$$

$$\text{వీటి లబ్ధం } P_{01} \times P_{10} = \sqrt{\frac{\Sigma p_1 q_0 \times \Sigma p_1 q_1}{\Sigma p_0 q_0 \times \Sigma p_0 q_1}} \times \sqrt{\frac{\Sigma p_0 q_1 \times \Sigma p_0 q_0}{\Sigma p_1 q_1 \times \Sigma p_1 q_0}} = 1 \text{ అవుతుంది.}$$

వాటి లబ్ధము ఒకటికి సమానం కావాలి. అప్పుడు ఆ సూచీసంఖ్యల నిర్మాణానికి ఉపయోగించిన పద్ధతి లేక సూత్రం కాల విపర్యయ పరీక్షను సంతృప్తి పరిచినట్లవుతుంది. సాంకేతికంగా దానిని ఈ క్రింది విధంగా వివరించవచ్చు.

$P_{01}$  = ఆధార సంవత్సరాన్ని ఆధారంగా నిర్మించిన సూచీసంఖ్య

$P_{10}$  = వర్తమాన సంవత్సరాన్ని ఆధారంగా తీసుకొని నిర్మించిన సూచీసంఖ్య అయినట్లయితే

$P_{01} \times P_{10} = 1$  కావలెను.

ఈ పరీక్షను, ఫిషర్, బౌలీ, మార్షల్ - ఎడ్వేవర్ట్ మరియు కెల్లీ పద్ధతుల ద్వారా నిర్మించిన సూచీసంఖ్యలు సంతృప్తి పరుస్తాయి. కాని లాస్పియర్ మరియు పాషే పద్ధతులను ఉపయోగించి నిర్మించిన సూచీసంఖ్యలు సంతృప్తి పరచలేవు. క్రింద వివరణను చూడండి.

లాస్పియర్ పద్ధతి : ధరల సూచీసంఖ్య  $P = \frac{\Sigma p_1 q_0}{\Sigma p_0 q_0}$  (100 తీసుకోవల్సి అవసరం లేదు)

వర్తమాన సంవత్సరాన్ని ఆధారంగాను, ఆధార సంవత్సరాన్ని వర్తమాన సంవత్సరంగా తీసుకొని నిర్మించిన

$$\text{ధరల సూచీసంఖ్య } P_{10} = \frac{\Sigma p_0 q_1}{\Sigma p_1 q_1}$$

$$\text{ఇప్పుడు } P_{01} \times P_{10} = \frac{\Sigma p_1 q_0}{\Sigma p_0 q_0} \times \frac{\Sigma p_0 q_1}{\Sigma p_1 q_1} \neq 1$$

పై లబ్ధం '1'కి సమానం కాదు. అయితే ఫిషర్ సూచీని గమనిస్తే

$$P_{01} \times P_{10} = \sqrt{\frac{\Sigma p_1 q_0 \times \Sigma p_1 q_1 \times \Sigma p_0 q_1 \times \Sigma p_0 q_0}{\Sigma p_0 q_0 \times \Sigma p_0 q_1 \times \Sigma p_1 q_1 \times \Sigma p_1 q_0}} = \sqrt{1} = 1$$

$P_{01} \times P_{10} = 1$  సమానం కాబట్టి, ఫిషర్స్ ఆదర్శ పద్ధతి కాల విపర్యయ పరీక్షను సంతృప్తి పరుస్తుంది. ఇదే విధంగా బౌలీ, మార్షల్ - ఎడ్వేవర్ట్, కెల్లీ మరియు వాల్స్ పద్ధతులు ఈ పరీక్షను సంతృప్తి పరుస్తాయి.

**(బి) అంశాల (కారకాల) విపర్యయ పరీక్ష (Factor Reversal Test) :** ఈ పరీక్ష ప్రకారం రెండు కాలాల మధ్య నిర్మించిన ధరల సూచీసంఖ్య మరియు పరిమాణాల సూచీసంఖ్యల లబ్ధం, విలువల సూచీసంఖ్యకు సమానం కావలెను. అనగా ధరలలోని మార్పును

పరిమాణాల మార్పుచే గుణించగా వచ్చిన లబ్ధం విలువలలోని మార్పుకు సమానం కావలెను. సంకేతాలలో

$$P_{01} = \text{వర్తమాన సం॥రానికి ధరల సూచీసంఖ్య}, Q_{01} = \text{వర్తమాన సం॥రానికి పరిమాణ సూచీసంఖ్య}$$

ఈ పరీక్ష ప్రకారం

$$P_{01} \times Q_{01} = \frac{\Sigma p_1 q_1}{\Sigma p_0 q_0} = V_{01} \text{ కావలెను.}$$

ఈ పరీక్షను ఒక ఫిషర్ ఆదర్శ సూచీ మాత్రమే సంతృప్తి పరస్తుంది. మరి ఏ ఇతర పద్ధతి సంతృప్తి పరచదు.

$$\text{ఫిషర్స్ ఆదర్శ పద్ధతి : ధరల సూచీసంఖ్య} = P_{01}^{\text{F}} = \sqrt{\frac{\Sigma p_1 q_0}{\Sigma p_0 q_0} \times \frac{\Sigma p_1 q_1}{\Sigma p_0 q_1}}$$

$$\text{పరిమాణ సూచీసంఖ్య} Q_{01}^{\text{F}} = \sqrt{\frac{\Sigma q_1 p_0}{\Sigma q_0 p_0} \times \frac{\Sigma q_1 p_1}{\Sigma q_0 p_1}}$$

$$\therefore P_{01}^{\text{F}} \times Q_{01}^{\text{F}} = \sqrt{\frac{\Sigma p_1 q_0}{\Sigma p_0 q_0} \times \frac{\Sigma p_1 q_1}{\Sigma p_0 q_1} \times \frac{\Sigma q_1 p_0}{\Sigma q_0 p_0} \times \frac{\Sigma q_1 p_1}{\Sigma q_0 p_1}}$$

$$= \sqrt{\left(\frac{\Sigma p_1 q_1}{\Sigma p_0 q_0}\right)^2} = \frac{\Sigma p_1 q_1}{\Sigma p_0 q_0}$$

కావున ఫిషర్ ఆదర్శసూచీ సంఖ్య కారణాంక విపర్యయ పరీక్షను సంతృప్తి పరుస్తుంది.

ఏ యితర పద్ధతులు ఈ పరీక్షను సంతృప్తి పరచలేవని తెలుసుకోవచ్చు. ఉదాహరణకు లాస్పియర్ పద్ధతిలో

$$\text{ధరల సూచీసంఖ్య} = P_{01} = \frac{\Sigma p_1 q_0}{\Sigma p_0 q_0}$$

$$\text{పరిమాణాల సూచీసంఖ్య} Q_{01} = \frac{\Sigma q_1 p_0}{\Sigma q_0 p_0}$$

$$\therefore P_{01} \times Q_{01} = \frac{\Sigma p_1 q_0}{\Sigma p_0 q_0} \times \frac{\Sigma q_1 p_0}{\Sigma q_0 p_0} \neq \frac{\Sigma p_1 q_1}{\Sigma p_0 q_0}$$

పై లబ్ధం  $\frac{\Sigma p_1 q_0}{\Sigma p_0 q_0}$  కు సమానం కాదు. కావున లాస్పియర్ పద్ధతి కారణాంక విపర్యయ పరీక్షను సంతృప్తి పరచలేదు. యిదే

విధంగా మిగిలిన పద్ధతులలో కూడా ఋజువు చేయవచ్చు.

(సి) చక్రీయ పరీక్ష (Circular Test) : ఈ పరీక్షను కాలవిపర్యయ పరీక్షకు పొడిగింపుగా పరిగణించవచ్చు. ఈ పరీక్ష యొక్క ఉద్దేశం ఒక పద్ధతినుపయోగించిన సూచీ సంఖ్య రెండు కాలాల మధ్య మార్పునేగాక, కొన్ని కాలాల మధ్య మార్పును కొలిచేదై వుండాలి. ఈ పరీక్ష ప్రకారం మూడు సం॥లలో అనగా '0' అంటే ఆధార సం॥ము '1' వర్తమాన సం॥ము, '2' మూడవ సం॥ములకు సంబంధించి చెప్పటం జరుగుతుంది.

$P_{01}$  = ఆధార సంవత్సరం ప్రాతిపదికగా వర్తమాన సంవత్సరమునకు రూపొందించిన ధర సూచీ సంఖ్య.

$P_{12}$  = వర్తమాన సంవత్సరముపై ఆధారపడి మూడవ సంవత్సరమునకు రూపొందించిన ధర సూచీ.

$P_{20}$  = మూడవ సంవత్సరం ఆధారంగా ఆధార సంవత్సరమునకు రూపొందించిన సూచీ సంఖ్య.

$$P_{01} \times P_{12} \times P_{20} = 1 \text{ అనేది చక్రీయ పరీక్ష}$$

ఇట్లు ఆధారాన్ని మార్చిపత్వము (shiftability) లేదా మార్పిడి చేసే పరీక్షను చక్రీయ పరీక్ష అంటారు. సూచీసంఖ్యల నిర్మాణంలో ఉపయోగించిన అత్యధిక పద్ధతులు ఈ పరీక్షను సంతృప్తి పరచలేవు. ఫిషర్ ఆదర్శపద్ధతి కూడా ఈ పరీక్షను సంతృప్తి పరుచుటలో విఫలం అవుతుంది. కానీ సామాన్య సమిష్టిపద్ధతి మరియు స్థిర భార సమిష్టిపద్ధతిననుసరించి రూపొందించిన సూచీసంఖ్యల సూత్రాలు ఈ పరీక్షను సంతృప్తి పరుస్తాయి. సామాన్య సమిష్టి పద్ధతిలో '0' ఆధార సం॥రంగా '1' వర్తమాన సం॥రంగా ధరల

$$\text{సూచీసంఖ్య } P_{01} = \frac{\sum p_1}{\sum p_0} \text{ అట్లే '1' ఆధార సం॥గా '2' వర్తమాన సం॥రంగా ధరల సూచీసంఖ్య } P_{12} = \frac{\sum p_2}{\sum p_1}$$

$$\text{'2' ఆధార సం॥రంగా '0'గా వర్తమాన సం॥ంగా ధరల సూచీసంఖ్య } P_{20} = \frac{\sum p_0}{\sum p_2}$$

$$\text{చక్రీయ పరీక్ష ప్రకారం } P_{01} \times P_{12} \times P_{20} \text{ ల లబ్ధం ఒకటే కావాలి. ఈ సూత్రం ప్రకారం } \frac{\sum p_1}{\sum p_0} \times \frac{\sum p_2}{\sum p_1} \times \frac{\sum p_0}{\sum p_2} = 1$$

అవుతుంది. కావున ఈ పద్ధతి చక్రీయ పరీక్షను సంతృప్తి పరుస్తుంది. అట్లే స్థిర భారాలు ఉపయోగించే భారతి సమిష్టి పద్ధతి కూడా ఈ పరీక్షను సంతృప్తి పరుస్తుందని గమనించవచ్చు.

ఉదాహరణ : ఈ క్రింది దత్తాంశానికి ఫిషర్ ఆదర్శపద్ధతిని ధరల సూచీసంఖ్యను నిర్మించి అది కాల మరియు కారణాలకు విపర్యయ పరీక్షలను సంతృప్తి పరుస్తుందని నిరూపించండి.

సస్తు సముదాయం	ఆధార సం॥		వర్తమాన సం॥లో	
	ధరలు	పరిమాణం	ధరలు	పరిమాణం
బియ్యం	5	20	8	25
గోధుమలు	4	15	5	10
పంచదార	7	4	10	3
వంట నూనెలు	10	2	12	3



జవాబు : ఫిషర్స్ ఆదర్శ సూచీ సంఖ్య గణన పట్టిక

వస్తు	ఆధార సం॥లో		వర్తమాన సం॥లో		P <sub>1</sub> Q <sub>1</sub>	P <sub>1</sub> Q <sub>0</sub>	P <sub>0</sub> Q <sub>1</sub>	P <sub>0</sub> Q <sub>0</sub>
	సముదాయం ధరలు	పరిమాణం	ధరలు	పరిమాణం				
	(p <sub>0</sub> )	(q <sub>0</sub> )	(p <sub>1</sub> )	(q <sub>1</sub> )				
బియ్యం	5	20	8	25	200	160	125	100
గోధుమలు	4	15	5	10	50	75	40	60
పంచదార	7	4	10	3	30	40	21	28
వంట నూనెలు	10	2	12	3	36	24	30	20
					మొత్తం			
					316 =	299 =	216 =	208 =
					ΣP <sub>1</sub> Q <sub>1</sub>	ΣP <sub>1</sub> Q <sub>0</sub>	ΣP <sub>0</sub> Q <sub>1</sub>	ΣP <sub>0</sub> Q <sub>0</sub>

పై పట్టిక నుండి, ΣP<sub>1</sub>Q<sub>1</sub> = 316, ΣP<sub>1</sub>Q<sub>0</sub> = 299, ΣP<sub>0</sub>Q<sub>1</sub> = 216, ΣP<sub>0</sub>Q<sub>0</sub> = 208

$$\text{ఫిషర్స్ ఆదర్శ పద్ధతిలో ధరల సూచీసంఖ్య, } P_{01} = \sqrt{\frac{\Sigma P_1 Q_0}{\Sigma P_0 Q_0} \times \frac{\Sigma P_1 Q_1}{\Sigma P_0 Q_1}} \times 100 = \sqrt{\frac{299}{208} \times \frac{316}{216}} \times 100 = 145.02$$

ఫిషర్స్ ఆదర్శ సూచీసంఖ్య కాల విపర్యయ పరీక్షను సంతృప్తి పరచవలెనంటే ఆ పద్ధతిలో లెక్కించిన P<sub>01</sub> మరియు P<sub>10</sub>ల లబ్ధం '1'కి సమానం కావాలెను. అనగా P<sub>01</sub> × P<sub>10</sub> = 1 కావాలెను.

ఫిషర్స్ పద్ధతి ప్రకారం,

$$P_{01} = \sqrt{\frac{\Sigma P_1 Q_0}{\Sigma P_0 Q_0} \times \frac{\Sigma P_1 Q_1}{\Sigma P_0 Q_1}} = \sqrt{\frac{299}{208} \times \frac{316}{216}}$$

$$P_{10} = \sqrt{\frac{\Sigma P_0 Q_1}{\Sigma P_1 Q_1} \times \frac{\Sigma P_0 Q_0}{\Sigma P_1 Q_0}} = \sqrt{\frac{216}{316} \times \frac{208}{299}}$$

$$\therefore P_{01} \times P_{10} = \sqrt{\frac{299}{208} \times \frac{316}{216} \times \frac{216}{316} \times \frac{208}{299}} = 1$$

కాబట్టి కాల విపర్యయ పరీక్ష సంతృప్తి పరచబడినది.

కారకాల విపర్యయ పరీక్ష : ఫిషర్స్ ఆదర్శ సూచీ సంఖ్య కారకాల విపర్యయ పరీక్షను సంతృప్తి పరచవలెనంటే ఆ పద్ధతిలో

లెక్కించిన P<sub>01</sub> × Q<sub>01</sub> ల లబ్ధం  $\frac{\Sigma P_1 Q_1}{\Sigma P_0 Q_0}$  కావాలెను.

$$\text{ఫిషర్స్ ఆదర్శ పద్ధతిలో } P_{01} = \sqrt{\frac{\Sigma p_1 q_0}{\Sigma p_0 q_0} \times \frac{\Sigma p_1 q_1}{\Sigma p_0 q_1}} = \sqrt{\frac{299}{208} \times \frac{316}{216}}$$

$$Q_{01} = \sqrt{\frac{\Sigma q_1 p_0}{\Sigma q_0 p_0} \times \frac{\Sigma q_1 p_1}{\Sigma q_0 p_1}} = \sqrt{\frac{216}{208} \times \frac{316}{299}}$$

$$\therefore P_{01} \times Q_{01} = \sqrt{\frac{299}{208} \times \frac{316}{216} \times \frac{216}{208} \times \frac{316}{299}}$$

$$= \sqrt{\frac{(316)^2}{(208)^2}} = \frac{316}{208}$$

ఈ విలువ  $\frac{\Sigma p_1 q_1}{\Sigma p_0 q_0}$  విలువకు సమానం అని గమనించవచ్చు. కాబట్టి ఫిషర్స్ ఆదర్శ పద్ధతి కారణాంక విపర్యయ పరీక్షను కూడా సంతృప్తి పరుస్తుంది.

## 12.10 ప్రత్యేక సూచీ సంఖ్యలు (Special Index Numbers)

వర్తమాన సంవత్సరంలోని పరిస్థితులను ఆధార సంవత్సర పరిస్థితులతో పోల్చిచూడటానికి సూచీ సంఖ్యలు ఉపయోగపడతాయి అని తెలుసుకున్నాం. ఈ విధమైన పోలిక ఒక రంగంలోనే కాదు అనేక రంగాలలో జరుగుతుంది. అందుచేత వివిధ రంగాలలో, వాటికి అనుగుణంగా సూచీసంఖ్యలు నిర్మిస్తారు. ఉదాహరణకు వ్యాపార రంగంలో ధరల స్థాయిల్లో వచ్చిన మార్పును తెలుసుకోవడానికి, వ్యవసాయ రంగంలో మరియు పారిశ్రామిక రంగంలో ఉత్పత్తిలో వచ్చిన మార్పును తెలుసుకోవడానికి, అంతేకాక వినియోగదారుని జీవన వ్యయంలో వచ్చిన మార్పును కొలవటానికి, ఇలా వివిధ రంగాలలో, వివిధ సందర్భాలలో వేర్వేరు ఉద్దేశాలతో సూచీసంఖ్యలను నిర్మిస్తారు. ఇలాంటి కొన్ని ప్రత్యేకమైన సూచీసంఖ్యలు

1. టోకు ధరల సూచీసంఖ్య (whole sale price Index Number)
2. జీవన వ్యయ సూచీసంఖ్య (Cost of Living Index Number)

1. టోకు ధరల సూచీసంఖ్య : ఒక వస్తు సముదాయంలోని వస్తువుల టోకు ధరలలో ఏర్పడే మార్పును కొలుచుటకు సామాన్యంగా ఈ సూచీసంఖ్యను వినియోగిస్తారు. ఈ టోకు ధరల సూచీని ఒక దేశం దృష్ట్యాగాని, ఒక రాష్ట్రం లేదా ఒక పెద్ద పట్టణం దృష్ట్యా నిర్మిస్తారు. ఒక వ్యవస్థలో వినియోగదారుడు ఉపయోగించే వస్తువుల టోకు ధరలలో ఎటువంటి మార్పు వస్తుంది, దీని ప్రభావం ఆర్థిక వ్యవస్థపై ఏ విధంగా వుంటుంది మొదలగునవి తెలుసుకోవడానికి ఈ సూచీసంఖ్యను ఉపయోగిస్తారు. భారతదేశంలో ఈ సూచీసంఖ్యలు ప్రభుత్వ ఆర్థిక సలహాదారుడు వాణిజ్య మరియు పరిశ్రమల మంత్రిత్వశాఖ ఆధ్వర్యంలో నిర్మించబడతాయి. ప్రతి రాష్ట్రంలో ఈ తరహా సూచీ సంఖ్యలను ఆర్థిక గణాంక శాఖ వారు నిర్మిస్తారు.

2. జీవన వ్యయ సూచీసంఖ్య (Cost of Living Index Number) : టోకు ధరల సూచీ, వస్తువుల టోకు ధరలలో వచ్చే మార్పును కొలుస్తుంది. వస్తువుల ధరలలో ఏర్పడే హెచ్చుతగ్గులు ఒక ప్రత్యేక తరగతికి చెందిన వినియోగదారునిపై ఎటువంటి ప్రభావం చూపుతుందో ఈ సూచీ తెలియజేయలేదు. వినియోగదారులందరికీ ఒకే విధమైన ఆదాయం వుండదు. వారు వినియోగించే వస్తువుల

సముదాయంగాని, పరిమాణం గాని ఒకే విధంగా వుండదు. ఒకే వస్తువును ప్రజలు లేక వినియోగదారులు వేర్వేరు ప్రయోజనాల కోసం, వేర్వేరు పరిమాణాలలో వినియోగించవచ్చు. కాబట్టి ఒక వస్తువు ధరలో వచ్చిన హెచ్చుతగ్గుల ప్రభావం విభిన్న వ్యక్తుల మీద విభిన్న రీతుల్లో వుంటుంది. ఈ విధంగా వినియోగదారుడు ఉపయోగించే వస్తు సముదాయంలోని వస్తువుల మరియు సేవల ధరలలో ఏర్పడే మార్పులు అతని కొనుగోలు శక్తిపై ఏ విధమైన ప్రభావాన్ని చూపిస్తాయో తెలుసుకోవాలి అవసరం వుంది. ఈ ప్రయోజనార్థమై నిర్మించే సూచీ సంఖ్యనే జీవన వ్యయ సూచీసంఖ్య అంటారు. దీనినే వినియోగదారుల ధరల సూచీసంఖ్య (Consumer Price Index Number) అనికూడా పిలుస్తారు.

### 12.11 జీవన వ్యయ సూచీ సంఖ్యలు

ప్రజల జీవన వ్యయాల్లో వచ్చే మార్పులను తెలుసుకునేందుకు ఉపయోగించే సూచీలను జీవన వ్యయ సూచీలంటాము. ప్రభుత్వం ఆర్థిక విధానాలు రూపొందించటంలో వీటి పాత్ర ప్రాముఖ్యమైనదనే విషయం గతంలో తెలుసుకున్నాం. ప్రస్తుతం జీవన వ్యయ సూచీల ఉపయోగాలు, నిర్మాణ విధాన్ని తెలుసుకుందాం.

**జీవన వ్యయ సూచీసంఖ్య ఉపయోగాలు :** జీవన వ్యయ సూచీసంఖ్యల వలన అనేక ప్రయోజనాలు కలవు. అవి :

- (1) వేతన సవరణలలో మరియు వేతన కాంట్రాక్టులకు సంబంధించిన నిర్ణయాలు తీసుకునేటప్పుడు ఈ సూచీని పరిగణనలోకి తీసుకుంటారు.
- (2) అనేక దేశాలలో ఉద్యోగుల వేతనాలలో భాగమైన కరువు భత్యం యొక్క సవరణలన్నీ ఈ సూచీసంఖ్యపై ఆధారపడి వుంటాయి.
- (3) ప్రభుత్వ స్థాయిలో, వేతన విధానం (wage policy), ధరల విధానం (Price policy), అద్దె నియంత్రణ (Rent Control), పన్నులు (Taxation) మరియు యితరములైన ఆర్థిక విధానాలు (Economic Policy)లు ఏర్పరచటానికి ఈ సూచీసంఖ్య ఎంతో ఉపయోగపడుతుంది.
- (4) వాస్తవ ఆదాయం (Real Income) మరియు ద్రవ్య కొనుగోలు శక్తి (Purchasing power of the currency)లోని మార్పులను కొలుచుటకు కూడా ఈ సూచీసంఖ్యలను వినియోగిస్తారు.
- (5) కొన్ని ప్రత్యేక విధమైన వస్తువుల మరియు సేవల మార్కెట్లను విశ్లేషించడానికి ఈ సూచీసంఖ్యను ఉపయోగిస్తారు.

**జీవన వ్యయ సూచీ నిర్మాణం (Construction of Cost of Living Index) :** వాస్తవికతను ప్రతిబింబించే విధంగా జీవన వ్యయ సూచీ సంఖ్యను నిర్మించటానికి ఈ క్రింది జాగ్రత్తలు పాటించాలి.

1. ముందుగా ఈ సూచీసంఖ్య ఏ ప్రాంతంలో, ఏ వర్గ ప్రజలు అనగా, తక్కువ ఆదాయ వర్గం ప్రజలా? అధిక ఆదాయ వర్గం ప్రజలా? కార్మిక వర్గమా? శ్రామిక వర్గమా? వ్యవసాయ కూలి వర్గమా? అనేది నిర్ణయించుకోవాలి. అంతేకాక ఆ వర్గానికి చెందిన ప్రజలందరికీ ఒకే విధమైన ఆహార మరియు వ్యయ అలవాట్లు కలిగివుండాలి.
2. ఏ విధమైన వైపరీత్యాలు, ఒడుదుడుకులు లేని సంవత్సరాన్ని ఆధార సంవత్సరంగా ఎంపిక చేసుకోవాలి.
3. కుటుంబ బడ్జెట్ విచారణ సమయంలో కుటుంబాలను యాదృచ్ఛిక ప్రతిచయన పద్ధతి ద్వారానే ఎన్నుకోవాలి. ఆ కుటుంబాలలో ఎక్కువగా ఉపయోగించే వస్తువులనే సూచీసంఖ్యల నిర్మాణంలో పరిగణనలోనికి తీసుకోవాలి. ఒక కుటుంబం, ఆహార పదార్థాలు, వస్త్రాలు, దీపాలు మరియు ఇంధనం, ఇంటి అద్దె, ఇతరములు మొదలైన వాటిపై ఎంతెంత ఖర్చు చేస్తున్నది తెలిపే విధంగా ప్రశ్నావళి వుండాలి.

4. సూచీసంఖ్య ఏ ప్రాంతానికి సంబంధించి నిర్మించబడుతుందో ఆ ప్రాంతంలోని స్థానిక మార్కెట్, సహకార మార్కెట్లు మరియు డిసార్టుమెంట్ల స్టోరుల నుండి, వారానికి ఒక్కసారి వివిధ వస్తువుల చిల్లర ధరలను సేకరించాలి. సాధారణంగా ఈ సూచీసంఖ్యలను వారానికి నిర్మిస్తారు. వారాల సూచీసంఖ్యల సగటును మాస సూచీ సంఖ్యగానూ, మాసాల సూచీ సంఖ్యల సగటును సంవత్సరానికి సూచీసంఖ్యగా పరిగణిస్తారు.

**జీవన వ్యయ సూచీసంఖ్య నిర్మాణ పద్ధతులు :** జీవన వ్యయ సూచీసంఖ్యను రెండు విధాలుగా నిర్మిస్తారు. ఎ. సమిష్టి వ్యయ పద్ధతి లేక సమిష్టి పద్ధతి (Aggregate Expenditure Method or Aggregate Method), బి. కుటుంబ బడ్జెట్ పద్ధతి (లేక) భారత సాపేక్షకాల పద్ధతి (Family Budget Method or Weighted Relatives Method)

- ఎ. సమిష్టి వ్యయ పద్ధతి (Aggregate Expenditure Method) : ఈ పద్ధతిలో జీవన వ్యయ సూచీ ఏ వర్గ ప్రజలకు ఉద్దేశించబడిందో ఆ ప్రజలు ఆధార సం॥లో వినియోగించిన వస్తువుల పరిమాణాలను భారాలుగా పరిగణిస్తారు. మొదట ప్రజల వర్తమాన సంవత్సరంలోని వ్యయాన్ని అంటే వర్తమాన సంవత్సరంలోని ధరలను, ఆధార సంవత్సరంలోని పరిమాణాలచే గుణించగా వచ్చిన లబ్ధాలన్నింటిని కూడి కనుక్కుంటారు ( $\sum p_1q_0$ ). అదే విధంగా ఆధార సంవత్సరంలోని వ్యయాన్ని ఆధార సంవత్సరంలోని ధరలను, ఆధార సంవత్సరంలో పరిమాణాలచే గుణించగా వచ్చిన లబ్ధాలన్నింటిని కూడి కనుక్కుంటారు ( $\sum p_0q_0$ ). తరువాత వర్తమాన సంవత్సరంలోని మొత్తం (లేక) సమిష్టి వ్యయాన్ని అంటే ఆధార సంవత్సరంలోని మొత్తం (లేక) సమిష్టి వ్యయంతో భాగించి వచ్చిన దానిని 100చే గుణించి జీవన వ్యయ సూచీ సంఖ్య నిర్మిస్తారు. అదే సంకేతాలలో

$$\text{జీవన వ్యయ సూచీ} = \frac{\sum p_1q_0}{\sum p_0q_0} \times 100$$

పై సూత్రం, లాస్పియర్ పద్ధతిలో ధరల సూచీసంఖ్య సూత్రాన్ని పోలి వున్నదని గమనించవచ్చు.

**ఉదాహరణ :** ఈ క్రింది దత్తాంశం నుండి 2000 సంవత్సరం ఆధార సంవత్సరంగా పరిగణించి, 2005 సంవత్సరానికి జీవన వ్యయసూచీ సంఖ్యను, సమిష్టి వ్యయ పద్ధతి ఉపయోగించి లెక్కించండి.

**2000 సంవత్సరములో**

వస్తు సముదాయం	ధరలు	పరిమాణం	2005 సం॥లో ధరలు
ఆహార పదార్థాలు	20	40	35
దుస్తులు	35	7	40
యింధనం	10	3	15
ఇంటి అద్దె	12	1	20
ఇతరములు	25	4	25

**జవాబు :** సమిష్టి వ్యయ పద్ధతిలో జీవన వ్యయసూచీ నిర్మాణ పట్టిక

ఆధార సంవత్సరంలో  
(2000)

వస్తు	ధరలు P <sub>0</sub>	పరిమాణం Q <sub>0</sub>	వర్తమాన(2005) సం॥లో P <sub>1</sub>	P <sub>1</sub> Q <sub>0</sub>	P <sub>0</sub> Q <sub>0</sub>
ఆహార పదార్థాలు	20	40	35	1400	800
దుస్తులు	35	7	40	280	245
యింధనం	10	3	15	45	30
ఇంటి అద్దె	12	1	20	20	12
ఇతరములు	25	4	25	100	100
			మొత్తం	ΣP <sub>1</sub> Q <sub>0</sub> = 1845	ΣP <sub>0</sub> Q <sub>0</sub> = 1187

పై పట్టిక నుండి ΣP<sub>1</sub>Q<sub>0</sub> = 1845, ΣP<sub>0</sub>Q<sub>0</sub> = 1187

$$\text{జీవన వ్యయ సూచీ సంఖ్య} = \frac{\Sigma P_1 Q_0}{\Sigma P_0 Q_0} \times 100 = \frac{1845}{1187} \times 100 = 155.43$$

(బి) కుటుంబ బడ్జెట్ పద్ధతి (Family Budget Method) : ఈ పద్ధతి ఉపయోగించే జీవన వ్యయసూచీ సంఖ్య నిర్మించేటప్పుడు, సూచీ సంఖ్య ఏ ప్రజలనుద్దేశించి నిర్మించబడుతుందో, ఆ ప్రజల కుటుంబాలలో ఎక్కువ కుటుంబాల నుండి కుటుంబ బడ్జెట్లను జాగ్రత్తగా అధ్యయనం చేసి, వివిధ అంశాల మీద ఒక సగటు కుటుంబం చేసే ఖర్చును అంచనా వేయాలి. వాటిని భారాలుగా పరిగణిస్తారు. ఆ భారాల విలువలను ధరలను పరిమాణాలచే గుణించి కనుక్కుంటారు. ప్రతి ఒక్క వస్తువు యొక్క ధరల సాపేక్షకాలను వాటి భారాల విలువలచే గుణించగా వచ్చిన లబ్ధాల మొత్తాన్ని, భారాల విలువల మొత్తంచే భాగించి జీవన వ్యయ సూచీ సంఖ్యను నిర్మిస్తారు. సంకేతాలలో :

భారాల విలువల మొత్తం = ΣP<sub>0</sub>Q<sub>0</sub>, దీనిని ΣV తో సూచిస్తే, ధరల సాపేక్షకాన్ని  $\frac{P_1}{P_0} \times 100$  ని P తో సూచించిన యెడల

$$\text{జీవన వ్యయ సూచీ సంఖ్య} = \frac{\Sigma PV}{\Sigma V}$$

ఉదాహరణ : ఈ క్రింది దత్తాంశానికి 2000 సం॥ ఆధార సం॥లో కుటుంబ బడ్జెట్ పద్ధతిని జీవన వ్యయ సూచీసంఖ్యను నిర్మించండి.

వస్తువులు	2000 సంవత్సరంలో		
	ధరలు	పరిమాణం	2005 సం॥లో ధరలు
ఆహార పదార్థాలు	20	50	35
దుస్తులు	35	15	50

యింధనం	10	4	20
యింటి అద్దె	15	2	23
ఇతరములు	30	5	36

జవాబు : జీవన వ్యయ సూచీ సంఖ్య నిర్మాణం - కుటుంబ బడ్జెట్ పద్ధతి

వస్తువులు	2000 సం॥ర ఆధార సం॥ము		2005 సం॥లో ధరలు	భారాల విలువలు	వర్తమాన సం॥లో ధరల సాపేక్షకాలు	PV
	ధరలు P <sub>0</sub>	పరిమాణం Q <sub>0</sub>				
			P <sub>1</sub>	V = P <sub>0</sub> Q <sub>0</sub>	$P = \frac{P_1}{P_0} \times 100$	
ఆహార పదార్థాలు	20	50	35	1000	$\frac{35}{20} \times 100 = 175$	175000
దుస్తులు	35	15	50	525	$\frac{50}{35} \times 100 = 142.9$	75022.5
యింధనం	10	4	20	40	$\frac{20}{10} \times 100 = 200$	8000.0
ఇంటి అద్దె	15	2	23	30	$\frac{23}{15} \times 100 = 153.3$	4599.0
ఇతరములు	30	5	36	150	$\frac{36}{30} \times 100 = 120$	5400.0
మొత్తం :				1745 = ΣV		268021.5 = ΣPV

పై పట్టికలో నుండి

ఆధార సంవత్సరంలో విలువలు మొత్తం  $\Sigma V = 1745$ .

వర్తమాన సం॥లోని ధరల సాపేక్షకాలు మరియు విలువల లబ్ధాల మొత్తం =  $\Sigma PV = 268021.5$

$$\therefore \text{జీవన వ్యయ సూచీ సంఖ్య} = \frac{\Sigma PV}{\Sigma V} = \frac{268021.5}{1745} = 153.59$$

జీవన వ్యయ సూచీ సంఖ్యను ఉపయోగించేటప్పుడు తీసుకోవాల్సిన జాగ్రత్తలు : తరచుగా జీవన వ్యయ సూచీ సంఖ్యను తప్పుగా అన్వయించడం జరుగుతూ ఉంటుంది. అందుచేత ఈ సూచీని ఉపయోగించేటప్పుడు ఈ క్రింది విషయాలు ఎల్లప్పుడూ గుర్తుంచుకోవాలి.

1. జీవన వ్యయ సూచీ సంఖ్య వస్తువుల చిల్లర ధరలలో వచ్చిన మార్పును, ఆధార సం॥తో పోల్చిచూడటానికి మాత్రమే ఉపయోగపడుతుంది అంటేకాని, విభిన్న ప్రాంతాలలోని ప్రజల జీవన స్థాయిలో వచ్చే మార్పును గూర్చి చెప్పజాలదు. ఉదాహరణకు ముంబాయిలో జీవన వ్యయ సూచీసంఖ్య 220 మరియు చెన్నైలో 180 అయితే ముంబాయిలోని ప్రజల జీవన వ్యయం ఖచ్చితంగా చెన్నైలోని ప్రజల జీవన వ్యయం కన్నా ఎక్కువని చెప్పలేము.

2. ఈ సూచీ సంఖ్య నిర్మాణంలో వస్తుసముదాయంలో వస్తువులు స్థిరంగా వుంటాయని ఊహించడమైనది. కాని ఇది అన్ని సందర్భాలలో సాధ్యం కాదు. అదే విధంగా వస్తువుల నాణ్యతను కూడా స్థిరంగా వుంటుందనే ఊహపైన ఈ సూచీ సంఖ్య నిర్మించబడుతుంది.
3. సూచీ సంఖ్యలన్నింటిలాగానే ఈ సూచీ కూడా ప్రతిచయన దత్తాంశం మీద ఆధారపడి నిర్మించబడుతుంది. వస్తువులు ఎన్నుకోవడంలోను, ధరల కొటేషన్లను ఎన్నుకోవడంలోను, బడ్జెట్లను ఎన్నుకోవడంలో ప్రతిచయన పద్ధతి అవలంబించబడుతుంది. కాబట్టి ప్రతిచయన పద్ధతిలోని లోపాల ప్రభావం తప్పక ఈ సూచీపై పడుతుంది.

### 12.12 సారాంశం

సూచీ సంఖ్య ఒకరకమైన ప్రత్యేకమైన సగటు. కాలగమనంలో వస్తువుల ధరలలోగానీ, పరిమాణంలోగానీ లేక విలువల్లోగాని సంభవించే మార్పులను తులనాత్మకంగా పోల్చిచూడడానికి వాడే ఒక రకమైన సాధనం. వర్తమాన సంవత్సరంలోని ధరలు, పరిమాణాలను ఏ సంవత్సరంలో ధరలు లేదా పరిమాణాలతో పోల్చిచూడాలో ఆ సంవత్సరాన్ని ఆధార సంవత్సరం లేక ఆధార సమయం అంటారు. వర్తమాన సంవత్సరంలోని ధరలను ( $p_1$ ) ఆధార సంవత్సరంలోని ధర ( $p_0$ ) చే భాగించి వచ్చిన దానిని వందచే గుణించి ధరల సాపేక్షకాన్ని కనుగొంటారు.

ఒకే ఒక వస్తువుకు సంబంధించిన దత్తాంశ ఆధారంగా నిర్మించే సూచీ సంఖ్యను 'సరళ' సూచీ సంఖ్య అని, పలు వస్తువుల సముదాయంకు సంబంధించిన దత్తాంశంనుపయోగించి నిర్మించే సూచీ సంఖ్యను 'సంయుక్త' సూచీసంఖ్యయని అంటారు.

సరళ లేదా వ్యక్తిగత అంశాల సూచీలను స్థిర, ఆధార, లింక్, గొలుసు పద్ధతుల్లో కనుగొనవచ్చు. సమిష్టి సూచీలను రెండు రకాలుగా అనగా భారాలు లేని, భారిత సూచీలుగా నిర్మించటం జరుగుతుంది. భారిత సూచీలను నిర్మించేందుకు వివిధ శాస్త్రవేత్తలు వివిధ సూచీలను రూపొందించారు. అవి : లాస్పెయర్, పాపే, బౌలీ, మార్షల్, ఎడ్జ్‌వర్త్, ఫిషర్, కెల్లీ, వాల్స్. ధరల్లో మార్పులను కనుగొనే సూచీలను ధర సూచీలని, పరిమాణాల్లో మార్పులను కనుగొనే సూచీలను పరిమాణ సూచీలని అంటారు.

సూచీ సంఖ్యల స్థిరత్వం నిర్ధారించుటకు మూడు పరీక్షలు కలవు. అవి 1. కాల పరివర్తక లేదా విపర్యయ పరీక్ష. 2. అంశాల (లేక) కారకాల పరివర్తక విపర్యయ పరీక్ష (3) చక్రీయ పరీక్ష. ఫిషర్ పద్ధతిలో నిర్మించిన సూచీసంఖ్య కాల విపర్యయ మరియు అంశాల విపర్యయ పరీక్షలను సంతృప్తి పరుస్తుంది. అందువలన దానిని ఆదర్శ సూచీసంఖ్య అని ఫిషర్ పద్ధతిని ఫిషర్ ఆదర్శ పద్ధతి అని అంటారు.

వస్తు సముదాయంలోని వస్తువుల టోకు ధరలలో వచ్చే మార్పులను కొలుచుటకు టోకు ధరల సూచీని ఉపయోగిస్తారు. ఒక ప్రాంతం లేక ఒక కాలానికి సంబంధించిన ప్రజల జీవన వ్యయంలో ఏర్పడే మార్పును ఆధార సం॥తో పోల్చి చూడటానికి జీవన వ్యయ సూచీ సంఖ్యను ఉపయోగిస్తారు. వేతన సవరణలలోనూ, కరువు భత్యం నిర్ణయించుటకు, ప్రభుత్వ స్థాయిలో వేతన, ధరల మరియు పన్నులు మొదలగు వాటికి సంబంధించి నిర్ణయాలు తీసుకోవడానికి జీవన వ్యయ సూచీని ఉపయోగిస్తారు.

### 12.13 కఠిన పదాలు

1. ఆర్థిక భారమితులు : వాతావరణంలో మార్పులను కొలిచేందుకు భారమితిని ఉపయోగిస్తాము. ఆర్థిక కార్యకలాపాల్లో మార్పులను కొలిచేందుకు సూచీ సంఖ్యలను ఉపయోగిస్తాము. అందుకే వీటిని ఆర్థిక భారమితులు అంటాము.
2. ధర సూచీలు : పరిమాణాలను భారాలుగా తీసుకొని ధరలలో మార్పులను కొలిచే సూచీ సంఖ్యలను ధర సూచీ సంఖ్యలు అంటాము.

3. పరిమాణ సూచీ సంఖ్యలు : ధరలను భారాలుగా తీసుకొని పరిమాణాలలో మార్పులను కొలిచేందుకు రూపొందించే సూచీ సంఖ్యలను పరిమాణ సూచీ సంఖ్యలు అంటారు.

### 12.14 నమూనా ప్రశ్నలు

1. సూచీ సంఖ్య అనగానేమి? వాటిలోని రకాలు, వాటి ఉపయోగాలు వివరించండి.
2. సూచీ సంఖ్యల నిర్మాణంలో ఎదురయ్యే సమస్యలను వివరిస్తూ, వాటి నివారణకై తీసుకోవాల్సిన జాగ్రత్తలు తెలపండి.
3. సూచీసంఖ్యలను 'ఆర్థిక భారమితులు' (Economic Barometers) అంటారు. ఎందుకని?
4. సూచీ సంఖ్యల స్థిరత్వం నిర్ధారించే పరీక్షలు ఏవీ? వాటిని విశదీకరించండి.
5. జీవన వ్యయ సూచీసంఖ్య వలన ఉపయోగాలు, దాని నిర్మాణంలో తీసుకోవాల్సిన జాగ్రత్తలు వివరించండి.
6. క్రింది దత్తాంశానికి 1995 సం॥ ఆధార సం॥గా సామాన్య సమిష్టి పద్ధతిలో ధరల సూచీ సంఖ్యను నిర్మించండి.

వస్తు సముదాయం	1995 సం॥లో ధరలు	2000 సం॥లో ధరలు
A	150	165
B	210	200
C	230	150
D	110	160

7. దిగువ దత్తాంశానికి 1997వ సం॥ ఆధార సం॥గా సాపేక్షకాల సగటు పద్ధతినుపయోగించి ధరల సూచీ సంఖ్య కనుగొనుము.

వస్తు సముదాయం	1999 సం॥లో ధరలు	2002 సం॥లో ధరలు
బియ్యం	400	600
గోధుమలు	250	200
పప్పుదినుసులు	280	310
కూరగాయలు	100	120
పంచదార	500	670

8. క్రింది దత్తాంశానికి 2000 సం॥ ఆధార సం॥గా లాస్పియర్, పాపే ఫిషర్ ఆదర్శ మరియు బౌలీ పద్ధతులను ఉపయోగించి ధరల సూచీ సంఖ్యలను కనుగొనండి.

వస్తు సముదాయం	ఆధార సంవత్సరంలో		వర్తమాన సంవత్సరంలో	
	ధరలు	పరిమాణం	ధరలు	పరిమాణం
A	5	25	10	70
B	4	16	6	35
C	2	40	5	85
D	6	10	9	24

9. దిగువ సమాచారం నుండి ఫిషర్ ఆదర్శ పద్ధతిలో ధరల సూచీ నిర్మించి అది కాల మరియు అంశాల విపర్యయ పరీక్షలను సంతృప్తి పరుస్తుందని చూపండి.



వస్తు సముదాయం	ఆధార సంవత్సరంలో		వర్తమాన సంవత్సరంలో	
	ధరలు	పరిమాణం	ధరలు	పరిమాణం
A	20	12	24	8
B	8	15	16	10
C	2	30	6	39
D	5	20	7	30
E	14	10	10	25

10. ఈ క్రింది దత్తాంశానికి సమిష్టి వ్యయ పద్ధతినుపయోగించి జీవన వ్యయ సూచీ సంఖ్యను నిర్మించండి.

వస్తు సముదాయం	ఆధార సంవత్సరంలో		వర్తమాన సంవత్సరంలో	
	ధరలు	పరిమాణం	ధరలు	పరిమాణం
ఆహార పదార్థాలు	25	35	35	
వస్త్రాలు	15	22	25	
ఇంధనం	5	8	25	
ఇంటి అద్దె	10	17	12	
యితరములు	30	45	25	

11. దిగువ నివ్వబడిన దత్తాంశానికి కుటుంబ బడ్జెట్ పద్ధతిని ఉపయోగించి జీవన వ్యయ సూచీసంఖ్యను కనుగొనండి.

వస్తు సముదాయం	ఆధార సంవత్సరంలో		వర్తమాన సంవత్సరంలో	
	ధరలు	పరిమాణం	ధరలు	పరిమాణం
ఆహార పదార్థాలు	40	60	55	
వస్త్రాలు	65	15	80	
ఇంధనం	20	8	35	
ఇంటి అద్దె	35	4	40	
యితరములు	70	10	95	

### 12.15 చదువవలసిన గ్రంథాలు

1. S.P. Gupta : Statistical Methods
2. C.B. Gupta : An Introduction to Statistical
3. S.C. Gupta & V.K. Kapoor : Fundamentals of Applied Statistics
4. D.C. Sanchethi & V.K. Kapoor : Statistics Theory, Methods and Applications

**పాఠ్యంశ నిర్మాణక్రమం**

- 13.0 అక్ష్యాలు
- 13.1 విషయపరిచయం
- 13.2 కాల శ్రేణుల విశ్లేషణ
  - 13.2.1 కాల శ్రేణుల్లోని భాగాలు
  - 13.2.2 కాల శ్రేణుల్లో ఉపయోగించే విశ్లేషణ నమూనాలు
  - 13.2.3 కాల శ్రేణుల దత్తాంశాన్ని ఎడిట్ చేయడం
  - 13.2.4 కాల శ్రేణుల వల్ల ప్రయోజనాలు
  - 13.2.5 కాల శ్రేణుల విశ్లేషణలో ప్రవృత్తిని కొలిచే పద్ధతులు
- 13.3 సారాంశం
- 13.4 ముఖ్య పదాలు
- 13.5 నమూనా ప్రశ్నలు
- 13.6 చదువదగిన గ్రంథాలు

**13.0 అక్ష్యాలు**

ఈపాఠం పూర్తయ్యేసరికి మీరు కింది విషయాలు అవగాహన చేసుకుంటారు.

- \* కాలశ్రేణులు అంటే ఏమిటి ? కాలశ్రేణులలోని భాగాలు, కాలశ్రేణుల వల్ల ప్రయోజనాలు.
- \* ప్రవృత్తి అనగానేమి? ప్రవృత్తిని కనుగొనే పద్ధతులు
- \* సరసవక్రరేఖా పద్ధతి, అర్థమాధన మాధ్యమాల పద్ధతి ద్వారా ప్రవృత్తి విలువలను కనుగొనడం - ఈ పద్ధతుల గుణ దోషాలు.
- \* చలిత మాధ్యమాల పద్ధతి, కనిష్ట వర్గాల పద్ధతి ద్వారా ప్రవృత్తి విలువలను కనుగొనడం - గుణదోషాలు

**13.1 విషయపరిచయం**

కాలానుగుణంగా అమర్చిన దత్తాంశాన్ని కాలశ్రేణులు అంటారు. కాలానుగుణంగా అమర్చిన దత్తాంశ ప్రాతిపదికగా భవిష్యత్తును అంచనా వేయడం, తదనుగుణంగా నియంత్రణ చర్యలను చేపట్టేందుకు ఆర్థికవేత్తలు, వ్యాపారవేత్తలు ప్రయత్నిస్తున్నారు. కాలానుగుణంగా అమర్చిన చలరాశులు గమనిస్తే అవి ఎల్లప్పుడు నిలకడగా వుండవు. కాలానుగుణంగా మార్పులకు లేదా ఒడుదుడుకులకు గురవుతూ వుంటాయి. ఈ మార్పులకు అనేక అంశాలు కారణము. ఈ విధంగా వున్న కాలశ్రేణుల పరిశీలనా విధానాన్నే కాలశ్రేణుల విశ్లేషణ అంటారు. కాలశ్రేణుల్లో మార్పులకు కారణమైన అంశాలు (1) దీర్ఘకాలిక ప్రవృత్తి (2) రుతుసంబంధమైన హెచ్చుతగ్గులు (3) చక్రీయ హెచ్చుతగ్గులు (4) నియమరహిత హెచ్చుతగ్గులు.

దీర్ఘకాలంలో కాలశ్రేణులలోని చలరాశులు చలించే దిశను ప్రవృత్తి అంటారు. చలరాశుల విలువలు క్రమక్రమంగా పెరిగితే ఊర్ధ్వ ప్రవృత్తి అని, తగ్గుతూ వుంటే అధోప్రవృత్తి అంటాము. ఈ పాఠంలో మనం కాలశ్రేణులు ఆధారపడి వున్న అంశాల ప్రవృత్తి రేఖను కనుగొనడం, ప్రవృత్తి విలువలు కనుగొనడం, భవిష్యత్తును అంచనా వేయడం మున్నగు విషయాలను తెలుసుకుంటాం.

### 13.2 కాలశ్రేణుల విశ్లేషణ

కాలానుగుణంగా అమర్చిన దత్తాంశాన్ని 'కాలశ్రేణులు' అని అంటారు. కాలానుగుణంగా వున్న చలరాశులలో సహజంగా మార్పులు సంభవిస్తుంటాయి. ఈ విధమైన మార్పులు పరిశీలన ఆవశ్యకత ఆర్థిక, వాణిజ్య రంగాల్లో చాలా ఎక్కువగా వుంటుంది. కాలానుగుణంగా వున్న చలరాశులలోని మార్పులను కనుగొని, భవిష్యత్తులో చలరాశులను అంచనా వేయడం అనేది నేడు ఆర్థిక వేత్తలు, వ్యాపార వేత్తలు చేపట్టే ముఖ్య విధి. ఈ అంచనాలపై వ్యాపార కార్యకలాపాలు ఆధారపడి వుంటాయి.

కాలశ్రేణులకు సంబంధించిన చలరాశులను పరిశీలించే విధానాన్ని 'కాలశ్రేణుల విశ్లేషణ' అంటారు. కాలానికి సంబంధించిన చలరాశి విలువలలోని మార్పులను అనేక కారణాలు ఉండవచ్చు. ఈ మార్పుకు కారణాలుగా ప్రజల అభిరుచులు, అలవాట్లలో మార్పులు, జనాభాలో మార్పు మొదలనవి చెప్పవచ్చు. వీటి అన్నిటి వల్ల లేదా వీటి పరస్పర చర్య వల్ల చలరాశులలో మార్పు సంభవించవచ్చు. కాలశ్రేణులలో మార్పులకు కారణమైన వివిధ అంశాలను స్థూలంగా నాలుగు భాగాలుగా చెప్పవచ్చు.

**13.2.1 కాలశ్రేణుల్లోని భాగాలు :** కాలశ్రేణుల్లో మార్పులకు కారణభూతమైన అంశాలను నాలుగు రకాలుగా వర్గీకరించడం సాంప్రదాయం. ఈ నాలుగు అంశాలను సాధారణంగా కాలశ్రేణుల్లో భాగాలని, కాలశ్రేణుల్లోని అంశాలు అని పిలుస్తారు.

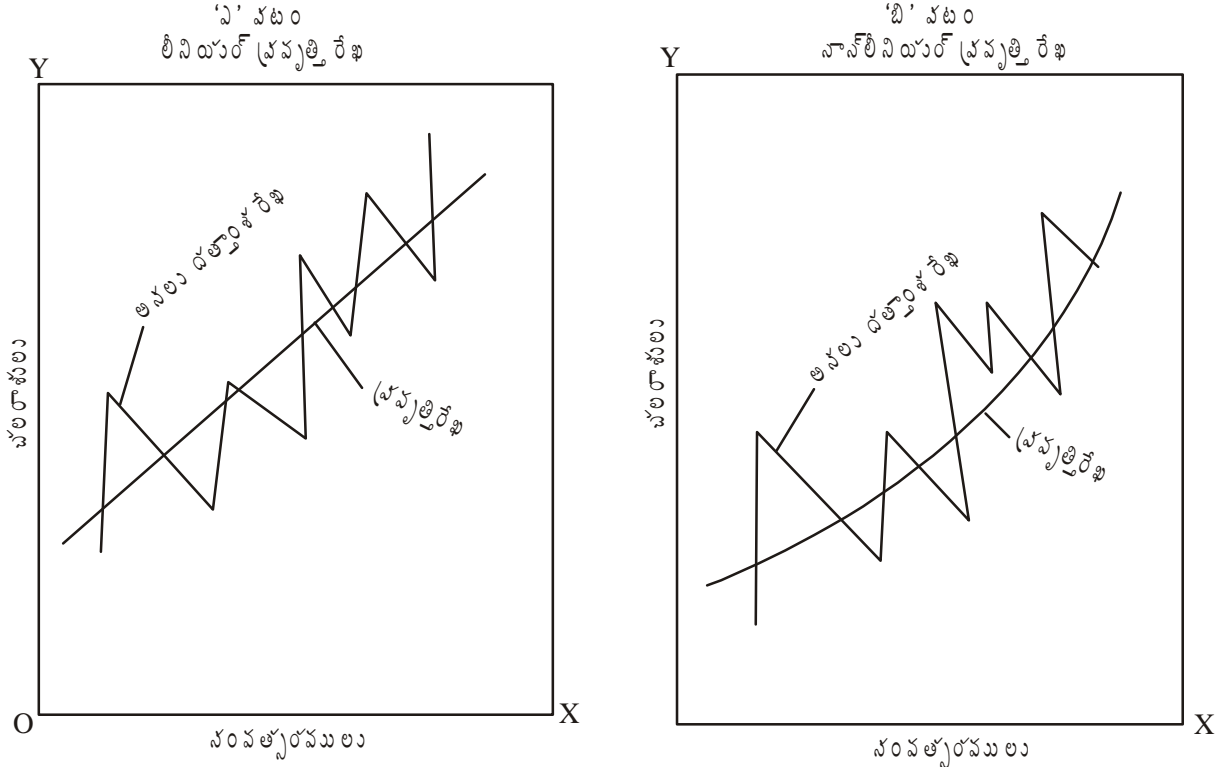
- అవి :
1. దీర్ఘకాలిక ప్రవృత్తి (Secular Trend or T)
  2. రుతువుల వల్ల వచ్చే హెచ్చుతగ్గులు (Seasonal Variations or S)
  3. చక్రీయ హెచ్చు, తగ్గులు (Cyclical Variations or C)
  4. నియమరహిత హెచ్చుతగ్గులు (Irregular Variations or I)

ఏ విధమైన కాలశ్రేణుల్లోనైనా ఈ నాలుగు అంశాలు వుండి దత్తాంశాన్ని ప్రభావితం చేస్తూ వుంటాయి. ఈ నాలుగు భాగాలను గురించి ప్రస్తుతం తెలుసుకుందాం.

**13.2.1.1 దీర్ఘకాలిక ప్రవృత్తి (T) :** కాలశ్రేణుల దత్తాంశంలో దీర్ఘకాలంలో పెరిగే లేదా తగ్గే లేదా స్థిరంగా కొనసాగే స్వభావాన్ని తెలియజేసే స్వభావాన్ని దీర్ఘకాలిక ప్రవృత్తి లేదా సాధారణ ప్రవృత్తి అంటారు. 'ప్రవృత్తి' అనే పదం నేటి కాలంలో అతి తరచుగా వాడే పదం. ప్రవృత్తి అనే పదంలో దీర్ఘకాలిక మార్పులు తప్ప స్వల్పకాలిక ఒడుదుడుకులు వుండవు. దీర్ఘకాలంలో కాలశ్రేణుల చలరాశులు పయనించే దిశనే ప్రవృత్తిగా చెప్పవచ్చు.

దీర్ఘకాలిక ప్రవృత్తి మార్పులకు కారణాల్లో ముఖ్యమైనవిగా జనాభా మార్పు, సాంకేతిక పరిజ్ఞానంలో మార్పు, వినియోగదారుల అలవాట్లు, అభిరుచుల్లో మార్పులను చెప్పటం జరుగుతుంది. జనాభాలో పెరుగుదల వస్తే వారు ఉపయోగించే వస్తువులన్నింటి వినియోగంలో ఉదాహరణకు ఆహారం, వస్త్రం, మార్పులు సంభవిస్తాయి. అదే విధంగా సాంకేతిక మార్పులు, అలవాట్లలో మార్పుల వల్ల వాటికి సంబంధించిన వస్తువులన్నింటిలో మార్పు సంభవించడం జరుగుతుంది. దీర్ఘకాలంలో ప్రవృత్తి కొన్ని సందర్భాల్లో పెరగడం, కొన్ని సందర్భాల్లో తగ్గడం, కొన్ని సందర్భాల్లో స్థిరంగా వుండడం జరుగుతుంది. ఈ ప్రవృత్తిలోని మార్పుల ధోరణి కూడా వివిధ రేఖల్లో ఉండవచ్చు. కొన్ని సందర్భాల్లో ప్రవృత్తి మార్పు ధోరణి సరళరేఖాత్మకంగా వుంటే, మరికొన్ని సందర్భాల్లో వక్రరేఖాత్మకంగా ఉండవచ్చు. సరళరేఖాత్మకంగా వుంటే లీనియర్ ప్రవృత్తి అని, వక్రరేఖాత్మక లేదా నాన్ లీనియర్ ప్రవృత్తి అంటాము. క్రింది 13.1 పటాల్లో 'ఎ' పటం లీనియర్ ప్రవృత్తిని, 'బి' పటం నాన్ లీనియర్ ప్రవృత్తిని సూచిస్తాయి.

రేఖాపటం 13.1



పై పటాల్లో రెండు ప్రవృత్తి రేఖలు పెరుగుచున్నవి కావున ఊర్ధ్వ ప్రవృత్తి రేఖలుగా కూడా చెప్పవచ్చు. ఒక వేళ తగ్గుచున్నట్లయితే అదో ప్రవృత్తిగా చెప్పవచ్చు.

**13.2.1.2 రుతువుల వల్ల వచ్చే హెచ్చుతగ్గులు :** స్వల్పకాలంలో వచ్చు మార్పులకు రుతువుల వల్ల వచ్చే హెచ్చుతగ్గులు మరియు చక్రీయ హెచ్చు తగ్గులు కారణాలుగా చెప్పవచ్చు. ఈ రెంటిలో రుతు సంబంధమైన హెచ్చుతగ్గులను గూర్చి తెలుసుకుందాం. ప్రతి సంవత్సరం క్రమం తప్పకుండా ఒక నియత కాలంలో లేదా నిర్ణీత కాల వ్యవధిలో రుతువుల వల్ల వచ్చే హెచ్చుతగ్గులు ఏర్పడతాయి. ఈ విధమైన మార్పులు ప్రతి సంవత్సరానికొకసారి పునరావృతం అవుతుంటాయి. దాదాపు అన్ని ఆర్థిక కార్యకలాపాలు రుతుసంబంధమైన మార్పులకు ప్రభావితం అవుతాయి. ఉదాహరణకు పంట కాలంలో ధర తగ్గటం, కాలానుగుణంగా డిపార్ట్‌మెంట్‌ల్ స్టోర్స్‌లో అమ్మకాలలో మార్పులు, వివిధ కాలాల్లో బాంకు డిపాజిట్లు, బాంకు క్లియరెన్సు మొదలైనవి. ఈ ఋతు సంబంధమైన హెచ్చు తగ్గులకు కారణాలుగా క్రింది అంశాలను చెప్పవచ్చు.

- (ఎ) **వాతావరణం ప్రభావం :** ప్రకృతి శక్తుల ప్రభావం వల్ల వాతావరణ పరిస్థితుల్లో మార్పులు సంభవిస్తాయి. వర్షపాతం, గాలిలో తేమ, ఉష్ణం మొదలైన ప్రకృతి శక్తులలోని మార్పుల ఫలితంగా ఉత్పత్తులు ప్రభావితం అవుతాయి. చలికాలంలో ఉన్ని దుస్తుల ఉత్పత్తి పెరిగితే, వర్షాకాలంలో గొడుగులు, రెయిన్ కోటుల ఉత్పత్తి పెరుగుతుంది. వాతావరణం వల్ల వ్యవసాయం కూడా ప్రభావితం అవుతుంది. ఈ విధంగా వాతావరణంలో మార్పులు ఋతు సంబంధమైన మార్పులకు కారణమౌతాయి.
- (బి) **ఆచారాలు, సాంప్రదాయాలు, అభిరుచులు, అలవాట్లు :** ప్రకృతి కారణాలతో పాటు మానవులు ఏర్పరుచుకున్న ఆచారాలు, సాంప్రదాయాలు, అభిరుచులు, అలవాట్లు కూడా ఋతుగత హెచ్చు తగ్గులకు కారణమౌతాయి. ఉదా॥కు

దీపావళి, దసరా, క్రీస్మస్ సందర్భాల్లో విభిన్న వస్తువుల డిమాండ్లలో మార్పులు కనిపిస్తాయి. జూన్ నెలలో స్కూళ్ళను తెరుస్తారు కావున యూనిఫారం, పుస్తకాలు మొదలైన వాటి డిమాండులో మార్పులు ఏర్పడతాయి.

**13.2.1.3 చక్రీయ హెచ్చు తగ్గులు (C) :** చక్రీయ హెచ్చు తగ్గులు వ్యాపార చక్రాల ఫలితంగా ఏర్పడతాయి. ఇవి క్రమబద్ధంగా పునరావృతమౌతూ, ఒక సం॥ము లేదా ఆ పై బడిన కాల వ్యవధిని కలిగి ఉంటాయి. ఆర్థిక, వ్యాపార రంగములో క్రమబద్ధంగా వచ్చే హెచ్చు తగ్గులను వ్యాపార చక్రాలు అంటారు. ఇవి నాలుగు ముఖ్య దశలను అనగా సౌభాగ్యము, తిరోగమనం, ఆర్థిక మాంద్యం, పురోగమనం అనే నాలుగు దశలను కలిగి ఉంటాయి. ప్రతి దశలోను వివిధ ఆర్థిక కార్యకలాపాలు వివిధ రకాలుగా ఉంటాయి. పురోగమనం, సౌభాగ్యంలో ఆర్థిక కార్యక్రమాలు పెరుగుతూ, తిరోగమనం, ఆర్థిక మాంద్యంలో తగ్గటం జరుగుతూ ఉంటాయి.

**13.2.1.4 నియమ రహిత హెచ్చు తగ్గులు (I) :** పైన తెలిపిన కారణాలతో పాటు కాలశ్రేణులను ప్రభావితం చేసే మరో అంశము నియమ రహిత హెచ్చు తగ్గులు. వీటినే ప్రతిచయన హెచ్చు తగ్గులు అంటారు. ఇవి హఠాత్తుగా సంభవించే మార్పులు. ఇవి నిర్ణీత కాల వ్యవధిలో పునరావృతం అవుతాయని చెప్పలేము. ప్రమాదాలు, సమ్మెలు, లాకౌట్లు, వరదలు, భూకంపాలు, యుద్ధాలు మొదలైనవి ఈ కోవలోకి వస్తాయి.

**13.2.2 కాల శ్రేణులలో ఉపయోగించే విశ్లేషణ నమూనాలు :** కాల శ్రేణులు పైన తెలిపిన నాలుగు అంశాలు పై అనగా దీర్ఘకాలిక ప్రవృత్తి (T), ఋతు సంబంధమైన హెచ్చు తగ్గులు (S), చక్రీయ హెచ్చు తగ్గులు (C) మరియు నియమ రహిత హెచ్చు తగ్గులు (I) పై ప్రభావితమై మారుతూ ఉంటాయి. వీటిని విశ్లేషించటానికి రెండు నమూనాలు ఉన్నాయి.

1. కూడిక నమూనా
2. గుణించే నమూనా

**13.2.2.1 కూడిక నమూనా :-** ఈ నమూనా ప్రకారం కాల శ్రేణులను క్రింది విధంగా తెలుపవచ్చు.

$$Y = T + S + C + I$$

ఈ కూడిక నమూనా ప్రకారం పైన తెలిపిన నాలుగు అంశాలు స్వతంత్రంగా పని చేస్తాయని, ఏ అంశం కూడా మిగిలిన మూడు అంశాల పై ప్రభావాన్ని కలుగజేయవని ఊహిస్తుంది. కాని వాస్తవానికి ఒక దాని ప్రభావం మరో దానిపై ఉంటుంది. అందుచేతనే గుణించే నమూనాను తెలుసుకోబోతున్నాము.

**13.2.2.2 గుణించే నమూనా :** ఆర్థిక వ్యవస్థలోని దాదాపు అన్ని కాలశ్రేణులు కింది గుణించే నమూనాను పోలి ఉంటాయి.

$$Y = T \times S \times C \times I$$

ఈ నమూనా ప్రకారం పైన తెలిపిన నాలుగు అంశాలు విధిగా స్వతంత్రత కలిగి ఉండాలని కాకుండా ఒక అంశం మిగిలిన అంశాలను ప్రభావితం చేయవచ్చు అని రూపొందించుట జరిగింది.

**13.2.3 కాల శ్రేణుల దత్తాంశాన్ని ఎడిట్ చేయటం :** సేకరించిన కాలశ్రేణుల దత్తాంశం పోల్చుటకు, ఫలితాలను వెలిబుచ్చుటకు అనుగుణంగా ఉండవచ్చు లేదా కొన్ని సర్దుబాట్లు అవసరమవువచ్చు. ఫలితాలను వెలిబుచ్చేందుకు, పోల్చేందుకు అనుగుణంగా కాలశ్రేణుల దత్తాంశాన్ని సరి చేయటాన్నే ఎడిటింగ్ అంటారు. ఎడిటింగ్లో అనవసరమైనది పరిహరించి, అవసరమైన సర్దుబాట్లు చేయటం జరుగుతుంది. దత్తాంశంలో సవరణ విషయంలో వివేకంతో, విచక్షణా జ్ఞానంతో ప్రవర్తించవలె. (1) కాలెండరు మార్పులు, (2) ధరల మార్పులు, (3) జనాభా మార్పులు, (4) తదితరాలైన మార్పులు - వీటిలో సవరణ అవసరము కావచ్చు.

**13.2.3.1 కాలెండరు మార్పులు :** అన్ని నెలలలో ఉండే రోజులు ఒక్క విధంగా ఉండవు. కాబట్టి ఒక నెలలోని అమ్మకాలను ఇంకో నెలలో అమ్మకాలతో పోల్చిచూడటానికి వీలు ఉండదు. ఈ ఇబ్బందిని ఎదుర్కోవడానికి ఒక నెలలోని రోజుల సంఖ్యతో అదే నెలలోని అమ్మకాలను విభాగించవలె. కొన్ని సందర్భాలలో నెలసరి దత్తాంశాలను (Monthly Data) ఒక కాలండరు రోజు ప్రకారం

సరి చూసినట్లయితే బాగా ఉండవచ్చు. ఉదా॥ ఒక సినిమా హాలులో వచ్చే ఆదాయము కొన్ని సందర్భాలలో పని రోజు (Working Day) ప్రకారం సరిచూస్తే బాగుంటుంది.

**13.2.3.2 ధరలలో మార్పులు :** ఒక్కొక్క యూనిట్ ధరలో యూనిట్ల మొత్తాన్ని హెచ్చరించినట్లయితే, అమ్మకపు విలువ లభ్యమవుతుంది. అమ్మిన సరుకు మొత్తాలు, ధరలు కూడా ఒక కాలంలో ఉన్నట్లు, ఇంకో కాలంలో ఉండవు. మారుతున్న ధరల యొక్క అలజడి కలిగించే ప్రభావాన్ని (disturbing influence) పరిశీలించితే గాని ఒక కాలంలోని అమ్మకాలను ఇంకో కాలంలోని అమ్మకాలతో మనము పోల్చి చూడలేము. ఒక కాల వ్యవధిలోని అమ్మకాల సంఖ్యను, ఆ కాల వ్యవధి యొక్క ధరలతో భాగించినట్లయితే, మనం దానిని పోగొట్టగలము.

$$\text{అమ్మకాల విలువ} = \text{సరుకుల మొత్తము} \times \text{ధర}$$

**13.2.3.3 జనాభాలో మార్పులు :** మన దేశంలో 1951లో వినియోగించిన ధాన్యాన్ని పోల్చిచూడడానికి వీలులేదు. ఎందుకంటే ఈ నలభై సంవత్సరాలలో జనాభా మిక్కుటంగా పెరిగింది. కాని ఒక సంవత్సరంలో వినియోగమైన ధాన్యపు మొత్తాన్ని, ఆ సంవత్సరంలో జనాభా మొత్తంతో భాగిస్తే మనము తలసరి వినియోగాన్ని (per capital consumption) తెలుసుకోవచ్చు. అమ్మకపు దత్తాంశంలో మొదలైన వాటిని తలసరి లెక్కను చూపవలె.

**13.2.3.4 తదితరాలైన మార్పులు :** కాల గమనంలో కొన్ని ఇతర మార్పులు రావచ్చు. ఇది వరకు తూకాన్ని టన్నులలో లెక్క వేసేవారు. ఇప్పుడు మెట్రిక్ టన్నులలో లెక్క చూస్తున్నారు. ఇట్లాంటి మార్పులను గమనిస్తూ ఉండవలె. కాలశ్రేణుల విశ్లేషణ భావ పూరితంగా ఉండవలెనంటే పరిశీలనలు గల సంపూర్ణకాలానికి దత్తాంశం సరిపోలేటట్లు ఉండవలె. కాని అది అంత సాధ్యమైనది కాదు.

**13.2.4 కాల శ్రేణుల వల్ల ప్రయోజనాలు :** కాల శ్రేణుల విశ్లేషణ వ్యాపార వేత్తలకు, ఆర్థిక వేత్తలకు అత్యంత ప్రయోజనకరమైనవి. వీరితోపాటు సామాజిక, భౌతిక, సామాన్య మొదలైన శాస్త్రాల్లో పనిచేసే శాస్త్రవేత్తలకు కూడా ఎంతో సహాయపడతాయి. కాలశ్రేణుల విశ్లేషణకు సంబంధించిన ప్రయోజనాలలో కొన్నింటిని గురించి తెలుసుకుందాం.

- (ఎ) కాల శ్రేణుల వల్ల దత్తాంశము యొక్క మార్పు స్వభావాన్ని అనగా దత్తాంశములోని మార్పుల (Variations) స్వభావాన్ని తెలుసుకోవచ్చు.
- (బి) వ్యాపార సంబంధమైన, ప్రణాళికల రూపకల్పన అమలుకు సంబంధించిన నిర్ణయాలు తీసుకోవటానికి ఉపకరిస్తుంది.
- (సి) వర్తమాన గణాంకాలకు, అంచనా వేసిన గణాంకాలకు మధ్య వ్యత్యాసాలను తెలియజేసి వ్యత్యాసాలకు సంబంధించిన కారణాల విశ్లేషణకు ఉపకరిస్తుంది.
- (డి) భవిష్యత్తుకు సంబంధించి జోస్యాన్ని తెలియజేయటం లేదా అంచనాలను వెయ్యటానికి కాల శ్రేణులు ఎంతో ఉపయోగపడతాయి.
- (ఇ) వివిధ ప్రదేశాలలో, వివిధ కాలాల్లో చలరాశుల విలువల యొక్క మార్పులను పోల్చేందుకు సహకరిస్తాయి.

**13.2.5 కాల శ్రేణుల విశ్లేషణలో ప్రవృత్తిని కొలిచే పద్ధతులు :-** కాల శ్రేణుల విశ్లేషణలో ప్రవృత్తిని లేదా ప్రవృత్తి విలువలను కింది పద్ధతుల ద్వారా కొలవడం జరుగుతుంది. అవి -

- ఎ) సరస వక్రరేఖా పద్ధతి (Free-Hand Curve)
  - బి) అర్థ మాధ్యమాల పద్ధతి (Semi-Average Method)
  - సి) కనిష్ట వర్గాల పద్ధతి (Least Squares Method)
  - డి) చలిత మాధ్యమాల పద్ధతి (Method of Moving Averages)
- ఈ వివిధ పద్ధతులను గురించి వివరంగా తెలుసుకుందాం.

**సరస వక్రరేఖా పద్ధతి :** ఈ పద్ధతిని రేఖా పద్ధతి లేదా పరిశీలన ద్వారా వక్రరేఖ సంధాన పద్ధతి అంటారు. ఈ పద్ధతి చాలా సులువైనది. ఈ పద్ధతిలో మొదట రేఖాపటములో అసలు దత్తాంశమును (Original Data) బిందువులతో గుర్తించి వాటిని స్కేలుతో కలపడం జరుగుతుంది. ఈ రేఖను అసలు దత్తాంశరేఖ అంటారు. ఆ తరువాత ఈ అసలు దత్తాంశరేఖ గమనాన్ని బట్టి హెచ్చుతగ్గులులేని ఒక వక్రరేఖను పరిశీలన ద్వారా గీయటం జరుగుతుంది. అంటే ఈ విధంగా గీసిన ప్రవృత్తిరేఖ ద్వారా రుతు సంబంధమైన, చక్రీయ, నియమరహిత హెచ్చుతగ్గులు పరిహరించబడతాయి. అయితే ప్రవృత్తి రేఖను గీచేటప్పుడు తగు జాగ్రత్తలు తీసుకోవలసి వుంటుంది.

**సుగుణాలు :**

1. ఈ పద్ధతి అతి సులువైనది.
2. గణన తక్కువ సమయంలో, ఏ విధమైన గణిత పద్ధతి అవసరం లేకుండా చేయవచ్చు.
3. ఈ పద్ధతి సరళమైనది. దీని ద్వారా సరళ లేదా వక్రరేఖా ప్రవృత్తిని సంధానం చేయవచ్చు.

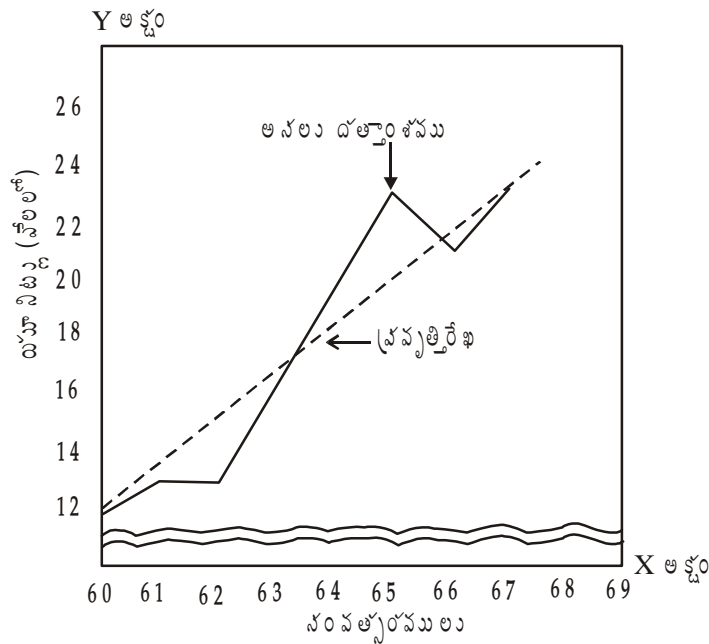
**లోపాలు :**

1. ఈ పద్ధతిలోని అతి ముఖ్యమైన లోపం గణకుని పాక్షికతకు అవకాశం ఎక్కువ. గణకుడు నైపుణ్యతలేని వాడైనట్లయితే ఈ పద్ధతి వల్ల దుష్ప్రతిఫలం ఎక్కువ.
2. ప్రవృత్తిని కొలవటానికి ఈ పద్ధతి ఉపయోగపడదు.
3. గణకుడి వ్యక్తిగత ఆలోచన, నైపుణ్యాల పై ఆధారపడి ఉంటుంది. కావున దీని ద్వారా చేసిన అంచనాలు ప్రమాదభరితంగా కూడా మారతాయి.

**ప్రశ్న -** ఈ కింది సమాచారానికి సరస వక్ర రేఖా పద్ధతిలో ప్రవృత్తిరేఖను గీయండి.

<b>సంవత్సరము :</b>	1960	1961	1962	1963	1964	1965	1966	1967
<b>వేలలో యూనిట్లు :</b>	12	13	13	16	19	23	21	23

**రేఖా పటం - 13.2**



(బి) పాక్షిక సగటుల పద్ధతి :- ఈ పద్ధతిని అర్థ మాధ్యమాల పద్ధతి అని కూడా అంటారు. పై పద్ధతి కన్నా ఈ పద్ధతి మెరుగైనది. ఈ పద్ధతిలో కాల శ్రేణుల దత్తాంశ విలువలను రెండు సమ భాగాలుగా చేయాలి. ఉదాహరణకు 1955 నుంచి 1964కు గల కాల శ్రేణుల విలువలను 1955 నుంచి 1959 వరకు, 1960 నుంచి 1964కు రెండు భాగాలు చేయాలి. ఈ రెండు భాగాలకు సంబంధించి సగటులను గణన చేసి, వచ్చిన సగటును ఆ భాగానికి సంబంధించిన మధ్య సంవత్సరానికి ఇవ్వాలి. ఈ విలువలను రేఖా పటంలో గుర్తించి ఆ రెండు విలువలను గుర్తించిన బంధువులను స్కేలుతో కలిపితే వచ్చే రేఖనే ప్రవృత్తి రేఖ అంటాము. ఈ రేఖకు కిందకు లేదా మీదకు పొడిగించి మధ్యస్థ విలువలు పొందవచ్చు లేదా భవిష్యత్తులు వలను సూచించవచ్చు.

మనకు ఇచ్చిన దత్తాంశం సరి సంఖ్యలో ఉంటే సులువుగా రెండు భాగాలు చేయవచ్చు. ఒక వేళ బేసి సంఖ్యలే ఉంటే మధ్య సంవత్సరాన్ని మినహాయించి రెండు భాగాలుగా చేసుకోవాలి. అంటే ఇచ్చిన దత్తాంశం 10 సం॥లు కలిగి ఉంటే మొదటి 5 సం॥లు, రెండో ఐదు సం॥లుగా చేయాలి. ఒకవేళ 11 సం॥లు ఉంటే మధ్య సం॥ను (అంటే ఆరో సం॥ను) వదలి, మొదటి ఐదు సం॥ములను, చివరి ఐదు సం॥లను కలిపి సగటు గణించి, రేఖా పటంలో గుర్తించి ప్రవృత్తి రేఖను రూపొందించాల్సి ఉంటుంది.

ఉదాహరణ -1 (బేసి సంఖ్యలో సం॥లు ఇచ్చినపుడు) : కింది సమాచారానికి పాక్షిక సగటుల పద్ధతి ద్వారా ప్రవృత్తి రేఖను చూపండి.

సం॥ము	A సంస్థ అమ్మకాలు లేక యూనిట్లు	సం॥ము	A సంస్థ అమ్మకాలు వేల యూనిట్లలో
1990	102	1994	108
1991	105	1995	116
1992	114	1996	112
1993	110		

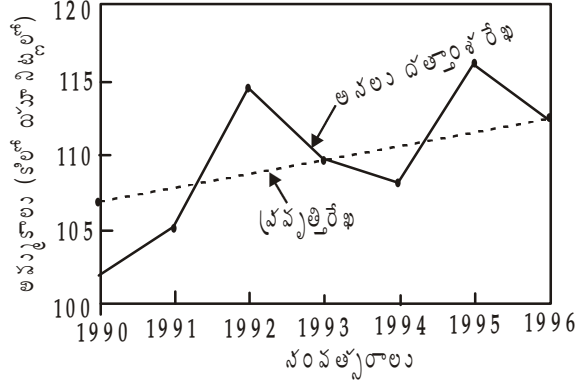
సమాధానం :- పైన ఇచ్చిన ఉదాహరణలో 7 సం॥లు ఇవ్వటం జరిగింది. ఈ ఏడు సం॥లలో మధ్య సం॥ము అంటే 1993ను వదలివేసి మొదటి మూడు సం॥ల చివరి మూడు సం॥ల పాక్షిక సగటులను కనుగొని మధ్య సం॥లకు కింద చూపిన విధంగా ఇవ్వాలి. ఆ తరువాత ఆ విలువలను రేఖా పటంలో గుర్తించి వాటిని కలిపితే ప్రవృత్తి రేఖ వస్తుంది.

సం॥ము	A సంస్థ అమ్మకాలు (వేల యూనిట్లలో)	పాక్షిక సగటులు
1990	102	
1991	105	$\frac{102+105+114}{3}=107$
1992	114	
1993	110	
1994	108	
1995	116	$\frac{108+116+112}{3}=112$
1996	112	

పాక్షిక సగటుల పద్ధతిలో ప్రవృత్తి రేఖను రూపొందించటం



రేఖా పటం - 13.3



ఉదాహరణ - 2 : (సరి సంఖ్యలో సంలు ఇచ్చినప్పుడు) : పాక్షిక సగటు పద్ధతిలో ప్రవృత్తి రేఖను కనుగొని, 1970 సం॥నకు ప్రవృత్తి విలువను అంచనా వెయ్యండి.

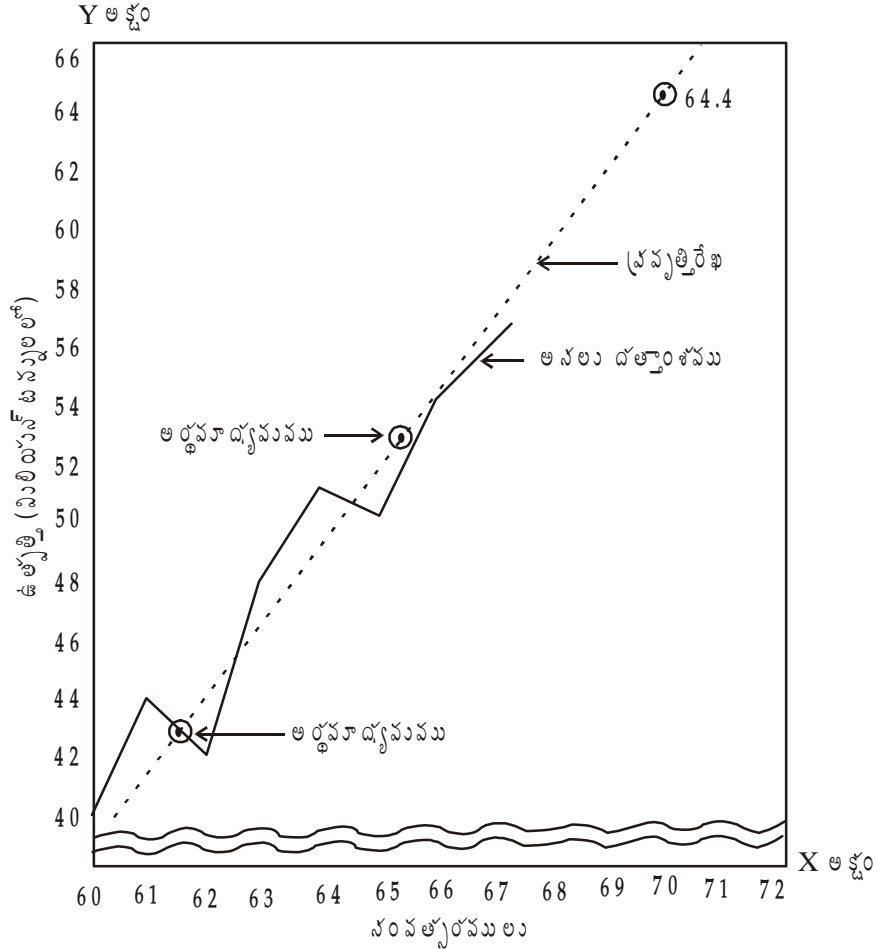
సంవత్సరాలు	ఉత్పత్తి (మిలియను టన్నులలో)	సంవత్సరాలు	ఉత్పత్తి (మిలియను టన్నులలో)
1960	40	1964	51
1961	44	1965	50
1962	42	1966	54
1963	48	1967	56

జవాబు : మొదటి నాలుగు సంవత్సరాల సగటు =  $\frac{174}{4} = 43.5$ . చివరి నాలుగు సంవత్సరాల సగటు =  $\frac{211}{4} = 52.75$ . ఈ రెండు సగటు విలువలను మొదటి, చివరి భాగాల మధ్య బిందువులలో తీసుకోవాలి. అంటే మొదటి భాగం మధ్య బిందువు 1961 సంవత్సరం జూలై 1వ తేదీగాను, చివరి భాగం మధ్య బిందువు 1965 జూలై 1 గాను తీసుకొని రెండు బిందువులు గుర్తించవాలి.

సంవత్సరాలు	ఉత్పత్తి (మిలియను టన్నులలో)	అర్థసాధ్యమాలు
1960	40	
1961	44	
		$\frac{40 + 44 + 42 + 48}{4} = 43.5$
1962	42	
1963	48	
1964	51	
1965	50	
		$\frac{51 + 50 + 54 + 56}{4} = 52.75$
1966	54	
1967	56	

రేఖా పటములో చూపటం

రేఖాపటం - 13.4



పై పటంలో అర్థ మాధ్యమాల పద్ధతి ద్వారా రూపొందించిన ప్రవృత్తి రేఖను పొడిగించి 1970వ సం॥మునకు అంచనా కట్టిన విలువ 64.4 మిలియన్ టన్నులు.

ఉదాహరణ - 3 : దిగువ దత్తాంశం నుంచి అర్థ మాధ్యమాల పద్ధతిలో ప్రవృత్తి రేఖను చూపండి.

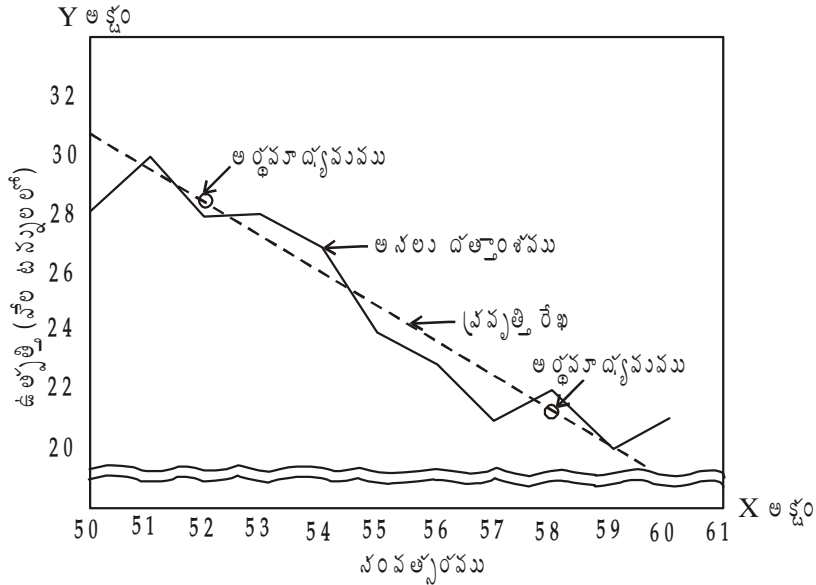
సంవత్సరము	ఉత్పత్తి (వేల టన్నులలో)	సంవత్సరము	ఉత్పత్తి (వేల టన్నులలో)
1950	28	1956	23
1951	30	1957	21
1952	28	1958	22
1953	28	1959	20
1954	27	1960	21
1955	24		

**జవాబు :** పై దత్తాంశంలో 11 సంవత్సరములు ఇచ్చినందున, మధ్య సంవత్సరమును విడిచి మొదటి సంవత్సరాల సగటు, చివరి అయిదు సంవత్సరాల సగటు తీసుకోవాలి,

$$\text{మొదటి 5 సం॥ సగటు} = \frac{141}{5} = 28.2, \text{ చివరి 5 సం॥ సగటు} = \frac{107}{5} = 21.4$$

మొదటి 5 సం॥ మధ్య బిందువుగా 28.2 ను 1952వ సంవత్సరము వద్దను, చివరి 5 సం॥ మధ్య బిందువుగా 21.4 ను 1958 వ సం॥ వద్దను గుర్తించి, ఆ రెండు బిందువులను కలిపిన మనకు కావలసిన ప్రవృత్తి రేఖ వస్తుంది.

**రేఖా పటం 13.5**



**పాక్షిక సగటుల పద్ధతి - ప్రయోజనాలు :**

1. చలిత మాధ్యమాల పద్ధతి లేక కనిష్ట వర్గాల పద్ధతితో పోలితే ఈ పద్ధతి సులువైనది.
2. వ్యక్తిగత పాక్షికతకు తావులేదు. కావున ప్రవృత్తిని కొలిచినట్లయితే వచ్చే విలువలు ఒకే విధంగా ఉంటాయి.
3. ఈ పద్ధతి ద్వారా భూత, భవిష్యత్ విలువలను అంచనా వెయ్యవచ్చు.

**లోపాలు :**

1. ఈ పద్ధతి సరళ రేఖా ప్రవృత్తిని మాత్రమే ఇవ్వగలదు. ఒక వేళ వక్రరేఖా సంబంధం కనిపించిననూ మనం సరళ రేఖను మాత్రమే రూపొందించగలం.
2. ఈ పద్ధతిలో ఉపయోగించిన సగటు (పాక్షిక సగటుల కోసం) అంకమధ్యమం. అయితే అంక మధ్యమానికి కూడా కొన్ని పరిమితులు ఉన్నాయి. ఆ పరిమితులు ఈ పద్ధతికి వర్తిస్తాయి.
3. ఈ పద్ధతి ద్వారా రూపొందించిన ప్రవృత్తి విలువలు నమ్మదగినవి కాదు. ఎందుకంటే ఈ పద్ధతిలో రూపొందించిన ప్రవృత్తి రేఖ గణిత పద్ధతిలో రూపొందించింది కాదు.

**చలిత మాధ్యమాల పద్ధతి :** ప్రవృత్తిని కొలిచే పద్ధతులైన సరస వక్రరేఖా పద్ధతి, పాక్షిక సగటులలోని లోపాల దృష్ట్యా రూపొందించిన మరో పద్ధతే ఈ పద్ధతి. ప్రవృత్తిని కనుగొనేందుకు ఈ పద్ధతి చాలా సులువైనది, సరళమైనది. ఈ పద్ధతిలో ముందుగా ఎన్ని సం॥ల చలిత మాధ్యమాలను కనుగొనాలో నిర్ణయించుకోవాలి. అంటే వరుసగా ఏయే అంశాల సరాసరిని కనుగొనాలో నిర్ణయించుకోవాలి.

ఈ సరాసరి లేదా అంకమధ్యమం 2, 3, 4, 5, 6 సం॥లు లేదా అంశాలు కావచ్చు. ఉదాహరణకు 5 సం॥ల చలిత మాధ్యమాన్ని కనుగొనవలసి వస్తే మొదటి 5 సం॥ల చలరాశుల సరాసరి కనుగొని ఆ ఐదు సంవత్సరాలలో మధ్య సం॥మునకు లేదా 3వ సం॥నకు ఎదురుగా ఇవ్వాలి. ఆ తరువాత మొదటి సం॥మును వదలి ఆరో సం॥మును కలుపుకుంటూ చలిత మాధ్యమాలను కనుగొంటూ మధ్య సంవత్సరానికి ఇస్తూ పోవాలి.

చలిత మాధ్యమాన్ని కాలాన్ని నిర్ణయించటంలో నేర్పరితనం అవసరం. దత్తాంశంలోని చక్ర భ్రమణ కాల వ్యవధికి అనుగుణంగా చలిత మాధ్యమ కాలాన్ని ఎంపిక చేసుకోవలసి ఉంటుంది. చలిత మాధ్యమాలను కనుగొనే పద్ధతులను బేసి సంఖ్యలు ఉన్నప్పుడు, సరి సంఖ్యలు ఉన్నప్పుడు అని రెండు విధాలుగా చూపటం జరిగింది.

1. బేసి సంఖ్యలు అయితే : చలిత మాధ్యమాల కాలం బేసి సంఖ్య అని భావిస్తే అంటే 3 సం॥లు, 5 సం॥లు, 7 సం॥లు వగైరా అయితే చలిత మాధ్యమాలను కనుగొని మధ్య సం॥మునకు ఇస్తూ కొనసాగించాలి. ఉదా॥కు 3 సం॥ల చలిత మాధ్యమమైతే మొదటి 3 సం॥ల చలిత మాధ్యమాలు కనుగొని మధ్య సం॥మునకు అంటే 2వ సం॥నకు ఇవ్వాలి. ఆ తరువాత మొదటి సం॥ర విలువను మినహాయించి 4వ సం॥ విలువను జత చేసి సగటును మళ్ళీ మధ్య సం॥నకు ఇవ్వాలి. ఈ విధంగా కొనసాగించాలి. బేసి సంఖ్య చలిత మాధ్యమాలను కనుగొనే విధానాన్ని చూద్దాం.

ఉదాహరణ - 1 : కింది సమాచారానికి 3 సం॥ల చలిత మాధ్యమాలను కనుక్కోండి.

సం॥ ము	ఉత్పత్తి (మెట్రిక్ టన్నుల్లో)	సం॥ ము	ఉత్పత్తి (మెట్రిక్ టన్నుల్లో)
1983	15	1991	63
1984	21	1992	70
1985	30	1993	74
1986	36	1994	82
1987	42	1995	90
1988	46	1996	95
1989	50	1997	102
1990	56		

### 3 సం॥ల చలిత మాధ్యమాల గణన

సం॥ ము	ఉత్పత్తి (మెట్రిక్ టన్నుల్లో)	3 సం॥ల చలిత మొత్తాలు	3 సం॥ల చలిత మాధ్యమాలు
1983	15	---	---
1984	21	66	22.00
1985	30	87	29.00
1986	36	108	36.00
1987	42	124	41.33
1988	46	138	46.00
1989	50	152	50.67

1990	56	169	56.33
1991	63	189	63.00
1992	70	207	69.00
1993	74	226	75.33
1994	82	246	82.00
1995	90	267	89.00
1996	95	287	95.67
1997	102	---	---

ఉదాహరణ - 2 : కింది సమాచారానికి 5 సం||ల చలిత మాధ్యమాలను కనుక్కోండి.

సం  లు	విద్యార్థుల సంఖ్య	సం   మొ	విద్యార్థుల సంఖ్య
1988	332	1993	405
1989	317	1994	410
1990	357	1995	417
1991	392	1996	405
1992	402	1997	431

సమాధానం - 5 సం||ల చలిత మాధ్యమాల గణన

సం  లు	విద్యార్థుల సంఖ్య	5 సం  ల చలిత మొత్తాలు	5 సం  ల చలిత మాధ్యమాలు
1988	332	---	---
1989	317	---	---
1990	357	1800	360.0
1991	392	1873	374.6
1992	402	1966	393.2
1993	405	2036	407.2
1994	410	2049	409.8
1995	417	2078	415.6
1996	405	---	---
1997	431	---	---

ఉదాహరణ - 3 : కింది సమాచారానికి 5 సం॥ల 7 సం॥ల చలిత మాధ్యమాలను కనుక్కోండి. రేఖా పటంలో చూపండి.

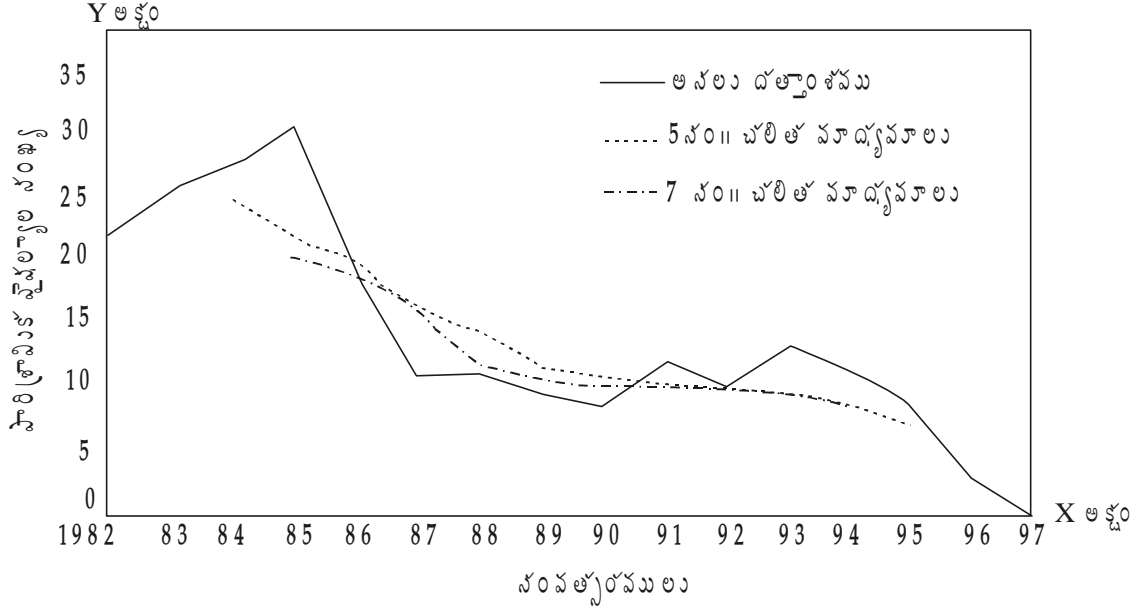
సం॥లు	పారిశ్రామిక వైఫల్యాల సంఖ్య	సం॥ము	పారిశ్రామిక వైఫల్యాల సంఖ్య
1982	23	1990	9
1983	26	1991	13
1984	28	1992	11
1985	32	1993	14
1986	20	1994	12
1987	12	1995	9
1988	12	1996	3
1989	10	1997	1

సమాధానం - 5 సం॥ల, 7 సం॥ల చలిత మాధ్యమాల గణన

సం॥ము	పారిశ్రామిక వైఫల్యాల సంఖ్య	5 సం॥ల చలిత మొత్తము	5 సం॥ల చలిత మాధ్యమాలు	7 సం॥ల చలిత మొత్తము	7 సం॥ల చలిత మాధ్యమాలు
1982	23	---	---	---	---
1983	26	---	---	---	---
1984	28	129	25.8	---	---
1985	32	118	23.6	153	21.9
1986	20	104	20.8	140	20.0
1987	12	86	17.2	123	17.6
1988	12	63	12.6	108	15.4
1989	10	56	11.2	87	12.4
1990	9	55	11.0	81	11.6
1991	13	57	11.4	81	11.6
1992	11	59	11.8	78	11.1
1993	14	59	11.8	71	10.1
1994	12	69	9.8	63	5.0
1995	9	39	7.9	---	---
1996	3	---	---	---	---
1997	1	---	---	---	---

రేఖాపటం 13.6

5 సం॥ల, 7 సం॥ల చలిత మాధ్యమాలను రేఖాపటంలో చూపుట



2. సరి సంఖ్య అయినట్లయితే : చలిత మధ్యమాన్ని కనుగొనే సగటు సరి సంఖ్యకు సంబంధించి అంటే 2, 4, 6, 8 సం॥లు అయితే చలిత మధ్యమాలు రెండు సం॥ల మధ్య కాలానికి వస్తాయి. ఆ తరువాత మరల రెండు సం॥ల సగటును రూపొందించి కేంద్రీకృతం చేస్తే విలువలు సంవత్సరాల కనుబంధంగా వస్తాయి. ఈ విధానాన్నే కేంద్రీకృతం చేయటం అంటారు. సరి సంఖ్యలో చలిత మాధ్యమాలను కనుగొనే విధానాన్ని ప్రస్తుతం ఉదాహరణల ద్వారా తెలుసుకుందాం.

ఉదాహరణ 1 : కింది సమాచారానికి 4 సం॥ల చలిత మాధ్యమాలను కనుగొనండి.

సం॥ము	చలరాశులు	సం॥ము	చలరాశులు
1984	12	1991	100
1985	25	1992	82
1986	39	1993	65
1987	54	1994	49
1988	70	1995	34
1989	87	1996	20
1990	105	1997	7

సం॥ను	చలరాశులు	4 సం॥ల చలిత మొత్తము	4 సం॥ల చలిత మాధ్యమాలు	4 సం॥ల చలిత మాధ్యమాలను కేంద్రీకృతం చేయగా
1984	12	---	---	---
1985	25	---	---	---
	←	130	32.5	
1986	39			← 39.75
	←	188	47.0	
1987	54			← 54.75
	←	250	62.5	
1988	70			← 70.75
	←	316	79.0	
1989	87			← 84.75
	←	362	90.5	
1990	105			← 92.00
	←	374	93.5	
1991	100			← 90.75
	←	352	88.0	
1992	82			← 81.00
	←	296	74.0	
1993	65			← 65.75
	←	230	57.5	
1994	49			← 49.75
	←	168	42.0	
1995	34			← 34.75
	←	110	27.5	
1996	20	---	---	---
1997	7	---	---	---

పైన సూచించినట్లుగానే 2 సం॥ల, 6 సం॥ల, 8 సం॥ల చలిత మాధ్యమాలను కూడా కనుగొని రేఖా పటంలో కూడా చూపవచ్చు. బేసి సంఖ్యల చలిత మాధ్యమాలతో పోల్చితే సరి సంఖ్యలో చలిత మాధ్యమాలను కనుగొనేటప్పుడు అదనంగా కేంద్రీకృతం చేయవలసి ఉంటుంది.

**చలిత మాధ్యమాల పద్ధతి పల్ల ప్రయోజనాలు**

1. కనిష్ట వర్గాల పద్ధతితో పోల్చితే ఈ పద్ధతి సులువు.



2. ఉన్న చలరాశులకు కొత్తగా చలరాశులు వచ్చిచేరినా, తగ్గించవలసి వచ్చినా ప్రవృత్తి విలువలలో పెద్దగా మార్పులు సంభవించవు. అదనంగా కొన్ని వచ్చి చేరతాయి తప్ప ఉన్నవి మారవు.
3. వ్యాపార చక్రాల కాలం, చలిత మాధ్యమాల కాలం ఒకటే అయితే చక్రీయ హెచ్చు తగ్గులను ఈ పద్ధతిలో వాటికనే పరిహరించబడతాయి.
4. దత్తాంశ స్వభావాన్ని బట్టి అనుగుణమైన విధంగా చర్యలను తీసుకోవటానికి గణకుడికి అవకాశం ఉంటుంది.
5. శ్రేణుల ప్రవృత్తి స్వభావం నియమ రహితంగా (Irregular Trend) ఉంటే ఈ పద్ధతి చాల ఉత్తమమైనది.

**పరిమితులు**

1. ఈ పద్ధతిలో అన్ని సం॥లకు ప్రవృత్తి విలువలు కనుగొనలేము. కనుగొనే చలిత మాధ్యమాల సం॥ సంఖ్యనుబట్టి ప్రారంభి, చివరి సంవత్సరాలకు ప్రవృత్తి విలువలు ఉండవు.
2. చలిత మాధ్యమ సంవత్సరం ఎంపిక (2 సం॥, 3 సం॥లు, 4 సం॥లు, 5 సం॥లు) విషయంలో తగు జాగ్రత్తల గణకుడే వహించాలి. ఎందుకంటే ఈ ఎంపికకు ఏ విధమైన సూత్రాలు లేవు.
3. భూత, భవిష్యత్ విలువలను గణిత పద్ధతిలో వలె అంచనా వేయటం కాని, ప్రవృత్తి రేఖను పొడిగించటం ద్వారా కనుగొనడం సాధ్యం కాదు.
4. సిద్ధాంత ప్రకారం చలిత మాధ్యమము చక్రీయ ఒడుదుడుకులను పరిహరిస్తుందని చెప్పడం జరుగుతుంది. కాని వాస్తవానికి ఇది సాధ్యం కాదు.

**డి) కనిష్ట వర్గాల పద్ధతి :** ప్రవృత్తి విలువలను కనుగొనే పద్ధతుల్లో ఉత్తమమైన పద్ధతి కనిష్ట వర్గాల పద్ధతి. ఈ పద్ధతి బహుళ ప్రచారంలో ఉన్న పద్ధతి. ఈ పద్ధతిలో కనుగొన్న ప్రవృత్తి రేఖను సుష్టితమ రేఖ లేదా ది లైన్ ఆఫ్ బెస్ట్ ఫిట్ (The line of Best Fit) అని అంటారు. ఈ పద్ధతి ద్వారా సరళ రేఖ లేదా వక్రరేఖను సంధానం చెయ్యవచ్చు. ప్రస్తుతం మనం సరళ రేఖా సంధానాన్ని గురించి తెలుసుకుందాం.

ఈ పద్ధతి ద్వారా రూపొందించిన ప్రవృత్తి సమీకరణములో దత్తాంశాన్ని పొందుపరచినట్లయితే వచ్చు విలువలు కింది రెండు నిబంధనలను తృప్తి పరుస్తాయి.

1.  $\sum(Y - Y_C) = 0$  లేదా కాలశ్రేణుల్లోని అసలు విలువల నుంచి (Y) ప్రవృత్తి విలువలను (Y<sub>C</sub>) తీసివేయగా వచ్చు విచలనాలు మొత్తం సున్నాకు సమానం.
2.  $\sum(Y - Y_C)^2$  విలువలు కనిష్టం లేదా కాలశ్రేణుల అసలు విలువలకు, ప్రవృత్తి విలువలకు గల విచలనాల వర్గాల మొత్తం కనిష్టంగా ఉంటాయి.

ఈ నిబంధనలను తృప్తి పరచటం వల్లనే దీనిని 'Line of Best Fit' రేఖ అంటారు. కనిష్ట వర్గాల పద్ధతి ద్వారా సరళ రేఖా ప్రవృత్తిని తెలిపే సమీకరణము కింది విధంగా చూపవచ్చు.

$$Y_C = a + bX$$

పై సమీకరణములో Y<sub>C</sub> = ప్రవృత్తి విలువలు లేదా అంచనా వేసిన విలువలు లేదా అస్వంతంత్ర చలరాశి,

a = ఇంటర్ సెప్ట్ (Intercept) లేదా X విలువ '0' అయినప్పుడు ఉండే Y విలువలను సూచిస్తుంది.

b = ప్రవృత్తి రేఖ వాలు లేదా X లో వచ్చిన మార్పు వల్ల Y లో వచ్చే మార్పును సూచిస్తుంది.

పై సమీకరణములోని a, b అనే విలువలను కనుగొనేందుకు కింది సాధారణ సమీకరణములను సాధించవలసి ఉంటుంది.

$$\sum Y = Na + b\sum X \dots\dots\dots(i)$$

$$\sum XY = a\sum X + b\sum X^2 \dots\dots\dots(ii)$$

పై సమీకరణములో N అంటే దత్తాంశములోని సంవత్సరాల (నెలలు లేదా ఇచ్చిన ఇతర కాలం) సంఖ్య. శ్రేణుల్లోని కాలాన్ని ఏదోఒక సంవత్సరం కేంద్ర బిందువుగా చేసుకొని క్రమ సంఖ్యను 'X' గా చూపటం జరుగుతుంది. ఇచ్చిన సంవత్సరాల్లో మధ్య సంవత్సరాన్ని కేంద్ర బిందువుగా చేసుకొని క్రమ సంఖ్య రూపొందిస్తే ధనాత్మక విలువల మొత్తం, ఋణాత్మక విలువల మొత్తానికి సమానంగా ఉంటుంది. కావున  $\sum X = 0$  అవుతుంది. మరో విధంగా చెప్పాలంటే సగటు కాలం నుంచి తీసుకున్న విచలనాలు '0' కి సమానంగా ఉండటం వల్ల పై సాధారణ సమీకరణాలు కింది విధంగా మారతాయి.

$$\sum Y = Na \dots\dots\dots(iii)$$

$$\sum XY = b\sum X^2 \dots\dots\dots(iv)$$

ప్రస్తుతం a, b విలువలను కింది విధంగా సులువుగా గణించవచ్చు.

$$\sum Y = Na \text{ కావున } a = \frac{\sum X}{N} \text{ or } \bar{Y}$$

$$\sum XY = b\sum X^2 \text{ కావున } b = \frac{\sum XY}{\sum X^2}$$

పై వివరణను బట్టి 'a' అంటే Y విలువల అంకమధ్యమం, 'b' అంటే మార్పు రేటు. ఇచ్చిన శ్రేణులలోని సంవత్సరముల సంఖ్య బేసిలో ఉన్నట్లయితే మధ్య సం॥మును కేంద్ర బిందువుగా చేసుకోవాలి. ఒకవేళ సరి సంఖ్యలో ఉంటే మధ్య గల రెండు సం॥ల అంకమధ్యమాన్ని కేంద్ర బిందువుగా తీసుకోవాలి. ఉదాహరణకు 1975, 1976, 1977, 1978, 1979 అనే అయిదు సం॥లు ఉంటే కేంద్ర బిందువు 1977 అవుతుంది. ఒక వేళ సరి సంఖ్యలో అంటే 1975, 1976, 1977, 1978, 1979, 1980 అయినట్లయితే  $\frac{1977+1978}{2} = 1977.5$  వ సం॥ము కేంద్ర బిందువుగా తీసుకోవాలి.

కనిష్ట వర్గాల పద్ధతిలో సరళ రేఖా సమీకరణ సాధన - రేఖా పటంలో గుర్తింపు.

**ఉదాహరణ - 1 :** కింది సమాచారం వివిధ సం॥లలో పంచదార పరిశ్రమలోని ఉత్పత్తిని వేల క్వీంటాళ్ళలో తెలుపుతుంది.

సంవత్సరం	1980	1981	1982	1983	1984	1985	1986
ఉత్పత్తి	80	90	92	83	94	99	92

(వేల క్వీంటాళ్ళలో)

- (1) పై సమాచారానికి సరళరేఖా సమీకరణమును సాధించండి.
- (2) దత్తాంశాన్ని, ప్రవృత్తి రేఖను రేఖాపటంలో చూపండి.

**సమాధానం :** (1) సరళ రేఖా సమీకరణములను సాధించటం.

సంవత్సరాలు	ఉత్పత్తి (వేల క్వీంటాళ్ళు)	X	XY	X <sup>2</sup>	ప్రవృత్తి విలువలు
	Y				
1980	80	- 3	- 240	9	84

1981	90	- 2	- 180	4	86
1982	92	- 1	- 92	1	88
1983	83	0	0	0	90
1984	94	+ 1	+ 94	1	92
1985	99	+ 2	+ 198	4	94
1986	92	+ 3	+ 226	9	96

$N=7 \quad \sum Y = 630 \quad \sum X = 0 \quad \sum XY = 56 \quad \sum X^2 = 28 \quad \sum Y_C = 630$

సరళ రేఖా సమీకరణము  $Y_C = a + bX$

$\sum X=0 ; a = \frac{\sum Y}{N}, b = \frac{\sum XY}{\sum X^2}$  కావున

$\sum Y = 630, N = 7, \sum XY = 56, \sum X^2 = 28$

$\therefore a = \frac{630}{7} = 90$  and  $b = \frac{56}{28} = 2$

కావున పై దత్తాంశానికి సరళ రేఖా సమీకరణము  $Y = 90 + 2X$

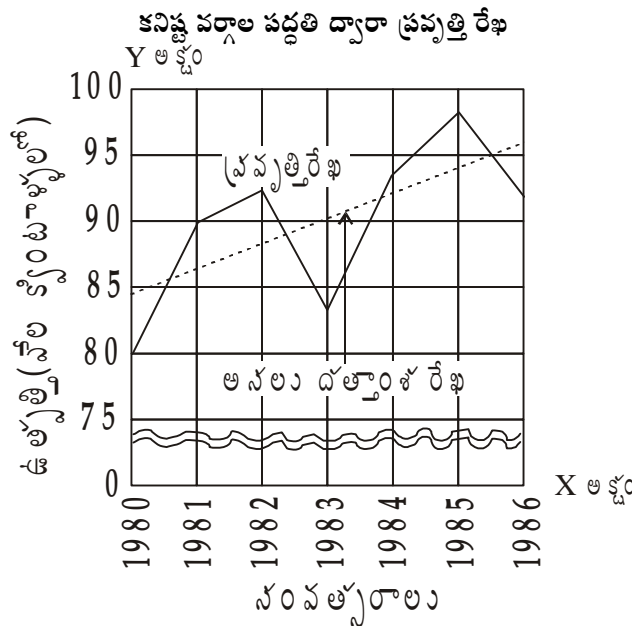
ప్రవృత్తి విలువల గణన :

1980వ సంవత్సరంలో X విలువ - 3 అయితే ప్రవృత్తి విలువ  $Y_C = 90 + 2(-3) = 84$

1981వ సంవత్సరంలో X విలువ - 2 అయితే ప్రవృత్తి విలువ  $Y_C = 90 + 2(-2) = 86$

ఈ విధంగానే  $X = -1, 0, 1, 2, 3$  లను ప్రతిక్షేపిస్తూ పోతే ఇతర ప్రవృత్తి విలువలు కూడా లభ్యమవుతాయి.

(2) పై సమాచారాన్నే రేఖా పటం ద్వారా చూపే విధానాన్ని కింది రేఖా పటం తెలుపుతుంది.



పైన కనుగొన్న సమీకరణంలో కేంద్ర బిందువుగా మధ్య సం॥ము 1983ను తీసుకోవటం జరిగింది. ప్రస్తుతం ప్రారంభ సం॥మును కేంద్ర బిందువుగా తీసుకొని సమీకరణను సాదిద్దాం.

సంవత్సరాలు	ఉత్పత్తి (క్వింటాళ్ళు) Y	X	XY	X <sup>2</sup>	ప్రవృత్తి విలువలు
1980	80	0	0	0	84
1981	90	1	90	1	86
1982	92	2	184	4	88
1983	83	3	249	9	90
1984	94	4	376	16	92
1985	99	5	495	25	94
1986	92	6	552	36	96
N = 7	∑ Y = 630	∑ X = 21	∑ XY = 1,946	∑ X <sup>2</sup> = 91	∑ Y <sub>c</sub> = 630

Y = a + bX అనే సమీకరణ సాధించాలి. ఇందులో a, b లను కనుగొనేందుకు 1) ∑ Y = Na + b∑ X ;  
2) ∑ XY = a∑ X + b∑ X<sup>2</sup> లను సాధించాలి.

ఈ విలువలు ప్రతిక్షేపిస్తే

$$630 = 7a + 21b \quad \dots\dots\dots(i)$$

$$1946 = 21a + 91b \quad \dots\dots\dots(ii)$$

(i)వ సమీకరణను 3తో గుణించి, (ii)ను 1తో గుణిస్తే కింది (iii), (iv) సమీకరణాలు వస్తాయి.

$$1890 = 21a + 63b \quad \text{-----}(iii)$$

$$1946 = 21a + 91b \quad \text{-----}(iv) \quad ((iii)లో నుంచి (iv)ను తీసివేస్తే)$$

$$-56 = -28b$$

$$-28b = -56 \quad \text{or} \quad b = \frac{56}{28} = 2,$$

(1)వ సమీకరణంలో b విలువ 2ను ప్రతిక్షేపిస్తే

$$630 = 7a + 21(2)$$

$$7a = 630 - 42 = 588 \quad \text{or} \quad a = \frac{588}{7} = 84$$

అందుచేత సమీకరణము Y<sub>C</sub> = 84 + 2X

1980 X విలువ '0' కావున ఈ విలువను సమీకరణంలో ప్రతిక్షేపిస్తే 84+2×0 = 84 అనేది 1980 యొక్క ప్రవృత్తి విలువ. ఈ విధంగా మిగిలిన సంవత్సరాలకు కూడా ప్రవృత్తి విలువలు గణించాలి.

గమనిక : పై రెండు విధాలుగా గణించిన సమీకరణములోని వ్యత్యాసాలకు కారణము కేంద్రంగా తీసుకున్న సంవత్సరం. మొదట 1983 కేంద్రంగా, తరువాత 1980 కేంద్రంగా తీసుకున్నను ప్రవృత్తి విలువలు మాత్రం మారవు.

ఉదాహరణ - 2 :- కింది సమాచారానికి సరళరేఖా సమీకరణను సాధించి 1997వ సం॥మునకు ప్రవృత్తి విలువను కనుక్కోండి.

సంవత్సరము	1990	1991	1992	1993	1994	1995	1996
స్టీలు ఉత్పత్తి (మిలియన్ టన్నులలో)	60	72	75	65	80	85	95

సమాధానం :- సరళ రేఖ సమీకరణను నిర్మించటం

సం॥ము	స్టీలు ఉత్పత్తి (మి॥ టన్నులలో)	1993 కేంద్రంగా			
	Y	X	XY	X <sup>2</sup>	
1990	60	-3	-180	9	
1991	72	-2	-144	4	
1992	75	-1	-75	1	
1993	65	0	0	0	
1994	80	+1	+80	1	
1995	85	+2	+170	4	
1996	95	+3	+285	9	
N = 7	Σ Y = 532	Σ X = 0	Σ XY = 136	Σ X <sup>2</sup> = 28	

సరళ రేఖా సమీకరణము  $Y = a + bX$

$$\sum X = 0 \text{ అయినది కావున } a = \frac{\sum Y}{N} = \frac{532}{7} = 76$$

$$b = \frac{\sum XY}{\sum X^2} = \frac{136}{28} = 4.857 \text{ కావున}$$

సమీకరణం,  $Y = 76 + 4.857 X$

1997వ సం॥మునకు X విలువ +4 కావున

$$Y_{1997} = 76 + 4.857(4) = 95.428$$

కావున 1997నకు ఉండగల అమ్మకాలు రూ॥ 109.999 లక్షలు.

ఉదాహరణ - 3 :- కింది దత్తాంశానికి కనిష్ట వర్గాల పద్ధతిలో సరళ రేఖా సమీకరణమును సాధించి, 1998వ సం॥నకు విలువను అంచనా వెయ్యండి.

సంవత్సరము	1989	1990	1991	1992	1993	1994	1995	1996
సంపాదనలు (లక్షల రూ॥లో)	38	40	65	72	69	60	87	95

సమాధానం :- కనిష్ట వర్గాల పద్ధతి ద్వారా సరళరేఖా సమీకరణమును సాధించటం

సం॥ము	సంపాదనలు (లక్షల రూ॥ల్లో)	1992.5		XY	X <sup>2</sup>
		సం॥ ఆధారంగా విచలనాలు	విచలనాలను 2తో గుణించగా		
Y		X			
1989	38	-3.5	-7	-266	49
1990	40	-2.5	-5	-200	25
1991	65	-1.5	-3	-195	9
1992	72	-0.5	-1	-72	1
1993	69	+0.5	+1	+69	1
1994	60	+1.5	+3	+180	9
1995	87	+2.5	+5	+435	25
1996	95	+3.5	+7	+665	49
N = 8	∑Y = 526	∑X = 0		∑XY = 616	∑X <sup>2</sup> = 168

సరళ రేఖా సమీకరణము  $Y_C = a + bX$ ,  $\sum X = 0$  అయ్యింది కావున

$$a = \frac{\sum Y}{N} = \frac{526}{8} = 65.75$$

$$b = \frac{\sum XY}{\sum X^2} = \frac{616}{168} = 3.667; \text{ a, b విలువలను సమీకరణలో ప్రతిక్షేపిస్తే}$$

$$Y = 65.75 + 3.667X$$

1998 కి X విలువ 11 అవుతుంది.

$$X = 11 \text{ అయితే } Y \text{ విలువ } Y = 65.75 + 3.667(11) = 65.75 + 40.337 = 106.087$$

పై విలువనే 2 తో గుణించకుండా కూడా రాబట్టవచ్చు. కాని కొంత కష్టముతో కూడి ఉంది. 2తో గుణించకుండా సరళ రేఖా సమీకరణమును సాధించటాన్ని కింద చూపటం జరిగింది.

సంవత్సరం	సంపాదనలు (లక్షల రూ॥ల్లో)	1992-5 సం॥ర		
		సం॥ ఆధారంగా విచలనాలు	విచలనాలను 2తో గుణించగా	X <sup>2</sup>
	(Y)	(X)	XY	X <sup>2</sup>
1989	38	-3.5	-133.00	12.25
1990	40	-2.5	-100.00	6.25
1991	65	-1.5	-97.50	2.25
1992	72	-0.5	-36.00	0.25
1993	69	+0.5	+34.50	0.25
1994	60	+1.5	+90.00	2.25
1995	87	+2.5	+217.50	6.25
1996	95	+3.5	+332.50	12.25
N = 8	∑Y = 526	∑X = 0	∑XY = 308	∑X <sup>2</sup> = 42.00

సరళరేఖా సమీకరణ  $Y = a + bX$ ,  $\Sigma X$  విలువ '0' అయ్యింది కావున

$$a = \frac{\Sigma Y}{N} = \frac{526}{8} = 65.75 ; b = \frac{\Sigma XY}{\Sigma X^2} = \frac{308}{42} = 7.333$$

a, b విలువలను ప్రతిక్షేపిస్తే సమీకరణ  $Y = 65.75 + 7.333X$

2తో గుణించి కనుగొన్నట్లయితే b విలువ 3.667 కాగా గుణించకపోతే b విలువ 7.333గా ఉంది. అయితే ఏ పద్ధతి ద్వారా అయినా ప్రవృత్తి విలువలు ఒకే విధంగా ఉంటాయి.

ఉదాహరణ - 4 :- కింది దత్తాంశం పంచదార ఉత్పత్తులను (వేల క్వీంటాళ్ళలో) చూపుతుంది.

సం॥ము	ఉత్పత్తి (వేల క్వీంటాళ్ళలో)	సం॥ము	ఉత్పత్తి (వేల క్వీంటాళ్ళలో)
1975	77	1980	91
1977	88	1981	98
1978	94	1984	90
1979	85		

- (1) కనిష్ట వర్గాల పద్ధతిలో సరళరేఖా సమీకరణమును సాధించండి.
- (2) ప్రవృత్తి విలువలు కనుక్కోండి
- (3) పంచదార నెలసరి పెరుగుదలను తెలుపండి.

సమాధానం : కనిష్ట వర్గాల పద్ధతిలో సరళ రేఖా సమీకరణము  $Y_C = a + bX$

$\Sigma X$  విలువలు '0' కానందున 'a', 'b'లను కనుగొనేందుకు కింది సమీకరణాలు సాధించటం జరుగుతుంది.

$$\Sigma Y = Na + b\Sigma X \dots\dots\dots(i)$$

$$\Sigma XY = a\Sigma X + b\Sigma X^2 \dots\dots(ii)$$

సం॥ము	ఉత్పత్తి (Y) (వేల టన్నుల్లో)	1979వ సం॥ము కేంద్రంగా విచలనాలు (X)	XY	X <sup>2</sup>	ప్రవృత్తి విలువలు (Y <sub>C</sub> )	(Y - Y <sub>C</sub> )
1975	77	-4	-308	16	83.283	-6.283
1977	88	-2	-176	4	86.043	+1.957
1978	94	-1	-94	1	87.423	+6.577
1979	85	0	0	0	88.803	-3.803
1980	91	+1	+91	1	90.183	+0.817
1981	98	+2	+196	4	91.563	+6.437
1984	90	+5	+450	25	95.703	-5.703
N = 7	$\Sigma Y = 623$	$\Sigma X = 1$	$\Sigma XY = 159$	$\Sigma X^2 = 51$	$\Sigma Y_C = 623$	$\Sigma(Y - Y_C) = 0$

$$623 = 7a + b \dots\dots\dots (i)$$

$$159 = a + 51b \dots\dots\dots (ii)$$

రెండో సమీకరణమును 7తో గుణిస్తే  $1113 = 7a + 357b$  ----- (iii)గా మారుతుంది. ప్రస్తుతం

(i) నుంచి (iii) తీసివేస్తే లేదా  $623 = 7a + b - (113 = 7a + 357b)$  చేస్తే

$$-490 = -356b \text{ or } b = \frac{490}{356} = 1.38$$

b విలువను (i)వ సమీకరణములో ప్రతిక్షేపిస్తే

$$623 = 7a + 1.38$$

$$7a = 623 - 1.38 = 621.62 \text{ or } a = 88.803$$

కావున సరళ రేఖా సమీకరణంలో a, b విలువలు ప్రతిక్షేపిస్తే సమీకరణము  $Y = 88.803 + 1.38X$

X విలువలను సమీకరణంలో ప్రతిక్షేపిస్తే

$$X = -4, Y = 88.803 + 1.38(-4) = 88.803 - .52 = 83.283$$

$$X = -2, Y = 88.803 + 1.38(-2) = 88.803 - 2.76 = 86.043$$

$$X = -1, Y = 88.803 + 1.38(-1) = 87.423$$

$$X = 0, Y = 88.803$$

$$X = +1, Y = 88.803 + 1.38 = 90.183$$

$$X = +2, Y = 88.803 + (1.38 \times 2) = 91.563$$

$$X = +5, Y = 88.803 + (1.38 \times 5) = 95.703$$

### కనిష్ట వర్గాల పద్ధతి వల్ల ప్రయోజనాలు

ప్రవృత్తి రేఖా సంధానంలో ప్రసిద్ధి పొందిన పద్ధతి కనిష్ట వర్గాల పద్ధతి. ఈ పద్ధతి వల్ల అనేక విధాలైన ప్రయోజనాలు ఉన్నాయి.

1. ఈ పద్ధతి గణిత పద్ధతి కావటం వల్ల గణకుడి పాక్షికతకు తావులేదు.
2. చలిత మాధ్యమాల పద్ధతికి భిన్నంగా అన్ని సంవత్సరాలకు ఈ పద్ధతిలో ప్రవృత్తి విలువలను అంచనా వెయ్యవచ్చు.
3. ఈ పద్ధతి ద్వారా రూపొందించిన సమీకరణము ద్వారా భూత, భవిష్యత్ కాలాలకు ప్రవృత్తి విలువను అంచనా వేయవచ్చు. మరియు అంచనా వేసిన విలువలు కూడా నమ్మకమైనవి.
4. ఈ పద్ధతి ద్వారా రూపొందించిన  $a + bX$  అనే సమీకరణములో 'b' అనేది వృద్ధి రేటు. కావున కాల శ్రేణులలో సాంవత్సరిక వృద్ధి రేటును కనుగొనుట సాధ్యమవుతుంది.

### లోపాలు

1. ఈ పద్ధతిలోని ముఖ్య లోపం ఇచ్చిన శ్రేణులకు ఏ విధమైన ప్రవృత్తి రేఖను (సరళ రేఖ లేదా వక్ర రేఖ?) సంధానం చేయాలి. దీన్ని నిర్ణయించుకోవటమే మొదటి లోపం.
2. ఈ పద్ధతి గణిత పద్ధతి. కావున సరళ రేఖా సమీకరణ సాధన, రేఖను రూపొందించటం అనేవి గణితంలో అవగాహన లేని వారికి చాలా కష్టంతో కూడుకున్న పని.



3. ఈ పద్ధతిలో సమీకరణమును సాధించిన తరువాత ఏ కారణం చేతనైనా ఏదో ఒక చలరాశిని కలపవలసి లేదా తగ్గించవలసి వస్తే సర్దుబాటుకు అవకాశం లేదు. మళ్ళీ మొదటి నుంచి ప్రారంభించవలసి ఉంటుంది.
4. ఈ పద్ధతిలో అంచనా వేసిన ప్రవృత్తి విలువలు దీర్ఘకాలిక ప్రవృత్తి విలువలు. అంటే చక్రీయ, ఋతుగతమైన, నియమరహిత హెచ్చు తగ్గులను పరిగణనలోకి తీసుకోకుండా రూపొందించినవి.

### 13.3 సారాంశం

కాలానుగుణంగా అమర్చిన దత్తాంశాన్ని కాలశ్రేణులు అంటారు. కాలానుగుణంగా ఉన్న చలరాశులను పరిశీలించే విధానమే కాలశ్రేణుల విశ్లేషణ. కాలశ్రేణుల్లో సంభవించే మార్పులు 1. దీర్ఘకాలిక ప్రవృత్తి, 2 ఋతువుల వల్ల వచ్చే మార్పులు, 3. చక్రీయ హెచ్చు తగ్గులు, 4. నియమ రహిత హెచ్చు, తగ్గులు అనే నాలుగు అంశాల పై ఆధారపడి ఉంటాయి. దీర్ఘకాలంలో కాల శ్రేణుల చలరాశులు చలించే దిశను ప్రవృత్తి అంటారు.

కాలశ్రేణుల ప్రవృత్తిని కనుగొనేందుకు నాలుగు పద్ధతులు ఉన్నాయి. అవి 1. సరస వక్రరేఖా పద్ధతి, 2. షాక్షిక సగటుల పద్ధతి, 3. చలిత మాధ్యమాల పద్ధతి, 4. కనిష్ట వర్గాల పద్ధతి. ఈ పద్ధతులన్నింటిలోనూ ఉత్తమమైన పద్ధతిగా కనిష్ట వర్గాల పద్ధతిని చెప్పటం జరుగుతుంది. కనిష్ట వర్గాల పద్ధతి గణిత పద్ధతి అయితే గణన కష్టం. ఈ పద్ధతి ద్వారా రూపొందించిన ప్రవృత్తి రేఖను సుష్టితమ రేఖ (Line of Best Fit) అంటారు. కాలశ్రేణుల విశ్లేషణ వల్ల వివిధ రంగాలకు మరి ముఖ్యంగా ఆర్థిక, వ్యాపార రంగాలకు అనేక ప్రయోజనాలున్నాయి. దేశ ప్రణాళిక రూపొందించేందుకు, ఆర్థిక, వ్యాపార సంబంధమైన నిర్ణయాలు తీసుకోవటంతో పాటు అనేక రంగాల్లో ఈ కాల శ్రేణుల విశ్లేషణ ఎంతో ప్రయోజనకరంగా ఉంది. అందుచేతనే ఈ విశ్లేషణ బహుళ ప్రచారంలో ఉంది.

### 13.4 ముఖ్య పదాలు

1. కాలశ్రేణులు : కాలానుగుణంగా అమర్చిన చలరాశులు
2. ప్రవృత్తి : కాలానుగుణంగా చలరాశుల గమనాన్ని తెలియజేసే దిశ
3. వ్యాపార చక్రాలు : ఆర్థిక వ్యవస్థలోని సమిష్టి ఆర్థిక కార్యకలాపాల్లో లయబద్ధంగా వచ్చు హెచ్చు తగ్గులనే వ్యాపార చక్రాలు అంటారు.
4. సుష్టితమ రేఖ (The Line of Best Fit) : కనిష్ట వర్గాల పద్ధతి ద్వారా రూపొందించిన ప్రవృత్తి రేఖను సుష్టితమ రేఖ అంటారు.
5. ప్రవృత్తి విలువలు : కాలశ్రేణుల విశ్లేషణ పద్ధతుల ద్వారా వివిధ సం॥లకు లేదా కాల యూనిట్లకు అంచనా వేసిన విలువలు

### 13.5 నమూనా ప్రశ్నలు

#### I. వ్యాసరూప ప్రశ్నలు

1. కాలశ్రేణుల విశ్లేషణ అనగా ఏవి? దాని వల్ల గల ఉపయోగాలేవి?
2. దీర్ఘకాలిక ప్రవృత్తి (secular trend), ఋతుగతమైన హెచ్చుతగ్గులు (seasonal fluctuations), చక్రీయమైన హెచ్చుతగ్గుల మధ్య వున్న తేడాలను గురించి వివరించండి.
3. కాలశ్రేణుల విశ్లేషణ పద్ధతులను తెలుపుము. చలితమాధ్యమాల పద్ధతిని ఉదాహరణతో వివరించి, గుణదోషాలను వ్రాయుము.

4. కనిష్టవర్గ ప్రవృత్తి విలువలను ఏ విధంగా కనుక్కోవాలె? ఉదాహరణతో వివరించి గుణదోషాలను వ్రాయుము.
5. చలితమాధ్యమాల పద్ధతిలో 3 సం॥ల, 5 సం॥ల చలిత మాధ్యమాలు కనుక్కోండి.

సం॥లు	చలరాశులు	సం॥లు	చలరాశులు
1911	506	1922	818
1912	620	1923	745
1913	1036	1924	845
1914	673	1925	1272
1915	588	1926	899
1916	696	1927	814
1917	1116	1928	929
1918	738	1929	1360
1919	663	1930	961
1920	777	1931	926
1921	1189		

6. ఇంగ్లాండులో వుండే శిశుమృతిరేటు దిగువ ఇవ్వడమైంది. (1000 సజీవ జననాలకు 1 సంవత్సరంలోపు వయస్సుగల శిశువుల మృతి)

సం॥ము	శిశుమృతిరేటు	సం॥ము	శిశుమృతిరేటు
1912	76	1924	62
1913	68	1925	57
1914	76	1926	60
1915	76	1927	59
1916	69	1928	52
1917	69	1929	49
1918	67	1930	60
1919	73	1931	60
1920	66	1932	62
1921	67	1933	49
1922	64	1934	45
1923	62	1935	46
		1936	43

ఈ శ్రేణులకు తేలికైన 5 సంవత్సరాల చలిత మాధ్యమాన్ని ఒక దానిని కూర్చండి. ఇచ్చిన ఫలితానికి సులభమైన ఇంకో 5 సంవత్సరాల చలిత మాధ్యమాన్ని కూర్చండి.

7. కింది పట్టికలో 1909-1930 సంవత్సరాలకు, బొంబాయిలోని బాంకు క్లియరింగ్స్ (మిలియన్ల రూపాయలలో), దానికి సంబంధించిన ప్రవృత్తిని కనుక్కోండి.

సం॥ములు	బ్యాంకు క్లియరెన్స్	సం॥ములు	బ్యాంకు క్లియరెన్స్
1906	52.7	1919	94.6
1907	79.4	1920	83.0
1908	76.3	1921	110.6
1909	66.0	1922	159.6
1910	68.6	1923	177.4
1911	93.8	1924	178.6
1912	104.7	1925	238.5
1913	87.2	1926	243.2
1914	79.3	1927	194.4
1915	103.6	1928	217.9
1916	97.3	1929	214.0
1917	92.4	1930	256.7
1918	100.7		

8. దిగువ ఇచ్చిన ఉక్కు ఉత్పత్తి యొక్క కాలశ్రేణిలోని ప్రవృత్తి విలువలను చలితమాధ్యమాల పద్ధతిని ఉపయోగించి నాలుగు సం॥లకు కనుక్కోండి.

సం॥	ఉత్పత్తి (మిలియన్ టన్నులలో)	సం॥	ఉత్పత్తి (మిలియన్ టన్నులలో)
1901	351	1910	500
1902	366	1911	518
1903	361	1912	455
1904	362	1913	502
1905	400	1914	540
1906	419	1915	557
1907	410	1916	571
1908	420	1917	586
1909	450	1918	612

9. కింద ఇచ్చిన దత్తాంశాలకు కాలశ్రేణి గ్రాఫ్ గీసి, సరస వక్రరేఖా పద్ధతిలో, పాక్షిక సగటుల పద్ధతిలో ప్రవృత్తిని చూపించండి.

సం॥లు	ఉత్పత్తి (క్వింటాళ్ళలో)	సం॥లు	ఉత్పత్తి (క్వింటాళ్ళలో)
1941	165	1953	280
1942	178	1954	351
1943	236	1955	320
1944	213	1956	370
1945	180	1957	366
1946	163	1958	325
1947	180	1959	256
1948	187	1960	304
1949	210	1961	291
1950	237	1962	277
1951	203	1963	274
1952	215	1964	272

10. ఒక జిల్లాలోని గత పది సంవత్సరాల గోధుమ ఉత్పత్తి దిగువ ఇవ్వడం జరిగింది. నాలుగు సంవత్సరాల చలితమాధ్యమాలను ఉపయోగించి, ఆ జిల్లాలోని బియ్యపు ఉత్పత్తికి ప్రవృత్తిని సూచించండి.

సం॥ము	ఉత్పత్తి (టన్నులలో)	సం॥ము	ఉత్పత్తి (టన్నులలో)
1950	11,200	1955	14,500
1951	12,300	1956	11,600
1952	10,600	1957	14,300
1953	13,400	1958	13,600
1954	13,800	1959	15,400

11. గత 8 సంవత్సరాలలో ఒక వ్యాపారసంస్థకు వచ్చిన లాభాలు దిగువశ్రేణిలో సూచించడం జరిగింది. రెండు సం॥ల చలితమాధ్యమాలు కనుక్కోండి.

సం॥ము	లాభము(రూ.)	సం॥ము	లాభము(రూ.)
1956	15,420	1960	26,120
1957	14,470	1961	31,950
1958	15,520	1962	35,370
1959	21,020	1963	35,670

12. మూడు సంవత్సరాల చలితమాధ్యమాలను ఉపయోగించి, గ్రాఫ్ మీద కింది దత్తాంశాలను సూచించవలె. ఆ శ్రేణికి ప్రవృత్తిని కూడా దాని మీద చూపించండి.

సం॥ము	జననాల రేటు	సం॥ము	జననాల రేటు
1917	30.9	1928	26.4
1918	30.2	1929	24.7
1919	29.1	1930	24.1
1920	31.4	1931	23.1
1921	33.4	1932	23.7
1922	30.2	1933	22.6
1923	30.4	1934	23.6
1924	31.0	1935	23.0
1925	29.0	1936	22.0
1926	27.9	1937	22.6
1927	27.7	1938	22.9

13. భారతదేశంలో కొన్ని సంవత్సరాల మీద ఒక్కొక్క యుక్తవయస్కునికి ఉండే తృణధాన్యాల (cereals) సప్లయ్లు ఈ క్రింది పట్టికలో చూపడం జరిగింది.

సం॥ము	పౌండ్లు(lbs.)	సం॥ము	పౌండ్లు(lbs.)
1931-32	427	1938-39	360
1932-33	416	1939-40	382
1933-34	408	1940-41	352
1934-35	408	1941-42	355
1935-36	379	1942-43	358
1936-37	405	1943-44	383
1937-38	309	1944-45	361

ఈ దత్తాంశాలను చూపించే గ్రాఫ్ను గీయండి. 3 సం॥ చలితమాధ్యమాన్ని లెక్కవేసి గ్రాఫ్మీద కూడా చూపించండి.

14. ఆర్థిక పరిశీలనలో సంఖ్యాగత మార్గాన కాలశ్రేణిని విశ్లేషణం చేసే మార్గాన్ని తెలియజేయండి. కింద ఇచ్చిన పట్టికను గ్రహించి, 3 సంవత్సరాల, 5 సంవత్సరాల చలితమాధ్యమాలను గ్రహించి, సోదాహరణంగా వివరించండి.

సం॥ము	మూల్యము	సం॥ము	మూల్యము
1901	507	1916	581
1902	522	1917	599
1903	524	1918	612

1904	521	1919	597
1905	538	1920	612
1906	541	1921	616
1907	537	1922	608
1908	552	1923	628
1909	556	1924	632
1910	548	1925	626
1911	572	1926	644
1912	569	1927	643
1913	567	1928	642
1914	587	1929	661
1915	583	1930	659

15. ఒక పంచదారమిల్లు యొక్క ఉత్పత్తులు (1000 మణుగులలో) దిగువ ఇవ్వడమైంది.

(ఎ) వీటికి సరళరేఖా ప్రవృత్తి (Straight line trend) యొక్క నిమ్నత లేదా వాలు (slope)ను కనుక్కోండి.

(బి) ఈ సంఖ్యలను గ్రాఫ్ మీద చూపిస్తూ ప్రవృత్తిని కూడా చూపించండి.

సం॥ము	ఉత్పత్తి (వేల మణుగులలో)	సం॥ము	ఉత్పత్తి (వేల మణుగులలో)
1941	80	1945	94
1942	90	1946	99
1943	93	1947	92
1944	83		

16. కనిష్ట వర్గాల పద్ధతిని (least squares) రిజర్వుబ్యాంకు ఆస్తులకు ప్రవృత్తిని కనుగొనండి.

సం॥ము	ఆస్తులు (కోట్ల రూపాయలలో)	సం॥ము	ఆస్తులు (కోట్ల రూపాయలలో)
1936-37	83	1939-40	90
1937-38	92	1940-41	169
1938-39	71	1941-42	191

17. భారతదేశంలోని సహకార సంస్థల నిల్వల పెరుగుదలను దిగువ ఇవ్వడం జరిగింది. దానిని సరళరేఖా ప్రవృత్తిని కనిష్ట వర్గ పద్ధతిలో కూర్చండి. ఈ శ్రేణిని ప్రవృత్తి విలువలను గ్రాఫ్ మీద కూడా చూపించండి.

సం॥ము	నిల్వలు (Reserves) (లక్షల రూపాయలు)	సం॥ము	నిల్వలు (లక్షల రూపాయలు)
1927-28	612	1931-32	2001
1928-29	719	1932-33	1106
1929-30	820	1933-34	1231
1930-31	907		

**II. సంక్షిప్త ప్రశ్నలు**

18. కాలశ్రేణుల్లోని భాగాలు
19. దీర్ఘకాలిక ప్రవృత్తి
20. సరస వక్రరేఖా పద్ధతి
21. పాక్షిక సగటుల పద్ధతి
22. చలిత మాధ్యమాల పద్ధతి
23. కనిష్ట వర్గాల పద్ధతి

**13.6 చదువదగిన గ్రంథాలు**

B.L. Elhance	:	Fundamental Statistics
S.P. Gupta	:	Statistical Methods
C.B. Gupta	:	An Introduction to Statistical Methods
S.C. Gupta	:	Fundamentals of Statistics
M.C. Shukla & S.S. Gulshan	:	Statistics-Theory and Practice

**వ్యవసాయ గణాంకాలు**

**పాఠ్యంశ నిర్మాణక్రమం**

- 14.0 లక్ష్యాలు
- 14.1 విషయపరిచయం
- 14.2 జాతీయాదాయం - గణన
  - 14.2.1 జాతీయాదాయ మదింపు పద్ధతులు
  - 14.2.2 స్వాతంత్ర్యానికి పూర్వం జాతీయాదాయ అంచనాలు
  - 14.2.3 స్వాతంత్ర్యానంతరం జాతీయాదాయ అంచనాలు
  - 14.2.4 భారతదేశ జాతీయాదాయ అంచనాల స్వభావం
  - 14.2.5 జాతీయాదాయ అంచనాల్లో ఇబ్బందులు
- 14.3 జనాభా గణాంకాలు
  - 14.3.1 జనాభా గణాంకాల సేకరణ పద్ధతులు
  - 14.3.2 ప్రాణి గణాంకాలు
  - 14.3.3 భారతదేశంలో జనాభా లెక్కలు
- 14.4 వ్యవసాయ గణాంకాలు
  - 14.4.1 భారతదేశ వ్యవసాయ గణాంకాలు
  - 14.4.2 భారతదేశ వ్యవసాయ గణాంకాల్లో లోపాలు
- 14.5 సారాంశం
- 14.6 ముఖ్య పదాలు
- 14.7 నమూనా ప్రశ్నలు
- 14.8 చదువదగిన గ్రంథాలు

**14.0 లక్ష్యాలు**

ఈ పాఠ్యభాగం చదివిన తరువాత మీరు ఈ క్రింది విషయాలను గూర్చి తెలుసుకోగలరు.

- \* జాతీయాదాయం - జాతీయాదాయ మదింపు పద్ధతులు
- \* భారతదేశంలో స్వాతంత్ర్యానికి పూర్వం, స్వాతంత్ర్యానంతరం జాతీయాదాయ గణన
- \* ప్రాణి గణాంకాలను గూర్చి తెలుసుకొని జనన, మరణ భావనలను గూర్చి తెలుసుకొనటం.



\* భారతదేశంలో జనాభా లెక్కల గణనను తెలుసుకోవటం

\* భారతదేశ వ్యవసాయ గణాంకాల స్వరూపం, వ్యవసాయ గణాంకాలలోని లోపాలు తెలుసుకోవటం.

### 14.1 విషయపరిచయం

గణాంక శాస్త్రానికి, అర్థశాస్త్రానికి గల సంబంధం 1690లో విలియం పెట్టి తన 'సొలిటికల్ అర్థమాటిక్' అనే పుస్తకంలో వెల్లడి చేసిననూ రాను రాను అర్థశాస్త్రములో గణాంకశాస్త్ర ప్రాముఖ్యత మరీ ఎక్కువైనట్టు గమనించవచ్చు. దేశ ఆర్థిక ప్రగతిని కనుగొనటానికి ఆ దేశ జనాభా, పరిశ్రమలు, వ్యవసాయం, ప్రాజెక్టులు, రోడ్లు, రవాణా, ఉత్పత్తి సంస్థలు, జాతీయాదాయం మొదలైన గణాంకాలు ఎంతో ఉపయోగపడతాయి. విశ్వసనీయమైన, వాస్తవిక గణాంకాలు లేనిదే దేశ ప్రగతి సాధ్యం కాదు. ఎందుకంటే దేశ అభివృద్ధి కోసం రూపొందించే ప్రణాళికలకు ముఖ్యంగా అసరమైనవి గణాంకాలే.

భారతదేశంలో స్వాతంత్ర్యానికి పూర్వం గణాంక వ్యవస్థ పటిష్టంగా వుండేది కాదు. గణాంకాలు కూడా నమ్మదగినవిగా ఉండేవి కావు. స్వాతంత్ర్యానంతరం భారత ప్రభుత్వం గణాంక వ్యవస్థను పటిష్టం చేసే చర్యలను చేపట్టింది. ఫలితంగా వివిధ రంగాలకు సంబంధించిన నమ్మకమైన గణాంకాల కోసం సేకరణ కొనసాగుతుంది. అందులో భాగంగా భారతదేశంలోని జాతీయాదాయ గణాంకాలను, జనాభా గణాంకాలను, వ్యవసాయ గణాంకాలను గురించి ఈ పాఠంలో మనం తెలుసుకుందాం.

### 14.2 జాతీయాదాయం - గణన

ఒక దేశంలో, ఒక సంవత్సర కాలంలో ఉత్పత్తి అయిన అంతిమ వస్తు సేవల నికర విలువను జాతీయాదాయం అంటారు. అందులో విదేశీ వ్యాపారం నుంచి వచ్చే నికర విదేశీ ఆదాయం కూడా ఇమిడి వుంటుంది. దీనినే స్థూల జాతీయాదాయం అంటారు. స్థూల జాతీయాదాయం నుంచి తరుగుదలను తీసివేస్తే నికర జాతీయాదాయం వస్తుంది. సాధారణంగా జాతీయాదాయం అంటే నికర జాతీయాదాయమే.

జాతీయాదాయాన్ని మూడు కోణాలలో తెలిసుకొనవచ్చు. అవి ఉత్పత్తి, ఆదాయం, వ్యయాలు. ఉత్పత్తి కోణంలో జాతీయాదాయం అంటే దేశంలోని ఆర్థిక కార్యకలాపాల ద్వారా (సేవలతో సహా) ఉత్పత్తి అయిన నికర విలువకు, విదేశీ వ్యాపారం ద్వారా ఉత్పన్నమైన నికర విదేశీ ఆదాయం జత చేస్తే ఉత్పన్నమైన ఆదాయంగా వివరించవచ్చు. ఆదాయ కోణం నుంచి జాతీయాదాయం అంటే వివిధ ఉత్పత్తి సాధనాలు సాందిన వేతనాలు మరియు జీతాలు, వడ్డీ, లాభాలు మొదలైన ఆదాయాల మొత్తం. వ్యయ కోణం నుంచి జాతీయాదాయం అంటే వినియోగ వ్యయం, పెట్టుబడి వ్యయాలు మొత్తంగా చెప్పవచ్చు.

**14.2.1 జాతీయాదాయ మదింపు పద్ధతులు :** పైన చెప్పిన మూడు కోణాల ప్రాతిపదికగా జాతీయాదాయాన్ని మూడు పద్ధతులలో మదింపు చేయవచ్చు. అవేవనగా :

1. ఉత్పత్తి మదింపు పద్ధతి
2. ఆదాయాల మదింపు పద్ధతి
3. వ్యయాల మదింపు పద్ధతి లేదా వినియోగ పొదుపు మదింపు పద్ధతి

**14.2.1.1 ఉత్పత్తి మదింపు పద్ధతి :** ఈ పద్ధతిలో జాతీయాదాయాన్ని దేశంలో ఉత్పత్తి అయిన వస్తువుల నికర విలువలకు జత చేయాలి. దీనితోపాటు విదేశ నికర ఆదాయాన్ని కూడా జత చేయాలి. ఈ మొత్తం విలువ లెక్కింపును మార్కెట్ ధరలలో కాని ఉత్పత్తి కారకాల వ్యయాల దృష్ట్యా కాని చేయటం జరుగుతుంది.

ఈ పద్ధతిలో ఉత్పత్తి ప్రాతిపదికగా మదింపు చేయటం జరుగుతుంది. ఈ పద్ధతిలో మదింపు చేయటానికి ఉత్పత్తికి సంబంధించిన, వర్తక గణాంకాలను ఉపయోగించుకోవటం జరుగుతుంది. అయితే లెక్కలోకి పునరావృతం కాకుండా జాగ్రత్తలను చూసుకోవలసి వుంటుంది.

**14.2.1.2 ఆదాయాల మదింపు పద్ధతి :** ఈ పద్ధతి ప్రకారం దేశంలో నివసిస్తున్న ప్రజల యొక్క ఆదాయాలను (నిర్ణీత సమయానికి సాధారణంగా ఒక సంవత్సరము) జత చేసి జాతీయాదాయాన్ని లెక్కించటం జరుగుతుంది. ఈ విధంగా లెక్కించటంలో ఆదాయ పన్ను లెక్కలను పరిగణనలోకి తీసుకోవలసి వుంటుంది. కాని భారతదేశంలో ఆదాయపు పన్ను చెల్లించే వారి నిష్పత్తి తక్కువ. కావున కేవలం ఆదాయ పద్ధతి ద్వారా మాత్రమే జాతీయాదాయాన్ని లెక్కించటం సాధ్యం కాదు.

**14.2.1.3 వ్యయాల మదింపు పద్ధతి లేదా వినియోగం - సాదుపు మదింపు పద్ధతి :** ఒక దేశంలోని అంతిమ వినియోగ వస్తువుల పైన, పెట్టుబడులు మరియు దాచుకోవటం మొదలైన వాటిపై అయిన వ్యయం మొత్తం జాతీయాదాయంగా చెప్పవచ్చు. ఈ పద్ధతిలో వున్న పరిమితుల వల్ల దీనిని విస్తృతంగా ఉపయోగించటం లేదు. వాస్తవానికి ఏ దేశంలో కూడా అంతిమ వినియోగానికి, పెట్టుబడికి, దాచిన ద్రవ్యానికి సంబంధించిన నమ్మకమైన గణాంకాలు లభ్యం కావటం లేదని చెప్పవచ్చు. పారిశ్రామిక దేశాలలోను, ఆదాయ గణాంకాలు సమ్మద్ధిగా, ఖచ్చితంగా లభ్యమయినట్లయితే ఈ పద్ధతి చాలా మంచిది.

పై మూడు పద్ధతులూ ఉత్తమమైనవి. అయితే ఈ మూడు పద్ధతులలో (ఉత్పత్తి, ఆదాయం, వ్యయం పద్ధతులు) ఏదో ఒక పద్ధతి ద్వారా జాతీయాదాయాన్ని ఖచ్చితంగా లెక్కించడం సాధ్యం కాదు. అందువల్లనే ప్రతి దేశంలో పైన తెల్పిన మూడు పద్ధతులను ఎక్కడ వర్తింపజేయవచ్చో ఆ విధంగా వర్తింపజేసి వీలైనంత ఖచ్చితమైన గణాంకాలను రూపొందించేందుకు వివిధ దేశాలు ప్రయత్నం చేస్తున్నాయి.

**14.2.2 స్వాతంత్ర్యానికి పూర్వం భారతదేశపు జాతీయాదాయ అంచనాలు :** స్వాతంత్ర్యానికి పూర్వం భారతదేశంలో జాతీయాదాయాన్ని అనేక మంది అంచనా వేయటం జరిగింది. కాని ఈ అంచనాల్లో వాడిన జాతీయాదాయ నిర్వచన పద్ధతులు అప్పటి ధరలు, అంచనాల్లో చేర్చిన ప్రాంతాలు ఒకటిగా లేనందున వాటిని అంత విశ్వసనీయమైనవిగా భావించలేదు. ఒక దానితో ఒకటి సోల్పేందుకు కూడా వీలులేదు. మన దేశంలో ఆ నాడు జాతీయాదాయాన్ని ఏ ఏ సంవత్సరాలకు అంచనా వేసింది ఈ దిగువ పట్టిక తెలుపుతుంది.

వరుస సంఖ్య	ఆర్థికవేత్త	సంవత్సరం	తలసరి ఆదాయం (రూ॥లలో)
1.	దాదాభాయి నారోజీ	1867 - 68	20
2.	బారింగ్ అండ్ బార్బోర్	1881	27
3.	లార్డ్ కర్జన్	1897-99	30
4.	డిగ్లీ	1898 - 99	18
5.	బి.యన్. శర్మ	1911	50
6.	వకీల్ అండ్ మురనోజన్	1910 - 14	58.5
7.	వాడియా అండ్ జోషి	1913 - 14	44.5
8.	షా అండ్ కాంబట్టీ	1921	74
9.	ఫిర్రాస్	1921	107
10.	వి.కె.ఆర్.వి. రావ్	1931 - 32	65
		1942 - 43	114

ఈ అంచనాలను గమనిస్తే ఒక అంచనాకు మరొక అంచనాకు పోలిక కన్పించదు. ఉదాహరణకి డిగ్రీ, లాడ్ కర్టన్లు దాదాపు ఒకే కాలానికి అంచనా వేసినను వారి అంచనాల మధ్య విపరీత వ్యత్యాసం కన్పిస్తుంది. అదే విధంగా షా అండ్ కాంబ్లెట్టి, షిరాస్ లు ఒకే కాలానికి అంచనా వేసినా వారి తలసరి ఆదాయం అంచనాలలో తీవ్ర వ్యత్యాసం వుంది.

**డా॥ వి. కె. ఆర్. వి. రావ్ అంచనాలు :** భారతదేశంలో 1948 - 49కి పూర్వం చేసిన అంచనాలన్నింటిలోకి డా॥ వి.కె.ఆర్.వి. రావ్ అంచనాలే శాస్త్రీయమైనవిగా పరిగణిస్తున్నారు. డా॥ రావ్ రెండు అంచనాలు 1931 - 32, 1942 - 43 సం॥లలో చేయడం జరిగింది. ఈ రెండు అంచనాల్లో జాతీయాదాయాన్ని ఒకే విధంగా నిర్వచించడం జరిగింది. "ఉత్పత్తి కారకాల ఖరీదు దృష్ట్యా ఉత్పత్తి అయిన వస్తు సేవల నికర విలువను విదేశ ఆదాయాలకు సవరించగా వచ్చిన మొత్తం" డా॥ రావ్ ఉత్పత్తి, ఆదాయ మదింపు పద్ధతుల సమ్మేళనాన్ని ఈ అంచనాల్లో ఉపయోగించాడు.

డా॥ రావ్ భారతదేశ ఆర్థిక వ్యవస్థను రెండు తరగతులుగా విభజించడం జరిగింది. మొదటి తరగతిలో వ్యవసాయం, గనులు, అడవులు, వేట, చేపల ఉత్పత్తులు వస్తాయి. ఈ రంగాల ఉత్పత్తిని అంచనా వేసేందుకు ఉత్పత్తి మదింపు పద్ధతిని ఉపయోగించారు. రెండో తరగతిలోనికి పరిశ్రమలు, రవాణా, వ్యాపారం, ప్రభుత్వ సేవలు, వివిధ వృత్తులు, కళలు, కుటుంబ సేవలు వస్తాయి. వాటిని ఆదాయాలను లెక్కించేందుకు ఆదాయాలు మదింపు పద్ధతిని వాడటం జరిగింది. ఈ రెండు తరగతుల ఆదాయాలకు ఇతర ఆస్తులైన (పై రెండు తరగతులకు చెందని) ఇల్లు మొదలైన వాటి మీద వచ్చి ఆదాయాలను కలపడం జరిగింది. ఈ మొత్తం ఆదాయాల నుంచి ఉత్పత్తి ప్రక్రియలో వినియోగించిన వస్తు సేవల విలువలను తీసివేయడం జరిగింది. దానికి విదేశీ వ్యాపారం ద్వారా వచ్చిన ఆదాయాన్ని కలిపి జాతీయాదాయాన్ని మదింపు చేయడం జరిగింది.

డా॥ రావ్ వస్తు సేవల రెండింటినీ జాతీయాదాయంలో చేరుస్తూ, స్థూల, నికర ఆదాయాలను వేరు చేస్తూ జాతీయాదాయాన్ని పైన చెప్పిన విధంగా మదింపు చేశారు. అయితే ఈ అంచనాలు వేసేటప్పటికీ పారిశ్రామిక ఉత్పత్తి గణన జరిగి వుండలేదు. వ్యవసాయ ఉత్పత్తుల గణాంకాలు కూడా ఖచ్చితమైనవి కావు. అయినను అప్పటి వరకూ ప్రచురితమవుతున్న అధికార, అసాధికార గణాంకాలన్నింటినీ ఉపయోగించారు. ఇంకా నివేదికలు, విచారణా సంఘాలు సేకరించిన సమాచారం, స్వయంగా విచారణ జరిపి ప్రశ్నావళుల ద్వారా సమాధానాలు రాబట్టే విశేషమైన కృషి చేసి జాతీయాదాయాన్ని డా॥ రావ్ అంచనా వేశారు.

**14.2.3 స్వాతంత్ర్యసంతరం జాతీయాదాయ అంచనాలు :** భారతదేశంలో జాతీయాదాయం మరియు దానికి సంబంధించిన అంశాలకు సంబంధించిన సమాచారం సక్రమంగా లేకపోవటం వలన ఆర్థిక విధానాలు రూపొందించాలంటే ప్రభుత్వానికి కష్టంగా వుండేది. ఈ ఇబ్బందిని అధిగమించేందుకు 1949 ఆగస్టు నెలలో ప్రభుత్వం జాతీయాదాయ కమిటీని నియమించింది. ఈ కమిటీ 1948 - 49 సంవత్సరానికి జాతీయాదాయాన్ని అంచనా వేసింది. అయితే 1949 - 50 నుంచి ఈ పనిని కేంద్ర గణాంక వ్యవస్థ (CSO)కు చెందిన జాతీయాదాయ విభాగం చేపట్టింది. ప్రతి సంవత్సరం ఈ విభాగం అంచనాలు తయారు చేయటం జరుగుతుంది. స్వాతంత్ర్యం తరువాత జాతీయాదాయ అంచనాలు మూడు శ్రేణులలో లభిస్తున్నాయి. అవి 1) సాంప్రదాయక శ్రేణులు 2) సవరించిన శ్రేణులు 3) 1980 - 81 ఆధారంగా కొత్త శ్రేణులు. వీటిని గురించి క్లుప్తంగా తెలుసుకుందాము.

1. **సాంప్రదాయక శ్రేణులు :** సాంప్రదాయ పద్ధతులలో జాతీయాదాయాన్ని అంచనా వేసిన ఈ శ్రేణులు 1948 - 49 నుంచి 1964 - 65 కాలానికి వర్తమాన ధరలలోను, 1948 - 49 ధరలలోను సమాచారం అందిస్తున్నాయి.

ఈ శ్రేణులలో ఆదాయ మార్గాలను 13 అంశాలుగా విభజించటం జరిగింది. అవి : వ్యవసాయం, పశుసంపద, చేపలు, అడవులు, గనులు, కర్మాగారాలు మొదలైన అంశాలలో ఆదాయాన్ని ఉత్పత్తి మదింపు పద్ధతి (నికర ఉత్పత్తి పద్ధతి) ద్వారా గుణించటం జరుగుతుంది. మిగిలిన 7 అంశాలకు చిన్న పరిశ్రమలు, బ్యాంకులు, భీమా, వాణిజ్యం, రవాణా, కళలు, గృహ పరివారాల సేవలు (Liberal arts and domestic services) ప్రభుత్వ సేవలు, గృహాల నుంచి

ఆదాయం, విదేశాల నుంచి నికర ఆదాయం - ఆదాయ మదింపు పద్ధతి(నికర ఆదాయ పద్ధతి) వర్తింపజేయటం జరుగుతుంది.

నికర ఉత్పత్తి పద్ధతి : వ్యవసాయ రంగంలో ప్రతి పంట ఉత్పత్తిని, సగటు ఎకరా దిగుబడిని మొత్తం పంట విస్తీర్ణంతో హెచ్చించటం ద్వారా అంచనా వేసారు. ఆ విధంగా లభించిన మొత్తం ఉత్పత్తి నుంచి విత్తనాలు, మందులు, ఎరువుల ఖర్చు, మార్కెట్టు ఖర్చులు, మరమ్మతుల ఖర్చులు, తరుగుదల తీసి వేయటం ద్వారా నికర వ్యవసాయ ఉత్పత్తి లభిస్తుంది.

పశుసంపద, అడవులు, చేపలు, గనులు, పరిశ్రమలకు వాటి ఉత్పత్తులను మార్కెట్ ధరలతో గుణించగా మొత్తం ఉత్పత్తి విలువ లభించింది. దీని నుంచి ఉత్పత్తి ప్రక్రియలో వాడిన వస్తువుల ఖర్చు తరుగుదలను తీసివేసి నికర ఉత్పత్తి విలువను పొందటం జరిగింది.

నికర ఆదాయ పద్ధతి : ఈ పద్ధతి 7 అంశాలకు వర్తింపజేశారని తెలుసుకున్నాం. ఇందులో చిన్న పరిశ్రమ ఉత్పత్తుల విలువను అంచనా వేసేందుకు మొత్తం చిన్న పరిశ్రమలలో నియమించిన శ్రామికుల సమస్యను అంచనా వేశారు. ప్రతిచయన పద్ధతి ద్వారా సగటు శ్రామికుని ఆదాయం లెక్కించారు. మొత్తం శ్రామికుల సంఖ్యను సగటు ఆదాయంతో హెచ్చించి, చిన్న పరిశ్రమలలో మొత్తం ఉత్పత్తుల విలువను అంచనా వేశారు.

బ్యాలంకింగ్, భీమా సంస్థల సమాచారం వాటి ఆస్తి, అప్పుల పట్టిక (Balance Sheets)ల నుంచి సేకరించారు. వేతనాలు, జీతాలు, డైరెక్టర్ల ఫీజులు, పంచిన, పంచని లాభాలన్నీ కలిపి ఈ రంగాల నికర ఆదాయాన్ని అంచనా వేశారు. వ్యాపార, రవాణా, వృత్తులు, కళలు, కుటుంబ పరివారల సేవల నికర ఉత్పత్తి విలువ అంచనాలను చిన్న పరిశ్రమల అంచనాల విధంగానే చేశారు. ప్రభుత్వ సేవల విలువకట్టేటప్పుడు వేతనాలు, జీతాలు, పెన్షన్లు, ఇతర సదుపాయాలు, లాభాలు మొదలైన వాటన్నింటినీ కలిపి మదింపు చేశారు. దీనికి ప్రభుత్వ నిర్మాణాల విలువను కూడా చేర్చారు. ఇళ్ళ ఆస్తుల (House property) ఆదాయాన్ని, పట్టణ, పల్లెలలో చెల్లిస్తున్న నికర అద్దెల చెల్లింపు వివరాల్ని బట్టి అంచనా వేశారు.

డా॥ వి.కె.ఆర్.వి. రావ్ చెప్పిన ప్రకారంగా వివిధ అంశాల ఆదాయ అంచనాలకు లభించిన సమాచారంతో 60% మాత్రమే ఆ సంవత్సరానికి సంబంధించినది. మిగిలిన 40% అంతకుముందున్న సమాచారాన్ని విశ్లేషించటం ద్వారా లభిస్తుంది. అన్ని అంశాల ఆదాయాలను కలపటం ద్వారా ఉత్పత్తి కారకాల ఖరీదు దృష్ట్యా నికర జాతీయాదాయం లభించింది. దీనికి నికర విదేశీ ఆదాయం, పరోక్ష పన్నులు కలిపితే ప్రస్తుత ధరలలో నికర జాతీయాదాయం లభిస్తుంది.

2. సవరించిన శ్రేణులు (Revised Series) : ఈ శ్రేణుల ద్వారా 1960 - 61 నుంచి 1975 - 76 కాలానికి 1960 - 61 ధరల ప్రాతిపదికగా వర్తమాన ధరలలోను జాతీయాదాయపు సమాచారం లభిస్తుంది. అయితే 1969 - 70 సంవత్సరం వరకూ ప్రస్తుత ధరలు, 1948 - 49 స్థిర ధరలలో లెక్క కట్టిన జాతీయాదాయపు అంచనాలు కూడా ప్రచురించటం జరిగింది. 1960 - 61 ఆధార సంవత్సరానికి బదులు 1970 - 71 ఆధార సంవత్సరంగా కూడా తీసుకొని 1979 - 80వ సంవత్సరం వరకూ అంచనా వేశారు.

ఈ సవరించిన శ్రేణులలో జరిగిన పురోగతి ముఖ్యంగా వ్యవసాయ రంగానికి సంబంధించినది. ఈ విధంగా వ్యవసాయ రంగానికి సంబంధించిన గణాంకాలు మెరుగుగా లభ్యమవటం వలన జాతీయాదాయపు అంచనాలతో కూడా ఎంతో నాణ్యత కనిపిస్తూ వచ్చింది. ఇంతకు పూర్వం వలెనే వ్యవసాయం, ఉత్పత్తి, పరిశ్రమలకు సంబంధించి ఉత్పత్తి పద్ధతిని, ఇతర అంశాలను ఆదాయ పద్ధతిలో వాడారు.

3. 1980 - 81వ సంవత్సరం ఆధారంగా క్రొత్త శ్రేణులు : ప్రస్తుతం వర్తమాన ధరలలోను, 1980 - 81 సంవత్సరాన్ని ఆధార

సంవత్సరంగా స్థిర ధరలలోను జాతీయాదాయపు అంచనాలు తయారుచేస్తున్నారు. ఈ గణాంకాలను 1950 - 51 సంవత్సరానికి వెనుకకు కూడా విస్తరింపజేసి జాతీయాదాయ అంచనాలు తయారు చేస్తున్నారు. వీటి వల్ల వివిధ కాలాల్లో వివిధ ఆధార సంవత్సరాల ద్వారా జాతీయాదాయ అంచనాలు పోల్చవచ్చు.

కొత్త శ్రేణుల్లో స్థిర మూలధన వినియోగ అంచనాలలో మార్పు చేయటం జరిగింది. ప్రస్తుత అంచనాల ప్రకారం పుస్తకాలలో ఇచ్చిన తరుగుదల ఆధారంగా స్థిర మూలధన వినియోగం లెక్కించేవారు. కాని ఈ శ్రేణులలో స్థిర మూలధన వినియోగ అంచనాలను, మొత్తం స్థిరమూలధన విలువకు, ఆ సంవత్సరంలో స్థిర మూలధన సంచయనం దాని జీవన కాలంతో అనుసంధానం చేయుట ద్వారా మెరుగుపర్చారు. దీని ప్రకారం తరుగుదల ఇంచుమించు ఆ స్థిర మూలధన జీవన కాలానికి సరిపోతుంది.

ఈ కొత్త విధానం ద్వారా జాతీయాదాయపు అంచనాలలో 1970 - 71 శ్రేణుల కన్నా పెరుగుదల కనిపించింది. ఉదాహరణకు 1980 - 81 సంవత్సరానికి 1970 - 71 శ్రేణుల ప్రకారం ఉత్పత్తి కారకాల ఖరీదు దృష్ట్యా మొత్తం జాతీయాదాయం (GDP) రూ. 1,22,226 కోట్లుగా అంచనా వేయగా కొత్త అంచనాల ప్రకారం అది రూ. 1,13,548 కోట్లు అంటే 8,678 కోట్ల రూపాయల పెరుగుదల వచ్చింది. కొత్త అంచనాల ప్రకారం ప్రస్తుత ధరలలో 1988-89 సంవత్సరానికి జాతీయాదాయం 3,06,822 కోట్ల రూపాయలు, తలసరి ఆదాయం 3,835.3 రూపాయలు.

**14.2.4 భారతదేశ జాతీయాదాయ అంచనాల వ్యభావం :** జాతీయాదాయ అంచనాల వల్ల మన దేశ జాతీయాదాయంలో కింది లక్షణాలు గోచరిస్తాయి. అవి :

1. తలసరి ఆదాయ పెరుగుదలలో ప్రోత్సాహక ధోరణి : స్థిర ధరలలో నికర జాతీయోత్పత్తిలో పెరుగుదల వస్తు సేవల వృద్ధిని, ఫలితంగా సమాజ ఉత్పాదకతా శక్తిని తెలియజేస్తుంది. ఈ స్థిర ధరల్లో నికర జాతీయోత్పత్తిని జనాభాతో భాగిస్తే వాస్తవిక తలసరి ఆదాయం (స్థిర ధరల్లో తలసరి ఆదాయం) వస్తుంది. ఈ తలసరి ఆదాయం ప్రజల జీవన ప్రమాణాన్ని తెలియజేస్తుంది. ఈ వివిధ భావనల వల్ల దేశ ఆర్థిక పోకడలు తెలుస్తాయి. భారతదేశ జాతీయాదాయ గణాంకాల ఫలితంగా మన దేశ వాస్తవిక నికర జాతీయాదాయం, వాస్తవిక తలసరి ఆదాయం పెరుగుచున్నట్లు, ఆర్థిక వ్యవస్థ ధోరణి ప్రోత్సాహకరంగా వున్నట్లు మనం తెలుసుకోవచ్చు.
2. అంచనాల్లో వ్యత్యాసం : జాతీయాదాయ సమాచారాన్ని సేకరించటానికి కొంత కాలం పడుతుంది. ఈ సమాచార అంచనాలు వివిధ విడతల్లో ప్రకటించబడతాయి. మన కేంద్ర గణాంక వ్యవస్థ (CSO)ను గమనిస్తే మొదట తొలి అంచనాలను ప్రకటిస్తుంది. తరువాత కొంత సమయానికి తుది అంచనాలు వెల్లడి చేస్తుంది. ఈ రెంటి మధ్య పెద్ద తేడా లేనట్లయితే అంచనాలు ఖచ్చితంగా వున్నట్లు చెప్పవచ్చు. అంచనాల్లో వ్యత్యాసాలు సాధారణంగా కనిపిస్తాయి.
3. వివిధ రంగాల ప్రాధాన్యం : జాతీయాదాయ అంచనాల ప్రాతిపదికపై ఆధారపడి ఆర్థిక వ్యవస్థలో వివిధ రంగాల ప్రాధాన్యతలు తెలుస్తాయి. తత్ఫలితంగా దేశ ఆర్థిక వృద్ధి తీరు తెలుసుకువచ్చు. భారతదేశంలో స్వాతంత్ర్యానంతరం వ్యవసాయ రంగం నుంచి వచ్చే ఆదాయం తగ్గుచుండగా మరొక వైపు పారిశ్రామిక, శ్రామిక రంగ ఆదాయం పెరుగుట జరుగుతోంది. ఈ ధోరణి దేశ ప్రగతికి చిహ్నము.
4. ప్రభుత్వరంగ ప్రాధాన్యత : భారతదేశ ఆర్థిక వ్యవస్థ మిశ్రమ ఆర్థిక వ్యవస్థ. ప్రభుత్వ, ప్రైవేటు రంగాలు రెండూ పనిచేస్తుంటాయి. ఈ రెండు రంగాల ప్రాధాన్యతలను తెలుసుకోవటానికి, వాటి వాటాలలో వచ్చు మార్పులను తెలుసుకోవటానికి జాతీయాదాయ గణాంకాలు దోహదం చేస్తాయి.

ఈ విధంగా జాతీయాదాయ అంచనాలపై ఆధారపడి దేశ ఆర్థిక స్వభావం, తీరు తెన్నులు, పెరుగుదల ధోరణులు మొదలైన అనేక విషయాలను తెలుసుకోవచ్చు.

**14.2.5 జాతీయాదాయ అంచనాల్లో ఇబ్బందులు :** ఏ దేశ జాతీయాదాయాన్ని లెక్కించాలన్నా తప్పనిసరిగా కొన్ని ఇబ్బందులు వుంటాయి. భారతదేశ జాతీయాదాయాన్ని లెక్కించేటప్పుడు ఉత్పన్నమయ్యే కొన్ని ప్రత్యేక ఇబ్బందులను గురించి తెలుసుకుందాం.

1. భారత ఆర్థిక వ్యవస్థ అసంఘటితం, ద్రవ్యేతర రంగంగా వుండడం : భారతదేశ జాతీయాదాయాన్ని లెక్కించటం అంత సులువైన విషయం కాదు. ఎందుకంటే ఆర్థిక వ్యవస్థలో ద్రవ్యానికి మారకం కాని వస్తువులు అనేకం వున్నాయి. భారత ఆర్థిక వ్యవస్థ అసంఘటితమైనది మరియు వ్యవసాయ ప్రాధాన్యత కలది. ఈ విధంగా ద్రవ్యేతర రంగం, అసంఘటితమైన వ్యవసాయ రంగం వున్న ఆర్థిక వ్యవస్థలో ఉత్పత్తికి సంబంధించిన ఖచ్చితమైన గణాంకాలను అంచనా వెయ్యటం కష్టసాధ్యమైన విషయం.
2. ఖచ్చితమైన తగినంత గణాంక సమాచారం లభ్యం కాకపోవటం : ఏ దేశంలోనైనా సంపూర్ణ, నమ్మకమైన గణాంకాలు లభ్యం కానట్లయితే ఖచ్చితమైన జాతీయాదాయాన్ని లెక్కించలేము. భారతదేశంలో అందులోనూ వ్యవసాయ రంగంలో గణాంకాలు అసంపూర్ణమైనవి మరియు నమ్మలేనటువంటివి. అంతేకాక వినియోగ వ్యయం, పెట్టుబడి, దాచిపెట్టిన ద్రవ్యం, మూలధన సంచయనం మొదలైన వాటి గణాంకాల లభ్యత చాలా పరిమితం. దీనితోపాటు ఈ గణాంకాలను సేకరించేవారు గ్రామపట్టణాలేదా గ్రామ సేవక్. వీరు సంపూర్ణ విద్యావంతులు కాదు. దీనితోడు వీరికి గణాంక సేకరణలో ఏ విధమైన తర్ఫీదు గాని, శిక్షణగాని ఉండదు. అందుచేత వీరు సేకరించిన గణాంకాలను నమ్మశక్యము కానివి. ఏది ఏమైనప్పటికీ ప్రస్తుతం కేంద్ర, రాష్ట్ర ప్రభుత్వాలు ఈ గణాంకాల ఖచ్చితత్వాన్ని పెంపొందించేందుకు చర్యలు చేపట్టడం జరుగుతుంది.
3. అకౌంటు కలిగిన రికార్డులు లేకపోవటం : భారతదేశంలో అసంఘటిత వ్యవస్థ విస్తృతంగా ఉండటం, ప్రజలు నిరక్షరాస్యులుగా ఉన్నందున ఉత్పత్తికి సంబంధించిన అకౌంటుల రూపొందించలేకపోతున్నారు. ఒకవేళ ఏవైనా అకౌంటు వున్నా అవి ఊహాజనితమైనవే తప్ప ఖచ్చితమైనవి కావు.
4. ప్రాంతీయ వ్యత్యాసాలు : భారతదేశంలో ప్రాంతీయ వ్యత్యాసాలు విస్తృతంగా ఉన్నందున గణాంకాలు అన్ని ప్రాంతాల్లో సమ్మర్థిగా లేదు. కావున ఈ గణాంకాల నుంచి సరైన ముగింపును అటు ప్రాంతాలకు సంబంధించి కాని ఇటు ఆర్థిక వ్యవస్థ మొత్తానికి గాని ఇవ్వటం సాధ్యం కావటం లేదు.
5. ఆర్థిక విధుల విభజన ఖచ్చితంగా లేకపోవటం : భారతదేశంలో వివిధ వృత్తుల మధ్య ఖచ్చితంగా గిరిగీసి చెప్పలేము. ఉదాహరణకు జనాభా వత్తిడి వల్ల భూమి సంవత్సరం పొడవున పనిపాటలు ఇవ్వలేదు. కావున వ్యవసాయ దారులు ఇతర వృత్తులను ఆశ్రయించవలసి వస్తుంది. అనేక కుటుంబాల వారు వ్యవసాయంతోపాటు కుటీరపరిశ్రమలు, పౌష్టి, డైరీ పరిశ్రమ మొదలైన వాటిపై ఆధారపడటం జరుగుతుంది. వ్యవసాయ పనిపాటలు తక్కువగా వున్న సమయాల్లో వ్యవసాయదారులు పట్టణాలకే వలసవెళ్ళి ఫ్యాక్టరీలలో పనిచేయటం, గృహ పని పాటలు చేయడం లాంటిది జరుగుతోంది. ఈ విధంగా ఒకే సమయంలో వివిధ పనులు చేయటం వల్ల, వివిధ సమయాల్లో వివిధ పనులు చేయటం వల్ల వీరి వృత్తిని ఖచ్చితంగా గుర్తించేందుకు సాధ్యం కాకపోవటం తత్ఫలితంగా ఆదాయ గణాంకాల గణన ఖచ్చితంగా వుండడంలేదు.
6. అక్రమ సంపాదనలు : దేశంలో అక్రమ సంపాదనలవల్ల నల్లధనం పెరుగోతుంది. నల్లధనం లెక్కలోకి రాదు. మనదేశంలో వివిధ అంచనాల ప్రకారం దాదాపు 20 శాతం ఆదాయం నల్లధనంగా వున్నట్లు అంచనా. ఈ విధంగా లెక్కలోకి రాని ఆదాయం జాతీయాదాయ గణనకు ప్రతిబంధకం.

ఈ విధంగా అనేక ఇబ్బందుల వల్ల జాతీయాదాయ అంచనా క్లిష్టంగా వుంది. ఈ ఇబ్బందులను అధిగమించేందుకు ప్రభుత్వం ప్రత్యేక శ్రద్ధ తీసికొని ప్రయత్నాలను చేస్తోంది. 1949లో జాతీయాదాయ కమిటీని నియమించటం, CSOలో జాతీయాదాయ యూనిట్ ఏర్పాటు చేయటం, NCAER మరియు RBI సంస్థలు జాతీయ ఉత్పత్తి, తలసరి ఆదాయాలపై పరిశోధనలు చేయటం లాంటివి మచ్చుకు చెప్పుకోవచ్చు.

### 14.3 జనాభా గణాంకాలు

గణాంకాలలో జనాభా గణాంకాలు అతి పురాతనమైనవిగా చెప్పవచ్చు. జనాభా గణనతోనే గణాంకశాస్త్ర పుట్టుక జరిగిందని చరిత్ర తెలియజేస్తుంది. మొట్టమొదట్లో రాజులు తన దేశంలో మానవ శక్తి (Man Power) తెలుసుకొనేందుకు జనాభా గణాంకాలు సేకరించేవారు. కాని నేడు జనాభా గణాంకాలను కేవలం ఆ కోణం నుంచి కాక అనేక ప్రయోజనాలనాశించి భిన్న కోణాలలో సేకరించడం జరుగుతోంది.

క్రీస్తు పూర్వం 4,500 సంవత్సరాల నాడే జనాభా గణాంకాలు సేకరించే ప్రయత్నం జరిగింది. ఆనాడు ముఖ్యంగా రాజులు తమ రాజ్య స్థాపన కోసం, రాజ్య విస్తరణ కోసం, సైనిక బలాన్ని తెలుసుకోవడం కోసం జనాభా లెక్కలు సేకరించేవారు. దీనితోపాటు పన్ను ద్వారా ఆదాయం అంచనా వేయటానికి కూడా ఈ జనాభా లెక్కలను ఉపయోగించుకునే వారు. రాను రాను జనాభా గణన యొక్క తీరు, ప్రయోజనాలు క్రమక్రమంగా మారటం జరిగింది. నేడు జనాభా గణనలో అనేక సాంఘిక, ఆర్థిక, సాంస్కృతిక వివరాలు సేకరించటం జరుగుతుంది. జాతీయ ప్రణాళికలు రూపొందించటానికి, దేశ పురోభివృద్ధి సాధించటానికి, ఆర్థిక విధానాలు రూపొందించటానికి అవసరమైన అనేక ఉపయోగాలకు జనాభా గణాంకాలు దోహదం చేస్తున్నాయి. నేటి జనాభా గణన అమూల్యమైనదిగా చెప్పవచ్చు. జనాభా గణనను ఎందుకు పూర్తి సెన్సస్ లో చెయ్యాలి?

గణాంక విచారణ పద్ధతులు రెండు విధాలని, అవి పూర్తి సెన్సస్ పద్ధతి (జనాభా పద్ధతి) మరియు ప్రతిచయన పద్ధతని మనకు తెలుసు. ఒక (గణాంక) విచారణకు సంబంధించిన అన్ని అంశాలను (జనాభా మొత్తాన్ని) పరిశీలించే పద్ధతిని పూర్తి సెన్సస్ పద్ధతి అని అంటారు. అంశాలలో ప్రాతినిధ్యం వహించే కొన్ని అంశాలను పరిశీలన జరిపి ఫలితాలను అంశాలన్నింటికి (జనాభాకు) వర్తింపజేసే విధానాన్ని ప్రతిచయన పద్ధతి అంటారు. అయితే జనాభాకు సంబంధించి గణాంకాలను ఎల్లప్పుడూ పూర్తి సెన్సస్ పద్ధతిలో సేకరించటం జరుగుతుంది. ప్రతిచయన విధానానికి వెళ్ళటం జరగదు. ఎందుకంటే ఏ ఒక్క వ్యక్తి యొక్క సమగ్ర సమాచారం మరో వ్యక్తి సమాచారంతో పోలి వుండదు. అందుచేతనే జనాభా గణాంకాలను పూర్తి సెన్సస్ పద్ధతిలో సేకరిస్తారు. కావుననే జనాభా గణాంకాలను 'సెన్సస్' అంటారు.

**14.3.1 జనాభా గణాంకాల సేకరణ పద్ధతులు :** జనాభా గణాంకాలను సేకరించే పద్ధతులను మూడు రకాలుగా వర్గీకరించవచ్చు. అవి (1) జనాభా లెక్కలు, (2) ప్రాణి గణాంకాలు, (3) డెమోగ్రఫీ సర్వేలు.

- (1) **జనాభా లెక్కలు :** ఒక దేశంలో నిర్ణీత సమయంలో జన సంబంధ, ఆర్థిక, సాంఘిక విషయాలకు సంబంధించిన దత్తాంశాన్ని సేకరించి, కుదించి, ప్రచురించే మొత్తం పద్ధతిని జనాభా లెక్కలుగా ఐక్యరాజ్య సమితి నిర్ణయించింది. ఈ జనాభా లెక్కలను ప్రపంచంలో అన్ని దేశాలు నిర్వహిస్తున్నాయి. ఈ లెక్కలు ప్రతి పది సం॥లకొకసారి నిర్వహించటం జరుగుతుంది.
- (2) **ప్రాణి గణాంకాలు :** ప్రాణి గణాంకాలు ఒక దేశ జనన మరణాలు, ఆరోగ్య స్థితి, జనాభా పెరుగుదల, పునరుత్పత్తి స్థాయి, వైవాహిక సమాచారం వంటి అనేక విషయాలను గురించి తెలియజేస్తాయి. ఒక దేశ ప్రాణి గణాంకాలు సక్రమంగా పొందుపరిచినట్లయితే జనాభా పెరుగుదల వివరాలను జనాభా లెక్కలు సేకరించకుండానే చెప్పవచ్చు. ప్రాణి గణాంకాల సమాచారం ప్రతిదేశానికి అవసరం మరియు అనేక విధాలుగా ఉపయోగదాయకం కూడా.

(3) డెమోగ్రాఫిక్ సర్వేలు : ఈ సర్వేల వల్ల కొన్ని ప్రత్యేక ప్రాంతాలను గూర్చి వాటికి సంబంధించిన ముఖ్య లక్షణాలను గూర్చి తెలుసుకోవటం జరుగుతుంది. ఈ సర్వేలు ఒక నిర్దిష్ట కాల క్రమంలో జరగాలనే నియమం లేదు. అవసరమైనప్పుడు ఈ విధమైన సర్వేలు నిర్వహించటం జరుగుతోంది. జనాభా గణనల మధ్య కాలంలో ఏదైనా సమాచారాన్ని సేకరించవలసి వచ్చినా ఈ సర్వేలను నిర్వహించటం జరుగుతుంది.

**14.3.2 ప్రాణి గణాంకాలు :** జనాభా స్వరూపంలో ఏర్పడే మార్పులను గూర్చి వివరించే ప్రాణి గణాంకాలను గూర్చి ఇప్పుడు తెలుసుకుందాం. జనాభాలో మార్పులు అవిచ్ఛిన్నంగా సంభవిస్తూనే వుంటాయి. ఈ మార్పులు ప్రాణి సంఘటనల వల్ల సంభవిస్తాయి. ఈ ప్రాణి సంఘటనలంటే జననాలు, మరణాలు, అనారోగ్యం, వివాహాలు, విడాకులు, ఫలదీకరణ (Fertility) రేట్లు మొదలైనవి. ఒక నిర్దిష్ట కాలంలో జనాభాలో మార్పులకు కారణాలయ్యే సంఘటనలనే ప్రాణి సంఘటనలుగా చెప్పవచ్చు. ఒక దేశంలో నిర్దిష్టమైన కాలంలో వున్న జన సంఖ్య వివరాలను, లక్షణాలను గూర్చి జనాభా గణాంకాలు తెలియజేస్తే, జనాభా స్వరూపంలో అవిచ్ఛిన్నంగా ఏర్పడే మార్పులను ప్రాణి గణాంకాలు తెలియజేస్తాయి.

**ప్రాణి గణాంకాల ప్రాముఖ్యం :** ఒక సమాజము యొక్క పునరుత్పత్తి ప్రక్రియలను వివరించే శాస్త్రంగా ప్రాణి గణాంక శాస్త్రానికి ఎంతో ప్రాముఖ్యత వుంది. దీనితోపాటు ఆచరణలో కూడా ప్రాణి గణాంకాలకు అనేక ప్రయోజనాలున్నాయి.

1. ప్రజారోగ్య కార్యక్రమాలను చేపట్టేందుకు ఈ శాస్త్రం పునాది. కాలక్రమంలో సంభవించే వివిధ రోగాలు, ఫలితంగా మరణాలు ఎట్లా పెరుగుచున్నవో ఈ గణాంకాల ద్వారా తెలుస్తాయి. ఈ గణాంకాలవల్ల ఏ వ్యాధుల ద్వారా ఎక్కువ మరణాలు సంభవిస్తున్నాయో తెలుసుకోవచ్చు. తరువాత ఆ వ్యాధులను అదుపులో వుంచటానికి ప్రయత్నించవచ్చు. ఇట్లాంటి ప్రయత్నాల వల్లనే అనేక వ్యాధులను నివారించేందుకు, నిరోధించేందుకు గత శతాబ్దంలో వీలైంది. ఫలితంగా జీవిత పరిమాణం పెరిగింది.
2. జీవిత భీమా వ్యాపారానికి ఈ ప్రాణి గణాంకాలు చాలా ఉపయోగపడతాయి. వివిధ వయస్సులలో సంభవించుతున్న మరణాలను బట్టి భీమా ప్రీమియంను నిర్ణయిస్తారు.
3. కుటుంబ నియంత్రణ పథకాలు విజయవంతంగా అమలు జరపడానికి ప్రాణి గణాంకాలు ఎంతో ఉపకరిస్తాయి.
4. వ్యాపారస్తుల మార్కెట్ విశ్లేషణకు ప్రాణి గణాంకాలు పనికివస్తాయి.
5. ప్రమాదాల వల్ల సంభవించే మరణాల అంచనాలను ప్రాణి గణాంకాల ద్వారా తెలుసుకోవచ్చు. ఈ గణాంకాలను బట్టి ప్రమాద నివారణ చర్యలు చేపట్టవచ్చు.
6. ప్రాణి గణాంకాల అవసరము పరిపాలన నిర్వహణలో ఎంతైనా వుంది. ఈ గణాంకాల వల్ల రాబోయే మార్పులను అంచనా వేయవచ్చు. ఈ మార్పులను ఊహించి పరిపాలనా నిర్వహణలో అవసరమైన మార్పులు చేయవచ్చు. ఉదాహరణకు దేశంలో గృహవసతి ఎంత పెంచాలి. పాఠశాలలను ఏ సంఖ్యలో పెంచాలి లేదా ఆస్పత్రుల సంఖ్య ఏ మేరకు పెంచాలి లాంటి అనేక ప్రజోపయోగ కార్యక్రమాలు చేపట్టడానికి ఈ గణాంకాలు ఉపయోగపడతాయి.
7. భౌగోళిక, సాంకేతిక వృత్తులరీత్యా జనాభా మదింపు, జనాభివృద్ధి, జనాభా విస్తరణ పట్ల జన సంఖ్య శాస్త్రజ్ఞులకు ఆసక్తి వుంటుంది. వీరి అధ్యయనానికి ప్రాణి గణాంకాలు అవసరము.
8. వైద్య శాస్త్రానికి, వైద్య రంగాలలో పరిశోధనకు ప్రాణి గణాంకాలు ఎంతో అవసరము.
9. ఆర్థిక, సాంఘిక, ప్రాంతీయ, అభివృద్ధి ప్రణాళికలు రూపొందించడానికి ఈ గణాంకాలు తోడ్పడతాయి.



ప్రాణి సంఘటనల రిజిస్టర్ పద్ధతి : జనన మరణాలు, వివాహాలు మొదలైన వాటికి సంబంధించిన సమాచారం ఖచ్చితంగా వుండాలంటే ప్రాణి సంఘటనలను రిజిస్టర్ చేసుకొనే పద్ధతి తప్పక అమలులో వుండాలి. దత్తాంశాలను సమీకరించే బాధ్యతతో అన్నిటి మీద అధికారం వున్న ఒక కేంద్ర రిజిస్ట్రేషన్ కార్యాలయం ఉండాలి. అది కాక జనన, మరణాలను వెంటనే రిజిస్టరు చేసే పద్ధతి వుండాలి. వీటికి సంబంధించిన చట్టాలు నిర్బంధంగా అమలు జరపాలి. వాస్తవానికి ఇవి ఖచ్చితంగా అమలు చేయగలిగితే, జనాభా గణాంక వివరాలను వేరే సేకరించాల్సిన పనిలేదు. ఈ దత్తాంశము నుంచి విశ్లేషించవచ్చు.

ప్రాణి సంఘటనలను పరిశీలించే పద్ధతులు : ఒక నిర్ణీత ప్రదేశంలో నిర్ణీత కాలంలో వున్న జనాభాను లెక్కించడానికి క్రింది విధంగా లెక్కించవచ్చు.

$$P(t) = P(o) + B(t) - D(t) + I(t) - E(t)$$

$$P(t) = \text{ఒక నిర్ణీత కాలంలో వుండే జనాభా మొత్తం}$$

$$P(o) = \text{ఆధారంగా తీసుకొన్న ఒక నిర్ణీత కాలంలో వున్న జనాభా మొత్తం}$$

$$B(t) = \text{ఆ కాలంలో జననాల సంఖ్య మొత్తం}$$

$$D(t) = \text{ఆ కాలంలో మరణాల సంఖ్య}$$

$$I(t) = \text{ఆ కాలంలో వలస వచ్చిన వారి మొత్తం సంఖ్య}$$

$$E(t) = \text{ఆ కాలంలో వలస పోయిన వారి మొత్తం సంఖ్య}$$

పై పద్ధతిని గమనిస్తే జనాభా మొత్తం మీద ప్రభావాన్ని చూపే అంశాలు నాలుగు అని తెలుస్తోంది. అవి : జననాలు, మరణాలు, వలస పోవడం, వలస రావడం. జనాభాలోని ఎక్కువ మార్పులకు కారణం జనన, మరణాలే కాబట్టి వాటి భావనలు గురించి ప్రస్తుతం తెలుసుకొందాము.

**14.3.2.1 జననాల పరిశీలనా విధానం :** ఒక దేశ జనాభా ఆ దేశ జననాలు, మరణాలు వలస మొదలైన అనేక అంశాలపై ఆధారపడి వుంటుంది. మొట్టమొదటి నుంచి జనాభాను ప్రభావితం చేసే అంశాల్లో జననాలు, మరణాలు ప్రముఖ స్థానాన్ని వహించాయి. ఈ జనన మరణ రేట్లను కనుగొనే విధానాన్ని గురించి మనం తెలుసుకుందాం.

ఎ) అపరిష్కృత లేదా సవరించని జనన రేటు (Crude Birth Date) : ఒక దేశ జనాభా పెరుగుదల ఆ దేశ జననాల మీద ఆధారపడి వుంటుంది. కావున ప్రాణి గణాంకాలలో ముందుగా జననాలను గురించి తెలుసుకొందాం. జననాలను గూర్చి తెలుసుకోనేటప్పుడు అన్నింటికన్నా తేలికైన పద్ధతి ప్రతి వెయ్యి మంది జనాభాకి జన్మిస్తున్న శిశువులను లెక్కించడం. అంటే ఒక సంవత్సర కాలంలో ఒక దేశంలో పుట్టిన శిశువుల (జీవంతో పుట్టిన శిశువులు మాత్రమే)ను లెక్కించడం. అంటే ఒక సంవత్సర కాలంలో కలిగిన జీవజన్మనాలను ఆ కాలంలో ఉన్న జనాభాతో భాగించి, వెయ్యి(1000)చే గుణిస్తే అపరిష్కృత జనన రేటు వస్తుంది. దీనిని సవరించని జననరేటు అని కూడా అంటారు.

జనాభాలో కలిగిన అపరిష్కృత (సవరించని) జననరేటు =

$$\frac{\text{ఒక దేశంలో ఒక నిర్దిష్ట సంవత్సరంలో కలిగిన జీవ జననాల మొత్తం}}{\text{ఆ సంవత్సరములో, ఆ దేశంలో, ఆ సంవత్సర మధ్య కాలంలోని జనాభా మొత్తం}} \times 1000$$

(శిశు జననాలను లెక్కించేటప్పుడు ప్రాణంతో పుట్టిన శిశువులను మాత్రమే లెక్కించాలి, కాబట్టి జీవ జననాలు అంటే కేవలం జీవంలో పుట్టిన శిశువులు అని అర్థం). ఉదాహరణకు మన దేశంలో జననరేటు 751 - 60 మధ్య 41.7 అంటే (ప్రతి 1000 మంది జనాభాకు ఈ కాలంలో సంభవించిన జననాల సంఖ్య 41.7 అని అర్థం.)

బి) సాధారణ సంతతి లేదా ఫలదీకరణ రేటు (General Fertility Rate) : పై అపరిష్కృత జననరేటు ద్వారా కేవలం జనాభా ఎల్లా పెరుగుతుందో తెలుసుకోవచ్చు. కానీ ఈ రేటు ఫలదీకరణ (Fertility Rate) రేటును కొలవడానికి అంతగా ఉపయోగపడదు. జననాల సంఖ్య జనాభా మొత్తం మీద కాక గర్భాధారణ వయస్సు కల స్త్రీ నిష్పత్తి మీద ఆధారపడి వుంటుంది.

ఉదాహరణకు మనం పరిశీలిస్తున్న జనాభాలో శిశువులను కనే వయస్సు కల ఆడవారి (15 - 50 సం॥లలోపు) శాతం ఎక్కువగా ఉన్నట్లయితే జనాభా పెరుగుదల ఎక్కువగా వుంటుంది. కాబట్టి ఫలదీకరణను కొలవడానికి జననాల మొత్తం సంఖ్యను గర్భాధారణకు తగిన వయస్సు కల స్త్రీ సంఖ్యతో పోల్చాలి. ఇది శిశువులను కనే వయస్సులో వున్న ప్రతి 1000 మంది స్త్రీలకు పుట్టిన శిశువుల సంఖ్యను తెలియజేస్తుంది.

$$\text{సాధారణ ఫలదీకరణ రేటు} = \frac{\text{మొత్తం జీవ జననాల సంఖ్య}}{15 - 50 సం॥ల మధ్య వున్న స్త్రీల సంఖ్య} \times 1000$$

(వేర్వేరు వయోపరిమితుల్లోని గర్భాధారణ వయస్సు గల వేయి మంది స్త్రీలకు జన్మించిన పిల్లల సంఖ్యను అదే వయోపరిమితిలోని స్త్రీల సంఖ్యతో పోల్చగా విశిష్ట వయోగత సంతతిరేటు లేదా ప్రత్యేక ఫలదీకరణ రేటు వస్తుంది.)

సి) విశిష్ట వయోగత సంతతి రేటు

విశిష్ట వయోగత సంతతి లేదా ప్రత్యేక ఫలదీకరణ రేటు (Age Specific Fertility Rate) =

$$\frac{\text{ఒక సం॥లో ఒక వయోవరిమితికి చెందిన స్త్రీలలో కలిగిన జననాలు}}{\text{అదే సం॥లో అదే వయోవరిమితికి చెందిన స్త్రీల జనాభా}} \times 1000$$

డి) సమగ్ర సంతతి రేటు లేదా ఫలదీకరణ రేటు : జనాభా పెరుగుదల రేటును అంచనా వేసేందుకు ఇదే సరియైన పద్ధతి. వేర్వేరు వయో పరిమితుల్లో కనిష్ట ఈ వయోగత సంతతి లేదా ఫలదీకరణ రేట్లను కలిపితే మొత్తం లేదా సమగ్ర ఫలదీకరణ రేటు వస్తుంది.

$$\text{సమగ్ర సంతతి లేదా ఫలదీకరణ రేటు} = \frac{\sum (\text{ప్రత్యేక లేదా విశిష్ట వయోగత ఫలదీకరణ రేటు} \times i)}{1000}$$

i = వయస్సు తరగతి అంతరం లేదా వయస్సు తరగతి పరిమాణం

ఉదా : 15 - 19 వయస్సు తరగతి లేదా 20 - 24 వయస్సు తరగతి, ఈ క్రింది ఉదాహరణ ద్వారా సాధారణ ఫలదీకరణ రేటు విశిష్టవయోగత సంతతిరేటు లేదా ప్రత్యేక ఫలదీకరణ రేటు మొత్తం ఫలదీకరణ రేట్లను తెలుసుకొనే విధానాన్ని పరిశీలించవచ్చు.

వయస్సు తరగతి	స్త్రీల సంఖ్య (వేలలో)	జననాలు
15 - 19	25	800
20 - 24	20	2,400
25 - 29	18	2,000
30 - 34	15	1,500
35 - 39	12	500
40 - 44	6	120
45 - 49	4	10
మొత్తం	100	7,330

మొత్తం 7,330 జననాలకుగాను స్త్రీ శిశువుల జననాలు 4,000 అని ఇవ్వడం జరిగింది.

ముందుగా వేర్వేరు వయస్సు తరగతులకి ప్రత్యేక ఫలదీకరణ రేట్లను కనుక్కోవాలి.

$$15-19 \text{ సంవత్సరాల మధ్య వయస్కుల ప్రత్యేక ఫలదీకరణ రేటు లోడా విశిష్ట వయస్కుల సంవత్సరాల రేటు} = \frac{800}{25000} \times 1000 = 32$$

$$20 - 24 \text{ సం॥ల మధ్య వయస్కుల ప్రత్యేక ఫలదీకరణ రేటు} = \frac{2400}{20000} \times 1000 = 120$$

$$25 - 29 \text{ సం॥ల మధ్య వయస్కుల ప్రత్యేక ఫలదీకరణ రేటు} = \frac{2000}{18000} \times 1000 = 111.1$$

$$30 - 34 \text{ సం॥ల మధ్య వయస్కుల ప్రత్యేక ఫలదీకరణ రేటు} = \frac{1500}{15000} \times 1000 = 100.0$$

$$35 - 39 \text{ సం॥ల మధ్య వయస్కుల ప్రత్యేక ఫలదీకరణ రేటు} = \frac{500}{12000} \times 1000 = 41.7$$

$$40 - 44 \text{ సం॥ల మధ్య వయస్కుల ప్రత్యేక ఫలదీకరణ రేటు} = \frac{120}{6000} \times 1000 = 20.0$$

$$45 - 49 \text{ సం॥ల మధ్య వయస్కుల ప్రత్యేక ఫలదీకరణ రేటు} = \frac{10}{4000} \times 1000 = 2.5$$

$$\text{సాధారణ ఫలదీకరణ రేటు} = \frac{\text{మొత్తం జీవజననాలు}}{15 - 50 \text{ సం॥ల మధ్య వయస్కుల స్త్రీ జనాభా}} \times 1000$$

$$\text{సాధారణ సంతతి రేటు} = \frac{7330}{100000} \times 1000 = 73.3$$

ఇక ప్రత్యేక ఫలదీకరణ రేటు గూర్చి తెలుసుకొందాం. పై ఉదాహరణలో 15 - 19 సం॥ల మధ్య వయస్సు గల స్త్రీల ప్రత్యేక ఫలదీకరణ రేటు 32 అని కనుక్కోవడం జరిగింది. అంటే 15 సం॥ల వయస్సు గల స్త్రీలు వారికి 20వ సం॥ వచ్చేటప్పటికీ ఈ 5 సం॥ల కాలంలో మొత్తం  $32 \times 5 = 160$  మంది శిశువులకు జన్మను ఇస్తారన్నమాట. (ప్రత్యేక ఫలదీకరణ రేటు ఎప్పుడు వార్షిక రేటు మాత్రమే. అంటే 15 - 19 సం॥ల మధ్య వయోపరిమితిని ప్రతి స్త్రీ 5 సం॥ల కాలం వెల్లబుచ్చుతుంది. కాబట్టి ప్రతి 1000 మంది స్త్రీలు ఆ కాలంలో 160 మంది శిశువులకు జన్మనిస్తారు). ఇప్పుడు సమగ్ర ఫలదీకరణ లేదా సంతతిరేటు చూద్దాం.

$$\begin{aligned} \text{సమగ్ర ఫలదీకరణ లేదా సంతతి రేటు} &= \frac{\text{ప్రత్యేక ఫలదీకరణ రేట్ల మొత్తం} \times \text{వయస్సు తరగతి (i)}}{1000} \\ &= \frac{(320 + 120 + 111.1 + 100.0 + 41.7 + 20.0 + 2.5)5}{1000} \end{aligned}$$

$$\text{సమగ్ర ఫలదీకరణ లేదా సంతతి రేటు} = \frac{427.3 \times 5}{1000} = \frac{2136.5}{1000} = 2.1365$$

**ఫలదీకరణ లేదా సంతతిరేట్లలోని లోపాలు :** జనాభా వృద్ధిరేటును కనుక్కోవడంలో సంతతి లేదా ఫలదీకరణ రేట్లు చాలా ఉపయోగకరమైనప్పటికీ జనాభా వృద్ధిరేటును అంచనా వేయటానికి అంతగా ఉపయోగపడవు. దానికి కారణాలలో

1. సంతతి లేదా ఫలదీకరణ రేట్లలో క్రొత్తగా జన్మించిన సంతానంలోని స్త్రీ, పురుష లింగ బేధాన్ని విస్మరించింది. అంటే పుట్టిన శిశువు స్త్రీ యా, పురుషుడా ! అన్న అంశాన్ని పరిగణలోనికి తీసుకోవలేదు.
2. ఆ జన్మించిన శిశువుల మరణ రేట్లను పరిగణనలోనికి తీసుకోలేదు.

పుట్టిన శిశువుల్లో ఎక్కువ మంది స్త్రీ సంతానం అయితే జనాభా వృద్ధిరేటు హెచ్చుగా వుంటుంది. మగ సంతానం అయితే తక్కువగా వుంటుంది. అట్లాగే పుట్టిన శిశువుల్లోని ఎక్కువ స్త్రీ సంతానం వారు శిశువులకు జన్మనిచ్చే వయస్సుకు (15 సం॥ల ముందే మరణించినట్లయితే జనాభా వృద్ధిరేటు తక్కువగా వుంటుంది. అందువలన జనాభా వృద్ధిరేటును తెలుసుకొనేందుకు పునరుత్పత్తి రేట్లను (Reproduction Rates) విస్తృతంగా వినియోగిస్తున్నారు. పునరుత్పత్తి రేట్లు 2 రకాలుగా వున్నాయి.

ఇ) స్థూల పునరుత్పత్తి రేటు

యఫ్) నికర పునరుత్పత్తి రేటు. వీటి గురించి తెలుసుకొందాం.

**ఇ) స్థూల పునరుత్పత్తి రేటు (Gross Reproduction Rate) :** గత, వర్తమాన కాలాలలోని జనాభా పెరుగుదలను గూర్చి తెలుసుకోవాలంటే పుట్టిన శిశువుల సంఖ్యను తెలుసుకొంటే చాలు, అయితే భవిష్యత్లో జనాభాలో రాబోయే పరిణామాలను గూర్చి తెలుసుకోవాలంటే పుట్టిన శిశువుల్లో ఎంతమంది ఆడశిశువులో తెలుసుకోవాలి. ఈ ఆడశిశువులే భవిష్యత్తులో మాతృత్వం వహిస్తారు. కాబట్టి ప్రస్తుతం వున్న ఒక్కొక్క స్త్రీ తన జీవితకాలంలో ఎంత మంది ఆడ శిశువులకు జన్మనిస్తుందో తెలుసుకోవాలి. దానిని బట్టి ఆ స్త్రీ సంతాన వయస్సును దాటేప్పటికీ (50 సం॥ల) ఆమె స్థానంలో ఎంత మంది స్త్రీలు ఉంటారో తెలుస్తుంది. ఈ అంకెను స్థూల పునరుత్పత్తి రేటు అంటారు.

$$\text{స్థూల పునరుత్పత్తి రేటు} = \frac{\text{స్త్రీ జననాల సంఖ్య} \times \text{నవగ్రనంతతి లోదా వలదీకరణ రేటు}}{\text{మొత్తం జననాలు}}$$

లేదా

$$\text{స్థూల పునరుత్పత్తి రేటు} = \frac{\text{స్త్రీ మృత్యు (1000) నుండి స్త్రీలకు జన్మించిన స్త్రీ శిశువుల సంఖ్య}}{1000}$$

**యఫ్) నికర పునరుత్పత్తి రేటు (Net Re-production Rate) :** ఒక్కొక్క స్త్రీ తన జీవిత కాలంలో ఎంత మంది ఆడ శిశువులకు జన్మనిస్తుందో స్థూల పునరుత్పత్తి రేటు తెలుపుతుంది. అయితే పుట్టిన ఆడ శిశువులందరు సంతానవంతులు అయ్యే వయస్సు వరకు చేరతారని గ్యారంటీ లేదు. కొంత మంది అంతకుముందుగానే చనిపోవచ్చు. అందువల్ల పుట్టిన ఆడ శిశువుల్లో ఎంత మంది పిల్లలను కనే వయోపరిమితికి చేరతారో తెలుసుకోవాలి. దీనిని 'జీవిత పట్టికలు' (Life Tables) ద్వారా అంచనా వేయవచ్చు. ఈ అంచనాల వల్ల ఇప్పుడున్న ప్రతి స్త్రీకి బదులుగా ముందు ముందు ఎంత మంది స్త్రీలు ఉంటారో తెలుస్తుంది. దీనిని నికర పునరుత్పత్తి రేటు అంటారు.

$$\text{నికర పునరుత్పత్తి రేటు} = \frac{(\text{స్త్రీల జననాల సంఖ్య} \times \text{జీవన రేటు లోదా వారు నంతాన వంతులయ్యే వరకు జీవించే కలిగే అవకాశపు రేటు})}{1000}$$

క్రింది ఉదాహరణ ద్వారా స్థూల, నికర పునరుత్పత్తి రేట్లు ఏ విధంగా లెక్కించవచ్చో గమనించవచ్చు.

వయసు తరగతి	ఆడవారి సంఖ్య	పుట్టిన ఆడ శిశువుల సంఖ్య	బ్రతికే అవకాశం (లేదా) జీవన రేటు
15 - 19	1,339	15,133	.9694
20 - 24	1,422	94,155	.9668
25 - 29	1,521	102,676	.9632
30 - 34	1,756	72,490	.9584
35 - 39	1,451	31,402	.9518
40 - 44	1,689	10,640	.9424
45 - 49	1,667	700	.9279
మొత్తం	10,905	327,196	.9279

వయస్సు తరగతి	ఆడవారి సంఖ్య	పుట్టిన ఆడ శిశువుల సంఖ్య	సగటు ఫలదీకరణ రేటు	బ్రతికే అవకాశం	పుట్టిన ఆడశిశువులలో ఆయా వయోపరిమితిని చేరేవారు (4) × (5)
(1)	(2)	(3)	(4)	(5)	(6)
15-19	1,399	15,133	.01082	.9694	0.1049
20-24	1,422	94,155	.06621	.9668	.06401
25-29	1,521	102,676	.06751	.9632	.06503
30-34	1,756	72,490	.04128	.9584	.03956
35-39	1,451	31,402	.02164	.9519	.02060
40-44	1,689	10,640	.00630	.9424	.00594
45-49	1,667	700	.00042	.9279	.00039
మొత్తం	1,667	700	.00042	.9279	.00039

స్తూల పునరుత్పత్తి రేటు (GRR) =  $\sum$  సగటు ఫలదీకరణ రేటు × వయోగత అంతర పరిమాణం

$$GRR = .21418 \times 5 = 1.071$$

నికర పునరుత్పత్తి రేటు (NRR) =  $\sum$  పుట్టిన ఆడవారిలో ఆయా వయోపరిమితిలోకి చేరే వారి సంఖ్య ×

వయోవస్థావర పరిమాణం

$$NRR = .2060 \times 5 = 1.030$$

నికర పునరుత్పత్తి రేటు 1 అయితే ప్రస్తుతమున్న స్త్రీల స్థానంలో అంత మంది స్త్రీలే మిగులుతారని అంటే జనాభా స్థిరంగా వుంటుంది అని చెప్పవచ్చు. ఈ రేటు 1 కన్నా తక్కువగా ఉంటే ముందు రాబోయే కాలంలో జనాభా తగ్గుతుంది. 1 కన్నా ఎక్కువగా వుంటే భవిష్యత్తులో జనాభా పెరుగుతుంది. పై ఉదాహరణలో నికర పునరుత్పత్తి రేటు 1 కన్నా ఎక్కువగా వుంది కాబట్టి భవిష్యత్తులో జనాభా పెరుగుతుందని చెప్పవచ్చు.

స్తూల పునరుత్పత్తి రేటు లేదా నికర పునరుత్పత్తి రేటు భవిష్యత్తు జనాభాలో వచ్చే మార్పులను సూచిస్తాయి. అయితే ఈ రేట్లు రెండు ప్రమేయాల మీద ఆధారపడి ఉన్నాయి. (1) జనాభాలో వివాహాల స్థితి ఎప్పటి మాదిరిగానే వుంటుంది. (2) వివాహమైనవారు తమ కుటుంబాన్ని పెంచుకునే రేటు స్థిరంగా వుంటుంది. కాని వాస్తవానికి ఈ రెండు ప్రమేయాలు పరిస్థితులను బట్టి మారుతుంటాయి. అంతేకాక వలసపోయే నిర్దిష్టమైన వలస వచ్చే విషయం ఇందులో చేర్చలేదు. జనన, మరణ రేట్లు కూడా స్థిరంగా వుంటాయని భావించడం జరిగింది. అందువలన ఈ పునరుత్పత్తి రేటు భవిష్యత్తులో జనాభాలో కలిగే మార్పులను సూచించడానికి ఉపయోగించే వీలు పెద్దగా లేనట్లే.

జి) పరిష్కృత లేదా ప్రామాణిక జనన రేటు (Corrected or Standardise Birth Rate) : అపరిష్కృత (సవరించని) జనన రేట్లు రెండు ప్రాంతాలలోని ఫలదీకరణను పోల్చడానికి పనికిరావు. ఎందుకంటే రెండు ప్రాంతాలలోని వయోవిభజనగాని, లైంగిక నిష్పత్తి స్త్రీ పురుష నిష్పత్తి గాని సాధారణంగా ఒకే విధంగా ఉండవు కాబట్టి అందువలన ఆ తేడాలు తొలిగిస్తేగాని ఒక ప్రాంతంలోని జనన రేట్లను వేరొక ప్రాంతంలోని జనన రేట్లతో పోల్చడానికి వీలుపడదు. దీని కోసం సవరించిన లేదా పరిష్కృత జననరేటును తెలుసుకోవలసి

వుంటుంది.

పరిష్కృత లేదా సవరించిన జననరేటు కనుక్కోనేందుకు ఆ ప్రాంతంలోని ప్రత్యేక ఫలదీకరణ రేట్లను 'ప్రామాణిక జనాభా'కు అన్వయించాలి. అంటే ఆ వయోపరిమితిలో వున్న ప్రామాణిక జనాభా ఈ ప్రాంతంలో వున్నట్లయితే ఫలదీకరణ ఎంత ఉండేదో తెలుసుకోవాలి. అట్లా వివిధ వయో పరిమితులకు ఫలదీకరణ ఎంత ఉండేదో తెలుసుకోవాలి. అట్లా వివిధ వయో పరిమితులకు ఫలదీకరణ కనుక్కొని ఆ మొత్తాన్ని 'ప్రామాణిక జనాభా' మొత్తంతో భాగిస్తే వచ్చే ఫలితం ప్రామాణిక జననరేటు ఇట్లాగే రెండో ప్రాంతానికి కూడా ప్రామాణిక జననరేటు కనుక్కోవాలి. వయో పరిమితులలో వున్న తేడాలు ఈ విధంగా తొలిగించిన తరువాత రెండు ప్రాంతాలలోని ఫలదీకరణ పోల్చేందుకు వీలవుతుంది.

జనాభాలో మార్పులకు జననాలతోపాటు మరణాలు కూడా అతి ముఖ్యమైన అంశమే. మరణాల రేటు తెలియకుండా జనాభాలో మార్పుల పరిశీలన అసాధ్యం. కాబట్టి మరణాల గూర్చి ఇప్పుడు పరిశీలిద్దాం.

**14.3.2.2 మృతి పరిశీలన విధానం :** మృతి అనేది సూచీలో (Index) ఒక అంకెగా చూపదగ్గ అంశం కాదు. అందువల్ల మృతి లేదా మరణ బోగట్టా అనే దృక్పథాల నుంచి కనుక్కోవలసి వుంది. దాని కోసం వివిధ రకాలైన మరణరేట్లు అవలంబించడం జరిగింది.

**ఎ) సవరించని లేదా అపరిష్కృత మరణ రేటు (Crude death Rate - CDR) :** వేయి మంది జనాభాలో కలిగే మరణాలను ఇది సూచిస్తుంది. దీనిని ఈ క్రింది విధంగా లెక్కిస్తారు. ఒక సం॥ కాలంలో ఒక ప్రదేశంలో కలిగిన మరణాల మొత్తాన్ని, ఆ కాలంలో ఆ ప్రదేశంలో కల మొత్తం జనాభాతో భాగించి, 1000తో గుణిస్తే అపరిష్కృత మరణ రేటు వస్తుంది.

$$\text{అపరిష్కృత మరణ రేటు} = \frac{\text{ఒక సం॥లో ఒక ప్రదేశంలో కలిగిన మరణాల మొత్తం}}{\text{ఆ సం॥లో ఆ ప్రదేశంలో సం॥ వ్యయంలో ఉండే మొత్తం జనాభా}} \times 1000$$

స్థూలంగా మరణాల రేటు ఈ పద్ధతిలో తెలుసుకోవచ్చు. ఇది చాలా సులభమైన పద్ధతి. ఈ రేటు కనుక్కోవడానికి మనకు కావలసింది మరణాల మొత్తం సంఖ్య మరియు జనాభా మొత్తం. వీటి వల్ల మరణం ఏ తరహాలో వున్నది తెలుస్తుంది. ఈ పద్ధతిలో కొన్ని లోపాలు వున్నాయి. అందులో ముఖ్యంగా రెండు ప్రదేశాలలోని మరణాల రేట్లు పోల్చేటప్పుడు ఈ లోపం స్పష్టంగా కనిపిస్తుంది. సాధారణంగా మరణం వయస్సును బట్టి మారుతుంది. రెండు ప్రదేశాల ప్రజల వయస్సు స్వరూపం (Age structure) ఒకే విధంగా వుండదు. వృద్ధులు ఎక్కువగా వుంటే జనాభాలో మరణాల రేటు ఎక్కువగా వుంటుంది. వయోజనులు (Adults) ఎక్కువగా వుంటే జనాభాలో మరణాల రేటు తక్కువగా వుంటుంది. ఈ రేటు వివిధ వయస్సులలో మరణాలను గురించి తెలుపదు. కాబట్టి అపరిష్కృత మరణరేటు పద్ధతి అవలంబిస్తే ఫలితాలు సరైనవిగా వుండవు.

దీర్ఘకాల జనాభాలను పోల్చడానికి ఈ రేటు ఉపయోగపడదు. ఒకే ప్రదేశంలో ఒకే సం॥లో ఉన్న జనాభాను తరువాత సం॥లో వున్న జనాభాతో పోల్చడానికి అపరిష్కృత మరణరేటు ఉపయోగిస్తుంది. ఎందుకంటే ఒక సం॥లో ఒక ప్రదేశంలోని జనాభా స్వరూపం తరువాత సం॥రానికి ఎక్కువగా మారే అవకాశం లేదు. కాని దీర్ఘకాల జనాభాలను పోల్చడానికి వీలులేదు. అంటే పది సంవత్సరాల క్రితం జనాభాలో ఇప్పటి జనాభాను పోల్చడానికి అపరిష్కృత మరణరేటు ఉపయోగపడదు.

**బి) విశిష్ట లేదా నిర్దిష్ట వయోగత మరణరేటు (Age Specific Death Rate) :** ఒక నిర్దిష్ట వయోవ స్థావరంలో వేయి మంది జనాభాలో కలిగిన మరణాలను అపరిష్కృత మరణరేటు తెలియజేస్తుంది. ఇందులో శిశువులు, యువకులు, వృద్ధులు వుండవచ్చు. A జనాభాలో ఒక వర్గంలో వున్న మరణరేటును తెలుసుకోవాలంటే ఆ వర్గంలో మరణాలను మాత్రమే తెలుసుకోవాలి. దీనినే వయోగత మరణరేటు పద్ధతి అంటారు. ఉదాహరణకు ఒక సం॥ వయస్సు గల శిశువులలో ఉండే మరణరేటును తెలుసుకోవాలంటే, వారి వయస్సులోని వారి మరణాలను మాత్రమే తెలుసుకోవాలి. ఇతర వయస్సుల వారిలోని మరణాలను తీసుకోకూడదు.

ప్రజలలో అనేక వయో విభాగాలలో ఉండే మరణరేటును తెలుసుకొనే ఆవశ్యకత భీమా కంపెనీలకు ఎక్కువగా వుంది. రెండు జనాభాలను పోల్చి చూడటానికి కూడా ఈ పద్ధతి ఎక్కువగా ఉపయోగపడుతుంది. ఇప్పుడు వివిధాలైన నిర్దిష్ట వయోగత మరణరేట్లను పరిశీలిద్దాం.

**సి) శిశు మృతిరేటు :** ఒక నిర్దిత కాలంలో ఒక భూ ప్రదేశంలో ఒక సంవత్సరంలోపు వయస్సు గల శిశువులలో కలిగిన మరణాల రేటును శిశుమృతిరేటు అంటారు. సాధారణంగా శిశువు పుట్టిన మొదటి సం॥లో మరణావకాశం ఎక్కువగా వుంటుంది. కాబట్టి శిశు మరణాల రేటు అపరిష్కృత మరణరేటు కన్నా ఎక్కువగా వుంటుంది. అందువల్ల సామాన్య ప్రజల ఆరోగ్య పరిస్థితులను గమనించడానికి ఇది ముఖ్యమైన సూచీగా భావించడం జరుగుతుంది. శిశువుల మృతి రేటును ఈ క్రింది విధంగా కనుక్కోవచ్చు.

ఒక సం॥లో సంవత్సరం వయస్సు గల శిశువుల్లో కలిగిన మొత్తం మరణాలు

$$\text{వార్షిక శిశు మరణాల రేటు} = \frac{\text{మరణాల రేటు}}{\text{ఆ సంవత్సరంలో ఆ దేశ ప్రదేశంలోని జీవ జననాల మొత్తం}} \times 1000$$

శిశు మరణాల రేటు కనుక్కోనే విధానంలో ఒక లోపం వుంది. పుట్టిన వెంటనే మరణించిన శిశువులను పుట్టిన వారిలోగాని రిజిస్టరు చేసి వుండకపోవచ్చు. కావున ఈ సంఖ్యలు ఖచ్చితంగా ఉండకపోవచ్చు. ఈ లోపం ఉన్నప్పటికీ పోల్చి చూడటానికి ఈ పద్ధతి ఉపయోగకరం. గ్రామీణ ప్రాంతాలకు, పట్టణ ప్రాంతాలకు ఈ రేటును విడివిడిగా లెక్కించడం ద్వారా ఆయా ప్రాంతాల్లో ఆరోగ్య సదుపాయాలు వ్యత్యాసాలు కనుక్కోవచ్చు. జనాభా వత్తిడి, నిరుద్యోగం, సాంఘిక ఆచారాలు, అలవాట్లు, ఆహార పద్ధతులు మొదలైనవి అంశాలు పరిశీలించడానికి ఒక జనాభాలోని వర్గాలలో వేర్వేరు ప్రాంతాలలో శిశు మరణాల రేట్లను విడివిడిగా తెలుసుకోవాలి.

**డి) బాల్య దశలో మృతి :** ఒక సంవత్సరంలోపు శిశువుల మరణరేటును కనుక్కొన్నట్లే 1 - 4 సంవత్సరాలలోపు వయస్సులోగాని, 5 - 15 సంవత్సరాల వయస్సులోగాని మృతుల రేటును పై విధంగా కనుక్కోవచ్చు. శిశు మరణాల రేటు కన్నా సాధారణంగా 1 - 4 గాని, 5 - 15 సంవత్సరాల వయస్సు వర్గంలోని మరణాలరేటు తక్కువగా వుంటుంది.

**ఇ) ప్రసూతి మృతిరేటు :** 15 - 45 సంవత్సరాల వయస్సులోని స్త్రీలలో ప్రసవించే వారిలో వివిధ వయోవర్గాలలో కలిగిన మరణ అవకాశాన్ని ప్రసూతి మృతుల రేటు పద్ధతి వల్ల కనుక్కోవచ్చు.

వార్షిక లేదా ఒక సంవత్సరంలో ఒక ప్రదేశంలోని స్త్రీ జనాభాలో ప్రసూతి

ప్రసూతి మృతిరేటు =

$$= \frac{\text{సంబంధించిన ప్రసూతి కారణాల వల్ల కలిగిన మరణాల మొత్తం సంఖ్య}}{\text{ఆ సంవత్సరంలో ఆ ప్రదేశంలోని జనాభాలో కలిగిన మొత్తం మరణాల రేటు సంఖ్య}} \times 1000$$

**యఫ్) వార్షిక మృతి రేటు :** వృద్ధుల మృతి రేటు లెక్క వేసేప్పుడు సాధారణంగా 60 సంవత్సరాలు, ఆ పైన అని గాని, 65 సంవత్సరాలు ఆ పైన అని గాని లెక్కించడం జరుగుతుంది. అంతేకాని 60 - 65 సంవత్సరాల మధ్య లేదా 65 - 70 సంవత్సరాల మధ్య మృతి రేటు అని విడివిడిగా లెక్కవేయడం అరుదు. దీనిని కూడా పై సూత్రాల ప్రకారంగానే లెక్కిస్తారు. 60 సంవత్సరాలు పైబడిన వ్యక్తులలో మృతుల రేటు హెచ్చుగా వుంటుంది. బహుశా శిశువులోని మృతిరేటు కంటే కూడా హెచ్చుగా వుంటుంది.



$$\text{వార్షిక మృతి రేటు} = \frac{\text{ఒక సం॥లో ఒక ప్రదేశంలో వార్షిక వల్ల కలిగిన మరణాల మొత్తం}}{\text{ఆ సం॥లో ఆ ప్రదేశంలోని జనాభాలో మొత్తం మరణాల}} \times 1000$$

ఆ సం॥లో ఆ ప్రదేశంలోని జనాభాలో మొత్తం మరణాలు పోల్చి చూడటానికి, మృతి పరిస్థితుల ప్రవృత్తి ఏ విధంగా వుందో తెలుసుకోవాలంటే అపరిష్కృత మృతిరేటు కంటే విశిష్టవయోగత లేదా ప్రత్యేక మరణ రేట్లను, ప్రతి వయస్సు వర్గానికి విడిగా తెలుసుకోవడం మంచిది. అయితే శిశు మరణాలను లెక్కించడంలో ఉన్న లోపమే మిగిలిన వాటిలోను వుంది. అయినప్పటికీ పోల్చి చూసేందుకు ఇదే మేలైన పద్ధతి.

రెండు ప్రాంతాలలోని జనాభాలో ఒక వయస్సులో వున్న మరణ రేట్లను పోల్చి చూడటానికి, తీసుకొనే వయస్సు తరగతులు ఒకే రకంగా వుండాలి. ఉదాహరణకు ఒక ప్రాంతంలోని 10 - 14 సంవత్సరాల వయస్సులోని మరణరేట్లను, మరో ప్రాంతంలోని అదే తరగతి వయస్సు మరణ రేట్లతో పోల్చాలి. ఇట్లాంటి ప్రత్యేక మరణరేట్లను వివిధ ఆధారాలను బట్టి చేయడం జరుగుతుంది. ఉదాహరణకు - వయస్సు, లింగము, ఆర్థిక స్థోమత, ఉద్యోగాలు, అక్షరాస్యత, మొదలైనవి.

**జి) పరిష్కృత లేదా ప్రమాణ మృతి రేటు (Standard Death Rate - SDR) :** ఒకే ప్రాంతంలోని మరణరేటు వివిధ వయో వ్యవస్థలను బట్టి మారుతూ వుంటుందని పై వివరణను బట్టి తెలుసుకున్నాం. అట్లాగే ఒకే వయో వర్గంలో మరణరేటు స్త్రీ, పురుషులలో భిన్నంగా వుంటుంది. అపరిష్కృత మృతి రేటులో వయోవ్యవస్థ, స్త్రీ, పురుష బేధాలను పరిగణలో తీసుకోవడం జరగదు. అందుచేత రెండు ప్రాంతాలలోని ఈ రేటును పోల్చి ఆయా ప్రదేశాలలోని ఆరోగ్య పరిస్థితులను గూర్చి మనం సరిగా తెలుసుకోలేం. వేర్వేరు వయస్సు ప్రమాణాలున్న రెండు ప్రాంతాలలోని అపరిష్కృత మరణ రేట్లను బట్టి దిగువ పట్టికలో గమనించవచ్చు.

వయస్సు	A ప్రాంతం		A వి.వ.మృ.రే	B ప్రాంతం		B వి.వ.మృత రేటు
	జనాభా	మరణాలు		జనాభా	మరణాలు	
0 - 10	4,000	36	9	3,000	30	10
10 - 25	12,000	48	4	20,000	100	5
25 - 60	6,000	66	11	4,000	48	12
60 - ఆ పైన	8,000	158	19.75	3,000	60	20
మొత్తం	30,000	308	10.26	30,000	238	7.93

వి.వ.మృ.రే. = విశిష్ట వయోగత మృతిరేటు

ఈ రెండు ప్రాంతాలలో వేర్వేరు వయస్సు పరిమాణాల మరణరేట్లను పరిశీలిస్తే అన్ని వయో వస్తా వర్గాల్లో A ప్రాంతంలో మరణ రేటు తక్కువగా వున్నాయి. కాని అపరిష్కృత మరణరేటు B ప్రాంతం కన్నా (7.93) A ప్రాంతంలో ఎక్కువగా వుంది. (10.26) భిన్న వయో వ్యవస్థలు గల వారిలో మృతిరేటు భిన్నంగా వుండడం వల్ల, ఆయా వయో వ్యవస్థల ప్రాధాన్యాన్ని గమనించకోవడం వల్ల ఈ విధంగా కనిపిస్తుంది. కాబట్టి రెండు ప్రదేశాలను పోల్చి చూసేటప్పుడు ఆయా ప్రాంతాలలో వయస్సు వల్ల కలిగిన తేడాలను పరిహారించడం అవశ్యకం. దీనికి రెండు పద్ధతులున్నాయి (1) ప్రత్యక్ష పద్ధతి, (2) పరోక్ష పద్ధతి, ఈ పద్ధతుల వల్ల లభ్యమైన రేటును ప్రమాణీకృత లేదా పరిష్కృత లేదా సవరించిన మరణరేటు అంటారు.

1) ప్రత్యక్ష పద్ధతి : ఈ పద్ధతిలో రెండు ప్రదేశాల యొక్క విశిష్ట వయోగత మృతిరేట్లను చేయడం జరుగుతుంది. మరణ రేట్లను ఒక సామాన్య ప్రమాణ జనాభాకు వర్తింపజేయడం జరుగుతుంది. ఇట్లా ప్రమాణ జనాభా దొరకనట్లయితే ఈ రెండు ప్రదేశాల్లో ఏదో ఒక దానిని ప్రమాణంగా తీసుకోవచ్చు. ఈ విధంగా ఒక ప్రదేశంలోని మరణ రేట్లు వర్తింపజేస్తే ఆ ప్రమాణ జనాభాలో ఒక విధమైన మరణరేటు మొత్తం, రెండో ప్రదేశంలోని మరణరేట్ల మొత్తం లభిస్తుంది. ఈ రేట్లనే ప్రమాణీకృత మరణరేట్లు అంటారు. వెనుక పట్టికలోని A, B ప్రాంతాలలోని ఒకే వయస్సులో వున్న వారి మరణ రేట్లను దిగువ పట్టికలోని ప్రమాణ జనాభాకు వర్తింపజేస్తే ఆ ప్రాంతాలలోని ప్రమాణీకృత మరణరేటు ఈ క్రింది విధంగా వుంటుంది.

వయో వ్యవస్థ	ప్రమాణ జనాభా	A వి.వ.		B వి.వ.	
		మరణరేటు	మరణాల మొత్తం	మరణరేటు	మరణాల మొత్తం
0 - 10	1,000	9	6	10	10
10 - 25	4,000	4	16	5	20
25 - 60	3,000	11	33	12	36
60 - ఆ పైన	2,000	19.75	39.5	20	40
మొత్తం	10,000	97.5			106

$$A \text{ ప్రామాణీకృత మరణరేటు} - 1,000కి = \frac{1000 \times 97.5}{10,000} = 9.75$$

$$B \text{ ప్రామాణీకృత మరణరేటు} - 1,000కి = \frac{1000 \times 106}{10,000} = 10.6$$

ఇక్కడ 'A' ప్రాంతంలోని జనాభాను ప్రమాణ జనాభాగా తీసుకోవడం జరిగింది. ఇంతకుముందు పట్టికలో అపరిష్కృత మరణరేట్లు 'B' ప్రాంతంలో కన్నా A ప్రాంతంలో అధికంగా వున్నట్లు కనుక్కోవడం జరిగింది. కాని పరిష్కృత మరణరేట్ల ప్రకారం మరణరేట్లు A ప్రాంతంలో కన్నా B ప్రాంతంలో అధికంగా వున్నట్లు కనుగొన్నాము. ఈ మరణరేట్లను చాలా వరకు వాస్తవాన్ని ప్రతిబింబిస్తున్నాయి.

పరోక్ష పద్ధతి : ప్రత్యక్ష పద్ధతిలో ప్రామాణిక మరణరేట్లను కనుగొనాలంటే ఏవయో వ్యవస్థావరంలో ప్రామాణిక మృతి రేటు కావాలి ఆయా వర్గాలలో మరణరేట్ల గురించి సమాచారం మనకు తెలియాలి. కాని కొన్ని సమయాలలో ఇలాంటి సమాచారం మనకు లభ్యం కాకపోవచ్చు. అటువంటి పరిస్థితుల్లో పరోక్ష పద్ధతిని అవలంబించవలసి వుంటుంది. ఇందులో మొదటగా ఒక్కొక్క వయో వ్యవస్థలో ప్రమాణ మరణరేట్లు శ్రేణిని ఒకదానిని గ్రహించాలి. ఈ రేట్లను ఆ శ్రేణులలోని జనాభాలోని ఇతర వయో వ్యవస్థలకు వర్తింపజేయాలి. అక్కడ ప్రమాణీకృత మరణ రేటు వున్నట్లయితే ఎన్ని మరణాలు సంభవిస్తాయో ఆ లెక్క వల్ల తేలుతుంది. మృతిరేటును ప్రమీణీకరించే ప్రత్యక్ష పద్ధతిలో జనాభాలోని ప్రతి వయో వ్యవస్థా వర్గంలోని మృతిరేట్లను గురించిన సమాచారం కావలె కాని ఒక్కొక్కప్పుడు ఇట్లాంటి సమాచారం మనకు లభ్యం కాదు. అట్లాంటి పరిస్థితులలో పరోక్ష పద్ధతిని అవలంబించవలె. ఇందులో ప్రథమంగా ఒక్కొక్క వయో వ్యవస్థలో ప్రమాణ మృతి రేట్లను గ్రహించవలె. ఇచ్చిన జనాభాలో వయోవస్థలలో ఈ ప్రమాణ మృతి రేట్ల వున్నవనుకొంటే ఎన్ని మరణాలు సంభవిస్తాయో తెలిసికోవలె. ఆ మొత్తం మరణాల సంఖ్యను ఆ జనాభా పెట్టి భాగించగా వచ్చిన రేటును “ ఊహించిన మృతిరేటు ” “Expected Death రేటు”(Index Rate) అంటారు. ఏ జనాభా నుంచి ఈ రేటు పొందడమైనదో ఆ జనాభా

ఏ రకమైనదో మనకు ఈ రేటు సూచిస్తుంది కాబట్టి దీనిని “సూచీ రేటు” అంటారు. జనాభా ఎక్కువ మంది వృద్ధులు, శిశువులు వున్నట్లయితే యువకులు ఎక్కువగా వున్న జనాభా కంటే సూచీ రేటు ఎక్కువగా వుంటుంది. రెండు ప్రదేశాలలోని రేట్లు భిన్నంగా వుంటే రెండు జనాభాల వయోవర్ణకు సంబంధించినంత వరకు ఒకే రకంగా లేవు అని అర్థం అవుతుంది. కాబట్టి వాటి అపరిష్కృత మృతి రేట్లను పోల్చి చూడవలెను అంటే జనాభా రకాలలోని తేడాలను బట్టి కొన్ని సర్దుబాట్లను చేయవలె. ఈ సర్దుబాట్లు (Adjustments) క్రింది విధంగా వుంటాయి.

ఉపయోగించిన ప్రమాణ జనాభా యొక్క అపరిష్కృత మృతి రేటును ప్రతి పట్టణపు సూచీ రేట్లతో భాగిస్తే ప్రమాణీకరణ కారకాలు (Standardising Factors) వస్తాయి. ప్రతి పట్టణపు అపరిష్కృత మృతి రేట్లను ఈ ప్రామాణీకరణ కారకాలచే గుణిస్తే ఆయా పట్టణాల ప్రమాణీకృత మృతిరేట్లు వస్తాయి.

$$SD_1 = \frac{D}{E_1} \times D_1$$

ఇందులో  $SD_1$  = ఒకటో ప్రాంతపు ప్రమాణీకృత మృతిరేటు

$E_1$  = ఒకటో ప్రాంతపు ఊహించిన లేదా సూచీ మృతిరేటు

$D_1$  = ఒకటో ప్రాంతపు అపరిష్కృత మృతిరేటు

$D$  = ప్రమాణ జనాభా యొక్క అపరిష్కృత మృతిరేటు

ఉదాహరణ - 2 : దిగువనిచ్చిన వివరాలను బట్టి ప్రత్యక్ష పద్ధతి ద్వారా ప్రమాణీకృత మృతి రేట్లను కనుక్కొని, ఏ పట్టణము ఆరోగ్యవంతమైనదో తెల్పండి. ఇందులో A పట్టణ జనాభా ప్రమాణ జనాభాగా గుర్తించవలె.

వయోవర్ణ వర్గము	A పట్టణం		B పట్టణం	
	జనాభా	మరణాలు	జనాభా	మరణాలు
10 లోపు	1,200	36	800	32
10 - 20	2,000	10	3,000	12
20 - 60	6,000	48	4,800	48
60 - ఆ పైన	800	40	1,400	42
మొత్తం	10,000	134	10,000	134

వయోవర్ణ వర్గము	A పట్టణం			B పట్టణం		
	జనాభా	మరణాలు	మృతిరేటు	జనాభా	మరణాలు	మృతిరేటు
10 లోపు	1,200	36	30	800	32	40

10 - 20	2,000	10	5	3,000	12	4
20 - 60	6,000	48	8	4,800	48	10
60 - ఆ పైన	800	40	50	1,400	42	30
మొత్తం	10,000	134		10,000	134	

$$\begin{aligned}
 \text{A వట్టణ వృ ప్రమాణీకృత వృత్తిరేటు} &= \frac{\sum (\text{ప్రమాణ జనాభా} \times \text{A వట్టణ వృత్తిరేటు})}{\text{మొత్తం ప్రమాణ జనాభా}} \\
 &= \frac{1,200 \times 30 + 2,000 \times 5 + 6,000 \times 8 + 800 \times 50}{1,200 + 2,000 + 6,000 + 800} \\
 &= \frac{36,000 + 10,000 + 48,000 + 40,000}{10,000}
 \end{aligned}$$

$$\text{A ప్రమాణీకృత మరణరేటు} = \frac{1,34,000}{10,000} = 13.4$$

$$\begin{aligned}
 \text{B వట్టణ వృ ప్రమాణీకృత వృత్తిరేటు} &= \frac{\sum (\text{ప్రమాణ జనాభా} \times \text{B వట్టణ వృత్తిరేటు})}{\text{మొత్తం ప్రమాణ జనాభా}} \\
 &= 1,200 \times 40 + 2,000 \times 4 + 6,000 \times 10 + 800 \times 30 \\
 &= 1,200 + 2,000 + 6,000 + 800 \\
 &= \frac{48,000 + 8,000 + 60,000 + 24,000}{10,000}
 \end{aligned}$$

$$\text{A ప్రమాణీకృత మరణరేటు} = \frac{1,40,000}{10,000} = 14.0$$

దీనిని బట్టి పట్టణము A ఆరోగ్యవంతమైనదని భావించవచ్చు.

### 14.3.3 భారతదేశంలో జనాభా లెక్కలు (Population Census)

జనాభా గణన భారతదేశంలో 1872లో మొదటిసారిగా చేయడానికి ప్రయత్నము జరిగింది. అయితే ఒక క్రమ పద్ధతిలో సేకరించడానికి వీలు కాక ఆ ప్రయత్నాన్ని విరమించడం జరిగింది. మరలా 1881లో పూర్తి జనాభా గణన జరిగింది. నాటి నుంచి ప్రతి పది సంవత్సరాలకు ఒక సారి జనాభా గణన జరుగుతూనే వుంది. ప్రపంచంలోని జనాభా గణనలో అత్యుత్తమ గణనంగా మన దేశానికి కీర్తి ప్రతిష్టలు వున్నాయి.

I) **జనాభా లెక్కలు ముఖ్య లక్షణాలు** : నిర్ణీతమైన హద్దులలో లేదా దేశంలోని అందరు వ్యక్తులకు, ఒక నిర్ణీత కాలము లేదా కాలాల్లో, జనసంబంధం, ఆర్థిక, సాంఘిక విషయాలకు సంబంధించిన దత్తాంశాన్ని సేకరించి, కుదించి, ప్రచురించే మొత్తం పద్ధతిని జనాభా సేకరణగా “ఐక్యరాజ్య సమితి” నిర్వచించింది.

- ఎ) **ప్రారంభము** : జనాభా లెక్కల సేకరణకు అధిక వనరులు, భారీ యంత్రాంగము కావాలి. కాబట్టి రాష్ట్రాల సహకారంతో కేంద్ర ప్రభుత్వమే దీనిని చేపట్టవలె.
- బి) **హద్దులు స్పష్టంగా నిర్వచించాలి** : దేశ హద్దులను స్పష్టంగా నిర్వచించకపోతే జనాభా లెక్కలు వల్ల ఫలితం వుండదు. జనాభా లెక్కలు ఏ హద్దుల మధ్య సేకరించబడినవి, ఒక వేళ మార్పులు వుంటే అవి ఎప్పటికప్పుడు స్పష్టంగా చూపించవలె.
- సి) **విశ్వ వ్యాప్తంగా సేకరించాలి** : దత్తాంశము సంపూర్ణముగాను, సమగ్రంగాను ఉండాలంటే గణన హద్దుల మధ్య గల ప్రతి ఒక్క వ్యక్తిని గణనలోకి తీసి సర్వే జరపాలి.
- డి) **గణన ఒకే పర్యాయం చేయవలె** : జనాభా గణన ఒక ఖచ్చితమైన కాలానికి సంబంధించినది. కాబట్టి సేకరించిన దత్తాంశము కూడా అదే కాలాన్ని సూచించవలసి వుంటుంది. ఇది చాలా ముఖ్యము. అందువల్ల ఒక దినాన్ని “Census moment”గా నిర్ణయించి ఆ కాలానికి యావత్తూ దత్తాంశాన్ని సేకరిస్తారు.
- ఇ) **కాలవ్యవధిని నిర్వచించడం** : జనాభా లెక్కల నిర్ణీత కాల వ్యవధులలో తీసుకోవడం జరుగుతుంది. కావున వాటిని సరిపోల్చుటకు వీలుపడుతుంది. (దశాబ్దానికొక పర్యాయం జనాభా లెక్క తీసుకొంటారు).
- ఎఫ్) **వ్యక్తిగత యూనిట్లు** : జనాభా లెక్కలలో ప్రతి ఒక్క వ్యక్తికి వేరుగా సమాచారాన్ని సేకరించవలె. కావున దానిని తరువాత కావలసినట్లుగా తరగతీకరణ చేసుకోవచ్చు.
- జి) **కుదించడం - ప్రచురించడం** : సేకరించిన జనాభా లెక్కల దత్తాంశాన్ని భౌగోళిక ప్రదేశాలను, జనాభా వివరాల కనుగుణంగా కుదించి ప్రచురించవలెను.
- హెచ్) **అంతర్జాతీయంగా ఒకసారి గణన చేయడం** : జనాభా గణన ఒకే కాలానికి ప్రతి దేశం అదే సమయంలో సేకరిస్తే ఆ గణాంకాలు ప్రాంతీయంగా, జాతీయంగా వుంటాయి. అంతర్జాతీయంగా కూడా సేకరిస్తే వివిధ దేశాలతో సరిపోల్చడానికి ఉపకరిస్తాయి.

### భారతదేశంలో జనాభా గణాంకాలు

చారిత్రాత్మకంగా పరిశీలిస్తే గణాంక శాస్త్రము పుట్టుక జనాభా గణనతోనే ప్రారంభమైందని చెప్పాలి. దీనికి తార్కాణం మనకు లభ్యమవుతున్న గణాంకాలన్నిటిలోను అతి ప్రాచీనమైనవి జనాభా గణాంకాలు. దీనిని బట్టి పూర్వం నుంచి జనాభా లెక్కల ప్రాముఖ్యం ఎక్కువగా వున్నట్లు తెలుస్తోంది. క్రీస్తు పూర్వం 4500 సంవత్సరాల నాడే జనాభా గణాంకాలు సేకరించే ప్రయత్నం జరిగింది. అయితే అతి ప్రాచీన కాలంలోనే జనాభా వివరాలను ఎందుకు సేకరించవలసి వచ్చింది అనే ప్రశ్న ఉదయించడం సహజం. రాజ్య స్థాపనకు, రాజ్య విస్తరణకు, సైనిక బలం అతి ప్రధానం కావడం వల్ల జనాభా లెక్కలకు ఎక్కువగా ప్రాముఖ్యం ఉండేది. సైనిక బలం జనాభా మీద ఆధారపడి వుంటుంది. అలా కాకుండా పరిపాలనకు అయ్యే ఖర్చును ప్రజల నుంచి పన్నుల రూపంలో వసూలు చేయవలసి వున్నందున ప్రజల సంపద గురించి తెలుసుకోవలసిన అవసరం వుంది. అందువల్ల పూర్వం జనాభా వివరాలు యుద్ధ అవసరాలకు, పన్నుల విధింపులకు సేకరించారు.

అయితే ఆధునిక కాలంలో జనాభా గణన విలువ వేరు. ఇప్పుడు గణన అంటే కేవలం తలలు లెక్క పెట్టటం కాదు. పరిపాలనా విధానాలను నిర్ణయించడానికి కావలసిన ముఖ్యమైన సమాచారాన్ని ఈ గణాంకాల్లో సేకరిస్తున్నారు. జనాభా గణనలో సేకరించే వాస్తవాలు ఎంతో విలువైనవి. సామాజిక ప్రాముఖ్యం గల విషయాలు ఎన్నో సేకరిస్తున్నారు. ఇవి ఆర్థిక విధానాలను సమర్థవంతంగా అమలు చేయడానికి ఉపయోగపడుతున్నాయి. ఈనాటి జనాభా గణనలో జనాభా ఎంత, పుట్టిన స్థలం, వయస్సు, జాతీయుత, లింగబేధం మొదలైన విషయాలు అంత ప్రధానమైనవి కావు. బతుకు తెరువు, వృత్తి, జీవనోపాధి, జీవనాధారం, ఆర్థిక అంతస్తు మొదలైన ఆర్థిక విషయాలు అత్యంత ప్రధానమైనవి. దేశ జనాభాను, దేశ వనరులతో పోల్చి సమతూకం వున్నదో లేదో గమనించే ప్రయత్నాలు చాలా ముఖ్యమైనవి. ఈ ప్రణాళికా యుగంలో పైన ఉదహరించిన ఆర్థిక సమస్యలన్నీ ముఖ్యమైనవి. జాతీయ ప్రణాళికలను రూపొందించడానికి ఈ సమాచారమంతా అత్యవసరం. విదేశ ప్రభుత్వానికైనా పైన చెప్పిన సమస్య పరిష్కారానికి అవలంబిస్తున్న విధానాలు ఎంతవరకు విజయవంతమైనవో తెలుసుకోవలసిన అవసరం ఎంతైనా వుంది. ఈ ఫలితాలను తెలుసుకొనే పద్ధతులలో జనాభా గణన ప్రధానమైనది. అందువలన జనాభా గణన అమూల్యమైనది.

1. **సెన్సస్ (Census) లేదా పూర్తి గణన అంటే ఏమిటి ?** : ఏదైనా ఒక విషయానికి సంబంధించిన సమాచారం సేకరించవలసి వచ్చినప్పుడు గణాంకశాస్త్ర రీత్యా రెండు ముఖ్యమైన పద్ధతులున్నాయి. (1) ఆ విషయానికి సంబంధించిన అన్ని అంశాలను పరిశీలించడం. దీనిని 'పూర్తి గణన' (Census) అంటారు. (2) కొన్ని అంశాలను (Samples) మాత్రమే ఎన్నుకొని, వాటిని పరిశీలించి ఆ ఫలితాలను అన్ని అంశాలకు వర్తింపజేయడం. దీనిని ప్రతిచయన పద్ధతి అంటారు.

జనాభా గణాంక సేకరణ పూర్తి గణనలో మాత్రమే చేయవలసి వుంది. ఎందుకంటే ఏ ఒక్క వ్యక్తి సమగ్ర సమాచారం వేరొక వ్యక్తి యొక్క సమాచారంతో పోలి వుండదు. కాబట్టి అందువల్ల జనాభా గణనను 'సెన్సస్' అని పిలుస్తారు.

2. **జనాభా గణన చరిత్ర** : జనాభా వివరాలను ప్రాచీన కాలం నుంచి సేకరిస్తున్నారు. అయినప్పటికీ సెన్సస్ పద్ధతి గత శతాబ్దంలోనే రూపొందించడం జరిగింది. మొట్టమొదటి సెన్సస్ ఏ దేశంలో జరిగింది అన్న విషయంపై భిన్నాభిప్రాయాలున్నాయి. కొంతమంది సెన్సస్ మొట్టమొదట స్వీడన్లో 1749లో జరిగిందని చెప్తారు. మరికొందరు 1966లో కెనడాలోని క్వీబెక్ రాష్ట్రంలో మొట్టమొదట ప్రవేశపెట్టారన్నారు. కొంత మంది 1790లో అమెరికా సంయుక్త రాష్ట్రాలలో జరిగిన సెన్సస్ మొదటి సెన్సస్ అంటారు. ఈ విధంగా మొదటి సెన్సస్ గూర్చి నిర్దిష్టమైన సమాచారం లేదు. జర్మన్ గణాంకశాస్త్రవేత్తలు మాత్రం ఈ ఘనత అమెరికాదే అని చెప్తున్నారు.

3. **జనాభా గణన వర్గీకరణ** : జనాభా లెక్కలను 3 భాగాలుగా విభజించవచ్చు. (1) జనాభా లెక్కలు, (2) ప్రాణి గణాంకాలు (3) డెమోగ్రాఫిక్ సర్వేలు.

(1) **జనాభా లెక్కలు** : దేశంలో ఒక రోజున వుండే జన సంపదను లెక్కించి వారికుండే పూర్ణాంశాలను రాయడాన్ని జనాభా గణన అంటారు. ఇంచుమించుగా ప్రపంచంలో అన్ని దేశాలు ఈ కార్యక్రమాన్ని పది సంవత్సరాలకొకసారి నిర్వహిస్తున్నాయి.

(2) **ప్రాణి గణాంకాలు** : ఈ విభజన మరణ వివరాలను, జనాభా పెరుగుదలను, అభివృద్ధిని, వైవాహిక సమాచారాన్ని తెలియజేస్తాయి. ప్రాణి గణాంకాలను సక్రమ పద్ధతిలో నమోదు చేస్తే జనాభా పెరుగుదలకు సంబంధించిన వివరాలను జనాభా లెక్కల సేకరణతో నిమిత్తం లేకుండానే తెలుసుకోవచ్చు. కాని అనేక కారణాల వల్ల ప్రాణి గణాంకాలు నమోదు సరిగా జరగడం లేదు.

(3) **డెమోగ్రాఫిక్ సర్వేలు** : వీటి వల్ల కొన్ని ప్రత్యేక ప్రాంతాలలో జనాభా గురించి గాని, వారికి వుండే కొన్ని ముఖ్య

లక్షణాలను గూర్చిగాని తెలుసుకోవచ్చు. వీటికి ఒక్క క్రమ కాలపరిమితి అంటూ ఏమీ లేదు. అవసరాన్ని బట్టి ఈ సర్వేలు చేస్తారు. 2) జనాభా గణన కాల మధ్యంలో మనకు కావలసిన సమాచారాన్ని కూడా వీటి ద్వారా తెలుసుకోవచ్చు.

**II) జనాభా గణాంక వివరాలు ఉపయోగాలు :** జనాభా గణన వల్ల అనేక ఉపయోగాలు వున్నాయి. వాటితో కొన్ని ముఖ్యమైన వాటిని పరిశీలిద్దాం.

- ఎ) నిత్యావసర వస్తువులు సరఫరా చేసే పౌర సరఫరాల యంత్రాంగానికి, రేషనింగ్ ప్రవేశపెట్టడానికి, ధరలను, నియంత్రించడం మొదలైన అనేక ఆర్థిక కార్యకలాపాలకు ఈ వివరాలు ఎంతో అవసరం. పరిపాలనా నిర్వహణకు జనాభా గణాంకాలు ఉపకరిస్తాయి.
- బి) ప్రణాళికా బద్దమైన ఆర్థికాభివృద్ధికి జనాభా గణాంకాల ప్రాధాన్యం ఎంతో ఉంది. ఈ గణాంకాలు అనేక సాంఘిక ఆర్థిక సమస్యలను గుర్తించి వాటి పరిష్కారానికి అవసరమైన విధానాలను రూపొందించేందుకు ప్రభుత్వానికి ఎంతో తోడ్పడతాయి.
- సి) ఆర్థిక శాస్త్రవేత్తలకు, సామాజిక శాస్త్రవేత్తలకు, పారిశ్రామిక వేత్తలకు, వ్యాపారస్తులకు, పరిశోధకులకు జనాభా గణాంకాలు ఉపకరిస్తాయి. వీటి వల్ల కీలకమైన నిర్ణయాలు, పరిశోధనలు చేపట్టవచ్చు.
- డి) సాంఘిక సమస్యలు పరిష్కారానికి కూడా జనాభా లెక్కలు ఉపయోగపడతాయి. వివాహ వయస్సు మార్పు చేయడం, శిశు మరణాలు తగ్గించేందుకు తీసుకోవలసిన చర్యలు, స్త్రీ విద్య మరియు వయోజన విద్యలను ప్రోత్సహించడం, నిరక్షరాస్యత నిర్మూలన, వెనుకబడిన జాతుల, తరగతులకు ప్రత్యేక అవకాశాలు కల్పించడం, ప్రత్యేక ఉపాధి పథకాలు, నిరుద్యోగం, కుటుంబ నియంత్రణ మొదలైన అనేక చర్యలను తీసుకోవడానికి ఈ సమాచారం అమూల్యమైనది.
- ఇ) కేంద్ర, రాష్ట్ర ప్రభుత్వాల మధ్య పన్ను కేటాయింపులు, బదలాయింపులకు, ఎన్నికల్లో నియోజకవర్గాలను ఏర్పాటు చేయటానికి ఈ గణాంకాలు ఉపయోగపడతాయి.
- ఎఫ్) రవాణా సంస్థలు, ప్రచురణ సంస్థలు, భీమా కంపెనీలు మొదలైన వాటికి జనాభా వివరాలు చాలా ఉపయోగపడతాయి. ఉదాహరణకు భీమా కంపెనీలు జనాభా లెక్కల నుంచి సేకరించిన సగటు ఆయుర్దాయాన్ని బట్టి ప్రీమియం నిర్ణయించడం.
- జి) జనాభా లెక్కలు అనేక ముఖ్య విషయాలకు సంబంధించిన మౌలిక గణాంకాలు. వీటి ప్రయోజన పరిధిని క్లుప్తంగా వివరించడం అసాధ్యం. ప్రతి దేశానికి, సమాజానికి తప్పనిసరిగా జనాభా లెక్కలు ఉండాలి.
- హెచ్) జనాభా గణాంకాలు వ్యాపారస్తులకు ఎంతో ఉపయోగపడతాయి. పరిశ్రమలకు అవసరమైన శ్రమ సప్లయ్ అంచనా వెయ్యడానికి, తయారు చేసిన వస్తువుల డిమాండును అంచనా వెయ్యడానికి జనాభా వివరాలు సహాయపడతాయి. ఏ ఏ వస్తువులు ఏ ఏ ప్రాంతాల్లో అమ్ముడు పోయే అవకాశమున్నదో తెలుసుకొనేందుకు జన సంఖ్య మాత్రమే కాక వారి వయఃపరిమితి, లైంగిక విభజన, అక్షరాస్యత మొదలైన వివరాలు అవసరం.

**జనాభా గణన పద్ధతులు**

చాలా కాలంగా జనాభా గణన జరుగుచున్నది. 1872కు పూర్వము వివిధ దేశాలు అవలంబిస్తున్న పద్ధతులు వేర్వేరుగా ఉండేవి. 1872 సంవత్సరంలో జరిగిన అంతర్జాతీయ గణాంక సమాఖ్య ఒకే రీతిలో ఈ పద్ధతులు వుండేటట్లు ఈ క్రింది ముఖ్య సూచనలు చేసింది.

- (1) గణన ఒక రోజు జరగాలి, లెక్కలు కూడా ఒక నిర్ణీత తేదీకి సంబంధించి వుండాలి.

(2) పది సంవత్సరాలపాటు కొకసారి గణన జరగాలి. సాధ్యమైనంతవరకు సున్నాతో అంతమయ్యే సంవత్సరాలలో జరిగితే మంచిది.

(3) గణనలో ప్రతి వ్యక్తికి సంబంధించిన ఈ వివరాలను సేకరించాలి. పేరు, మగ, ఆడ, వయస్సు, ఇంటి యజమానితో గల సంబంధం, వైవాహిక స్థితి, వృత్తి, మతం, మాట్లాడే భాష, చదవను రాయను వచ్చో? లేదో? పుట్టిన ప్రదేశం, జాతి, మామూలుగా నివసించే చోటు లేదా రిజిస్ట్రేషను చేసిన ప్రదేశం, గుడ్డి, చెవిటి, మూగ, మానసిక రుగ్మత ఇంకా ఏవైనా ఇతర విషయాలు అవసరమనుకొంటే అవి.

ఈ సమావేశంలో రెండు నిర్వచనాలు ఇవ్వడం జరిగింది. 1) వాస్తవిక జన సంఖ్య (De facto Population). గణన చేసేటప్పుడు ఒక ప్రదేశంలో వున్న జనాభా (2) న్యాయ సమ్మత జనసంఖ్య (De jure population) అంటే ఆ ప్రదేశంలో స్థిర నివాసమేర్పరచుకొన్న జనాభా, అంటే తాత్కాలికంగా అక్కడ లేకపోయినా వారిని చేర్చాలి. తాత్కాలికంగా అక్కడ వున్న వారిని వదిలి వేయాలి. ఈ రెండు నిర్వచనాల కనుగుణంగా జనాభా గణన రెండు పద్ధతులుగా రూపొందింది.

**1) దృశ్య స్వరూప పద్ధతి లేదా వాస్తవిక పద్ధతి (De facto Method) :** 1931 జనాభా గణన వరకు ఈ పద్ధతిని అవలంబించేవారు గణన రాత్రి సమయంలో వ్యక్తులు ఎక్కడ లభిస్తే అక్కడ గణన జరుగుతుంది. దీనినే తారీఖు పద్ధతి (Date System) అని కూడా పిలుస్తారు. ఈ పద్ధతి ప్రకారం జనాభా గణన దేశమంతటా ఒకే రోజు జరుగుతుంది. అందుకనే దానిని తారీఖు పద్ధతి అన్నారు. ఆ రోజు ఎవరెక్కడుంటే వారిని అక్కడ గణన చేస్తారు. ఈ పద్ధతిలో ఉన్న ముఖ్యమైన సదుపాయం అతి తేలికైనదే కాకుండా ఒక దేశంలో నివసించే ప్రజలను ఖచ్చితంగా అంచనా వేయగలగడం. కాని ఇందులో కొన్ని లోపాలు కూడా లేకపోలేదు.

**లోపాలు :** (1) ఒక దేశంలో శాశ్వతంగా ఉండే జనాభా లెక్కించడం కష్టం. (2) ప్రాంతాల వారీగా జనాభా ఎంతెంత వున్నదో తెలుసుకోలేం. (3) గణన జరిగే రోజున ఒక చోట తాత్కాలికంగా వున్న వారి నుంచి కావలసిన సమాచారాన్ని సేకరించడం కష్టం. (4) ప్రయాణాలలో వున్న వారిని, యుద్ధరంగంలో వున్న వారిని, అడవులలో పనిచేస్తున్న వారిని లెక్కించడం కష్టం (5) గణన చేసే రాత్రి ఎన్నుకోవడం కూడా కష్టమే. అది వెన్నెల రాత్రి అయి వుండాలి. ఎందుకంటే అనేక పల్లెలు, మారుమూల ప్రాంతాలలో విద్యుత్ వుండదు. ఎక్కువ చలి, వేడి రాత్రి కాకుండా ఉండాలి. పండగులు కాని, సంత కాని లేని రోజు ఉండాలి. ఎందుకంటే ఆ రోజుల్లో ప్రజలు ఎక్కువ ప్రయాణము చేస్తూ వుంటారు. (6) ఎన్ని జాగ్రత్తలు తీసుకున్నా కొంత మందిని ఒకటి కన్నా ఎక్కువసార్లు లెక్కించడం కొంత మందిని అసలు లెక్కించకపోవడం జరగవచ్చు.

సిద్ధాంత రీత్యా ఇటువంటి ఇబ్బందులే కాక ఆచరణలో కొన్ని సమస్యలున్నాయి (1) ఒకే రోజున దేశ జనాభా అంతటినీ లెక్కించాలంటే ఎంతో మంది గణకులు కావాలి. దీనికి చాలా ఖర్చవుతుంది. (2) ఇంత మంది గణకులకు శిక్షణ ఇవ్వడం, పర్యవేక్షించడం కష్టమవుతుంది. (3) సమాచారంతో ఏకత్వాన్ని సాధించడం కూడా కష్టమే.

ఇన్ని ఇబ్బందులున్నప్పటికీ ఈ పద్ధతి అనేక దేశాల్లో అమలులో వుంది. స్థానిక పరిస్థితులలో తేడా వున్నప్పటికీ ఈ పద్ధతి ద్వారా అంతర్జాతీయ స్థాయిలో ఒక దేశ జనాభాను ఇంకొక దేశ జనాభాతో పోల్చేందుకు వీలుంది.

**2) స్థావరబద్ధమైన పద్ధతి లేదా న్యాయసమ్మత జనాభా గణన (De jure Method) :**

ఈ పద్ధతిని కాల వ్యవధి పద్ధతి (period system) అని కూడా అంటారు. ఈ పద్ధతిలో జనాభా గణన ఒక రోజులో పూర్తి అవుతుంది రెండు, మూడు వారాలు పడుతుంది. శాశ్వత నివాస ప్రాతిపదిక మీద అంటే ఒక వ్యక్తి శాశ్వత నివాసమెక్కడో అక్కడ అతనిని లెక్కించడం జరుగుతుంది. ఒక వేళ ఆ వ్యక్తి తాత్కాలికంగా అక్కడ లేకున్ననూ అతనిని గణనలో చేరుస్తారు. ఒక వ్యక్తి అతని శాశ్వత నివాసంలో లేకుండా తాత్కాలికంగా నమోదు చేసేప్పుడు వేరే ప్రాంతంలో వుంటే వారిని ఆ ప్రాంతం గణనలో



చేర్చారు. ఇది వాస్తవిక జన సంఖ్య పద్ధతి కన్నా సంపూర్ణమని తక్కువ చిక్కులతో కూడుకున్నదని భావిస్తున్నారు. ఒకరిని రెండు సార్లు లెక్కించడం ఇంకొకరిని అసలు లెక్కించకపోవడం జరగదు. ప్రాంతాలవారీ జనాభా సమాచారం ఈ పద్ధతి ద్వారా లభిస్తుంది.

పైన పేర్కొన్న రెండు పద్ధతులలోను సమాచారాన్ని ప్రశ్నాపత్రం రూపంలో సేకరిస్తారు. అయితే ఈ ప్రశ్నాపత్రాన్ని పూరించే విధానం రెండు విధాలుగా జరుగుతుంది. అని

- (1) **కుటుంబ యజమాని పద్ధతి (Household method) :** ఈ విధానంలో ప్రతి ఇంటిని ప్రశ్నావళిని సరఫరా చేస్తారు. ఇంటి యజమానికి దానిని పూర్తి చేసి అప్పగించవలసిన బాధ్యత వున్నది. ఐరోపాలోను, కొన్ని కామన్వెల్త్ దేశాలలోను ఈ విధానం అమలులో వుంది.
- (2) **గణకుల పద్ధతి (Canvasser method) :** ఈ విధానంలో శిక్షణ పొందిన గణకులు ఇంటింటికి వెళ్ళి ఇంటి యజమాని నుంచి ప్రశ్నావళి ప్రకారం సమాచారం సేకరిస్తారు. మొదటి పద్ధతిలో ఇంటి యజమాని ప్రశ్నావళి పూర్తి చేయటం వలన అన్ని ప్రశ్నలకు సమాధానాలు రాలేకపోవచ్చు. కొన్ని ప్రశ్నలకు వివరాలు రావలసి వుండవచ్చు. చదువు రాని వారై వుండవచ్చు. కాబట్టి యజమాని సమాచారాన్ని వ్యతేక పోవచ్చు. కాని ఈ విధానంలో అటువంటి సమస్యలేదు. గణకులు శిక్షణ పొందిన వారవటం వలన అన్ని ప్రశ్నలకు సరియైన సమాచారాన్ని పొందవచ్చు. ఇంటి యజమాని నిరక్షరాస్యుడైన ఇబ్బంది వుండదు. ఈ విధానం అమెరికా, ఇండియా, కెనడా మొదలైన దేశాల్లో వుంది.

### భారతదేశంలో జనాభా లెక్కల సేకరణ

భారతదేశంలో మొదటిసారిగా జనాభా గణన చేయడానికి ప్రయత్నం 1872లో జరిగింది. అయితే క్రమ పద్ధతిలో సేకరించడానికి వీలుకాని ఆ ప్రయత్నం విరమించడమైనది. తరువాత 1881లో పూర్తి జనాభా గణన జరిగింది. నాటి నుంచి ప్రతి పది సంవత్సరాలకొకసారి జనాభా గణన జరుగుతూనే వుంది. ప్రపంచంలోని అత్యుత్తమ జనాభా గణనలో ఒకటి మనదేశానికి విశిష్ట స్థానం వుంది.

**1931 వరకు జనాభా లెక్కల సేకరణకు అనుసరించాల్సిన పద్ధతులు :** పది సంవత్సరాలకొకసారి జరిపే కార్యక్రమం జనాభా లెక్కల సేకరణ కాబట్టి దీని కోసం ఒక తాత్కాలిక చట్టం రూపొందించడం జరిగేది. దీని ప్రకారం కొంత మంది అధికారులను తాత్కాలిక ప్రాతిపదికపై ప్రభుత్వం నియమించేది. మొదట జనాభా లెక్కల కమీషనర్ నియామకం జరిగేది (ఇది కేంద్రస్థాయిలో). ఆ తరువాత రాష్ట్ర స్థాయిలోను, జిల్లా స్థాయిలోను, తాలూకా స్థాయిలోను పర్యవేక్షకులను నియమించేవారు. ప్రతి సంస్థ ప్రైవేటుదైనా ప్రభుత్వానిదైనా జనాభా గణనలో ప్రభుత్వానికి సహకారాన్నందించవలసి వుంది. ఎవరైనా గణకుని విధి నిర్వహణలో ఆటంకపరచిన అవరోధం కల్పించినా వారు శిక్షార్హులని కూడా శాసనంలో వుంది.

**సెన్సస్ కార్యక్రమం :** సెన్సస్ కు ముందుగా ఇళ్ళకు వెళ్ళి నెంబర్లు వెయటం జరిగేది. 'ఇల్లు' అనే పదానికి మామూలుగా వున్న అర్థానికి 'సెన్సస్' లెక్కల కోసం ఇచ్చే అర్థానికి కొంత తేడా వుంది. ఇల్లను 'పొయ్యి' ఆధారంగా నిర్వచించారు. ఒకే పొయ్యి లేదా ఒకే వంట ఇంటి నుంచి భోజనం చేసే వారందరు ఒక ఇంటికి చెందిన వారుగా భావించారు. ఒకే ఇంటిలో రెండు పొయ్యిలున్నట్లయితే (అంటే రెండు కుటుంబాలు) అవి రెండు ఇళ్ళుగా పరిగణించాలన్న మాట. ఆ విధంగా ఇళ్ళకు నెంబర్లు వేసి కార్యక్రమం పూర్తయిన తరువాత సెన్సస్ తేదీకి కొన్ని వారాలు ముందుగా ప్రాథమిక సెన్సస్ జరిగేది. గణకులు వారికి కేటాయించిన ప్రాంతంలోని ప్రతి ఇంటికి వెళ్ళి అందులో నివసిస్తున్న వారి వివరాలను ఒక పట్టికలో (Schedule) నమోదు చేసేవారు. ఈ పత్రంలోని వివరాలు సరిగా వున్నాయో లేదో పర్యవేక్షకులు పర్యవేక్షించేవారు. 'సెన్సస్' నాటి రాత్రి గణకుడు ప్రతి ఇంటికి మళ్ళీ వెళ్ళి ఇది వరకు పూర్తి చేసిన పత్రంలో చేయవలసిన సవరణలేమైనా వున్నాయామో కనుక్కోనే వాడు. ఆ ఇంటి నుంచి వెళ్ళిపోయిన లేదా చనిపోయిన వారి పేర్లను తొలగించడం కొత్తగా చేరిన వారిని (శిశువులతో సహా) కలపడం చేసేవారు.

1931 వరకు సెన్సస్ వాస్తవిక జన సంఖ్య (Defacto population) లేదా దృశ్య స్వరూప పద్ధతిలో జరిగింది. అంటే ఎవరు ఎక్కడ వుంటే అక్కడ వారిని లెక్కించడం జరిగేది. ఈ పద్ధతిలో ప్రయాణం చేస్తున్న వారిని, యుద్ధరంగంలో వున్న వారిని అడవులలో పనిచేస్తున్న వారిని లెక్కించడం కష్టంగా వుండేది. రైళ్ళలో ప్రయాణించే వారిని లెక్కించడం కోసం సెన్సస్ మరునాటి ఉదయం ఆరు గంటలకు రైల్వేస్టేషన్లలో అన్ని రైళ్ళను నిలిపివేసి ప్రయాణీకుల్లో అంతవరకు సెన్సస్ లెక్కలోనికి రాని వారిని లెక్కించేవారు. ఈ పద్ధతిలో కొంత మందిని రెండు సార్లు లెక్కించడం, కొంత మందిని అసలే లెక్కించక పోవడం జరిగేది. సెన్సస్ పూర్తయిన తరువాత గణకుడు తన బ్లాకు జనాభా వివరాలను జాబితాలుగా తయారుచేసి పర్యవేక్షకునికి ఇచ్చేవారు. ఆ వివరాలు సూపరింటెండెంట్‌కు, జిల్లా అధికారికి, రాష్ట్ర సెన్సస్ సూపరింటెండెంట్‌కు, ఆ తరువాత సెన్సస్ కమిషనర్‌కు పంపేవారు. సెన్సస్ కమిషనరు ఆ అంకెలన్నిటిని పొందుపరుస్తూ దేశ జనాభా వివరాలను ప్రకటించేవాడు. సెన్సస్ నివేదికలు ప్రచురితం కావడంతో సెన్సస్ వ్యవస్థ రద్దు చేసేవారు. తిరిగి మళ్ళీ సెన్సస్ సమయంలో సెన్సస్ వ్యవస్థను పునర్నిర్మించేవారు.

1931 సెన్సస్‌లో సేకరించిన సమాచారం ఖచ్చితమైనదనడానికి వీలులేదు. అప్పుడు సత్యాగ్రహ ఉద్యమం వున్నందున అనేకులు సెన్సస్ కార్యక్రమాలను బహిష్కరించారు. దాని వల్ల వచ్చిన లోపాన్ని అంచనా వేసే వీలు లేదు. అదీగాక అప్పుడు భారతదేశంలో కొంత భాగం అనేక సంస్థానాలతోను, కొంత బ్రిటీషు వారి పరిపాలనలోను ఉండటం వల్ల పూర్తిగా భారతదేశానికి సంబంధించిన జనాభా గణన జరగలేదు. గణకులకు తగిన శిక్షణ లేకపోవడంతో సేకరించిన సమాచారంలో తప్పులు ఎక్కువ జోరబడ్డాయి.

**1941 జనాభా లెక్కలు :** రెండో ప్రపంచ యుద్ధం జరుగుతున్నప్పుడు ఈ లెక్కలు సేకరించడం జరిగింది. 1931 కంటే 1941లో సేకరించిన జనాభా లెక్కలు చాలా మెరుగైనవి. 1941 సేకరణ పద్ధతులలో విపరీతమైన మార్పులు చేయడం జరిగింది.

### (A) పద్ధతిలో మార్పులు

(1) విభావిక జన సంఖ్యకు బదులు న్యాయసమ్మతి జనాభా గణన పద్ధతి మొట్టమొదటిసారి ప్రవేశపెట్టారు. (2) జనాభా గణన కాలం మూడు వారాలకు పొడిగించారు. (3) వ్యక్తి సామాన్య స్థావరాన్ని (Normal Residence) ప్రామాణికంగా తీసుకొని వ్యక్తులను లెక్కించడం జరిగింది. ఈ మార్పుల వల్ల జనాభా విస్తరణ ఎట్లా వుందో తెలుసుకోవడానికి వీలు కలిగింది. పూర్వం ప్రయాణం చేస్తున్న వ్యక్తులను లెక్కించడం ప్రయాసతో కూడిన పనిగా వుండేది. ఈ పద్ధతి వల్ల ఆ ఆటంకం తొలగిపోయింది.

1941 జనాభా లెక్కల సేకరణ ఫిబ్రవరి 8, 1941న మొదలై ఫిబ్రవరి 28 వరకు జరిగింది. తరువాత మార్చి 1 నుంచి మార్చి 8 వరకు లెక్కలను సరిచూశారు. 12 గంటలలో పూర్తయ్యే జనాభా లెక్కలు 21 రోజులకు పొడిగించడం వల్ల గణకులకు చాలా సమాచారం సేకరించే అవకాశం లభించడమే కాకుండా వివరాల సేకరణలో చాలా జాగ్రత్త వహించడానికి, సేకరించిన వివరాలు రుజువు చేసుకోవడానికి వీలు కలిగింది. (4) జాబితాలను వదిలేసి ప్రతి వ్యక్తికి ఒక చీటిని పూరించడం జరిగింది. ఆ చీటి మీద ఆ వ్యక్తికి సంబంధించిన అన్ని అంశాలను నమోదు చేసేవారు. (5) మొత్తం చీటీలలో 2 శాతం యాదృచ్ఛిక ప్రతిచయనం చేశారు. రుజువు చూడటానికి, విశ్లేషణ జరపడానికి ప్రతి 50వ చీటిని తీసి విడిగా పెట్టడం జరిగింది. కాని యుద్ధం మూలంగా అత్యయిక పరిస్థితికి అనుగుణంగా రుజువు చూడటం జరగలేదు. ఆ తరువాత జాతీయాదాయ కమిటీ వారి అభ్యర్థన మేరకు భారత గణాంక సంస్థ వారు విశ్లేషణ జరిపారు. (6) మొదటిసారిగా జనాభా గణనలో యంత్రాలను ఉపయోగించారు. (7) వివిధ ప్రశ్నలకు సమాధానాలు పదాల రూపంలో కాకుండా గుర్తులు ఉపయోగించారు. (8) జనాభా లెక్కల అచ్చుపని అంతా ఒకే చోట జరిగింది. (9) 1931లో ఇళ్ళ జాబితాలో కేవలం నెంబరు వారీగా రాసిన ఇళ్ళ వివరాలకు సంబంధించి ఉండేది. 1941లో ఇల్లు, కుటుంబ పరిమాణం, మగ, ఆడ నిష్పత్తి గృహాలలో ఉండే వ్యక్తుల వయస్సు వివరాలు మొదలైన వాటికి సంబంధించిన సమాచారం నమోదు చేయటం జరిగింది.

**(B) సేకరించే అంశాలలో మార్పు**

(1) 1941లో పెరుగుదల రేటును కనుక్కోవడానికి రెండు ప్రశ్నలు అదనంగా చేర్చడం జరిగింది. (ఎ) పుట్టిన పిల్లల సంఖ్య ఎంత ? (బి) మొదటి బిడ్డ ఆడపిల్ల అయితే ఆ పిల్ల జన్మించినప్పుడు తల్లి వయస్సు ఎంత? (2) వృత్తి వ్యాపారాలకు సంబంధించిన వివరాలు సేకరించలేదు. (3) మొదటి సారిగా అక్షరాస్యులు ఎంత మంది వున్నారో సేకరించారు.

1941 జనాభా లెక్కల సేకరణ సమయంలో దేశంలో ప్రశాంత పరిస్థితులు లేవని పైన తెలిపాం. జాతులవారీగా ప్రజాప్రతినిధులను ఎన్నుకోవడం జరిగేది. ప్రతిజాతి వారి బలాన్ని పెంపు చేయటానికి తప్పుడు సమాచారం అందించడానికి ప్రయత్నించారు. అందువల్ల 1941లో లభించిన అంశాలలో కొంత శాతం తప్పులు లేకపోలేదు. అయినప్పటికీ 1941 జనాభా లెక్కలు పూర్వపు లెక్కలు కంటే విశ్వసనీయమైనవని చెప్పవచ్చు.

**1951 జనాభా లెక్కలు :** 1951 జనాభా లెక్కలు స్వాతంత్ర్యం వచ్చిన తరువాత మొట్టమొదటిసారిగా సేకరించినవి. కాబట్టి వాటికి ప్రత్యేకమైన గుర్తింపు, ప్రాధాన్యత వుంది. గణన పద్ధతిలోను సేకరించిన విషయాలలోను చెప్పుకోతగ్గ మార్పులు జరిగాయి. ఎక్కువ ప్రయోజనం లేని ప్రశ్నలు వదిలి వేయడం జరిగింది. జనాభా ఆర్థిక అంశాలను సంబంధించిన ప్రశ్నలు చేర్చడం జరిగింది. 1951 జనాభా లెక్కలు సంపూర్ణమైనవి. వీటన్నిటినీ 17 సంపుటాలుగా 63 భాగాలుగా ప్రచురించటం జరిగింది. ఇందులో యావద్దాత దేశానికి సంబంధించిన వివరాలున్నాయి. చివరి 16 సంపుటాలు 58 భాగాలలో రాష్ట్ర జనాభా వివరాలున్నాయి. 307 జిల్లాల జనాభా లెక్కలున్న సంచికలు తయారు చేసారు. ఈ జనాభా లెక్కలను సుమారు 149 లక్షల రూపాయలకు ఖర్చుచేశారు. సుమారు 7 లక్షల మంది జనాభా గణనలో పాల్గొన్నారు. మూడు వారాలపాటు ఈ లెక్కింపు జరిగింది. ఫిబ్రవరి 9న మొదలై మార్చి 1 న పూర్తి అయ్యింది. సుమారు 6 లక్షల గణకులు 644 లక్షల గృహాలను సందర్శించి ఈ మూడు వారాల్లో వివరాలు సేకరించారు. ఈ జనాభా గణనలో 14 ప్రశ్నలు అడగటం జరిగింది. ఒక ప్రశ్న మాత్రం ఐచ్ఛికమైంది. ప్రతి రాష్ట్రానికి వాటి ఇష్టం ప్రకారం ఒక ప్రశ్నను ఎంచుకొనే అధికారం ఇవ్వడం జరిగింది. ఉత్తరప్రదేశ్ రాష్ట్రం నిరుద్యోగానికి సంబంధించి, మద్రాసు, బొంబాయి రాష్ట్రాలు శిశుజనన సామర్థ్యం (Fertility) గూర్చి ప్రశ్న ఎంచుకొని సమాచారాన్ని సేకరించాయి.

ఈ జనాభా లెక్కలలో ముఖ్యమైన మార్పులు :

- (1) **నేషనల్ రిజిస్టర్ :** మొదటిసారిగా 1951లో పౌరులకు సంబంధించిన నేషనల్ రిజిస్టరు తయారు చేశారు. జనాభా లెక్కల వల్ల సాధించిన ఈ జాబితా ఎంతో విలువైంది. మిక్కిలి ఉపయోగకారి. అనుమతి పొందినవారు ఈ చిట్టాను సాంఘిక, ఆర్థిక ప్రభుత్వ నిర్వహణ కార్యక్రమాలకు ఉపయోగించవచ్చు. వ్యక్తులకు సంబంధించిన చీటీల నుంచి రిజిస్ట్రారు జనరల్ ఆధ్వర్యంలో ఈ జాబితా తయారు చేయడం జరిగింది. ఈ జాబితాయే ఎన్నికల నియోజకవర్గాల ఏర్పాటుకు మూలమౌతుంది.
- (2) **శాశ్వత చట్టం :** ఈ లెక్కల సేకరణ జరగబోయే నాటికి శాశ్వతమైన జనాభా లెక్కల చట్టాన్ని రూపొందించడం జరిగింది. రిజిస్ట్రార్ జనరల్, సెన్సస్ కమిషనర్ శాశ్వత కార్యాలయాన్ని స్థాపించడం జరిగింది. ఈ కార్యాలయం స్థాపనతో జనాభా గణన అంచనాల యధార్థత పెరిగింది. భవిష్యత్తులో జనాభా లెక్కల ఉపయోగం మరింత విస్తృతం కాగల అవకాశమేర్పడింది. అందువల్లనే 1951 జనాభా లెక్కల సేకరణ శాస్త్రీయమైనది.
- (3) **కుటుంబము :** మొదటిసారిగా జనాభాను కుటుంబాల వారీగా విభజించి లెక్కింపు జరిపారు. గృహం, కుటుంబాన్ని విడివిడిగా నిర్వచించారు. నివాస స్థలమైన ప్రదేశం వున్న దానిని గృహమని, సభ్యులందరు సమిష్టిగా వుండి ఆహారం ఒకే వంట ఇంటిలో భుజిస్తున్న దానిని కుటుంబమని నిర్వచించారు. ఇట్లా చేయటం వల్ల కుటుంబ పరిమాణం తెలుసుకునేందుకు, ఉమ్మడి కుటుంబాల విచ్ఛిత్తికి సంబంధించిన సమాచారం తెలుసుకొనేందుకు వీలు ఏర్పడింది.

### సేకరించిన సమాచారంలో ముఖ్యమైన మార్పులు

1. జాతి, మత, తెగలకు సంబంధించిన సమాచారం సేకరించరాదని ప్రభుత్వం నిర్ణయించింది. కొన్ని ప్రత్యేక వర్గాలకు (షెడ్యూల్ కులాలు, జాతులు, వెనుకబడిన తరగతులు) సంబంధించిన సమాచారం సేకరించారు.
2. విడాకులు పొందిన వారి గురించి సమాచారం మొదటిసారిగా సివిల్ కండిషన్ కింద సేకరించారు.
3. కాందిశీకుల వివరాలు తెలుసుకున్నారు.
4. జనాభా ఆర్థిక పరిస్థితులను తెలుసుకొనేందుకు సెన్సస్ చీటీలో కొన్ని మార్పులు చేశారు. ఉపాధి, ముఖ్య ఆదాయమూలం, అనుబంధ ఆదాయ మార్గాలకు సంబంధించిన సమాచారం సేకరించారు. స్వతహాగా తనకు తాను అర్థిస్తూ ఎవరి మీద ఆధారపడినవారు, సంపాదిస్తూ ఆధారపడినవారు, సంపాదన లేకుండా ఆధారపడినవారు అని మూడు భాగాలుగా విభజించి సమాచారాన్ని సేకరించారు. అట్లాగే ఉపాధి విషయంలో ఉద్యోగాలిచ్చేవారు, ఉద్యోగస్తులు, స్వయం ఉపాధి చేసుకునేవారు అని మూడు తరగతులుగా విభజించారు.
5. భాషా విషయమై 1951లో చదవడం రాయడం వచ్చినవారని, చదవగలిగి రాయలేని వారిని, చదవడం వ్రాయడం రాని వారిని గూర్చి, ఆ భాషాల గూర్చి వివరాలు సేకరించారు. 1941లో ఇంగ్లీషు భాషాజ్ఞానం గూర్చి సమాచారం సేకరించారు. 1951లో దానిని వదిలివేశారు.

### 1961లో జనాభా గణన

ఇవి భారతదేశంలో తొమ్మిదవ దశాబ్దపు జనాభా లెక్కలు. 1951 జనాభా లెక్కలు మొదటి పంచవర్ష ప్రణాళిక ప్రారంభంతోను, ఏకీభవించాయి. ఈ విధంగా ఏకీభవించడం వల్ల కొన్ని ప్రత్యేకమైన విషయాలు అవగతమవుతాయి.

ఈ జనాభా లెక్కలు శాస్త్రీయంగా జరిపారు. జనాభా గణాంకాలు కూడా పరిపూర్ణమైనవి, విస్తారమైనవని చెప్పవచ్చు.

1961 జనాభా లెక్కలు నిర్వహించేందుకు విస్తృతమైన ఏర్పాట్లు జరిగాయి. ఆ ఏర్పాట్లను వివిధ దశలుగా విభజించవచ్చును.

### మొదటి దశ : రాష్ట్రాల, యూనియన్ ప్రాంతాల పరిహద్దులు నిర్ణయించడం :

1951-61 మధ్య పరిహద్దుల్లో అనేక మార్పులు వచ్చాయి. 1951లో ఫ్రెంచి వారు క్రింద వుండే చంద్ర నాగూరును పశ్చిమ బెంగాల్లో కలిపారు. మే 1, 1960న బొంబాయి రాష్ట్రాన్ని మహారాష్ట్ర, గుజరాత్లుగా విభజించారు. 1956లో జరిగిన రాష్ట్రాల పునర్వ్యవస్థీకరణ వల్ల భాషాప్రయుక్త రాష్ట్రాలు ఏర్పడ్డాయి. ఈ మార్పుల వల్ల 1961 సెన్సస్ నాటికి 15 రాష్ట్రాలు (ఆంధ్రప్రదేశ్, అస్సాం, బీహార్, గుజరాత్, జమ్మూ కాశ్మీర్, కేరళ, మధ్యప్రదేశ్, మద్రాసు, మహారాష్ట్ర, మైసూరు, ఒరిస్సా, పంజాబ్, రాజస్థాన్, ఉత్తరప్రదేశ్, పశ్చిమబెంగాల్), ఆరు కేంద్ర పాలిత ప్రాంతాలు (అండమాన్, నికోబార్ దీవులు, డిల్లీ, హిమాచల్ ప్రదేశ్, లక్షద్వీప్, మినికాయ్ అమీన్ దీవులు, మణిపూర్, త్రిపుర, నీపా, నాగాలాండ్) ఏర్పడ్డాయి. ఇవిగాక 1961 సెన్సస్ లెక్కలలో సిక్కిం, పాండిచ్చేరి, మహీ, యానాం, కొరికల్ కూడా చేర్చారు. వివిధ ప్రాంతాలలో పరిపాలనా యంత్రాంగ నిర్మాణంలో తేడాలున్నప్పటికీ లెక్కల సేకరణ ఒకే విధంగా అన్ని ప్రాంతాలలో వుండేటట్లు జాగ్రత్తలు తీసుకొన్నారు. ఈ మొదటి దశ 1959 సంవత్సరమంతా పట్టింది.

### రెండో దశ : ప్రాంతీయ వ్యవస్థాపనం :

పరిహద్దులను సరిచూసిన తరువాత లెక్కలను సేకరించడానికి వీలుగా వుండే విధంగా ప్రాంతాలను విభజించడం జరిగింది. దేశాన్నంతటినీ తగినంత చిన్న చిన్న యూనిట్లుగా విభజించారు. ఏ ప్రాంతాన్ని వదిలివేయకుండా ఒకే ప్రాంతం ఇద్దరికీ ఒప్పడం గాని జరగకుండా జాగ్రత్త వహించారు.

ప్రతి జిల్లాను చిన్న యూనిట్లు, బ్లాకుల, మెహల్లా, జోన్, ఇల్లుగా విభజించారు. ఈ చిన్న యూనిట్లను సెన్సస్ భాగాలు అంటారు. ప్రతి ఇంటిని ఒక సంకేతం (code) ద్వారా గుర్తించడం జరిగింది. ప్రతి ఇంటికి మొత్తం నాలుగు సాంకేతిక నెంబర్లు వుంటాయి. మొదట జిల్లా నెంబరు, రెండోది పట్టణం నెంబరు, మూడోది గ్రామం, వార్డు, మెహల్లా నెంబరు, నాలుగు ఇంటి నెంబరు. వీటి ద్వారా ఏ ఇంటివైనా సులభంగా గుర్తించే వీలుంటుంది.

ప్రతి వ్యక్తి చీటికి ఒక సంకేతం వుంటుంది. దీనిలో జిల్లా నెంబరు, తహసీలు లేదా పట్టణ నెంబరు, గ్రామం లేదా వార్డు లేదా ప్రాంతం నెంబరు, ఇంటి నెంబరు వుంటాయి. ఈ రెండో దశ పూర్తి కావడానికి 1960 సంవత్సరంలో మొదటి నాలుగైదు నెలలు పట్టింది.

**మూడోదశ : సిబ్బంది నియామకం, శిక్షణ :**

ఇంతకుముందు చెప్పిన విధంగా దేశానికంతటికీ శాశ్వత ప్రాతిపదిక మీద సెన్సస్ కమిషనర్ వుంటాడు. ఆయన తరువాత ప్రతి రాష్ట్రానికి సెన్సస్ సూపరింటెండెంట్ వుండి కేంద్ర రాష్ట్ర ప్రభుత్వాల మధ్య వారధిగా పనిచేస్తాడు. తరువాత ప్రతి జిల్లాకు ఒక సెన్సస్ అధికారి వుంటాడు. ఈయనను జిల్లా మేజిస్ట్రేట్ నియమిస్తాడు. ఇతడి కింద ఛార్జి ఆఫీసర్లు వుంటారు. వీరు పర్యవేక్షకులకు గణకులను నియమించడంలోను, సర్కిల్స్ బ్లాకులను ఏర్పాటు చేయడంలోను జిల్లా సెన్సస్ అధికారికి సహాయపడతారు.

రాష్ట్ర ప్రభుత్వ సిబ్బందిని ఈ పనికి పురమాయిస్తారు. జిల్లా పరిషత్తులు, పురపాలక సంఘాలు, పట్టణ కార్పొరేషన్లు, పబ్లిక్ సంస్థలు, వ్యాపార సంస్థలు మొదలైనవన్నీ వీనికి సహకరిస్తాయి. ఆఫీసుల నుంచి, పాఠశాలల నుంచి, స్థానిక సంస్థల నుంచి చాలా మందిని గణకులుగా పర్యవేక్షకులుగా నియమిస్తారు. వారందరూ 'సర్కిల్' లేదా 'ఛార్జి' సెన్సస్ అధికారుల కింద పనిచేస్తారు.

ఈ పనికి అనేక రకాల వారిని అధికారులు, గుమస్తాలు, ఉపాధ్యాయులు నియమించినందువల్ల వీరందరికీ శిక్షణ అవసరమో వివిధ ప్రశ్నలు ఎలా వేయాలో, ఎట్లా సమాధానాలు నమోదు చేయాలో మొదలైన విషయాలు, తదితర సిబ్బంది ఈ శిక్షణా కాలంలో తెలుసుకుంటారు. ప్రతి గణకుడు కనీసం శిక్షణా తరగతులైనా హాజరై వుంటాడు. ఈ శిక్షణ ఇచ్చే లోపల గణకులు ఇళ్ళకు నెంబర్లు వేయడం, ఇళ్ళ జాబితా తయారు చేయడం పూర్తి చేస్తారు. ఈ శిక్షణ 1960 అక్టోబరు, నవంబరు నెలలో మొదలై గణన మొదలయ్యేంతవరకూ (ఫిబ్రవరి 1961) వరకు కొనసాగింది.

**నాలుగోది చివరి దశ : సెన్సస్ పనులు ప్రారంభం :**

ముందుగా ఇళ్ళకు నెంబర్లు వేసే పని కొన్ని రాష్ట్రాల్లో జూన్ 1960కి పూర్వం, మిగతా వాటిలో నవంబరు 1960 నాటికి పూర్తయింది. సాంద్ర ప్రచారం ద్వారా ప్రజలలో సెన్సస్ పట్ల పూర్తి ఆసక్తి కలిగించారు. ఈ ప్రాథమిక ఏర్పాట్లు పూర్తయ్యాక సెన్సస్ లెక్కల సేకరణ ప్రారంభమైంది. ఈ విధానాన్ని రెండు దశలుగా విభజించవచ్చు. ఫిబ్రవరి 10 నుంచి మార్చి 1 వరకు మొదటి దశ. ఈ కాలంలో గణకాలు ప్రతి ఇంటికి వెళ్ళి అందులో నివసించే వారినందరిని లెక్కించారు. వారికి సంబంధించిన వివరాలు నమోదు చేశారు.

గ్రామాలలో ప్రతి 750 జనాభాకు ఒక బ్లాకు ఏర్పాటు చేశారు. పట్టణాల్లో సుమారుగా 600 మందిని ఒక బ్లాకుగా చేసి ఒక్కొక్క బ్లాకుని ఒక గణకుని నియమించారు. ఆరు బ్లాకులకు ఒక పర్యవేక్షక సర్కిల్ను ఏర్పాటు చేశారు.

గణన పూర్తయిన తరువాత గణకులు వివరాలను పర్యవేక్షకులకు, పర్యవేక్షకులు ఛార్జి ఆఫీసర్లకు వారు జిల్లా అధికారికి, ఆయన రాష్ట్ర సూపరింటెండెంట్కు, అతడు సెన్సస్ కమిషనర్కు అందించారు. గణన పూర్తి అయిన మూడు వారాలలోపు (మార్చి 25, 1961) మొదటి ఫలితాలు ప్రకటించారు. పూర్తి నివేదికలు ప్రచురించడానికి దాదాపు ఒకటిన్నర సంవత్సరాలు పట్టింది. సుమారు

పది లక్షల మందిని గణకులుగా, పర్యవేక్షకులుగా నియమించారు. వీరు సుమారు 8 కోట్ల కుటుంబాలను గురించి, వారి జీవన పరిస్థితులను గురించి, వారు చేసే పనులను గురించి వివరాలు సేకరించారు.

### 1961 సెన్సస్‌లో సేకరించిన సమాచారం

ఈ లెక్కలకు ఉపయోగించిన ప్రశ్నావళిని రెండు భాగాలుగా విభజించారు. 1. వ్యక్తికి సంబంధించిన పత్రం. 2. ఇంటికి సంబంధించిన పత్రం.

**ఇంటికి సంబంధించిన పత్రం - కుటుంబ చీటి (Household Slip) :** ఈ కుటుంబ చీటిని 1961లో మొదటిసారిగా ప్రవేశపెట్టారు. కుటుంబాల సంఖ్యను తెలుసుకోవడం, వ్యవసాయం, గృహ పరిశ్రమలలో ఎన్నెన్ని కుటుంబాలున్నాయో తెలుసుకోవడం దీని ముఖ్యోద్దేశం. కుటుంబ చీటిలో మూడు విభాగాలున్నాయి. మొదటి విభాగం 'A' వ్యవసాయానికి సంబంధించినది. దీనిలో వ్యవసాయ కుటుంబ వివరాలుంటాయి. 'B' విభాగం గృహ పరిశ్రమలకు సంబంధించినది. 'C' విభాగం వ్యవసాయంలో పనిచేసే వారుగాని, గృహ పరిశ్రమలో పనిచేసే వారుగాని లేదా రెండింటిలో పనిచేసే వారికి సంబంధించినది.

### ఈ చీటిలో పొందుపరచిన ప్రశ్నలు

1. కుటుంబమా ? లేదా ఆసుపత్రి, హోటల్, విద్యా సంస్థ, జైలు వంటి సంస్థలు, అటువంటి సంస్థలెన్ని వున్నాయో తెలుసుకోవడం దీని ముఖ్యోద్దేశం. 2. కుటుంబ యజమాని పేరు - కుటుంబాన్ని పోషించవలసిన బాధ్యత ఎవరిపై వుంది ? సంస్థ విషయంలో ఆ సంస్థ నడిపే సూపరింటెండెంటు లేదా మేనేజరు పేరు రాయాలి (3) ఆ కుటుంబం షెడ్యూలు కులాలకు లేదా తెగలకు సంబంధించినదా ? 4. వ్యవసాయంలోగాని గృహ పరిశ్రమలోగాని లేదా రెండింటిలో పనిచేసే కుటుంబాలు, వాటిలో పనిచేసే వారి వివరాలు. ఈ ప్రశ్నలో A, B, C విభాగాలున్నాయి.

సేద్యానికి పనికి వచ్చే భూమి గల కుటుంబాల వివరాలు 'A' విభాగంలో వున్నాయి. కుటుంబ సేద్యం చేస్తున్న భూమి సొంతమా? ప్రభుత్వం నుంచి పొందిన భూమి ? లేదా ఇతరుల భూమి కౌలుకు తీసుకున్నారా ? అనే విభాగాలు చేశారు. అట్లాగే ఒక కుటుంబం తమ భూమిని ఇతరులకు కౌలుకు ఇచ్చినట్లయితే ఆ వివరాలను కూడా సేకరించారు.

'B' విభాగంలో వస్తువులను ఉత్పత్తి చేయడంగాని, మరమ్మతులు చేయడం గాని చేసే కుటుంబాల, కుటుంబ సభ్యులు పనిచేస్తున్న పరిశ్రమలు, శక్తిని ఉపయోగిస్తూ ప్యాక్టరీలుగా నమోదు చేయని పరిశ్రమలు, పట్టణ ప్రాంతాల్లో అయితే యజమాని నివాసంలో నెలకొల్పబడినవి. గ్రామీణ ప్రాంతాల్లో అయితే గ్రామంలో ఎక్కడైనా నెలకొల్పిన పరిశ్రమలు, ఆ పరిశ్రమలు సంవత్సరంలో ఎన్ని నెలలు పనిచేసేది మొదలైన వివరాలు సేకరించారు.

'C' విభాగంలో గృహ పరిశ్రమలలోను, వ్యవసాయంలో లేదా రెండింటిలోను పనిచేస్తున్న వారి కుటుంబ వివరాలు సేకరించారు. కుటుంబ యజమాని పనిచేస్తున్నదీ, లేనిదీ కుటుంబ సభ్యులలో ఎవరెవరు పనిచేస్తున్నదీ, అందులో ఆడవారు, మగవారు ఎంతెంత మంది, వేతనం మీద నియమింపబడిన వారి వివరాలు సేకరించారు.

**వ్యక్తి చీటి (Individual Slip) :** దీనిలో 13 ప్రశ్నలున్నాయి. మొదటి 7 ప్రశ్నలు వ్యక్తి కి సంబంధించినవి, 5 ప్రశ్నలు వ్యక్తికి సంబంధించినవి, 13వది లైంగిక విషయం, వ్యవసాయదారులకు సంబంధించిన ప్రశ్నలో (ఎనిమిదవ ప్రశ్న) తోటలు, తోపులు వ్యవసాయం కింద చేర్చలేదు. తమ సొంత ఇతరులకు కౌలుకిచ్చి పర్యవేక్షణ కూడా చేయని వారిని వ్యవసాయదారునిగా గుర్తించలేదు. గృహ పరిశ్రమలు కాక ఇతర పరిశ్రమలలో పనిచేసేవారు, సొంత వృత్తి చేసుకునేవారు, వ్యాపారులు, సేవలు చేసేవారు, పశువుల పెంపకం, తోటలలో పనిచేసేవారు, మొదలైన వివరాలు సేకరించారు. ప్రతి వ్యక్తి ఏదో ఒక పని మాత్రమే చేస్తున్నట్లు నమోదు చేసేశారు. ఒకటి కన్నా ఎక్కువ పనులు చేసే వారిని ఏ పని వారికి ముఖ్యమైనదో దానిని మాత్రమే నమోదు చేశారు. చేస్తున్న పని

స్వభావం, సంస్థపేరు, యజమానిగా లేదా ఉద్యోగిగా పనిచేస్తున్నది తదితర వివరాలు సేకరించారు. 12వ ప్రశ్నలో 8,9,10,11 ప్రశ్నలలోని పనులలో వేటికీ చేయని వారి వివరాలు సేకరించారు. అంటే చదువుకొంటున్న వారు ఇంట్లోనే ఏ ప్రతిఫలం లేకుండా పనిచేసేవారు. ఒకరిపై ఆధారపడినవారు (చిన్న పిల్లలు, ముసలివారు, అంగవైకల్యులు), పదవి విరమణ చేసినవారు, కౌలుపై ఆధారపడ్డవారు, రాయల్టీల పైన, కంపెనీ వాటాలలో లాభాలపై ఆధారపడ్డవారు, బిచ్చగాళ్ళు, తిరుగుబోతులు, ఆదాయ మార్గాలు చెప్పని వ్యక్తులు, నేరస్తులు, ధర్మ సంస్థలలో వుండేవారు. సిచ్చాసుపత్రులలో వుండేవారు. ఉద్యోగం కోసం మొదటిసారిగా ప్రయత్నం చేస్తున్న వారు ఇది వరకు పనిచేసి మానేసి, ప్రస్తుతం ఉద్యోగ ప్రయత్నంలో వున్నవారు.

8, 9, 10, 11 ప్రశ్నలలో చెప్పిన వారు, పనిచేస్తున్న జనాభా 12వ ప్రశ్నలోని పనిచేయని జనాభా అందరినీ క్రింది విధంగా విభజించారు.

- (1) వ్యవసాయదారులుగా పనిచేస్తున్నవారు
- (2) వ్యవసాయ శ్రామికులుగా పనిచేస్తున్నవారు.
- (3) గనులలో, కార్యాలయాలలోను పనిచేస్తున్నవారు
- (4) గృహ పరిశ్రమలలో పనిచేస్తున్నవారు
- (5) గృహ పరిశ్రమలు కాక ఇతర ఉత్పత్తి సంస్థలలో పనిచేస్తున్నవారు
- (6) గృహ నిర్మాణంలో పని చేస్తున్నవారు
- (7) వ్యాపార వాణిజ్యాలలో పనిచేస్తున్నవారు
- (8) రవాణా, నిల్వ చేయడం, వార్తా సంస్థలలో పనిచేస్తున్నవారు
- (9) ఇతర పనులు చేస్తున్నవారు
- (10) ఏ పని చేయని వారు

**1971లో జనాభా గణన**

1970 సంవత్సరం ఫిబ్రవరి నెలలో ఇండ్రకు నెంబర్లు ఇవ్వడంతో ఇళ్ళ జాబితా తయారు చేశారు. 1971 జనాభా లెక్కలు ఫిబ్రవరి 10వ తేదీతో ప్రారంభించి 28వ తేదీతో ముగించారు. మార్చి 1 నుంచి 3వ తేదీ వరకు పునఃపరిశీలన జరిపారు. 1971 మార్చి 1వ తేదీతో సూర్యోదయ సమయానికి దేశంలో వున్న జనాభా వివరాలను ఈ జనాభా గణన తెలుపుతుంది. ఈ జనాభా లెక్కలలో 1961లో ఉపయోగించిన పద్ధతిలో వ్యక్తి చీటీ, కుటుంబ చీటీలున్నాయి. కాని అదనపు సమాచారం సేకరించడం జరిగింది. ఈ రెండింటితోపాటు అదనంగా సంస్థ షెడ్యూల్ (Establishment Schedule)ను ప్రవేశపెట్టారు.

**కుటుంబ చీటీలో సేకరించిన సమాచారం :** 1961 కుటుంబ చీటీలో పొందుపరచిన సమాచారం కన్నా అదనంగా ఖాళీగా వున్న ఇళ్ళకు కారణాలు సేకరించటం జరిగింది. షెడ్యూల్ల కులాలు, జాతులకు సంబంధించిన గృహాలను గూర్చి ప్రత్యేకంగా నమోదు చేయడం జరిగింది. వ్యవసాయానికి సంబంధించిన కుటుంబాల గూర్చి కూడా సమాచారం సేకరించడం జరిగింది. 1961లో కుటుంబ చీటీలోనే కర్మాగారాలు, ఇతర వర్కుషాపుల గూర్చి సమాచారం సేకరించడం జరిగింది. కాని 1971లో దీని కోసం ప్రత్యేకంగా సంస్థ షెడ్యూల్ని ప్రవేశపెట్టడం జరిగింది.

**సంస్థ షెడ్యూల్ (Establishment Schedule) :** దీనిలో ఒక ఇల్లు నివాసానికి కాక ఇతరత్రా ఉపయోగించే సమాచారం (ప్రైవేటు లేదా ప్రభుత్వ కార్యాలయం, స్కూలు భవనం, హాస్పిటల్, దుకాణం, వర్క్ షాపు వగైరా), ఆ సంస్థ కార్యకలాపాల గూర్చి (కర్మాగారమైతే ఎంత మంది పని వారు, ఉత్పత్తి చేసే వస్తువులేమిటి, కొనుగోలు అమ్మకం చేసే వస్తువులు, పనివారి పనిగంటలు వగైరా) కూడా సమగ్ర సమాచారం సేకరించారు.

**వ్యక్తి చీటీ :** 1961 వ్యక్తి చీటీలో కంటే కొన్ని ప్రశ్నలు అదనంగా చేర్చారు. వీటిలో స్త్రీలను గూర్చి రెండు ప్రశ్నలు అడగడం జరిగింది. “వివాహమైనప్పుడు వయస్సు”, “గత సంవత్సరం ఆమె ప్రసవించిందా” అనేవి ప్రశ్నలు. ఈ ప్రశ్నల ఉద్దేశం కుటుంబ నియంత్రణ కార్యక్రమాలు అమలు జరిగిన మీదట ఫలితాలను తెలుసుకోవడం, శిశుమరణాల వివరాలు తెలుసుకోవడం, అట్లాగే వృత్తి వివరాలకు సంబంధించి రెండు ప్రశ్నలు చేర్చటం జరిగింది. ఒక వ్యక్తి చేసే ప్రధాన వ్యాసాంగం, ఇతర పనులు అని రెండు వర్గాలుగా విభజించి వివరాలు సేకరించారు. జన్మస్థలం, పూర్వపు నివాస వివరాలు కూడా సేకరించారు.

### 1981లో జనాభా గణన

1981 జనాభా లెక్కలు ఫిబ్రవరి 9వ తేదీతో ప్రారంభమై, అదే నెల 28తో ముగిశాయి. మార్చి 1 నుంచి 5వ తేదీ వరకు పునఃపరిశీలన జరిగింది. అయితే జమ్మూ కాశ్మీర్ లో, సిక్కిం, ఉత్తర ప్రదేశ్, అండమాన్ నికోబార్ దీవులలో కొన్ని ప్రాంతాలలో వాతావరణం సరిగాలేని కారణంగా వాయిదా వేసి అదే సంవత్సరం ఏప్రిల్, మేలలో జమ్మూ కాశ్మీర్ లోను, ఇతర ప్రాంతాల్లో సెప్టెంబరు, అక్టోబరులోను జనాభా గణన కార్యక్రమం పూర్తి చేశారు. అయితే అస్సాంలో విదేశీ వ్యక్తుల గుర్తింపుకు సంబంధించి ఆందోళన తీవ్రస్థాయిలో వుండడం వలన అక్కడ అసలు జనాభా గణన జరగలేదు.

ఈ జనాభా లెక్కలలో 1971లో ఉపయోగించిన పద్ధతిలోనే మూడు ప్రశ్నావళులు రూపొందించటం జరిగింది. సోతే సంస్థ షెడ్యూలు స్థానంలో కుటుంబ షెడ్యూలు ప్రవేశపెట్టడం జరిగింది.

భారతీయ జనాభా గణనలో ప్రప్రథమంగా వలసపోవటం, ఫలదీకరణ (Fertility)కు సంబంధించిన సమాచారం సేకరించని మొత్తం ప్రతిచయన పద్ధతి ఉపయోగించారు. అంటే వ్యక్తిగత చీటీలను సాధారణ వ్యక్తి గత చీటీ అని, ప్రతిచయన వ్యక్తి గత చీటీ అని రెండు రకాలు తయారు చేశారు. ప్రతిచయన చీటీల వలన ఫలదీకరణకు సంబంధించిన సమాచారాన్ని పొందుపరిచారు. వ్యక్తి చీటీల భేదాన్ని సులభంగా గుర్తించేందుకు గాను ప్రతిచయన చీటీలను నీలం రంగులోను సాధారణ చీటీలను నలుపు రంగులోను ముద్రించారు. దేశం మొత్తంలోను జనాభా గణన బ్లాకులలో 20 శాతం బ్లాకులను క్రమ ప్రచయనం (Systematic Sampling) పద్ధతిలో ఎంపిక చేసి వాటిలో మాత్రమే ప్రతిచయన వ్యక్తిగత చీటీలను ఉపయోగించారు. 60 శాతం బ్లాకులలో రెండు రకాల వ్యక్తిగత చీటీలను ఉపయోగించారు. మిగిలిన 80 శాతం బ్లాకులలో కేవలం సాధారణ వ్యక్తిగత చీటీని మాత్రమే ఉపయోగించారు. **కుటుంబ చీటీ :** చాలా వరకు 1961 - 1971 జనాభా గణనలో సేకరించిన సమాచారమే 1981 కుటుంబ చీటీలో కూడా సేకరించడం జరిగింది. అయితే మొదటిసారిగా పూర్తిగా అంధులు, పూర్తిగా కుంటివారు, పూర్తి మూగవారికి సంబంధించిన సమాచారాన్ని సేకరించారు. ఈ సమాచారం ముందు ముందు సర్వేలకు ఉపయోగపడుతుంది.

**కుటుంబ షెడ్యూలు :** కుటుంబ షెడ్యూలును రెండు భాగాలుగా విభజించారు. భాగం - 1లో కుటుంబ వివరాలు (అంటే మొత్తం ఇంటికి సంబంధించిన గోడలు, పై కప్పు, నేల మొదలైనవి వేటితో నిర్మించారు. కుటుంబానికి, ఇంటికి గల సంబంధం మొదలైనవి) వున్నాయి. అయితే ఈసారి గృహం పరిస్థితులు (అంటే ఎటువంటి ఇల్లు, డాబా, పెంకుటిల్లు, పాక వగైరా)తో పాటు మంచినీరు, విద్యుత్తు మొదలైన ప్రాథమిక సౌకర్యాలను గూర్చి కూడా సమాచారం సేకరించడం జరిగింది. భాగం - 2లో కుటుంబ సభ్యుల వివరాలు నమోదు చేయడం జరిగింది.



**1991 జనాభా గణన :** గత 120 సంవత్సరాల్లో భారతదేశ జనాభాను 12 సార్లు లెక్కించడం జరిగింది. 1991లో 13వ సారి గణాంక వివరాల సేకరణ ఫిబ్రవరి 9వ తేదీన ప్రారంభమై అదే నెల 28వ తేదీతో ముగిసింది. ఇది రెండో దశ. అంతకు ముందు కొద్ది నెలల క్రితం మొదటి దశలో గృహాలను గుర్తించి గృహ వివరాల సేకరణ పూర్తి చేశారు. ఇక మూడోదశలో మార్చి 1వ తేదీ నుంచి ఈ మధ్య కాలంలో ఎవరయినా కొత్త వారు జన్మించారా, వున్నవారు మరణించారా వంటి భోగట్టలను రాబట్టి గణకులు సేకరించిన గణాంక వివరాలకు తుదిమెరుగులు దిద్దారు. ఈ కార్యక్రమం మార్చి 5, 1991న పూర్తయ్యింది. 1981లో ఉపయోగించిన తరహా 3 షెడ్యూళ్ళు ఈ సారి కూడా ఉపయోగించటం జరిగింది. అయితే కొన్ని విషయాల్లో వివరాల సేకరణ విస్తృత పరచటం జరిగింది.

**1991 జనాభా సేకరణలో ముఖ్యాంశాలు**

విద్య, వివాహం, ఉద్యోగం, వ్యాపారం, ప్రకృతి వైపరీత్యాల వంటి కారణాల వల్ల సామాన్యంగా పలు ప్రజలు గ్రామాల నుంచి పట్టణాలకు తరలి వెళ్తుంటారు. 1991 జనాభా లెక్కలలో ఈ కారణాలను విపులంగా తెలుసుకున్నారు. జనాభా లెక్కల సేకరణ చరిత్రలోనే మొదటిసారిగా వంటిళ్ళల్లో ఉపయోగించే వంట చెరకు (గ్యాస్, కిరోసిన్, బొగ్గు, కట్టెలు వగైరా) గూర్చి వివరాలు సేకరించారు.

1991 జనాభా లెక్కలలో మహిళలకు విశేష ప్రాముఖ్యం ఇవ్వడం జరిగింది. ఉద్యోగాలు చేసేవారి వివరాలేగాక, పాఠశాలలోను, ఇళ్ళలోను పనిచేసే స్త్రీలను గూర్చి కూడా సమాచారం తెలుసుకున్నారు. మొత్తం మీద మహిళల జీవన సరళి గూర్చి విపులమైన అధ్యయనాన్ని ఈసారి చేశారు. అలా చేయటం వల్ల మహిళలు నేటి సమాజంలో నిర్వహిస్తున్న పాత్ర గూర్చి సరియైన అవగాహనకు రాగలిగే అవకాశం వుంది. మాజీ సైనికోద్యోగులు గూర్చి మొట్టమొదటిసారిగా వివరాలు సేకరించడం జరిగింది. ఈ సారి కంప్యూటర్లను విస్తృత స్థాయిలో వినియోగించటం వల్ల అతి కొద్ది రోజుల్లోనే వివరాలు సేకరించే వీలు కలిగింది. (మార్చి 25, 1991).

**2001 జనాభా లెక్కలు**

భారతదేశంలో 2001 జనాభా లెక్కల సేకరణ కోసం అవసరమైన చర్యలు 1997లోనే ప్రారంభించటం జరిగింది. పరిపాలనా యూనిట్లు, సరిహద్దుల నిర్ణయం, గ్రామాలను గుర్తించేందుకు శాశ్వత కోడు సంబంధం ఇవ్వడం, పట్టణాలను గుర్తించే ప్రమాణాలను ఏర్పాటు చేయడం, సెన్సస్ అధికార్లను నియమించి వారికి అవసరమైన శిక్షణను అందించటం, గృహ సర్వేకు సంబంధించిన షెడ్యూళ్ళను రూపొందించి పరీక్షించడం మొదలైన కార్యక్రమాలన్నీ త్వరితంగా ఏర్పాటు చేయడం జరిగింది. 1991 సెన్సస్కు 2001 సెన్సస్ను గమనిస్తే ఈ సెన్సస్లో కొన్ని అంశాలను సూచనంగా షెడ్యూళ్ళలో జత చేయటం జరిగింది. అవి :

1. కుటుంబ సభ్యులలోని పురుషుల వివాహ సమయానికి వయస్సు
2. నివాస స్థలానికి, పనిచేసే ప్రదేశానికి మధ్య దూరం (కిలో మీటర్లలో)
3. పనిచేసే స్థలానికి వెళ్ళటానికి ఉపయోగించే ప్రయాణ సాధనం
4. కుటుంబ సభ్యులలో అంగ వైకల్యాలు.
5. గృహము సాగుచేసే వివరాలు

అంగవైకల్యాలకు సంబంధించి వివరాలకు సంబంధించి 1) చూపు 2) మాట్లాడటం 3) వినిపింపి 4) నడక 5) మానసిక అంగవైకల్యాలను గుర్తించే విధంగా షెడ్యూలు రూపకల్పన చేయడం జరిగింది. షెడ్యూళ్ళలోని వివరాలు సేకరించే ఎన్యూమరేటర్లకు శిక్షణ ఇచ్చే విషయంలో తగు శ్రద్ధను తీసుకోవడం జరిగింది. ఈ శిక్షణలో సెన్సస్ రిజిస్ట్రార్ జనరల్, కమీషనర్ స్వయంగా పాల్గొని శిక్షణనివ్వడం అతి ముఖ్యమైన విషయం.

2001 సెన్సస్ ప్రకారం మన దేశ వివరాలు గమనిస్తే భారతదేశం 28 రాష్ట్రాలు, 7 కేంద్రపాలిత ప్రాంతాలను కలిగి వుంది. మన దేశ జనాభా 102.7 కోట్లు కాగా అందులో స్త్రీలు 49.57 కోట్లు, పురుషులు 53.13 కోట్లు. 1991 నుంచి 2001 కాలంలో దశాబ్ద జనాభా పెరుగుదల 18.07 కోట్లు లేదా 21.34 శాతం. భారతదేశ జనసాంద్రత 324. భారత దేశంలో స్త్రీ పురుష నిష్పత్తి 933 : 1000. 7 సంవత్సరాల పై బడిన జనాభా అక్షరాస్యతా శాతం 65.38 అయితే స్త్రీల అక్షరాస్యతా శాతం 54.16, పురుషుల అక్షరాస్యతా శాతం 75.85. 1991 జనాభా లెక్కల ప్రకారం ఆంధ్రప్రదేశ్ లో ప్రతి వెయ్యి మంది పురుషులకు 972 మంది స్త్రీలు వున్నారు. మొత్తం అక్షరాస్యుల శాతం 45.11; అందులో మగవారి శాతం 56.24; స్త్రీలు 33.71.

### వివిధ జనాభా లెక్కలలో ఉపయోగించిన వ్యక్తి చీటీలు : 1951

1. పేరు .....
2. (ఎ) జాతి ..... (బి) మతం..... (సి) ప్రత్యేక వర్గం .....
3. వివాహితయా ? ..... అవివాహితయా ? .....
4. వయస్సు .....
5. పుట్టిన ప్రదేశం .....
6. కాందిశీకులు ..... వచ్చిన తేదీ ..... జిల్లా .....
7. మాతృభాష .....
8. రెండో భాష ..... చదవడం ..... మాట్లాడడం..... రాయడం .....
9. ఆధారం ..... ఉద్యోగం .....
10. ముఖ్యమైన జీవనాధారం .....
11. రెండో జీవనాధారం .....
12. చదువు .....
13. నిరుద్యోగం .....
14. స్త్రీ లేదా పురుషుడు .....

1961లో ఉపయోగించిన వ్యక్తి చీటీ

స్థల సంకేతం .....

1. (ఎ) పూర్తి పేరు .....

(బి) యజమానితో గల సంబంధం .....

2. వయస్సు, పూర్తి అయిన సంవత్సరాలు .....

3. వైవాహిక స్థితి .....

(ఎ) పుట్టిన స్థలం .....

(బి) పుట్టిన ప్రదేశం (గ్రా/ప)

(సి) వేరొక చోట జన్మించినట్లైతే ఎంత కాలంగా అక్కడ నివసిస్తున్నది

4. (ఎ) జాతి .....

(బి) మతం .....

5. అక్షరాస్యత, చదువు .....

7. (ఎ) మాతృ భాష .....

(బి) ఇతర భాష(లు) .....

8. వ్యవసాయదారునిగా పనిచేస్తున్నారా .....

9. వ్యవసాయ కార్మికునిగా పనిచేస్తున్నారా .....

10. గృహ పరిశ్రమలో పనిచేస్తున్నట్లయితే

(ఎ) పనితీరు .....

(బి) గృహ పరిశ్రమ తీరు .....

(సి) ఉద్యోగి అయితే .....

11. 8, 9, 10 ప్రశ్నలలోని పనిగా ఇతర పనులు చేస్తున్నట్లు అయితే

(ఎ) చేస్తున్న పని .....

(బి) పరిశ్రమ, లేదా వృత్తి, వ్యాపారం

(సి) శ్రామికుడైతే ఏ తరగతి

(డి) పనిచేస్తున్న సంస్థ

(ఇ) పనిచేయనట్లైతే వ్యాసంగం

## 1971లో ఉపయోగించిన వ్యక్తి చీటీ

(గోపనీయము)

పుస్తకము సంఖ్య

స్థాన సంకేతం ( )

చీటీ సంఖ్య .....

కుటుంబపు సంఖ్య ( )

1. పేరు .....

2. కుటుంబ యజమానితో సంబంధం

3. స్త్రీ/పురుషుడు

4. వయస్సు

5. వైవాహిక స్థితి

6. ప్రస్తుతం వివాహితులుగా వున్న స్త్రీలకు మాత్రమే

(ఎ) వివాహమైనప్పుడు వయస్సు

(బి) గత సంవత్సరం ప్రసవించినదా

7. పుట్టిన స్థలం

8. పూర్వ నివాసం

9. ప్రస్తుత నివాసం

(ఎ) గ్రామం / పట్టణం

(ఎ) ఊరు

(బి) ఎంత కాలం నుంచి వున్నారు

(బి) గ్రామం / పట్టణం

(సి) జిల్లా

(డి) రాష్ట్రం, దేశం

10. మతం

11. షె.కు. లేదా

షె.తె.

12. అక్షరాస్యత

13. విద్యాస్థాయి

14. మాతృభాష

15. తెలిసిన ఇతర భాషలు

16. ప్రధాన వ్యాసంగం

- (ఎ) విశాల వర్ణం (i) పనిచేసే వారికి  
(ii) పనిచేయని వారు

గృ. విద్య. రి. పోషి. చి. సంస్థ. ఇ


(బి) పనిచేసే స్థలం

గ్రామం / పట్టణం పేరు .....

(సి) సంస్థ పేరు .....

(డి) పరిశ్రమ, వృత్తి లేదా ఉద్యోగ స్వభావం .....

(ఇ) పని వివరాలు .....

(ఎఫ్) పని వర్గం .....

17. ఇతర పని

(ఎ) విశాల వర్ణం (వ్య. వ్య.కూ.)

(బి) పనిచేసే స్థలం ..... (గ్రామం / పట్టణం పేరు)

(సి) సంస్థ పేరు .....

(డి) పరిశ్రమ లేదా ఉద్యోగ స్వభావం .....

(ఇ) పని వివరాలు .....

(ఎఫ్) పని వారి వర్ణం.....

**1981లో ఉపయోగించిన వ్యక్తి చీటీ**

1981 జనాభా గణన

వ్యక్తి చీటీ

(గోపనీయము)

(సాధారణం)

పుస్తకం సంఖ్య .....

స్థాన సంకేతం ..... (      )

చీటీ సంఖ్య .....

కుటుంబ క్రమ సంఖ్య (      )

1. పేరు .....

2. యజమానితో గల సంబంధం .....

--	--

3. పురుషుడు (1) / స్త్రీ (2) .....

--

4. వయస్సు .....

--

5. వైవాహిక స్థితి .....

--

6. మాతృభాష .....

--	--	--	--

7. తెలిసిన రెండు ఇతర భాషలు .....

--	--	--	--

8. మతం .....

--	--	--

9. షెడ్యూల్డు కులము (1) లేక షెడ్యూల్డు తెగ (2) .....

--

10. కులం / తెగ పేరు .....

11. అక్షరాస్యులు (1) / నిరక్షరాస్యులు (2) .....

12. విద్యాస్థాయి .....

.....

13. పాఠశాల / కళాశాలలో చదువుతున్నారా ? అవును (1) / లేదు (2) .....

14. (ఎ) మీరు గత సం॥లో ఎప్పుడైనా పని చేశారా ?

అవును

లేదు (గృ / విద్య / పోషి / రి / బి / సంస్థ / ఇ)


(బి) 14(ఎ) లో 'అవును' అనిన గత సంవత్సరంలో ఎక్కువ భాగం పని చేశారా ?

అవును (1) / లేదు (2) .....

15. (ఎ) గత సంవత్సరంలో ప్రధాన వ్యాసంగం ?

14(బి)లో 'అవును' (వ్య / వ్య.కూ. / కు.ప / ఇ.ప)

14(బి)లో 'లేదు' (గృ / విద్య / పోషి / రి / బి / సంస్థ / ఇ)

15(ఎ) కు.ప / ఇ.ప అయితే

(i) సంస్థ పేరు .....

(ii) పరిశ్రమ, వ్యాపారం, లేదా ఉద్యోగ స్వభావం .....

(iii) పని వివరణ .....

(iv) పని వారి వర్గం .....

14 (బి) 'అవును' గత సంవత్సరంలో ఏదైనా ఇతర పని చేశారా ?

15. (బి) అవును (వ్య / వ్య.కూ. / కు.ప / ఇ.ప) లేదు.


14(బి) 'లేదు' గత సంవత్సరంలో ఎప్పుడైనా చేసిన పని ?

(వ్య / వ్య.కూ. / కు.ప / ఇ.ప)

15(బి)లో కు.ప / ఇ.ప అయితే

(i) సంస్థ పేరు .....

(ii) పరిశ్రమ, వ్యాపారం లేదా ఉద్యోగ స్వభావం .....

(iii) పని వివరణ .....

(iv) పని వారి వర్గం .....

16. 14(ఎ) లో గాని 14(బి)లో గాని లేదు అనిన పనికై లేదా వెడుచున్నారా లేక పనిచేయటానికి సిద్ధమా? అవును (1) లేదు (2) .....

1981

వ్యక్తి చీటీ

గోపనీయము

జనాభా గణన

(ప్రతి చయనం)

1. జన్మస్థలం .....

(ఎ) ఊరు పేరు .....

(బి) గ్రామం (1) / పట్టణం (2) .....

(సి) జిల్లా .....

(డి) రాష్ట్రం / దేశం .....

2. పూర్వ నివాసం .....

(ఎ) పూర్వపు నివాసమున్న ఊరు పేరు .....

(బి) గ్రామం (1) / పట్టణం (2) .....

(సి) జిల్లా .....

(డి) రాష్ట్రం / దేశం .....

3. పూర్వ నివాసం నుంచి వలస వచ్చుటకు కారణాలు (కోడ్)\* .....

4. గణించబడు గ్రామం లేదా పట్టణంలో ఎన్నేళ్ళుగా వుంటున్నారు .....

5. ఎప్పుడైనా వివాహమైన స్త్రీలకు మాత్రమే

(ఎ) వివాహమైనప్పుడు వయస్సు .....

(బి) ప్రస్తుతం జీవించివున్న పిల్లల సంఖ్య

మగ  ఆడ  మొత్తం

(సి) సజీవంగా పుట్టిన మొత్తం పిల్లల సంఖ్య

మగ  ఆడ  మొత్తం

6. ప్రస్తుతం వివాహితులుగా వున్న స్త్రీలకు మాత్రమే గత సంవత్సరంలో సజీవంగా జన్మించారా .....

### 1991లో ఉపయోగించిన వ్యక్తి చీటీ

భారతదేశ జనాభా గణాన 1991

వ్యక్తి చీటీ

గోపనీయము

స్థాన సంకేతం (కోడ్) .....

కుటుంబపు క్రమ

పుస్తకం సంఖ్య .....

డెవలప్‌మెంట్ బ్లాకు

సంఖ్య ( )

చీటీ సంఖ్య .....

(మండల్) కోడ్ నెం. ....

1. పేరు .....

2. యజమానితో గల సంబంధం.....

3. పురుషుడు (1) / స్త్రీ (2) .....

4. వయస్సు .....

5. వైవాహిక స్థితి .....

6. మాతృభాష .....

7. తెలిసిన రెండు ఇతర భాషలు .....

8. మతం .....

9. షెడ్యూల్డు కులం (1) లేక షెడ్యూల్డు తెగ (2) .....

10. షెడ్యూల్డు కులం / తెగ పేరు .....

11. అక్షరాస్యులు (1) / నిరక్షరాస్యులు (2) .....

12. విద్యాస్థాయి .....

\* ఉద్యోగము (జీవనోపాధి) (1), విద్య (2), కుటుంబం తరలి వచ్చుట (3), వివాహం (4), ఇతరాలు (5).



13. పాఠశాల / కళాశాలలో చదువుతున్నారా ? అవును (1) లేదా (2)

14. (ఎ) మీరు గత సంవత్సరంలో ఎప్పుడైనా పని చేశారా ?

అవును

లేదు (గృ / విద్య / పోషి / రి / బి / సంస్థ / ఇ)

(వ్యవసాయం లేక కుటుంబ ఆర్థిక వ్యాసంగంలో వేతనం లేని పనితో సహా)

(బి) 14(ఎ) లో 'అవును' అనిన గత సంవత్సరంలో ఎక్కువ భాగం పని చేశారా ? అవును (1) లేదు (2).....

15. (ఎ) గత సంవత్సరంలో ప్రధాన వ్యాసంగం ?

14(బి)లో 'అవును' (వ్య / వ్య.కూ. / కు.ప. / ఇ.ప)

14(బి)లో 'లేదు' (గృ / విద్య / పోషి / రి / బి / సంస్థ / ఇ)

15(ఎ)లోని కు.ప / ఇ.ప అయితే

(i) సంస్థ పేరు .....

(ii) పరిశ్రమ, వ్యాపారం లేదా ఉద్యోగ స్వభావం .....

(iii) పని వివరణ .....

(iv) పని వారి వర్గం .....

(బి). 14(బి) 'అవును' గత సంవత్సరంలో ఏదైనా ఇతర పని ఎప్పుడైనా చేశారా ?

అవును (వ్య / వ్య.కూ. / కు.ప. / ఇ.ప.) లేదు

14(బి) 'లేదు' - గత సంవత్సరంలో ఎప్పుడైనా చేసిన పని ?

(వ్య / వ్య.కూ. / కు.ప. / ఇ.ప)

15(బి)లో కు.ప / ఇ.ప అయితే

(i) సంస్థ పేరు .....

(ii) పరిశ్రమ, వ్యాపారం లేదా ఉద్యోగ స్వభావం .....

(iii) పని వివరణ .....

(iv) పని వారి వర్గం .....

16. (ఎ) 14(ఎ)లో 'లేదు' అనిన పనికై వెదుకుచున్నారా లేక పనిచేయటానికి సిద్ధమా ?

అవును (1) / లేదు (2).....

(బి) 16(ఎ)లో 'అవును' అనిన ఇది వరలో ఎప్పుడైనా పని చేశారా ?

- అవును (1) / లేదు (2) .....
17. (ఎ) మీరు మాజీ సైనికోద్యోగులూ ? అవును (1) / లేదు (2) .....
- (బి) 17(ఎ) 'అవును' అనిన ఫించనుదారు (1) కాదు .....
18. జన్మస్థలం .....
- (ఎ) ఊరు పేరు .....
- (బి) గ్రామం (1) / పట్టణం (2) .....
- (సి) జిల్లా .....
- (డి) రాష్ట్రం / దేశం .....
19. పూర్వ నివాసం
- (ఎ) ఊరి పేరు .....
- (బి) గ్రామం (1) / పట్టణం (2) .....
- (సి) జిల్లా .....
- (డి) రాష్ట్రం / దేశం .....
20. పూర్వ నివాసం నుంచి వలస వచ్చుటకు కారణాలు (కోడ్)\* .....
21. గణించబడు గ్రామం లేదా పట్టణంలో ఎన్నేళ్ళుగా వుంటున్నారు ? .....
22. ఎప్పుడైనా వివాహమైన స్త్రీలకు మాత్రమే
- (ఎ) వివాహమైనప్పుడు వయస్సు .....
- (బి) ప్రస్తుతం జీవించి వున్న పిల్లల సంఖ్య
- మగ  ఆడ  మొత్తం
- (సి) సజీవంగా వుట్టిన మొత్తం పిల్లల సంఖ్య
- మగ  ఆడ  మొత్తం
23. ప్రస్తుతం వివాహితులుగా వున్న స్త్రీలకు మాత్రమే గత సంవత్సరములో సజీవంగా జన్మించినదా ? .....

#### 14.4 వ్యవసాయ గణాంకాలు

అనాదిగా భారతదేశం వ్యవసాయ ప్రాధాన్యత గల దేశం. స్వాతంత్ర్యానంతరం పరిశ్రమల ప్రాధాన్యత పెరుగుచున్నను వ్యవసాయ రంగ ప్రాధాన్యత తగ్గలేదు. వ్యవసాయ రంగంపై ప్రత్యక్షంగా లేదా పరోక్షంగా 80 శాతం ప్రజలు జీవనోపాధిని పొందుచున్నారు.

\* ఉద్యోగము (జీవనోపాధి) (1) వ్యాపారం (2), విద్య (3), కుటుంబం తరలి వచ్చుట (4), వివాహం (5), కరువు, వరదలు మొదలైన ప్రకృతి వైపరీత్యాలు (6) ఇతరాలు.

దాదాపు 50 శాతం జాతీయాదాయం వ్యవసాయ రంగం నుంచే లభ్యమవుతుంది. వ్యవసాయ వ్యవస్థకు సంబంధించిన గణాంకాలను వ్యవసాయ గణాంకాలని అంటారు. భూమి వినియోగ గణాంకాలు, పంట ఉత్పత్తి, పశుగణన, పశు పోషణ, చర్మాలు, తోళ్ళు, వేతనాలు, భూమి శిస్తు, వ్యవసాయోత్పత్తుల ధరలు, మొదలైనవన్నీ వ్యవసాయ గణాంకాల కిందకు వస్తాయి.

మన భారతదేశంలో పురాతన కాలం నుంచి గణాంకాలు సేకరిస్తున్నారు. ఆ కాలంలో ప్రభుత్వ ముఖ్య ఆదాయ వనరు భూమి శిస్తు. అందుచేత పరిపాలకులు భూమి విస్తీర్ణం, ఉత్పత్తులను గూర్చిన సమాచారం మాత్రమే సేకరించే వారు. రామాయణ కాలంలో భూమి వివరాలు సంపూర్ణంగాను, మొగలుల కాలంలో వ్యవసాయ మంత్రిత్వ శాఖ ఏర్పాటు చేసే వ్యవసాయ గణాంకాలు సేకరించినట్లు చారిత్రక పత్రాలు వెల్లడిస్తున్నాయి. బ్రిటీషు పాలనలో భూమి శిస్తు వసూలుకు విస్తృత పరిపాలనా యంత్రాంగాన్ని నెలకొల్పారు. ఆనాడు ప్రతి వ్యవసాయ భూమిని పరిశీలించి వ్యవసాయ గణాంకాలు నమోదు చేసే గ్రామీణ అధికారులు వుండేవారు. వ్యవసాయ గణాంకాలు కేవలం భూమి శిస్తు వసూలుకే కాక కరవు కాటకాలు ఏర్పడప్పుడు సహాయక చర్యలు తీసుకొనేందుకు ఎంతో ఉపయోగకరంగా వుండేవి.

1871లో లార్డ్ మాయో సిఫార్సుల ప్రకారం ప్రభుత్వం వ్యవసాయ శాఖను నెలకొల్పింది. తరువాత 1873లో రాయల్ కమిషన్ ఆఫ్ ఫామిన్ ప్రకారం దీనిని పునరుద్ధరించారు. వ్యవసాయ శాఖలను కొన్ని రాష్ట్ర ప్రభుత్వాలు కూడా నెలకొల్పాయి. పంటలను అంచనా వేసే పద్ధతి 1861 నుంచే వుంది. ఈ పద్ధతిలో కొన్ని మార్పులను 1882లో చేయటం జరిగింది. ప్రస్తుతం మనదేశంలో వ్యవసాయ గణాంకాలను సేకరించి, ప్రచురించే బాధ్యత 'ఆహార మంత్రిత్వ శాఖ'కు సంబంధించిన ఆర్థిక గణాంక డైరెక్టరేట్ మీద వుంది. వ్యవసాయం రాష్ట్ర ప్రభుత్వ అంశం కావున రాష్ట్ర ప్రభుత్వాలు వ్యవసాయ గణాంకాలను సేకరించి కేంద్ర మంత్రిత్వ శాఖకు అందజేస్తే ఆ శాఖ ఈ గణాంకాలన్నింటినీ సంఘటిత పరచి దేశానికంతటికీ గణాంకాలను ప్రచురిస్తుంది.

**14.4.1 భారతదేశ వ్యవసాయ గణాంకాలు :** వ్యవసాయ గణాంకాలు భారతదేశ గ్రామీణ వ్యవసాయ జీవనాన్ని ప్రతిబింబింప చేస్తాయి. భారతదేశంలోని వ్యవసాయ గణాంకాలను నాలుగు ముఖ్య విభాగాలుగా తెలుసుకుందాం.

1. ప్రాథమిక వ్యవసాయ గణాంకాలు
  - (ఎ) భూమి ఉపయోగ గణాంకాలు
  - (బి) పంట దిగుబడి గణాంకాలు
2. ఇతర వ్యవసాయ గణాంకాలు
  - (ఎ) పశు సంపద మరియు పౌల్ట్రీ (బి) అడవులు (సి) మత్స్య పరిశ్రమ (డి) ఉద్గ్రహణ (Mining) మరియు ఖనిజాలు.
3. వ్యవసాయ దిగుబడి సూచికలు
4. భారత వ్యవసాయం సెన్సస్

**1. ప్రాథమిక వ్యవసాయ గణాంకాలు :** భూమి వినియోగం, విస్తీర్ణం, దిగుబడికి సంబంధించిన ప్రాథమిక వ్యవసాయ గణాంకాలను ప్రస్తుతం ఆర్థిక, గణాంక డైరెక్టరేటు వారు వార్షిక ప్రచురణలు చేయుచున్నారు. ఈ డైరెక్టరేటు వ్యవసాయం, నీటి పారుదల మంత్రిత్వ శాఖ ఆధ్వర్యంలో వుంటుంది. వీరు చేసే వార్షిక ప్రచురణలు :

(i) ఇండియన్ అగ్రికల్చరల్ స్టాటిస్టిక్స్ (Indian Agricultural Statistics Vo. I and II)

(ii) ఎస్టిమేట్స్ ఆఫ్ ఏరియా అండ్ ప్రొడక్షన్ ఆఫ్ ప్రిన్సిపల్ క్రాప్స్ (Estimates of Area and Production of Principal Crops in India )

(ఎ) భూమి ఉపయోగ గణాంకాలు : భారత దేశ భౌగోళిక సరిహద్దుల్లో వున్న భూమి ఉపయోగ సమాచారాన్ని ఈ గణాంకాలు అందజేస్తాయి. ఈ గణాంకాలు మన దేశంలో 1884 నుంచి క్రమంగా లభ్యమవుచున్నాయి. ఈ గణాంకాల విస్తృతి పరిధి సంవత్సర, సంవత్సరానికి పెరుగుచున్నవి. ఇండియన్ అగ్రికల్చరల్ స్టాటిస్టిక్స్ (Vol. I) (Indian Agricultural Statistics. Vol. I)లో భారతదేశ భూమి ఉపయోగ గణాంకాలు క్రింది విభాగాల్లో లభ్యమవుచున్నాయి.

- A. (i) మొత్తం విస్తీర్ణం  
(ii) భూ విస్తీర్ణ వర్గీకరణ
- B. సాగు విస్తీర్ణం మరియు సాగు చేసే పంటలు
- C. పంటల విస్తీర్ణం.

A (i) మొత్తం విస్తీర్ణం : మొత్తం భూమి విస్తీర్ణానికి సంబంధించిన గణాంకాలు కింది మూలాల ద్వారా లభ్యమవుతాయి.

- (a) సర్వేయర్ జనరల్ ఆఫ్ ఇండియా ప్రకారం మొత్తం భౌగోళిక విస్తీర్ణం.  
(b) గ్రామ పత్రాల ప్రకారం మొత్తము భూమి విస్తీర్ణం (లేఫ్ పాల్ లేదా గ్రామాధికార్ల సేకరణ ప్రకారం).

మొత్తం భౌగోళిక విస్తీర్ణంలో 806 మిలియన్ ఎకరాలు భారతదేశంలో ఉండగా వ్యవసాయ గణాంకాలలో రిపోర్టు చేసినది 750 మిలియన్ ఎకరాలు అంటే దాదాపు 93.2 శాతం. రిపోర్టింగ్ చేయని భూమి శాతం 6.8. రిపోర్టింగ్ చేయని భూములు ఏవనగా (1) అస్సాం, నాగాలాండ్, NEFA మరియు హిమాచల్ ప్రదేశ్ లోని కేంద్ర ప్రాంతాలు మరియు (2) గతంలోని రాజ ఆస్థానాలలో జాగీరు లేదా ఈనాము భూములు.

A (ii) భూ విస్తీర్ణ వర్గీకరణ : మొత్తం భూ విస్తీర్ణ వర్గీకరణ 1949 - 50కి పూర్వం ఐదు విధాలుగా వుండేది. ఆ తరువాత తొమ్మిది రకాలుగా తిరిగి వర్గీకరించటం జరిగింది. అవి : (1) అడవులు (2) వ్యవసాయేతర ఉపయోగాల్లో వున్న భూమి (3) బీడు, సాగులో లేని భూములు (4) శాశ్వత పచ్చిక బయళ్ళు (5) నికర సాగు భూమిలో లేని ఇతర పండ్ల తోటలు (6) సాగు చేయగలిగి (Cultivable waste) వ్యధాగా వున్న భూమి (7) ప్రస్తుత బీడు భూములు (8) ఇతర బీడు భూములు మరియు (9) నికర సాగు భూమి.

B సాగు విస్తీర్ణం మరియు సాగు చేసే పంటలు : The Indian Agricultural Statistics ప్రచురణలో (1) వివిధ రకాలైన సాగులో వున్న భూ విస్తీర్ణము, (2) వివిధ పంటలు పండే భూ విస్తీర్ణానికి సంబంధించిన గణాంకాలు వుంటాయి. మొత్తం సాగు చేసే భూమిని కింది మూలాల ద్వారా చూపటం జరుగుతుంది. అవి : (1) ప్రభుత్వపు కాలువలు (2) ప్రైవేటు కాలువలు (3) చెరువులు మరియు (4) బావులు మరియు ఇతర మూలాలు.

C పంటల విస్తీర్ణం : పంటల విస్తీర్ణ గణాంకాలను ప్రచురించే నిమిత్తం పంటలను రెండు గ్రూపులుగా వర్గీకరించటం జరుగుతుంది. అవి (ఎ) ఆహారపు పంటలు, (బి) ఆహారేతర పంటలు. ప్రస్తుతము ఈ గణాంకాలు భారతదేశంలో రెండు శ్రేణుల్లో లభ్యమవుచున్నాయి.

అవి : (1) అధికార శ్రేణులు

(2) N.S.S. శ్రేణులు

(1) **అధికార శ్రేణులు :** ఈ అధికారిక శ్రేణుల ద్వారా ఏ ఏ పంట కింద ఎంత విస్తీర్ణం భూమి వుంది అనేది తెలుస్తుంది. ఈ గణాంకాలు 1884 నుంచి లభ్యమవుతున్నాయి. సమాచారాన్ని సమగ్రంగా పరీక్షించటానికి, భూమి వినియోగం, వివిధ పంటల ఉత్పత్తిని తెలుసుకోవటానికి దేశ భూభాగాన్ని రెండు రకాలుగా విభజించటం జరిగింది.

ఎ) శాశ్వతంగా భూమి శిస్తును నిర్ణయించిన ప్రదేశాలు బీహార్, బెంగాల్, ఒరిస్సా మొదలైనవి. భూమి శిస్తును శాశ్వతంగా ఈ ప్రదేశాలు నిర్ణయించడం జరిగినది. ఆ విధంగా భూమి శిస్తును చట్టరీత్యా తప్ప వేరే విధంగా మార్చటానికి వీలు కాదు.

బి) తాత్కాలికంగా భూమి శిస్తు నిర్ణయించిన ప్రదేశాలు (ఉత్తరప్రదేశ్, పంజాబ్, మద్రాసు, మొదలైనవి). ఈ ప్రదేశాలలో భూమి శిస్తు తాత్కాలికంగా నిర్ణయించడం జరుగుతుంది. అవసరాన్ని బట్టి శిస్తును మార్చడం జరుగుతుంది.

(ఎ) **శాశ్వతంగా శిస్తు నిర్ణయించిన ప్రాంతాలు :** ఈ ప్రాంతాల్లో తాత్కాలిక శిస్తు నిర్ణయించే ప్రాంతాలలో లాగా ప్రాథమిక సేకరణ అధికారి వుండరు. భూమి శిస్తు స్థిరమైనందువల్ల, మార్పు చేసే అవకాశం లేనందువల్ల, భూ విస్తీర్ణాన్ని, పంట దిగుబడిని గూర్చి వివరాలు సేకరించే ఉత్సాహం రాష్ట్ర ప్రభుత్వాలకు ఉండదు. ఈ ప్రాంతాలలో పోలీసు చౌకీదారులు గ్రామ “ముబీయా” గాని భూమి శిస్తు గణాంకాలను సేకరిస్తాడు.

ఈ పనిలో చౌకీదారు లేదా ముబీయా పాల్గొనడం వల్ల వీరు అందజేసే గణాంక సమాచారం చాలా వరకు ఊహించినదే. కాని ఖచ్చితమైనవి కావు. అతను నమోదు చేసిన విషయాలను తనిఖీ చేసేందుకు అధికారులెవరూ వుండరు. వీరు అందించిన వివరాలను తాలుకా అధికారులకు అందచెయ్యడం, తాలుకా అధికారి కావలసిన మార్పులు చేసి జిల్లా అధికారికి సమర్పిస్తాడు. జిల్లా అధికారి వాటిని సరిదిద్ది రాష్ట్ర ఛైరెక్టరుకు పంపుతాడు. అన్ని జిల్లాల గణాంకాలను క్రోడీకరించి రాష్ట్ర ఛైరెక్టరు ప్రచురిస్తాడు.

శాశ్వత శిస్తు నిర్ణయించే ప్రాంతాల్లో గణాంక సమాచారం సంతృప్తికరంగా వుండేందుకు గాను ఇటీవల కాలంలో కొన్ని మార్పులు చేయడం జరిగింది. అందుకోసం కొన్ని చోట్ల ప్రాథమిక సమాచార యంత్రాంగాన్ని ఏర్పాటు చేశారు. మరొకొన్ని చోట్ల యాదృచ్ఛిక ప్రతిచయన పద్ధతి ద్వారా భూమిని సర్వే చేయడం జరిగింది. 1948 తర్వాత చాలా ప్రదేశాలలో గణాంక సేకరణకు తగిన సదుపాయాలు చేయడం జరిగింది. కొన్ని ముఖ్యప్రదేశాలలో సిబ్బందిని కూడా నియమించారు.

(బి) **తాత్కాలికంగా భూమి శిస్తు నిర్ణయమైన ప్రాంతాలు :** తాత్కాలికంగా శిస్తు నిర్ణయించే పద్ధతి (దీనిని రైతువారీ పద్ధతి అని కూడా అంటారు). ఈ పద్ధతిని మన దేశంలో 1892లో ప్రవేశపెట్టారు. ఈ పద్ధతి ప్రకారం భూమిశిస్తు ఒక నిర్ణీత గడువు వరకు నిర్ణయించడం జరుగుతుంది. ఆ గడువు తరువాత శిస్తును మార్చడం జరుగుతుంది. ఈ గడువు దాదాపు 30 సంవత్సరాలుంటుంది. ఈ పద్ధతిలో భూమి శిస్తు వసూలు చేయడానికి భూమి విలువ, సాగుబడికి అయ్యే ఖర్చు, ఉత్పత్తి ధరలు, పంట దిగుబడి మొదలైన వాటి గురించి సమాచారం సేకరించడం జరిగింది.

ఈ గణాంకాలు సేకరించేందుకు రాష్ట్ర ప్రభుత్వాల విస్తృత యంత్రాంగం ఏర్పాటు చేశాయి. దానినే ‘ప్రైమరీ రిపోర్టింగ్ ఏజెన్సీ’ విధానం అంటారు. వీరు భూ వైశాల్యానికి సంబంధించిన వివరాలు నమోదు చూస్తారు. ప్రతి గ్రామంలోను ఇందుకుగాను ఒక గ్రామాధికారి వుంటాడు. వీరిని వివిధ రాష్ట్రాల్లో వివిధ పేర్లతో పిలుస్తారు. దక్షిణ భారతదేశంలో ‘కరణం’ అని బొంబాయిలో ‘తెలాతి’ అని బీహార్లో “కర్మచారి” అని ఉత్తరప్రదేశ్లో ‘పట్వారీ’ లేదా “లేఫ్ పాల్” అని పిలుస్తారు. తాత్కాలికంగా స్థిరపడిన ప్రదేశ అన్ని వ్యవసాయ క్షేత్రాలను స్వయంగా తనిఖీ చేసి, ఒక్కొక్క పంట కింద వున్న భూమి వివరంనమోదు చేయవలసి వుంటుంది. కరణాలు చేసిన పనిని పర్యవేక్షించేందుకు రెవిన్యూ ఇన్స్పెక్టర్లు ఉంటారు. వారిపై అధికారి తహసిల్దారు (ప్రస్తుత మండల రెవిన్యూ

ఆఫీసరు) వీరిపైన జిల్లా మొత్తానికి 'కలెక్టరు' వుంటాడు. జిల్లాలోని భూమి శిస్తు వసూలు, భూమి రికార్డు పని అంతా కలెక్టరే పర్యవేక్షిస్తాడు. తాత్కాలిక శిస్తు నిర్ణయమైన ప్రాంతాల్లో ఒక పంట కింద సాగయ్యే భూమి, దాని వైశాల్యం గణాంకాలు తెలుస్తాయి. ఒక వేళ ఒక సాలంలో రెండు పంటలు లేదా అంతకుమించి పంటలు పండిస్తే వివరాలు సక్రమంగా లభ్యం కావు. ఈ విధమైన గణాంక వివరాలు సేకరించేందుకు ఒక ఖచ్చితమైన పద్ధతి లేదు.

### భారతదేశంలో విస్తీర్ణ గణాంకాలు ఖచ్చితంగా లేకపోవటానికి కారణాలు

మన దేశంలో వ్యవసాయ విస్తీర్ణ గణాంకాలు ఖచ్చితంగా లేకపోవటానికి అనేక కారణాలు దోహదం చేస్తున్నాయి. అందులో కొన్నింటిని పరిశీలిద్దాం.

- 1) గణాంకాలు సేకరించే గ్రామాధికారి తగినంత శ్రద్ధ చూపకపోవడం : సాధారణంగా గ్రామాధికారులు అనేక వ్యాపకాల్లో నిమగ్నమై ఉండటం వల్ల వ్యవసాయ గణాంకాల సేకరణపై తగినంత శ్రద్ధ వహించటం లేదు. వాస్తవానికి గ్రామాధికారి తన పరిధిలో వున్న ప్రతి పొలాన్ని తనిఖీ చేయవలసి వున్ననూ వాస్తవానికి ఆ విధంగా పొలమంతటిని తనిఖీ చేసిన సందర్భాలు తక్కువ. కాలానుగుణంగా వచ్చే మార్పులను వారు సరిదిద్దక పోవడం, ఊహించి గణాంక రిజిస్టర్లు పూర్తి చేయటం వల్ల గ్రామాధికార్లు పంపే గణాంకాలు నమ్మదగినవిగా వుండటం లేదు.
- 2) కొన్ని ప్రాంతాలను సర్వే చేయకపోవడం, కొన్ని ప్రాంతాలలో అసలు సర్వేనే జరగలేదు : కొన్ని ప్రాంతాలకు సర్వే నెంబర్లు కూడా ఇవ్వటం జరగలేదు. సాధారణంగా విస్తీర్ణాన్ని అంచనా వేసేటప్పుడు ఇలాంటి ప్రాంతాలను వదిలివేయడం లేదా ఉజ్జాయింపుగా వెయ్యడం గాని జరుగుతుంది.
- 3) మిశ్రమ పంటల విధానం : ఒక సాలంలో ఒక పంటను మాత్రమే పండిస్తే ఆ పంట కింద ఎంత భూమి వుందో చెప్పవచ్చు. కాని పరిశోధనల ఫలితంగా ఒకే సాలంలో రెండు లేదా మూడు పంటలను పండించడం జరుగుతుంది. అయితే ఈ విధంగా పంటలు పండించేటప్పుడు వివరాలు సక్రమంగా లభ్యం కావు. ఎందుకంటే ఈ విధమైన పంటలు పండించేటప్పుడు వివరాలు సేకరించే స్పష్టమైన పద్ధతి లేదు. వివిధ ప్రాంతాలు వివిధ పద్ధతులను ఉపయోగిస్తున్నాయి.  
వివిధ పంటల సమాచారం సేకరించటంలో కూడా గ్రామాధికారి సరైన పద్ధతి అవలంబించడం లేదు. కొన్ని ముఖ్యమైన పంటలైన గోధుమ, బార్లీ, పప్పు ధాన్యాలు మొదలైన వాటిలో అనేక మార్పులు, సవరణలు చేయడం జరిగింది. అల్ప పంటలు మిశ్రమం చేస్తే అటువంటి భూములు అధిక పంటలు పండే భూముల కిందకే కేటాయిస్తారు. ఈ విధమైన వ్యక్తిగత పాక్షిక ధోరణుల వల్ల గణాంక సమాచారం లోపభూయిష్టంగా వుంది.
- 4) ఒకే పద్ధతి ఆచరణలో లేకపోవడం : సాధారణంగా విత్తనాలు చల్లిన భూమి విస్తీర్ణమంతా ఆ పంట భూమి కింద లెక్కించడం జరుగుతుంది. కాని చల్లిన విత్తనాల్లో కొంత భూమిలో మొలకెత్తకపోతే ఆ భూమిని ఆ పంట నుంచి మినహాయించాలి. కాని ఆ పని జరగదు. ఆ విత్తనాలు మొలకెత్తని భూమిని దున్ని మరో పంట వేస్తే, ఆ భూమిని రెండో పంట సాగు కింద చూపడం జరుగుతుంది. ఈ విధంగా ఒకే భూమి రెండు పంటలకు వున్నట్లు చూపడం వల్ల గణాంకాలు ఖచ్చితమైనవిగా వుండడం లేదు.
- 5) గట్టను విస్తీర్ణంలో కలపడం : మనదేశంలో కమతాల విభజన, విఘటన వుండడం వల్ల సరిహద్దు గట్ట కింద పోయే భూమి గణనీయంగా వుంటుంది. దీనితోపాటు కొండ ప్రాంతాల్లో గట్టులు, దిబ్బలు వుంటాయి. ఈ విధంగా గట్టు,

గుట్టలు, దిబ్బల రూపంలో వున్న భూమి సుమారు 5 శాతం వుంటుందని అంచనా. అయితే ఈ భూమినంతా పంట భూమిలో జమ కట్టుకోవటం వల్ల విస్తీర్ణ గణాంకాలు ఖచ్చితంగా లేవని చెప్పవచ్చు.

6) వాడిన విత్తనాల పరిమాణాన్ని బట్టి విస్తీర్ణం అంచనా : ఒక్కోసారి రైతులు వాడిన విత్తన పరిమాణాన్ని బట్టి వ్యవసాయ భూమి విస్తీర్ణాన్ని అంచనా వెయ్యడం జరుగుతుంది. కాని ఈ పద్ధతి అన్ని సమయాల్లో మంచిది కాదు.

పైన తెల్పిన కారణాలే కాక అనేక ఇతర కారణాల వల్ల వ్యవసాయ గణాంకాలు ఖచ్చితంగా వుండడం లేదు. గ్రామాధికారి తగు జాగ్రత్త వహించి స్వయంగా పరీక్షించి లెక్కించినట్లయితే వ్యవసాయ గణాంకాలలో ఖచ్చితత్వం పెరుగుతుంది.

(2) N.S.S. శ్రేణులు : గ్రామాధికారుల ద్వారా లభించే వ్యవసాయ గణాంకాలు కాక NSS సంస్థ కొన్ని గణాంకాలను సేకరించింది. ఈ గణాంకాలు ఎక్కువగా పంటలకు సంబంధించినవి. NSS సంస్థ అంచనాలు యాదృచ్ఛిక ప్రతిచయన పద్ధతి ప్రకారం రూపొందించినవి. NSS అంచనాలను అధికారిక ప్రచురణలతో పోల్చి చూస్తే దేశానికంతకు సంబంధించిన గణాంకాల విషయంలో విపరీతమైన తేడా లేదు. కాని పండించే పంటలకు సంబంధించి వివిధ ప్రాంతాల్లో తేడాలున్నాయి. ఈ వ్యత్యాసాలకు కారణం కొన్నింటిని చెప్పవచ్చు. అవి : 1. గణాంకాల సేకరణ కోసం అవలంబించిన పద్ధతుల్లో తేడాలు 2. పంటల వివరాల సేకరణలో తేడాలు. 3. సమాచారం సేకరించిన రుతువుల్లో తేడాలు. 4. భూమి విభజనల్లో తేడాలు 5. మిశ్రమ పంట విభజనలు ఒకే విధంగా లేకపోవటం 6. శాంప్లింగ్ ఎంపికల్లో లోపం మొదలైన కారణాల వల్ల అధికారిక, NSS వారి గణాంకాల వ్యత్యాసాలు వున్నా, గత దశాబ్దంలో ఈ రెండు పద్ధతుల్లో సేకరించే గణాంకాలలో ఎంతో మెరుగుదల కనిపిస్తుంది. ప్రస్తుత గణాంకాలు సంపూర్ణ ఖచ్చితత్వము కాకపోయినప్పటికీ విశ్వసనీయమైనవిగా చెప్పవచ్చు.

(బి) పంట దిగుబడి గణాంకాలు : భూమి విస్తీర్ణ గణాంకాలు వలెనే పంట దిగుబడి గణాంకాలు కూడా (1) అధికారిక శ్రేణులు (2) ఎన్ఎస్ఎస్ శ్రేణులు అనే రెండు మూలాల ద్వారా లభ్యమవుతున్నాయి. అధికార శ్రేణులు వివిధ పంటల గూర్చి తెలియజేస్తాయి. ఎన్ఎస్ఎస్ శ్రేణులు మాత్రం కేవలం చిరుధాన్యాలకు మాత్రమే లభ్యమవుతున్నాయి.

(1) అధికారిక శ్రేణులు : ఈ శ్రేణుల ద్వారా ఒక ప్రదేశంలో పండిన మొత్తం పంట వివరాలు, ఆ ప్రదేశంలో ఎకరానికి పండిన సగటు పంట వివరాలు తెలుస్తాయి. ఈ గణాంకాలను రెండు పద్ధతుల ద్వారా అనగా (ఎ) సాంప్రదాయక పద్ధతి (బి) యాదృచ్ఛిక ప్రతిచయన పద్ధతి ద్వారా సేకరించటం జరుగును.

(ఎ) సాంప్రదాయక పద్ధతి : సాంప్రదాయ పద్ధతిలో దిగుబడిని లెక్కించటానికి ఆ పంట కింద సాగు చేసిన భూమి విస్తీర్ణాన్ని ఎకరాలో పండే సగటు పంటతో గుణించాలి. సగటు పంటలను తెలుసుకొనేందుకు 'సామాన్య పంట' (Normal field)ను అప్పటి పంట పరిస్థితి (condition factor)తో హెచ్చించాలి.

$$\begin{aligned} \text{పండిన పంట} &= \text{ఆ పంట కింద పోగు చేసిన భూమి} \times \text{సగటు పంట} \\ \text{సగటు పంట} &= \text{సామాన్య పంట} \times \text{పంట పరిస్థితి కారకం.} \\ \text{పండిన పంట} &= \text{సాగు చేసిన భూమి} \times \text{సామాన్య పంట} \times \text{పంట పరిస్థితి కారకం} \end{aligned}$$

సామాన్య పంట : సామాన్య పంట లేదా సామాన్య దిగుబడిని "సగటు పరిస్థితులున్న సంవత్సరంలో సగటు పొలంలో పండిన సగటు పంట"గా ప్రభుత్వం నిర్వచించటం జరిగింది. దీనికి కచ్చితమైన వివరణ లేనప్పటికీ కింది విధంగా విపులీకరించవచ్చు. ఒక వ్యవసాయదారునికి గత అనుభవంలో అనేక సంవత్సరాలుగా ఆ ప్రాంతంలో మామూలుగా పండే పంట వ్యవసాయదారుడు ఆశించిన పంట కన్నా తక్కువ వస్తే బాధపడతాడో, ఎక్కువ వస్తే సంతోషిస్తాడో దానిని 'సామాన్య పంట' అనవచ్చు. సామాన్య పంట,

సగటుపంట ఒకటి కావు. సగటు పంట అంటే కేవలం ఒక పొలంలో కొన్ని సంవత్సరాల పంట సరాసరి మాత్రమే. సామాన్యపంటను ప్రతి 10 సంవత్సరాలకొకసారి, 'పంట ప్రయోగాల' ద్వారా నిర్ణయిస్తారు.

సామాన్య పంటను నిర్ణయించడం : సామాన్య పంట కోత ప్రయోగాల ద్వారా నిర్ణయిస్తారని తెలుసుకున్నాం. కాని అన్ని రాష్ట్రాలలోను నిర్ణయించే ఒకే రీతిన లేదు. ఈ ప్రయోగాలకు అవసరమైన ఈ నిర్ణయం పద్ధతి క్షేత్రాలను రాష్ట్ర రెవిన్యూ వ్యవసాయ శాఖ ఎంపిక చేస్తుంది. పంట పరిశోధన సర్వే జరపటానికి ఎన్.ఎన్.ఎన్ అధికారులు సహాయం చేశారు. దిగువ వివరణ పరిశీలించింది.

ముందు ఒక క్షేత్రాన్ని ఎన్నిక చేస్తారు. తరువాత ఆ క్షేత్రంలో విత్తనాలు నాటడం, కోయటం, నూర్చటం మొదలైన పనులన్నీ రెవిన్యూ అధికారుల సమక్షంలోనే జరుగుతాయి. మిగతా పొలాలకు లభిస్తున్న సామాన్య నీటిపారుదల, ఎరువుల సౌకర్యాలను మాత్రమే ఆ పొలానికి లభించేటట్లు అధికారులు చూస్తారు. పంటను కాటా వేసి, తడి తేమ ఏదైనా ధాన్యంలో వుంటే దానికి కొంత తరుగు తీసివేసి పంట లెక్కకడారు. ఆ విధంగా లెక్కకట్టిన వివరాలను రాష్ట్ర వ్యవసాయ డైరెక్టరు తన అనుభవాన్ని పురస్కరించుకొని అవసరాన్ని బట్టి కొన్ని సర్దుబాట్లు చేసి సామాన్య దిగుబడిని నిర్ణయిస్తాడు.

ఈ పద్ధతిలోని లోపాలు : సామాన్య పంటను పైన వివరించిన ప్రయోగాల ద్వారా నిర్ణయించడం లోపరహితమని చెప్పలేము. వ్యవసాయాధికారులు ప్రజలు కూడా ఈ గణాంకాలు కచ్చితమైనవి కావని విమర్శిస్తున్నారు. సాధారణంగా ఈ పద్ధతిలో పంట దిగుబడిని నిర్ణయించడానికి ఎంపిక చేసే పొలం రోడ్డుకు, ఇతర సౌకర్యాలకు దగ్గరగా వుంటుంది. కావున ఈ పొలం గ్రామంలోని ఇతర పొలాలకు ప్రాతినిధ్యం వహించదు. రెవిన్యూ అధికారులు వారి బాధ్యతలు నిర్వర్తించడంలో తలమునకలై వుండడం వల్ల ఇలాంటి స్వల్ప విషయాల్లో ఎక్కువ ఆసక్తి చూపరు. సాధారణంగా ఎంపిక చేసిన తర్వాత గ్రామాధికారి తనపై అధికార మన్ననలను పొందాలని ఆ ఎంపిక చేసిన పొలానికి నీటి పారుదల సౌకర్యాలు, ఎరువులు, విత్తనాలు అందజేస్తాడు. పైగా పంట కోత ప్రయోగాలు బహు కొద్దిగా జరపడం వల్ల, వాటిని బట్టి సామాన్య పంటను నిర్ణయించడం సరి అయిన పద్ధతి కాదు.

ఈ ప్రయోగాలు ధాన్యాల విషయంలో ఎకరాలో 1/10వ వంతులోను, చెరకు పంట విషయంలో 1/10వ వంతులోను జరుపుతారు. అంటే కనీసం ఒక వూర్తి ఎకరంలో జరపరు. ఇంత కొద్ది పొలంలో పండిన పంటను బట్టి మొత్తం భూమికి సామాన్య పంటను నిర్ణయించడం సరియైన పద్ధతి కాదు. 1932లో 'ఆలెన్' మహాశయుని ప్రకారం సామాన్య పంట అంచనాలో వుండే 20% వరకూ లోపం వుంటుందన్నాడు. దీనికన్నా కంటి చూపుతో గమనించి సామాన్య పంటను నిర్ణయించే పద్ధతి మంచిదని 'రాయల కమిషన్ ఆఫ్ ఇండియన్ అగ్రికల్చర్' వారు భావించడం జరిగింది.

పంట పరిస్థితి కారకం : పరిస్థితి కారకాన్ని 'అణ వారి అంచనా' అని కూడా అంటారు. (ఎందుకంటే పైసలు రాకపూర్వం రూపాయికి 16 అణాలు). సామాన్య పంటను కొన్ని అణాలకు సమానంగా అంచనా వేస్తారు. ఉదాహరణకి ఒక ప్రాంతంలో మంచి పొలంలో దిగుబడి అనుకూల పరిస్థితుల్లో 30 బస్తాలు. అయితే ఆ ప్రాంతంలోని ఇతర మామూలు పొలాల్లో సాధారణ పరిస్థితుల్లో 15 బస్తాల ధాన్యం పండితే ఇక్కడ సామాన్య పంట రూపాయిలో సగం, అంటే 8 అణాలు అని చెప్పవచ్చు. అయితే ఈ లెక్క అన్ని రాష్ట్రాలలో ఒక విధంగా సామాన్య పంటను 15 అణాలుగాను, మరి కొన్నిటిలో 13 అణాలుగాను సూచించటం జరుగుతుంది. కింది ఉదాహరణ ద్వారా కొన్ని రాష్ట్రాలలో మొత్తం పంట అంచనాను గతంలో వివరించిన సమీకరణం ద్వారా తెలుసుకుందాం.

సాగు చేసిన భూమి విస్తీర్ణం = 50 ఎకరాలు అనుకొందాం.

సామాన్య పంట = 10 క్వింటాళ్ళు అనుకొందాం.

పంట పరిస్థితి కారకం = 14 అణాలు కనుక్కొందాం.



$$\text{ఇప్పుడు మొత్తం పండిన పంట} = \frac{50 \times 10 \times 14}{16} = 437.5 \text{ క్వింటాళ్ళు మూడుగా}$$

పరిస్థితి కారకం అంచనా వేయడానికి కొంత సాంకేతిక పరిజ్ఞానం అవసరం. కాని దీనితోపాటు గ్రామాధికారులకు ఆ విధమైన చాలా తక్కువ మందికి మాత్రమే వుంటుంది. దీనితోపాటు పంట తక్కువగా చూపమని భూకామందుల ఒత్తిడి చేస్తారు. ఎందుకంటే పంట దెబ్బతిన్న సమయాల్లో భూమి శిస్తు రద్దు చేయించుకోవటానికి అవకాశం వుంటుంది. భారతదేశం డెసిమల్ (పైసలు) విధానాన్ని అమలు జరిపినప్పటికీ అణా వారి అంచనాలే కొనసాగుతున్నాయి. పరిస్థితి కారకం పంట పండే రుతువులలో రెండుసార్లు లెక్కించడం జరుగుతుంది. (1) పంట పెరిగే కాలం, (2) పంట కోత కాలం

పరిస్థితి కారకం నిర్ణయించే పద్ధతి సరిగా లేదు. ఆ పద్ధతితో కొన్ని కింద చూపిన మార్పులు తీసుకుంటే ఆ కారకం మెరుగ్గా రూపొందించవచ్చు.

- (1) అన్ని రాష్ట్రాలకు పంటకోత ప్రయోగాలను విస్తరింపజేయాలి.
- (2) గ్రామంలోని పంటల పరిస్థితిని గ్రామాధికారి తనపై అధికారులకు అందజేయాలి. అన్ని గ్రామాల పరిస్థితి కారకాల సగటు ఆధారంగా ఒక రెవిన్యూ డివిజన్ పరిస్థితి కారకంగా నిర్ణయించాలి.
- (3) అణా వారి పద్ధతి స్థానే పైసా పద్ధతి ప్రవేశపెట్టాలి.
- (4) గ్రామాధికారులకు తగిన శిక్షణ ఇచ్చి సమర్థవంతంగా పనిచేసే వీలు కల్పించాలి.

(బి) **యాదృచ్ఛిక ప్రతిచయన పద్ధతి** : వ్యవసాయ రంగంలో దిగుబడికి సంబంధించిన గణాంకాలను మెరుగుపరిచే ఉద్దేశ్యంతో ఈ రంగంలో యాదృచ్ఛిక ప్రతిచయన పద్ధతిని ప్రవేశపెట్టటం జరిగింది. ఇండియన్ కౌన్సిల్ ఆఫ్ ఎగ్రికల్చరల్ రిసెర్చ్ వారి (ICAR) ఆధ్వర్యంలో 1942లో పత్తి పంట దిగుబడి తెలుసుకునేందుకు ఈ పద్ధతిలో ప్రయోగాలు చేశారు. తరువాత మిగిలిన ఆహారం పంటలకు కూడా ఈ పద్ధతి విస్తరించారు. పశ్చిమ బెంగాల్, ఒరిస్సా రాష్ట్రాలలో తప్ప అన్ని రాష్ట్రాలలో ICAR ఆధ్వర్యంలో ఈ పద్ధతిని ప్రయోగాలు జరుగుతున్నాయి. అయితే పశ్చిమబెంగాల్, ఒరిస్సా రాష్ట్రాలలో ఈ పని 'ఇండియన్ స్టాటిస్టికల్ ఇన్ స్టిట్యూట్'కి అప్పగించడం జరిగింది.

యాదృచ్ఛిక ప్రతిచయన పద్ధతి ద్వారా అంచనా వేసిన సామాన్యమైన పంట, పరిస్థితి కారకాలు మామూలు పద్ధతి. అంచనాల కన్నా ఎక్కువ కచ్చితంగా వుంటాయి. పైగా శాంపుల్ ఎన్నిక నిష్పక్షపాతంగా వుంటుంది. కాబట్టి అంచనా వేసేవారి అభిప్రాయాలను బట్టి దిగుబడి పరిమాణం మారదు. పైగా శాంపుల్ పద్ధతిని అంచనా వేసేటప్పుడు దోషం ఎంత వుండవచ్చునో కూడా అంచనా వేసే వీలుంటుంది. ఈ ప్రయోగాలను రెవిన్యూ, వ్యవసాయ శాఖల ఉద్యోగులైనా చేయవచ్చు. ఒక్కొక్క జిల్లాలో రాష్ట్రానికంతటికీ కూడా సామాన్య పంట అంచనా వేసే వీలుంటుంది.

ప్రస్తుతం ఈ పద్ధతి ధాన్యాలకు, పప్పు దినుసులకు, చెరకు, జనపనార, వేరుశనగ, ప్రత్తి పంటల వివరాలు లెక్కించేందుకు వినియోగించడమైనవది. ఈ పద్ధతి వల్ల పంట వివరాలు అధికారిక అంచనాల కంటే 10% ఎక్కువ. ఈ పద్ధతిలో ముందు ప్రతి మండలం నుంచి కొన్ని గ్రామాలను యాదృచ్ఛికంగా ఎన్నుకోవడం జరుగుతుంది. ఎన్నుకొన్న ప్రతి గ్రామంలోను ఈ పంట వేసిన ఫొలంలో రెండుగాని, మూడుగాని అనే పద్ధతిలో ఎంపిక చేస్తారు. వాటిలో పండిన పంటను, తమకు కొంత తరుగును తీసివేసి మిగిలిన దానిని నికర బరువుగా లెక్క కట్టడం జరిగింది. ఈ పనంతా రెవిన్యూ అధికారులే చేశారు. ICAR మాత్రం సాంకేతిక సహాయం అందజేసింది.

(2) ఎన్ఎస్ఎస్ శ్రేణులు : ఎన్.ఎస్.ఎస్ సంస్థను సాధించినప్పటి నుంచి ఆ సంస్థ వరుసగా కొన్ని రకమైన సర్వేలను జరుపుతూ వచ్చింది. ఈ సర్వేలను జరపటానికి కొంత మందికి గణకులను ఇచ్చి నియమించింది. కాని వీరు సేకరించిన సమాచారం ఎక్కువ ఉపయోగకరమైంది కాదు. చాలా మంది గణకులు గ్రామాలకు వెళ్ళి సమాచారం సేకరించే సమయానికి పంట కోత జరిగిపోవడమో లేదా నాల్గు వెయ్యకపోవడమో తటస్థించేది. అధికార శాఖలు సేకరించిన పంట గణాంకాలకు, ఎన్ఎస్ఎస్ సిబ్బంది సేకరించిన సమాచారానికి 33% తేడా వుంది. సిఎస్ఓ(CSO) ఈ రెండు శాఖలు అంచనాలకి తేడా ఎందువల్ల వచ్చిందో పరిక్షించి సమన్వయ పరచి పంటల గణాంక సమాచారం మెరుగు పరచేందుకు తీవ్రంగా కృషి చేస్తోంది.

**వ్యవసాయ గణాంకాల ప్రచురణలు :** వ్యవసాయ మంత్రిత్వ శాఖ ఆధ్వర్యంలోని ఆర్థిక, గణాంక డైరెక్టరేటు అనేక విధానాలైన వ్యవసాయ గణాంకాలను ప్రచురణ చేస్తుంది. అందులో కొన్ని ముఖ్యమైనవి ఏవనగా (1) వీక్లీ బులెటిన్ ఆఫ్ అగ్రికల్చరల్ ప్రైసెస్ (Weekly Bulletin of Agricultural Prices) (2) అగ్రికల్చరల్ సిట్యుయేషన్ ఇన్ ఇండియా (Agricultural situation in India (Monthly)) (3) ఎస్టిమేట్స్ ఆఫ్ ఏరియా అండ్ ప్రొడక్షన్ ఆఫ్ ప్రాడక్షన్ ఆఫ్ ప్రిన్సిపల్ క్రాప్స్ ఇన్ ఇండియా, వాల్యూమ్ - 1 (Estimates of Area and Production of Principle Crops in India, Vol) -1 (summary tables); వాల్యూమ్ - 2 (detailed tables), (4) ఇండియన్ అగ్రికల్చరల్ స్టాటిస్టిక్స్ (Indian Agricultural Statistics (Vols. I and II) ), (5) అగ్రికల్చరల్ ప్రైసెస్ ఇన్ ఇండియా (Agricultural Prices in India), (6) అగ్రికల్చరల్ వేజెస్ ఇన్ ఇండియా (Agricultural wages in India), (7) ఏరియా ప్రొడక్షన్ అండ్ యావరేజ్ ఈల్డ్ ఫర్ ఎకర్ ఆఫ్ ఫారెస్ట్ క్రాప్స్ ఇన్ ఇండియా (Area production and Average yield per acre of forecast crops in India) (8) ఇండియన్ అగ్రికల్చరల్ అట్లాస్ (Indian Agricultural Atlas) (9) కమాడిటీ సర్వీసెస్ (Commodity Series) (ఎ) బులెటిన్ ఆఫ్ ఫుడ్ స్టాటిస్టిక్స్ (Bulletin of Food statistics) (బి) కాటన్ ఇన్ ఇండియా (Cotton in India) (సి) జ్యూట్ ఇన్ ఇండియా(Jute in India) (డి) లాక్ ఇన్ ఇండియా (Lac in India) (ఇ) టుబాకో ఇన్ ఇండియా (Tobacco in India) (ఎఫ్) టీ ఇన్ ఇండియా (Tea in India) (జి) కాఫీ ఇన్ ఇండియా (Coffee in India) (హెచ్) రబ్బర్ ఇన్ ఇండియా (Rubber in India).

2. ఇతర వ్యవసాయ గణాంకాలు : ఇతర వ్యవసాయ గణాంకాలను గురించి ఇప్పుడు వివరంగా తెలుసుకుందాం.

ఎ) పశు సంపద మరియు పౌల్ట్రీ : ఈ గణాంకాలను ప్రతి ఐదు సంవత్సరాలకొకసారి రాష్ట్ర ప్రభుత్వాలు, ఆర్థిక గణాంక శాఖ సహకారంతో జాతీయ స్థాయిలో సేకరించటం జరుగుతుంది. వీరు సేకరించే గణాంకాలలో పశుసంపద, పౌల్ట్రీ, వ్యవసాయ గణాంకాల వివరాలుంటాయి. పశు సంపదకు సంబంధించి (1) ఆవులు (2) గేదలు (3) గొర్రెలు (4) మేకలు (5) గుర్రాలు మరియు Ponies (6) గాడిదలు (7) కంచెర గాడిదలు (8) ఒంటెలు, (9) పందులను, పౌల్ట్రీకి సంబంధించి కోళ్ళు, బాతులు, ఇతర పౌల్ట్రీ పక్షులు, వ్యవసాయ పరికరాలకు సంబంధించి (1) నాగళ్ళు (2) ఎడ్ల బండ్లు (3) పంచదార క్రషర్లు (4) ఆయిల్ పంపుసెట్లు (5) విద్యుత్ పంపుసెట్లు (6) ట్రాక్టర్లు (7) Ghanics కు సంబంధించిన గణాంక సమాచారాన్ని సేకరించటం జరుగుతుంది.

ఈ గణాంక సమాచారానికి సంబంధించి ఐదు సంవత్సరాల కొకసారి Indian Live Stock Census వారు ప్రచురిస్తారు. దీనితోపాటు (1) Indian Live Stock Statistics (Annual) (2) Agricultural Situation in India (Vol I and II) 3. Abstract of Agricultural Statistics in India (Annual) (4) Statistical Abstract of the Indian Union (CSO). మొదలైన ప్రచురణలలో కూడా పశు సంపద గణాంకాలు ప్రచురణమవుతాయి.

బి) అడవుల గణాంకాలు : అడవుల గణాంకాలలో ముఖ్యమైనవి అటవీ విస్తీర్ణం, వున్న కలప పరిమాణం, కలప విలువ, వంట చెరకు పరిమాణం, అడవులలో ఉద్యోగితా పరిమాణం, అడవుల వల్ల రాబడి మరియు వ్యయం, అటవీ

ఉత్పత్తుల వల్ల వ్యాపార పరిమాణం, మొదలైనవి. 1946 - 47 సంవత్సరమునకు పూర్వము ఈ గణాంకాలు 'Annual Returns of Statistics Relating to Forest Administration in India'లో ప్రచురణమయ్యాయి. దీనిని భారత ప్రభుత్వ కేంద్ర అటవీ విభాగం వారు ప్రచురణ చేసేవారు. ఈ ప్రచురణ ప్రస్తుతం ఇండియన్ ఫారెస్ట్ స్టాటిస్టిక్స్ (Indian Forest Statistics) అనే పేరుతో ప్రచురణ జరుగుతోంది. వివిధ రాష్ట్ర ప్రభుత్వాల అటవీ విభాగాల వారు అందించిన సమాచారం ప్రాతిపదికగా ఇది ప్రచురింపబడుతోంది. ఈ ప్రచురణలో వున్న ముఖ్య ఇబ్బంది ఏమనగా ప్రచురణ వార్షిక ప్రచురణ అయిననూ కొన్ని సందర్భాల్లో దీన్ని ప్రచురించేందుకు నాలుగు సంవత్సరాలు కూడా పడుతోంది. దీనితోపాటు (i) Abstract of Agricultural Statistics (DES వ్యవసాయం) (ii) Statistical Abstract of the Indian Union (CSO) (iii) Annual Administration Reports (Forest Department of State Governments) (iv) A Review of Forest Administration in India (ఇదు సంవత్సరాల కొకసారి భారత ప్రభుత్వం ప్రచురించేది) మొదలైన ప్రచురణల్లో అడవులకు సంబంధించిన గణాంకాలు ప్రచురణ జరుగుచున్నాయి.

సి) **చేపల పరిశ్రమ గణాంకాలు :** భారతదేశంలో లభ్యమయ్యే మత్స్య గణాంకాలు దాదాపుగా సముద్రంలో లభ్యమయ్యే మత్స్య సంపదకు సంబంధించినది మాత్రమే. స్వదేశీ మత్స్య సమాచారం అతి తక్కువగా లభ్యమవుతుంది. మత్స్య సమాచారానికి సంబంధించిన గణాంకాలు లభ్యమయ్యే ముఖ్యమైన మూలము 'The Report on the Marketing of Fish in the Indian Union' అనే ప్రచురణ. దీనిని డైరెక్టరేట్ ఆఫ్ మార్కెటింగ్ అండ్ ఇన్స్పెక్షన్ (Directorate of Marketing and Inspection) వారు వివిధ సమయాల్లో ప్రచురణ చేస్తూ వుంటారు. మన దేశంలో లభ్యమయ్యే సముద్ర మత్స్య సంపదకు సంబంధించిన సమాచారాన్ని సెంట్రల్ మెరైన్ ఫిషరీస్ రీసెర్చ్ ఇన్స్టిట్యూట్ (Central Marine Fisheries Research Institute) సేకరించి ప్రచురిస్తుంది. చేపల వినియోగానికి సంబంధించిన గణాంకాలను N.S.S. డైరెక్టరేటు వారు అందిస్తారు. పంచవర్ష ప్రణాళికలు మరియు Food and Agricultural Organisations వారు మత్స్య గణాంకాల ప్రచురణలో ఆసక్తిని కనబరచడం జరుగుతోంది.

డి) **ఉద్గ్రహణ, ఖనిజాల గణాంకాలు :** బొగ్గుకు సంబంధించిన గణాంకాలు తప్ప, మిగిలిన వాటికి సంబంధించి గణాంకాలు సమృద్ధిగా లేవనే చెప్పవచ్చు. బొగ్గుకు సంబంధించిన గణాంకాలను చీఫ్ ఇన్స్పెక్టర్ ఆఫ్ మైన్స్ (Chief Inspector of Mines), ధన్ బాద్ వారు వార్షిక ప్రచురణలు చేస్తారు. గత పది సంవత్సరాలకు సంబంధించి ప్రతి ఖనిజ వనరు విలువను స్టాటిస్టికల్ ఆబ్స్ట్రాక్ట్ ఆఫ్ ది ఇండియన్ యూనియన్ అందిస్తుంది. ఈ ప్రచురణలో రోజువారీ ఖనిజ ఉత్పత్తిని చేయటానికి ఉపయోగించిన పనివారి సంఖ్యలు కూడా వుంటాయి.

3. **వ్యవసాయ దిగుబడి సూచికలు :** వ్యవసాయ దిగుబడిని అంచనా వేసేందుకు భారతదేశంలో మూడు సూచికలున్నాయి. అవి 1. వ్యవసాయ మంత్రిత్వ శాఖ శ్రేణులు (Ministry of Agricultural Series) 2. రిజర్వు బ్యాంకు సూచిక (Reserve Bank Index) 3. F.A.O. సూచిక. ఈ సూచనలన్నీ స్థూల వ్యవసాయ దిగుబడికి సంబంధించినవి. ఇవన్నీ భారత సూచీ సంఖ్యలు.

1. **వ్యవసాయ మంత్రిత్వ శాఖ శ్రేణులు :** వ్యవసాయ ఉత్పత్తికి సంబంధించిన 19 ముఖ్య వ్యవసాయ ఉత్పత్తులను 1949లో ఈ శ్రేణులను ప్రచురించడం జరిగింది. తరువాత 1950 - 51లో రివైజ్డ్ అంచనాలను రూపొందించడం జరిగింది.

ప్రస్తుత సూచీలో 28 పంటలకు సంబంధించినది. ఈ 28 పంటలను రెండు విభాగాలుగా మరియు 6 ఉప విభాగాలుగా వర్గీకరించడం జరిగింది. ఈ రెండు విభాగాలు ఏవనగా (ఎ) ఆహార ధాన్యాలు (బి) ఆహారేతర ధాన్యాలు. ఆహార ధాన్యాలు రెండు ఉప విభాగాలు అనగా (1) వరి, జొన్న, మొక్కజొన్న, రాగి, గోధుమ, బార్లీ

మొదలైన ధాన్యాలు (53.8%) మరియు (2) పప్పు ధాన్యాలు (8.6%), ఆహారేతర ధాన్యాలు నాలుగు ఉప విభాగాలు. అవేవనగా (1) వేరు శనగ, ఆముదము మొదలైన నూనెలు (9.9%), (2) పత్తి, జనుము లాంటి పైబర్స్ (4.5%), (3) టీ, కాఫీ, రబ్బరు లాంటి తోటలు (3.6%), (4) చెరకు, పొగాకు, బంగాళా దుంపలు, మిర్చి మొదలైన ఇతర పంటలు (15.1%). వాటి భారత విలువలను బ్రాకెట్లలో చూపడం జరిగింది. సూచీలను కనుగొనేందుకు 1949-50 సం॥ను ఆధార సంవత్సరంగా ఎంపిక చేయడం జరిగింది. ఈ సంవత్సరం ఎంపికకు కారణము (1) ఈ సంవత్సరము ఒడుదుడుకులు లేని సాధారణ సంవత్సరము కావడం (2) సగటు ధరల స్థాయి కూడా సాధారణంగా వుండడంతో పాటు (3) ఆధికారిక అంచనాలు, పంట కోత అంచనాలు. దాదాపు సమానంగా వుండడం.

2. **రిజర్వు బ్యాంకు సూచిక :** వ్యవసాయ దిగుబడికి సంబంధించిన సూచికలను రిజర్వు బ్యాంకు కూడా నిర్మించటం జరిగింది. ఈ గణాంకాలు ప్రతి సంవత్సరము రిజర్వు బ్యాంక్ ఆఫ్ ఇండియా బులెటిన్ డిశంబరులో ప్రచురణ అవుతాయి. ఈ సూచిక రూపొందించేందుకు 17 వస్తువులను తీసుకోవటం జరుగుతోంది. ఈ 17 వస్తువులను ఐదు విభాగాలు చేసి వాటి ప్రాధాన్యతలను ఇవ్వడం జరిగింది. అవి (1) ఆహార ధాన్యాలు (79.0%) (2) నూనె గింజలు (11.3%), (3) పైబర్స్ (5.0%), (4) తోటలు (4.5%), (5) ఇతరాలు (0.2%). మొత్తం భారాలు 100 శాతం.
3. **FAO సూచీ సంఖ్యలు :** ఐక్యరాజ్య సమితి (UN) యొక్క ఫుడ్ అండ్ అగ్రికల్చరల్ ఆర్గనైజేషన్ (FAO) కూడా వివిధ దేశాలకు సంబంధించిన వ్యవసాయ ఉత్పత్తికి సంబంధించిన సూచికలను (ఇండియాతో సహా) ప్రచురిస్తుంది. ఈ సూచికలను రూపొందించేందుకు కారణం వివిధ దేశాల వ్యవసాయ దిగుబడిని పోల్చటం. ఈ సూచికలను రూపొందించేందుకు 1934 - 38 సంవత్సరాల సగటును సంవత్సరముగా తీసుకోవటం. ఈ సూచికల గణన కూడా భారత పద్ధతిపై రూపొందించుట జరుగుతుంది కాని భారాలను రూపొందించే పద్ధతే క్లిష్టమైనది.
4. **భారతదేశ వ్యవసాయ సెన్సస్ :** ఐక్య రాజ్య సమితి వారి FAO సంస్థ ఆదేశానుసారంగా NSS సంస్థ రెండుసార్లు భారతదేశంలో వ్యవసాయ సెన్సస్ను రూపొందించింది. ఈ సెన్సస్ సర్వేలు రెండుసార్లు అనగా 1954-55, 1961-62 సంవత్సరాలలో నిర్వహించింది. ఈ సర్వేలలో సమాచారాన్ని గృహ సర్వేల ద్వారా సేకరించటం జరిగింది. ఈ గణాంకాలను వివిధ రాష్ట్రాలకు మరియు దేశ స్థాయిలోను సేకరించి ఫలితాలను ప్రకటించటం జరుగుతుంది.

తరువాత ఒక సమగ్ర వ్యవసాయ సెన్సస్ను మూడోసారి 1970 - 71 సంవత్సరంలో గణన చేయటం జరిగింది. ఈ సర్వేలో దాదాపు 60 మిలియన్ భూకమతాలను పరిశీలించడం జరిగింది. వీరు సేకరించిన గణాంకాలు (1) భూకమతాల పరిమాణం, సంఖ్య, (2) వివిధ పంటలు పండించే భూవిస్తీర్ణం, (3) భూమి వినియోగ గణాంకాలు (4) నీటి పారుదల, భూకమతాల వారి కౌలు పరిమాణాలు మొదలైనవి. NSS వారు కూడా భూమి కమతాల, ఉత్పాదకాలకు సంబంధించిన సర్వేను అదే సమయంలో రూపొందించడం జరిగింది. అందుకోసం CSO వారు కొన్ని ప్రామాణిక భావనలు, నిర్వచనాలు మరియు విధానాలకు చూపడం జరిగింది.

**14.4.2 భారతదేశ వ్యవసాయ గణాంకాల్లో లోపాలు :** భారతదేశ వ్యవసాయ గణాంకాలు అనేక దోషాలు కలిగి వున్నాయి. ఈ దోషాలకు అనేక కారణాలు వున్నాయి. రెవిన్యూ, వ్యవసాయ సిబ్బందిలో సామర్థ్యం లేకపోవటం, అవినీతి, వ్యవసాయ భూములను చేరేందుకు సౌకర్యాలు లేకపోవటం మొదలైన కారణాల వల్ల సరైన వ్యవసాయ గణాంకాలు లభ్యం కావడం లేదు. చాలా లోపాలకు ముఖ్య కారణం వ్యవసాయ ప్రాధాన్యతను గుర్తించకపోవటమే అని చెప్పవచ్చు. భారత ప్రభుత్వం W.R. నాలు అధ్యక్షతన ఏర్పాటు చేసిన సాంకేతిక కమిటీ వ్యవసాయ గణాంకాల్లో లోపాలను కింది విధంగా వర్గీకరించటం జరిగింది. అవి 1. సేకరణ పరిధిలో (విస్తృతి)లో లోపాలు 2. నిర్వచనాలు, వర్గీకరణలు ఏక రీతిగా లేకపోవడం 3. పట్టికరణ, ప్రోసెసింగ్ లో లోపాలు 4. ప్రాథమిక

రిపోర్టింగ్ ఏజెన్సీలో లోపాలు 5. అజమాయిషి, పరిశీలనలో లోపాలు, 6. యోజన, సమన్వయంలో లోపాలు, 7. ప్రచురణలో ఆలస్యం. వీటిని గూర్చి సంక్షిప్తంగా తెలుసుకుందాం.

1. **సేకరణ పరిధి (విస్తృతిలో లోపాలు) :** భారతదేశంలో మొత్తం భూభాగానికి సంబంధించిన గణాంకాలు సంపూర్ణంగా లేవు. భారతదేశంలో 89 శాతం భూ విస్తీర్ణ గణాంకాలు మాత్రమే లభ్యమవుతాయి. మిగిలిన భూమి వివరాలు లేవనే చెప్పాలి. వ్యవసాయ విషయాలకు సంబంధించి వేతనాలు, పని గంటలు, శ్రామికులు పొందే ధ్రవ్యేతర ప్రతిఫలాల వివరాలు లేవు. అయితే ఈ లోపాన్ని సరిదిద్దేందుకు ప్రభుత్వం ప్రయత్నిస్తోంది.
2. **నిర్వచనాలు, వర్గీకరణలు ఏకరీతిలో లేకపోవడం :** వ్యవసాయ గణాంకాలను వివిధ సంస్థలు సేకరిస్తూ వుంటాయి. అయితే సర్వే జరిపే వివిధ సంస్థలు ఉపయోగించే వ్యవసాయ సంబంధమైన భావనల నిర్వచనాలు వారి గణనకు అనుగుణంగా వుంటున్నాయి. అందుచేత ఆ సమాచారాన్ని పోల్చుట సాధ్యం కాదు. అంతేకాక దత్తాంశాన్ని వర్గీకరించాలన్నా నిర్వచనం, భావన ఒకే విధంగా వుండాలి. లేనిచో వర్గీకరణ కూడా సాధ్యం కాదు. ఉదాహరణకు సాగు భూమి, బీడు భూమి మొదలైన పదాల నిర్వచనాలు ఒక్కో రాష్ట్రంలో ఒక్కో విధంగా వున్నాయి.
3. **పట్టికరణ, ప్రోసెసింగ్ లో లోపాలు :** మన దేశంలో వ్యవసాయ గణాంకాల వివరాలు అనేకం సేకరించినప్పటికీ ఆ దత్తాంశాన్ని సరైన విధంగా పట్టికరణ, ప్రోసెసింగ్ చేయకపోవడం వల్ల వీటిని సక్రమంగా ఉపయోగించుకోలేకపోతున్నాము. సరైన నిర్ణయాలు, విధానాలు రూపొందించాలంటే సేకరించిన దత్తాంశాన్ని సరైన పద్ధతిలో పట్టికరించడం, ప్రోసెసింగ్ చేయడం తప్పనిసరి. కావున ఈ సదుపాయాలను మెరుగు చేసుకోవలసిన అవసరం ఎంతైనా వుంది.
4. **ప్రాథమిక రిపోర్టింగ్ ఏజెన్సీలో లోపాలు :** వ్యవసాయ గణాంకాల సేకరణ ముఖ్యపాత్ర ప్రాథమిక సేకరణాధికారిది. ఇతడే ప్రాథమిక రిపోర్టింగ్ అధికారి లేదా లేఫ్ పాల్. ఈ ప్రాథమిక సేకరణాధికారికి గణాంకాల సేకరణకు సంబంధించిన తర్ఫీదు లేదా శిక్షణ లేనట్లయితే సమాచార సేకరణలోను, సేకరించిన సమాచారాన్ని ప్రోసెసింగ్ ను సక్రమంగా చేయలేడు. భారతదేశంలోని ప్రాథమిక సేకరణాధికారులు వైపుణ్యం లేనివారు, తర్ఫీదు లేదా శిక్షణ లేనివారైనందున గణాంకాలు లోపభూయిష్టంగా వున్నాయి. గణాంకాలు సత్యలితాలు ఇవ్వాలంటే వైపుణ్యం గలిగిన సాంకేతిక రిపోర్టింగ్ ఏజెన్సీ అనివార్యం.
5. **అజమాయిషీ, పరిశీలనలో లోపాలు :** వ్యవసాయ గణాంకాలు సేకరించే గ్రామాధికారి లేదా ప్రాథమిక రిపోర్టింగ్ అధికార్ల మీద అజమాయిషీ చేసే అధికారము రెవిన్యూ ఇన్ స్పెక్టర్లకు లేదా తహసీల్దారులకు వుంటుంది. అయితే వీరి అజమాయిషీ నామమాత్రంగానే వుండుట వల్ల వ్యవసాయ గణాంకాలు లోపభూయిష్టంగా వున్నాయి. వ్యవసాయ గణాంకాల నాణ్యత మెరుగు పడాలంటే అధికార్ల అజమాయిషీ పరిశీలనను పెంపొందించవలె.
6. **యోజన (ప్రణాళిక), సమన్వయ లోపాలు :** వ్యవసాయ గణాంకాల సేకరణకు సంబంధించిన ప్రణాళిక రూపొందించుటకు లేదా గణాంకాలు సేకరించే వివిధ సంస్థల మధ్య సమన్వయం జరిపేందుకు ఒక ప్రత్యేకమైన విభాగం లేదు. ఒకే విషయానికి సంబంధించిన వివిధ సంస్థలు స్వతంత్రంగా సర్వేలు నిర్వహిస్తుంటాయి. వీటి వల్ల సమయం, ధనం, శ్రమ వృథా తప్ప వచ్చే ఫలితాలు మాత్రం ఒకే విధమైనవి. కావున వ్యవసాయ గణాంకాల సేకరణ చేసే వివిధ సంస్థల మధ్య సమన్వయం వుండి, ప్రణాళికా బద్ధంగా విచారణ నిర్వహించినట్లయితే బహుళ ప్రయోజనం చేకూరుతుంది.
7. **ప్రచురణలో ఆలస్యం :** వ్యవసాయ గణాంకాల సేకరణ చాలా సందర్భాల్లో సకాలంలో జరగడం లేదు. ఒకవేళ సకాలంలో సేకరించినా, సకాలంలో ప్రచురణ జరగడం లేదు. ప్రచురణలో జాప్యం వల్ల గణాంకాల వల్ల ప్రయోజనం

లేకుండా పోతుంది. భారతదేశం వంటి పెద్దదేశంలో గణాంక సేకరణయే కష్టసాధ్యమైన విషయం. అయినప్పటికీ సకాలంలో గణాంకాలను సేకరించి, ప్రచురణ చేయటానికి కృషి సల్పవలసిన అవసరత ఎంతైనా వుంది.

స్వాతంత్ర్యానంతరం భారతదేశం ప్రణాళికాబద్ధమైన కృషి ఆరంభించింది. ప్రణాళికా యుగంలో వ్యవసాయ రంగంలో అనేక మార్పులు చోటుచేసుకున్నాయి. వ్యవసాయ పద్ధతుల్లో మార్పులు, వ్యవసాయ విధానాలలో మార్పులు, సాంద్ర వ్యవసాయం, విస్తృత వ్యవసాయం, సాంకేతిక పద్ధతుల్లో మార్పులు మొదలైనవి అనేకం చోటు చేసుకున్నాయి. ఇన్ని మార్పులు చోటుచేసుకున్నను వ్యవసాయ సంబంధమైన గణాంక వ్యవస్థలో ఆశించిన ప్రగతి సాధించలేదనే చెప్పాలి. కావున ప్రభుత్వం తగు జాగ్రత్తను తీసుకొని నాణ్యత గల గణాంకాలను సేకరించి, విశ్లేషించి ప్రచురణను సకాలంలో చేసినట్లయితే గణాంకాలు సత్ఫలితాలను ఇస్తాయి. విశ్వసనీయ గణాంకాల వల్ల వ్యవసాయ వ్యవస్థ అభివృద్ధి చెందుతుంది. ఈ గణాంకాల వల్ల వ్యవసాయ స్థితిగతులను అంచనా వేసి, వ్యవసాయ అభివృద్ధి కోసం పథకాలను రూపొందించి అమలు చేయవచ్చు. తత్ఫలితంగా భారతదేశంలో వ్యవసాయ అభివృద్ధి మరింత వేగవంతంగా సాధించవచ్చు.

## 14.5 సారాంశం

దేశ ఆర్థిక స్థితిగతులను, సోకడలను తెలుసుకొనేందుకు జాతీయాదాయ లెక్కలు అవసరం. జాతీయాదాయాన్ని ఉత్పత్తి, ఆదాయ, వ్యయాల మదింపు పద్ధతుల్లో లెక్కించడం జరగుతుంది. స్వాతంత్ర్యానికి పూర్వం భారతదేశంలో జాతీయాదాయాన్ని మొట్టమొదట లెక్కించిన శాస్త్రవేత్త దాదాభాయి నారోజీ. ఆ తరువాత అనేక మంది శాస్త్రవేత్తలు లెక్కించినా అంత విశ్వసనీయమైనవిగా గుర్తించలేదు. స్వాతంత్ర్యానంతరం జాతీయాదాయ అంచనాల కమిటీని 1949లో నియమించడం, అది జాతీయాదాయాన్ని లెక్కించడం జరిగింది. తరువాత ఈ పనిని CSO చేస్తున్నది. ప్రస్తుతం జాతీయాదాయ అంచనాలు సాంప్రదాయ, సవరించిన, కొత్త శ్రేణులు అనే మూడు శ్రేణుల్లో లభ్యమగుచున్నవి. జాతీయాదాయ అంచనాల వల్ల అనేక ప్రయోజనాలున్ననూ, దీనిని అంచనా వెయ్యటంలో అనేక ఇబ్బందులున్నాయి. ఈ ఇబ్బందులను అధిగమించినప్పుడు మాత్రమే ఖచ్చితమైన గణాంకాలను ఈ గణాంకాల ప్రాతిపదికగా దేశ స్థితిగతులు అంచనా కచ్చితంగా వేయటమో కాక ఈ గణాంకాల ప్రాతిపదికగా రూపొందించే ప్రణాళికలు విజయవంతమవుతాయి.

జనాభా గణాంకాల ఆవశ్యకతను అతి పురాతన కాలంలోనే గుర్తించడం జరిగింది. ప్రారంభంలో మానవశక్తి తెలుసుకునేందుకు జనాభా గణాంకాలను సేకరిస్తే, ప్రస్తుతం మానవశక్తితోపాటు అనేక కోణాల్లో ప్రయోజనాన్ని ఆశించి సేకరించటం జరుగుతోంది. జనాభా గణాంకాలను సేకరించే పద్ధతులు మూడు. అవి : 1) జనాభా లెక్కలు 2) ప్రాణీ గణాంకాలు 3) డెమోగ్రఫీ సర్వేలు. భారత దేశంలో జనాభా గణన ప్రయత్నం 1872లో వాస్తవానికి పూర్తి జనాభా గణన జరిగిన సంవత్సరము 1881. ఆ తరువాత ప్రతి 10 సంవత్సరాలకు ఒకసారి జనాభా గణన జరుగుతూ వుంది. గతంలో జరిగిన జనాభా గణన సంవత్సరం 2001. ప్రతి జనాభా గణనలోనూ అవసరమైన కొన్ని అంశాలను చేర్చుతూ గణాంకాలను సేకరించడం జరిగింది.

భారతదేశం అనాదిగా వ్యవసాయ ప్రాధాన్యత కల దేశం. దేశ జనాభాలో 80 శాతం ప్రత్యక్షంగా లేదా పరోక్షంగా వ్యవసాయంపై ఆధారపడి జీవిస్తున్నారు. కావున భారతదేశ అభివృద్ధి వ్యవసాయాభివృద్ధితో ముడిపడి వుంది. వ్యవసాయాభివృద్ధికి సంబంధించిన చర్యలు చేపట్టాలంటే వ్యవసాయ గణాంకాల ఆవశ్యకత ఎంతైనా వుంది. భారతదేశ వ్యవసాయ గణాంకాలను నాలుగు ముఖ్య విభాగాలుగా చెప్పవచ్చు. అవి : 1) ప్రాథమిక వ్యవసాయ గణాంకాలు, 2) ఇతర వ్యవసాయ గణాంకాలు, 3) వ్యవసాయ దిగుబడి సూచికలు, 4) భారత వ్యవసాయ సెన్సస్. భారతదేశ వ్యవసాయ గణాంకాలను పరిశీలిస్తే అనేక లోపాలు గోచరిస్తాయి. ఈ లోపాలలో చాలా లోపాలకు కారణం వ్యవసాయ ప్రాధాన్యతను గుర్తించటమే అని చెప్పవచ్చు. వ్యవసాయ గణాంకాలు లోపరహితంగా సేకరించవలసిన ఆవశ్యకత వుంది. అందుకు అవసరమైన చర్యలు ప్రభుత్వం చేపట్టవలసిన అవసరత ఎంతైనా వుంది. అప్పుడే

వ్యవసాయ గణాంకాలు సత్ఫలితాలను ఇవ్వగలవు.

### 14.6 ముఖ్య పదాలు

1. జాతీయాదాయం : ఒక దేశంలో, ఒక సంవత్సర కాలంలో ఉత్పన్నమైన అంతిమ వస్తు సేవల నికర విలువనే జాతీయాదాయం అంటారు. దీనిలో నికర ఎగుమతులకు చోటుంటుంది. సాధారణంగా జాతీయాదాయం అంటే నికర జాతీయాదాయమే.
2. యాదృచ్ఛిక ప్రతిచయన పద్ధతి : ప్రతిచయనాలకు యాదృచ్ఛికంగా ఉదాహరణకు లాటరీ పద్ధతిలో తీసుకునే పద్ధతి.
3. జనాభా లెక్కలు : దేశంలో ఒకే రోజున వుండే జన సంపదను లెక్కించి వారికుండే పూర్ణాంశాలను వ్రాయడాన్నే జనాభా గణన అంటారు.
4. ప్రాణి గణాంకాలు : జనాభాకు సంబంధించిన జనన, మరణ వివరాలు, వైవాహిక స్థితి మొదలైన వివరాలు తెలిపే గణాంకాలు.
5. N.S.S. శ్రేణులు : గణాంకాలను ఎన్ఎస్ఎస్ లేదా ఎన్ఎస్ఎస్ఓ సంస్థ సేకరించి వెల్లడి చేసే శ్రేణులను NSS శ్రేణులు అంటారు.

### 14.7 నమూనా ప్రశ్నలు

#### I. వ్యాసరూప ప్రశ్నలు

1. జాతీయాదాయ మదింపు పద్ధతులను తెలిపి, జాతీయాదాయ లెక్కింపులో వున్న ఇబ్బందులను తెలుపుము.
2. భారతదేశంలో జాతీయాదాయ అంచనాలను గూర్చి ఒక వ్యాసము వ్రాయుము.
3. భారతదేశంలో జనాభా గణనను గూర్చి వ్రాయుము.
4. 1971వ సంవత్సరములోని షెడ్యూలు ముఖ్య లక్షణములను తెలుపుము.
5. ప్రాణి గణాంకాలు అనగానేమి ? వాటి ప్రాముఖ్యతను వ్రాయుము.
6. కింది సమాచారానికి ప్రామాణిక మృతి రేటును కనుగొని ఏ పట్టణం ఆరోగ్యవంతమైనదో తెలుపుము.

వయోవర్గం	ప్రమాణ జనాభా		స్థానిక జనాభా	
	జనాభా (వేలలో)	మరణాలు	జనాభా (వేలలో)	మరణాలు
0 - 10	900	18	400	16
10 - 20	1000	5	1500	6
20 - 60	3000	24	9400	24
60 - 100	400	20	700	21

7. కింది సమాచారానికి స్థూల పునరుత్పత్తి రేటును, నికర పునరుత్పత్తి రేటును కనుక్కోండి.

వయోవస్థా వర్గం (సం॥లు)	మొత్తం స్త్రీలు (వేలలో)	స్త్రీ జననాలు	మృతుల రేటు వేయికి
15 - 19	1600	19,200	79
20 - 24	1000	70,200	99
25 - 29	1680	90,720	115
30 - 34	1730	62,280	138
35 - 39	1720	32,680	150
40 - 44	1620	11,340	168
45 - 49	1500	900	188

8. భారతదేశంలో వ్యవసాయ గణాంకాలను గూర్చి సంక్షిప్తంగా వివరించుము.

9. భారతదేశంలో పంట దిగుబడి గణాంకాలను గూర్చి వివరించి, వ్యవసాయ గణాంకాలలో లోపాలను తెలుపుము.

## II. సంక్షిప్త ప్రశ్నలు :

10. స్వాతంత్ర్యానికి పూర్వం భారతదేశంలో జాతీయదాయ అంచనాలు.

11. ప్రామాణిక మృతి రేటు

12. స్థూల పునరుత్పత్తి రేటు.

13. 2001 జనాభా గణన షెడ్యూలులో నూతనంగా చేర్చిన అంశాలు.

14. చేపల పరిశ్రమ గణాంకాలు

## 14.8 చదువదగిన గ్రంథాలు

1. D.N. Elhance : Fundamentals of Statistics
2. S.P. Gupta : Statistical Methods
3. C.B. Gupta : An Introduction to Statistical Methods
4. S.C. Gupta : Fundamentals of Statistics
5. M.C. Shukla and S.S. Gulshan : Statistics - Theory and Practice.



**పాఠ్యంశ నిర్మాణక్రమం**

- 15.0 లక్ష్యాలు
- 15.1 విషయపరిచయం
- 15.2 భారతదేశంలో పారిశ్రామిక గణాంకాలు
- 15.3 పారిశ్రామిక గణాంక చట్టం - 1942
- 15.4 స్వాతంత్ర్యానంతరం లభిస్తున్న పారిశ్రామిక గణాంకాలు
  - 15.4.1 గణాంక సేకరణ నిబంధనలు
  - 15.4.2 నిర్మాణ పరిశ్రమల శాంపిల్ సర్వే
  - 15.4.3 పరిశ్రమల వార్షిక సర్వే
  - 15.4.4 కంట్రోలర్ ఆఫ్ క్యాపిటల్ ఇన్వెస్ట్ మెంట్ వారి గణాంకాలు
- 15.5 ధరల గణాంకాలు
  - 15.5.1 టోకు ధరల గణాంకాలు
  - 15.5.2 చిల్లర ధర గణాంకాలు
- 15.6 సారాంశం
- 15.7 ముఖ్య పదాలు
- 15.8 నమూనా ప్రశ్నలు
- 15.9 చదువదగిన గ్రంథాలు

**15.0 లక్ష్యాలు**

- ఈ పాఠ్య భాగం పూర్తయ్యే సరికి మీరు కింది విషయాలను అవగాహన చేసుకుంటారు.
- \* పారిశ్రామిక గణాంకాలు అంటే ఏమి? వాటి యొక్క ఉపయోగాలు
- \* భారతదేశంలో స్వాతంత్ర్యానికి పూర్వం, స్వాతంత్ర్యానంతరం పారిశ్రామిక గణాంకాల స్వభావం
- \* పారిశ్రామిక సూచీలు - గణనలో ఉన్న ఇబ్బందులు.
- \* ధరల గణాంకాలు అంటే ఏమి? భారత దేశంలో ధరల గణాంకాల స్వభావం.
- \* ధర సూచీల నిర్మాణ పద్ధతులు

**15.1 విషయపరిచయం**

నేటి ఆధునిక ఆర్థిక వ్యవస్థలో భారీ పరిశ్రమలు ప్రముఖ స్థానాన్ని ఆక్రమించాయి. నేడు ఏ దేశ ఆర్థికాభివృద్ధిని కొలవాలన్నా ఆ దేశ భారీ పరిశ్రమల అభివృద్ధిని పరిగణనలోకి తీసుకోవడం జరుగుతోంది. అందుచేత పారిశ్రామిక ప్రాధాన్యత క్రమ క్రమంగా పెరుగుతోంది. ఏ విధమైన ప్రణాళిక రూపొందించాలన్నా లేదా అమలు చెయ్యాలన్నా తగినంత దత్తాంశం, తగినంత యధార్థత అవసరం. అదే విధంగా పారిశ్రామిక ప్రణాళిక అమలుకు విశ్వసనీయమైన పారిశ్రామిక గణాంకాలు అవసరం. భారతదేశంలో

పరిశ్రమలకు సంబంధించిన గణాంకాలు తగినన్ని లేవని చెప్పవచ్చు. బ్రిటీషు పరిపాలనలో ఉన్నప్పుడు భారతదేశంలో పారిశ్రామిక గణాంక వివరాలు సేకరించే కృషి జరగలేదు. పారిశ్రామిక వేత్తలు అయిష్టత వల్ల, ప్రభుత్వ నియంత్రణ లేనందున 1942వ సం॥ము వరకు పారిశ్రామిక గణాంక వివరాలు తగినన్ని లేకపోవటం జరిగింది.

పారిశ్రామిక గణాంకాలను దాదాపు అన్ని అభివృద్ధి చెందిన దేశాలు సేకరిస్తాయి. ఈ సేకరించే గణాంకాలను ముఖ్యంగా నాలుగు విధాలుగా ఉంటాయి. అవి - 1. మూలధనా స్వరూపం, 2. ఉద్యోగిత, 3. ఉత్పాదకం, 4. ఉత్పత్తులకు సంబంధించినవి. ఈ నాలుగు రకాలతో పాటు అనేక ఇతర అంశాలు అంటే శక్తి వినియోగం, ఉత్పత్తి వ్యయం మొదలైన గణాంకాలను కూడా సేకరించటం జరుగుతుంది.

### 15.2 భారతదేశంలో పారిశ్రామిక గణాంకాలు

భారత దేశంలోని పారిశ్రామిక గణాంకాలను రెండు దశల్లో చెప్పవచ్చు. అవి -

(ఎ) స్వాతంత్ర్యానికి పూర్వం లభించే పారిశ్రామిక గణాంకాలు

(బి) స్వాతంత్ర్యానంతరం లభించే పారిశ్రామిక గణాంకాలు

ఈ రెండు దశల్లో లభ్యమయ్యే పారిశ్రామిక గణాంకాల స్వరూపాన్ని ఇప్పుడు తెలుసుకుందాం.

(ఎ) స్వాతంత్ర్యానికి పూర్వం లభించే పారిశ్రామిక గణాంకాలు : స్వాతంత్ర్యానికి పూర్వం పారిశ్రామిక సమాచారం చాలా తక్కువగా లభ్యమయ్యేది. ఒకవేళ లభ్యమయినా ఆ సమాచారం పై అసంతృప్తి ఎక్కువగా ఉండేది. 1942లో భారతదేశంలో పారిశ్రామిక గణాంకాల చట్టాన్ని రూపొందించినను నిర్మాణ పరిశ్రమలకు సంబంధించిన గణాంకాలను 1946 వరకు జరుగలేదు. 1942వ సం॥ము వరకు లభ్యమయ్యే గణాంకాలు పరిశ్రమలు ఐచ్ఛికంగా అందచేసినవి. ఈ సమాచారాన్ని వివిధ పత్రికలలో ప్రచురణ జరిగేది. ఈ గణాంకాలను మూడు భాగాలుగా విభజించవచ్చు.

1. సాధారణ పారిశ్రామిక గణాంకాలు
2. ఉత్పత్తులు, వ్యయాల గణాంకాలు
3. శక్తి వినియోగానికి సంబంధించిన గణాంకాలు

1. సాధారణ పారిశ్రామిక గణాంకాలు :- ఈ గణాంకాలు ముఖ్యంగా మూడు అంశాలకు సంబంధించి ఉంటాయి. అవి-

1. ఫ్యాక్టరీలు, వాటి సంఖ్య
2. శ్రామికులు, వారికి ఇచ్చే వేతనాలు
3. మూలధనం, పెట్టుబడికి సంబంధించి ఉంటాయి.

ఈ వివరాలు రెండు వార్షిక పత్రికలలో లభిస్తాయి. అవి 'లార్జ్ ఇండస్ట్రియల్ ఎస్టాబ్లిష్మెంట్స్ ఇన్ ఇండియా (Large Industrial Establishments in India)' మరియు స్టాటిస్టికల్ ఆబ్స్ట్రాక్ట్ ఆఫ్ ఇండియా (Statistical Abstract of India). లార్జ్ ఇండస్ట్రియల్ ఎస్టాబ్లిష్మెంట్స్ ఇన్ ఇండియాను అప్పట్లో డిపార్ట్మెంట్ ఆఫ్ కమర్షియల్ ఇంటిలిజెన్స్ అండ్ స్టాటిస్టిక్స్ వారు ప్రచురించే వారు. ఆ తరువాత దీనిని లేబర్ బ్యూరో శ్రామిక మంత్రిత్వ శాఖకు బదిలీ చేయటం జరిగింది. స్టాటిస్టికల్ ఆబ్స్ట్రాక్ట్ను ప్రస్తుతం కేంద్ర గణాంక సంస్థ (CSO) ప్రచురిస్తోంది. ఈ రెంటితో పాటు మరికొన్ని ప్రచురణలలో కూడా ఈ సమాచారం లభ్యం అవుతుంది.

ఈ ప్రచురణలలో రాష్ట్రాల, జిల్లాల వారీగా పరిశ్రమలు, అందులో సంవత్సరం సాడువునా పని చేసేవి, కొన్ని నెలలు మాత్రమే పని చేసేవి, వాటిల్లో పనిచేసే శ్రామికుల సంఖ్య, వారి వేతనాలు మొదలైన సమాచారం సాంధ్యపరచటం జరిగింది.

(ఎ) ఏ విధమైన పరిశ్రమ లేదా ఏ విధమైన స్థాయి పరిశ్రమకు సంబంధించినవి.

(బి) వాణిజ్య లేదా పరిశ్రమ సంబంధమైన లేదా వివిధ స్థాయిల్లో వాణిజ్య లేదా పరిశ్రమకు సంబంధించినవి.

(సి) శ్రామిక సంక్షేమం లేదా శ్రామిక స్థితిగతులకు సంబంధించినవి.

పై విధమైన గణాంకాల సేకరణలో మెరుగైన పారిశ్రామిక గణాంకాలను సేకరించే లక్ష్యంలో గణాంకాల సేకరణ (కేంద్ర) నియమాలు, 1959ను (The Collection of Statistics (Central) Rules, 1959) రూపొందించటం జరిగింది. 1942వ సం॥లో పారిశ్రామిక గణాంకాల చట్టం రూపొందించటం జరిగింది. అయిననూ ఈ చట్టం చాలా కాలం వరకు సమర్థవంతంగా పని చేయలేదు. మొట్టమొదటిగా నిర్మాణ పరిశ్రమల సెన్సస్ను 1946లో చేపట్టడం జరిగింది. అయితే ఈ సెన్సస్ను అమలు చేయటం, అమలు చేసే పద్ధతి పరిమితంగా కొనసాగింది. అందుచేత ప్రభుత్వం 1953వ సం॥లో 1942 పారిశ్రామిక గణాంకాల చట్టం స్థానే గణాంక సేకరణ చట్టం, 1953ను (Collection of Statistics Act 1953) చేయటం జరిగింది. ఈ చట్టం ద్వారా పరిశ్రమలు, వర్తకం, వాణిజ్యాలకు సంబంధించిన కొన్ని విధాలైన గణాంకాల సేకరణకు అవకాశం ఏర్పడింది. ఈ చట్ట ప్రాతిపదికగా కింది గణాంకాలను సేకరించటం జరుగుతుంది.

**2. ఉత్పత్తుల, వ్యయాల గణాంకాలు :** పరిశ్రమలకు సంబంధించిన ఉత్పత్తులు, వ్యయాలకు సంబంధించిన సమాచారం 1946కు ముందు అతి స్వల్పంగా ఉండేది. ఉత్పత్తి సమాచారం కొంత వరకు లభ్యమైనా వ్యయాలకు సంబంధించిన సమాచారం దాదాపు లేవనే చెప్పవచ్చు. ఎందుకంటే ఆ విధమైన సమాచారం తప్పనిసరిగా ఫ్యాక్టరీలు పాండుపరచాలనే నియమం లేదు కాబట్టి, ఒక వేళ లభ్యమైననూ ఆ సమాచారం నమ్మదగినది కాదు. 'మంత్రి స్టాటిస్టిక్స్ ఆఫ్ కాటన్ స్పిన్నింగ్ అండ్ వీవింగ్ ఇన్ ఇండియన్ మిల్స్ (Monthly Statistics of Cotton Spinning and Weaving in Indian Mills)' అనే మాస పత్రికలో పత్తి పరిశ్రమకు సంబంధించిన సమాచారం ప్రచురించటం జరుగుతూండేది. ఈ ప్రచురణలోని సమాచారం 1926 చట్టం ప్రకారం పంపిన సమాచారం కావున గణాంకాలు ఖచ్చితమైనవిగా చెప్పవచ్చు.

జనపనార, కాగితం, ఇనుము, ఉక్కు, పంచదార, అగ్గిపెట్టెలు, బట్టిలు మొ॥లైన ఉత్పత్తుల సమాచారం 'మంత్రి స్టాటిస్టిక్స్ ఆఫ్ ప్రొడక్షన్ ఆఫ్ సెలెక్టెడ్ ఇండస్ట్రీస్ ఆఫ్ ఇండియా (Monthly Statistics of Production of Certain Selected Industries in India)' లో ప్రచురించటం జరిగేది. ఈ సమాచారం మూలం, సేకరణ విధానంలో సారూప్యత లేనందున ఈ గణాంకాల వల్ల పెద్దగా ఉపయోగం లేదు.

దేశంలోని పంచదార, పత్తికి సంబంధించిన గణాంకాలు 'ఇండియన్ ట్రేడ్ జర్నల్ (Indian Trade Journal)' అనే వార పత్రికలో ప్రచురించటం జరిగేది. ఈ పత్రికలో పంచదార, పత్తికి సంబంధించి కొంత సమాచారం ప్రచురించటం జరిగేది. ప్రత్తికి సంబంధించిన సమాచారం 'స్టాటిస్టికల్ ఆబ్స్ట్రాక్ట్ (Statistical Abstract)' లో కూడా లభ్యమయ్యేవి. నూలు పరిశ్రమకు సంబంధించి నూలు వడకటం, మిల్లల్లో తయారయ్యే వస్త్రాల సమాచారంతో పాటు మరికొన్ని పరిశ్రమల సమాచారం కూడా ఇందులో లభ్యమయ్యేది. దీనితో పాటు మరో పత్రిక 'మంత్రి సర్వే ఆఫ్ బిజినెస్ కండిషన్స్ (Monthly Survey of Business Conditions)' లో నూలు, జనపనార, ఇనుము - ఉక్కు, పంచదార ఉత్పత్తులకు సంబంధించిన వివరాలు ప్రచురించబడేవి.

**3. శక్తి వినియోగానికి సంబంధించిన గణాంకాలు :** కొన్ని పరిశ్రమలకు సంబంధించిన గణాంకాలను 'చీఫ్ ఇన్స్పెక్టర్ ఆఫ్ మైన్స్ ధన్ బాద్' వారు 'మంత్రి సర్వే ఆఫ్ బిజినెస్ కండిషన్స్ (Monthly Survey of Business Conditions)' అనే పత్రికలో ప్రచురించేవారు. ఈ పత్రికలోనే ఉత్పత్తికి సంబంధించిన గణాంకాలతో పాటు విద్యుచ్ఛక్తి వినియోగానికి సంబంధించిన గణాంకాలను కూడా ప్రచురిస్తుండే వారు. విద్యుచ్ఛక్తి సంబంధించిన సమాచారాన్ని ఏడు భాగాలుగా అంటే 1. గృహోపసరాలు, 2. వ్యాపార అవసరాలు, 3. పరిశ్రమలు, 4. ట్రాములు, 5. ఎలక్ట్రికల్ రైళ్ళు, 6. వీధి దీపాలు, 7. ఇతరాలు అనే భాగాలుగా ప్రచురించటం 1940 వరకు జరిగేది. ఆ తరువాత 1942 నుంచి మొత్తం విద్యుచ్ఛక్తి ఉత్పత్తి, అమ్మకాలను ఒకే అంకెలో చూపటం జరిగింది. తదనంతరం 1944 నుంచి శక్తి వినియోగానికి సంబంధించిన సమాచారాన్ని భారత ఎలక్ట్రికల్ కమిషనర్ కార్యాలయం అందిస్తోంది.

1942 కు పూర్వం కుటీర పరిశ్రమల గణాంకాలు :- భారతదేశంలో 1942కు పూర్వం కుటీర పరిశ్రమలకు సంబంధించిన గణాంకాలు అసలు లేవనే చెప్పవచ్చు. అందుకు కారణాలుగా -

1. ప్రభుత్వానికి కుటీర పరిశ్రమల పై గల చిన్న చూపు, 2. కుటీర పరిశ్రమ వ్యవస్థలో గల లోపాలను చెప్పవచ్చు

పై వివరణను బట్టి మనం గమనిస్తే 1942కు పూర్వం భారతదేశంలో లభించిన పారిశ్రామిక గణాంకాలు నాణ్యత లేనివి, నమ్మకశ్యము కానివిగా చెప్పవచ్చు. అయితే స్వాతంత్ర్యానికి పూర్వం పారిశ్రామిక గణాంక స్వరూపంలో గణనీయమైన మార్పు 1942 తరువాత అంటే 1942 పారిశ్రామిక గణాంక చట్ట ఆవిర్భావం తరువాతనే వచ్చిందని చెప్పవచ్చు. ప్రస్తుతం పారిశ్రామిక గణాంక చట్టం, 1942ను గురించి వివరంగా తెలుసుకుందాం.

### 15.3 పారిశ్రామిక గణాంక చట్టము - 1942

గణాంక సేకరణకు సరియైన చట్టం కోసం చాలా కాలం నుంచి నిరీక్షిస్తున్నప్పటికీ ఈ చట్టం 1942లో బ్రిటీష్ ఇండియా అంతా వర్తించే విధంగా రూపొందించటం జరిగింది. కేంద్ర ప్రభుత్వం ఈ చట్టాన్ని చేసినప్పటికీ, అమలు జరపటానికి తగిన నిబంధనలను తయారు చేయమని రాష్ట్ర ప్రభుత్వాలకు ఆదేశాలు పంపడం జరిగింది. రాష్ట్ర ప్రభుత్వాలు తమ నిర్ణయాన్ని గెజిట్ ద్వారా తెలియ చేయవలసి ఉంది. ఈ చట్టం వల్ల రాష్ట్ర ప్రభుత్వాలకు కొన్ని ప్రత్యేక హక్కులు సంక్రమించినాయి. వాటిని దిగువ ఇవ్వడం జరిగింది.

1. రాష్ట్ర ప్రభుత్వం ఫ్యాక్టరీలకు సంబంధించిన ఏ విషయాన్ని గురించి అయినా, గణాంకాలను సేకరించవచ్చు.
2. శ్రామికుల సంక్షేమానికి సంబంధించిన విషయాలు, స్థితిగతులు మొదలైన విషయాలను గురించి గణాంకాలను సేకరించే హక్కును పొందినది.

అవి గాక శ్రామికులకు సంబంధించినంత వరకు క్రింద వివరించిన విషయాలను గురించి కూడా గణాంకాలను సేకరించవచ్చు. అవి : 1. వస్తువుల ధరలు, 2. శ్రామికుల హాజరు, 3. గృహ వసతులు, నీటి సరఫరా, ఆరోగ్యము, 4. శ్రామికుల ఋణ బాధ, 5. వేతనాలు ఇతర సంపాదనలు, 6. ప్రావిడెండ్ ఫండు ఇతరములు, 7. ఇతర సౌకర్యాలు, 8. పని చేసే కాలము, 9. శ్రామికుల ఉద్యోగము, 10. పారిశ్రామిక తగాదాలు. 1934 ఫ్యాక్టరీల చట్ట ప్రకారం రిజిస్టరు చేసిన ఫ్యాక్టరీలన్నిటికీ 1942 పారిశ్రామిక గణాంకాల చట్టము వర్తిస్తుంది. గణాంకాల సేకరణకు రాష్ట్ర ప్రభుత్వాలు తగిన సిబ్బందిని ఏర్పాటు చేసుకోవలె. ఈ చట్టం ప్రకారం దేశంలోని అన్ని సంస్థలు ప్రభుత్వం అడిగిన వెంటనే కావలసిన సమాచారాన్ని, నిర్ణీతమైన పద్ధతిలో అందజేసి తీరవలె. ప్రభుత్వ గణాంక సేకరణకు ఏ వ్యక్తినయితే నియమిస్తుందో, ఆ వ్యక్తి తన విధి నిర్వహణ కోసం ఫ్యాక్టరీలోని అన్ని విధాలైన పుస్తకాలు, కాగితాలు, రికార్డులనైనా అడిగి కావలసిన సమాచారాన్ని సేకరించవచ్చు. అయితే ఈ చట్టం కింద అందచేసిన సమాచారమంతా రహస్యంగా ఉంచటం జరుగుతుంది. యజమాని ఇష్టం లేనిదే బహిరంగ పరచడం జరగదు. ఏ వ్యక్తి అయినా అడిగిన సమాచారాన్ని అందచేయకపోయినా, లేదా బుద్ధి పూర్వకంగా తప్పుడు సమాచారాన్ని అందచేసినా, లేదా సమాచార సేకరణలో ఎట్లాంటి అవరోధం కలిగించినా, ఆ వ్యక్తికి రూ॥ 500లు జరిమానా విధించడం జరుగుతుంది. ఎవరైనా కావలసిన సమాచారాన్ని సేకరించి, బుద్ధి పూర్వకంగా తప్పుడు సమాచారం అందచేసినా లేదా సేకరించిన సమాచారం అనుమతి పొందని వ్యక్తులకు అందజేసినా, ఆ వ్యక్తి రూ॥ 1000లు జరిమానాకు, 6 నెలలు ఖైదు శిక్షకు లోనవుతాడు. ఈ చట్టం కింద కేంద్ర ప్రభుత్వం, రాష్ట్ర ప్రభుత్వాలకు గణాంక సేకరణలో సలహాలు ఇవ్వవచ్చు. కావలసిన ఉత్తర్వులు జారీ చేయవచ్చు. గణాంక సేకరణకు నిబంధనలు, పద్ధతులను రాష్ట్ర ప్రభుత్వాలే వేర్వేరుగా నిర్ణయించవలె.

1942 శాసనం చేసినప్పటికీ, అమలు జరపడంలో ఆలస్యం జరిగింది. 1945 వరకు శాసనాన్ని అమలు జరపడానికి ప్రయత్నాలు జరగలేదు. 1945లో DIS (Directorate of Industrial Statistics) నెలకొల్పడంతో ఈ శాసనాన్ని అమలు చేయడానికి అవకాశము ఏర్పడింది. నిర్మాణ పరిశ్రమల పరిగణనకు సంబంధించిన సూత్రాలు (1945).

ప్రభుత్వానికి గణాంక సేకరణకు కావలసిన హక్కులను 1945 పారిశ్రామిక గణాంక చట్టం ఇచ్చింది. 1945 నాటికి అన్ని రాష్ట్ర ప్రభుత్వాలు తగిన రీతిలో నిబంధనలు, సూత్రాలను తయారు చేసుకొన్నాయి. శాసనం అమలు జరపడంలో మొదటి మెట్టుగా రాష్ట్ర ప్రభుత్వాలు పారిశ్రామిక గణాంకాల సేకరణకు నిబంధనలు గజెట్ ద్వారా తెలియజేసినాయి. అన్ని రాష్ట్ర ప్రభుత్వాలు తెలియజేసిన తరువాత, 1946లో నిర్మాణ పరిశ్రమల గణన ప్రారంభమైంది. అన్ని రాష్ట్రాలు సేకరించిన సమాచారాన్ని క్రోడీకరించే బాధ్యత DIS మీద ఉన్నది. ఈ దత్తాంశాన్ని క్రోడీకరించి DIS ఫలితాలను ప్రకటిస్తుంది.

1946లో మొదటిసారిగా చట్టరీత్యా నిర్మాణ పరిశ్రమల పరిగణన జరిగింది. తరువాత ఇది ఒక వార్షిక కార్యక్రమమైంది. కావలసిన సమాచారమంతా ఇంగ్లీషు భాషలోనే సేకరించడం జరిగింది. సేకరించిన సమాచారము గణాంక అధికారుల చేత రహస్యంగా ఉంచడం జరిగింది.

సంవత్సరం చివరిలో ప్రతి ఫ్యాక్టరీ యజమానికి నిర్ణయించిన ప్రత్యేకమైన ఫారాలను (నోటీసుతో సహా) మూడింటిని పంపడం జరుగుతుంది. యజమాని ఫిబ్రవరి నెలాఖరులోగా సమాచారాన్ని రెండు కాపీలతో పంపవలె. ఏదైనా అనివార్య పరిస్థితులలో ఒక నెల అదనంగా గడువు ఇవ్వడం జరుగుతుంది. ఈ చట్టం ప్రకారం ప్రతి ఫ్యాక్టరీ యజమానికి, ప్రభుత్వం అడిగిన సమాచారాన్ని తెలిసినంత వరకు అందజేయవలసిన బాధ్యత ఉంటుంది.

నిర్మాణ పరిశ్రమల గణనకు కావలసిన చీటిని రాష్ట్ర ప్రభుత్వాలను, పరిశ్రమల ప్రతినిధులను సంప్రదించిన మీదటనే తయారు చేయటం జరిగింది. ఈ చీటి అమెరికా, బ్రిటన్ దేశాలలో అనుసరించే పద్ధతి మీద ఆధారపడి ఉంది. నిర్ణయించిన ఫారం ఆరు భాగాలుగా విభజన జరిగింది. అందులో 4 భాగాలు అన్ని పరిశ్రమలకు సామాన్యము, మిగిలిన రెండు భాగాలను పరిశ్రమ, పరిశ్రమకు తేడా ఉంటుంది. కాబట్టి వాటికి అనుగుణంగా రూపొందించడం జరిగింది. ఈ నిబంధనల కింద పరిశ్రమలన్నింటిని 65 భాగాలుగా విభజించడమైనది. అందులో 29 పరిశ్రమలను షెడ్యూల్లు 1లో చేర్చినారు. మిగిలిన 34 పరిశ్రమలకు సంబంధించిన గణన వాయిదా వేయడం జరిగింది. షెడ్యూల్లు 2లో పరిశ్రమల నుంచి సేకరించవలసిన సమాచారాన్ని గురించి వివరాలున్నాయి.

#### షెడ్యూల్లు 1 లోని పరిశ్రమలు :

1. గోధుమ పిండి, 2. బియ్యం మరలు, 3. బిస్కెట్ల తయారీ, 4. పండ్లు, కూరగాయల ప్రక్రియ, 5. పంచదార, 6. బట్టీలు, 7. స్టార్చ్, 8. నూనెలు, 9. రంగులు, వార్నిషులు, 10. సబ్బులు, 11. చర్మము శుభ్రం చేయడం, 12. సిమెంటు, 13. గాజు సామాగ్రి, 14. పింగాణి, 15. ప్లైవుడ్, టీ పెట్టెలు, 16. కాగితము - అట్టలు, 17. అగ్గిపెట్టెలు, 18. నూలు వస్త్రాలు, 19. ఉన్ని వస్త్రాలు, 20. జనపనార, 21. రసాయనాలు, 22. అల్యూమినియమ్, 23. ఇనుము, 24. సైకిళ్ళు, 25. కుట్టుమిషన్లు, 26. Producer Gas Plannts, 27. విద్యుచ్ఛక్తి దీపాలు, 28. ఫ్యానులు, 29. సాధారణ ఇంజనీరింగ్, ఎలక్ట్రికల్ ఇంజనీరింగ్.

పరిశ్రమలు గణనలో 29 పరిశ్రమలను గురించి గణన చేయడం జరిగింది. Producer Gas Plants అనే పరిశ్రమ 1951 నుంచి అంతరించిపోయినందు వల్ల ఈ పరిశ్రమలకు సంబంధించిన సమాచారాన్ని సేకరించడం జరిగింది.

పైన ఉదహరించిన పరిశ్రమల నుంచి దత్తాంశము సంగ్రహించడానికి షెడ్యూల్లు 2లో ప్రతి పరిశ్రమకు ఒక ఫారం ఇవ్వడం జరిగింది. అన్ని పరిశ్రమల సమాచారం కొంత వరకు ఒకే విధంగా ఉన్నప్పటికీ వివిధ పరిశ్రమలలో ఉత్పాదకాలు, ఉత్పత్తులు తేడాలు ఉండటం వల్ల కొంత బేధం ఉంది. నిర్ణయించిన ఫారంను 6 భాగాలుగా విభజించవచ్చు. ఆ భాగాల వివరాలను దిగువ ఇవ్వడమైనది.

1. **సాధారణ సమాచారము :** అన్ని పరిశ్రమలలో ఫ్యాక్టరీల పేర్లు, స్థల నిర్ణయము, చిరునామా, యజమాని పేరు, చిరునామా, మేనేజింగ్ ఏజెంట్లు వగైరా విషయాలను గురించిన బోగట్టా సేకరించడం జరిగింది.
2. **మూలధన స్వరూపము :** అన్ని పరిశ్రమలలోని ఫ్యాక్టరీల ( 31 డిసెంబరు నాటికి) మూలధనము, స్థిర మూలధనము, నిర్వహణ మూలధనానికి సంబంధించిన వివరాలను సేకరించడం జరిగింది.

3. ఉద్యోగము - వేతనము : ఫ్యాక్టరీలలో నియమితులైన శ్రామికులు, వారి వేతనాలు, జీతాలు, పని చేసిన గంటలు (Man hours) మొదలైన విషయాలను సేకరించడమైంది.
  4. శక్తి వినియోగము : ఇంధనము, విద్యుచ్ఛక్తి, బొగ్గు, గ్యాస్, నీరు ఎంత కొన్నది, ఎంత వినియోగించింది మొదలైన వివరాలు సేకరించడం జరిగింది.
  5. వినియోగించిన పదార్థాలు : సంవత్సరం పాడుగునా కొనుగోలు చేసిన ముడి పదార్థాలు, ఉత్పత్తులను చేయడంలో వినియోగించిన ముడి పదార్థాలు, వాటి వివరాలు.
  6. ఉత్పత్తి : ఉత్పత్తి విలువ, పరిమాణము, ఉప ఉత్పత్తుల విలువ పరిమాణము మొదలైన వివరాలను సేకరించడమైనది.
- ఈ గణన కేవలం నిర్మాణ పరిశ్రమలకే పరిమితమైంది. రాష్ట్రాల వారిగా ప్రతి పరిశ్రమకు సమాచారం సేకరించడం జరిగింది.

**1945 నిర్మాణ పరిశ్రమల పరిగణన ధ్యేయాలు :** నిర్మాణ పరిశ్రమల పరిగణన ధ్యేయాలు అనేకమైనప్పటికీ, కొన్నిటిని సాధించడానికి పరిగణన అధికారులు సాధ్యమైనంత వరకు సరైన సమాచారాన్ని సేకరించడానికి ప్రయత్నాలు చేసినారు. ఈ గణాంకాలు ఆర్థిక విధానాలను రూపొందించడంలో తోడ్పడతాయని ఇది వరకే తెలియజేయడమైనది. కొన్ని ముఖ్య ధ్యేయాలు ఏమిటో పరిశీలిద్దాము.

1. ఈ గణాంకాల వల్ల జాతీయాదాయంలో నిర్మాణ పరిశ్రమల మొత్తం వాటా ఎంతో ప్రతి పరిశ్రమ వాటా ఎంతో తెలుసుకోవచ్చు.
2. పరిశ్రమల వ్యవస్థను నిర్ణీతమైన పద్ధతిలో అధ్యయనం చేయవచ్చు.
3. భవిష్యత్తులో పారిశ్రామికాభివృద్ధికి తగిన విధానాలను గురించి నిర్ణయాలు చేయవచ్చు.
4. దేశంలోని పరిశ్రమలను ఏకాంకాలు ప్రభావితం చేస్తున్నాయో విశ్లేషణ చేయవచ్చు.

పై చెప్పిన ఆశయాలను సాధించే నిమిత్తం దిగువ ఇచ్చిన గణాంకాలను 1945 నిబంధనల కింద సేకరించడమైనది. అవి

1. ఫ్యాక్టరీల సంఖ్య, 2. పని చేసిన సగటు దినాలు, 3. ఉత్పాదక మూలధనము - స్థిర మూలధనము - నిర్వహణ మూలధనము, 4. ఉద్యోగం చేసే వ్యక్తులు - శ్రామికులు - శ్రామికులు కాని వారు, 5. జీతాలు, వేతనాలు, అదనపు సౌకర్యాలు, 6. వినియోగించిన ముడి పదార్థాల విలువ, ఇంధనము, విద్యుచ్ఛక్తి విలువలు, 7. ముడి పదార్థాలు, ఇంధనము, రవాణా కోసం అయిన ఖర్చు, 8. ఫ్యాక్టరీకి సంబంధించిన పనులు చేసినందుకు ఇతర సంస్థలకు ఇచ్చిన మొత్తము, 9. ఉత్పత్తి - మొత్తము విలువ (ఉప ఉత్పత్తులతో సహా), 10. ఇతర సంస్థలకు సేవ చేసినందుకు లభించిన ఆదాయము, 11. ఫ్యాక్టరీ నుంచి ఉత్పత్తులను రవాణా చేసినందుకైన ఖర్చు, అదనపు ఏజెంట్లకు ఇచ్చిన కమీషను, 12. తరుగుదల, 13. నిర్మాణ ప్రక్రియ వల్ల ప్రాప్తించిన ఉత్పత్తి విలువ (Value added by manufacture) =  $\{(9-11) + 10 - (6 + 7 + 8 + 12)\}$

### 15.4 స్వాతంత్ర్యనంతరం అభివృద్ధి పారిశ్రామిక గణాంకాలు

భారతదేశానికి స్వాతంత్ర్యం వచ్చిన తరువాత పారిశ్రామిక వ్యవస్థలో విప్లవాత్మకమైన మార్పులు సంభవించాయి. ప్రభుత్వ రంగం ఏర్పాటు చేయడం ద్వారా పారిశ్రామిక అభివృద్ధిలో ప్రభుత్వం కూడా భాగస్వామి అయ్యింది. 1945లో చేసిన ఉత్పత్తి లేదా నిర్మాణ పరిశ్రమల గణనకు సంబంధించిన ఫలితాలు కూడా 1947 నాటికి వచ్చాయి. ఆ తరువాత ప్రభుత్వం కూడా 1948లో తన పారిశ్రామిక విధానాన్ని ప్రకటించటం జరిగింది.

**నిర్మాణ పరిశ్రమ గణనలో లోపాలు (1945) :**

1945లో నిర్మాణ పరిశ్రమల గణన కింది లోపాలను కలిగి ఉంది.

1. 63 పరిశ్రమలో 28 పరిశ్రమల సమాచారం మాత్రం లభ్యమౌతుంది.

2. పారిశ్రామిక వేత్తలు అడిగిన ప్రశ్నలన్నింటికీ సమాధానం ఇచ్చేందుకు ఇష్టపడటం లేదు.
3. ఆంగ్లం రాని చిన్న చిన్న పరిశ్రమ యజమానులకు ఆంగ్లంలో సమాధానం రాయటం కష్టంగా ఉండేది.
4. ఈ గణనను ప్రభుత్వ యాజమాన్య పరిశ్రమలకు, కర్మాగారాలకు వర్తింప చేసేవారు కాదు.
5. 1946 నుంచి 1956 వరకు జరిగిన వార్షిక గణనలలో లెక్కించిన భూ భాగం ఒకటి కానందున ఆ గణాంకాలు సోల్వే అవకాశం లేకపోయింది.
6. పరిశ్రమ గణన చేసేటప్పుడు వివిధ పదాలకు ఉదా|| శ్రామికులు, వేతనాలు మొ|| ఉపయోగించిన నిర్వచనాలు సంతృప్తికరంగా లేవు.
7. గణాంక ఫలితాలు కూడా చాలా ఆలస్యంగా ప్రచురించటం వల్ల వాటి ప్రయోజనం చాలా పరిమితంగా ఉండేవి.

ఈ విధమైన లోపాలతో నిర్మాణ/ఉత్పత్తి పరిశ్రమల గణాంకాలు ఉండేవి. అయినప్పటికీ స్వాతంత్ర్యానంతరం 1951 నుంచి పంచవర్ష ప్రణాళిక అమలుకు, ప్రభుత్వం రూపొందించిన పారిశ్రామిక విధానాలకు ఈ గణాంకాలే ఎంతో సహాయపడ్డాయి. ఈ విధమైన గణాంకాలను మెరుగుపరుచుకునే ఉద్దేశంతో 1953లో గణాంకాల సేకరణ చట్టాన్ని రూపొందించటం జరిగింది.

**గణాంకాల సేకరణ చట్టం, 1953 :** పారిశ్రామిక గణాంకాల చట్టం, 1942 ప్రకారం ఉన్న పరిశ్రమల్లో కేవలం 28 పరిశ్రమల్లో మాత్రమే గణాంకాలు సేకరించటం జరిగింది. స్వాతంత్ర్యానంతరం అనేక పరిశ్రమలు ప్రభుత్వ రంగంలో ప్రారంభం అయ్యాయి. అయితే ప్రభుత్వ రంగ పరిశ్రమల నుంచి గణాంకాలను సేకరించే హక్కు 1942 చట్టంలో లేదు. దీనితో పాటు భారత ప్రభుత్వానికి 1952లో విదేశీయుల పెట్టుబడి, స్వదేశీ పెట్టుబడులు, విదేశ మరయు స్వదేశ ఉద్యోగస్తులకు సంబంధించిన వివరాలను తెలుసుకోగోరి ఉత్తర్వులు జారీ చేస్తే ఏ సమాధానం రాలేదు. ఈ పరిస్థితుల నేపథ్యంలో 1953 గణాంక సేకరణ చట్టం రూపొందించబడింది. ఇది యావత్ భారతదేశానికి వ్యాపార, వాణిజ్య, పారిశ్రామిక తదితర సంస్థలన్నిటికీ వర్తిస్తుంది.

ఈ 1953 గణాంక సేకరణ చట్టం ప్రకారం :

1. ఏ పరిశ్రమ లేదా ఏ తరగతి పరిశ్రమకు సంబంధించిన ఏ విషయానికి సంబంధించిన వివరాలవైనా సేకరించవచ్చు.
2. దేశంలో రిజిస్టరు అయిన ఏ వాణిజ్య లేదా వ్యాపార సంస్థకు సంబంధించిన సమాచారాన్నయినా సేకరించవచ్చు.
3. ఇతర దేశాలతో వ్యాపారం చేస్తున్న అన్ని పారిశ్రామిక యూనిట్ల నుంచి సమాచారం రాబట్టే అధికారం ప్రభుత్వం పొందింది.
4. కార్మిక సంక్షేమాన్ని తెలియజేసే విషయాలైన వస్తువుల ధరలు, హాజరు, గృహవసతులు, నీరు, ఆరోగ్యం, ఋణాలు, వేతనాలు, పని గంటలు, పారిశ్రామిక తగాదాలు మొదలైన విషయాల వివరాలను సేకరించవచ్చు. వాస్తవానికి 1953 చట్టం అమలుపరచటం 1956 నవంబరు 10వ తారీఖున జరిగింది. అయితే గణాంక సేకరణ కోసం అధికారిని నియమించటం ఈ చట్ట నియమావళిని నిర్ణయించటం వంటి చర్యలు 1959కి కాని పూర్తి కాలేదు.

**15.4.1 గణాంక సేకరణ నిబంధనలు (1959) :** 1945 నిర్మాణ పరిశ్రమల కన్నా మెరుగైన నిబంధనలు 1959లో రూపొందించబడ్డాయి. ఏ విషయాన్ని చట్టరీత్యా సేకరించి వలసి ఉందో సెక్షన్ 4లో సవివరంగా తెలియజేయడం జరిగింది. పరిస్థితుల్లో వచ్చే మార్పులు కనుగుణంగా సమాచారం సేకరించేందుకు జాబీతాలను మార్చుకొనే అవకాశం కూడా కల్పించటం జరిగింది. గణాంకాలను సేకరించే పద్ధతులు, ఫాక్టరీ యజమానులకు నోటీసు పంపే విధానం, వారి వద్ద నుంచి సమాచారాన్ని సేకరించే విధానాన్ని సెక్షన్ 3, 4లో తెలపటం జరిగింది. ఫాక్టరీ యజమానులు లేదా పారిశ్రామిక వాణిజ్య వ్యవస్థలకు గణాంక అధికారులు నోటీసును రిజిస్టర్డ్ పోస్టు ద్వారా పంపుతారు. నోటీసు అందిన తరువాత గడువు కాలంలోపు నివేదికను పోస్టు చేసి పంపవలసి ఉంటుంది.

గణాంక అధికారులు అడిగినప్పుడు యజమానులు సెక్షన్ 4 ప్రకారం దిగువ విషయాలను తెలియజేయాలి. అవి :

1. యజమాన్యం నిర్వహణ, 2. స్థిర మూలధనం, 3. నిర్వహణ మూలధనం, 4. ఉద్యోగాలు, 5. వేతనాలు, 6. కార్మికుల అదనపు సౌకర్యాలు, 7. విద్యుచ్ఛక్తి, 8. స్థాపిత శక్తి, 9. ముడి పదార్థాలు, 10. రసాయనాలు, 11. పాకింగ్, 12. ఉత్పత్తులు, 13. ఇంధనం, నిల్వలు, భవనాలు, తరుగుదల మొదలైనవి.

సెక్షన్ 4 ప్రకారం గణాంక సేకరణ అధికారిగా NSS చీఫ్ డైరెక్టరును నియమించటం జరిగింది. రాష్ట్రంలో జరిగే గణాంక సేకరణకు ఆర్థిక, గణాంక శాఖ బ్యూరో డైరెక్టరు సహకరిస్తారు. ఈ విధంగా సమాచారాన్ని సేకరించినందు వల్ల కేంద్ర ప్రభుత్వం సేకరించే సమాచారం రాష్ట్ర ప్రభుత్వాలకు కూడా తెలుస్తుంది.

**15.4.2 నిర్మాణ పరిశ్రమల శాంపిల్ సర్వే :** నేషనల్ శాంపుల్ సర్వే వారు 1951 నుంచి 1958వ సం॥ము వరకు ఉన్న నిర్మాణ పరిశ్రమలలో 10 శాతం శాంపుల్ గా 6 సర్వేలను నిర్వహించారు. ఈ సర్వే ఫాక్టరీ చట్టం కింద నమోదైన అన్ని సంస్థల నుంచి వివరాలను సేకరించారు. నిర్మాణ పరిశ్రమలలో ఉన్న మొత్తం 63 పరిశ్రమలలోని 32, 767 (సుమారు 10 శాతం) ఫాక్టరీలను శాంపిల్ గా తీసుకొని, ఎకరాలను సేకరించటం జరిగింది. ఫాక్టరీలకు సంబంధించిన మూలధన నిర్మాణం, ఉపాధి, వేతనాలు, ఉత్పాదకాలు, ఉత్పత్తి విలువ మొదలైన అంశాలకు సంబంధించి వివరాలు ఈ సర్వేలో సేకరించటం జరిగింది. ఈ సర్వేలో సేకరించిన గణాంకాలు ఎక్కువయదార్థత కలిగినవిగా భావించటం జరుగుతోంది. ఆ కారణం వల్లనే జాతీయాదాయ కమిటీ వారు జాతీయాదాయాన్ని మదింపు కమిటీ వారు జాతీయాదాయాన్ని మదింపు చేయటానికి ఈ గణాంకాలను ఉపయోగించటం జరిగింది.

**గణాంకాల ఐచ్ఛిక సేకరణ పథకం (Voluntary Scheme of Collection of Statistics) :** ఈ పథకం కింద ఫాక్టరీ యజమానులు స్వచ్ఛందంగా వారి ఫాక్టరీకి లేదా సంస్థకు సంబంధించిన వివరాలను ప్రభుత్వానికి పంపవలసి ఉంటుంది. ఈ విధంగా పంపిన వివరాలను 'మంత్రి ఇండస్ట్రీస్ ఆఫ్ ఇండియా (Monthly Statistics of Productio of Selected Industries)' అనే మాస పత్రికలో ప్రకటించటం జరుగుతూ ఉండేది. ఈ పథకంలో మొదట 15 పరిశ్రమలకు ఆ తరువాత ఈ ఐచ్ఛిక పథకం 90 పరిశ్రమలకు విస్తరించటం జరిగింది. ఈ 90 పరిశ్రమలను మూడు ముఖ్య భాగాలుగా విభజించటం జరిగింది. అవి : 1. గనులు, క్వారీలు, 2. నిర్మాణాత్మకమైనవి, 3. విద్యుద్దీపాల పరిశ్రమలు

ఈ భాగాలలో నిర్మాణాత్మక పరిశ్రమలే ఎక్కువ భాగం ఉంటాయి. ఈ నిర్మాణాత్మక పరిశ్రమల్లో గోధుమ పిండి, వనస్పతి, సిగరెట్లు, నూలు వస్త్రాలు, చెప్పులు, కాగితం, చర్మాలు, రబ్బరు, రసాయనాలు, గాజు, సిమెంటు, ఇనుము, ఉక్కు, విద్యుత్ పరికరాలు, రవాణా సామాగ్రి పరిశ్రమలు మొదలైనవి ఉంటాయి.

ఈ పథకంలో లభ్యమయ్యే గణాంకాలు అన్ని వివరాలను కలిగి ఉండేవి కావు. అంటే లభ్యమయ్యే గణాంకాలలో ఏకరూపత ఉండేది కాదు. అందుచేత DIS వారు ఈ సమాచారం కోసం అనేక మంది మీద ఆధారపడవలసి వచ్చేది. వీరిలో ముఖ్యులు : 1. కోల్ కమిషనర్ (Coal Commissioner), 2. చీఫ్ ఇన్స్పెక్టర్ ఆఫ్ మైన్స్ (Chief Inspector of Mines), 3. వెజిటబుల్ ఆయిల్ ప్రొడక్ట్స్ కంట్రోలర్ (Vegetable Oil Products Controller), 4. టీ బోర్డు (Tea Board), 5. కాఫీ బోర్డు (Coffee Board), 6. సాల్ట్ కమిషనర్ (Salt Commissioner), 7. టెక్స్టైల్ కమిషనర్ (Textile Commissioner), 8. ఇండియన్ సెంట్రల్ జూట్ కమిటీ (Indian Central Jute Committee), 9. జియోలాజికల్ సర్వే ఆఫ్ ఇండియా (Geological Survey of India). రాష్ట్ర గణాంక శాఖలు, ప్రణాళికా సంఘం, కేంద్ర గణాంక వ్యవస్థ (CSO) మొదలైన వారి నివేదికల ఆధారంగా DIS వారు ఉత్పత్తి గణాంకాలను ప్రచురించేవారు.

**15.4.3 పరిశ్రమల వార్షిక సర్వే (Annual Survey of Industries or ASI) :** 1959వ సం॥ము నుంచి 'పరిశ్రమ వార్షిక సర్వే' అనే పథకం ద్వారా పరిశ్రమల గణాంకాలను సేకరించటం ప్రారంభం అయ్యింది. ఈ పథకం రూపొందించక పూర్వం పారిశ్రామిక గణాంకాలను సేకరించి, క్రోడీకరించి, వర్గీకరించి, విశ్లేషించే బాధ్యత రాష్ట్ర ప్రభుత్వానికి ఉండేది. 1959 తరువాత ఈ బాధ్యత రాష్ట్ర ప్రభుత్వాల నుంచి తొలగి పోయింది.



పరిశ్రమల వార్షిక సర్వే రెండు రకాలైన విచారణలను జరుపుతుంది. అవి -

1. శక్తిని వినియోగిస్తూ, ఒక రోజుకు 50 మంది లేదా అంతకన్నా ఎక్కువ కార్మికులను నియమించి లేదా శక్తిని వినియోగించకుండా 100 మంది లేదా అంతకన్నా ఎక్కువ మంది శ్రామికులను నియమించి పని చేయించే ఫాక్టరీలకు సంబంధించిన గణాంకాలు.
2. శక్తిని వినియోగిస్తూ ఒక రోజుకు 10 నుంచి 49 మంది శ్రామికులను నియమించి లేదా శక్తిని వాడకుండా 20 నుంచి 49 మంది శ్రామికులను నియమించి పని చేయించే ఫాక్టరీలకు సంబంధించిన శాంపిల్ విచారణలు.

ఈ వార్షిక సర్వే 1948 ఫాక్టరీల చట్టం కింద నమోదై, లైసెన్సు పొందిన ఫాక్టరీల కన్నిటికీ వర్తిస్తుంది. అయితే ఇసుప ఖనిజాల గనులు రాయి, సున్నం, ఇసుక క్వారీలు, ఉప్పు కొటార్లు, రసాయనాలు, ఎరువులు మొదలైన వాటి నుంచి సేకరించడం జరగదు. ASI సేకరించే సమాచారం.

గతంలో CMI నిర్మాణ రంగ పరిశ్రమలు (1946 నుంచి 1956 వరకు), శాంపిల్ సర్వే SSMI (1951 నుంచి 1958 వరకు) సేకరించే సమాచారాన్నే ASI కూడా సేకరించటం జరుగుతుంది. అయితే మరికొన్ని అంశాలను చేర్చటం జరిగింది. ఈ పథకంలో కింది అంశాలకు సంబంధించిన సమాచారాన్ని సేకరించటం జరుగుతుంది.

1. మూలధన స్వరూపం : సర్వే సం॥లో ఉన్న స్థిర మూలధనం, నిర్వహణ మూలధనం, మార్పులు, చేర్పులు, కొత్తగా ప్రకటించిన వాటాల ద్వారా సమకూర్చిన మూలధనం మొదలైన సమాచారం.
2. ఉద్యోగులు, వేతనాలు : ఒక సం॥లో ఫాక్టరీలో సగటు ఉద్యోగులు, ఉద్యోగాల్లో రకాలు, వేతనాలు, కార్మికులు మరియు కార్మికుల్లో రకాలు, పారిశ్రామిక సంబంధ బాంధవ్యాలు, శిక్షణకు సంబంధించిన వివరాలు.
3. ఉత్పాదకాలు : ఫాక్టరీల్లో ఉపయోగించే ఉత్పాదకాలైన ముడి పదార్థాల వినియోగం, ఇంధనం ఖర్చు, రసాయనాలు, పాకింగ్ సామాన్లు ఇతర సంస్థలకు చేసిన విలువ మొదలైన సమాచారం.
4. ఉత్పత్తులు : ఉత్పత్తుల పరిమాణం, విలువ, ఉప ఉత్పత్తులు, మధ్య రకపు వస్తు విలువ, ఇన్వెంటరీల విలువ, ఇతర సంస్థలకు చేసిన విలువ, అసంపూర్ణ విలువ మొదలైన వివరాలు.
5. నిల్వలు : ముడి పదార్థాల, ఉత్పత్తుల ఇంధనాల నిల్వల పరిమాణము.
6. స్థాపిత ఉత్పత్తి శక్తి : ఫాక్టరీ స్థాపిత శక్తి పరిమాణం, ఆశించిన అదనపు ఉత్పాదకతా శక్తి, మిగిలిన శక్తి మొదలైన వివరాలు.
7. శక్తి, సామాగ్రి : ఉపయోగించే ముఖ్యమైన శక్తి యంత్రాంగాలు, స్టీమ్, ఇంజన్, విద్యుత్ మోటార్లు, డైనమోలు మొదలైన సమాచారం.
8. అమ్మకాలు : అమ్మకాల పరిమాణం వివిధ రకాలైన వినియోగదార్ల వివరాలు.
9. పరిశోధన : పరిశోధనకు ఉన్న సదుపాయాలు మరియు వివరాలు.

ASI సేకరించిన సమాచారాన్ని 10 సంపుటాలుగా ప్రచురితమౌతుంది. అవి -

1. జాబితాలు - షెడ్యూల్లు, అనుబంధాలు, 2. ఆహార పదార్థాలు తయారు చేసే పరిశ్రమలు(20) పానీయాలు తయారు చేసే సంస్థలు (21), 3. పొగాకు సిగరెట్లు తయారు చేసే సంస్థలు - నూలు వస్త్రాల పరిశ్రమలు, 4. చెప్పల పరిశ్రమ, రెడీమేడ్ దుస్తులు, కార్కులు, బిరడాలు తయారు చేసే సంస్థలు, ఫర్నిచర్, కాగితపు అట్టలు, అచ్చు, చర్మము, టీన్ రేకు సంస్థలు, 5. రసాయనాలు - రసాయనిక ఉత్పత్తులు, 6. పెట్రోలియమ్, బొగ్గు పరిశ్రమలు, 7. మూల లోహాల పరిశ్రమ - రవాణా సామాగ్రి తయారు చేసే పరిశ్రమలు, 8. నిర్మాణ పరిశ్రమకు యంత్రాలు తయారు చేసే పరిశ్రమ, 9. విద్యుత్ పరికరాలు, పనిముట్లు, 10.

ఇతరాలు - విద్యుచ్ఛక్తి, గాస్, ఆవిరి తయారుచేసే పరిశ్రమలు. వీటిని ప్రచురించే బాధ్యత భారతీయ గణాంక సంస్థ మరియు ఇండియన్ స్టాటిస్టికల్ ఇన్స్టిట్యూట్ మీద ఉంది.

**ASI సర్వేలోని లోపాలు :** ASI ప్రారంభించక పూర్వం గణాంకాలను సేకరించే నిర్మాణ పరిశ్రమల పరిగణన, (CMI), NSS పరిగణన (SSMI) చేసే విధంగా ASI సర్వే కూడా గణన చేయటం జరిగింది. అందుచేత CMI, SSMI పరిగణలో ఉన్న లోపాలే ASI లో కూడా ఉన్నాయి. అందులో ముఖ్యమైనవి -

1. కార్మికుల విభజన నైపుణ్యం లేనివారు నిపుణులు అనే విభజన, పదాల నిర్వచనలు సరైందిగా లేదు.
2. ఫాక్టరీ విలువలు, మార్కెట్ విలువలు మొదలైన భావనల నిర్వచనం ఇతిమిద్దంగా లేదు.

పై విధమైన లోపాలున్నందున దత్తాంశాన్ని పోల్చేందుకు అవకాశం తక్కువ. అయినా మిగిలిన గణాంక వివరాలు అనగా మూలధనం, శ్రామికుల వివరాలు, ఉత్పాదకాలు మొదలైనవి సక్రమంగానే ఉన్నవి. పైన సూచించిన దోషాలు తొలగించే చర్యలు తీసుకున్నచో ASI గణాంకాలు మరింత ప్రయోజనకరంగా ఉంటాయి.

**15.4.4 కంట్రోల్ ఆఫ్ కాపిటల్ ఇస్యూస్ వారి గణాంకాలు :** కంట్రోల్ ఆఫ్ కాపిటల్ ఇస్యూస్ వారి వద్ద మూలధనానికి సంబంధించిన వివరాలు లభ్యమవుతాయి. పారిశ్రామిక (అభివృద్ధి) చట్టం 1950 క్రింద కొత్త సంస్థలు, ప్రస్తుతం ఉన్న సంస్థలు వాటికి అవసరమైన మూలధనాన్ని ప్రజల దగ్గర నుండి సేకరించడానికి దరఖాస్తు పెట్టుకోవలె. ఆ దరఖాస్తులను పరిశీలించి తగిన విధంగా ప్రభుత్వం ఉత్తర్వులు జారీ చేస్తుంది. ఏ సంస్థలకు ఎంత వరకు మూలధనం సేకరించడానికి అనుమతి ఇవ్వడమైంది అనే విషయానికి సంబంధించిన గణాంకాలు (క్వార్టర్ల స్టాటిస్టిక్స్ ఆన్ ది వర్కింగ్ ఆఫ్ కాపిటల్ ఇస్యూ కంట్రోల్ ) అనే త్రై మాసిక పత్రికలో ప్రచురించడమవుతుంది. పారిశ్రామిక సంస్థల, మిగిలిన సంస్థల వివరాలు కూడా లభిస్తాయి. కొత్త కంపెనీలు మొదటిసారిగా జారీ చేసిన మూలధనం వివరాలు, పని చేస్తున్న సంస్థల దరిమిలా జారీ చేసిన మూలధనం వివరాలు, మూలధనం సేకరించిన వివిధ మార్గాలు (అంటే షేర్లు, డిబెంచర్లు, బోనసు షేర్లు వగైరా) వివరాలు కూడా లభిస్తాయి. ప్రభుత్వ సంస్థలు, ప్రయివేటు సంస్థలకు గురించిన వివరాలు కూడా ఉన్నాయి. ప్రభుత్వం నెలకొల్పిన వివిధ ఆర్థిక సంస్థలు, ప్రతి సంవత్సరం వార్షిక నివేదికలో ఎంత వరకు ఋణాలు జారీ చేసింది, ఎంత మూలధనం స్థిర మూలధనంగా వినియోగించి, రాష్ట్రాల వారీగా పరిశ్రమ వారీగా లభిస్తాయి. IFC, SFC, LIDC, ICIC, RFC మొదలైనవి పారిశ్రామిక విత్తానికి సంబంధించిన సమాచారాన్ని అందజేస్తున్నాయి.

1. **కంపెనీ న్యాయశాస్త్ర విభాగము వారి గణాంకాలు (Department of Company Law Administration):-** జాయింట్ స్టాక్ కంపెనీలకు సంబంధించిన సమాచారాన్ని కంపెనీ న్యాయ శాస్త్ర విభాగము (Company Law Department) రెండు పత్రికలలో ప్రచురిస్తుంది. అవి : ఎ. పారిశ్రామిక ఉత్పత్తి సూచనలు, మంత్రి బ్లా బుక్ ఆన్ జె.యస్. కంపెనీస్ ఇన్ ఇండియా (Monthly Blue Book on J.S. Companies in India) బి. జాయింట్ స్టాక్ కంపెనీస్ ఇన్ ఇండియా (Joint Stock Companies in India (Annual))

కంపెనీలను వివిధ తరగతులుగా విభజించి ప్రతి తరగతికి చెందిన కంపెనీల మూలధనం మొదలైన వాటి వివరాలు ప్రచురిస్తున్నారు. అయితే ఈ సమాచారం అంత ఉపయోగకారి కాదు. ఎందుకంటే ఈ నాడు పారిశ్రామిక విత్తము, ఆర్థిక సంస్థలు ఇచ్చే ఋణాల వల్ల ప్రాప్తిస్తుంది. కొన్ని సందర్భాలలో స్వయం ధన సహాయం ద్వారా (Self Financing) ధనం చేకూర్చడం జరుగుతుంది. పారిశ్రామిక విత్తాన్ని గురించి పూర్తిగా తెలుసుకోవలసినంత మిగిలిన వనరుల ద్వారా ప్రాప్తించే ధన సహాయం ఎంతో తెలియాలి. కేవలం మూలధన వివరాలు చాలవు.

2. **రిజర్వు బాంకు వారి గణాంకాలు :** రిజర్వు బాంకు కూడా కొన్ని వివరాలను ప్రచురిస్తూ ఉంటుంది. రిజర్వు బాంకు ఇచ్చిన ఋణాలు, ఇతర బాంకులు పరిశ్రమలకిచ్చిన ఋణాల వివరాలను, రిజర్వు బాంకు ప్రతి నెల ప్రచురిస్తుంది. రిజర్వు బాంకు గణాంక శాఖ ప్రత్యేకమైన పరిశోధన జరిపి, వివరాలు తెలియజేస్తుంది. 1951 - 52లో 750

జాయింట్ స్టాక్ కంపెనీల లాభ నష్టాల అకౌంట్లు, ఆస్తి - అప్పుల పట్టీలను గురించి విశ్లేషణ జరిపి నిర్ధారణ చేసింది. 1955 నుంచి 1001 జాయింట్ స్టాక్ కంపెనీలకు సంబంధించిన విశ్లేషణ జరుపుతుంది.

1. పారిశ్రామిక ఉత్పత్తి సూచీలు (Indices of Industrial Production): పారిశ్రామిక ఉత్పత్తి సూచీ సంఖ్యలు దేశ ఆర్థికాభివృద్ధిని సూచించే సాధనాలలో ముఖ్యమైనవి. ప్రణాళికారంభం నుంచి పరిశ్రమలు అభివృద్ధి చెందుతూనే ఉన్నాయి. అధికార, అనధికార సంస్థలు పారిశ్రామిక ఉత్పత్తి సూచీ సంఖ్యలను తయారు చేస్తూనే ఉన్నాయి. అందులో పారిశ్రామిక ఉత్పత్తి సూచీ సంఖ్య అత్యంత ప్రధానమైంది.

1937 సంవత్సరం ఆధారంగా చేసుకొని ప్రభుత్వ ఆర్థిక సలహాదారు (Economic Advisor) మొట్ట మొదటిసారిగా ఈ సూచీలను నిర్మించినారు. గనులు, నిర్మాణ పరిశ్రమలు, విద్యుత్ పరిశ్రమలు మొదలైనవి 15 పరిశ్రమలను ఇందులో చేర్చటం జరిగింది, కొన్నాళ్ళకు ఆపి వేయడం కూడా జరిగింది. పారిశ్రామిక గణాంక శాఖ (DIS) 1946ను ప్రాతిపదిక సంవత్సరంగా తీసుకొని 1949 లో దీనిని నిర్మించినది. అందులో 20 పరిశ్రమలను చేర్చడం జరిగింది. "Monthly Statistics of Production of Selected Industries of India" లో లభించే దత్తాంశాన్ని ఆధారంగా తీసుకోవడం జరిగింది. 1946లో నిర్మాణ పరిశ్రమల పరిగణనలో లభించిన CMI దత్తాంశాన్ని ఎక్కువగా వాడటం జరిగింది. 1956 నుంచి ఈ సూచీ సంఖ్య ప్రతి పరిశ్రమకు ప్రత్యేకంగాను, అన్ని పరిశ్రమలకు సమిష్ట గాను ప్రచురించడం జరిగింది. 1956 నుంచి ఈ సూచీ సంఖ్య నిర్మాణాన్ని నిలిపి వేయడమైంది. 1955లో 1951ని ప్రాతిపదిక సంవత్సరంగా తీసుకొని కొత్త సూచీ సంఖ్యను ప్రచురించినారు. ఇందులో U.N. వారు విభజించిన రీతిగా 18 ముఖ్యమైన ఉత్పత్తి పరిశ్రమలను చేర్చి మొత్తం దేశ ఉత్పత్తికి, ఈ పరిశ్రమలు సేకరించిన ఉత్పత్తి విలువ ఎంతో, ఆ నిష్పత్తిలో తగినంత ప్రాధాన్యాన్ని (Weight) ఇవ్వడమైంది. కావలసిన దత్తాంశము 1951 (CMI), (SSMI) పరిగణనల వల్ల లభించిన దానినే ఉపయోగించినారు.

1951ని ప్రాతిపదిక సంవత్సరంగా పరిగణించడం సమజసం కాదని, 51 నుంచి కొత్త పరిశ్రమలు అభివృద్ధి చెందడం వల్ల సూచీ సంఖ్యలను పునర్వ్యవస్థీకరించవలెనని ప్రభుత్వం ఒక సంఘాన్ని నియమించింది. కొత్త వస్తువులను సూచీ సంఖ్యలో చేర్చవలసిన అవసరం ఏర్పడింది. 1956 ప్రాతిపదిక సంవత్సరంగా (Base Year) 201 విషయాలను చేర్చి ఆధునిక పారిశ్రామిక ఉత్పత్తి సూచీ సంఖ్యను నిర్మించినారు (Rasied Index of Industrial Production). 1960 నాటికి పారిశ్రామిక విప్లవం రావడంతో అంతకు ముందున్న సూచీ సంఖ్యలు యధార్థ పరిస్థితిని తెలియజేయలేకపోతున్నాయి. అందువల్ల ప్రభుత్వం అనేక సంఘాలతో సంప్రదింపులు జరిపిన మీదట 1956 నుంచి ప్రాతిపదిక సంవత్సరాన్ని 1960కి మార్చడమైనది.

1. నెలవారీ సూచీ సంఖ్యలకు 324 పరిశ్రమలు (items), సంవత్సరం సూచీ సంఖ్యకు 449 పరిశ్రమలను చేర్చడం జరిగింది. అదనంగా ఉన్న 125 (449 - 324) పరిశ్రమలకు నెలవారీ దత్తాంశము దొరకదు.
2. 1960 ప్రాతిపదిక సంవత్సరము.
3. భారత అంక గణిత సగటును, సూచీ సంఖ్య నిర్మాణంలో ఉపయోగిస్తున్నారు.
4. వివరాలు లభించే వనరులు - ASI వార్షిక సర్వే 1960 ఇండియన్ బ్యూరో ఆఫ్ మైన్స్, కాపీ బోర్డు, టీ బోర్డు, సాల్ట్ కమీషనరు మొదలైన వారు సమర్పించే సమాచారాన్ని ఆధారంగా తీసుకొని ప్రాధాన్యాన్ని (weight) ఇవ్వటం జరిగింది.

ఈ సూచీ సంఖ్యను Monthly Statistics of The Production of Selected Industries in India అనే పుస్తకంలో ప్రచురించడం జరుగుతుంది.

ఈస్టర్న్ ఎకనామిస్టు వారు ప్రచురించే ఉత్పత్తి సూచీ సంఖ్య (Eastern Economist Index of Industrial Production): ఇది ఢిల్లీ నుంచి ప్రచురితమయ్యే మాస పత్రిక. ఈ పత్రిక వారు 1948 నుంచి ఉత్పత్తి సూచీ సంఖ్యను నిర్మించి, ప్రచురించడం మొదలు పెట్టినారు. 1939ని ప్రాతిపదిక సంవత్సరంగా తీసుకొన్నారు. దీనిని నెలకొకసారి ప్రచురించే వారు. 11 వస్తువులను తీసుకొని 3

ముఖ్య భాగాలుగా విభజించినారు. అవి : 1. టెక్స్టైల్స్ - నూలు మరియు జనపనార, 2. ఇంధనము, శక్తి, 3. ఇతరాలు అనగా ఉక్కు, దుక్కు ఇనుము, కాగితము, అగ్గిపెట్టెలు, గంధకము, పంచదార మొదలైనవి. పారిశ్రామిక కార్యకలాపాల కాపిటల్ ఇండెక్స్ "Capital Index" of Industrial activity (Calcutta) పారిశ్రామిక చైతన్యాన్ని గురించి తెలియజేయుట, Capital అనే పత్రిక సూచీ సంఖ్యను నెలకొకసారి ప్రచురిస్తుంది. మొదట 1935ను ప్రాతిపదిక సంవత్సరంగా తీసుకొని ప్రచురించినది. తరువాత 1953ను ప్రాతిపదిక సంవత్సరంగా తీసుకొని 12 ముఖ్యమైన పరిశ్రమల ఉత్పత్తి సూచీ సంఖ్యలను ప్రచురించసాగింది. అవి : 1. పంచదార, 2. టీ, 3. జనపనార వస్త్రాలు, 4. నూలు వస్త్రాలు, దారము నేత, 5. సిమెంటు, 6. బొగ్గు, 7. ఇనుము, ఉక్కు, ముడి ఇనుము మరియు ఉక్కు, 8. కాగితము - బట్టలు, 9. టైర్లు, 10. ఆటో మొబైల్స్, 11. సైకిళ్ళు, 12. విద్యుచ్ఛక్తి రవాణా మరియు రైల్వేలు.

**పారిశ్రామిక ఉత్పత్తుల సూచికలు :-** పారిశ్రామిక మార్పులు తెలియజేస్తూ capital అనే పత్రిక సూచీ సంఖ్యను నెలకొకసారి ప్రచురిస్తుంది. దీనిలో పరిశ్రమలు, బొగ్గు, ఉత్పత్తి, దేశంలోని వాణిజ్యం, ద్రవ్య గణాంకాలు, విదేశీ వ్యాపారం, నౌకాయానం చేర్చారు. ఈ సూచిక ఉద్దేశం ప్రస్తుత ఆర్థిక పరిస్థితిని తెలియజేయడం. రెండో ప్రపంచ యుద్ధం తరువాత వచ్చిన మార్పులు దృష్ట్యా ఈ సూచికను కొంత మార్పు చేసి ప్రచురిస్తున్నారు. దీనిలో గమనించదగ్గది పారిశ్రామిక ఉత్పత్తిని దానికి సంబంధించిన ఇతర కార్యకలాపాలతో కలపడం, అందువల్ల ఇదికేవలం పారిశ్రామిక ఉత్పత్తినే కాక కొంత వరకు వ్యాపార పరిస్థితినికూడా తెలియ చేస్తుంది.

అన్ని పరిశ్రమలకు సంబంధించిన సమాచారం తగినంతగా లేనందున పారిశ్రామిక కార్యకలాపాలకు ప్రాతినిధ్యం వహించేవిగా ఉన్న కొన్నిటిని ఎంపిక చేశారు. తర్వాత ప్రచురించటానికి వీలుగా వెంటనే సమాచారం సేకరించటానికి వీలున్న వాటిని చేర్చారు. ఈ క్రొత్త శ్రేణిలో పంచదార, టీ, సిమెంటు, బొగ్గు మొదలైన 12 పరిశ్రమలు, రైలు రవాణా మాత్రం చేర్చారు. 1953 దీని ఆధార సంవత్సరము. ఇది కూడా భారత సూచీ సంఖ్య.

**పారిశ్రామిక లాభాల సూచీ సంఖ్య :** వాణిజ్య పరిశ్రమల మంత్రిత్వ శాఖ ప్రతి సంవత్సరం వీటిని తయారు చేస్తుంది. 1939లో చెల్లించిన మూలధనాన్ని భారంగా తీసుకొని, ఒక్కొక్క పరిశ్రమకు విడిగా, అన్ని పరిశ్రమలకు కలిపి లాభాల సూచికలను తయారు చేశారు. దేశంలో ఇటీవలి కాలంలో అనేక పరిశ్రమలను నెలకొల్పటం వలన ఈ సూచికను నిలిపివేసి, దీనిని ప్రచురించే బాధ్యతను రిజర్వు బాంకుకి అప్పగించారు. రిజర్వు బాంకు వదలి 1950 ఆధార సంవత్సరంగా 1950 నుంచి 1958 వరకు ఈ సూచికలను ప్రచురించింది. ప్రస్తుతం 1955 - 56 ఆధార సంవత్సరంగా పారిశ్రామిక లాభాలసూచీ సంఖ్యలను నిర్మిస్తున్నారు. పబ్లిక్ లిమిటెడ్ కంపెనీలకు, ప్రైవేటు లిమిటెడ్ కంపెనీలకు వేరుగా, వివిధ పరిశ్రమలకు విడిగా, అన్ని పరిశ్రమలను కలిపి సూచికలను రిజర్వు బాంకు ప్రచురిస్తోంది.

**కుటీర పరిశ్రమలు :** దేశ ఆర్థికాభివృద్ధిలో కుటీర పరిశ్రమలు ఎంతో ప్రాధాన్యత వహిస్తున్ననూ వాటికి సంబంధించిన గణాంకాలు తగినంతగా లేవు. కుటీర పరిశ్రమలు ఎక్కువ మందికి ఉపాధి సౌకర్యాలను కల్పిస్తాయి. కాబట్టి ప్రణాళికా రచనలో, నిర్వహణలో ఈ గణాంకాలు ఎంతో ఉపయోగపడతాయి. 1981 జనాభా గణన ప్రకారం పరిశ్రమలలో నియమితులైన వారి సంఖ్య 40 మిలియన్లు, అందులో 13 మిలియన్లు ఫాక్టరీలలో నియమితులు కాగా, 27 మిలియన్లు కుటీర చిన్నతరహా పరిశ్రమలలో పని చేస్తున్నట్లు అంచనా వేశారు. భారత ప్రభుత్వం, రాష్ట్ర ప్రభుత్వాలు నెలకొల్పిన అనేక బోర్డుల (చేనేత బోర్డు, కొబ్బరి బోర్డు మొ॥) సమర్పించే నివేదిక వల్ల కుటీర పరిశ్రమలకు సంబంధించి కొంత సమాచారం లభిస్తోంది.

నేషనల్ శాంపుల్ సర్వే వారు 2 సం॥ల కొకసారి కుటీర పరిశ్రమల పరిశీలను జరుపుతున్నారు. ప్రస్తుతం 'జాతీయ చిన్న పరిశ్రమల కార్పొరేషన్' ప్రాంతాల వారీగా కొన్ని సర్వేలను నిర్వహించి వాటిని దేశం మొత్తానికి కలిపి ప్రచురిస్తోంది. ఈ సర్వేల వల్ల

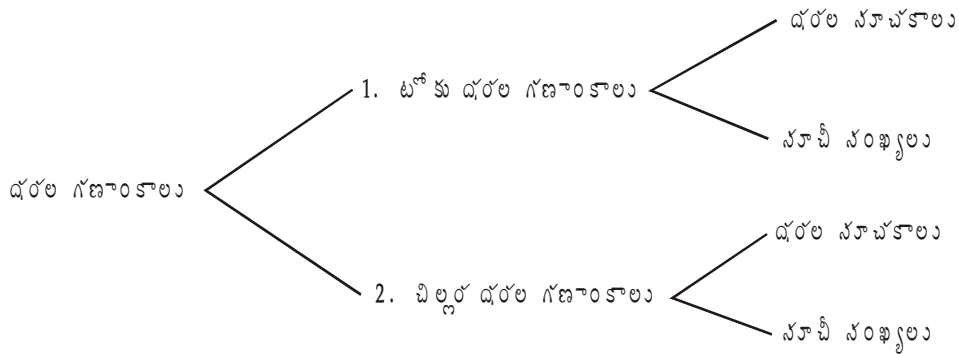
చిన్న తరహా పరిశ్రమల ఉత్పత్తి మూలధనం, ముడి పదార్థాల లభ్యత, పరిశ్రమల పురోగతి మొదలైన అంశాలను సంబంధించిన గణాంకాలు లభ్యమవుతున్నాయి. ఇవి తరచుగా నిర్వహించబడే సర్వేలు కావు. 5 గురు కన్నా తక్కువ పని చేస్తున్న గ్రామీణ పరిశ్రమల గురించి ఎటువంటి సమాచారం ఈ సర్వేలలో సేకరించలేదు.

'హండ్రామ్ బోర్డు' చేనేత ఉత్పత్తుల సమాచారాన్ని సేకరిస్తుంది. వీటిని టెక్స్టైల్ కమీషనరు 'భారతీయ జౌళి పత్రిక' ద్వారా ప్రచురిస్తారు. అదే విధంగా 'పట్టు పత్రిక' (Silk Journal), సిల్కు పరిశ్రమ బోర్డు, పట్టు వస్త్రాల ఉత్పత్తి గూర్చి సమాచారాన్ని ప్రచురిస్తాయి. 'ఖాదీ గ్రామీణ పరిశ్రమల కమీషనరు, చేతి వృత్తుల బోర్డు, కొబ్బరి పీచు బోర్డులు ఆయా ఉత్పత్తుల గూర్చి సమాచారాన్ని సేకరించి ప్రచురిస్తున్నాయి.

### 15.5 ధరల గణాంకాలు

మానవుడు ధరను చెల్లించి వస్తువులను కొనుగోలు చేసుకొని తన జీవనాన్ని కొనసాగిస్తూ ఉంటాడు. ధరలలో వచ్చే మార్పులు మానవుని వాస్తవిక ఆదాయంలో, కొనుగోలు శక్తిలో మార్పులకు కారణమౌతాయి. ఈ మార్పులు వ్యక్తిగతం గానే కాక సామాజికంగా కూడా అనేక మార్పులకు కారణమౌతాయి. అందుచేత ధరల గణాంకాల పై సామాన్య మానవునికి, ప్రభుత్వానికి పారిశ్రామికవేత్తలకు, ఆర్థిక శాస్త్రవేత్తలకు, వ్యాపారస్తులకు ఆసక్తి మెండు.

ధరలకు సంబంధించిన ఏ విధమైన సమాచారాన్నినా ధరల గణాంకాలనే పిలుస్తాము. శాస్త్రీయంగా గమనిస్తే 'ధరల గణాంకాలు' అణే పదానికి విస్తృత అర్థం వుంది. అన్ని రకాలైన వస్తు సేవల ధరలు, ధర సూచీ సంఖ్యలు మొదలైనవన్నియు ధరల గణాంకాల పరిధిలోకి వస్తుంది. సౌలభ్యం కోసం ధరలు గణాంకాలను రెండు రకాలుగా అంటే టోకు ధరల గణాంకాలని, చిల్లర ధరల గణాంకాలని రెండుగా విభజించి ఈ పాఠంలో వివరణకు ఇవ్వటం జరిగింది.



**15.5.1 టోకు ధరల గణాంకాలు :** వస్తువులను పెద్ద మొత్తంలో లేదా టోకుగా కొనడాన్ని, అమ్మడాన్ని టోకు వ్యాపారం అంటారు. వ్యాపార కార్యకలాపాల్లో ఉత్పత్తిదారుల నుంచి ప్రప్రథమంగా కొనుగోలు చేసిన వస్తువుల ధరను టోకు ధర అంటారు. క్లుప్తంగా ఉత్పత్తిదారుని వద్ద కొనుగోలు చేసిన వస్తువుల ధరయే టోకు ధర. ఈ టోకు ధరలకు సంబంధించిన గణాంకాలు మన దేశంలో ప్రభుత్వ, ప్రభుత్వేతర సంస్థల నుంచి లభ్యమౌచున్నాయి. ఈ గణాంకాలను కొన్ని ప్రధాన వస్తువులకే సేకరించటం జరుగుతోంది. ఈ గణాంకాలు రెండు రూపాల్లో అంటే సూచకాలు (Quotations) మరియు సూచీ సంఖ్యలు (Index Numbers) రూపాల్లో లభ్యమవుచున్నవి.

**1. టోకు ధరల సూచకాలు (Whole Sale Price Quotation):** మన దేశంలో ప్రతి రాష్ట్రం ఆర్థిక గణాంక బ్యూరోలను కలిగి ఉంది. ఎన్నో వస్తువుల ధరల సూచకాల వివరాలను ఇవి సేకరిస్తాయి. కేంద్రంలోని ప్రభుత్వ ఆర్థిక సలహాదారు కార్యాలయం కూడా ఈ వివరాలు సేకరిస్తుంది. ప్రభుత్వ ఆర్థిక సమాచార శాఖ తనిఖీదారులు దేశంలో ఉన్న అన్ని ముఖ్య మార్కెటింగ్ కేంద్రాలను సందర్శించి ధరల వివరాలను వారిపై అధికారులకు తద్వారా ప్రభుత్వానికి అందజేయటం జరుగుతుంది.

మన దేశంలో ప్రధాన వర్తక వస్తువుల ధరల వివరాలు వివిధ కాలాల్లో లభ్యమౌతాయి. కొన్ని నెలల వారిగాను, ఇంకొన్ని సంవత్సరాల వారిగాను లభిస్తాయి. గతంలో ముఖ్యంగా 59 వస్తువుల గూర్చి, ఈ 59 వస్తువులను 5 తరగతులుగాను, 16 ఉప తరగతులుగాను విభజించి సేకరించటం జరిగింది. ప్రస్తుతం మనం అయిదు తరగతులలోని వస్తువులను తెలుసుకుందాం.

1. ఆహార వస్తువులు : (ఎ) కాయ ధాన్యాలు, (బి) పప్పు ధాన్యాలు మొదలైనవి.
2. పారిశ్రామిక ముడి సరుకులు : (ఎ) నారలు, (బి) ఖనిజ పదార్థాలు, (సి) నూనె గింజలు, (డి) ఇతరాలు
3. పాక్షిక పారిశ్రామికీకృతములు : (ఎ) ప్రత్తి, (బి) నూలు, (సి) తోళ్ళు, (డి) లోహాలు, (ఇ) వంట నూనెలు, (ఎఫ్) ఖనిజ నూనెలు, (జి) ఇతరాలు
4. పారిశ్రామికీకృత వస్తువులు : (ఎ) ప్రత్తిగోగు, (బి) లోహాలు, (సి) రసాయన పదార్థాలు, (డి) పెయింట్లు, (ఇ) ఇతరాలు.
5. అన్యలు (Miscellaneous) పాగాకు, జీడిపప్పు, మిరియాల పొడి మొదలైనవి.

పైన వివరించిన వస్తువుల గురించి టోకు ధరల గణాంక వివరాలను సేకరించి రేడియో, టెలివిజన్, పత్రికలు మొదలైన ప్రచార సాధనాల ద్వారా ప్రకటించి ప్రజలకందజేయటం జరుగుతుంది.

**5. ధరల సూచకాలలోని లోపాలు :** ధరల సూచకాల సేకరణలో తగుజాగ్రత్తలు తీసుకొని సేకరించటం జరుగుతుంది. సేకరించే పద్ధతులలో కూడా మెరుగులు దిద్దటం జరుగుతుంది. అయిననూ ఈ గణాంకాలలోనే అన్ని లోపాలు ఉంటున్నాయి.

1. సూచీ సంఖ్య నిర్మాణం కోసం ఎన్నిక చేసే వస్తువులలో ఒక్కొక్క వస్తువులను వివిధ నాణ్యత స్థాయిలు గల వస్తువులను ఎన్నిక చేయాలి. పైన వివరించిన తరగతుల ప్రకారం అన్య తరగతిలో చేర్చిన పాగాకు, జీడిపప్పు మొదలైనవాటిని ఆహార వస్తువుల తరగతిలో చేర్చడం సమంజసంగా ఉంటుంది.
2. ప్రతిపాక్షిక పారిశ్రామికీకృతములను, పారిశ్రామికీకృతములలో చేర్చటం జరిగింది. ఈ విధంగా చేర్చటం సమంజసం కాదు.
3. పారిశ్రామికీకృతములపై పెరిగిన కొద్దీ, పారిశ్రామిక వస్తువుల తరగతిలోని వస్తువుల సంఖ్యను కూడా పెంచాలి. ఆ విధంగా ఆ వస్తువుల ధరల సూచీ సంఖ్య ఉపయోగాన్ని పెంపొందించవచ్చు.
4. భారత ఆర్థిక వ్యవస్థకు వ్యవసాయం వెన్నెముక. వ్యవసాయదారుని ఆర్థిక పరిస్థితిని మెరుగు పడాలంటే అతడు కొనుగోలు చేసే వస్తువుల ధరల, అతడు అమ్మే వస్తువుల ధరలు సాపేక్షికం వ్యవసాయదారునికి ప్రోత్సాహకరంగా ఉండేటట్లు చేయాలి. ఆ సమాచారం వ్యవసాయదారునికి అందుబాటులో ఉండాలి. అందుకు ఇంకా అనేక వస్తువుల ధరలను సేకరించవలసి ఉంది. వస్తువుల నాణ్యత మారినప్పుడు ధర సేకరణలో తగిన జాగ్రత్తలు తీసుకోవాలి.
5. ధరల సేకరణను మన దేశంలో అనేక సంస్థలు చేస్తున్నాయి. ఈ సంస్థల మధ్య సరైన అవగాహన సంవిధానం లేదు. అందువల్ల సేకరించిన వివరాలు సక్రమంగా ఉపయోగపడకపోగా సరైన ఫలితాలనివ్వటం లేదు. కావున ప్రణాళికాబద్ధమైన విధానాల ద్వారా గణాంకాలు సేకరిస్తే వివరాలు వాస్తవాన్ని ప్రతిబింబించడంతోపాటు ఖర్చు కూడా తగ్గించడానికి వీలవుతుంది. చాలా వరకు ఈ లోపాలు సవరించటం జరిగింది.

**2. టోకు ధరల సూచీ సంఖ్యలు :** ఉత్పత్తిదారు నుంచి కొనుగోలు చేసిన వస్తువుల ధరలను టోకు ధరలంటారు. ఇటువంటి ధరలను పరిగణనలోనికి తీసుకొని, కొన్ని వస్తువుల తరగతులకు కలిపి నిర్మించిన ధరల సూచీ సంఖ్యను టోకు ధరల సూచీ సంఖ్య అంటారు. సాధారణ ధరల స్థాయిలోని మార్పులను ఈ సూచీ సంఖ్యల ద్వారా అధ్యయనం చేయటం జరుగుతుంది. ఈ సూచీ సంఖ్యలను కొన్ని ముఖ్య వస్తువులకు (కాయ ధాన్యాలు), కొన్ని వస్తువుల సమూహాలకు (ఆహార వస్తువులు), అటువంటి సమూహాల

మొత్తాలకు (వ్యవసాయోత్పత్తులు) వేరువేరుగా నిర్మిస్తారు. ఒక నిరంతర సమతూకంలో (వారంలో గాని, ఒక నెలలో కాని, ఒక సంవత్సరంలో గాని) వస్తువుల టోకు ధరలలో పెరుగుదల లేదా తగ్గుదల ఎంత వరకున్నదో తెలియజేయటం ఈ సూచీ సంఖ్యల ముఖ్యోద్దేశం. కాలానుగతంగా టోకు ధరలలో వచ్చే శుద్ధమైన మార్పును సూచించటమే టోకు ధరల సూచీ సంఖ్య ఉద్దేశం.

**టోకు ధరల సూచీ సంఖ్యల ఉపయోగాలు :**

టోకు ధరలు అనేక విధాలుగా ఉపయోగపడతాయి.

1. సంచన ప్రణాళికా రచనలో టోకు ధరల సూచీ సంఖ్యలు ఎంతో ఉపయోగపడ్తాయి. దేశంలో సంతృప్తికర ఆర్థికాభివృద్ధిని సాధించాలంటే ప్రతి వస్తువు సప్లయ, వాటి డిమాండుకు సమానంగా ఉండాలి. ఈ ప్రయత్నానికి టోకు ధరలు ఎంతో ఉపయోగపడతాయి. ప్రథమ మార్కెట్ స్థాయిలో వస్తువుల సప్లయ, డిమాండ్ల మధ్య గల పరిస్థితి గురించి వివరించడానికూడా ఈ ధరలు ఉపయోగపడతాయి.
2. నూతనంగా ఉత్పత్తి సంస్థలను స్థాపించేందుకు, ఉన్న సంస్థల ఉత్పత్తి స్థాయిని పెంపొందించేందుకు అవసరమైన నిర్ణయాలు తీసుకోవడానికి ఈ సూచీ సంఖ్యలు చాలా ఉపయోగపడతాయి.
3. వర్తక ఒడంబడికలలో సర్దుబాట్లు చేసుకోవడానికి ఈ సూచీ సంఖ్యలను ఉపయోగిస్తారు.
4. భవిష్యత్తులో ధరల స్థాయి గురించి అంచనా వేయడానికి, గతంలో ఆ ధరల స్థాయి వివరాలనాధారంగా చేసుకొని వస్తు విక్రయ విధానాన్ని రూపొందించడానికి టోకు ధరల సూచీ సంఖ్యలను ఉపయోగిస్తారు.
5. దేశంలోని ధరల పరిస్థితిని విశ్లేషణ చేయటానికి పరస్పరాధార వస్తువుల స్థాయిలలో వచ్చే మార్పులను తెలుసుకోవడానికి ఈ సూచీ సంఖ్యలు ఉపయోగపడుతున్నాయి.

**భారత దేశంలో టోకు ధరల సూచీ సంఖ్యల నిర్మాణం :** మన దేశపు ప్రభుత్వ ఆర్థిక సలహాదారు కార్యాలయం వారు (Economic Adviser Whole Sale Price Index Numbers) మొట్ట మొదటిగా 23 వస్తువులను ఎన్నిక చేసి, వాటిని 4 తరగతులు విభజించి, వాటికి టోకు ధరల సూచీ సంఖ్యను తయారు చేశారు. ఈ సూచీలను 1939 నుండి ఆధార సంవత్సరంగా, గుణ మధ్యమ సూత్రాన్ని ఉపయోగించి నిర్మించారు. అయితే దీని నిర్మాణం 1947 డిశంబరు నుంచి ఆపివేశారు. 1939 మూల సంవత్సరం (ఆధార సంవత్సరం)గా సాధారణ అవసరపు (General Purpose) సూచీ సంఖ్యను 1948 నుంచి నిర్మాణం ప్రారంభించి, 1960 ఏప్రిల్ నెలలో దీనిని నిలిపివేశారు.

**ప్రభుత్వ ఆర్థిక సలహాదారు టోకు ధరల సూచీ సంఖ్య (1952 - 53 = 100)**

1939ని ఆధార సంవత్సరంగా నిర్మించిన సూచీ సంఖ్య దేశ విభజన కారణంగా ప్రాతినిధ్యాన్ని కోల్పోయింది. దేశ విభజన వల్ల రాజకీయ, సాంఘిక ఆర్థిక రంగాల్లో వచ్చిన మార్పుల కారణంగా సూచీ సంఖ్యల నిర్మాణంలో వస్తువుల ప్రాధాన్యాలు మారి వాస్తవికతను కోల్పోయాయి. దీనితోపాటు స్వాతంత్ర్యానంతరం ధరల గణాంక వివరాలు విస్తారంగా లభించాయి. అందుచేత సరి అయిన సూచీ సంఖ్యను నిర్మించడానికి ప్రభుత్వ ఆర్థిక సలహాదారు నిశ్చయించారు. ఈ సూచీ సంఖ్య నిర్మాణం ఏ విధంగా జరిగిందో పరిశీలిద్దాం.

**వస్తువుల ఎన్నిక :** ప్రభుత్వ ఆర్థిక సలహాదారువారు రూపొందించే సూచీ సంఖ్య నిర్మాణంలో అనేక కొత్త వస్తువులను చేర్చటం జరిగింది. మొత్తం 112 వస్తువులను ఎన్నిక చేయటం జరిగింది. వీటిల్లో బార్లీ, మొక్కజొన్న, రాగులు, బంగాళదుంపలు, ఉల్లిపాయలు, నారింజపళ్ళు, పాలు, నెయ్యి, చేపలు, గుడ్ల, మాంసం, చెఱకు, విద్యుచ్ఛక్తి, వెదురు, చేనేత వస్త్రాలు, సైకిళ్ళు, మందులు వంటి అనేక వస్తువులు చేర్చటం జరిగింది. ఈ 112 వస్తువులను అంతర్జాతీయ వ్యాపార వస్తువుల వర్గీకరణ ప్రమాణంగా 5 పెద్ద తరగతులుగా విభజించారు. వస్తువుల ఎన్నికల్లోను, ధరల సూచకాల సేకరణలోను, మార్కెట్లను ఎన్నిక చేయటంలోను అనేక విధాలుగా అవకాశాన్ని పెంచి, మెరుగులు దిద్దటం జరిగింది. మొత్తం 183 మార్కెట్లు నుంచి సమాచారం సేకరించటం జరిగింది. 555 ధరల సూచకాలలో 25 (53%) అధికార మూలాల ద్వారాను, 260 (47%) అసాధికార మూలాల ద్వారా సేకరించారు. వీటిలో ముఖ్యంగా

వ్యవసాయ వస్తువులకు సంబంధించిన ధరల సూచకాలను అధికార మూలాల నుంచి, వ్యవసాయేతర వస్తువుల ధరల సూచకాలను అనధికార మూలాల నుంచి సేకరించారు. ఈ దిగువ పట్టికలో వస్తువుల వర్గీకరణ, మార్కెట్ల సంఖ్య, ధరల సూచకాలు సంఖ్య ఇవ్వడమైంది (పట్టిక 15.1) వివిధ వస్తువుల ధరల సూచకాలు సేకరించిన మూలాలు, (రాష్ట్రాలతో సహా) పట్టిక -15.2లో చూపాం.

పట్టిక - 15.1

వస్తు తరగతి	ఎన్నుకొన్న	మార్కెట్ల	ధరల సూచకాల
	వస్తువుల సంఖ్య	సంఖ్య	సంఖ్య
1. ఆహారం	31	105	216
2. పాగాకు, పానీయాలు	3	5	10
3. ఇంధనం, వంట చెరుకు, దీపాలు మొదలైనవి	3	7	24
4. పారిశ్రామిక ముడి పదార్థాలు	23	37	84
5. మధ్యరకం వస్తువులు	19	7	44
6. తయారీ వస్తువులు	33	22	177
మొత్తం	112	183	555

పట్టిక - 15.2

వస్తువుల తరగతి	రాష్ట్ర మూలాలు	అధికార మూలాలు		అనధికార మూలాలు	
		స్టేట్ బాంకు	ఇతరాలు	ఛాంబర్స్ సంస్థ	వ్యాపార సంస్థలు
1. ఆహారాలు	183	6	1	25	2
2. పాగాకు, పానీయాలు	3	--	--	4	3
3. ఇంధనం, వంటచెరుకు, దీపాలు మొదలైనవి	3	--	2	12	7
4. పారిశ్రామిక ముడి పదార్థాలు	42	2	7	30	2
5. మధ్యరకం వస్తువులు	14	--	5	31	2
6. తయారీ వస్తువులు	6	2	19	48	94
మొత్తం	251	10	34	150	110

**ఆధార సంవత్సరం :** ఈ సూచీ సంఖ్యల నిర్మాణంలో 1952 - 53 సంవత్సరాన్ని ఆధార సంవత్సరంగా తీసుకోవడమైంది. దీని ఆధార సంవత్సరముగా తీసుకోవడానికి కారణాలు రెండు, 1. రెండో ప్రపంచ యుద్ధం, దేశ విభజనల తరువాత ధరలు చాలా వరకు నిలకడగా ఉన్న సంవత్సరం, 2. మొదటి పంచవర్ష ప్రణాళికా సంవత్సరానికి దగ్గరగా ఉండటం.

**భారాలు :** సూచీ సంఖ్య నిర్మించదలచుకున్న వస్తువులకు భారాలుగా దేశం అపుడు ఉత్పత్తి అయ్యి, అమ్మిన వస్తువుల మార్కెట్ విలువలు తీసుకోవడం జరిగింది. పారిశ్రామిక వస్తువులకు సంబంధించిన భారాలు మూడో పారిశ్రామికోత్పత్తుల గణన - 1948 నుంచి తీసుకొన్నారు. దిగుమతి చేసుకున్న వస్తువులకు దిగుమతి సుంకాలతో కూడిన వస్తువుల విలువల ప్రకారం ప్రాధాన్యాల ఇచ్చారు. పూర్తిగా తయారైన వస్తువులకు అమ్మకానికి ఉత్పత్తి చేసిన వస్తురాశి వల్ల ప్రాధాన్యాలిచ్చారు. ఈ ప్రాధాన్యాలను లేదా భారాలను కింద పట్టిక 15.3 తెలియజేస్తుంది.



## పట్టిక - 15.3

తయారీ వస్తువులు	భారాలు	వస్తువులు	భారాలు
1 ఆహార వస్తువులు (8)	504	(1) కాయ ధాన్యాలు (2) పప్పులు (3) పండ్లు, కూరలు (4) పాలు, నెయ్యి (5) వంట నూనెలు (6) చేపలు, గుడ్లు, మాంసం (7) పంచదార, బెల్లం (8) ఇతరాలు	192 43 23 84 47 17 48 50 <u>504</u>
2. పొగాకు, పానీయాలు	21	...	21
3. వంట చెరకు, ఇంధనాలు, దీపాలు వగైరా	30	...	<u>30</u>
4. పారిశ్రామిక ముడి పదార్థాలు (4)	155	(1) నారలు (2) నూనె గింజలు (3) ఖనిజాలు (4) ఇతరాలు	61 60 2 32 <u>155</u>
4. పారిశ్రామికాలు	290	(1) సాధ్య వస్తువులు (2) సిద్ధ వస్తువులు (ఎ) నేత వస్తువులు (బి) లోహ వస్తువులు (సి) రసాయనాలు (డి) నూనె, పిండి (ఇ) యంత్రాలు, రవాణా సామాగ్రి మొ॥ (ఎఫ్) ఇతరాలు	41 <u>249</u> 147 12 20 9 31 <u>30</u> 290
మొత్తం	1,000	మొత్తం	1,000

## 1952 - 53 సం॥ సూచీ సంఖ్య నిర్మాణంలో తోపాలు

1. సూచీ సంఖ్య నిర్మాణంలో ఎన్నుకున్న వస్తువుల ప్రాధాన్యాలు 1948 - 49 సంవత్సరం కాగా ఆధార సంవత్సరం 1952 - 53.
2. ఈ సూచీ సంఖ్య నిర్మాణానికి భారత అంకమాధ్యమ సూత్రాన్ని ఉపయోగించడం జరిగింది. గుణ మధ్యమమే సరిఅయిన సగటు అవుతుంది కాని అంకమాధ్యం కాదు.
3. తీసుకున్న భారాలు సరి అయినవి కావని చెప్పటానికి రెండు ముఖ్య కారణాలున్నాయి. 1948 - 49 తరువాత దేశ

ఆర్థిక పరిస్థితులలో ప్రజల అభిరుచులలోను గణనీయమైన మార్పు వచ్చింది. ఈ మారిన పరిస్థితులను 1948 - 49 సంవత్సరపు ప్రాధాన్యాలు ప్రతిబింబించవు.

4. సూచీ సంఖ్య నిర్మాణంలో చేర్చిన కొన్ని కంట్రోల్ వస్తువులకు సంబంధించి బజారు ధరలను కాక, కంట్రోలు ధరలను పరిగణలోకి తీసుకున్నారు. వస్తువులు కంట్రోల్ ధరలకు లభించకపోతే బజారులో ఏ ధర ఉందో దాన్నే పరిగణనలోకి తీసుకోవాలి గాని కంట్రోల్ ధర తీసుకోరాదు, ఉదాహరణకు అప్పుడు ప్రత్తి మీద కంట్రోల్ ఉంది. కాని కంట్రోల్ ధరకు ప్రత్తి అసలు అమ్మలేదు. అటువంటప్పుడు బజార్ల ఎంత ధర ఉందో దానినే తీసుకోవలసి ఉంది. అదే సహజ ధర అవుతుంది. కాని వాస్తవానికి అట్లా జరగలేదు. కంట్రోల్ ధరను తీసుకోవడం వల్ల వాస్తవిక పరిస్థితులను ప్రతిబింబించలేదు.
5. పంచవర్ష ప్రణాళికలు ప్రారంభించిన తరువాత ప్రభుత్వ వ్యవసాయ, పారిశ్రామిక విధానాల్లో మార్పులొచ్చాయి. అందుకు తగినట్లుగానే వ్యవసాయ, పారిశ్రామికోత్పత్తుల సాపేక్ష స్థాయిలు మారాయి. ఈ వివరాలు కింద పట్టికలు 15.4, 15.5లలో చూపటమైంది.

**పట్టిక - 15.4**

**వ్యవసాయోత్పత్తి సూచీ సంఖ్యలు (1950 - 51 = 100)**

వస్తువులు	1955 - 56	1960 - 61	1964 - 65	1968 - 69
1. బియ్యం	129.9	156.7	177.7	178.8
2. మొక్కజొన్న	133.1	173.8	197.3	235.3
3. గోధుమ	129.9	161.0	179.5	255.9
4. పప్పులు	129.1	140.7	137.5	111.6
5. పత్తి	139.0	182.6	197.8	183.6
6. కాఫీ	174.6	219.4	230.5	286.5
7. చెరకు	105.4	161.7	177.1	170.4
8.. బంగాళాదుంపలు	112.0	157.0	193.7	256.5
9. రబ్బరు	155.8	178.0	304.9	474.9

**పట్టిక - 15.5**

**పారిశ్రామికోత్పత్తి సూచీ సంఖ్య (1956 = 100)**

వస్తువులు	1958	1960	1963	1966
1. వస్త్రాలు	98.5	105.1	123.1	164.9
2. రసాయనాలు	116.3	149.9	219.7	262.3
3. లోహేతర ఖనిజాలు	128.7	168.1	204.7	230.1
4. లోహాలు	106.2	182.5	294.4	318.0
5. విద్యుచ్ఛక్తి యంత్ర సామాగ్రి	124.6	175.9	239.1	340.6
6. రవాణా యంత్ర సామాగ్రి	95.5	119.4	150.6	187.5
7. విద్యుదుత్పాదన	127.4	171.0	257.9	355.3

పట్టిక 15.4 మరియు 15.5లను గమనిస్తే ఆహార వస్తువుల, ముడి పదార్థాల, పారిశ్రామికోత్పత్తుల సాపేక్ష స్థాయిలలో గణనీయమైన మార్పులు వచ్చాయి. కావున 1948 - 49 నాటి భారాలు పనికి రావు. మారిన పరిస్థితులను ప్రతిబింబించే విధంగా భారాలతో సూచీ సంఖ్యలను నిర్మించవలసిన ఆవశ్యకత ఏర్పడింది. దీనితో పాటు 1964 - 65 నుంచి 1966 - 67 మధ్య కాలంలో ధరలు సగటున ఏడాదికి 12% చొప్పున పెరిగాయి. ఈ పరిస్థితుల దృష్ట్యా కొంత ఆధార సంవత్సరంతో టోకు ధరల సూచీ సంఖ్య నిర్మాణావశ్యత బాగా పెరిగింది.

1961 - 62 = 100 గా టోకు ధరల సూచీ సంఖ్యలు

1961 - 62 ఆధార సంవత్సరంగా నిర్మించిన టోకు ధరల సూచీ సంఖ్య పరిధిని విస్తరింప చేయటం జరిగింది. ఎక్కువ సంఖ్యలో ధరల సూచకాల సేకరణ, ప్రాధాన్యాల తీరులో మార్పు ఏర్పడింది. అంతకు ముందు కన్న ఆహార వస్తువుల తరగతికి ఎక్కువ ప్రాధాన్యమివ్వటం జరిగింది (ఇంచుమించు 50%) ఇది మన దేశ ఆర్థిక పరిస్థితిని, సగటు జీవన ప్రమాణాన్ని ప్రతిబింబించేదిగా ఉన్నది.

**వస్తువుల వింపిక :** 1961 - 62 టోకు ధరల సూచీ సంఖ్య నిర్మాణంలో 139 వస్తువులు పరిగణనలోకి తీసుకోవడం జరిగింది. వీటిని 7 తరగతులుగా విభజించి 225 మార్కెట్ల నుంచి 774 ధరల సూచకాలను సేకరించడం జరిగింది. ఇందులో 382 సూచకాలు అధికార సంస్థల నుంచి, మిగిలిన 392 సూచకాలు అనధికార సంస్థల నుంచి సేకరించారు. ఈ కింది పట్టిక 15.6లో వివరాలు ఇవ్వడమైంది.

**పట్టిక - 15.6**

వస్తువుల తరగతి	ఎన్నిక చేసిన వస్తువుల సంఖ్య	మార్కెట్ల సంఖ్య	ధరల సూచకాల సంఖ్య
1. ఆహార వస్తువులు	38	128	275
2. పాగాకు, పానీయాలు	3	6	12
3. వంట చెరకు, ఇంధనం, దీపాలు మొదలైనవి	10	7	28
4. పారిశ్రామిక ముడి పదార్థాలు	25	47	106
5. రసాయనాలు	11	6	16
6. యంత్రాలు, రవాణా సామాగ్రి	7	18	83
7. పారిశ్రామికాలు			
(ఎ) సాధ్య వస్తువులు	13	7	43
(బి) సిద్ధ వస్తువులు	32	36	211
మొత్తం	139	255	774

**మూల సంవత్సరం ఎన్నిక :** సాధారణంగా సూచీ సంఖ్య యొక్క ఆధార సంవత్సరం, పోల్చే సంవత్సరం (ప్రస్తుత సంవత్సరం) నుంచి దూరమయ్యే కొద్దీ ఆ సూచీ సంఖ్య ఉపయోగం సన్నగిల్లుతుంది. ఎందుకంటే అంత దీర్ఘకాలంలో ఆర్థిక పరిస్థితులలోను, వస్తువుల స్వభావం, నాణ్యత, ఉత్పత్తిదారులు, వినియోగదారుల దృక్పథాలలో, వారి ఆర్థికస్థితులలో ప్రతిబింబింప చేయాలంటే ప్రతి పది సంవత్సరాలకొకసారి మూల సంవత్సరాన్ని ముందుకు జరుపుతూ ఉండాలి. 1961 - 62ను మూల సంవత్సరంగా ఎన్నుకోవటానికి



జొన్న, బాబ్ర, పప్పులు, కాయధాన్యాలు, అరటి పండ్లు, పాలు, నెయ్యి, వేరుశనగ నూనె, ఆవ నూనె, పంచదార, గర్, తేయాకు, సుగంధ ద్రవ్యాలు, ముడి పొగాకు, బొగ్గు, ముడి ప్రత్తి, ముడి నార, వేరుశనగ, రేప్‌సీడ్, చెరకు, కలప, నూలు పారిశ్రామికోత్పత్తులు, గోగునార ఉత్పత్తులు, రేయాన్, ఇనుము - ఉక్కు, యంత్రాలు మొ॥ 28 వస్తువులకు నిర్మించారు.

**1970 - 71 ఆధార సంవత్సరంగా టోకు ధరల సూచీ సంఖ్య :** 1977 జనవరి నుంచి టోకు ధరల అధికార సూచీకి 1970 - 71 సంవత్సరాన్ని ప్రాతిపదిక సంవత్సరంగా నిర్ణయించారు. ఈ సూచీలో మొత్తం 360 వస్తువులున్నాయి. వాటిలో 80 ప్రాథమిక వస్తువులు, 270 ఉత్పత్తి అయిన వస్తువులు, 10 ఇతర వస్తువులున్నాయి. ఈ సూచీలో 1295 సూచకాలను సేకరించారు. ఒక కోటి రూపాయల వరకు వ్యాపారం జరిగి, టోకు ధరలు లభ్యమయ్యే వస్తువులన్నిటినీ ఈ సూచీలో చేరుస్తారు. ఈ సూచీలో చేర్చే వస్తువులను ప్రామాణికమైన పారిశ్రామిక వర్గీకరణ ఆధారంగా నిర్ణయించారు. ఈ టోకు ధరల సూచీ సంఖ్యకు సంబంధించిన కొన్ని గణాంక వివరాలు ఈ దిగువ ఉన్న పట్టికలు 15.8, 15.9లో పొందుపరిచాం.

### పట్టిక - 15.8

టోకు ధరల సూచీ సంఖ్య (1970 - 71 = 100)

వర్గం	ప్రాధాన్యాలు	1980 - 81	1981 - 82	1982 - 83
ప్రాథమిక వస్తువులు	416.67	238	264	274
ఇంధనం, శక్తి, దీపాలు మొ॥	84.59	354	428	455
ఉత్పత్తి వస్తువులు	498.74	257	271	272
అన్ని వస్తువులు	1000.00	257.3	281.3	188.2

### పట్టిక - 15.9

టోకు ధరల సూచీ సంఖ్యల ధోరణులు (అన్ని వస్తువులకు)

సంవత్సరం	వార్షిక సగటు సూచీ		
	1952 - 53 = 100	1961 - 62 = 100	1970 - 71 = 100
1950 - 51	107.7	86.1	47.5
1955 - 56	92.5	73.9	40.8
1960 - 61	124.5	99.8	55.1
1965 - 66	165.0	131.6	72.7
1970 - 71	226.6	181.6	100.0
1971 - 72	235.7	188.4	105.6
1972 - 73	259.1	207.1	116.2
1973 - 74	318.0	254.2	139.7
1974 - 75	391.6	313.0	174.9
1975 - 76	378.8	302.8	173.0
1976 - 77	388.7	310.7	176.6

1977 - 78	421.0	336.5	185.8
1978 - 79	421.0	336.3	185.8
1979 - 80	493.0	394.1	217.6
1980 - 81	583.0	466.0	257.3
1981 - 82	637.3	509.4	281.3
1982 - 83	654.0	522.8	288.7
1983 - 84	715.9	572.3	316.0
1984 - 85	766.6	612.8	338.4
1985 - 86	810.6	648.0	357.8
1986 - 87	853.7	682.4	376.8

మూలం - భారత దేశంలో టోకు ధరలు, మాస సంచిక, మార్చి 1987.

**టోకు ధరల సూచీ సంఖ్యలు - కొత్త శ్రేణులు (1981 - 82 = 100) :** 1970 - 71 మూల సంవత్సరంగా నిర్మించిన టోకు ధరల సూచీ సంఖ్యలు సుమారు 18 సంవత్సరాలు అమలులో ఉన్నాయి. ఆర్థిక వ్యవస్థలో వచ్చిన వ్యవస్థాపరమైన తదితర గణనీయమైన మార్పులను విశ్వసనీయంగా ప్రతిబింబించేందుకై ఒక కొత్త సూచీ సంఖ్యను సూచించేందుకు భారత ప్రభుత్వం డాక్టర్ సి. రంగరాజన్ (రిజర్వు బ్యాంకు డిప్యూటీ గవర్నరు) నాయకత్వంలో 16 మంది సభ్యులుగా గల సంఘాన్ని ఏప్రిల్ 1982లో ఏర్పాటు చేసింది.

ఈ సంఘం ఇంతకు ముందున్న సూచీ సంఖ్యలను నిశితంగా పరిశీలించిన మీదట 1981 - 82 సంవత్సరాన్ని ఆధార సంవత్సరంగా సూచించారు. ఈ కొత్త శ్రేణిలో వస్తువుల సంఖ్య, మార్కెట్ల ఎంపిక, ధరల సూచకాల సంఖ్య తదితర అంశాలను బాగా విస్తృతపరచటం జరిగింది. పారిశ్రామిక మంత్రిత్వ శాఖ ఆర్థిక సలహాదారు జూలై 1989 నుంచి ఈ కొత్త శ్రేణిలో సూచీ సంఖ్యలను జారీ చేస్తున్నారు. ఈ సూచీలో మొత్తం 447 వస్తువులున్నాయి. ధరల సూచకాలను కూడా 2371 దాకా సేకరించారు. ఈ కొత్త శ్రేణిలో 75 కొత్త వస్తువులను చేర్చారు. 55 పాత వస్తువులను తొలగించారు. 36 పాత వస్తువులను 102 వస్తువులుగా విభజించారు. ఉదాహరణకు పాత సూచీ సంఖ్యలో సహజ వాయువు, ముడి వెట్రోలియంలు కలిపి ఒక అంశం కింద ఉండేవి. కొత్త సూచీ సంఖ్యలో ఈ రెండింటినీ వేరు వేరు ప్రత్యేక అంశాలుగా విడదీయటం జరిగింది. అదే విధంగా 'విద్యుత్తు' అనే ప్రధాన అంశాన్ని కూడా దాని అంతిమ వినియోగాన్ని (ultimate use) బట్టి 6 అంశాలుగా విడదీశారు. అట్లాగే 'సత్రజని ఎరువులను' 5 అంశాలుగా విడదీశారు.

**వస్తువుల, మార్కెట్ల ఎంపిక :** ఉత్పత్తి విలువ ఉన్న అన్ని ముఖ్యమైన అంశాలను ఈ కొత్త సూచీ సంఖ్యలో చేర్చటం జరిగింది. వ్యవసాయ వస్తువుల ఎంపికను ఆయా నిపుణుల సంఘాల సూచన మేరకు చేశారు. కొన్ని వాణిజ్య పంటలకు ఆయా డైరెక్టరేట్లు, బోర్డులను సంప్రదించారు. ఖనిజాలకు సంబంధించిన వస్తువుల ఎంపిక భారత గనుల బ్యూరో (Indian Bureau of Mines) సిఫార్సులకనుగుణంగా చేశారు. పారిశ్రామిక వార్షిక సర్వే 1981 (ASI) ప్రకారం 20 కోట్ల రూపాయల విలువ చేసే ఉత్పత్తులు గల పారిశ్రామిక వస్తువులన్నిటినీ పరిగణనలోనికి తీసుకున్నారు. కొన్ని దిగుమతి ప్రాధాన్యమున్న వస్తువులను ఉత్పత్తి విలువ, దిగుమతులు కలిపి 20 కోట్ల రూపాయల పైబడిన వాటిని చేర్చారు. వాటి విలువ 10 - 20 కోట్ల రూపాయల మధ్య ఉన్న వాటిని అయితే పైన ఎంపిక చేసిన అంశాలలో సరియైన ధరల సమాచారం నిరంతరాయంగా లభించినటువంటి కొన్ని వస్తువులను తొలగించారు.

**భారాలు :** వ్యవసాయ వస్తువులకు ప్రాధాన్యంగా మార్కెట్లు చేసే మిగులు (Marketable Surplus) లేదా మార్కెట్లు చేసిన మొత్తం ఉత్పత్తి విలువ తీసుకొన్నారు. వ్యవసాయేతర వస్తువులకు ఉత్పత్తి విలువను ప్రాధాన్యంగా తీసుకున్నారు. దిగుమతి వస్తువులలో

దిగుమతి సుంకంతో కూడిన ధరల ప్రకారం ప్రాధాన్యం నిర్ణయించారు. ప్రతి ఎంపిక చేసిన వస్తువులకు ఆర్థిక వ్యవస్థలో మొత్తం ఉత్పత్తి విలువలో ఆ వస్తువు అనుపాత వాటా ప్రకారం (Proportionate Share) ప్రాధాన్యాలు నిర్ణయించారు. పాత, కొత్త సూచీ సంఖ్యల ప్రాధాన్యాలలోని తారతమ్యాలను పట్టిక 15.11లో చూపటం జరిగింది. ఈ పట్టిక ప్రకారం “ప్రాథమిక వస్తువుల” ప్రాధాన్యాలు బాగా తగ్గి “ఉత్పత్తి వస్తువుల” (Manufactured Goods) ప్రాధాన్యాలు పెరిగినట్లు తెలుస్తుంది. దీనిని బట్టి ప్రాథమిక రంగం ముఖ్యంగా ఆహార వస్తువుల పెరుగుదల నిదానించినట్లు స్పష్టమౌతుంది.

**ధరల సేకరణ :** పాత సూచీ సంఖ్యకు కర్మాగారాల వద్ద ధరలు సేకరించారు. ఈ కొత్త శ్రేణిలో వ్యవసాయోత్పత్తులకు ప్రాథమిక మార్కెట్లు ధరలు సేకరించారు. సూచీ సంఖ్య నిర్మాణ (Compilation) పద్ధతిలో లాస్పియర్ సూత్రాన్ని వాడారు.

### పట్టిక 15.10

పాత (1970 - 71 = 100) కొత్త (1981 - 82 = 100) శ్రేణులలో వస్తువుల సంఖ్య,

ధరల సూచకాల సంఖ్యలలో తారతమ్యాలు తెలిపే పట్టిక

ముఖ్య సమూహం/సమూహం	అంశాల సంఖ్య		ధరల సూచకాల సంఖ్య	
	1981 - 82	1970 - 71	1981 - 82	1970 - 71
అన్ని వస్తువులకు	447	360	237.1	129.5
ప్రాథమిక వస్తువులు	93	80	519	411
(1) ఆహార వస్తువులు	44	39	320	264
(2) ఆహారేతర వస్తువులు	28	26	132	115
(3) ఖనిజాలు	21	15	67	32
ఇంధనం, శక్తి, దీపాలు, కందెనలు	20	10	73	30
ఉత్పత్తి వస్తువులు	334	270	1779	854
(1) ఆహార వస్తువులు	45	37	231	117
(2) పానీయాలు, పొగాకు, పొగాకు వస్తువులు	7	8	39	19
(3) వస్త్రాలు	27	12	120	99
(4) కలప, వస్తువులు	2	4	14	16
(5) తోలు, తోలు వస్తువులు	3	4	26	18
(6) రబ్బరు, ప్లాస్టిక్ వస్తువులు	13	7	73	42
(7) రసాయనాలు	77	67	428	182
(8) లోహేతర ఖనిజ వస్తువులు	22	21	125	63
(9) ప్రాథమిక లోహాలు, మిశ్రమ ఉత్పత్తులు	57	42	235	125

(10) యంత్రాలు, యంత్ర పరికరాలు	44	35	266	104
(11) రవాణా యంత్ర సామాగ్రి	22	21	118	39
(12) ఇతర ఉత్పత్తి వస్తువులు	4	8	30	17
(13) కాగితము, కాగిత ఉత్పత్తులు	11	4	74	16

పట్టిక - 15.11

పాత (1970 - 71 = 100), కొత్త (1981 - 82 = 100) శ్రేణుల ప్రాధాన్యాల తారతమ్యాలు

ముఖ్య సమూహం / సమూహం	1981 - 82	1970 - 71
అన్ని వస్తువులకు	100.000	100.000
I. ప్రాథమిక వస్తువుల	32.295	41.667
(1) ఆహార పదార్థాలు	17.386	29.799
(2) ఆహారేతర పదార్థాలు	10.081	10.621
(3) ఖనిజాలు	4.828	1.247
II. ఇంధనం, శక్తి, దీపాలు, కందెనలు	10.663	8.459
III. ఉత్పత్తి వస్తువులు	57.042	49.874
(1) ఆహార ఉత్పత్తులు	10.143	13.322
(2) పానీయాలు, పొగాకు, పొగాకు ఉత్పత్తులు	2.149	2.708
(3) వస్త్రాలు	11.545	11.026
(4) కలప, కలప ఉత్పత్తులు	1.198	0.174
(5) కాగితం, కాగితపు ఉత్పత్తులు	1.988	0.851
(6) చర్మం, చర్మపు ఉత్పత్తులు	1.018	0.885
(7) రబ్బరు, ప్లాస్టిక్ ఉత్పత్తులు	1.592	1.207
(8) రసాయనాలు, రసాయన ఉత్పత్తులు	7.335	5.548
(9) లోహేతర ఖనిజ ఉత్పత్తులు	2.477	1.415
(10) మౌలిక లోహాలు, మిశ్రమాలు (Alloys)	7.632	5.974
లోహ ఉత్పత్తులు		
(11) యంత్రాలు, యంత్ర పరికరాలు	6.268	5.045
(12) రవాణా సామాగ్రి, భాగాలు	2.705	1.673
(13) ఇతర ఉత్పత్తి పరిశ్రమలు	0.972	0.546

పట్టికలు - 15.10, 15.11 మూలం రిజర్వు బాంకు నివేదిక, నవంబరు, 1989



## పట్టిక - 15.12

టోకు ధరల సూచీ సంఖ్యల ధోరణులు (అన్ని వస్తువులకు)

సంవత్సరం

వార్షిక సగటు సూచీ

పాత శ్రేణులు (1970 - 71 = 100)      కొత్త శ్రేణులు (1981 - 82 = 100)

1970 - 71	100.0	---
1971 - 72	105.6	---
1972 - 73	116.2	---
1973 - 74	139.7	---
1974 - 75	174.9	---
1975 - 76	173.0	---
1976 - 77	176.6	---
1977 - 78	185.8	---
1978 - 79	185.8	---
1979 - 80	217.6	---
1980 - 81	257.3	100.0
1981 - 82	281.3	104.9
1982 - 83	288.7	112.8
1983 - 84	316.0	112.8
1984 - 85	338.4	120.1
1985 - 86	357.8	125.4
1986 - 87	376.8	132.7
1987 - 88	---	143.6
1988 - 89	---	154.3
1989 - 90	---	166.7

మూలం - రిజర్వు బాంకు నివేదికలు, నవంబరు 1989, మార్చి 1990.

గమనిక - జూలై 1989 నుంచి ఆర్థిక సలహాదారు, పరిశ్రమల మంత్రిత్వ శాఖ వారు పాత శ్రేణులలో టోకు ధర సూచీ సంఖ్య అంచనాలు నిలిపివేశారు.

## పట్టిక 15.13

ప్రధాన వస్తు సమూహం టోకు ధరల సూచీ సంఖ్యలు (1970 - 71 = 100)

సమూహం	1971 - 72	1975 - 76	1980 - 81	1982 - 83	1984 - 85	1986 - 87
ప్రాథమిక వస్తువులు	<u>101</u>	<u>166</u>	<u>238</u>	<u>274</u>	<u>324</u>	<u>349</u>

ఆహార పదార్థాలు	101	164	208	249	297	339
ఆహారేతర పదార్థాలు	99	140	218	245	320	306
ఖనిజాలు	115	440	1110	1106	1015	949
ఇంధనం, శక్తి						
దీపాలు, మొ॥	106	220	354	455	518	619
ఉత్పత్తి వస్తువులు	110	171	257	272	320	359
ఆహార ఉత్పత్తులు	118	181	309	261	324	382
పాగాకు, పానీయాలు	107	165	211	219	254	348
దుస్తులు	110	147	213	233	280	271
కాగితం, కాగితపు						
ఉత్పత్తులు	110	184	262	300	364	393
చర్మం, చర్మపు						
ఉత్పత్తులు	116	208	380	361	414	513
రబ్బరు, ప్లాస్టిక్						
ఉత్పత్తులు	102	157	249	306	353	382
రసాయనాలు, రసాయనిక						
ఉత్పత్తులు	102	176	241	269	292	329
లోహేతర ఖనిజ ఉత్పత్తులు	110	188	279	372	431	448
మౌలిక లోహాలు, లోహపు ఉత్పత్తులు	105	185	272	355	420	479
యంత్రాలు, రవాణా						
సామాగ్రి	105	173	239	278	304	356
ఇతరాలు	102	168	233	243	270	287

పట్టిక - 15.14

ప్రధాన వస్తు సమూహాల టోకు ధరల సూచీ సంఖ్యలు - (1981 - 82 = 100)

ముఖ్య సమూహం / సమూహం	1982 - 83	1983 - 84	1984 - 85	1985 - 86	1986 - 87	1987 - 88	1988 - 89	జనవరి 1990
(1)	(2)	(3)	(4)	(5)	(6)	(7)	(8)	(9)
అన్ని వస్తువులకు	104.9	112.8	120.1	125.4	132.7	143.6	154.3	166.7
I. ప్రాథమిక వస్తువులు	106.7	118.2	125.5	125.7	137.1	152.6	160.1	162.4
(1) ఆహార పదార్థాలు	111.1	126.6	131.8	134.1	147.8	161.1	177.1	173.6
(2) ఆహారేతర పదార్థాలు	100.8	112.4	124.6	120.4	134.1	163.0	160.2	172.7
(3) ఖనిజాలు	103.3	100.4	105.1	106.5	104.2	100.5	98.6	100.5

II. ఇంధనం, శక్తి,									
దీపాలు, కందెనలు	106.5	112.5	117.3	129.8	138.6	148.3	151.2	157.2	
III. ఉత్పత్తి, వస్తువులు									
(1) ఆహార ఉత్పత్తులు	97.4	107.8	113.9	117.2	129.1	140.5	147.8	163.1	
(2) పానీయాలు, పాగాకు,									
పాగాకు ఉత్పత్తులు	100.2	106.7	111.1	123.2	133.0	155.0	180.7	214.9	
(1)	(2)	(3)	(4)	(5)	(6)	(7)	(8)	(9)	
(3) వస్త్రాలు	104.8	109.5	120.0	119.5	116.0	126.6	139.6	163.4	
(4) కలప, కలప									
ఉత్పత్తులు	113.4	122.5	125.0	148.0	149.0	154.7	156.5	158.4	
(5) కాగితం, కాగితపు									
ఉత్పత్తులు	108.5	118.2	131.4	142.4	154.3	170.2	180.9	211.4	
(6) చర్మం, చర్మపు									
ఉత్పత్తులు	100.4	108.3	115.4	128.1	134.2	142.9	168.4	193.2	
(7) రబ్బరు, ప్లాస్టిక్									
ఉత్పత్తులు	108.4	109.7	115.6	125.6	132.8	143.5	155.3	161.0	
(8) రసాయనాలు,									
రసాయన									
ఉత్పత్తులు	103.5	107.3	112.0	118.3	124.6	131.9	135.8	141.5	
(9) లోహాతర ఖనిజ									
ఉత్పత్తులు	114.5	127.9	138.6	141.1	142.5	147.9	152.4	170.7	
(10) మౌలిక లోహాలు,									
మిశ్రమాలు, లోహ									
ఉత్పత్తులు	104.5	117.7	123.1	139.7	141.3	149.7	176.4	208.6	
(11) యంత్రాలు,									
యంత్ర పరికరాలు	102.8	106.7	112.2	121.4	127.3	132.3	150.8	168.2	
(12) రవాణా సామాగ్రి,									
భాగాలు	103.6	105.6	111.9	123.1	129.6	135.5	148.9	167.6	
(13) ఇతర ఉత్పత్తి									
పరిశ్రమలు	101.8	101.6	101.5	99.3	107.0	109.8	113.1	116.9	

15.5.2 చిల్లర ధర గణాంకాలు : టోకు ధరల సూచీ సాధారణ ధరల స్థాయిలో వచ్చే మార్పులను తెలియజేస్తుంది. అయితే ధరలు మారడం వల్ల వాటి ప్రభావం ఒక ప్రత్యేక తరగతికి చెందిన ప్రజల మీద ఎట్లా ఉంటుందో టోకు ధరల సూచీ సంఖ్య

తెలుపలేదు. చిల్లర ధరల సూచకాల వల్ల మాత్రమే ఇది తెలుస్తుంది. ప్రజలలో అందరికీ ఒకే రకమైన ఆదాయం లభించదు. అందువల్ల వారు వినియోగించే వస్తువులు, వాటి పరిమాణం, ఒకే విధంగా ఉండవు. వస్తువుల ప్రాధాన్యం వేర్వేరు రకాల ప్రజలకు వేర్వేరుగా ఉంటుంది. వివిధ వస్తువుల ధరలు తగ్గినా, పెరిగినా వాటి ప్రభావం వివిధ తరగతుల ప్రజల మీద ఎట్లా ఉంటుందో తెలుసుకోవడానికి, వివిధ తరగతుల ప్రజలకు ప్రత్యేకమైన సూచీ సంఖ్యలు తయారీ చేయవలసి ఉంటుంది. వినియోగదారులు తాము కొనుగోలు చేసిన వస్తువులకు ధరలలో వచ్చిన మార్పులను కొలవడం ఈ సూచీ సంఖ్య ముఖ్య ఉద్దేశం. కాబట్టి వీటిని వినియోగదారుల ధరల సూచీ సంఖ్య అని, వినియోగదారుల జీవన వ్యయం ఈ ధరల మార్పు మీద ఆధారపడి ఉంటుంది. కాబట్టి వీటిని జీవన వ్యయ సూచీ సంఖ్య అని కూడా పిలుస్తారు. వినియోగ వస్తువుల ధరలను బట్టి కుటుంబాలు బడ్జెట్‌ను కేటాయించుకుంటాయి. కాబట్టి వీటిని కుటుంబ బడ్జెట్ ధరల సూచీ అని పిలవడం కూడా జరుగుతుంది. వీటికి వినియోగదారుల ధరల సూచీ అని సాధారణంగా ఎక్కువ వాడుకలో ఉంది. కాబట్టి ఈ సందర్భంలో మనం ఈ పదాన్నే ఉపయోగిద్దాం. మన దేశంలో వినియోగదారుల ధరల సూచీ సంఖ్యల వివరాలను రెండో ప్రపంచ యుద్ధ కాలం నుంచి సేకరించటం జరుగుతుండేది. కాని ఈ సేకరణ చెదురు మొదురుగా మాత్రమే జరిగింది. 1948లో కనీస వేతనాల చట్టం అమలులోకి వచ్చినప్పటి నుంచి వీటి నిర్మాణావశ్యకత బాగా పెరిగింది.

**మన దేశంలో చిల్లర ధరల సూచీ సంఖ్యల నిర్మాణం**

మన దేశంలో చిల్లర ధరల సూచీ సంఖ్యలు 1. లేబర్ బ్యూరో సూచీలు (పట్టణ ప్రాంతాలకు), 2. లేబర్ బ్యూరో సూచీలు (గ్రామీణ ప్రాంతాలకు) అని రెండుగా చెప్పవచ్చు. లేబర్ బ్యూరో, కార్మిక శాఖ 18 పట్టణ ప్రాంతాలను 11 గ్రామీణ ప్రాంతాలను ఎంపిక చేసి చిల్లర ధరల సూచీలను సమీకరించి దేశంలోని ప్రచురిస్తుంది. ఇది నెల వారీగా జరిగే కార్యక్రమం. మొట్టమొదట 1944ని ఆధార సంవత్సరంగా ఈ సూచీలను నిర్మించటం జరిగింది. తరువాత దాని స్థానంలో 1960 ఆధార సంవత్సరంగా కొన్ని ఎంపిక చేసిన వస్తువులకు చిల్లర ధరల సూచీలను నిర్మించటం జరిగింది.

భారతదేశంలో వినియోగదార్ల సూచీ సంఖ్యల నిర్మాణ బాధ్యత లేబర్ బ్యూరోదే. అఖిల భారత స్థాయిలో మూడు రకాల వినియోగదార్ల సూచీ సంఖ్యలను నిర్మిస్తున్నారు. అవి :

1. పారిశ్రామిక కార్మికుల (వినియోగదార్ల) ధరల సూచీ సంఖ్యలు (Consumer Price Index Numbers for Industrial Workers)
2. శారీరక శ్రమ చేయని కార్మికుల పట్టణ వినియోగదార్ల ధరల సూచీ సంఖ్యలు (Consumer Price Index Numbers for Urban Non-Manual Employees)
3. వ్యవసాయ కార్మికుల వినియోగదార్ల ధరల సూచీ సంఖ్యలు (Consumer Price Index Numbers for Agricultural Labourers)

ఈ సూచీ సంఖ్యలను గురించి కింద వివరించడం జరిగింది.

**1. పారిశ్రామిక కార్మికుల (వినియోగదార్ల) ధరల సూచీ సంఖ్యలు :** పారిశ్రామిక కార్మిక వినియోగదార్ల ధరల సూచీ సంఖ్యను మన దేశంలో మొదట లేబర్ బ్యూరో వారు 42 కేంద్రాలకు నిర్మించి ప్రకటించడం జరిగింది. వీటిలో కొన్ని సూచీలకు 1944 ఆధార సంవత్సరంగాను, ఇంకా కొన్నింటికి 1939 ఆధార సంవత్సరంగాను నిర్మించటం జరిగింది. తరువాత 1947 మూల సంవత్సరంగా కలకత్తా, బొంబాయి, అహ్మదాబాదు, షోలాపూరు, జలగాం, నాగపూర్, మద్రాసు, కాన్పూర్, ఢిల్లీ, ఎర్నాకుళం, తిరుచ్చి పట్టణాలకు నిర్మించటం జరిగింది. ఆ తరువాత 1949 ఆధార సంవత్సరంగా పై కేంద్రాలతో పాటు మరికొన్ని కేంద్రాలకు కూడా విస్తరించటం జరిగింది. తిరిగి 1960 మూల సంవత్సరంగా 50 ముఖ్య పట్టణాలకు వీటిని నిర్మించారు. ప్రస్తుతం అక్టోబరు 1988 నుంచి మార్చి 1989 సగటు మూల సంవత్సరంగా 70 ప్రధాన పట్టణాలకు ఈ సూచీ నిర్మిస్తున్నారు. ఫాక్టరీలు, గనులు, తోటల పెంపకాలు

విస్తృతంగా గల 70 కేంద్రాలను ఎంపిక చేసి కుటుంబ సర్వేలు నిర్వహించారు. ఈ కొత్త శ్రేణి సూచీ సంఖ్యల నిర్మాణంలో వస్తువులను 6 ప్రధాన తరగతులుగాను, ఇంకా అనేక ఉప తరగతులుగాను విభజించారు. సూచీ గణనలో లాస్పేయర్ సూత్రాన్ని ఉపయోగించటం జరిగింది.

## పట్టిక - 15.15

అఖిల భారత, కొన్ని ఎంపిక చేసిన కేంద్రాలకు పారిశ్రామిక కార్మికుల వినియోగ ధరల సూచీ సంఖ్యలు

కేంద్రం	(1960 = 100)			(1982 = 100)	
	1970 - 71	1987 - 88	1988 - 89	1988 - 89	మార్చి 1990
మొత్తం దేశానికి	186	736	786	166	177
అహ్మదాబాదు	176	724	763	163	176
ఆల్మో	198	767	804	162	165
అసన్సోల్	189	710	752	164	173
బెంగుళూరు	186	809	871	159	188
భావనగర్	186	787	805	162	183
బోంబే	182	791	856	171	185
కలకత్తా	182	715	783	172	182
కోయంబత్తూరు	163	783	837	162	171
ఢిల్లీ	199	788	852	177	185
డిగ్బోయ్	189	716	784	803	---
గ్వాలియర్	191	727	779	851	926
హౌరా	186	655	702	177	187
హైదరాబాదు	189	752	816	162	169
జంషెడ్పూరు	183	680	742	162	169
మద్రాసు	170	756	802	167	177
మధురై	183	785	825	169	181
మోంపే	205	755	839	165	173
ముందకాయం	197	729	748	168	170
నాగపూర్	187	726	802	170	184
సహరాన్పూరు	186	714	768	162	176
షోలపూరు	185	747	789	173	182

1. ఈ కేంద్రాలకు ఇప్పటికే 1960 మూల సంవత్సరాన్ని ఉపయోగిస్తున్నారు.
  2. ఏప్రిల్ 88 నుంచి సెప్టెంబరు 88 వరకు 6 నెలలు సగటు కొత్త శ్రేణి.
  3. అక్టోబరు 88 నుంచి మార్చి 89 వరకు 6 నెలల సగటు 88 నుంచి అమలులోకి వచ్చింది.
2. శారీరక శ్రమ చేయని కార్మికుల పట్టణ వినియోగదార్ల ధరల సూచీ సంఖ్యలు : కేంద్ర గణాంక వ్యవస్థ (CSO) మొదట 1960 మూల సంవత్సరంగా తీసుకొని వీటిని ప్రచురించింది. ఢిల్లీలోపాటు, 15 రాష్ట్ర రాజధానులకు, 25 ఇతర ముఖ్య నగరాలకు ఈ సూచీ సంఖ్యలు నిర్మించటం జరిగింది. ఈ సూచీ సంఖ్యలు ముఖ్యంగా మధ్య తరగతి ప్రజలు జీవన వ్యయాన్ని ప్రతిబింబిస్తాయి. 5 ప్రధాన తరగతులుగా, 23 ఉపతరగతులుగా, మొత్తం 180 వస్తువులను పరిగణనలోనికి తీసుకొని, 1984 - 85 మూల సంవత్సరంగా ఈ సూచీలను మొత్తం 59 ముఖ్య కేంద్రాలకు నిర్మిస్తున్నారు. ఈ రెండు మూల సంవత్సరాల ఆధారంగా నిర్మించిన సూచీ సంఖ్యలను కొన్ని ముఖ్య సంవత్సరాలకు ఎంపిక చేసిన కేంద్రాలకు పట్టిక - 15.16లో చూపటం జరిగింది.

పట్టిక - 15.16

శారీరక శ్రమ చేయని పట్టణ శ్రామికుల వినియోగ ధరల సూచీ సంఖ్యలు - మొత్తం భారతదేశానికి మరియు

ఎంపిక చేసిన కేంద్రం	కొన్ని ఎంపిక చేసిన కేంద్రాలకు 1960 = 100			1984 - 85 = 100	
	1970 - 71	1987 - 88	1987 - 88	1988 - 89	మార్చి 1990
బొంబాయి	168	666	122	130	143
న్యూ ఢిల్లీ	174	645	126	135	146
కలకత్తా	170	562		135	148
మద్రాసు	175	736	135	141	157
హైదరాబాదు	174	690	131	138	154
బెంగుళూరు	172	692	127	137	150
లక్నో	166	640	139	133	142
అహ్మదాబాదు	171	639	127	130	141
జైపూరు	183	745	130	139	152
పాట్నా	191	693	129	133	150
శ్రీనగర్	184	688	132	138	150
త్రివేండ్రం	178	749	122	129	144
భువనేశ్వర్	176	664	129	132	141
భోపాల్	180	671	128	140	154
ఛండీగర్	178	614	131	142	161
షిల్లాంగ్	166	687	138	147	163

పిమ్లా	170	577	124	137	153
జమ్మూ	170	665	132	139	150
అమృతసర్	188	600	123	130	141
కోజికోడ్	178	648	130	135	139
కాన్పూర్	178	648	130	135	148
ఇండోర్	183	675	137	144	155
పూనా	166	654	127	133	148
జబల్పూర్	184	686	129	136	161
జోధ్పూర్	183	639	135	140	162
మొత్తం భారత దేశానికి	174	656	128	136	159

1. ఏప్రిల్ 1987 నుంచి అక్టోబర్ 1978 వరకు 7 నెలల సగటు

2. నవంబరు 1987 నుంచి మార్చి 1988 వరకు 5 నెలల సగటు (నవంబరు 1987 నుంచి 1984 - 85 మూల సంవత్సరం)

3. వ్యవసాయ కార్మికుల జీవన వ్యయ సూచీ సంఖ్యలు : వ్యవసాయ కార్మికుల జీవన వ్యయ సూచీ సంఖ్యలను లేబర్ బ్యూరో వారు రాష్ట్రాలకు, దేశం మొత్తానికి కలిపి కూడా నిర్మించడం జరుగుతుంది. వ్యవసాయ కార్మికులు వినియోగించే వస్తువుల ధరలలో మార్పులను తెలుసుకునే నిమిత్తం వీటిని నెలవారీగా తయారు చేయడం జరుగుతుంది. మొట్టమొదటి సూచీ సంఖ్యను 1950 - 51ని ఆధార సంవత్సరంగా, సెప్టెంబరు, 1956లో నిర్మించటం జరుగుతుంది. ఇది ఆగస్టు 1964 వరకూ కొనసాగింది. ప్రాధాన్యాల, మూలధరకు సంబంధించి సమాచారం శ్రామిక మంత్రిత్వ శాఖ జరిపిన వ్యవసాయ కార్మికుల విచారణ (1950 - 51) నుంచి సవరించటం జరిగింది. 1957 సంవత్సరం ప్రాధాన్యాల మూల సంవత్సరంగాను, 1960 - 61 సంవత్సరం (జూలై 1960 - జూన్ 1961 = 100) సరిపోల్చే మూల సంవత్సరంగా (Year of Comparison Base) 15 రాష్ట్రాలకు, యావద్భారతానికి నిర్మించటం జరిగింది. ఈ శ్రేణులు నేషనల్ శాంపుల్ సర్వే వారు నిర్వహించిన రెండో వ్యవసాయ కార్మికుల విచారణ ఆధారంగా నిర్మించటం జరిగింది. ఈ జీవన వ్యయ సూచీ సంఖ్యలో వస్తువులను 4 తరగతులుగా (ఆహారం, ఇంధనం, వస్త్రాలు, ఇతరాలు) విభజించారు.

వినియోగదార్ల వినియోగస్థాయిని ప్రాధాన్యానికి ఎంపిక చేయటం జరిగింది. లాస్పియర్ సూత్రాన్ని ఉపయోగించటం జరిగింది. ఈ సూచీ సంఖ్య క్రమంగా ఇండియన్ లేబర్ జర్నల్ పత్రికలో ప్రచురిస్తున్నారు. ఈ శ్రేణులను నేషనల్ శాంపుల్ సర్వే వారు 1974 - 75లో నిర్వహించిన రెండో గ్రామీణ విచారణ అంశాల ఫలితాన్ని బట్టి మార్చాలనే ప్రతిపాదన ఒకటి ఉంది.

#### పట్టిక - 15.17

వ్యవసాయ కార్మికుల జీవన వ్యయ సూచీ సంఖ్యలు

మొత్తం దేశానికి, కొన్ని ఎంపిక చేసిన రాష్ట్రాలకు (1960 - 61 = 100)

రాష్ట్రం	1970 - 71	1987 - 88	1988 - 89	మార్చి 1990
భారతదేశం మొత్తానికి	192	650	724	736
ఆంధ్రప్రదేశ్	171	537	621	601
అస్సాం	203	664	730	765

బీహార్	206	691	749	782
గుజరాత్	173	597	615	662
జమ్మూ, కాశ్మీర్	167	686	729	750
కర్ణాటక	188	618	739	747
కేరళ	214	706	788	846
మధ్యప్రదేశ్	198	653	757	770
మహారాష్ట్ర	192	633	706	715
ఒరిస్సా	212	718	756	743
పంజాబ్	194	683	791	798
రాజస్థాన్	173	664	737	772
తమిళనాడు	174	637	689	719
ఉత్తర ప్రదేశ్	183	705	803	781
పశ్చిమ బెంగాల్	206	650	691	716

### 15.6 సారాంశం

నేటి ఆధునిక ఆర్థిక వ్యవస్థలో పారిశ్రామిక గణాంకాలు, ధరల గణాంకాలు ఎంతో ఉపయోగకరమైనవి. స్వాతంత్ర్యానికి పూర్వం పారిశ్రామిక గణాంకాలు చాలా తక్కువగా లభ్యమైననూ, 1942లో రూపొందించిన పారిశ్రామిక గణాంక చట్టం తరువాత పారిశ్రామిక గణాంకాలు కొంత మెరుగుపడ్డాయి. స్వాతంత్ర్యానంతరం 1948లో పారిశ్రామిక విధానాన్ని ప్రకటించటం జరిగింది. తరువాత 1953లో గణాంకాలు సేకరణ చట్టాన్ని 1953లో చేయటం జరిగింది. 1959లో పరిశ్రమల వార్షిక సర్వే (ASI) అనే పథకం ద్వారా పరిశ్రమల గణాంకాలను సేకరించడం జరిగింది.

ధరల గణాంకాలు కూడా స్వాతంత్ర్యానికి పూర్వం అంత సమృద్ధిగా లభించలేదు. గణాంకాలలో కూడా స్వాతంత్ర్యానంతరం అనేక మార్పులు చోటు చేసుకున్నాయి. ధరల గణాంకాలను టోకు ధరల గణాంకాలని, చిల్లర ధరల గణాంకాలని రెండుగా వర్గీకరించవచ్చు. టోకు ధరల సూచీ సంఖ్యను 1939 ఆధార సం॥ముగా గుణమధ్యమాన్ని ఉపయోగించి నిర్మించటం జరిగింది. ఆ తరువాత ఆధార సం॥ల మార్పులతో, వివిధ వస్తువులను జత చేస్తూ టోకు ధరలను సూచీ సంఖ్యలను నిర్మించటం జరిగింది. చిల్లర ధర గణాంకాలకు సంబంధించిన ఆవశ్యకత 1948లో కనీస వేతన చట్టం అమలులో వచ్చినప్పటి నుండి పెరిగింది. వివిధ కాలాలలో వివిధ సం॥లను ఆధార సం॥ములుగా తీసుకుంటూ, ఏర్పడుతున్న లోపాలను సవరించుకుంటూ చిల్లర ధర గణాంకాలను నిర్మించటం జరుగుతోంది.

### 15.7 కఠిన పదాలు

1. **ASI:** Annual Survey of Industries లేదా పరిశ్రమల వార్షిక సర్వే అనేది ప్రతి సంవత్సరం పరిశ్రమల గణాంకాలు సేకరించే పథకం.
2. **టోకు ధర :** ఉత్పత్తిదారుల నుంచి ప్రప్రథమంగా కొనుగోలు చేసిన వస్తువుల ధరను టోకు ధర అంటారు.



3. ఆధార సంవత్సరం : ధరలో మార్పును కొలిచేందుకు ప్రాతిపదికగా తీసుకున్న సంవత్సరాన్ని ఆధార సంవత్సరము అంటారు.
4. వినియోగదారుల సూచీలు : చిల్లర ధర సూచీలనే చిల్లర ధర సూచీలని లేదా జీవన వ్యయ సూచీలని కూడా అంటారు.

### 15.8 నమూనా ప్రశ్నలు

1. స్వాతంత్ర్యానంతరం భారత దేశంలో పారిశ్రామిక గణాంకాలను గూర్చి క్లుప్తంగా వ్రాయుము.
2. ASIని గూర్చి వ్రాయుము.
3. ధరల గణాంకాలంటే ఏమిటి? వాటి ప్రాధాన్యమేమి?
4. టోకు ధరల సూచీ సంఖ్యలనగా నేమి? వాటి ప్రయోజనమేమి?
5. భారతదేశంలో టోకు ధరల సూచీలు ఏ విధంగా లభిస్తున్నాయి. వాటిలోని లోపాలను తెలపండి.
6. భారత దేశంలో నిర్మిస్తున్న టోకు ధరల సూచీ సంఖ్యలను క్లుప్తంగా వివరించండి.
7. 1981 - 82 ఆధార సంవత్సరంతో నిర్మిస్తున్న టోకు ధరల సూచీ సంఖ్యల ప్రత్యేకత తెలపండి.
8. జీవన వ్యయ సూచీ సంఖ్యలంటే ఏమిటి? వాటి ముఖ్యోద్దేశం తెలపండి.
9. భారతదేశంలో నిర్మిస్తున్న వినియోగదారుల సూచీ సంఖ్యల గూర్చి పరిశీలించండి.

### 15.9 చదువదగిన గ్రంథాలు

B.N. Elhance	:	Fundamentals of Statistics
S.P. Gupta	:	Statistical Methods
C.B. Gupta	:	An Introduction to Statistical Methods
S.C. Gupta	:	Fundamentals of Statistics
M.C. Shukla & S.S. Gulshan	:	Statistics - Theory and Practice

**కేంద్ర గణాంక వ్యవస్థ (CSO)**  
**నేషనల్ శాంపిల్ సర్వే వ్యవస్థ(NSSO)**  
**ఇండియన్ స్టాటిస్టికల్ ఇన్స్టిట్యూట్ (ISI)**

**పాఠ్యంశ నిర్మాణక్రమం**

- 16.0 ఉద్దేశాలు
- 16.1 విషయపరిచయం
- 16.2 కేంద్ర గణాంక వ్యవస్థ (CSO)
  - 16.2.1 CSO లోని విభాగాలు
  - 16.2.2 కేంద్ర గణాంక వ్యవస్థ(CSO) విధులు
  - 16.2.3 CSO ప్రచురణలు
- 16.3 నేషనల్ శాంపిల్ సర్వే వ్యవస్థ (NSSO)
  - 16.3.1 NSSO ముఖ్య విధులు
  - 16.3.2 NSSO విభాగాలు
- 16.4 ఇండియన్ స్టాటిస్టికల్ ఇన్స్టిట్యూట్ (ISI)
- 16.5 ఇతర ప్రభుత్వేతర గణాంక సంస్థలు
- 16.6 సారాంశం
- 16.7 ముఖ్య పదాలు
- 16.8 సమానా ప్రశ్నలు
- 16.9 చదువదగిన గ్రంథాలు

**16.0 ఉద్దేశాలు**

ఈ పాఠ్యభాగం చదివిన తరువాత మీరు క్రింది సంస్థలను గూర్చి తెలుసుకోగలరు.

- \* కేంద్ర గణాంక వ్యవస్థ (CSO) ఆవిర్భావం, అందులోని విభాగాలు మరియు విధులను గురించి తెలుసుకోవడం.
- \* నేషనల్ శాంపిల్ సర్వే వ్యవస్థను (NSSO) తెలుసుకోవడం, అందులోని విభాగాలు తెలుసుకోవడం.
- \* ఇండియన్ స్టాటిస్టికల్ ఇన్స్టిట్యూట్ (ISI) ఆవిర్భావం, పనితీరును గూర్చి తెలుసుకోవడం.

## 16.1 విషయపరిచయం

దేశంలోని వివిధ అంశాలకు లేదా విషయాలకు సంబంధించిన గణాంకాలను ప్రభుత్వ లేదా ప్రైవేటు సంస్థలు సేకరించటం జరుగుతుంది. గణాంకాలను ప్రభుత్వమే సేకరించి, విశ్లేషించి ప్రచురణ చేస్తే వాటిని అధికారిక గణాంకాలని లేనట్లయితే ప్రభుత్వేతర గణాంకాలని అంటారు. ప్రభుత్వేతర సంస్థలకు ఉదాహరణగా యూనివర్సిటీలు, ఛాంబర్ ఆఫ్ కామర్స్, మార్కెటింగ్ అసోసియేషన్స్ మొదలైనవి చెప్పవచ్చు. అధికారిక, అనధికారిక గణాంకాలను అందించే సంస్థలలో ముఖ్యమైన కేంద్ర గణాంక వ్యవస్థ (CSO), నేషనల్ శాంపిల్ సర్వే వ్యవస్థ (NSSO), ఇండియన్ స్టాటిస్టికల్ ఇన్స్టిట్యూట్ (ISO)లను గురించి ఈ పాఠంలో చదువుకుందాం.

## 16.2 కేంద్ర గణాంక వ్యవస్థ (CSO)

భారతదేశంలోని వివిధ ప్రభుత్వ కార్యాలయాలు సేకరించే గణాంక సమాచారాన్ని సమన్వయం చేసే ఉద్దేశంతో, 1951వ సం॥లో కేబినెట్ సెక్రెటేరియట్ ఆధ్వర్యంలో కేంద్ర గణాంక వ్యవస్థను (Central Statistical Organisation) ప్రారంభించటం జరిగింది. ఈ సంస్థ వివిధ ప్రభుత్వ విభాగాలు సేకరించే సమాచారాన్ని సమన్వయం చేయటంతోపాటు అనేక ఇతర విధులను కూడా నిర్వహిస్తుంది. 1973వ సంవత్సరం నుంచి CSO ప్రణాళికా మంత్రిత్వ శాఖ ఆధీనంలో కొనసాగుచున్నది.

**16.2.1 CSO లోని విభాగాలు :** CSO తన విధులను నిర్వహించేందుకునుగుణంగా వివిధ విభాగాలున్నాయి. ఈ విభాగాల ద్వారా CSO తన విధులను నిర్వహిస్తుంది. అవి :

1. పారిశ్రామిక, గణాంక విభాగం (Industrial Statistical Wing)
2. పారిశ్రామిక, వర్తక విభాగం (Industry and Trade Division)
3. మానవ శక్తి పరిశోధనా విభాగం (Manpower Research Division)
4. మెథడాలజీ విభాగం (Methodology Division)
5. జాతీయాదాయ విభాగం (National Income Division)
6. నేషనల్ శాంపిల్ సర్వే విభాగం (National Sample Survey Division)
7. ప్రణాళిక మరియు రాష్ట్ర గణాంక విభాగం (Planning and State Statistics Division)
8. జనాభా విభాగం (Population Division)
9. విశ్లేషణా విభాగం (Analytical Division)
10. కుటుంబ జీవన సర్వే విభాగం (Family Living Survey Division)
11. ధరలు మరియు జీవన వ్యయ గణాంకాల విభాగం (Prices and Cost of Living Statistics Division)
12. గణాంక మేధా విభాగం (Statistical Intellegence Division)
13. శిక్షణా విభాగం (Training Division)

పై విభాగాలలో పారిశ్రామిక గణాంకాల విభాగం కలకత్తాలో వుంది. మిగిలిన విభాగాలన్నీ ఢిల్లీలో వున్నాయి. ఈ వివిధ విభాగాల ద్వారా CSO తన విధులను కొనసాగిస్తుంది.

**16.2.2 కేంద్ర గణాంక వ్యవస్థ (CSO) విధులు :** కేంద్ర గణాంక వ్యవస్థ నిర్వహించే విధులలో ముఖ్యమైనది జాతీయాదాయ అంచనాలు వెయ్యటం. దీనితోపాటు అనేక ఇతర విధులను కూడా నిర్వహిస్తుంది. అందులో కొన్ని ముఖ్యమైన వాటిని కింద ఇవ్వడం జరిగింది.

1. కేంద్ర, రాష్ట్రాల్లోని గణాంక కార్యకలాపాలను సమన్వయ పర్చటం.
2. కేబినెట్ మంత్రిత్వ శాఖలకు, ప్రభుత్వ సంస్థలకు సలహాలను ఇవ్వటం.
3. జాతీయ గణాంకాలను ఐక్యరాజ్య సమితి లేదా విదేశీ సంస్థలకు అందించటం.
4. ప్రణాళికలకు అవసరమైన గణాంకాలను సేకరించటం, రూపొందించటం.
5. కేంద్ర ప్రభుత్వ వ్యాపార సంస్థలలో గణాంకాలను సేకరించి, విశ్లేషణ జరపటం.
6. వినియోగదారుల ధర సూచీలను లేదా జీవన వ్యయ సూచీలను నిర్మించటం.
7. గణాంక సమాచారాన్ని చిత్రపటాలు, రేఖా పటాల ద్వారా ప్రజలకు తెలియజేయటం.
8. వార్షిక పారిశ్రామిక సర్వేలను తయారు చేసి ముద్రించటం.
9. అంతర్జాతీయ గణాంక సదస్సులకు అవసరమైన సమాచారాన్ని అందజేయటం.
10. ప్రతి సంవత్సరం జనాభాను CSO అంచనా వేస్తుంది. ఈ అంచనాలు ప్రభుత్వ విధానాల రూపకల్పనకు ఉపయోగపడతాయి.
11. అధికార గణాంకాల సేకరణ చేసే అధికారులకు శిక్షణ ఇవ్వటం, శిక్షణ తరగతులు నిర్వహించటం.
12. జనాభా గణనను, ప్రాణి గణాంకాలను సమన్వయం చేయడం.
13. గణాంక సేకరణకు సంబంధించి ఏ రాష్ట్ర ప్రభుత్వం కానీ కేంద్ర ప్రభుత్వం కోరినట్లయితే ఆ విధమైన పనులను చేపట్టడం.
14. రాష్ట్ర గణాంకాలు ఏకజాతీయంగా ఉంచేట్లు ఆదేశాలు ఇవ్వటం, గణాంక సంబంధమైన పదాలకు నిర్వచనాలు ఇవ్వటం.
15. గణాంక ప్రచురణలను వెలువరించటం, మొదలైన అనేక విధులను CSO నిర్వర్తిస్తుంది.

**16.2.3 CSO ప్రచురణలు :** నిర్ణీత కాల వ్యవధిలో ప్రచురణలు వెలువరించడం అనేది CSO సంస్థ నిర్వహించే విధుల్లో ఒక ముఖ్య విధి. CSO వెలువరించే వివిధ ప్రచురణలు కింద వివరించటం జరిగింది.

1. **స్టాటిస్టికల్ ఏబ్స్ట్రాక్ట్ ఆఫ్ ఇండియా (Statistical Abstract of India) :** ఇది వార్షిక ప్రచురణ. ఈ ప్రచురణలో భారత ఆర్థిక వ్యవస్థకు సంబంధించిన సమగ్ర సమాచారం, అనగా జనాభా, వలస, జాతీయ విత్తం, ఆదాయపు పన్ను మొదలైన సమాచారం పొందుపరచబడి వుంటుంది. ఇందులో గత 5 సం॥ల లేదా 10 సం॥ల మొత్తాలు కూడా వుంటాయి.
2. **మంత్రి ఏబ్స్ట్రాక్ట్ ఆఫ్ స్టాటిస్టిక్స్ (Monthly Abstract of Statistics) :** ఇది నెలసరి ప్రచురణ. భారత ఆర్థిక వ్యవస్థ సమాచారం. ఉదా॥కు జనాభా, ప్రాణి గణాంకాలు, ఉద్యోగిత, వర్తకం మొదలైన సమాచారాన్ని ఈ ప్రచురణ అందిస్తుంది.
3. **మంత్రి స్టాటిస్టిక్స్ ఆఫ్ ది ప్రొడక్షన్ ఆఫ్ సెలెక్టెడ్ ఇండస్ట్రీస్ ఆఫ్ ఇండియా (Monthly Statistics of the Production of Selected Industries of India) :** ఎన్నిక చేసిన పరిశ్రమలలో నెల వారీ ఉత్పత్తులకు సంబంధించిన గణాంకాలు ఈ ప్రచురణ అందిస్తుంది. వీటితోపాటు క్రింద తెలిపిన కొన్ని ప్రచురణలు కూడా అందిస్తుంది.

4. స్టాటిస్టికల్ పాకెట్ బుక్ - ఇండియా (యాన్యువల్) (Statistical Pocket Book - India (Annual))
5. యాన్యువల్ సర్వే ఆఫ్ ఇండస్ట్రీస్ (Annual Survey of Industries)
6. శాంపిల్ సర్వే ఆఫ్ కరెంట్ ఇంట్రెస్ట్ ఇన్ ఇండియా (యాన్యువల్) (Sample Survey of Current Interest in India (Annual) )
7. యాన్యువల్ సర్వే ఆఫ్ ఇండస్ట్రీస్ జనరల్ వ్యూ (Annual Survey of Industries General View)
8. మంత్రి బులెటిన్ షోయింగ్ ప్రొడక్షన్ ఆఫ్ సెలెక్టెడ్ ఇండస్ట్రీస్ ఆఫ్ ఇండియా (Monthly Bulletin Showing Production of Selected Industries of India)
9. స్టాటిస్టికల్ న్యూస్ లెటర్ (క్వార్టర్లీ) (Statistical News Letter (Quarterly))
10. డి.సి.ఎస్.టి.ఎ.టి (క్వార్టర్లీ) (DOCSTAT (Quarterly))
11. రిటైల్ ప్రైస్ బులెటిన్ (Retail Price Bulletin)
12. ఎస్టిమేట్ ఆఫ్ నేషనల్ ప్రొడక్ట్ (యాన్యువల్) (Estimate of National Product (Annual))
13. ఎస్టిమేట్స్ ఆఫ్ నేషనల్ ప్రొడక్ట్ (రివైజ్డ్ సిరీస్) యాన్యువల్ (Estimates of National Product (Revised Series) Annual)
14. బేసిక్ స్టాటిస్టిక్స్ రిలేటింగ్ టూ ది ఇండియన్ ఎకానమీ (యాన్యువల్) (Basic Statistics Relating to the Indian Economy (Annual))

పైన తెలిపిన క్రమంగా వెలువడే ప్రచురణలతోపాటు మరికొన్ని కింది తదర్థ ప్రచురణలు ప్రచురించింది. అవి :

1. బ్రోచర్ ఆన్ రివైజ్డ్ సిరీస్ ఆఫ్ నేషనల్ ప్రొడక్ట్ ఫర్ 1960 - 61 టూ 1964 - 65 (Brochure on Revised Series of National Product for 1960 - 61 to 1964 - 65.)
2. ఎస్టిమేట్స్ ఆఫ్ క్యాపిటల్ ఫార్మేషన్ ఇన్ ఇండియా : (1960 - 61 టూ 1965 - 66) (Estimates of Capital Formation in India : 1960 - 61 to 1965 - 66.)
3. ఎస్టిమేట్స్ ఆఫ్ సేవింగ్ ఇన్ ఇండియా 1960 - 61 టూ 1965 - 66 (Estimates of Saving in India 1960 - 61 to 1965 - 66.)
4. అఫీషియల్ స్టాటిస్టిక్స్ - సోర్స్ ఆఫ్ డేటా అండ్ మేజర్ గ్యాప్స్ (Official Statistics - Sources of Data and Major Gaps.)
5. స్టాటిస్టికల్ సిస్టమ్ ఇన్ ఇండియా - 1970 (Statistical System in India - 1970.)

### 16.3 నేషనల్ శాంపిల్ సర్వే వ్యవస్థ (NSSO)

గణాంక సమాచారాన్ని జనాభా పద్ధతిలో (Census Method) విస్తృతంగా సేకరించడమనేది అధిక శ్రమ, వ్యయంతో కూడినది. అందుచేత ప్రతిచయన పద్ధతి అధిక ప్రాధాన్యత, ప్రాచూర్యాన్ని పొందింది.

1934వ సం॥లో బొలీ - రాబర్ట్సన్ కమిటీ తన నివేదికలో, యాదృచ్ఛిక ప్రతిచయన పద్ధతిలో (Random Sampling) ఆర్థిక సర్వేలు జరపాలని గట్టిగా సూచించడం జరిగింది. స్వాతంత్ర్యానికి పూర్వం అది నెరవేరలేదు. స్వాతంత్ర్యానంతరం పి.సి. మహల్నోబిస్ అనే శాస్త్రవేత్త నేషనల్ శాంపిల్ సర్వే పథకాన్ని రూపొందించగా, దాన్ని ప్రభుత్వం ఆమోదించటం ఫలితంగా 1950లో నేషనల్ శాంపిల్ సర్వేసు (NSS) స్థాపించటం జరిగింది. మొదట్లో గణాంక సమాచారాన్ని NSS సంస్థ సేకరిస్తే అందుకు కావలసిన సాంకేతిక సహాయం, పట్టికరణ మొదలైన విషయాల్లో ఇండియన్ స్టాటిస్టికల్ ఇన్స్టిట్యూట్ సహకరించేది.

NSS సంస్థ యొక్క డైరెక్టరేట్ మొదట్లో ఆర్థిక మంత్రిత్వ శాఖ ఆధీనంలో వుండేది. దీనిని 1957వ సం॥లో కేబినెట్ సెక్రటేరియట్ కు బదిలీ చేయటం జరిగింది. అయితే 1970వ సం॥లో NSS సంస్థ డైరెక్టరేటు యొక్క పనితీరులో మాలిక మార్పులను చేపట్టటం జరిగింది. NSS చేసే కార్యక్రమం అంతా NSS ఆధీనంలో ఉండేటట్లు చర్యలను చేపట్టి, NSS ను నేషనల్ శాంపిల్ సర్వే వ్యవస్థ NSSO గా (National Sample Survey Organisation) మార్పు చేయటం జరిగింది. ఈ విధంగా NSS స్థానంలో NSSO సంస్థ అదే బాధ్యతలతో ఆవిర్భవించింది. 1973 నుంచి ఈ సంస్థ ప్రణాళికా మంత్రిత్వ శాఖ ఆధీనంలో కొనసాగుచున్నది.

**16.3.1 NSSO ముఖ్య విధులు :** దేశ సాంఘిక, ఆర్థిక స్థితిగతులను కనుగొనేందుకు, జాతీయ స్థాయిలో సాంఘిక - ఆర్థిక సర్వేలను చేపట్టి, ఫలితాలను NSS రౌండ్ రూపంలో NSSO వెల్లడి చేస్తుంది. ఈ సంస్థ చేపట్టే మూడు ముఖ్యమైన విధులేవనగా :

1. అఖిల భారత స్థాయిలో, యాదృచ్ఛిక ప్రతిచయన పద్ధతిలో, సాంఘిక, ఆర్థిక కార్యకలాపాలైన జనాభా, ధరలు, వేతనాలు, ఉత్పత్తి, వినియోగం, వ్యవసాయం మొదలైన వాటిపై సర్వేలను చేపట్టి ప్రభుత్వానికి అందిస్తుంది.
2. వార్షిక సర్వే ద్వారా దేశ వ్యాప్తంగా సంఘటిత పారిశ్రామిక రంగానికి సంబంధించిన సమాచారాన్ని సేకరించటం చేస్తుంది.
3. రాష్ట్ర ప్రభుత్వాలు జరిపే వ్యవసాయ రంగ సర్వేలకు తగు సూచనలివ్వటం, పర్యవేక్షించటం చేస్తుంది. సర్వే జరిపే సిబ్బందికి సలహాలు, శిక్షణ, మార్గదర్శకత్వం నిర్వహించటం చేస్తుంది. ఫలితాలను సమన్వయ పరచి, విశ్లేషణలో సహకరిస్తుంది.

ఈ సంస్థ విడతల వారిగా (Round-wise) సర్వేలు నిర్వహిస్తుంది. ఇప్పటి వరకు 55 రౌండ్లు సర్వేలను నిర్వహించింది.

**16.3.2 NSSO విభాగాలు :** నేషనల్ శాంపిల్ సర్వే వ్యవస్థలో (NSSO) నాలుగు ప్రధాన విభాగాలున్నాయి. అవి :

1. సర్వే డిజైన్, పరిశోధనా విభాగం (Survey Design and Research Design)
2. సమాచార ప్రాసెసింగ్ విభాగం (Data Processing Division)
3. ఫీల్డ్ ఆపరేషన్ విభాగం (Field Operation Division)
4. ఆర్థిక విశ్లేషణ విభాగం (Economic Analysis Division)

1972కు పూర్వం సర్వే డిజైన్ మరియు తనిఖీని (Inspection) ఇండియన్ స్టాటిస్టికల్ ఇనిస్టిట్యూట్ నిర్వహించేది. ఆ తరువాత ఈ కార్యక్రమాన్ని సర్వే డిజైన్, పరిశోధనా విభాగం నిర్వహిస్తున్నది.

NSSO కార్యక్రమ నిర్వహణకు సంబంధించి సలహాలను సలహామండలి (Advisory Council) ఇస్తుంది. ఈ సలహా మేరకు NSSO తన కార్యక్రమాలను చేపడుతుంది.

## 16.4 ఇండియన్ స్టాటిస్టికల్ ఇనిస్టిట్యూట్ (Indian Statistical Institute or ISI)

భారతదేశ గణాంక వ్యవస్థలో మౌలికాభివృద్ధి సాధించే ఉద్దేశంతో 1932లో ఇండియన్ స్టాటిస్టికల్ ఇనిస్టిట్యూట్ను (ISI) కలకత్తాలో ప్రారంభించటం జరిగింది. భారత సమాజాన్ని మేధా సమాజంగా మార్చటం, పరిశోధన మరియు శిక్షణ కేంద్రంగా వుండేందుకు, భారీ గణాంక ప్రాజెక్టులు నిర్వహించే ఏజెన్సీగా వ్యవహరించే మూడు ముఖ్య ఉద్దేశాలతో ISI ని స్థాపన చేయటం జరిగింది. వ్యవసాయ పంటల సర్వే, వర్షపాతం, వరదలు, సామాజిక, ఆర్థిక అసమతౌల్యాల మొదలైన రంగాల్లో గణాంక పద్ధతులను ఉపయోగించి పరిశోధన, శిక్షణలను ఈ సంస్థ కొనసాగిస్తుంది. 1938 నుంచి ఈ సంస్థ గణాంక శాస్త్రంలో ప్రావీణ్యత ఉన్నవారికి

సర్టిఫికేట్లను మరియు డిప్లొమాలను ప్రధానం చేయటం జరుగుతుంది. నేషనల్ శాంపిల్ సర్వే (NSS) వారు చేసే సర్వేలకు అవసరమైన సాంకేతిక సహకారం అందజేస్తుంది. గణాంక సర్వేను రూపొందించడం (Design of the Survey), షెడ్యూళ్ళను తయారు చేయటం, సమాచారాన్ని వర్గీకరించి పట్టికరించటం, రిపోర్టును తయారు చేయడం వంటి పనులు సాంకేతిక సహకారం కోవలోకి వస్తాయి.

ఇంటర్నేషనల్ స్టాటిస్టికల్ ఇనిస్టిట్యూట్ మరియు UNESCO తో కలిసి ISI సంస్థ కలకత్తాలో (International Statistical Education Centre) అంతర్జాతీయ గణాంక విద్యా కేంద్రాన్ని నడుపుతోంది. ఈ కేంద్రం 9 నెలల శిక్షణ కార్యక్రమాన్ని ఆసియా దేశాల విద్యార్థులకు అందిస్తోంది.

1952 నుంచి భారత ప్రభుత్వ నిర్ణయానుసారంగా వృత్తి విద్య, శిక్షణ, పరిశోధనను అందిస్తూ జాతీయ గణాంకాలను లెక్కించే పరిశోధకాలగా పనిచేస్తోంది. ఈ సంస్థ పనితీరును గుర్తిస్తూ భారత పార్లమెంటు చేసిన ISI చట్టం ప్రకారం 1959, డిశంబరులో ISI ని జాతీయ ప్రాముఖ్యత వున్న సంస్థగా గుర్తించి, డిగ్రీలను ప్రధానం చేసే అధికారాన్ని కూడా ఇవ్వడం జరిగింది. దీనికనుగుణంగా ఈ సంస్థ 1960లో B.Stat(Bachelor of Statistics) మరియు M.Stat (Master of Statistics) కోర్సులను ప్రారంభించటం జరిగింది. Ph.D మరియు D.Sc. డిగ్రీ కార్యక్రమాన్ని కూడా ప్రారంభించటం జరిగింది. ఈ మధ్య కాలంలో ISI తన శిక్షణా కార్యక్రమాన్ని పునర్వ్యవస్థీకరించి మరింత మెరుగైన సేవలనందిస్తోంది. అంతేకాకుండా ఈ సంస్థ అంతర్జాతీయ ప్రాచుర్యం పొందిన గణాంక పత్రికను (Journal) నడుపుతోంది. అందుకోసం వివిధ ప్రాంతాల్లో తన బ్రాంచీలను విస్తరించటం చేసింది.

పైన తెలిపిన సంస్థలతోపాటు భారతీయ రిజర్వు బ్యాంకు ఒక పరిశోధనా విభాగాన్ని 1945లో ప్రారంభించటం జరిగింది. ఇది RBI లోని నాలుగు విభాగాలైన ద్రవ్య పరిశోధన విభాగం, విదేశ వ్యాపార చెల్లింపుల విభాగం, గణాంకాల విభాగం, గ్రామీణ ఆర్థిక విభాగానికి సంబంధించిన గణాంకాలను లెక్కించి పరిశోధనా కార్యక్రమాన్ని నిర్వహించింది. అంతేకాకుండా ICAR (Indian Council of Agriculture Research)లోని గణాంక విభాగం కూడా పరిశోధన కోసం ఎంతో కృషి చేస్తోంది. వీటితోపాటు మరి కొన్ని సంస్థలు కూడా గణాంకాలను సేకరించి ప్రచురణలు చేస్తున్నాయి.

### 16.5 ఇతర ప్రభుత్వేతర గణాంక సంస్థలు

భారతదేశంలో ప్రభుత్వ సంస్థలతో పాటు అనేక ప్రభుత్వేతర సంస్థలు కూడా గణాంకాలను సేకరించి, విశ్లేషించి, ప్రచురించటం జరుగుతోంది. అందులో కొన్ని సంస్థలు తెలుసుకుందాం. అవి : (i) నేషనల్ కౌన్సిల్ ఆఫ్ అప్లయిడ్ ఎకనామిక్ రీసెర్చ్, న్యూఢిల్లీ (National Council of Applied Economic Research, New Delhi), (ii) ఇనిస్టిట్యూట్ ఆఫ్ అప్లయిడ్ మ్యాన్ పవర్ రీసెర్చ్, న్యూఢిల్లీ (Institute of Applied Manpower Research, New Delhi), (iii) ఇనిస్టిట్యూట్ ఆఫ్ ఎకనామిక్ గ్రోత్, న్యూఢిల్లీ (Institute of Economic Growth, New Delhi) (iv) గోఖలే ఇనిస్టిట్యూట్ ఆఫ్ ఎకనామిక్స్ అండ్ పాలిటిక్స్, పుణె (Gokhale Institute of Economics and Politics, Pune), (v) ఇండియన్ ఇనిస్టిట్యూట్ ఆఫ్ ఫారిన్ ట్రేడ్ (Indian Institute of Foreign Trade), (vi) ఇనిస్టిట్యూట్ ఆఫ్ సోషల్ సైన్సెస్, బొంబాయి (Institute of Social Sciences, Bombay), (vii) ఫెడరేషన్ ఆఫ్ ఇండియన్ ఛాంబర్స్ ఆఫ్ కామర్స్ అండ్ ఇండస్ట్రీ (Federation of Indian Chambers of Commerce and Industry) (viii) ఇనిస్టిట్యూట్ ఆఫ్ లేబర్ రీసెర్చ్, బొంబాయి (Institute of Labour Research, Bombay).

### 16.6 సారాంశం

వివిధ ప్రభుత్వ కార్యాలయాలు సేకరించే గణాంకాలను సమన్వయం చేసేందుకు 1951లో కేంద్ర గణాంక వ్యవస్థను స్థాపించటం జరిగింది. ఈ సంస్థ తన విధులను నిర్వర్తించేందుకు ముఖ్యంగా 13 విభాగాలపై ఆధారపడి వుంటుంది. దేశంలోని అనేక విషయాలకు సంబంధించిన గణాంకాలను ఈ సంస్థ అధికారికంగా ప్రచురిస్తుంది. ఈ సంస్థ 1973 నుంచి ప్రణాళికా సంఘం ఆధీనంలో కొనసాగుతుంది. 1973కు పూర్వం కేబినెట్ సెక్రటేరియేట్ ఆధ్వర్యంలో కొనసాగింది.

1934లో బొలీ - రాబర్ట్సన్ కమిటీ నివేదిక ప్రాతిపదికగా 1950లో నేషనల్ శాంపిల్ సర్వేను (NSS) స్థాపించటం జరిగింది. తరువాత 1970లో నేషనల్ శాంపిల్ సర్వే సంస్థగా (NSSO) మార్పు చేయడం జరిగింది. NSSO తన మూడు విధులను నిర్వహించేందుకు సర్వే డిజైన్ మరియు పరిశోధన విభాగం, సమాచార ప్రొసెసింగ్ విభాగం, ఫీల్డ్ ఆపరేషన్ విభాగం, ఆర్థిక విశ్లేషణ విభాగం అనే నాలుగు విభాగాలు వున్నాయి. ఇప్పటి వరకు NSSO సంస్థ 55 రౌండ్లు (విడతలు) సాంఘిక ఆర్థిక సర్వేలను నిర్వహించింది.

1932వ సంవత్సరము కలకత్తాలో ఇండియన్ స్టాటిస్టికల్ ఇన్స్టిట్యూట్ను ప్రారంభించటం జరిగింది. భారతదేశ గణాంక వ్యవస్థలో మాలికాభివృద్ధి సాధించటం ఈ సంస్థ ముఖ్య ఉద్దేశ్యం. కాని ఆ తరువాత ఈ సంస్థ విధులు గణనీయంగా మార్పు చెందటం జరిగింది. ప్రస్తుతం ISI సంస్థ B.Stat, M.Stat కోర్సులను, Ph.D మరియు D.Sc. డిగ్రీ కార్యక్రమాలను కూడా నిర్వహిస్తోంది. వీటితోపాటు అనేక ప్రభుత్వేతర సంస్థలు కూడా గణాంకాలను సేకరించి, విశ్లేషించి, ప్రచురించటం చేస్తున్నాయి. భారతదేశంలో గణాంక వ్యవస్థ పురాతన కాలం నుంచి క్రమక్రమంగా వృద్ధి చెందుచూ నేడు ప్రపంచంలోనే గుర్తింపు పొందిన వ్యవస్థగా వుంది.

## 16.7 ముఖ్య పదాలు

1. C.S.O. : కేంద్ర గణాంక వ్యవస్థ (Central Statistical Organisation)
2. NSSO : నేషనల్ శాంపిల్ సర్వే వ్యవస్థ (National Sample Survey Organisation)
3. ISI : ఇండియన్ స్టాటిస్టికల్ ఇన్స్టిట్యూట్ (Indian Statistical Institute)
4. ICAR : ఇండియన్ కౌన్సిల్ ఆఫ్ అగ్రికల్చరల్ రీసెర్చ్ (Indian Council of Agricultural Research)

## 16.8 నమూనా ప్రశ్నలు

### I. వ్యాసరూప ప్రశ్నలు

1. కేంద్ర గణాంక వ్యవస్థను గూర్చి వివరించుము.

### II. సంక్షిప్త ప్రశ్నలు

2. నేషనల్ శాంపిల్ సర్వే వ్యవస్థను గూర్చి సంక్షిప్తంగా వ్రాయుము.
3. ఇండియన్ స్టాటిస్టిక్ ఇన్స్టిట్యూట్ను గూర్చి సంక్షిప్తంగా వ్రాయుము.

## 16.9 చదువదగిన గ్రంథాలు

1. Elhance : Fundamentals of Statistics
2. S.P. Gupta : Statistical Methods
3. C.B. Gupta : An Introduction to Statistical Methods
4. G.C. Gupta : Fundamentals of statistics
5. N.C. Schukla & S.S. Gulshan : Statistics - Theory and Practice